

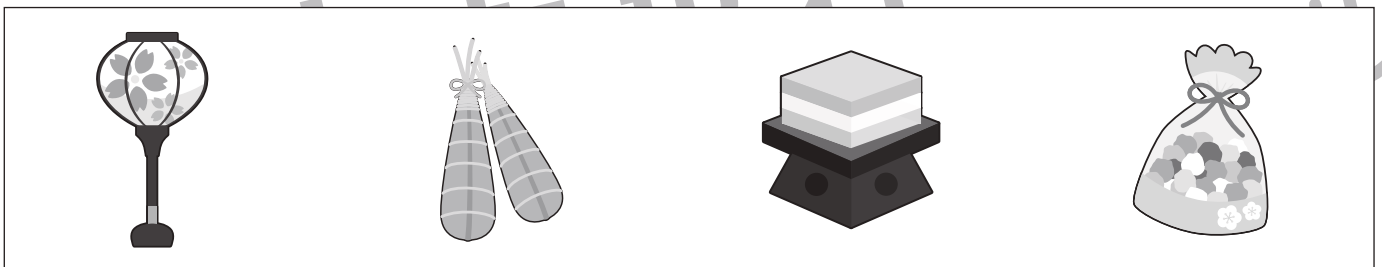


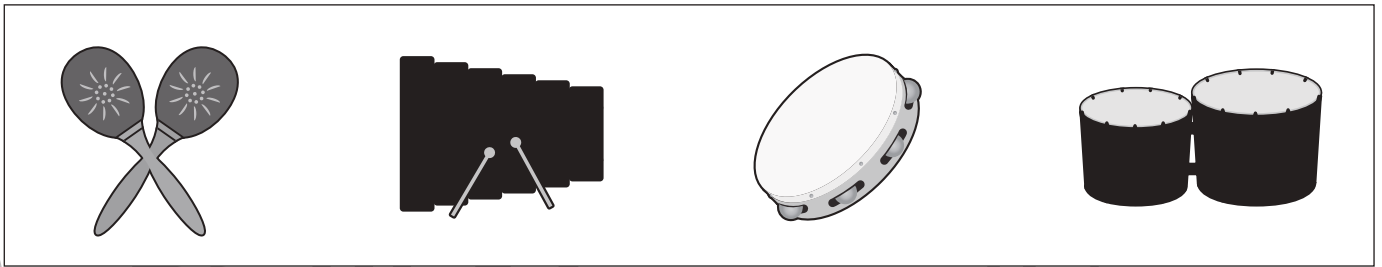

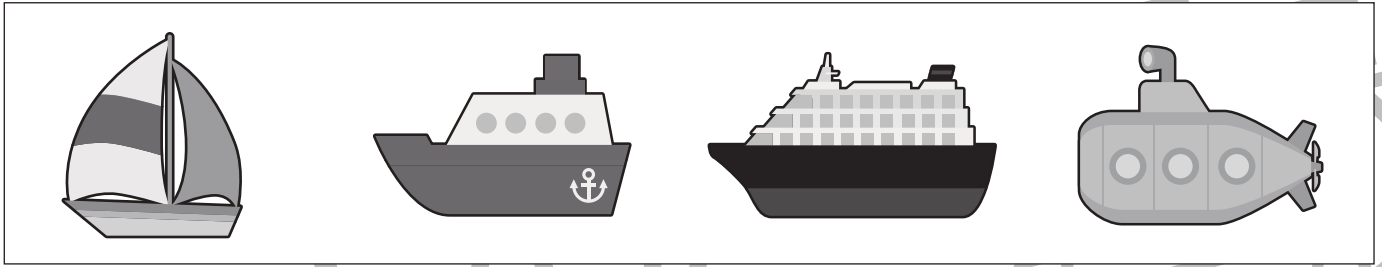


# おうちで、やろう。

Study at home. 小学校受験の家庭学習教材

## 常識：仲間⑭

四角の中のうち、仲間外れを1つ見つけて×をつけます。また、どうして仲間外れなのか理由もお話してみましよう。



※1. このプリントは、しながわ・目黒こどもスクールのウェブサイトでダウンロードができます。無断複写・引用はご遠慮ください。

※2. このプリントを活用したオンライン授業のスケジュールは、しながわ・目黒こどもスクールのウェブサイトでご確認ください。



# おうちで、やろう。

Study at home. 小学校受験の家庭学習教材

## 図形：構成④1

左の四角の中にある図形で出来る形を右の四角から選び○をつけます。


※1. このプリントは、しながわ・目黒こどもスクールのウェブサイトでダウンロードができます。無断複写・引用はご遠慮ください。

※2. このプリントを活用したオンライン授業のスケジュールは、しながわ・目黒こどもスクールのウェブサイトでご確認ください。



# おうちで、やろう。

Study at home. 小学校受験の家庭学習教材

## 図形：構成④②

左の四角の中にある図形で出来る形を右の四角から選び○をつけます。


※1. このプリントは、しながわ・目黒こどもスクールのウェブサイトでダウンロードができます。無断複写・引用はご遠慮ください。

※2. このプリントを活用したオンライン授業のスケジュールは、しながわ・目黒こどもスクールのウェブサイトでご確認ください。

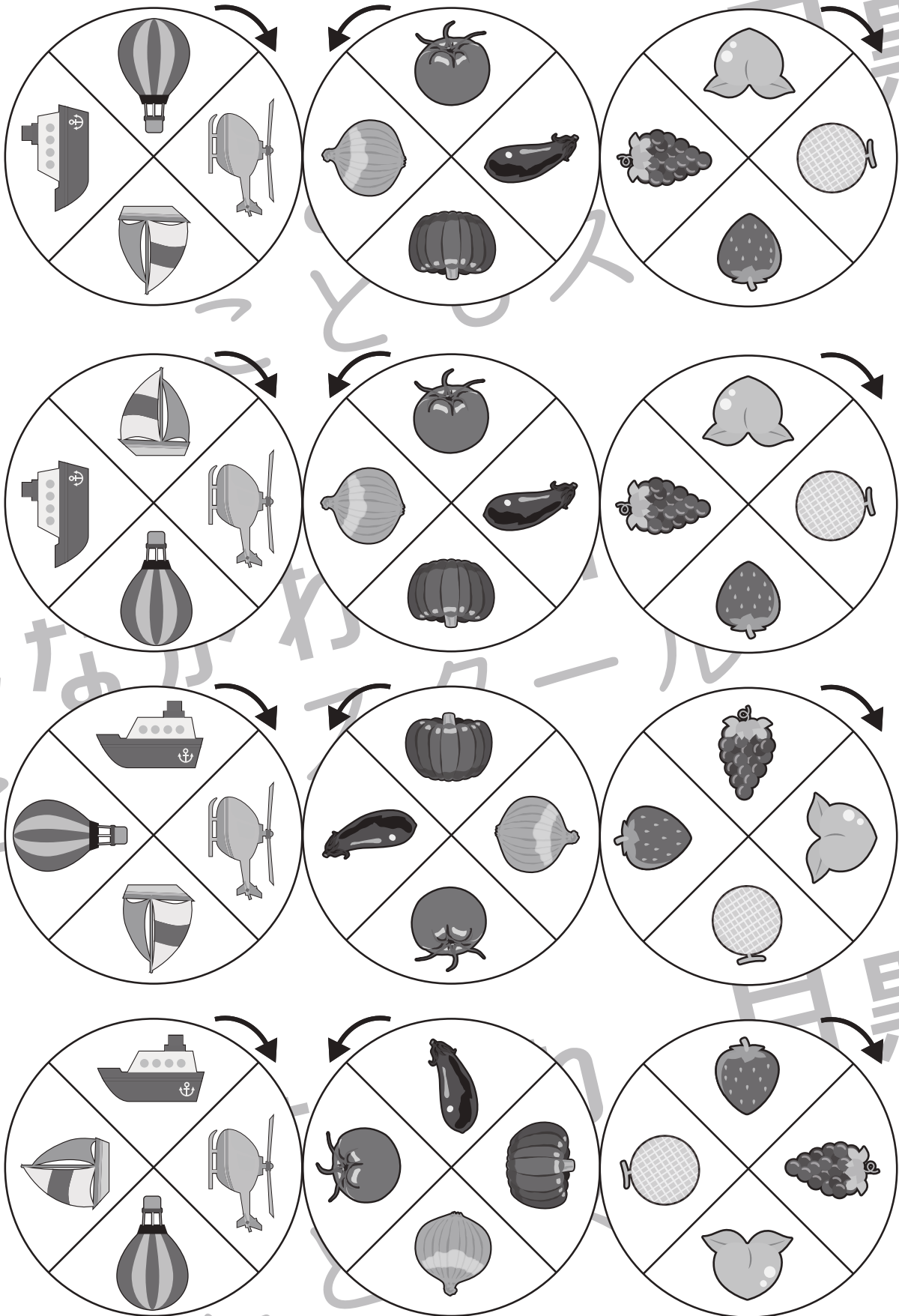


# おうちで、やろう。

Study at home. 小学校受験の家庭学習教材

## 推理：ルーレット⑤

3つのルーレットが矢印の方向へ回ります。それぞれのルーレットが回って、気球がヘリコプターの位置まで回ります。その時に気球とくっつく野菜に○を、野菜のルーレットとくっついている果物に△をつけます。



※1. このプリントは、しながわ・目黒こどもスクールのウェブサイトからダウンロードできます。無断複写・引用はご遠慮ください。  
 ※2. このプリントを活用したオンライン授業のスケジュールは、しながわ・目黒こどもスクールのウェブサイトでご確認ください。

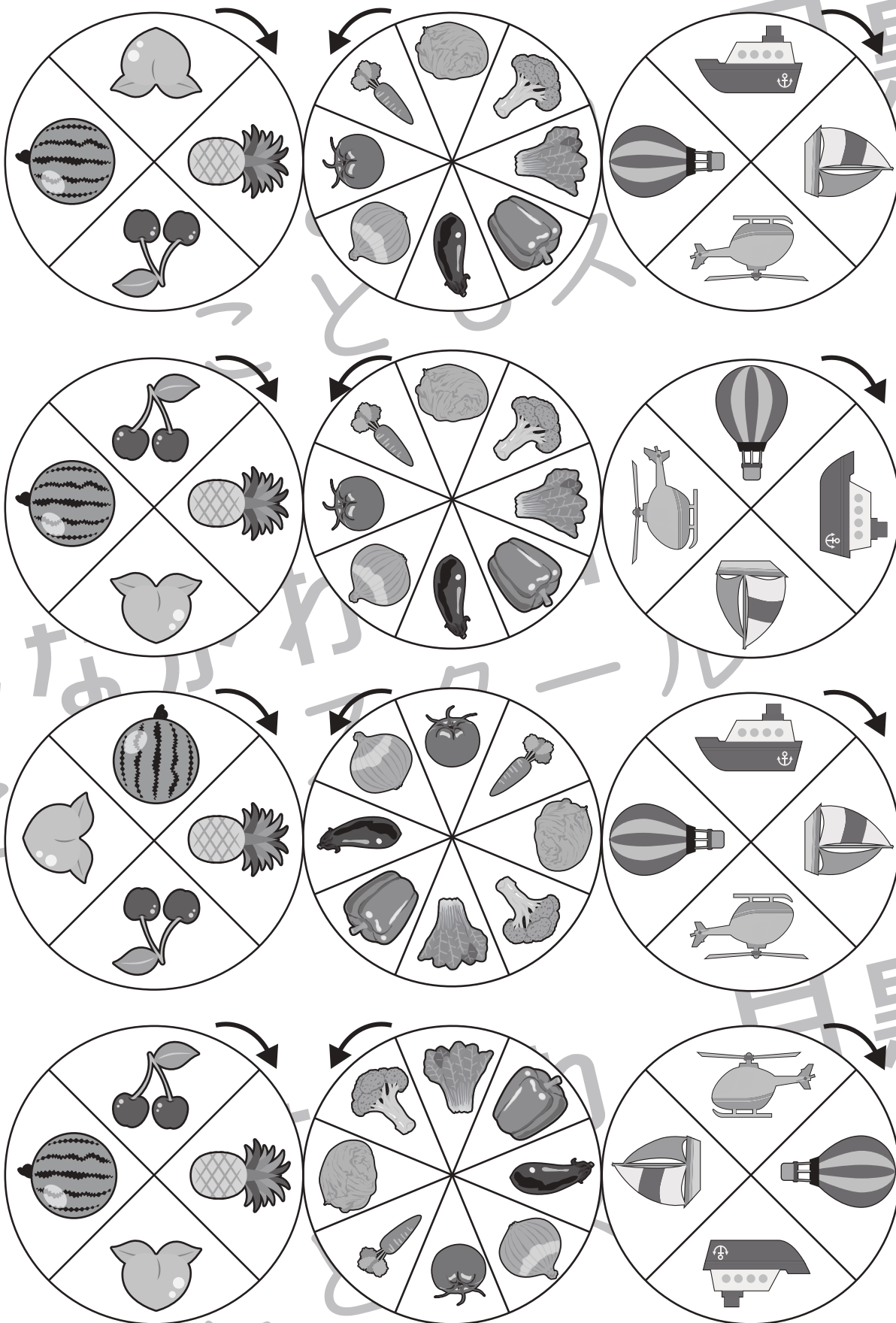


# おうちで、やろう。

Study at home. 小学校受験の家庭学習教材

## 推理：ルーレット⑥

3つのルーレットが矢印の方向へ回ります。それぞれのルーレットが回って、ももがパイナップルの位置まで回ります。その時にモモとくっつく野菜に○を、野菜のルーレットとくっついている乗り物に△をつけます。



※1. このプリントは、しながわ・目黒こどもスクールのウェブサイトでダウンロードができます。無断複写・引用はご遠慮ください。  
 ※2. このプリントを活用したオンライン授業のスケジュールは、しながわ・目黒こどもスクールのウェブサイトでご確認ください。











# おうちで、やろう。




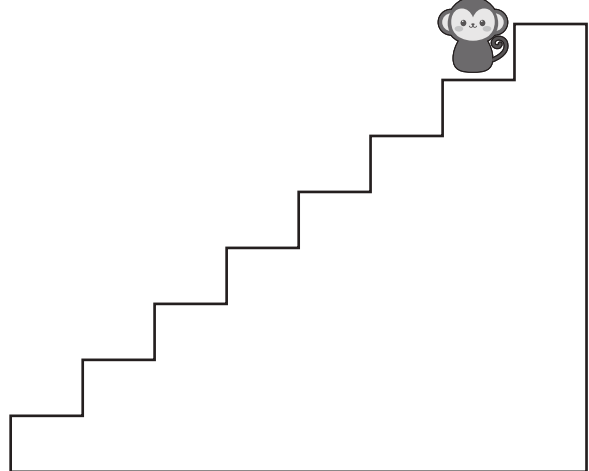
Study at home. 小学校受験の家庭学習教材






## 推理：条件推理④






サルが階段を上ったり、下りたりします。この約束は上の太い四角の中にあります。上向き矢印はその数だけ階段を上がり、下向き矢印はその数だけ下がります。サルが階段の途中にいるとき、上の果物を左から順番に見て約束通りに上ったり、下がったりしたとき最後にいる場所に○をかきます。

 ↑ ↑	 ↑ ↑ ↑	 ↓	 ↓ ↓
---	---	---	---

※1. このプリントは、しながわ・目黒こどもスクールのウェブサイトでダウンロードができます。無断複写・引用はご遠慮ください。  
 ※2. このプリントを活用したオンライン授業のスケジュールは、しながわ・目黒こどもスクールのウェブサイトでご確認ください。











# おうちで、やろう。






Study at home. 小学校受験の家庭学習教材






## 推理：条件推理④






サルが階段を上ったり、下りたりします。この約束は上の太い四角の中にあります。上向き矢印はその数だけ階段を上がり、下向き矢印はその数だけ下がります。サルが階段の途中にいるとき、上の果物を左から順番に見て約束通りに上ったり、下がったりしたとき最後にいる場所に○をかきます。

 ↑ ↓ ↓	 ↑ ↑ ↓	 ↓ ↓ ↓	 ↑ ↑
---	---	---	---

※1. このプリントは、しながわ・目黒こどもスクールのウェブサイトでダウンロードができます。無断複写・引用はご遠慮ください。  
※2. このプリントを活用したオンライン授業のスケジュールは、しながわ・目黒こどもスクールのウェブサイトでご確認ください。
















# おうちで、やろう。


Study at home. 小学校受験の家庭学習教材


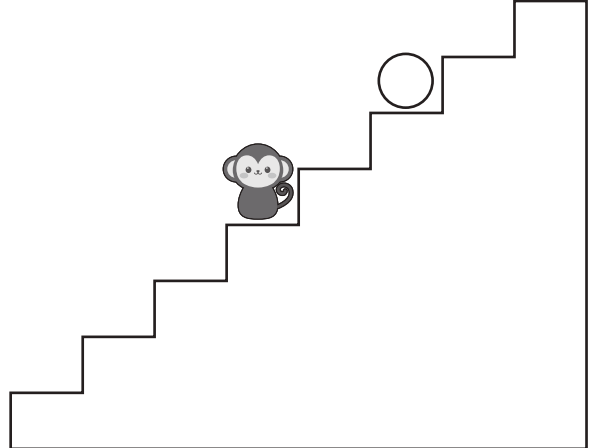
## 推理：条件推理④










サルが階段を上ったり、下りたりします。この約束は上の太い四角の中にあります。上向き矢印はその数だけ階段を上がり、下向き矢印はその数だけ下がります。サルが今いる場所から上の果物を左から順番に見て約束通りに上ったり、下がったりしたとき最後いる場所が○の所です。この時、サルは上の3つのうちのどの果物の約束で進みましたか。正しいものに○をつけます。










 ↑ ↓	 ↑ ↓ ↑	 ↑ ↑ ↑	 ↓ ↓
---	---	---	---

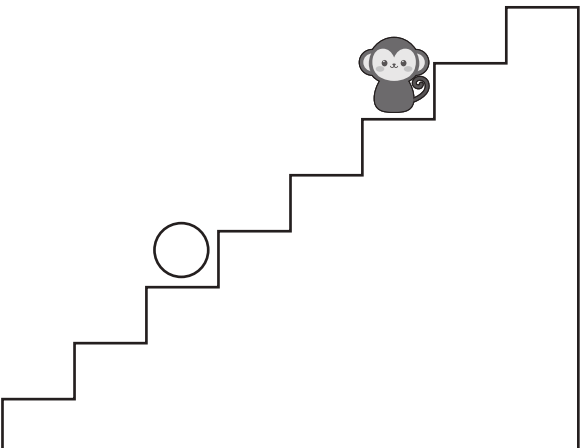

  	  	  
---	---	---

  	  	  
--	---	---

  	  	  
---	---	---

  	  	  
--	---	---

※1. このプリントは、しながわ・目黒こどもスクールのウェブサイトでダウンロードができます。無断複写・引用はご遠慮ください。

※2. このプリントを活用したオンライン授業のスケジュールは、しながわ・目黒こどもスクールのウェブサイトでご確認ください。





# おうちで、やろう。

Study at home. 小学校受験の家庭学習教材

数量：計数⑱

上の四角の中にはいろいろな形があります。下の四角にかいてある形は上の四角の中にはそれぞれいくつありますか。その数だけ下の四角に○をかきます。

□	□	○	□	□	□	□	□	□	☆	□
□	□	□	□	□	□	○	□	□	□	□
○	□	□	☆	□	△	□	□	□	△	□
□	□	△	□	□	□	□	□	□	□	□
☆	□	□	□	□	□	□	□	□	□	□
□	□	○	□	□	□	☆	□	□	□	□
□	□	□	□	□	△	□	□	□	□	□
□	□	□	☆	□	□	□	□	□	□	□
○	□	□	□	□	□	□	□	□	□	□
□	△	□	□	□	□	□	□	□	□	□
☆	□	□	□	□	□	□	□	□	□	□
□	□	○	□	□	□	□	□	□	□	□

☆	□	○	△

※1. このプリントは、しながわ・目黒こどもスクールのウェブサイトでダウンロードができます。無断複写・引用はご遠慮ください。

※2. このプリントを活用したオンライン授業のスケジュールは、しながわ・目黒こどもスクールのウェブサイトでご確認ください。

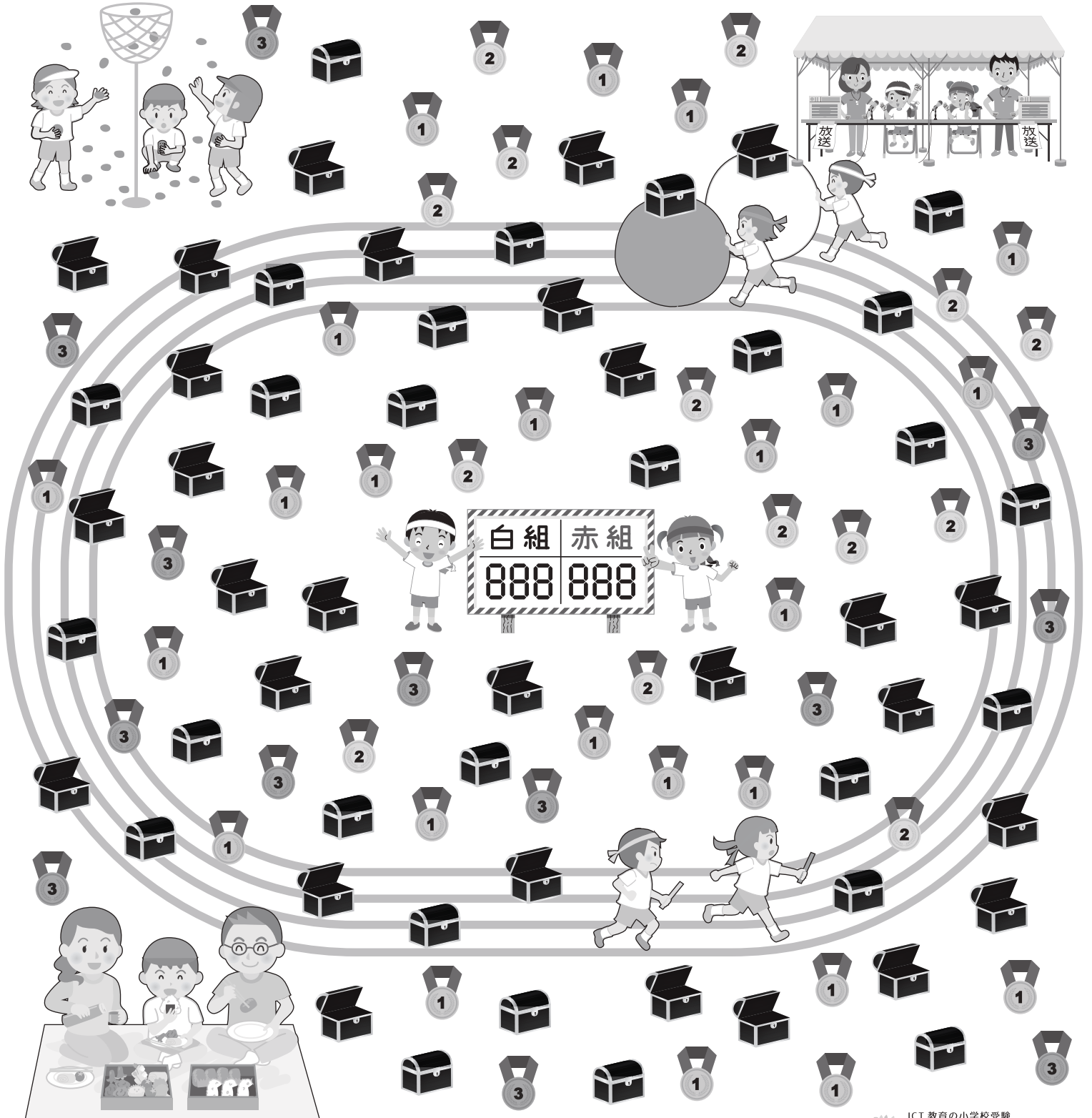
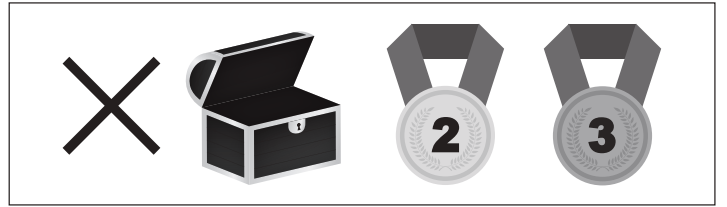
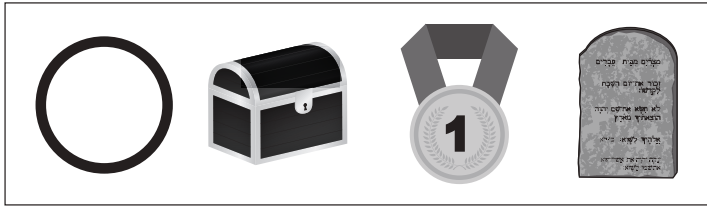


# おうちで、やろう。

Study at home. 小学校受験の家庭学習教材

## 推理：たからさがし②⑤

あなたは宝島にやってきました。宝箱と宝箱の鍵をたくさん見つけにいきます。下の地図の中からお手本にある「宝箱」「1とうしょうのメダル」、どこかに1つだけある「石板」を見つけて○をつけましょう。「もう空いている宝箱」と「ほかのメダル」はハズレですから何も印はつけません。宝探しの時間はたったの1分です。それまでに、できるだけ多くの「宝箱」と「1とうしょうのメダル」を見つけてみましょう。



※1. このプリントは、しながわ・目黒こどもスクールのウェブサイトからダウンロードできます。無断複写・引用はご遠慮ください。

※2. このプリントを活用したオンライン授業のスケジュールは、しながわ・目黒こどもスクールのウェブサイトでご確認ください。

