



おうちで、やろう。

Study at home. 小学校受験の家庭学習教材

□頭試問①

いろいろな料理の絵を見て下の質問に答えましょう。お子さまが答えたことは保護者の方が記入してください。
※この問題に解答はありません。



①上の料理の中で一番好きなものはなんですか。またどうしてその料理が好きですか。

②上の料理の中でお父さん、お母さんが作ってくれるものはありますか。またどの料理ですか。

③上の料理の中でお父さん、お母さんに作ってほしい料理は何ですか。

④上の料理の中自分で作りたい料理は何ですか。また、それはどうしてですか。





おうちで、やろう。

Study at home. 小学校受験の家庭学習教材

□頭試問②

いろいろなお仕事をしている人の絵を見て下の質問に答えましょう。お子さまが答えたことは保護者の方が記入してください。
※この問題に解答はありません。



①上の中であなたがやってみたいお仕事はなんですか。またどうしてそのお仕事をやってみたいですか。

②上の人の中で大変なお仕事だと思う人は誰ですか。またどうしてそう思いますか。

③真ん中の段の左から2番目の人のお仕事はどんなお仕事だと思いますか。説明してください。

④一番上の段の右から3番目の人のお仕事はどんなお仕事だと思いますか。説明してください。

※1. このプリントは、しながわ・目黒こどもスクールのウェブサイトでダウンロードができます。無断複写・引用はご遠慮ください。

※2. このプリントを活用したオンライン授業のスケジュールは、しながわ・目黒こどもスクールのウェブサイトでご確認ください。





おうちで、やろう。

Study at home. 小学校受験の家庭学習教材

処理：運筆⑧

左の矢印からはじめてマス目の順番通りに点線の記号をなぞります。この問題は制限時間がありますので、なるべく素早く取り組みましょう。(目安時間2分～2分30秒) ※この問題は正解表はありません。

									←
←									

※1. このプリントは、しながわ・目黒こどもスクールのウェブサイトでダウンロードができます。無断複写・引用はご遠慮ください。
※2. このプリントを活用したオンライン授業のスケジュールは、しながわ・目黒こどもスクールのウェブサイトでご確認ください。

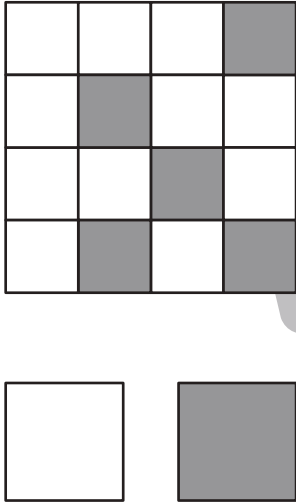
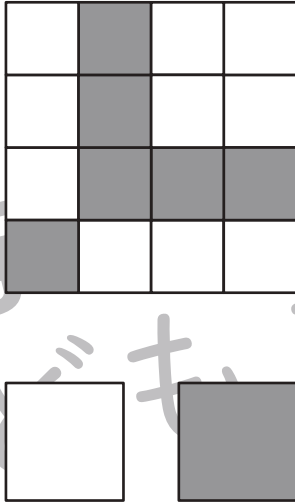
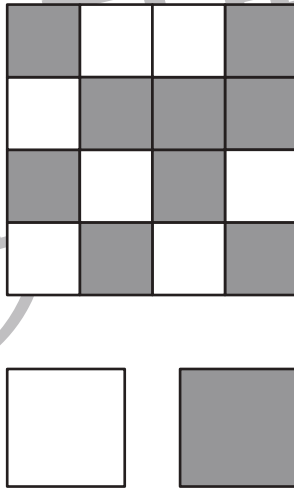
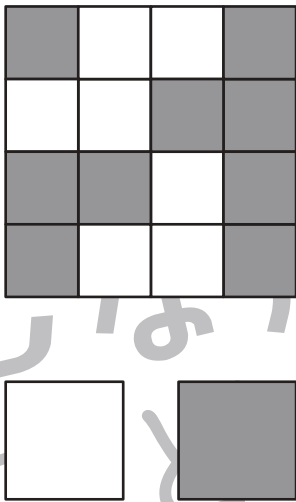


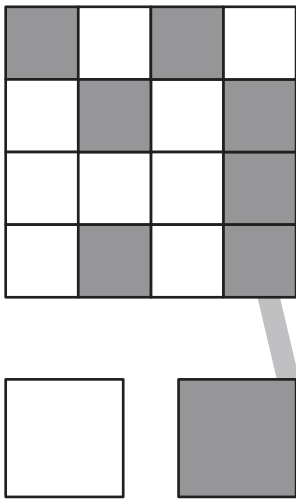
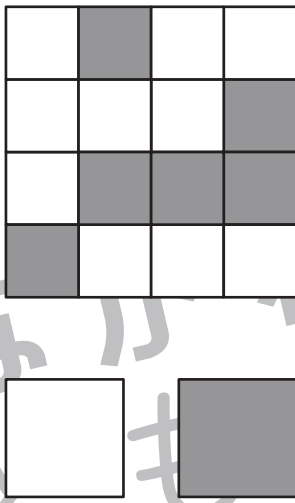
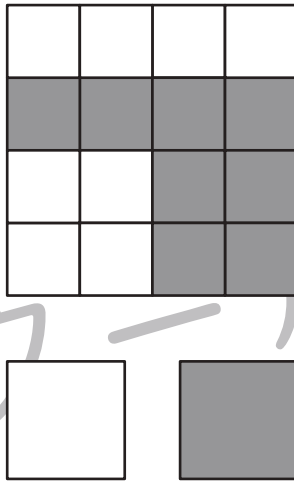


おうちで、やろう。

Study at home. 小学校受験の家庭学習教材

推理：広さ⑩

それぞれの四角の白い部分と灰色の部分の広さを比べます。広い方を考えて下のマスに○をつけます。同じ広さの場合は両方とも○をつけます。

※1. このプリントは、しながわ・目黒こどもスクールのウェブサイトでダウンロードができます。無断複写・引用はご遠慮ください。

※2. このプリントを活用したオンライン授業のスケジュールは、しながわ・目黒こどもスクールのウェブサイトでご確認ください。



おうちで、やろう。

Study at home. 小学校受験の家庭学習教材

推理：広さ⑪

それぞれの四角の白い部分と灰色の部分の広さを比べます。狭い方を考えて下のマスに○をつけます。同じ広さの場合は両方とも○をつけます。

※1. このプリントは、しながわ・目黒こどもスクールのウェブサイトでダウンロードができます。無断複写・引用はご遠慮ください。

※2. このプリントを活用したオンライン授業のスケジュールは、しながわ・目黒こどもスクールのウェブサイトでご確認ください。



おうちで、よろう。

Study at home. 小学校受験の家庭学習教材

推理：広さ⑫

それぞれの四角の白い部分と灰色の部分の広さを比べます。広い方を考えて下のマスに○をつけます。

※1. このプリントは、しながわ・目黒こどもスクールのウェブサイトでダウンロードができます。無断複写・引用はご遠慮ください。

※2. このプリントを活用したオンライン授業のスケジュールは、しながわ・目黒こどもスクールのウェブサイトでご確認ください。



おうちで、やろう。

Study at home. 小学校受験の家庭学習教材

数量：サイコロ⑭

サイコロは表の目と裏の目の数を合わせると7になります。それぞれの四角の中の2つのサイコロの目が表のとき、この2つのサイコロの裏の目を合わせた数はいくつですか。その数だけ下の四角に○をかきます。

※1. このプリントは、しながわ・目黒こどもスクールのウェブサイトでダウンロードができます。無断複写・引用はご遠慮ください。
 ※2. このプリントを活用したオンライン授業のスケジュールは、しながわ・目黒こどもスクールのウェブサイトでご確認ください。



おうちで、やろう。

Study at home. 小学校受験の家庭学習教材

数量：サイコロ⑮

サイコロは表の目と裏の目の数を合わせると7になります。それぞれの四角の中の3つのサイコロの目が表のとき、この3つのサイコロの裏の目を合わせた数はいくつですか。その数だけ下の四角に○をかきます。

※1. このプリントは、しながわ・目黒こどもスクールのウェブサイトでダウンロードができます。無断複写・引用はご遠慮ください。
 ※2. このプリントを活用したオンライン授業のスケジュールは、しながわ・目黒こどもスクールのウェブサイトでご確認ください。



おうちで、やろう。

Study at home. 小学校受験の家庭学習教材

数量：サイコロ⑩⑯

サイコロは表の目と裏の目の数を合わせると7になります。それぞれの四角の中の4つのサイコロの目が表のとき、この4つのサイコロの裏の目を合わせた数はいくつですか。その数だけ下の四角に○をかきます。

※1. このプリントは、しながわ・目黒こどもスクールのウェブサイトでダウンロードができます。無断複写・引用はご遠慮ください。
 ※2. このプリントを活用したオンライン授業のスケジュールは、しながわ・目黒こどもスクールのウェブサイトでご確認ください。



おうちで、やろう。

Study at home. 小学校受験の家庭学習教材

数量：複合⑥

四角の中には3匹の動物がいます。ウサギ・ネズミ・ゾウを1匹ずつセットにして部屋の中に入れていきます。四角の中の動物たちをすべて部屋に入れるには部屋がいくつ必要ですか。その数だけ下のマスに○をかきます。

四角の中にパンダ・ペンギン・レッサーパンダがいます。動物たちが真ん中の四角のように一列に並んだ時、余る動物がいます。パンダが余った時には○を、ペンギンが余った時には△、レッサーパンダが余った時には□を下のマスの中にその動物の数だけかきます。

										...

四角の中にニワトリ・イヌ・ネコがいます。動物たちが真ん中の四角の中のよう一列に並んでいます。そこにイヌが2匹やってきました。全部の動物たちがちょうどピッタリきれいに並ぶにはニワトリがあと何匹やってくるとよいですか。その数だけ下のマスに○をかきます。

※1. このプリントは、しながわ・目黒こどもスクールのウェブサイトでダウンロードができます。無断複写・引用はご遠慮ください。
※2. このプリントを活用したオンライン授業のスケジュールは、しながわ・目黒こどもスクールのウェブサイトでご確認ください。