

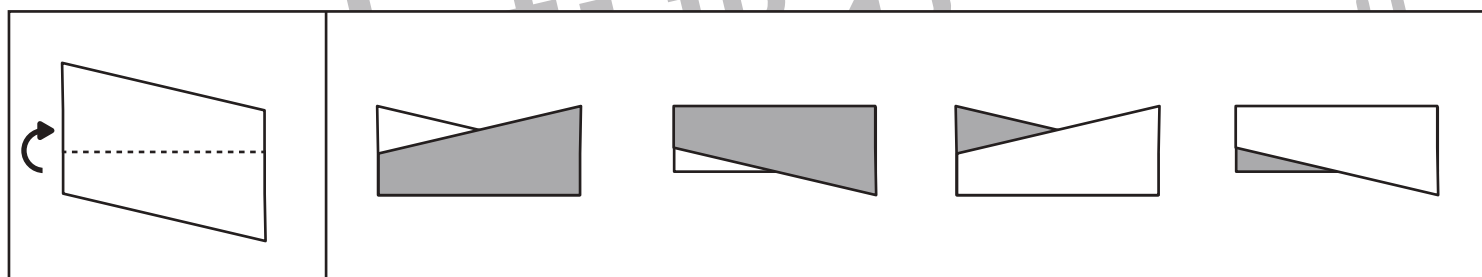
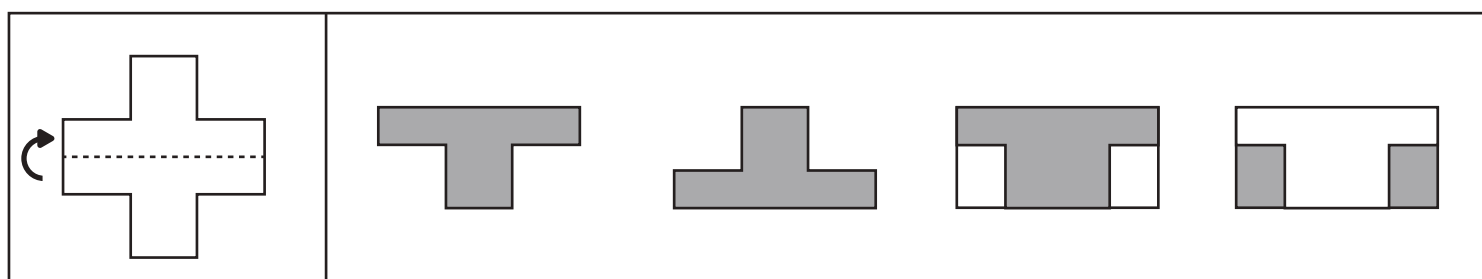
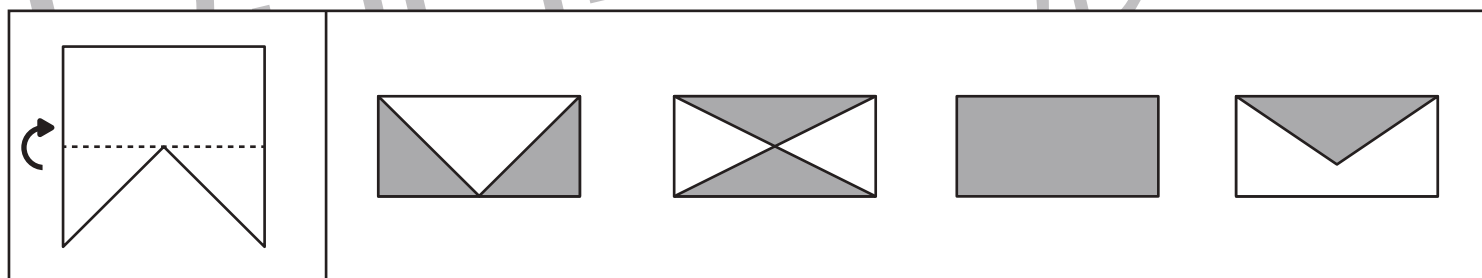
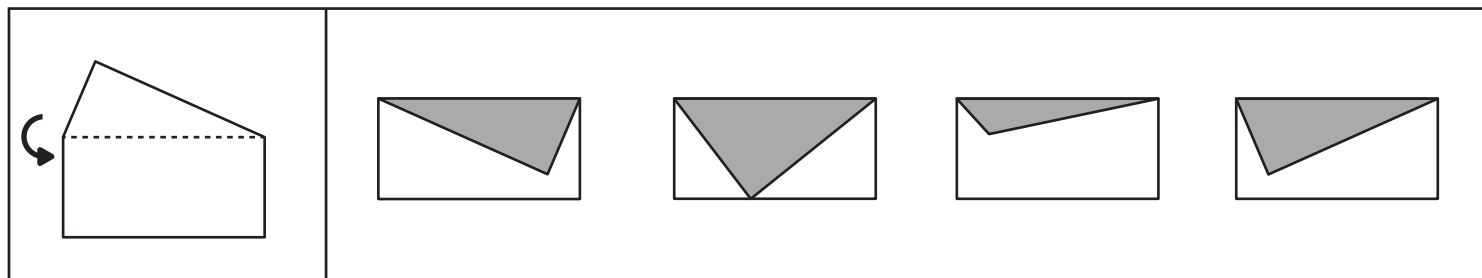
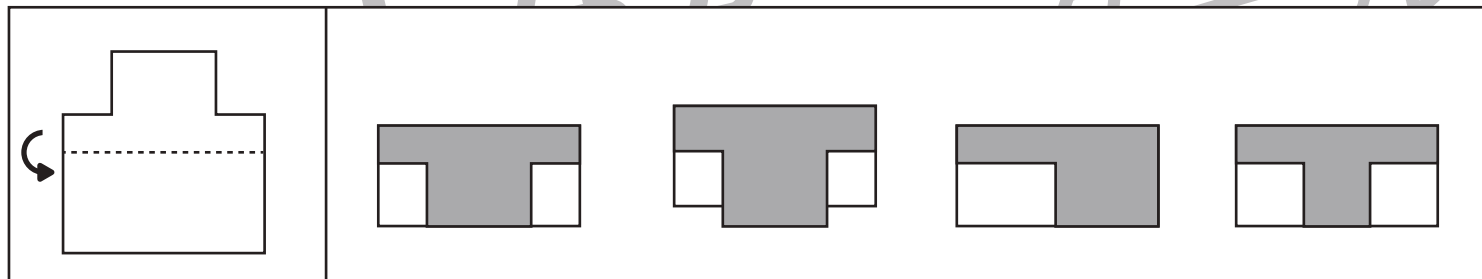
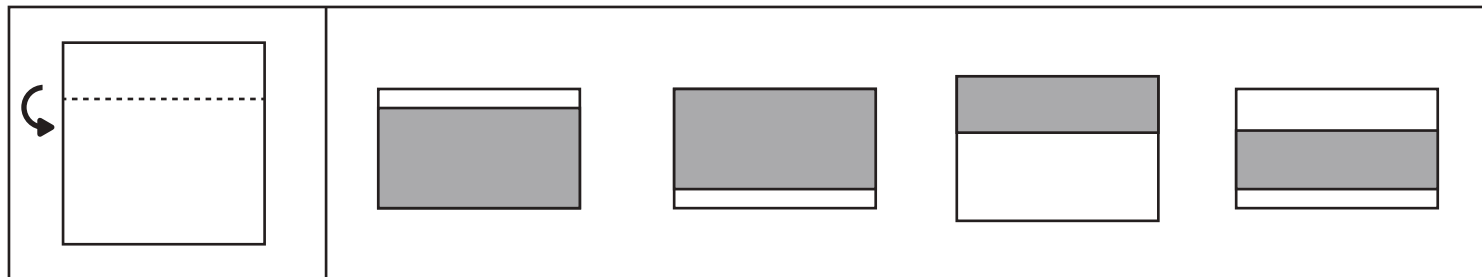


おうちで、やろう。

Study at home. 小学校受験の家庭学習教材

図形：折り紙③

裏が灰色の折り紙を矢印の方向に折った時の様子で正しいものを右の中からみつけて○をつけます。



※1. このプリントは、しながわ・目黒こどもスクールのウェブサイトからダウンロードできます。無断複写・引用はご遠慮ください。

※2. このプリントを活用したオンライン授業のスケジュールは、しながわ・目黒こどもスクールのウェブサイトでご確認ください。



おうちで、やろう。

Study at home. 小学校受験の家庭学習教材

推理：ブラックボックス⑮

上の太枠の中がお約束です。形が箱の中を通ると約束にしがたって「何かが変わって」出てきます。お約束をよく考えて、矢印の先の右の四角に変わった後の形を描きましょう。

○ ○○	→		→	◐ ○
○ ◯	→		→	◯ ○
○ ●	→		→	● ○
○ ○○	→		→	○○○ ○○○

○ → → → →

○ → → → →

○ → → → →

○ → → → →

※1. このプリントは、しながわ・目黒こどもスクールのウェブサイトでダウンロードができます。無断複写・引用はご遠慮ください。
 ※2. このプリントを活用したオンライン授業のスケジュールは、しながわ・目黒こどもスクールのウェブサイトでご確認ください。



おうちで、やろう。

Study at home. 小学校受験の家庭学習教材

推理：ブラックボックス⑬

上の太枠の中がお約束です。形が箱の中を通ると約束にしがたって「何かが変わって」出てきます。お約束をよく考えて、矢印の先の右の四角に変わった後の形を描きましょう。

○ ○○	→ [Scissors Box] →	◐ ○	○ ●	→ [Palette Box] →	● ○
○ ○	→ [Fish Box] →	○ ○	○ ○○	→ [Egg Box] →	○○○ ○○○

○ → [Palette Box] → [Fish Box] → [Egg Box] → [Scissors Box] → □

○ → [Palette Box] → [Fish Box] → [Scissors Box] → [Palette Box] → □

○ → [Fish Box] → [Fish Box] → [Egg Box] → [Fish Box] → □

○ → [Egg Box] → [Egg Box] → [Scissors Box] → [Palette Box] → □

※1. このプリントは、しながわ・目黒こどもスクールのウェブサイトでダウンロードができます。無断複写・引用はご遠慮ください。
 ※2. このプリントを活用したオンライン授業のスケジュールは、しながわ・目黒こどもスクールのウェブサイトでご確認ください。

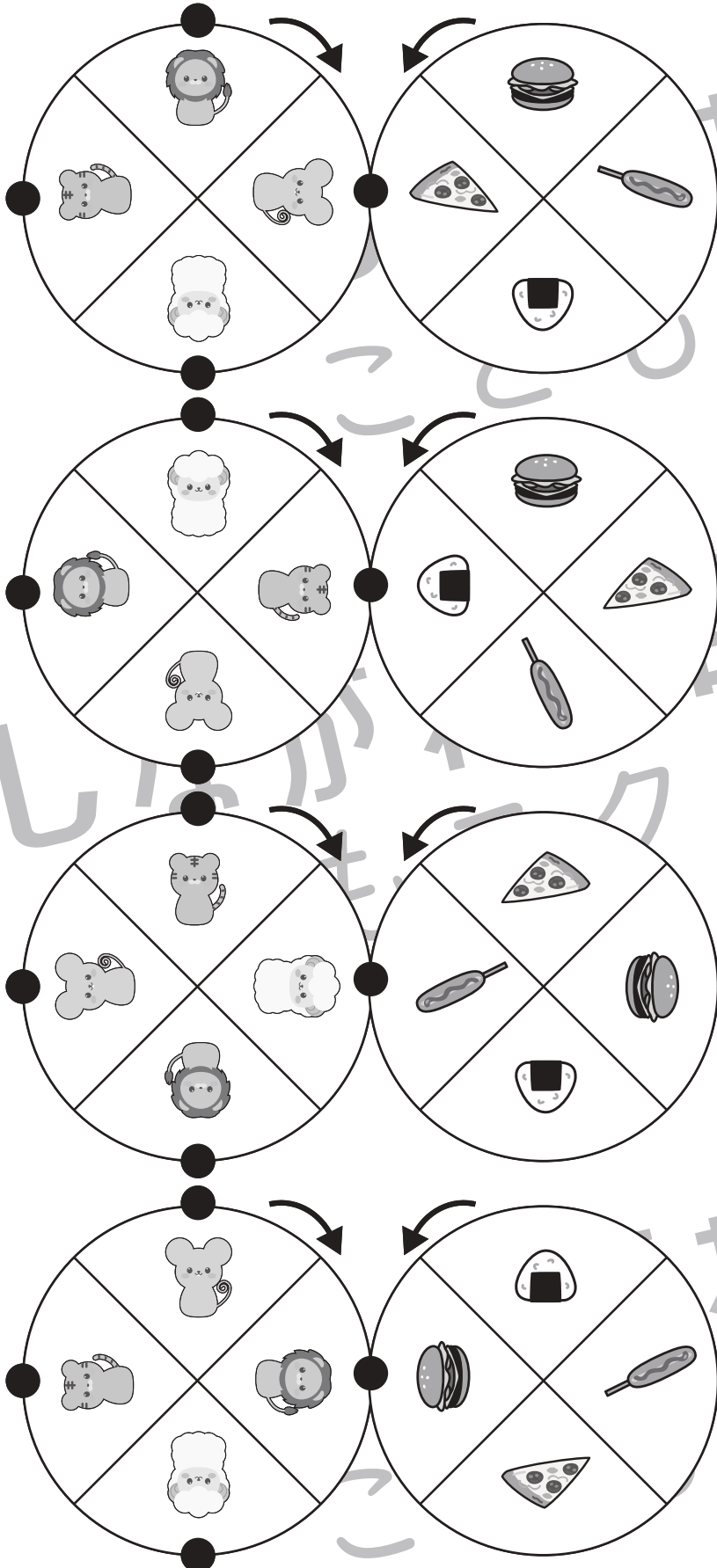


おうちで、やろう。

Study at home. 小学校受験の家庭学習教材

推理：ルーレット①

2つのルーレットが矢印の方向へ回ります。左の動物のルーレットの●が右の食べ物のルーレットとくっついていきます。右の四角の太い枠の動物は今の場所にくっついている食べ物は描いてあります。このとき、それぞれのルーレットが回って残りの動物の●とくっつく食べ物を考えて右の四角に○をつけます。



※1. このプリントは、しながわ・目黒こどもスクールのウェブサイトでダウンロードができます。無断複写・引用はご遠慮ください。
※2. このプリントを活用したオンライン授業のスケジュールは、しながわ・目黒こどもスクールのウェブサイトでご確認ください。






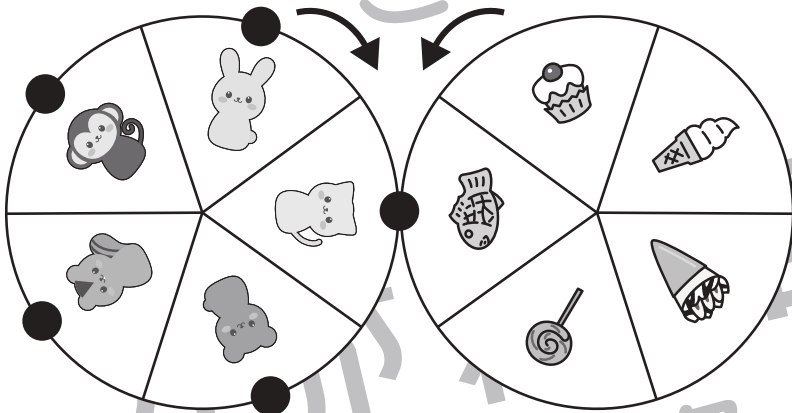
おうちで、やろう。

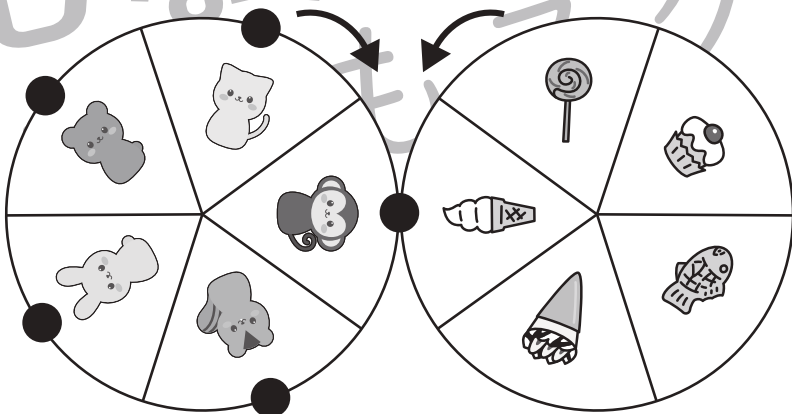
Study at home. 小学校受験の家庭学習教材

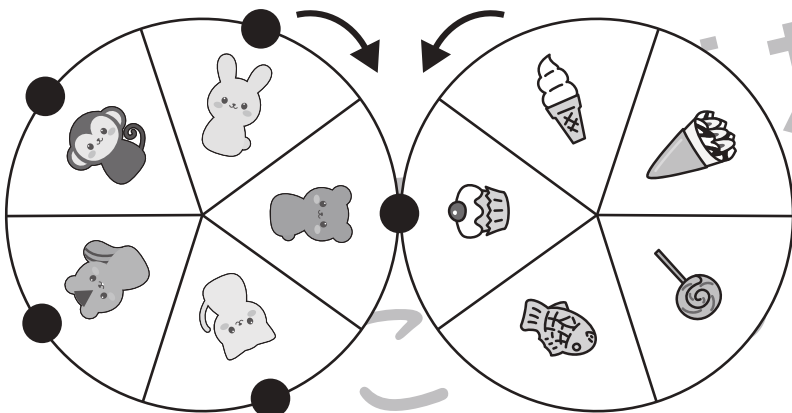
推理：ルーレット②

2つのルーレットが矢印の方向へ回ります。左の動物のルーレットの●が右の食べ物のルーレットとくっついていきます。右の四角の太い枠の動物は今の場所にくっつけている食べ物は描いてあります。このとき、それぞれのルーレットが回って残りの動物の●とくっつく食べ物を考えて右の四角に○をつけます。









※1. このプリントは、しながわ・目黒こどもスクールのウェブサイトからダウンロードできます。無断複写・引用はご遠慮ください。

※2. このプリントを活用したオンライン授業のスケジュールは、しながわ・目黒こどもスクールのウェブサイトでご確認ください。





おうちで、やろう。

Study at home. 小学校受験の家庭学習教材

数量：サイコロ⑰

上のサイコロの目と下のサイコロの目を合わせて 10 にします。下のサイコロの目がいくつになれば 10 になるのか考えて○をつけます。下のサイコロは1つでできない場合はサイコロ2つ使います。

Top die: 4

Bottom dice options:

- 1 and 2
- 2 and 3
- 3 and 4
- 4 and 5
- 5 and 6

Top die: 6

Bottom dice options:

- 1 and 2
- 2 and 3
- 3 and 4
- 4 and 5
- 5 and 6

Top die: 5

Bottom dice options:

- 1 and 2
- 2 and 3
- 3 and 4
- 4 and 5
- 5 and 6

Top die: 2

Bottom dice options:

- 1 and 2
- 2 and 3
- 3 and 4
- 4 and 5
- 5 and 6

Top die: 3

Bottom dice options:

- 1 and 2
- 2 and 3
- 3 and 4
- 4 and 5
- 5 and 6

Top die: 1

Bottom dice options:

- 1 and 2
- 2 and 3
- 3 and 4
- 4 and 5
- 5 and 6

※1. このプリントは、しながわ・目黒こどもスクールのウェブサイトでダウンロードができます。無断複写・引用はご遠慮ください。
 ※2. このプリントを活用したオンライン授業のスケジュールは、しながわ・目黒こどもスクールのウェブサイトでご確認ください。



おうちで、やろう。

Study at home. 小学校受験の家庭学習教材

数量：サイコロ⑱

サイコロは表の目と裏の目の数を合わせると7になります。上のサイコロの裏の目と下のサイコロの目を合わせて10にします。下のサイコロの目がいくつになれば10になるのか考えて○をつけます。下のサイコロは1つでできない場合はサイコロ2つ使います。

Top die: 1 dot

Bottom dice options:

- 1 dot + 1 dot
- 1 dot + 2 dots
- 1 dot + 3 dots
- 1 dot + 4 dots
- 1 dot + 5 dots
- 1 dot + 6 dots

Top die: 2 dots

Bottom dice options:

- 2 dots + 1 dot
- 2 dots + 2 dots
- 2 dots + 3 dots
- 2 dots + 4 dots
- 2 dots + 5 dots
- 2 dots + 6 dots

Top die: 4 dots

Bottom dice options:

- 4 dots + 1 dot
- 4 dots + 2 dots
- 4 dots + 3 dots
- 4 dots + 4 dots
- 4 dots + 5 dots
- 4 dots + 6 dots

Top die: 5 dots

Bottom dice options:

- 5 dots + 1 dot
- 5 dots + 2 dots
- 5 dots + 3 dots
- 5 dots + 4 dots
- 5 dots + 5 dots
- 5 dots + 6 dots

Top die: 3 dots

Bottom dice options:

- 3 dots + 1 dot
- 3 dots + 2 dots
- 3 dots + 3 dots
- 3 dots + 4 dots
- 3 dots + 5 dots
- 3 dots + 6 dots

Top die: 6 dots

Bottom dice options:

- 6 dots + 1 dot
- 6 dots + 2 dots
- 6 dots + 3 dots
- 6 dots + 4 dots
- 6 dots + 5 dots
- 6 dots + 6 dots

※1. このプリントは、しながわ・目黒こどもスクールのウェブサイトでダウンロードができます。無断複写・引用はご遠慮ください。
※2. このプリントを活用したオンライン授業のスケジュールは、しながわ・目黒こどもスクールのウェブサイトでご確認ください。



おうちで、やろう。

Study at home. 小学校受験の家庭学習教材

数量：指示理解④

お話をよく聞いて答えましょう。

- ①左のおやつを女の子と男の子で仲良く同じ数に分けます。右の四角にそれぞれのもらうおやつの数だけ○を描きましょう。
- ②左のおやつを女の子と男の子で分けます。女の子の方が3つ多くなるように、右の四角にそれぞれのもらうおやつの数だけ○を描きましょう。
- ③左のおやつを女の子と男の子とお父さんの3人で分けます。男の子がいちばん多くもらい、女の子が2番目に多くもらい、お父さんがいちばん少なくもらえるように、右の四角にそれぞれのもらうおやつの数だけ○を描きましょう。
- ④左のおやつを家族4人で分けます。男の子は1つでいいと言いました。女の子は4つか5つは欲しいと言いました。お父さんとお母さんは余ったおやつを同じ数で分けるからと言いました。右の四角にそれぞれのもらうおやつの数だけ○を描きましょう。

① 		
② 		
③ 		
④ 		

※1. このプリントは、しながわ・目黒こどもスクールのウェブサイトダウンロードができます。無断複写・引用はご遠慮ください。

※2. このプリントを活用したオンライン授業のスケジュールは、しながわ・目黒こどもスクールのウェブサイトでご確認ください。



おうちで、やろう。

Study at home. 小学校受験の家庭学習教材

数量：指示理解⑤

お話をよく聞いて答えましょう。

- ①左の2種類のおやつを家族4人で分けます。男の子はどちらも4つつもらいます。女の子はどちらも2つつもらいます。お父さんとお母さんは余ったおやつを同じ数で分けるからと言いました。右の四角にそれぞれもらうおやつの数だけ〇を描きましょう。
- ②左の2種類のおやつを家族4人で分けます。男の子はプリンを10こもらいます。女の子はカップケーキを4つつもらいます。お父さんとお母さんは余ったおやつを同じ数で分けるからと言いました。右の四角にそれぞれもらうおやつの数だけ〇を描きましょう。
- ③左の2種類のおやつを家族4人で分けます。男の子は何でもいいから4つつもらえればいいやと言います。女の子は飴を6つ欲しいと言います。お父さんとお母さんは余ったおやつを同じ数で分けるからと言いました。右の四角にそれぞれもらうおやつの数だけ〇を描きましょう。

①			
②			
③			

※1. このプリントは、しながわ・目黒こどもスクールのウェブサイトダウンロードができます。無断複写・引用はご遠慮ください。

※2. このプリントを活用したオンライン授業のスケジュールは、しながわ・目黒こどもスクールのウェブサイトでご確認ください。


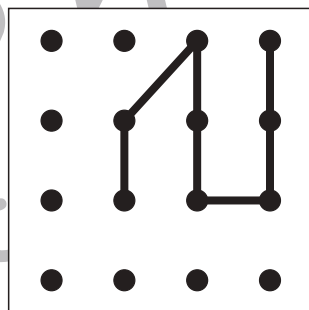

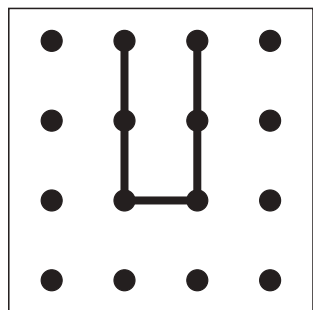

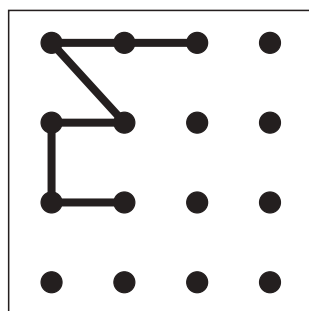

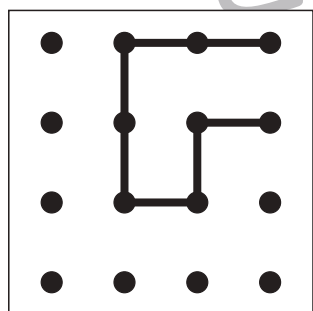

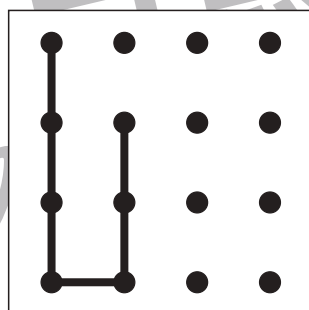

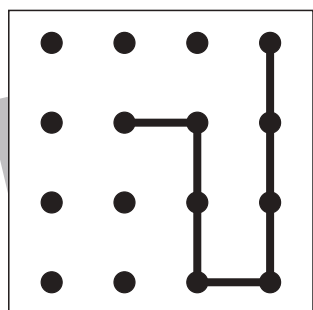

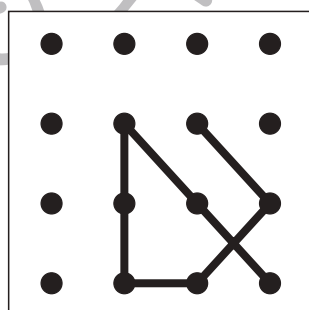

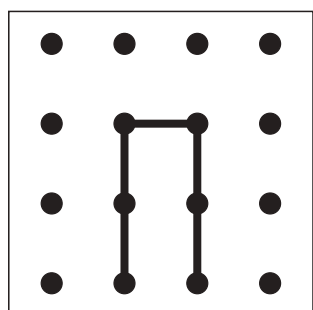

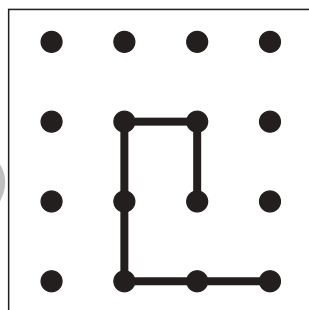

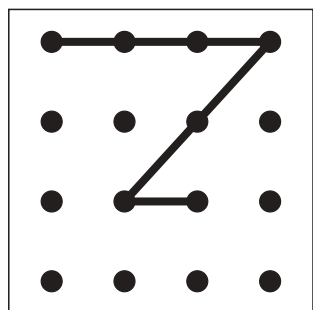


おうちで、やろう。

Study at home. 小学校受験の家庭学習教材

処理：運筆⑨

左のお手本で通っていない点を縦と横の1本の線で結びます。斜めの線はかいてはいけません。
この問題はスピードを意識して取り組む練習をしてみましょう。(2分～2分30秒)



※1. このプリントは、しながわ・目黒こどもスクールのウェブサイトでダウンロードができます。無断複写・引用はご遠慮ください。
※2. このプリントを活用したオンライン授業のスケジュールは、しながわ・目黒こどもスクールのウェブサイトでご確認ください。