



おうちで、やろう。

Study at home. 小学校受験の家庭学習教材

図形：重ね③④

矢印の上の2つの四角は透明な板です。この2枚の板を矢印の下のようにずらして重ねたときの模様の見え方を考えてます。このとき、太い四角の中に入る○だけをかきます。点線の四角の中の○はかきません。

The puzzles are arranged in four rows of five. Each puzzle shows a 3x3 grid. The top two squares are solid black. The bottom seven squares are dashed. An arrow points to the bottom seven squares, which are also solid black. The goal is to identify which circles from the dashed area are visible through the solid area.

※1. このプリントは、しながわ・目黒こどもスクールのウェブサイトでダウンロードができます。無断複写・引用はご遠慮ください。
 ※2. このプリントを活用したオンライン授業のスケジュールは、しながわ・目黒こどもスクールのウェブサイトでご確認ください。



おうちで、やろう。

Study at home. 小学校受験の家庭学習教材

図形：重ね③⑤

矢印の上の2つの四角は透明な板です。この2枚の板を矢印の下のようにずらして重ねたときの模様の見え方を考えてます。このとき、太い四角の中に入る○だけをかきます。点線の四角の中の○はかきません。

The grid contains 15 pairs of overlapping 3x3 squares. Each pair consists of a solid square on top and a dashed square on the bottom. Arrows point from the top square to the bottom square, indicating they should be overlaid. The circles in the squares represent a pattern that changes across the grid. The circles are placed in the following positions (row, column) for each pair:

- Pair 1: Top (1,1), (3,2), (3,3); Bottom (1,1), (2,3), (3,2)
- Pair 2: Top (1,3), (2,2), (2,3), (3,1); Bottom (2,2), (3,1), (3,3)
- Pair 3: Top (1,2), (2,2), (3,1), (3,3); Bottom (1,2), (2,2), (3,3)
- Pair 4: Top (1,1), (3,1), (3,3); Bottom (1,1), (2,2), (3,2), (3,3)
- Pair 5: Top (1,2), (2,1), (2,3), (3,2); Bottom (1,2), (2,1), (2,3), (3,2)
- Pair 6: Top (1,2), (2,1), (2,2), (3,1), (3,3); Bottom (1,2), (2,2), (3,1), (3,3)
- Pair 7: Top (1,2), (2,1), (2,2), (3,1), (3,3); Bottom (1,2), (2,2), (3,1), (3,3)
- Pair 8: Top (1,2), (2,1), (2,2), (3,1), (3,3); Bottom (1,2), (2,2), (3,1), (3,3)
- Pair 9: Top (1,2), (2,1), (2,2), (3,1), (3,3); Bottom (1,2), (2,2), (3,1), (3,3)
- Pair 10: Top (1,2), (2,1), (2,2), (3,1), (3,3); Bottom (1,2), (2,2), (3,1), (3,3)
- Pair 11: Top (1,2), (2,1), (2,2), (3,1), (3,3); Bottom (1,2), (2,2), (3,1), (3,3)
- Pair 12: Top (1,2), (2,1), (2,2), (3,1), (3,3); Bottom (1,2), (2,2), (3,1), (3,3)
- Pair 13: Top (1,2), (2,1), (2,2), (3,1), (3,3); Bottom (1,2), (2,2), (3,1), (3,3)
- Pair 14: Top (1,2), (2,1), (2,2), (3,1), (3,3); Bottom (1,2), (2,2), (3,1), (3,3)
- Pair 15: Top (1,2), (2,1), (2,2), (3,1), (3,3); Bottom (1,2), (2,2), (3,1), (3,3)

※1. このプリントは、しながわ・目黒こどもスクールのウェブサイトでダウンロードができます。無断複写・引用はご遠慮ください。
※2. このプリントを活用したオンライン授業のスケジュールは、しながわ・目黒こどもスクールのウェブサイトでご確認ください。



おうちで、やろう。

Study at home. 小学校受験の家庭学習教材

図形：重ね③⑥

矢印の上の2つの四角は透明な板です。この2枚の板を矢印の下のようにずらして重ねたときの模様の見え方を考えてます。このとき、太い四角の中に入る○だけをかきます。点線の四角の中の○はかきません。

The diagram shows 20 examples of overlapping two 3x3 grids. Each example consists of a solid grid (top) and a dashed grid (bottom). An arrow points from the solid grid to the dashed grid, indicating they are to be overlaid. The circles in the grids represent the visual result of overlapping the two boards. The circles in the solid grid are the ones to be drawn, while the circles in the dashed grid are not to be drawn.

※1. このプリントは、しながわ・目黒こどもスクールのウェブサイトでダウンロードができます。無断複写・引用はご遠慮ください。
 ※2. このプリントを活用したオンライン授業のスケジュールは、しながわ・目黒こどもスクールのウェブサイトでご確認ください。






おうちで、やろう。

Study at home. 小学校受験の家庭学習教材

推理：シルエット⑨

左の絵は動物たちがシルエットになっています。左と右の四角をよく見て、右の四角の中からシルエットになっていない動物を見つけて×をつけます。



※1. このプリントは、しながわ・目黒こどもスクールのウェブサイトでダウンロードができます。無断複写・引用はご遠慮ください。
※2. このプリントを活用したオンライン授業のスケジュールは、しながわ・目黒こどもスクールのウェブサイトでご確認ください。





おうちで、やろう。

Study at home. 小学校受験の家庭学習教材

推理：シルエット⑩

左の絵は妖怪たちがシルエットになっています。左と右の四角をよく見て、右の四角の中からシルエットになっていない妖怪を見つけ、×をつけます。



※1. このプリントは、しながわ・目黒こどもスクールのウェブサイトからダウンロードできます。無断複写・引用はご遠慮ください。
※2. このプリントを活用したオンライン授業のスケジュールは、しながわ・目黒こどもスクールのウェブサイトでご確認ください。

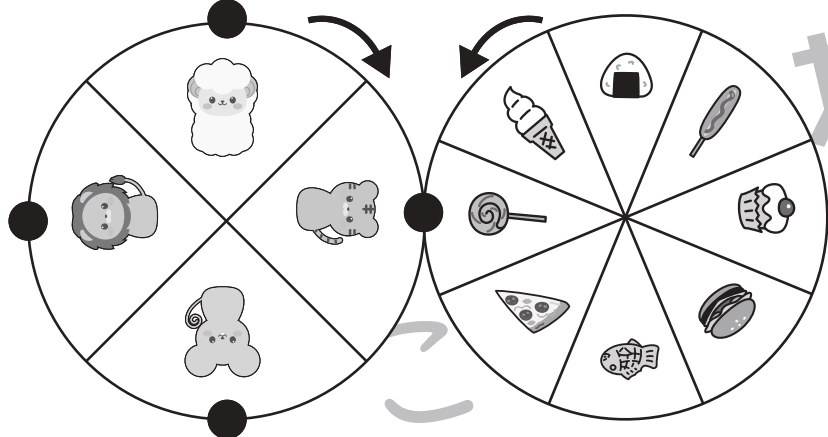

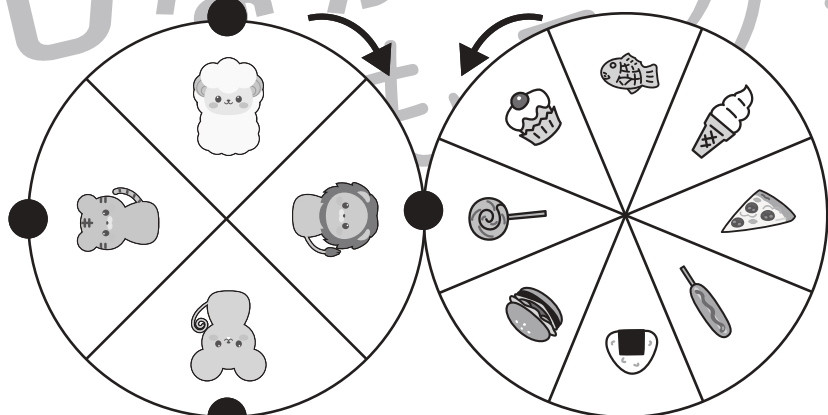

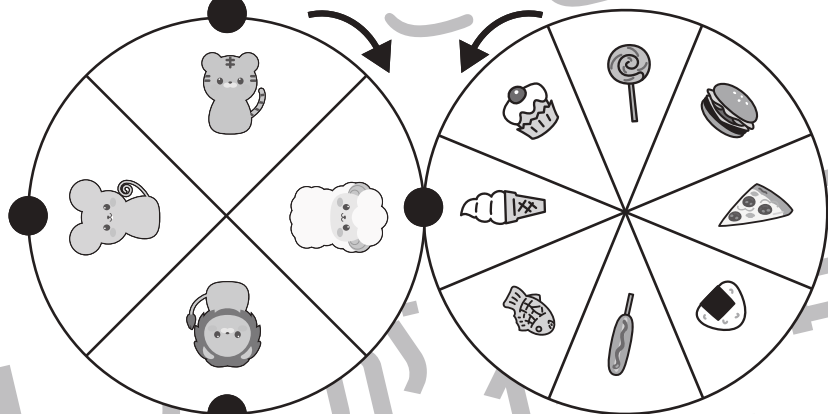

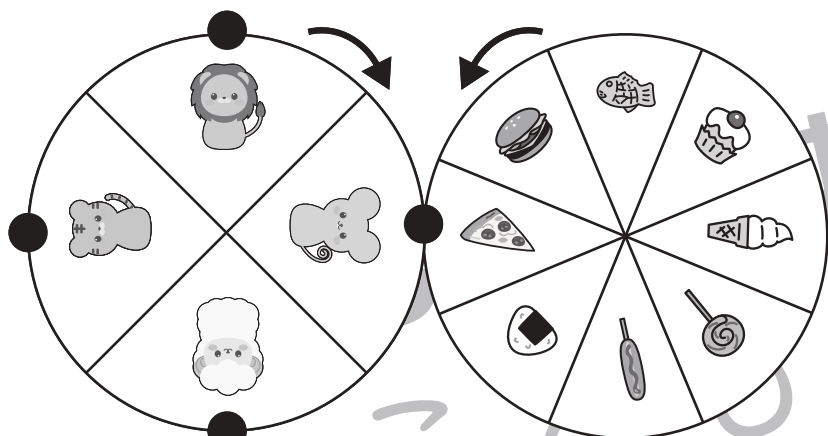


おうちで、やろう。

Study at home. 小学校受験の家庭学習教材

推理：ルーレット③

2つのルーレットが矢印の方向へ回ります。左の動物のルーレットの●が右の食べ物のルーレットとくっついていきます。それぞれのルーレットが回ったとき、右の四角の中の動物の●とくっつく食べ物を考えてそれぞれの記号をつけます。



※1. このプリントは、しながわ・目黒こどもスクールのウェブサイトからダウンロードできます。無断複写・引用はご遠慮ください。

※2. このプリントを活用したオンライン授業のスケジュールは、しながわ・目黒こどもスクールのウェブサイトでご確認ください。





おうちで、やろう。

Study at home. 小学校受験の家庭学習教材

推理：ルーレット④

2つのルーレットが矢印の方向へ回ります。それぞれのルーレットが回ったとき、右の四角の太枠の中の動物とくっつく食べ物を考えて○をつけます。

※1. このプリントは、しながわ・目黒こどもスクールのウェブサイトからダウンロードできます。無断複写・引用はご遠慮ください。

※2. このプリントを活用したオンライン授業のスケジュールは、しながわ・目黒こどもスクールのウェブサイトでご確認ください。




おうちで、やろう。


Study at home. 小学校受験の家庭学習教材

推理：条件迷路④

☆のマスから野菜の絵が描いてあるマスだけを通り△のマスまで行きます。その通り道を青のクーピーで線を引きます。
※一度通った道は通れません。



☆のマスから動物の絵が描いてあるマスだけを通り△のマスまで行きます。その通り道を緑のクーピーで線を引きます。
※一度通った道は通れません。



※1. このプリントは、しながわ・目黒こどもスクールのウェブサイトからダウンロードできます。無断複写・引用はご遠慮ください。
※2. このプリントを活用したオンライン授業のスケジュールは、しながわ・目黒こどもスクールのウェブサイトでご確認ください。



おうちで、やろう。

Study at home. 小学校受験の家庭学習教材

推理：水面①

左の四角の中のように水たまりに人や物がうつった様子を考えます。正しいものを右の中から選んで○をつけます。

※1. このプリントは、しながわ・目黒こどもスクールのウェブサイトからダウンロードができます。無断複写・引用はご遠慮ください。

※2. このプリントを活用したオンライン授業のスケジュールは、しながわ・目黒こどもスクールのウェブサイトでご確認ください。




おうちで、やろう。

Study at home. 小学校受験の家庭学習教材

推理：注意力③

右と左の絵は同じように見えますが、何かが違います。違う所を見つけて右の四角に○をつけます。

①



②



※1. このプリントは、しながわ・目黒こどもスクールのウェブサイトでダウンロードができます。無断複写・引用はご遠慮ください。
 ※2. このプリントを活用したオンライン授業のスケジュールは、しながわ・目黒こどもスクールのウェブサイトでご確認ください。