










おうちで、やろう。

Study at home. 小学校受験の家庭学習教材

図形：重なり⑬

左の太い四角の中は右の四角の中の形のうち4つを重ねて作ったものです。右の形の中で使っていないものを見つけて○をつけます。



※1. このプリントは、しながわ・目黒こどもスクールのウェブサイトからダウンロードできます。無断複写・引用はご遠慮ください。
※2. このプリントを活用したオンライン授業のスケジュールは、しながわ・目黒こどもスクールのウェブサイトでご確認ください。











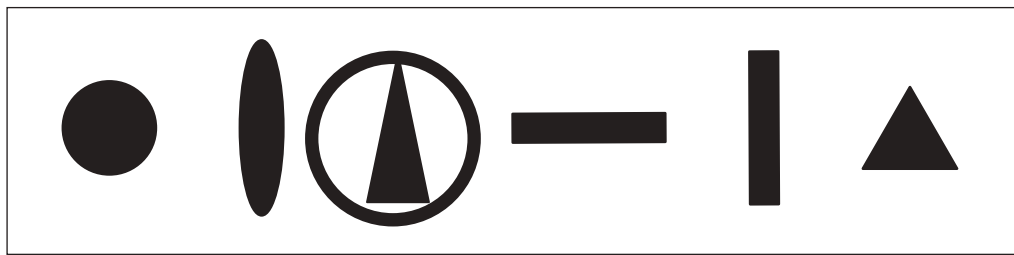



おうちで、やろう。

Study at home. 小学校受験の家庭学習教材

図形：重なり⑳

左の太い四角の中は右の四角の中の形のうち5つを重ねて作ったものです。右の形の中で使っていないものを見つけて○をつけます。



※1. このプリントは、しながわ・目黒こどもスクールのウェブサイトからダウンロードできます。無断複写・引用はご遠慮ください。
※2. このプリントを活用したオンライン授業のスケジュールは、しながわ・目黒こどもスクールのウェブサイトでご確認ください。



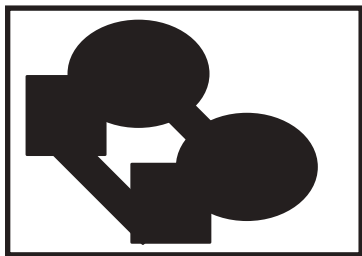


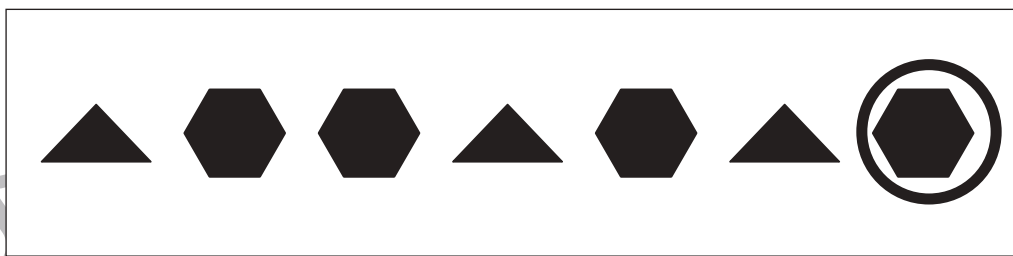






おうちで、やろう。

Study at home. 小学校受験の家庭学習教材

図形：重なり②

左の太い四角の中は右の四角の中の形のうち6つを重ねて作ったものです。右の形の中で使っていないものを見つけて○をつけます。同じ形がいくつかあるので、答えはどこにつけてもよいです。



※1. このプリントは、しながわ・目黒こどもスクールのウェブサイトからダウンロードできます。無断複写・引用はご遠慮ください。

※2. このプリントを活用したオンライン授業のスケジュールは、しながわ・目黒こどもスクールのウェブサイトでご確認ください。

