



おうちで、やろう。

Study at home. 小学校受験の家庭学習教材

指示の聞き取り①

それぞれの設問に答えましょう。指示は1度ですべて読み上げます。しっかり聞いて取り組みましょう。

①鉛筆で左から右へ向かって○、△、□の順番で3回かきます。枠の中に入るように大きさにも注意しましょう。

②鉛筆で左から右へ向かって○、○、◎の順番で3回かきます。枠の中に入るように大きさにも注意しましょう。

③鉛筆で左から右へ向かって○、△、○の順番で3回かきます。枠の中に入るように大きさにも注意しましょう。

①

②

③



おうちで、やろう。

Study at home. 小学校受験の家庭学習教材

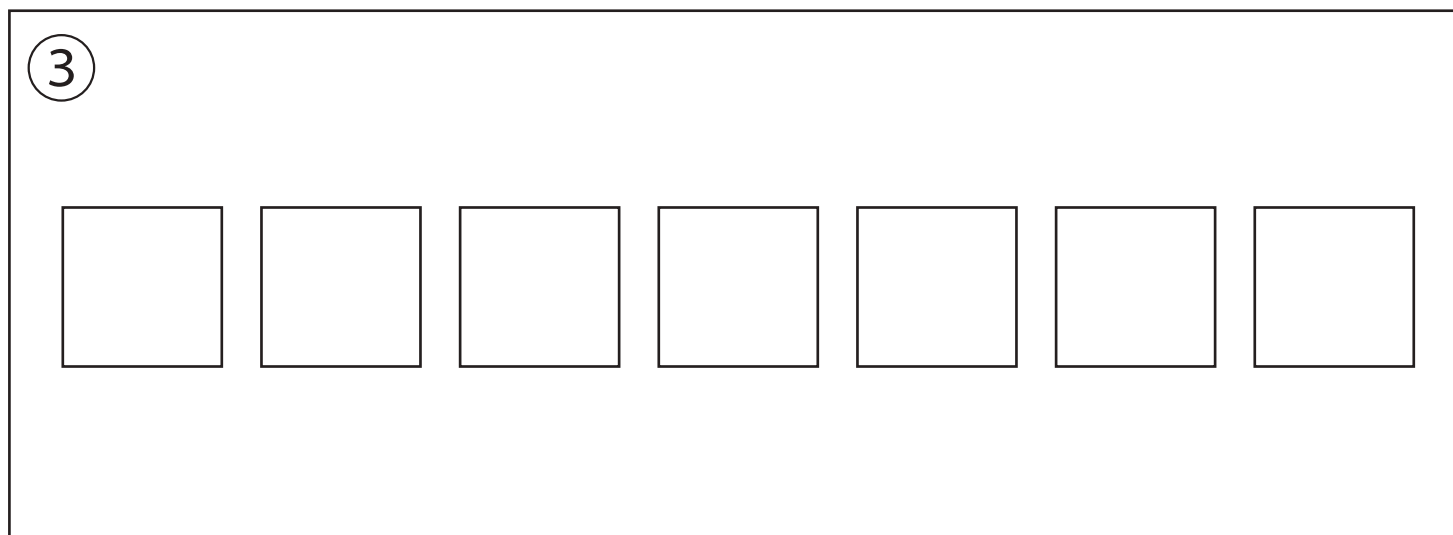
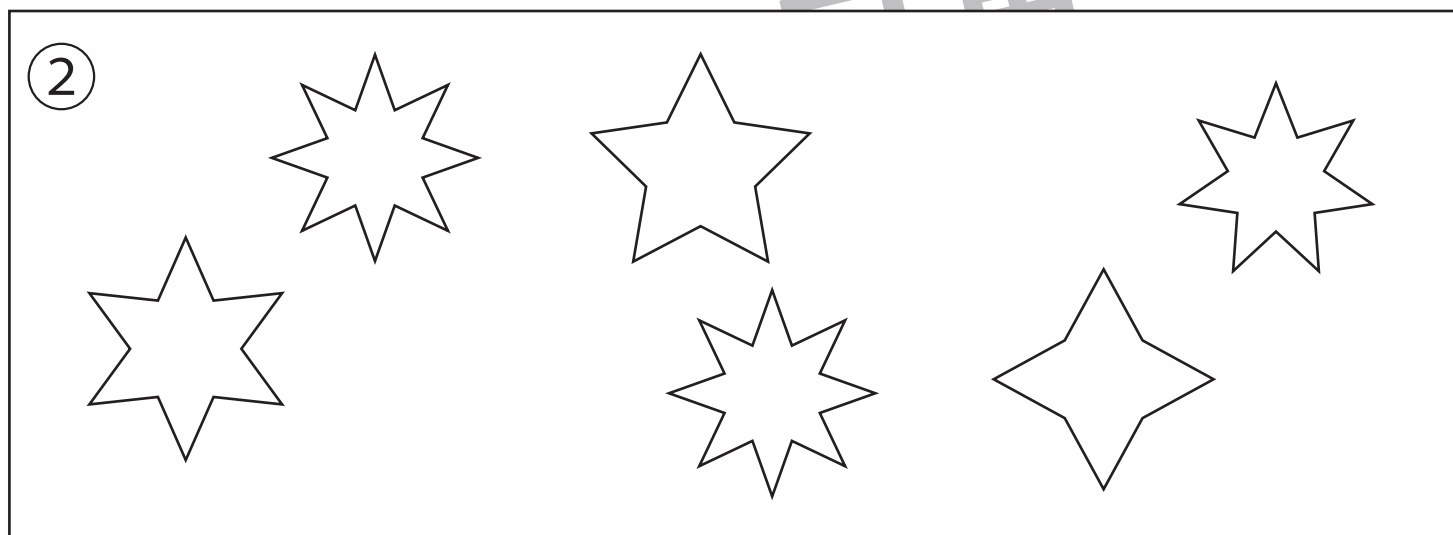
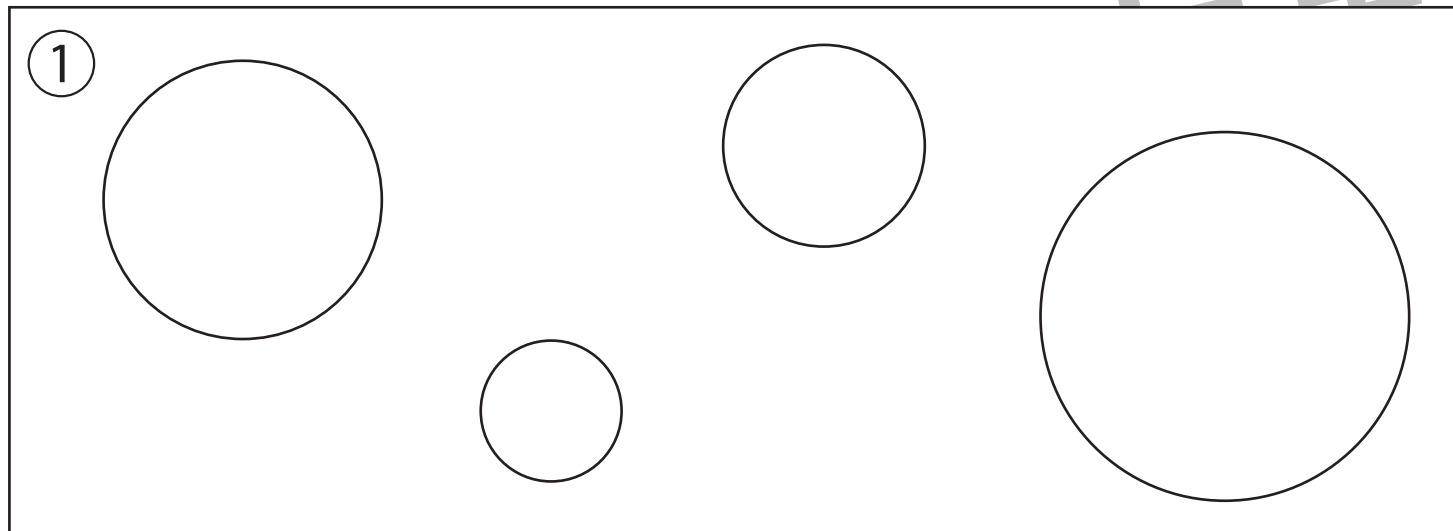
指示の聞き取り⑳

それぞれの設問に答えましょう。指示は1度ですべて読み上げます。しっかり聞いて取り組みましょう。

①2番目に大きい○を緑で、2番に小さい○を黄色で塗ります。その他の○の中には黒で×をかきます。

②角の数が同じ形を青で塗り、角の数が一番少ない形は赤で塗ります。

③右から1番目、3番目、5番目の四角を茶色で、左から2番目を黄色で塗ります。



※1. このプリントは、しながわ・目黒こどもスクールのウェブサイトからダウンロードできます。無断複写・引用はご遠慮ください。

※2. このプリントを活用したオンライン授業のスケジュールは、しながわ・目黒こどもスクールのウェブサイトでご確認ください。



おうちで、やろう。

Study at home. 小学校受験の家庭学習教材

指示の聞き取り②①

それぞれの設問に答えましょう。指示は1度ですべて読み上げます。しっかり聞いて取り組みましょう。

①青のクーピーで横に並べて同じ大きさの口を7つ描き、左端と右端の四角を塗り、真ん中の四角の中に○をかきます。

②黒のクーピーで横に並べて○を5つかきます。このとき、左から○の大きさがだんだん大きくなるようにします。

③緑のクーピーで枠の左、真ん中、右に同じ大きさの○をかきます。○と○の間に×をかきます。

①

②

③





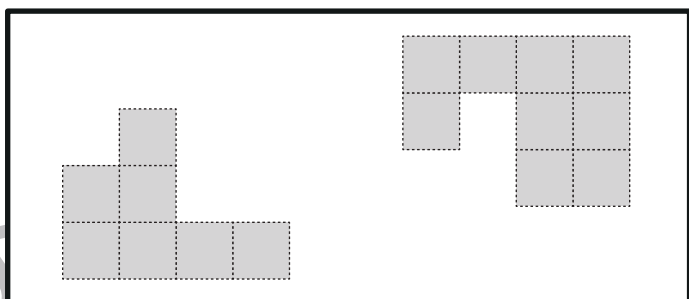
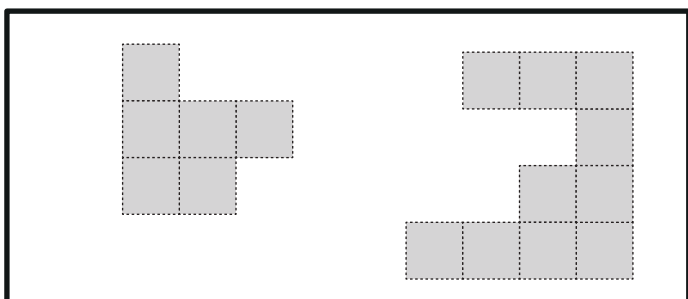

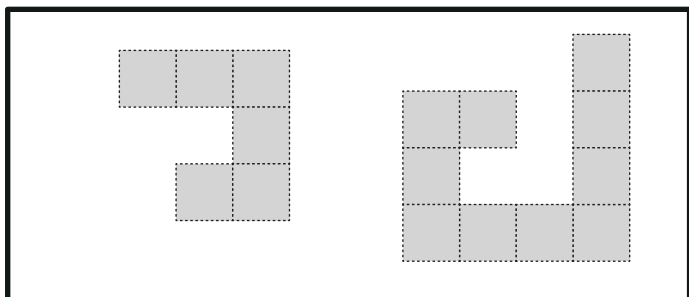
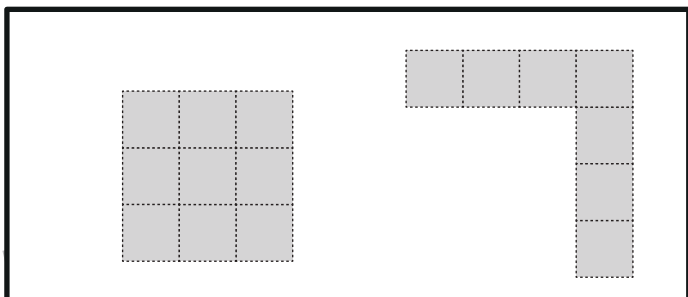

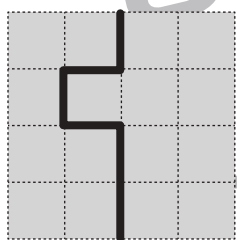
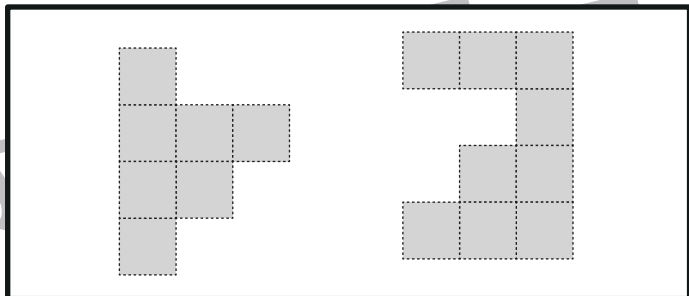
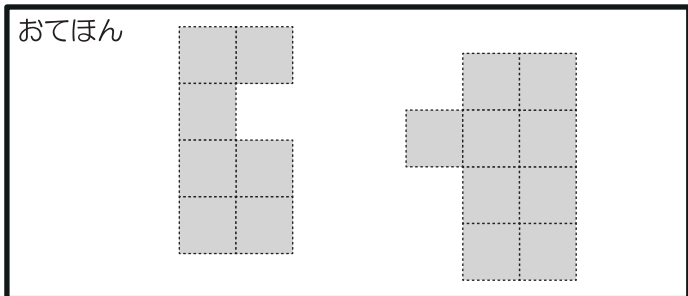
おうちで、やろう。

Study at home. 小学校受験の家庭学習教材

図形：構成③⑦

太枠の中のパズルピースは、下のマスのどこかにハサミを入れて分けたものです。パズルピースは分けたときに向きを変えたり、回転をしていたりすることはありません。どこにハサミを入れたのかを考えて、その場所に線を引きましょう。

おてほん



※1. このプリントは、しながわ・目黒こどもスクールのウェブサイトでダウンロードができます。無断複写・引用はご遠慮ください。
※2. このプリントを活用したオンライン授業のスケジュールは、しながわ・目黒こどもスクールのウェブサイトでご確認ください。



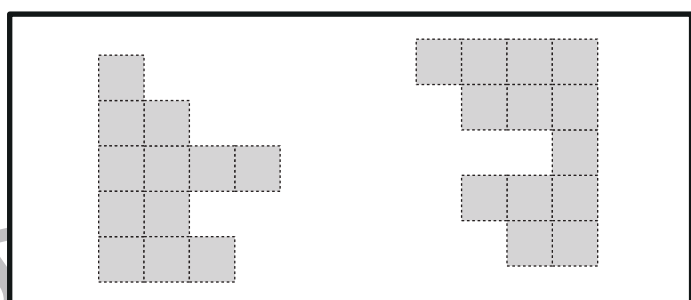
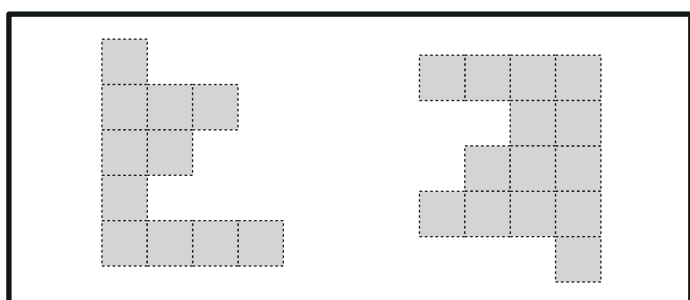


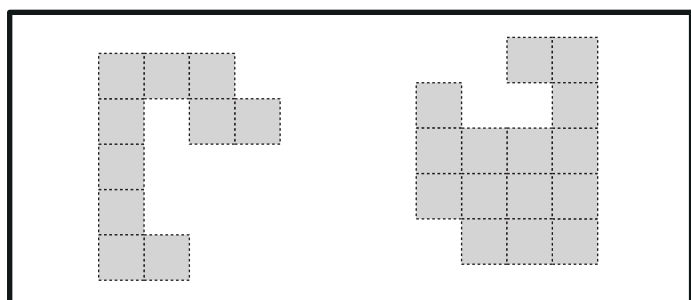
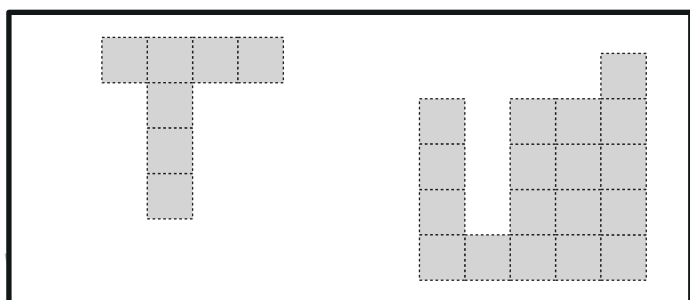

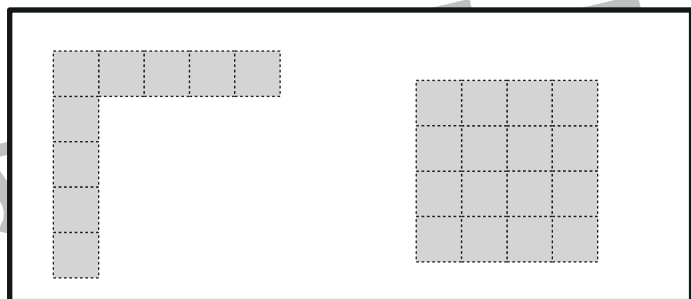
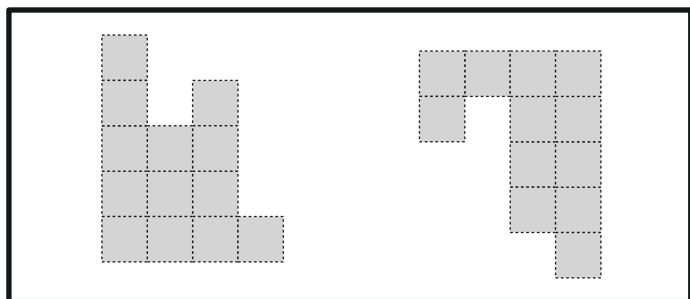


おうちで、やろう。

Study at home. 小学校受験の家庭学習教材

図形：構成③⑧

太枠の中のパズルピースは、下のマスのどこかにハサミを入れて分けたものです。パズルピースは分けたときに向きを変えたり、回転をしていたりすることはありません。どこにハサミを入れたのかを考えて、その場所に線を引きましょう。



※1. このプリントは、しながわ・目黒こどもスクールのウェブサイトでダウンロードができます。無断複写・引用はご遠慮ください。
※2. このプリントを活用したオンライン授業のスケジュールは、しながわ・目黒こどもスクールのウェブサイトでご確認ください。



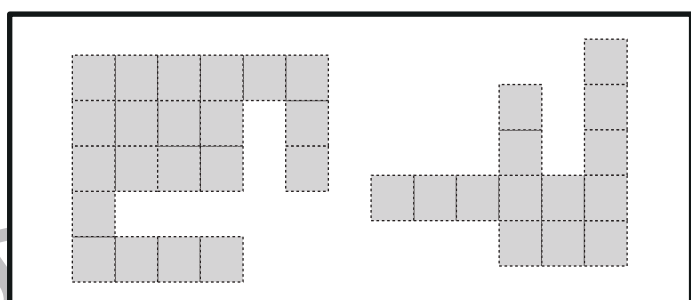
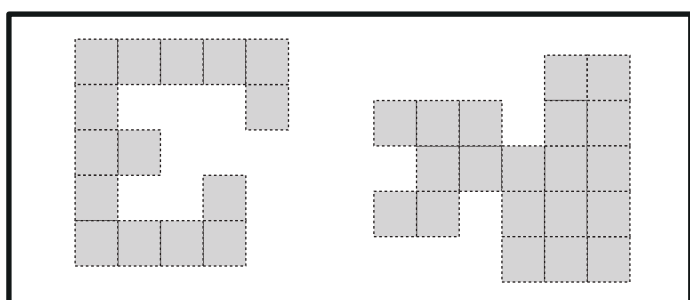


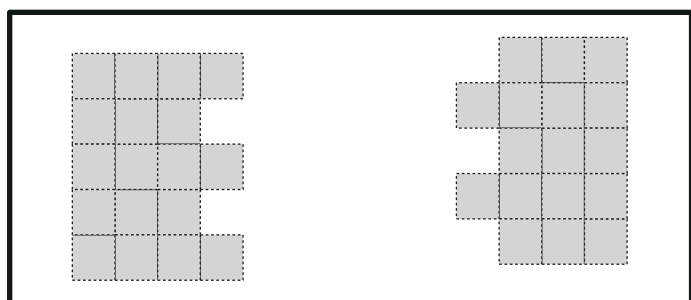
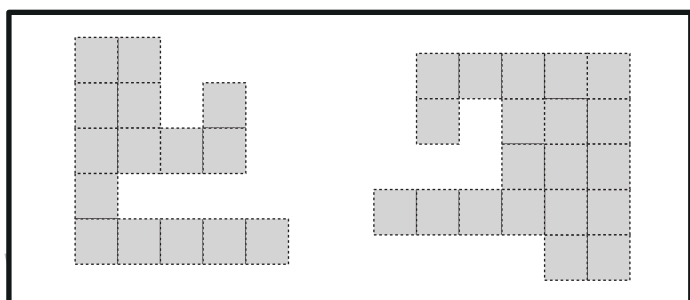


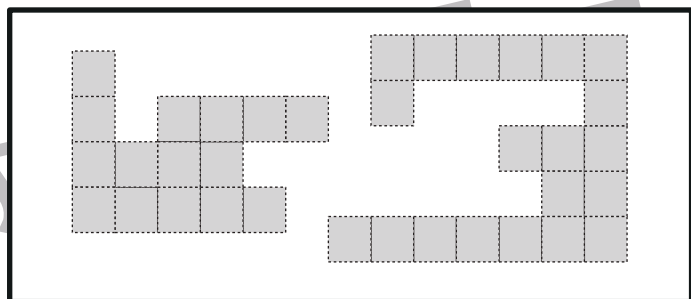
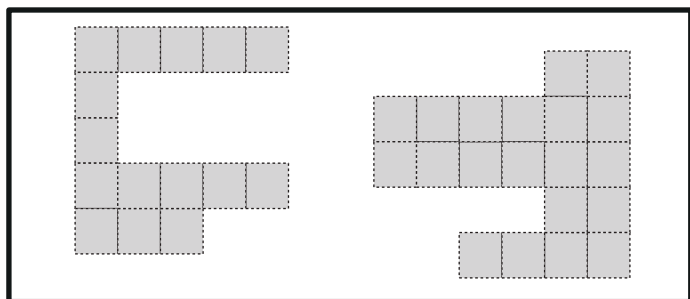


おうちで、やろう。

Study at home. 小学校受験の家庭学習教材

図形：構成③⑨

太枠の中のパズルピースは、下のマスどこかにハサミを入れて分けたものです。パズルピースは分けたときに向きを変えたり、回転をしていたりすることはありません。どこにハサミを入れたのかを考えて、その場所に線を引きましょう。



※1. このプリントは、しながわ・目黒こどもスクールのウェブサイトでダウンロードができます。無断複写・引用はご遠慮ください。
※2. このプリントを活用したオンライン授業のスケジュールは、しながわ・目黒こどもスクールのウェブサイトでご確認ください。



おうちで、やろう。

Study at home. 小学校受験の家庭学習教材

推理：積み木⑮

上の四角の中の積み木は白い積み木と黒い積み木で作った形です。隠れて見えない積み木はすべて黒い積み木です。この時、白い積み木と黒い積み木の数はいくつ違いますか。違う数だけ下の四角の中に○をかきます。

※1. このプリントは、しながわ・目黒こどもスクールのウェブサイトでダウンロードができます。無断複写・引用はご遠慮ください。
 ※2. このプリントを活用したオンライン授業のスケジュールは、しながわ・目黒こどもスクールのウェブサイトでご確認ください。

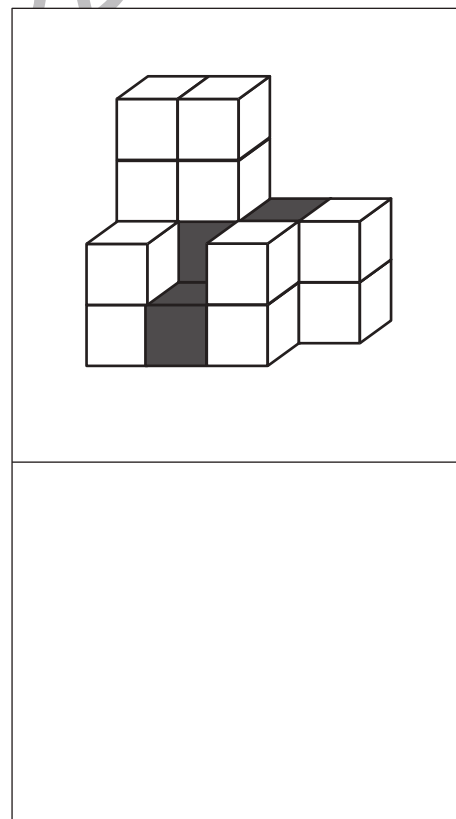
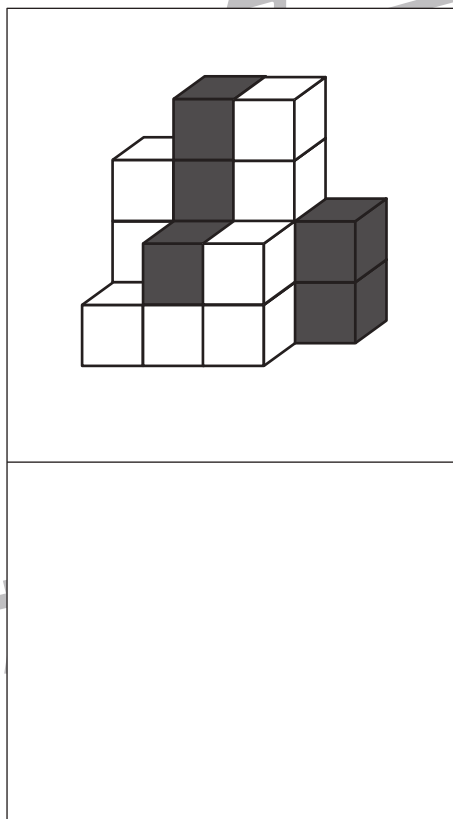
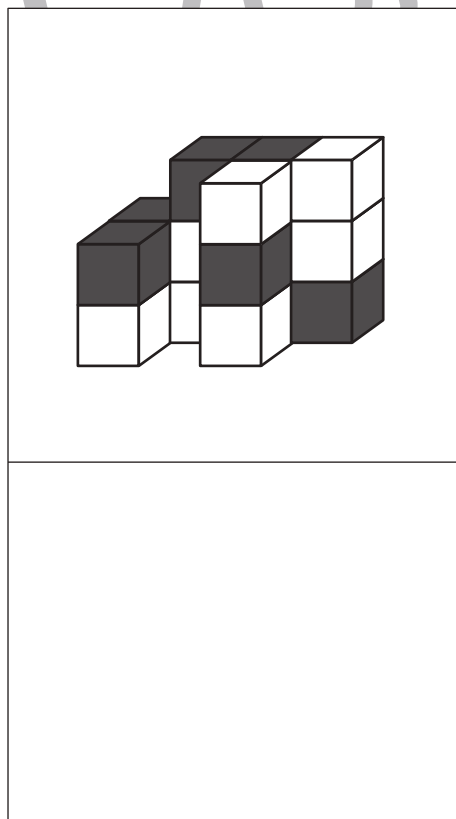
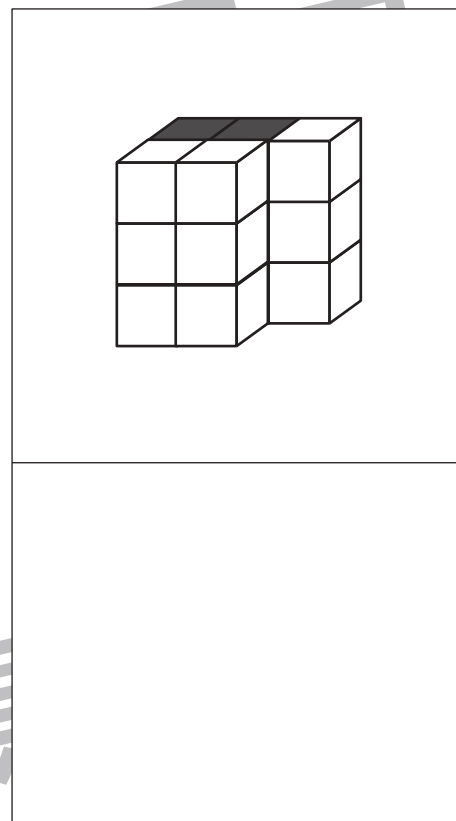
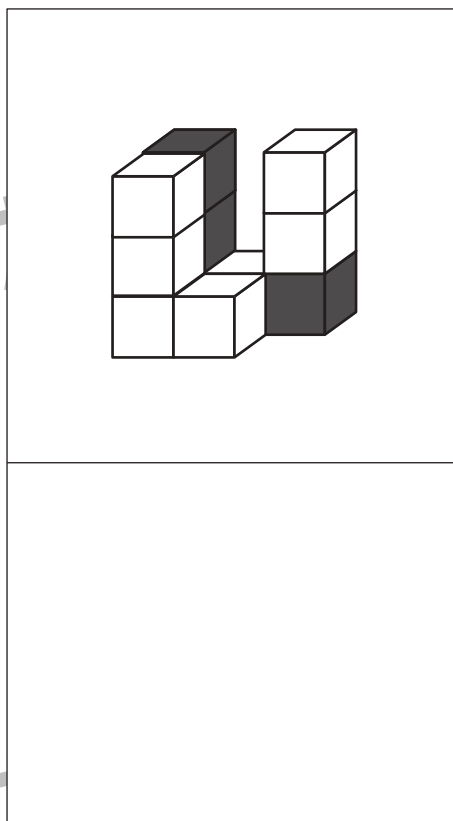
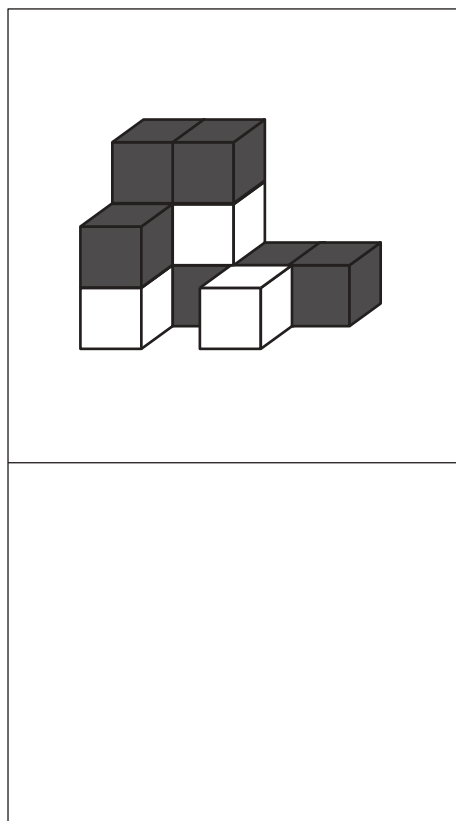


おうちで、やろう。

Study at home. 小学校受験の家庭学習教材

推理：積み木⑬

上の四角の中の積み木は白い積み木と黒い積み木で作った形です。隠れて見えない積み木はすべて黒い積み木です。この時、白い積み木と黒い積み木の数はいくつ違いますか。違う数だけ下の四角の中に○をかきます。



※1. このプリントは、しながわ・目黒こどもスクールのウェブサイトでダウンロードができます。無断複写・引用はご遠慮ください。
 ※2. このプリントを活用したオンライン授業のスケジュールは、しながわ・目黒こどもスクールのウェブサイトでご確認ください。

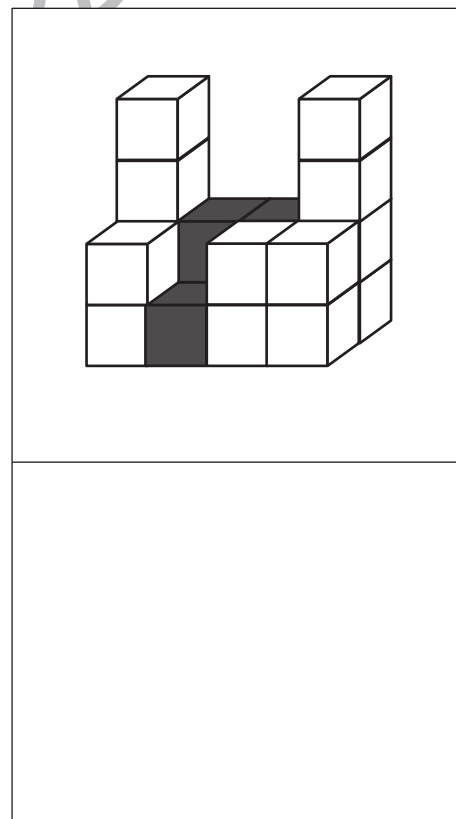
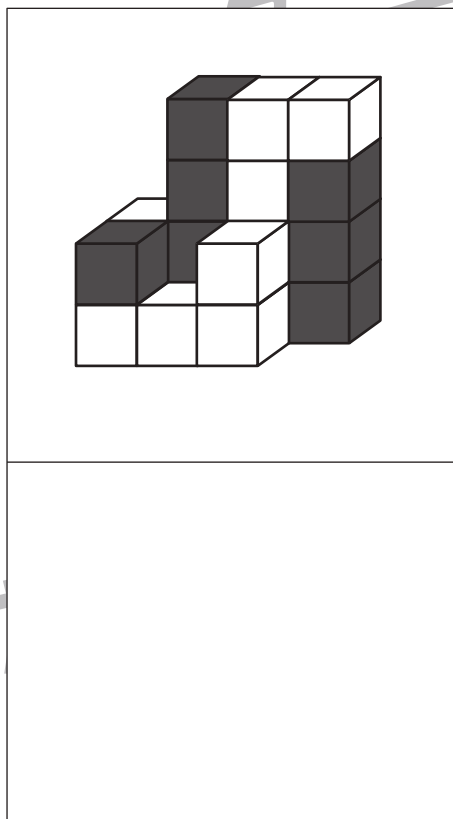
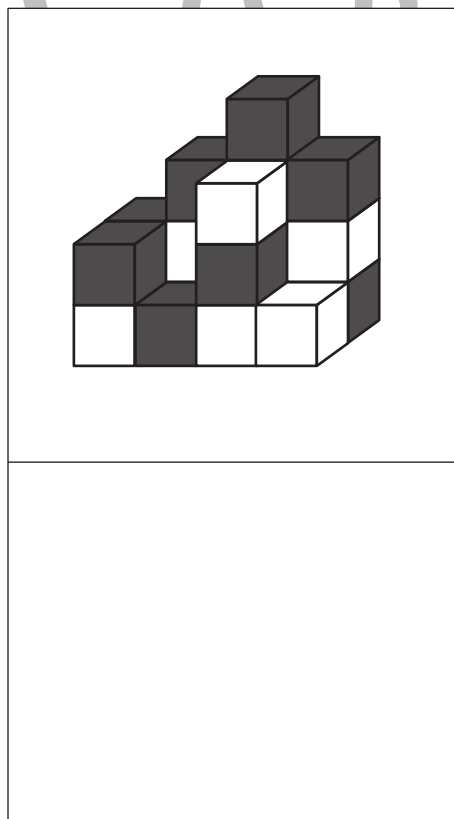
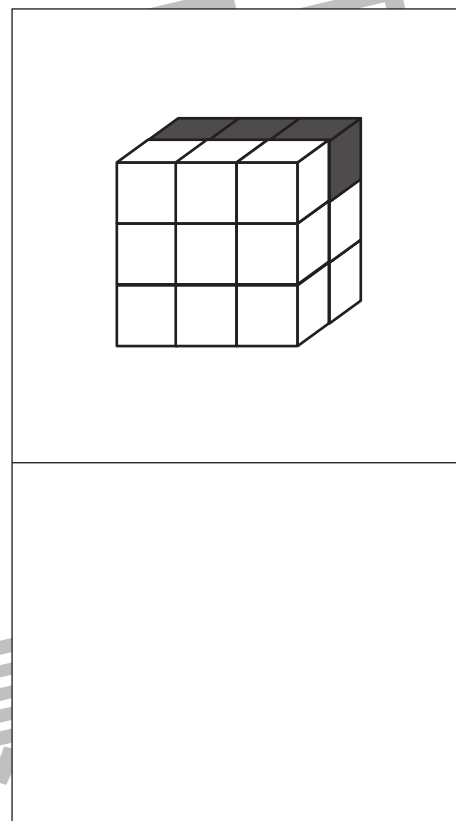
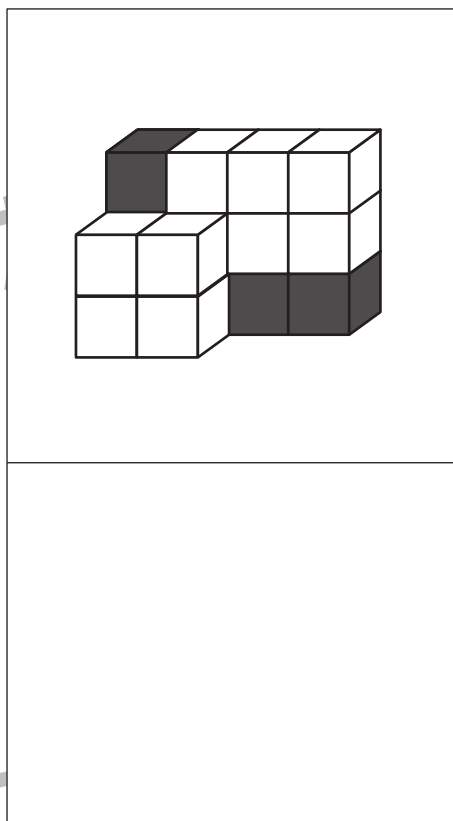
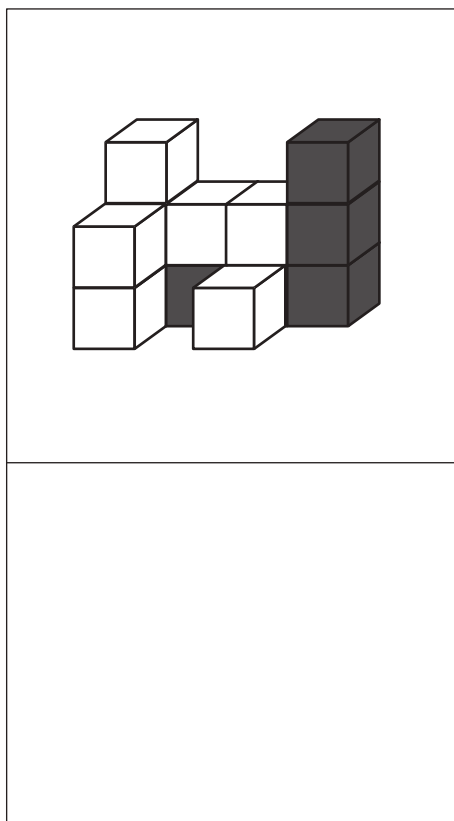


おうちで、やろう。

Study at home. 小学校受験の家庭学習教材

推理：積み木⑬

上の四角の中の積み木は白い積み木と黒い積み木で作った形です。隠れて見えない積み木はすべて黒い積み木です。この時、白い積み木と黒い積み木の数はいくつ違いますか。違う数だけ下の四角の中に○をかきます。



※1. このプリントは、しながわ・目黒こどもスクールのウェブサイトでダウンロードができます。無断複写・引用はご遠慮ください。
 ※2. このプリントを活用したオンライン授業のスケジュールは、しながわ・目黒こどもスクールのウェブサイトでご確認ください。