

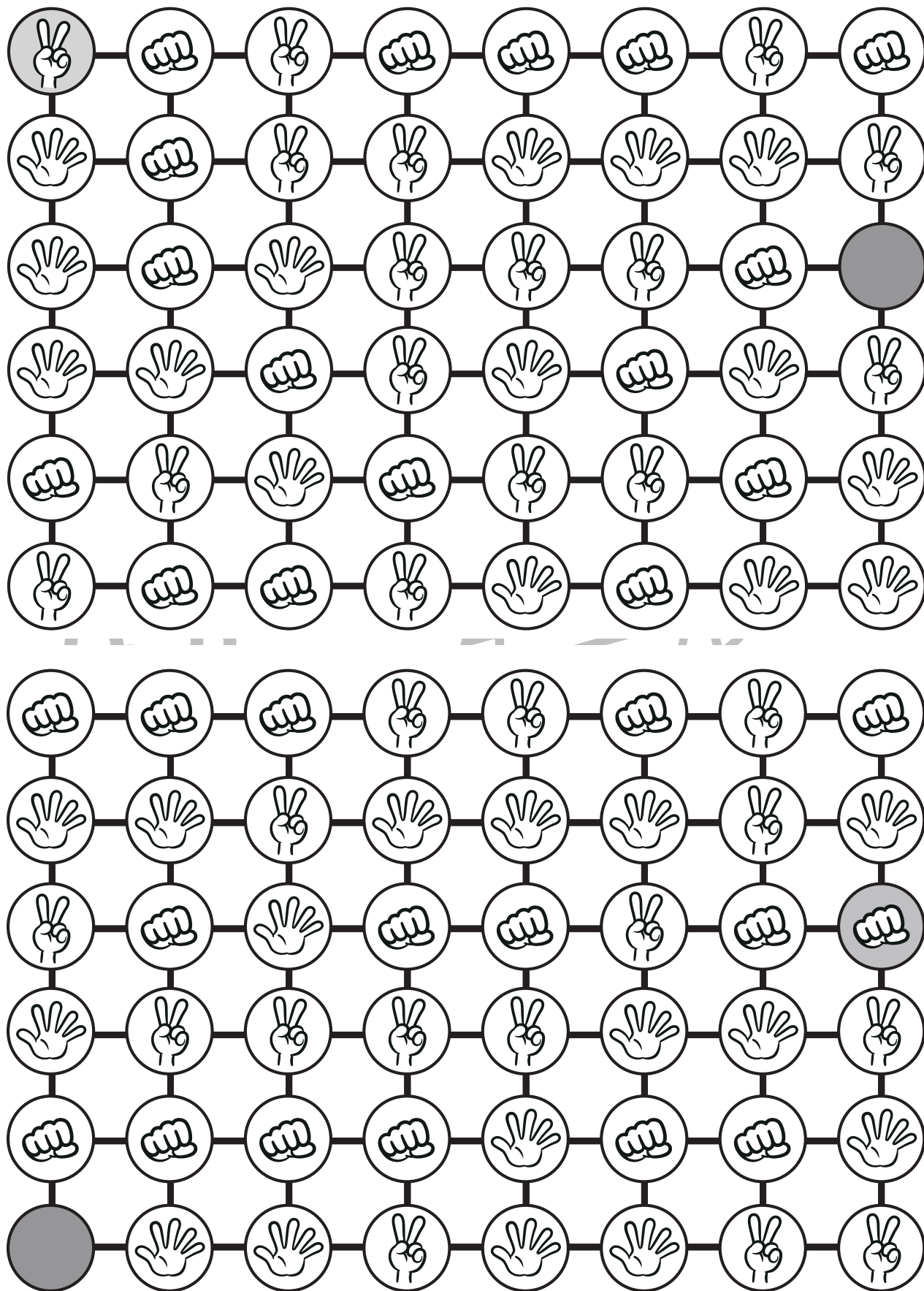


# おうちで、やろう。

Study at home. 小学校受験の家庭学習教材

## 推理：じゃんけん⑰

灰色の丸からじゃんけんで進んでいくゲームです。灰色の丸から丸の中にある手が勝つものを選んでいくと、最後は手がない灰色のマスにつきます。どんな道を通るのか考えて線を引きます。



※1. このプリントは、しながわ・目黒こどもスクールのウェブサイトからダウンロードできます。無断複写・引用はご遠慮ください。

※2. このプリントを活用したオンライン授業のスケジュールは、しながわ・目黒こどもスクールのウェブサイトでご確認ください。

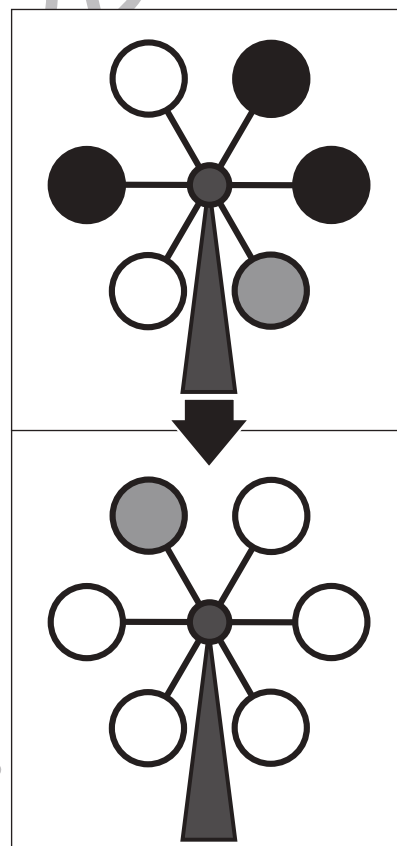
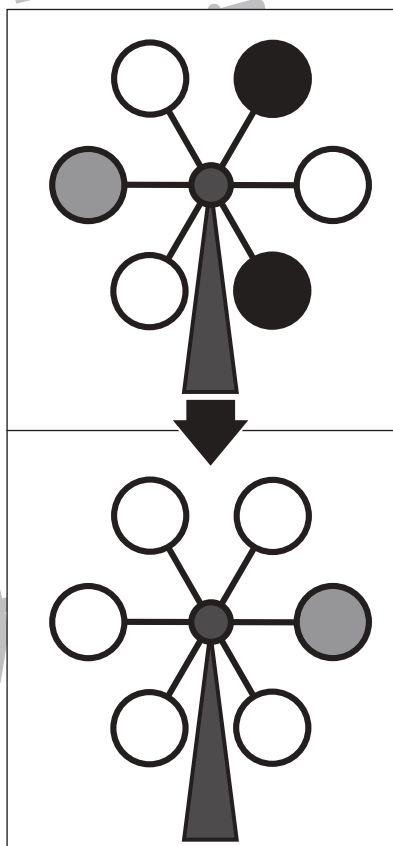
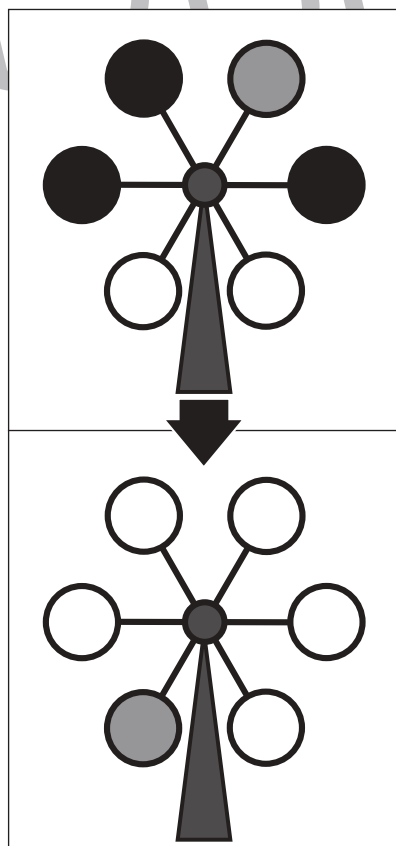
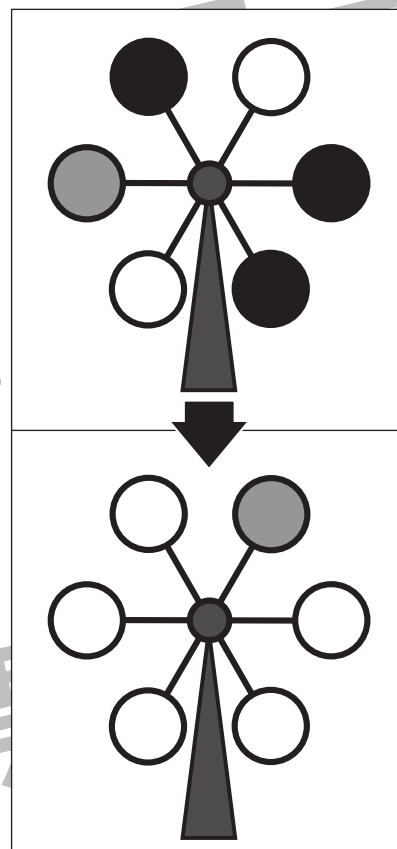
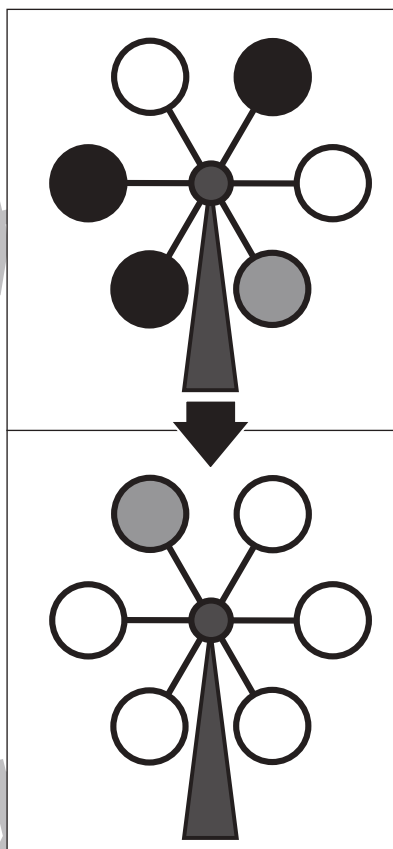
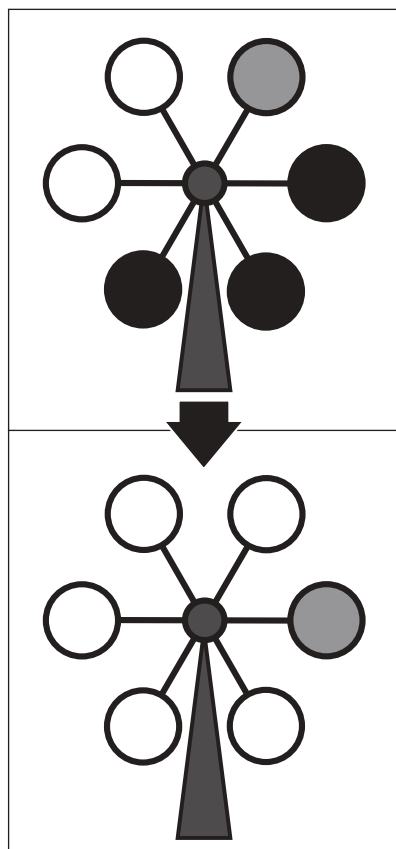


# おうちで、やろう。

Study at home. 小学校受験の家庭学習教材

## 推理：回転⑬

上の観覧車が矢印の下のように回ったとき、灰色の場所はわかりますが、黒丸の場所がわかりません。  
黒丸の場所を考えて塗ります。



※1. このプリントは、しながわ・目黒こどもスクールのウェブサイトでダウンロードができます。無断複写・引用はご遠慮ください。  
 ※2. このプリントを活用したオンライン授業のスケジュールは、しながわ・目黒こどもスクールのウェブサイトでご確認ください。

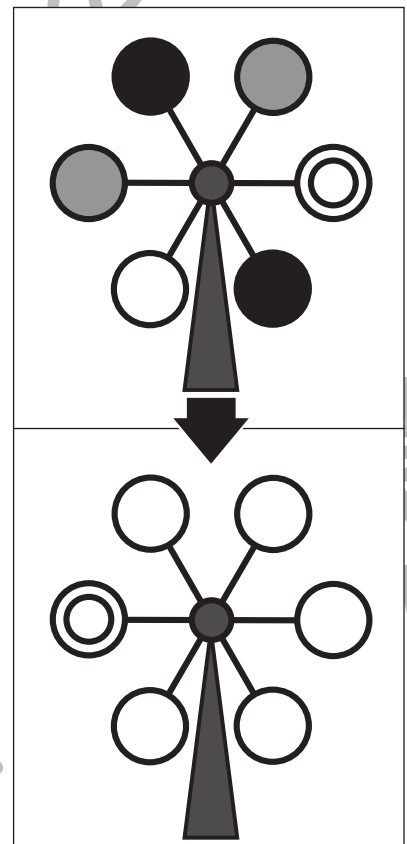
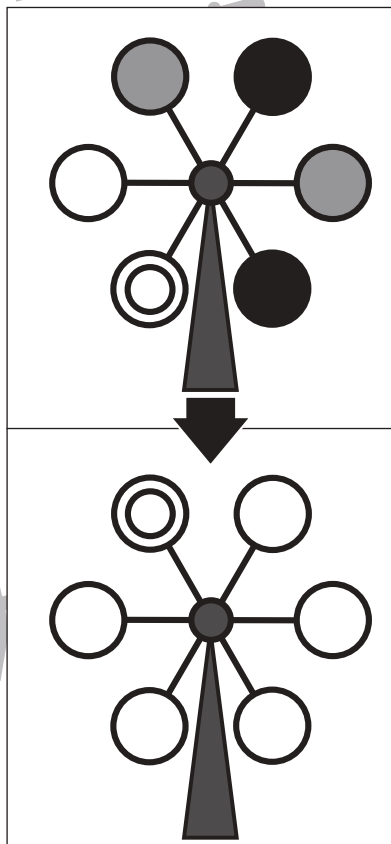
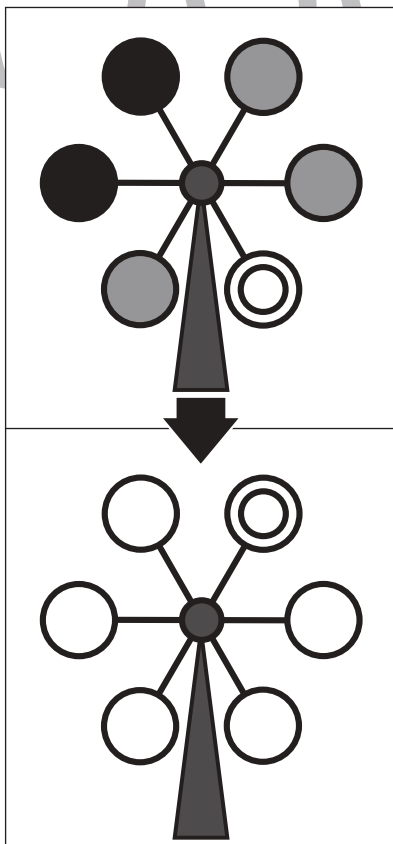
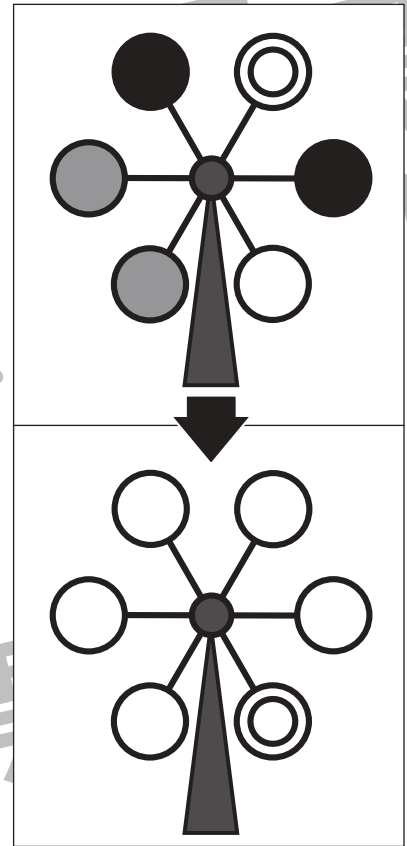
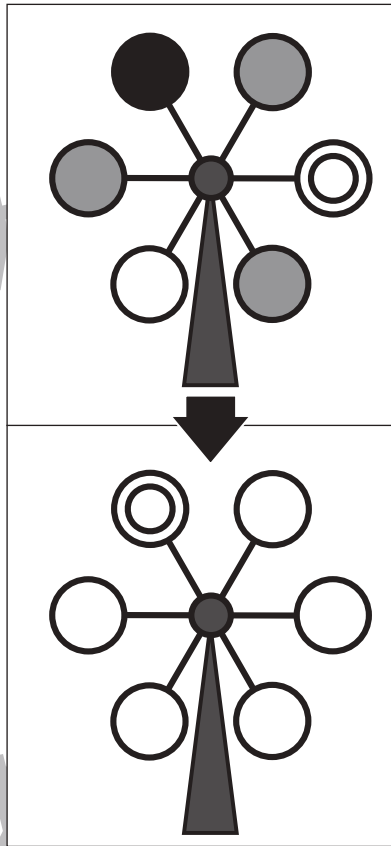
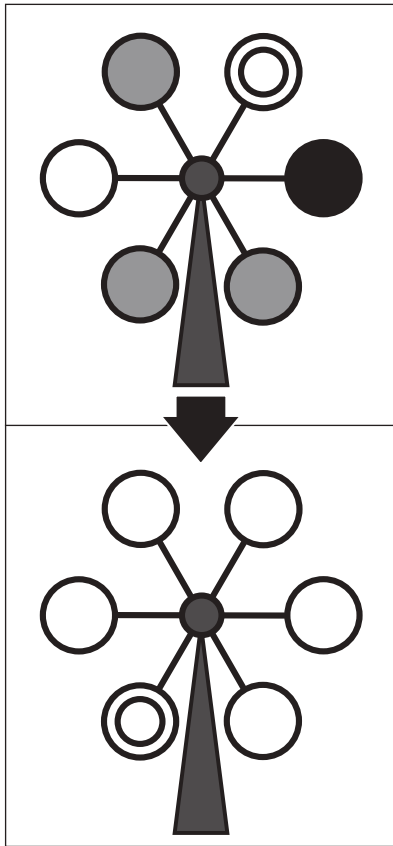


# おうちで、やろう。

Study at home. 小学校受験の家庭学習教材

## 推理：回転⑭

上の観覧車が矢印の下のように回ったとき、◎の場所はわかりますが、他の丸の場所がわかりません。灰色の丸の場所を考えてその場所を塗ります。



※1. このプリントは、しながわ・目黒こどもスクールのウェブサイトでダウンロードができます。無断複写・引用はご遠慮ください。  
 ※2. このプリントを活用したオンライン授業のスケジュールは、しながわ・目黒こどもスクールのウェブサイトでご確認ください。

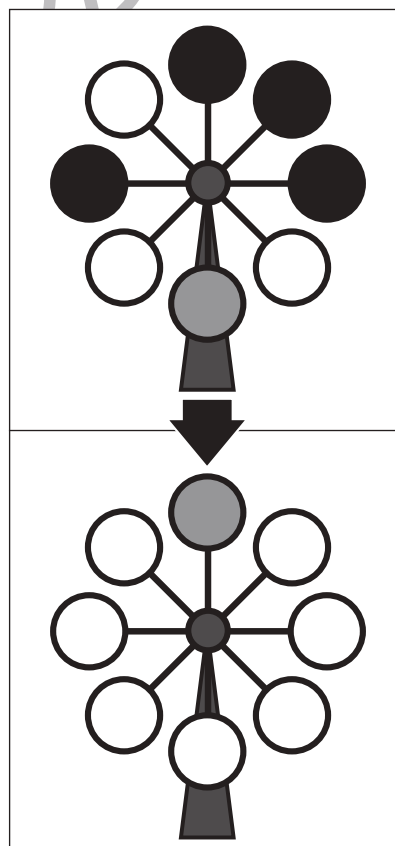
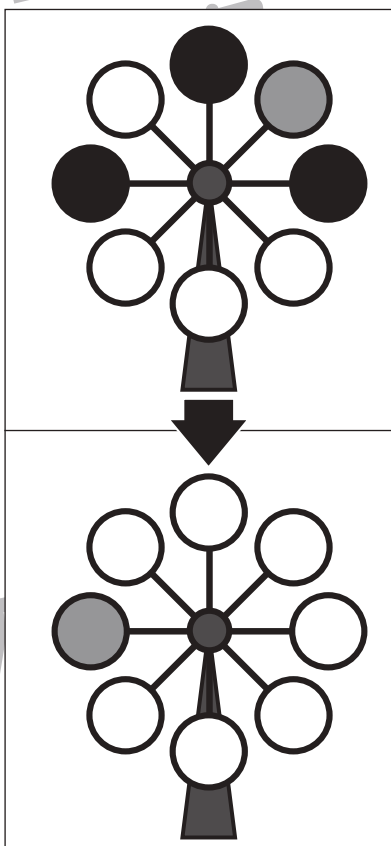
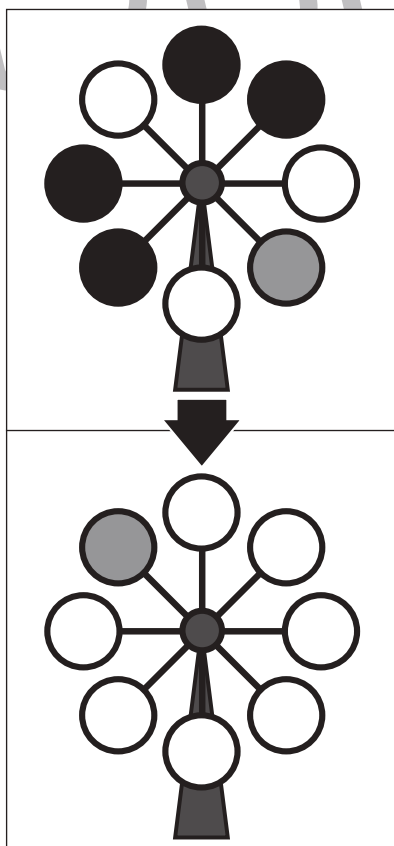
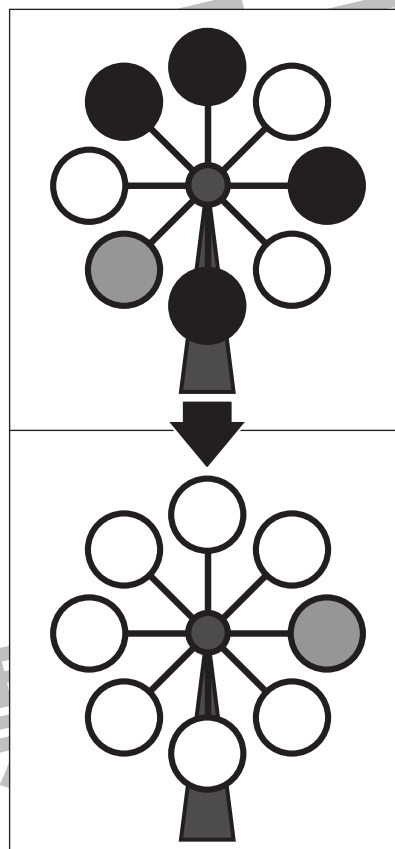
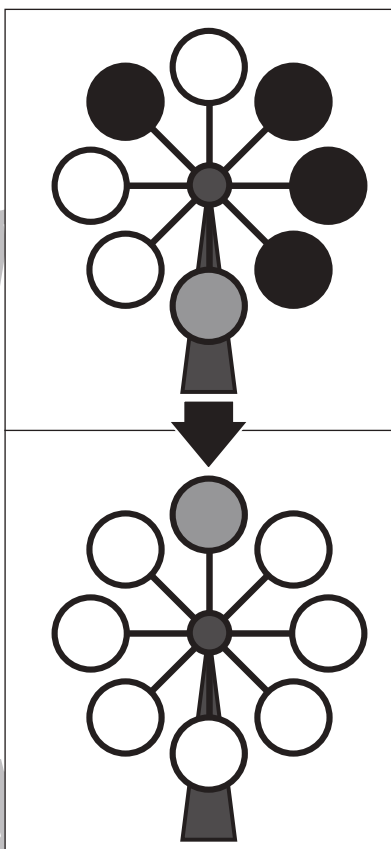
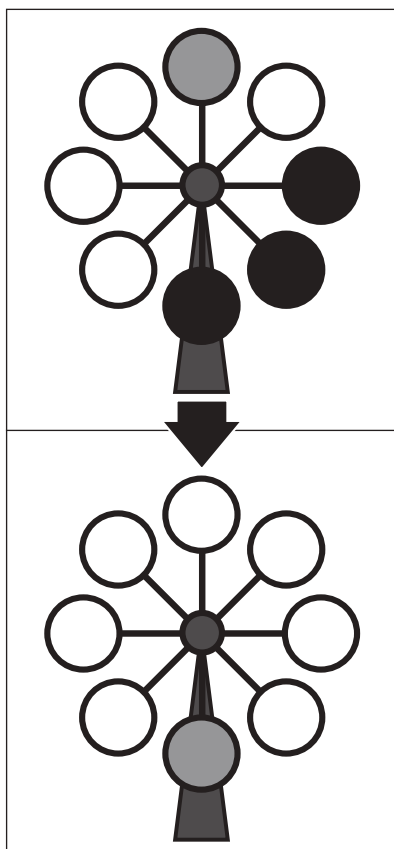


# おうちで、やろう。

Study at home. 小学校受験の家庭学習教材

## 推理：回転⑮

上の観覧車が矢印の下のように回ったとき、灰色の場所はわかりますが、黒丸の場所がわかりません。  
黒丸の場所を考えて塗ります。



※1. このプリントは、しながわ・目黒こどもスクールのウェブサイトでダウンロードができます。無断複写・引用はご遠慮ください。  
 ※2. このプリントを活用したオンライン授業のスケジュールは、しながわ・目黒こどもスクールのウェブサイトでご確認ください。

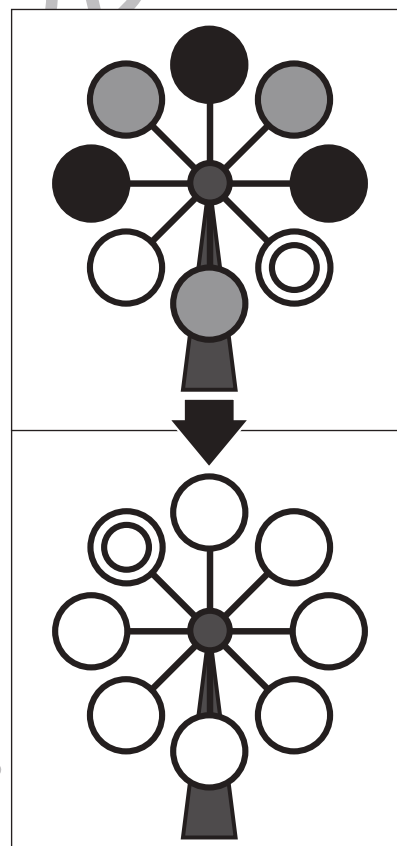
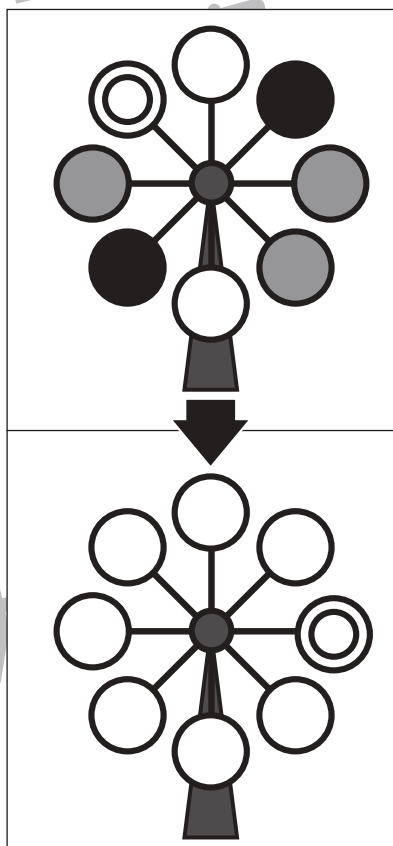
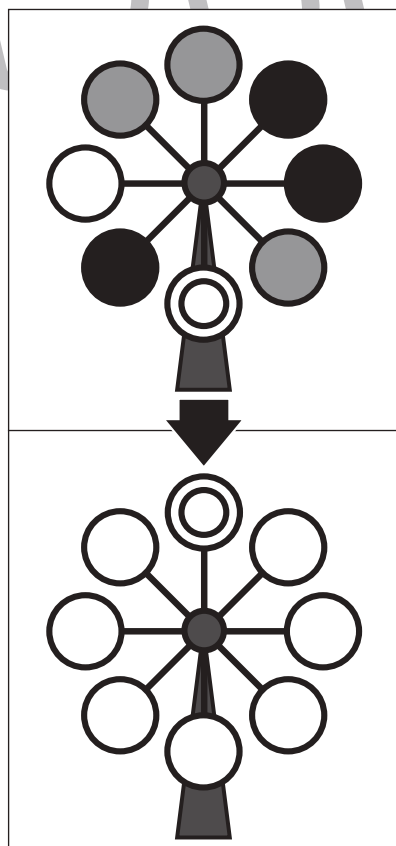
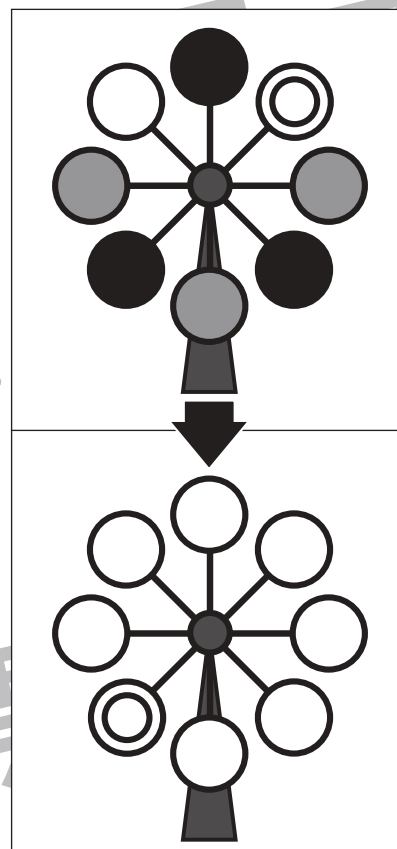
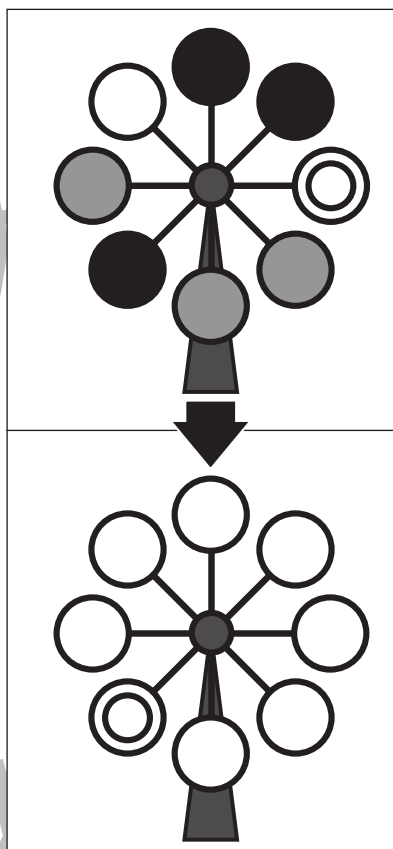
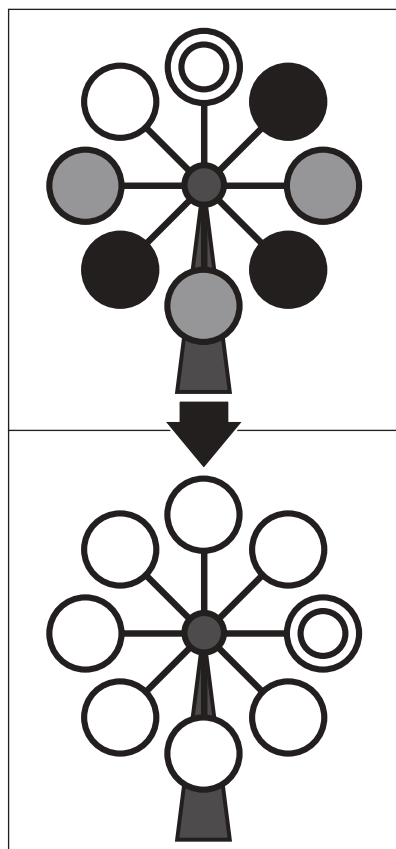


# おうちで、やろう。

Study at home. 小学校受験の家庭学習教材

## 推理：回転⑩

上の観覧車が矢印の下のように回ったとき、◎の場所はわかりますが、他の丸の場所がわかりません。灰色の丸の場所を考えてその場所を塗ります。



※1. このプリントは、しながわ・目黒こどもスクールのウェブサイトでダウンロードができます。無断複写・引用はご遠慮ください。  
 ※2. このプリントを活用したオンライン授業のスケジュールは、しながわ・目黒こどもスクールのウェブサイトでご確認ください。






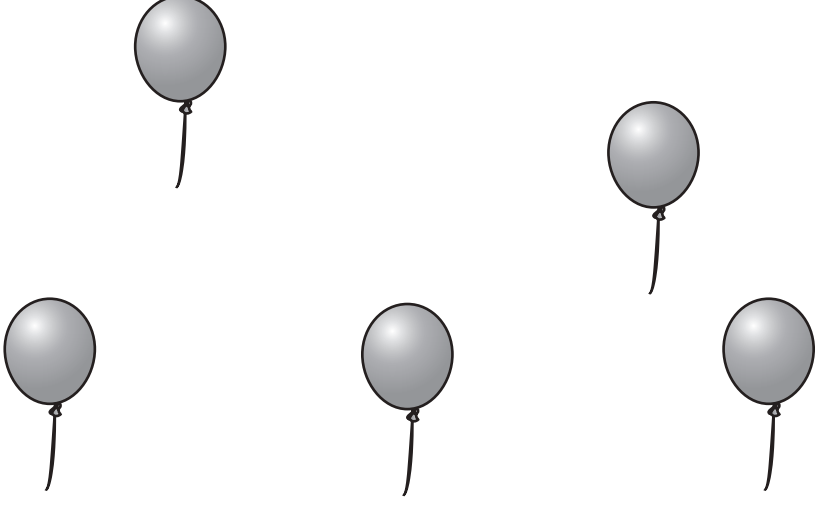


# おうちで、やろう。

Study at home. 小学校受験の家庭学習教材

推理：弓矢①

四角の中の風船を矢を放って割ります。左の太い四角の矢印の数だけその向きに矢を放つとすべての風船を割ることができます。矢の進む道を考えて線を描きます。

※1. このプリントは、しながわ・目黒こどもスクールのウェブサイトでダウンロードができます。無断複写・引用はご遠慮ください。

※2. このプリントを活用したオンライン授業のスケジュールは、しながわ・目黒こどもスクールのウェブサイトでご確認ください。



# おうちで、やろう。

Study at home. 小学校受験の家庭学習教材

推理：弓矢②

四角の中の風船を矢を放って割ります。左の太い四角の矢印の数だけその向きに矢を放つとすべての風船を割ることができます。矢の進む道を考えて線を描きます。


※1. このプリントは、しながわ・目黒こどもスクールのウェブサイトでダウンロードができます。無断複写・引用はご遠慮ください。

※2. このプリントを活用したオンライン授業のスケジュールは、しながわ・目黒こどもスクールのウェブサイトでご確認ください。

























# おうちで、やろう。

Study at home. 小学校受験の家庭学習教材

推理：弓矢③

四角の中の風船を矢を放って割ります。左の太い四角の矢印の数だけその向きに矢を放つとすべての風船を割ることができます。矢の進む道を考えて線を描きます。

→			
↘			
↙			
→			

↘			
↙			
↓			
↓			

※1. このプリントは、しながわ・目黒こどもスクールのウェブサイトでダウンロードができます。無断複写・引用はご遠慮ください。

※2. このプリントを活用したオンライン授業のスケジュールは、しながわ・目黒こどもスクールのウェブサイトでご確認ください。



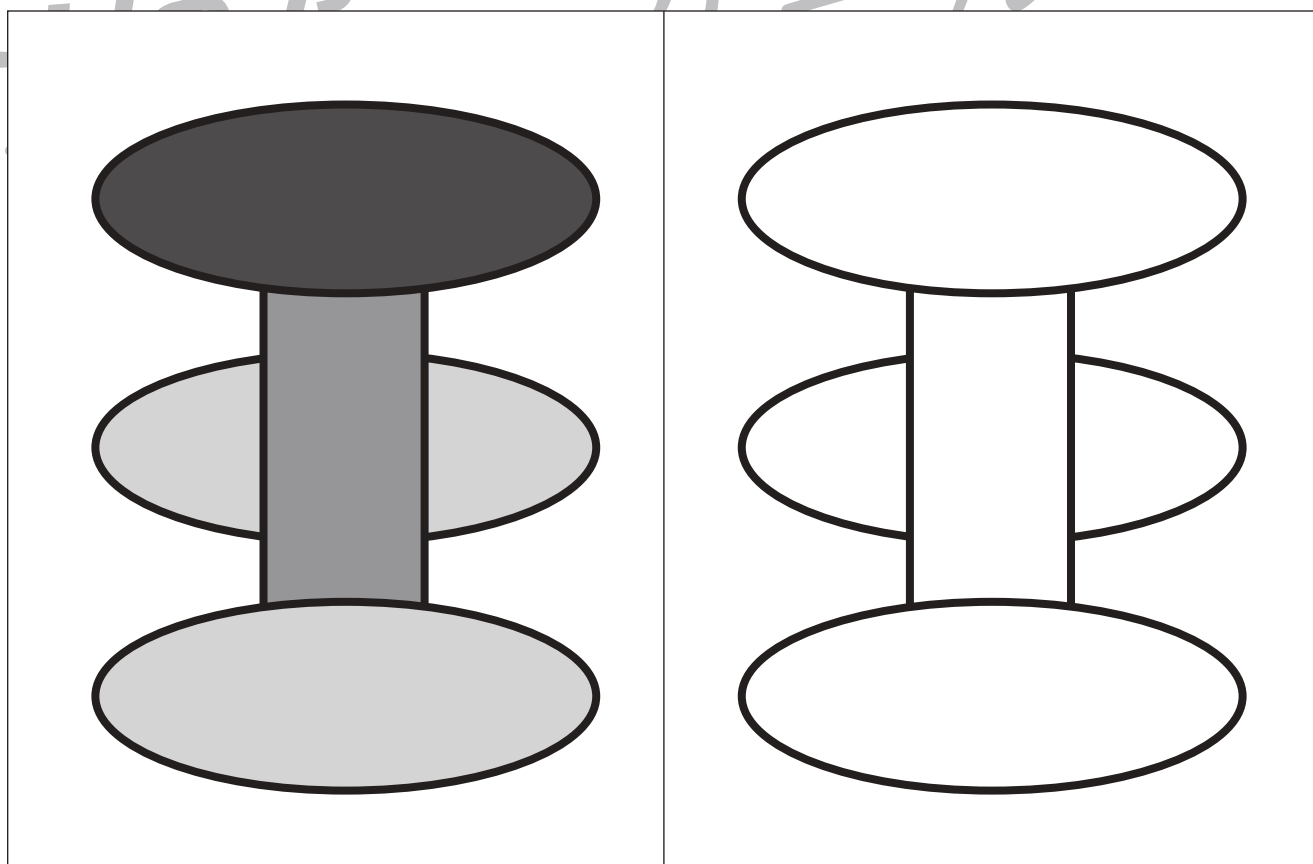
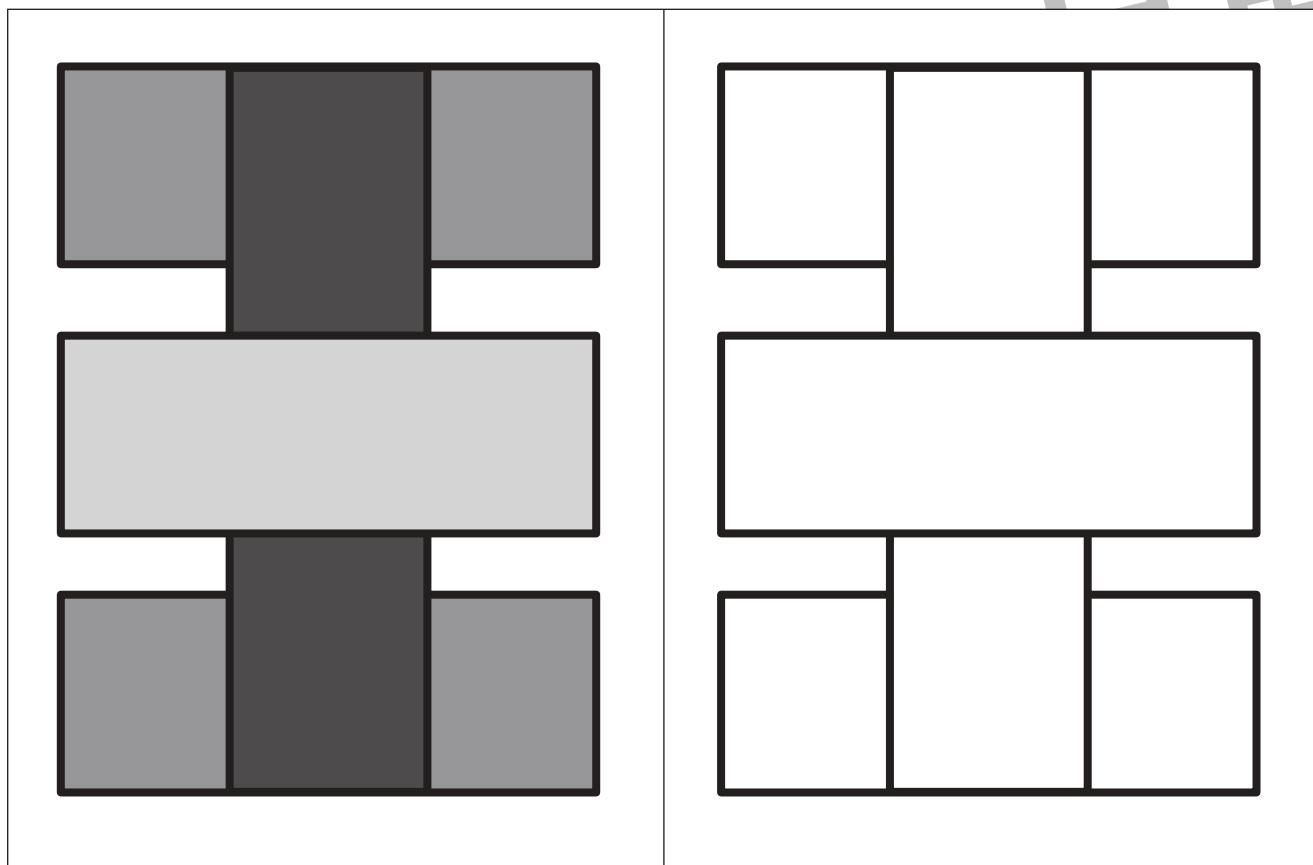


# おうちで、やろう。

Study at home. 小学校受験の家庭学習教材

運筆：濃淡⑤

左のお手本と同じ濃さになるように右の形を塗ります。この問題は鉛筆でやりましょう。  
※この問題に解答はありません。



※1. このプリントは、しながわ・目黒こどもスクールのウェブサイトからダウンロードできます。無断複写・引用はご遠慮ください。  
※2. このプリントを活用したオンライン授業のスケジュールは、しながわ・目黒こどもスクールのウェブサイトでご確認ください。