

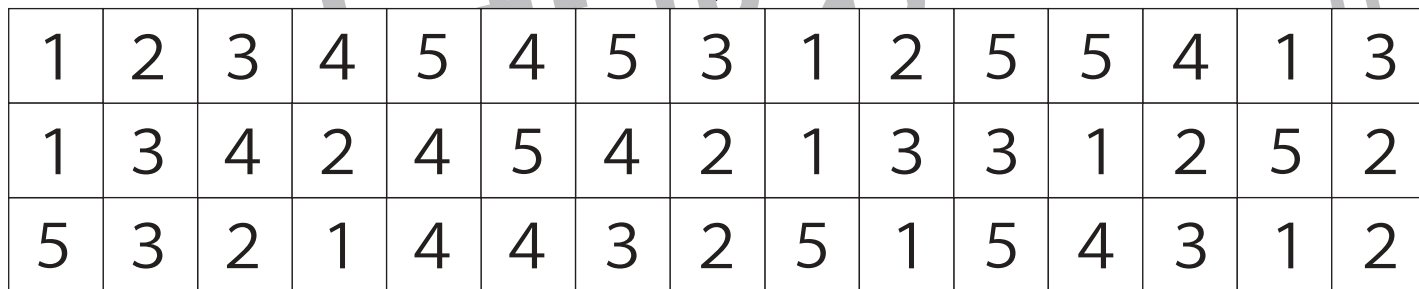







おうちで、やろう。

Study at home. 小学校受験の家庭学習教材

処理：置き換え⑤

上の太い四角の中が約束です。この約束通りに下のマスに記号をかきます。
この問題はスピードを意識して取り組む練習をしてみましょう。(それぞれ1分30秒～2分)



※1. このプリントは、しながわ・目黒こどもスクールのウェブサイトでダウンロードができます。無断複写・引用はご遠慮ください。
※2. このプリントを活用したオンライン授業のスケジュールは、しながわ・目黒こどもスクールのウェブサイトでご確認ください。



おうちで、やろう。

Study at home. 小学校受験の家庭学習教材

常識：なぞなぞ①

①～⑤の問題を聞いて、下の四角の中から正しいものを選びます。

①私は切る道具です。穴に指を入れて紙を切ります。私に○をつけてください。

②私は楽器です。鍵盤がたくさんあって指で弾いて音を出します。私に△をつけてください。

③私は床に落ちているゴミを掃くものです。ちりとりと一緒に使います。私に□をつけてください。

④私はボールです。蹴ったり、投げたりするものではありません。私に◎をつけてください。

⑤私は野菜を炒めるときに使います。火を使うので注意しなくてはなりません。私に×をつけてください。



※1. このプリントは、しながわ・目黒こどもスクールのウェブサイトでダウンロードができます。無断複写・引用はご遠慮ください。

※2. このプリントを活用したオンライン授業のスケジュールは、しながわ・目黒こどもスクールのウェブサイトでご確認ください。






おうちで、やろう。

Study at home. 小学校受験の家庭学習教材

常識：なぞなぞ②

①～⑤の問題を聞いて、下の四角の中から正しいものを選びます。

- ①私は海の中にいる生き物です。お母さんのおなかの中から赤ちゃんで生まれてきます。私に○をつけてください。
- ②私は体の色を変えることが得意です。周りの景色に似た色に変身します。私に△をつけてください。
- ③私は赤ちゃんときはヤゴという名前です。私に□をつけてください。
- ④私は鳴くことが得意です。秋になると「リーン、リーン」と鳴きます。私に◎をつけてください。
- ⑤私は桃太郎と鬼退治に行った鳥です。私に×をつけてください。



※1. このプリントは、しながわ・目黒こどもスクールのウェブサイトからダウンロードできます。無断複写・引用はご遠慮ください。
 ※2. このプリントを活用したオンライン授業のスケジュールは、しながわ・目黒こどもスクールのウェブサイトでご確認ください。



おうちで、やろう。

Study at home. 小学校受験の家庭学習教材

常識：なぞなぞ③

①～⑤の問題を聞いて、下の四角の中から正しいものを選びます。


①私は果物で中に大きな種が1つ入っています。私に○をつけてください。

②私は細長くて白と緑の体をしています。白いところは土の中に埋まっています。私に△をつけてください。

③私は木の上になる果物です。体には丸い実がたくさんついています。私に□をつけてください。

④私はとげとげしたものの中に入っています。秋になるとおいしく食べることができます。私に◎をつけてください。

⑤私は夏においしい野菜です。ひげがついていて皮をむいて食べます。私に×をつけてください。



※1. このプリントは、しながわ・目黒こどもスクールのウェブサイトダウンロードができます。無断複写・引用はご遠慮ください。

※2. このプリントを活用したオンライン授業のスケジュールは、しながわ・目黒こどもスクールのウェブサイトでご確認ください。





おうちで、やろう。

Study at home. 小学校受験の家庭学習教材

図形：重ね③⑦

左の2枚の板は透明です。一番左の板を左から2番目の板に太い線がぴったり合うように重ねます。このときの見え方を考えてすぐ右の四角にかきます。答えを間違えてしまった場合は一番右の四角にかきなおします。

--	--	--	--

--	--	--	--

--	--	--	--

--	--	--	--

--	--	--	--

※1. このプリントは、しながわ・目黒こどもスクールのウェブサイトでダウンロードができます。無断複写・引用はご遠慮ください。

※2. このプリントを活用したオンライン授業のスケジュールは、しながわ・目黒こどもスクールのウェブサイトでご確認ください。



おうちで、やろう。

Study at home. 小学校受験の家庭学習教材

図形：重ね③⑧

左の2枚の板は透明です。一番左の板を左から2番目の板に太い線がぴったり合うように重ねます。このときの見え方を考えてすぐ右の四角にかきます。答えを間違えてしまった場合は一番右の四角にかきなおします。

--	--	--	--

--	--	--	--

--	--	--	--

--	--	--	--

--	--	--	--

※1. このプリントは、しながわ・目黒こどもスクールのウェブサイトでダウンロードができます。無断複写・引用はご遠慮ください。
※2. このプリントを活用したオンライン授業のスケジュールは、しながわ・目黒こどもスクールのウェブサイトでご確認ください。



おうちで、やろう。

Study at home. 小学校受験の家庭学習教材

図形：重ね③⑨

左の2枚の板は透明です。一番左の板を左から2番目の板に太い線がぴったり合うように重ねます。このときの見え方を考えてすぐ右の四角にかきます。答えを間違えてしまった場合は一番右の四角にかきなおします。

--	--	--	--

--	--	--	--

--	--	--	--

--	--	--	--

--	--	--	--

※1. このプリントは、しながわ・目黒こどもスクールのウェブサイトでダウンロードができます。無断複写・引用はご遠慮ください。
※2. このプリントを活用したオンライン授業のスケジュールは、しながわ・目黒こどもスクールのウェブサイトでご確認ください。



おうちで、やろう。

Study at home. 小学校受験の家庭学習教材

数量：加減②④

①～④の問題を聞いて答えます。

①かんとくんは車のおもちゃを3台持っていました。お誕生日にお父さんが2台くれました。でも1台壊れてしまいました。かんとくんが持っている車は何台ですか。その数だけ○をかきます。

②さとみさんはチューリップの花が大好きで、お部屋に4本飾っています。お花屋さんの前を通るときれいなチューリップが売っていたので、3本買って帰りました。家に着くと飾ってあったチューリップが2本枯れていました。買ってきたチューリップを花瓶に入れると全部で何本のチューリップが咲いていますか。その数だけ○をかきます。

③ともひろくんは鉛筆を6本持っています。これはまだ削っていない鉛筆です。勉強をするために2本削りました。するとお姉さんが鉛筆を欲しい言ったので、2本削ってあげました。まだ削っていない鉛筆何本ですか。その数だけ○をかきます。

④ともこさんは折り紙を9枚持っていました。お友だちのまいさんと一緒に折り紙で遊んで3枚ずつ使いました。残った折り紙は何枚ですか。その数だけ○をかきます。

①

$$\bigcirc \times 4$$

②

$$\bigcirc \times 5$$

③

$$\bigcirc \times 2$$

④

$$\bigcirc \times 3$$



おうちで、やろう。

Study at home. 小学校受験の家庭学習教材

数量：加減⑳

①～④の問題を聞いて答えます。

①けいたくさんは折り紙で手裏剣を作ります。手裏剣は折り紙2枚で1つ作ることができます。けいたくさんは手裏剣を4つ作りました。折り紙は何枚使いましたか。その枚数だけ〇をかきます。

②さゆりさんの家の冷蔵庫には卵が10個ありました。さゆりさんは夕ご飯のオムライスをつくるために卵を割る手伝いをしました。お父さんと母さんのオムライスには卵を3つずつ、さゆりさんのオムライスには卵を2つ使いました。冷蔵庫に残った卵はいくつですか。その数だけ〇をかきます。

③ときおくんは積み木でお家を作ります。お家は三角の積み木1つと四角い積み木を2つ使います。ときおくんが積み木のお家を4軒作ったとき、三角と四角の積み木の数はいくつちがいますか。その数だけ〇をかきます。

④みさきさんはお友だち4人に手紙を書きます。手紙は10枚あり、1人に2枚ずつ使って手紙を書きました。この時、余る手紙は何枚ですか。その数だけ〇をかきます。

①

$$\bigcirc \times 8$$

②

$$\bigcirc \times 2$$

③

$$\bigcirc \times 4$$

④

$$\bigcirc \times 2$$