



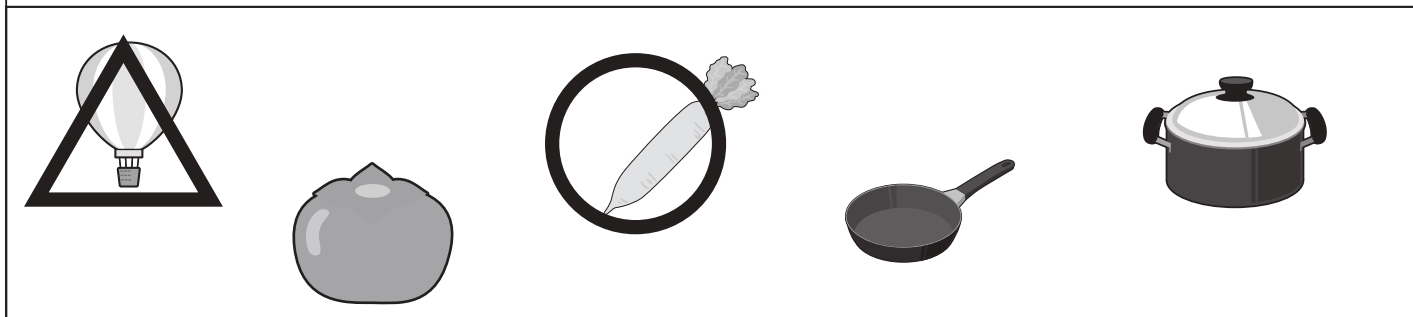
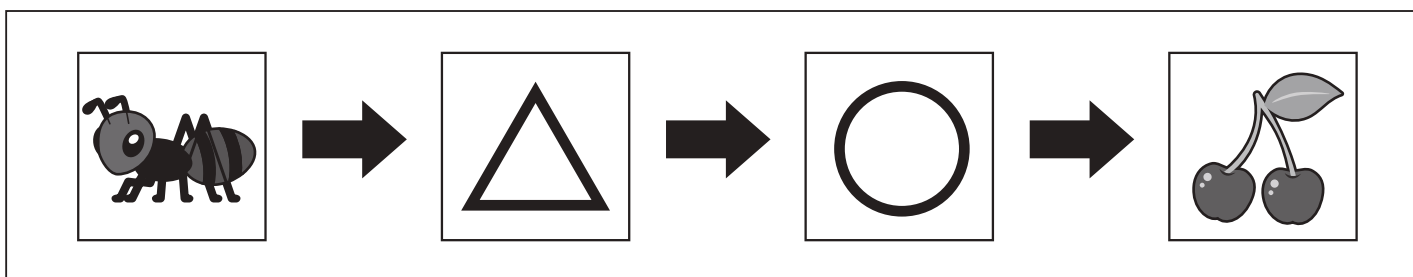

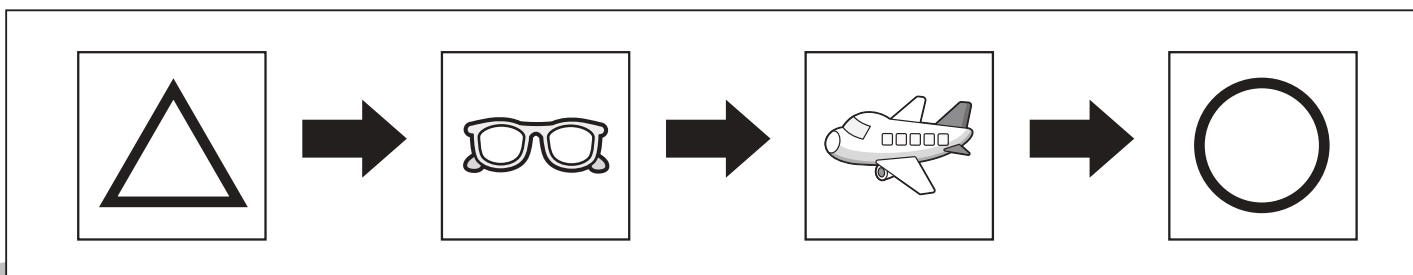

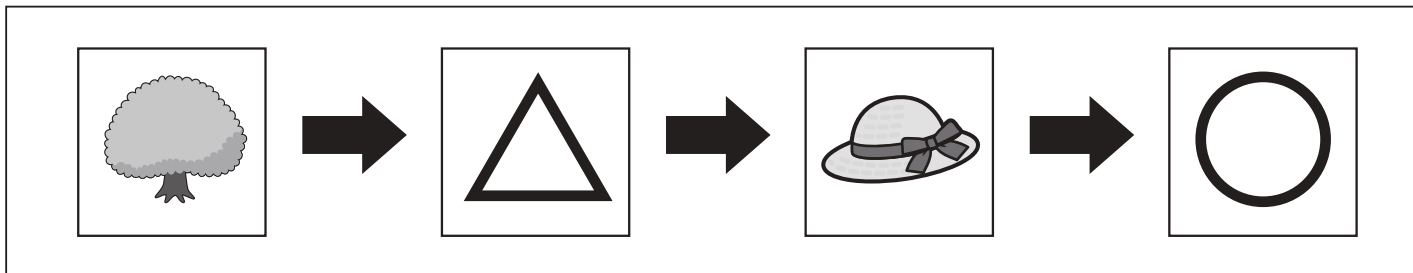
おうちで、やろう。

Study at home. 小学校受験の家庭学習教材

言語：音の数⑮

下の四角の中の絵は音の数が一つずつ増えて並んでいます。

記号の書いてあるマスに入る言葉を考えて、下の四角の中から選んでそれぞれの記号をつけます。



※1. このプリントは、しながわ・目黒こどもスクールのウェブサイトダウンロードができます。無断複写・引用はご遠慮ください。

※2. このプリントを活用したオンライン授業のスケジュールは、しながわ・目黒こどもスクールのウェブサイトでご確認ください。

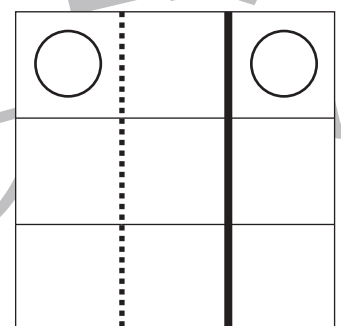
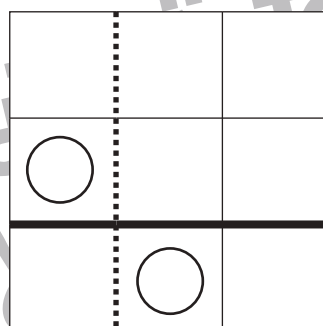
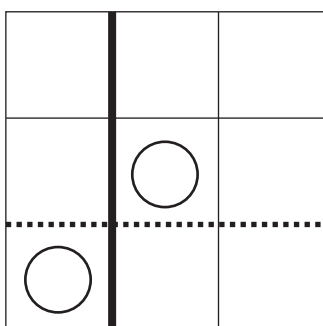
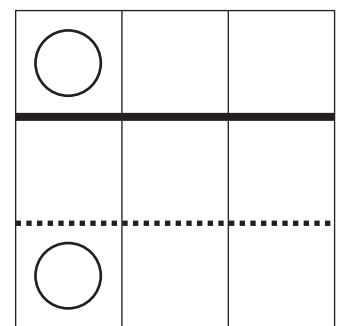
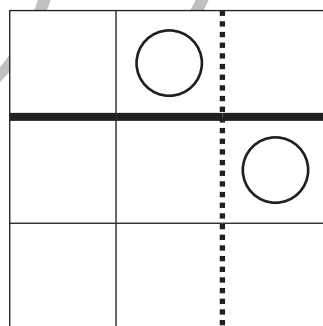
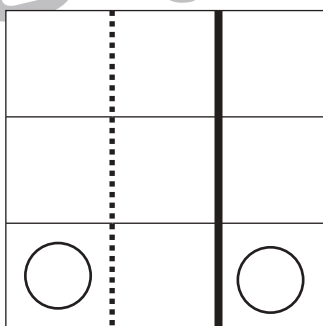
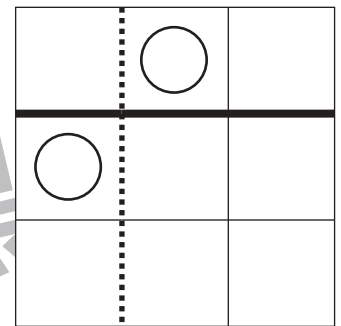
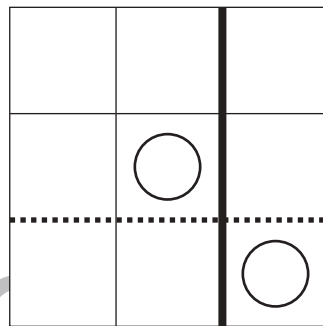
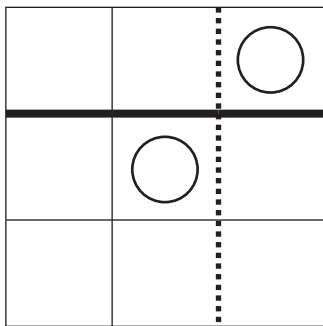
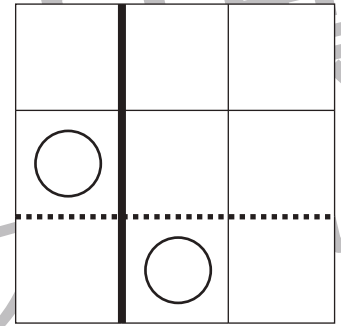
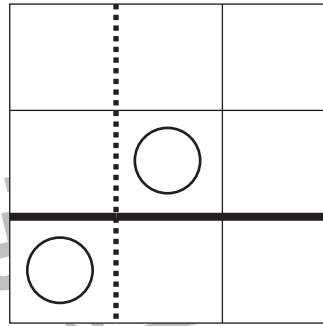
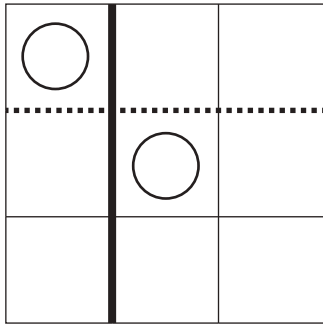


おうちで、やろう。

Study at home. 小学校受験の家庭学習教材

図形：折り重ね 58

それぞれの四角を黒い線で折り重ね、その後に点線で折り重ねたときの○の場所を考えていきます。折り重ねるときは○がある方を重ねます。



※1. このプリントは、しながわ・目黒こどもスクールのウェブサイトでダウンロードができます。無断複写・引用はご遠慮ください。
※2. このプリントを活用したオンライン授業のスケジュールは、しながわ・目黒こどもスクールのウェブサイトでご確認ください。

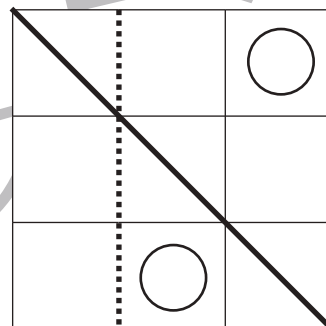
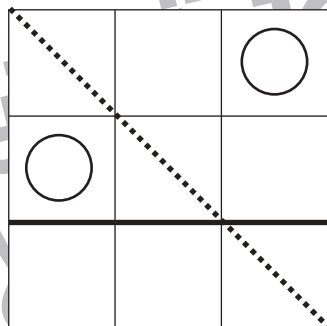
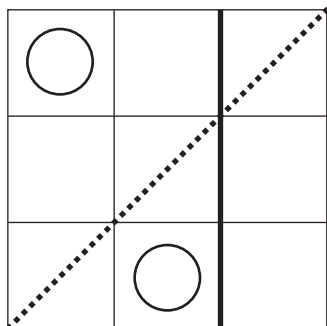
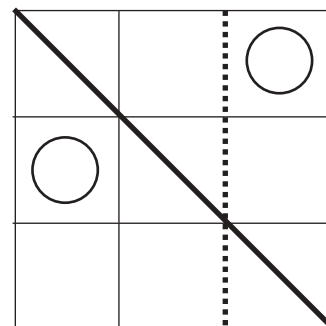
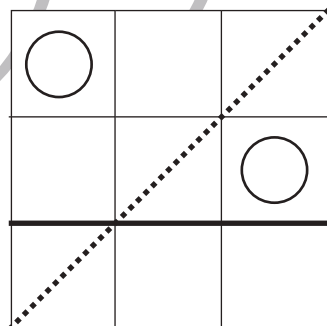
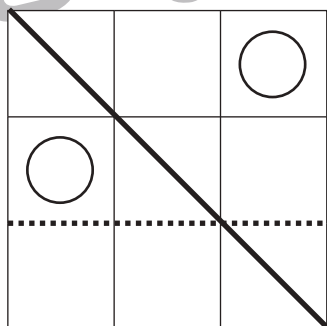
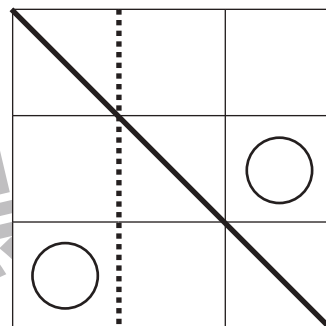
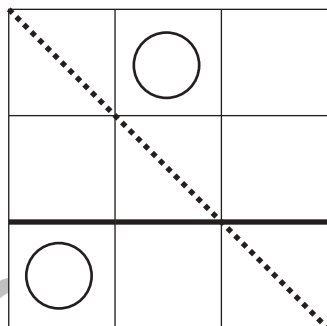
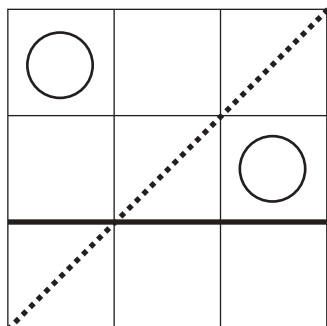
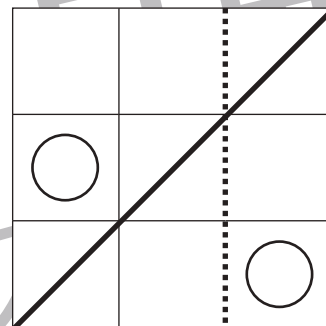
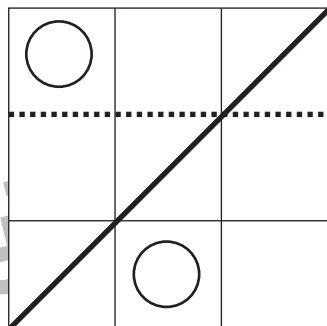
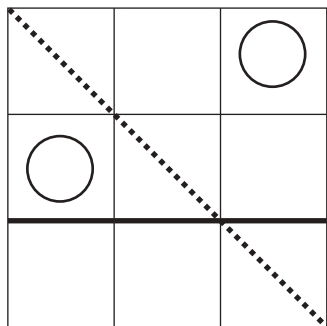


おうちで、やろう。

Study at home. 小学校受験の家庭学習教材

図形：折り重ね 59

それぞれの四角を黒い線で折り重ね、その後に点線で折り重ねたときの○の場所を考えていきます。折り重ねるときは○がある方を重ねます。



※1. このプリントは、しながわ・目黒こどもスクールのウェブサイトでダウンロードができます。無断複写・引用はご遠慮ください。
※2. このプリントを活用したオンライン授業のスケジュールは、しながわ・目黒こどもスクールのウェブサイトでご確認ください。



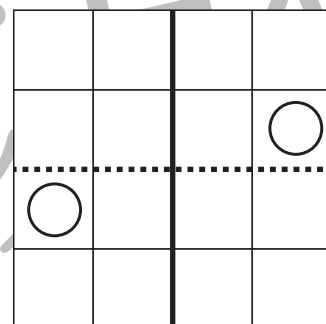
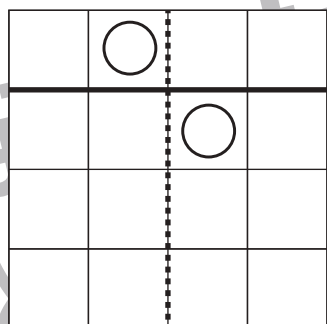
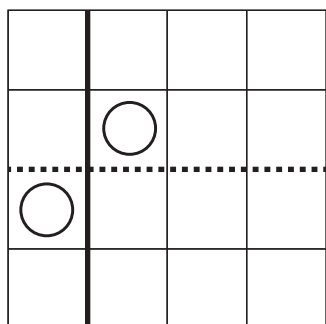
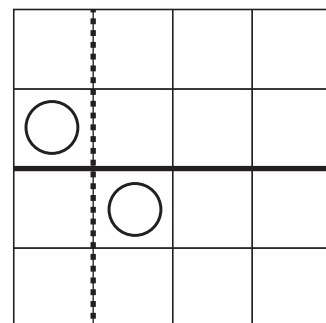
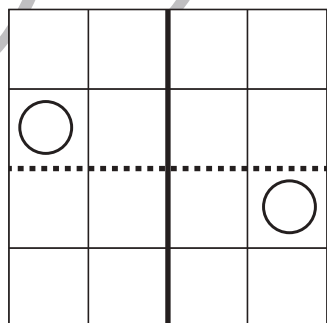
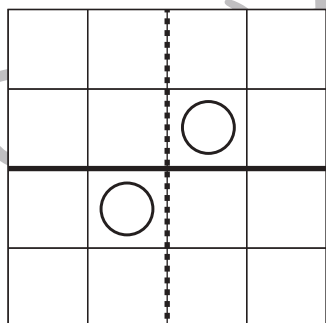
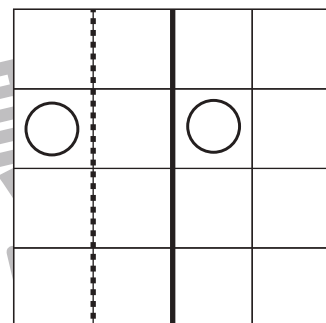
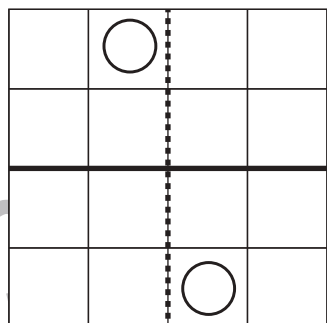
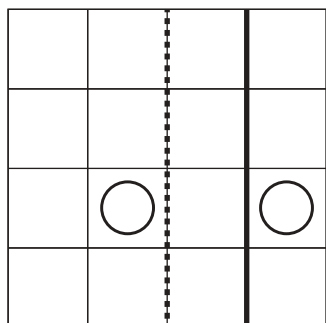
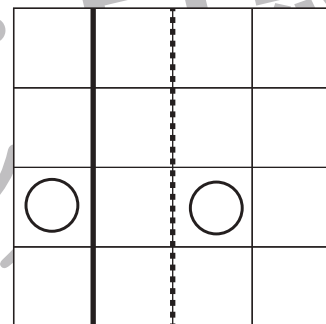
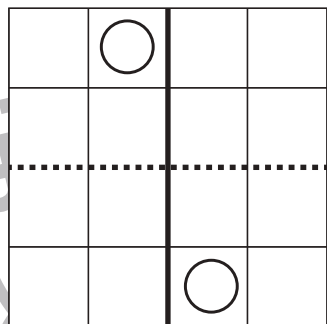
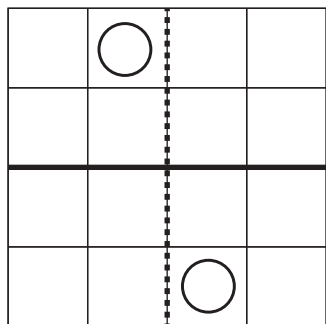


おうちで、やろう。

Study at home. 小学校受験の家庭学習教材

図形：折り重ね 60

それぞれの四角を黒い線で折り重ね、その後に点線で折り重ねたときの○の場所を考えていきます。折り重ねるときは○がある方を重ねます。



※1. このプリントは、しながわ・目黒こどもスクールのウェブサイトでダウンロードができます。無断複写・引用はご遠慮ください。
※2. このプリントを活用したオンライン授業のスケジュールは、しながわ・目黒こどもスクールのウェブサイトでご確認ください。



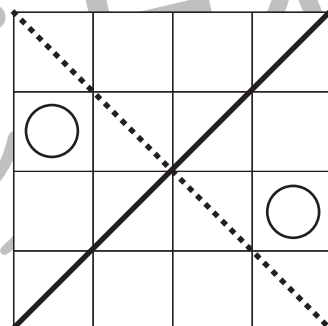
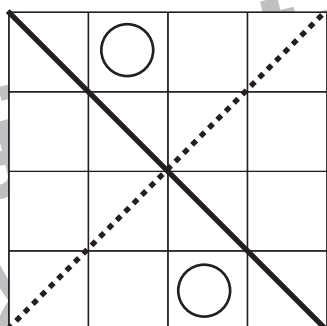
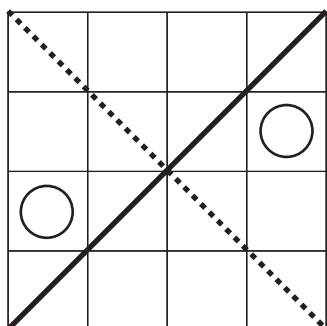
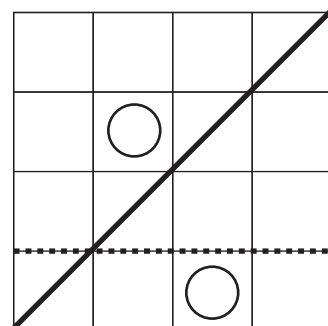
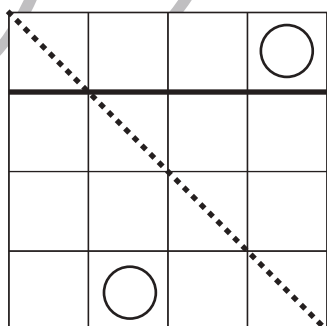
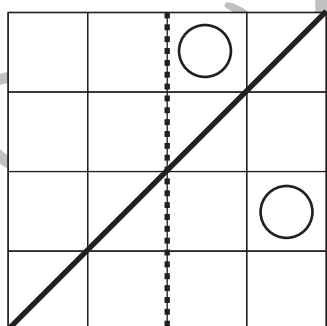
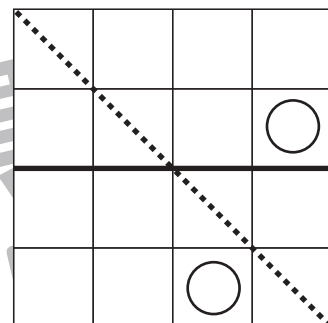
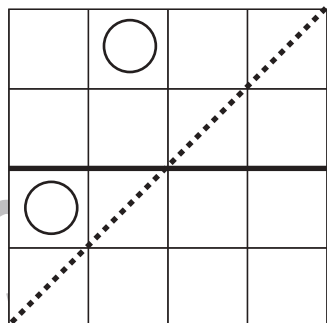
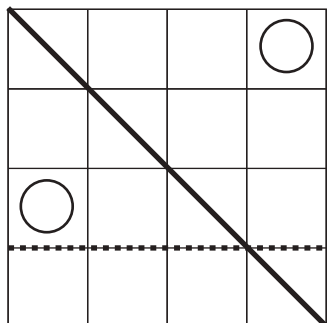
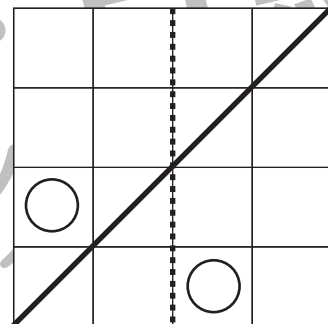
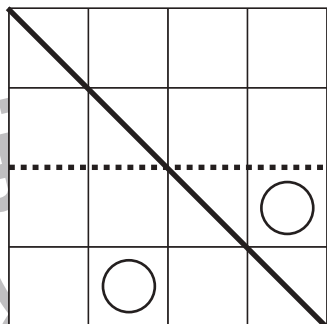
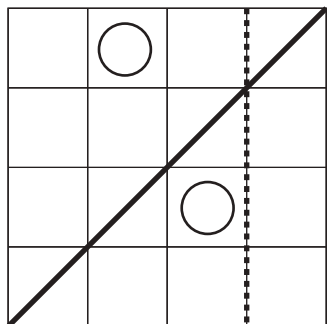


おうちで、やろう。

Study at home. 小学校受験の家庭学習教材

図形：折り重ね61

それぞれの四角を黒い線で折り重ね、その後に点線で折り重ねたときの○の場所を考えていきます。折り重ねるときは○がある方を重ねます。



※1. このプリントは、しながわ・目黒こどもスクールのウェブサイトでダウンロードができます。無断複写・引用はご遠慮ください。
※2. このプリントを活用したオンライン授業のスケジュールは、しながわ・目黒こどもスクールのウェブサイトでご確認ください。



おうちで、やろう。

Study at home. 小学校受験の家庭学習教材

推理：系列完成⑱

それぞれ約束通りに並んでいます。どんな順番に並んでいるのかを考えてりんごとぶどうの場所の●を右の四角の中にかきます。

※1. このプリントは、しながわ・目黒こどもスクールのウェブサイトでダウンロードができます。無断複写・引用はご遠慮ください。

※2. このプリントを活用したオンライン授業のスケジュールは、しながわ・目黒こどもスクールのウェブサイトでご確認ください。



おうちで、やろう。

Study at home. 小学校受験の家庭学習教材

推理：系列完成⑱

それぞれ約束通りに並んでいます。どんな順番に並んでいるのかを考えてりんごとぶどうの場所の●を右の四角の中にかきます。

※1. このプリントは、しながわ・目黒こどもスクールのウェブサイトでダウンロードができます。無断複写・引用はご遠慮ください。
 ※2. このプリントを活用したオンライン授業のスケジュールは、しながわ・目黒こどもスクールのウェブサイトでご確認ください。



おうちで、やろう。

Study at home. 小学校受験の家庭学習教材

推理：条件推理③⑧

馬の絵と人参の絵が上と下で並ぶように上のブロックをずらします。このとき、大根の絵の上にくる動物をを考えて、右の四角から選び○をつけます。

※1. このプリントは、しながわ・目黒こどもスクールのウェブサイトでダウンロードができます。無断複写・引用はご遠慮ください。
 ※2. このプリントを活用したオンライン授業のスケジュールは、しながわ・目黒こどもスクールのウェブサイトでご確認ください。



おうちで、やろう。

Study at home. 小学校受験の家庭学習教材

推理：条件推理③⑨

ウサギの絵とリンゴの絵が上と下で並ぶように上のブロックをずらします。このとき、イチゴの絵の上にくる動物を考えると、右の四角から選び○をつけます。

※1. このプリントは、しながわ・目黒こどもスクールのウェブサイトからダウンロードできます。無断複写・引用はご遠慮ください。

※2. このプリントを活用したオンライン授業のスケジュールは、しながわ・目黒こどもスクールのウェブサイトでご確認ください。