



おうちで、やろう。

Study at home. 小学校受験の家庭学習教材

図形：回転 57

○に▲がついています。矢印の左に描かれている▲の位置が矢印の右に描かれている位置に動いた時、中の模様はどのように見えるかを考えてかきます。

※1. このプリントは、しながわ・目黒こどもスクールのウェブサイトでダウンロードができます。無断複写・引用はご遠慮ください。

※2. このプリントを活用したオンライン授業のスケジュールは、しながわ・目黒こどもスクールのウェブサイトでご確認ください。



おうちで、やろう。

Study at home. 小学校受験の家庭学習教材

図形：回転 58

○に▲がついています。矢印の左に描かれている▲の位置が矢印の右に描かれている位置に動いた時、中の模様はどのように見えるかを考えてかきます。

	→				→	
	→				→	
	→				→	
	→				→	
	→				→	
	→				→	

※1. このプリントは、しながわ・目黒こどもスクールのウェブサイトからダウンロードできます。無断複写・引用はご遠慮ください。

※2. このプリントを活用したオンライン授業のスケジュールは、しながわ・目黒こどもスクールのウェブサイトでご確認ください。



おうちで、やろう。

Study at home. 小学校受験の家庭学習教材

図形：構成④⑩

左端の白い紙と黒い紙をそれぞれ上に乗っているはさみの数だけ切ってばらばらにします。そのあとで組み合わせたとき、どうしてもできないものを右の四角から選び、○をつけます。

※1. このプリントは、しながわ・目黒こどもスクールのウェブサイトでダウンロードができます。無断複写・引用はご遠慮ください。

※2. このプリントを活用したオンライン授業のスケジュールは、しながわ・目黒こどもスクールのウェブサイトでご確認ください。



おうちで、やろう。

Study at home. 小学校受験の家庭学習教材

図形：反転①

左のお手本を上への矢印の向きに回して裏返した時の見え方を考えて、左の四角にかきます。

5

6

7

8

9

※1. このプリントは、しながわ・目黒こどもスクールのウェブサイトからダウンロードできます。無断複写・引用はご遠慮ください。

※2. このプリントを活用したオンライン授業のスケジュールは、しながわ・目黒こどもスクールのウェブサイトでご確認ください。



おうちで、やろう。

Study at home. 小学校受験の家庭学習教材

図形：反転②

左のお手本を上への矢印の向きに回して裏返した時の見え方を考えて、左の四角にかきます。

5

6

7

8

9

※1. このプリントは、しながわ・目黒こどもスクールのウェブサイトでダウンロードができます。無断複写・引用はご遠慮ください。
 ※2. このプリントを活用したオンライン授業のスケジュールは、しながわ・目黒こどもスクールのウェブサイトでご確認ください。



おうちで、やろう。

Study at home. 小学校受験の家庭学習教材

図形：反転③

左のお手本を上矢印の向きに回して裏返した時の見え方を考えて、左の四角にかきます。

⑤

⑥

⑦

⑧

⑨

※1. このプリントは、しながわ・目黒こどもスクールのウェブサイトからダウンロードできます。無断複写・引用はご遠慮ください。
 ※2. このプリントを活用したオンライン授業のスケジュールは、しながわ・目黒こどもスクールのウェブサイトでご確認ください。


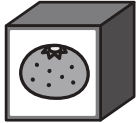





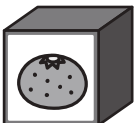

おうちで、やろう。




Study at home. 小学校受験の家庭学習教材




推理：ブラックボックス⑬

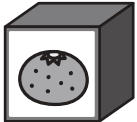


上の太い四角が約束です。左の形が箱の中を通ると約束にしがたって出てきます。どんな約束なのかをよく考えて最後の矢印の後に出てくる形を考えて右の四角にかきます。

○ →  → ×	□ →  → ○
△ →  → □	× →  → △

○ →  →  →  → □	
--	--

□ →  →  →  → △	
--	--

△ →  →  →  → ×	
--	--

× →  →  →  → ○	
--	--

※1. このプリントは、しながわ・目黒こどもスクールのウェブサイトでダウンロードができます。無断複写・引用はご遠慮ください。

※2. このプリントを活用したオンライン授業のスケジュールは、しながわ・目黒こどもスクールのウェブサイトでご確認ください。








おうちで、やろう。

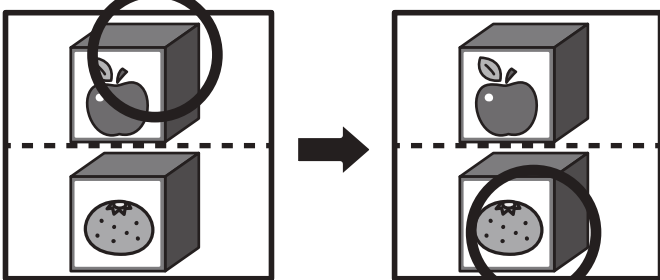
Study at home. 小学校受験の家庭学習教材

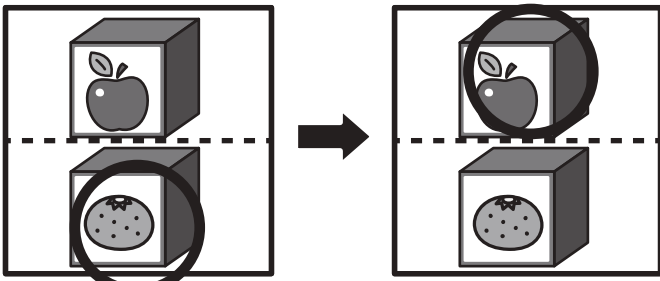
推理：ブラックボックス⑱

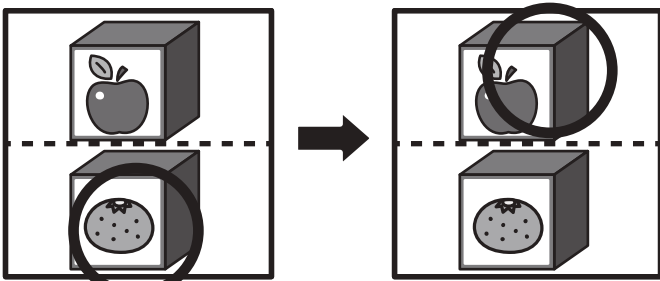
上の太い四角が約束です。左の形が箱の中を通ると約束にしがたって出てきます。左の形が最後の矢印の後に出てくるものが右の四角の中にあります。このとき、どの箱を通ってきたのかを考えて、通った箱に○をつけます。

○ →  → ×	□ →  → ○
△ →  → □	× →  → △

○ →  → ×

△ →  → ○

□ →  → ×

× →  → □

※1. このプリントは、しながわ・目黒こどもスクールのウェブサイトでダウンロードができます。無断複写・引用はご遠慮ください。
 ※2. このプリントを活用したオンライン授業のスケジュールは、しながわ・目黒こどもスクールのウェブサイトでご確認ください。

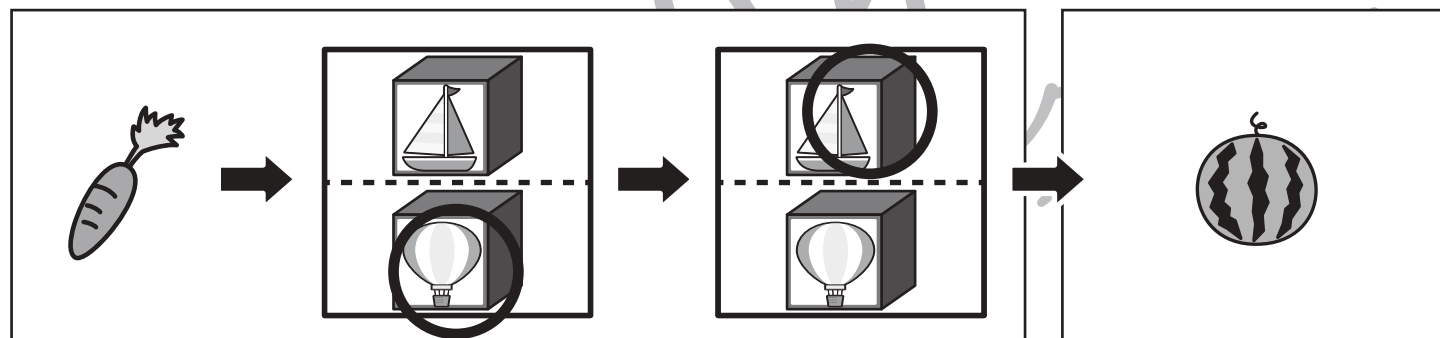
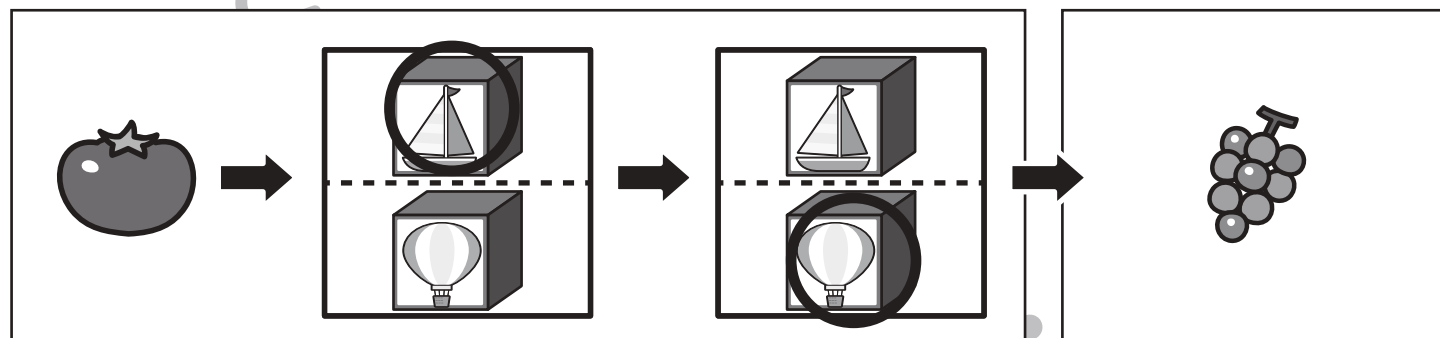
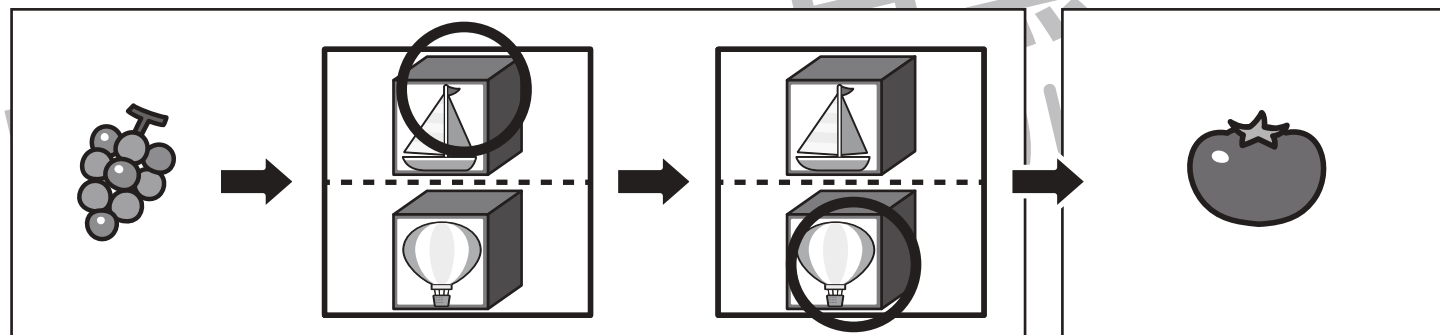
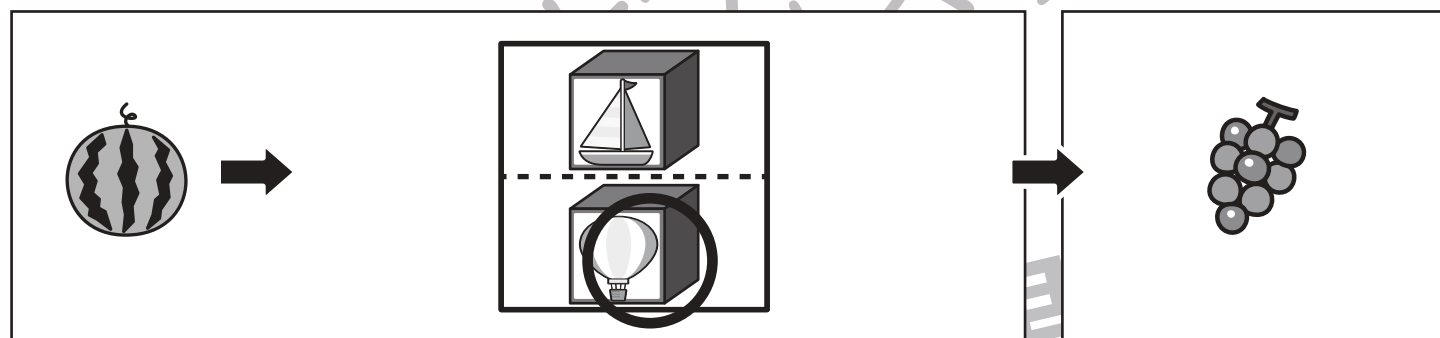



おうちで、やろう。

Study at home. 小学校受験の家庭学習教材

推理：ブラックボックス⑬

上の太い四角が約束です。左の形が箱の中を通ると約束にしがたって出てきます。左の果物が最後の矢印の後に出てくるものが右の四角の中にあります。このとき、どの箱を通ってきたのかを考えて、通った箱に○をつけます。



※1. このプリントは、しながわ・目黒こどもスクールのウェブサイトでダウンロードができます。無断複写・引用はご遠慮ください。

※2. このプリントを活用したオンライン授業のスケジュールは、しながわ・目黒こどもスクールのウェブサイトでご確認ください。