



# おうちで、やろう。

Study at home. 小学校受験の家庭学習教材

## 言語：クロスワード①

左の四角の縦や横、斜めに並んだマスには、右の絵の名前が入ります。ただし、マスの中に口がある場所は2つの名前に使う音が入り、同じ音となります。この約束の時、○△□の矢印の方向にちょうどよく入るものを右の四角の中から選んでそれぞれ矢印の記号をつけます。

--	--

--	--

--	--

--	--

--	--

※1. このプリントは、しながわ・目黒こどもスクールのウェブサイトダウンロードができます。無断複写・引用はご遠慮ください。

※2. このプリントを活用したオンライン授業のスケジュールは、しながわ・目黒こどもスクールのウェブサイトでご確認ください。


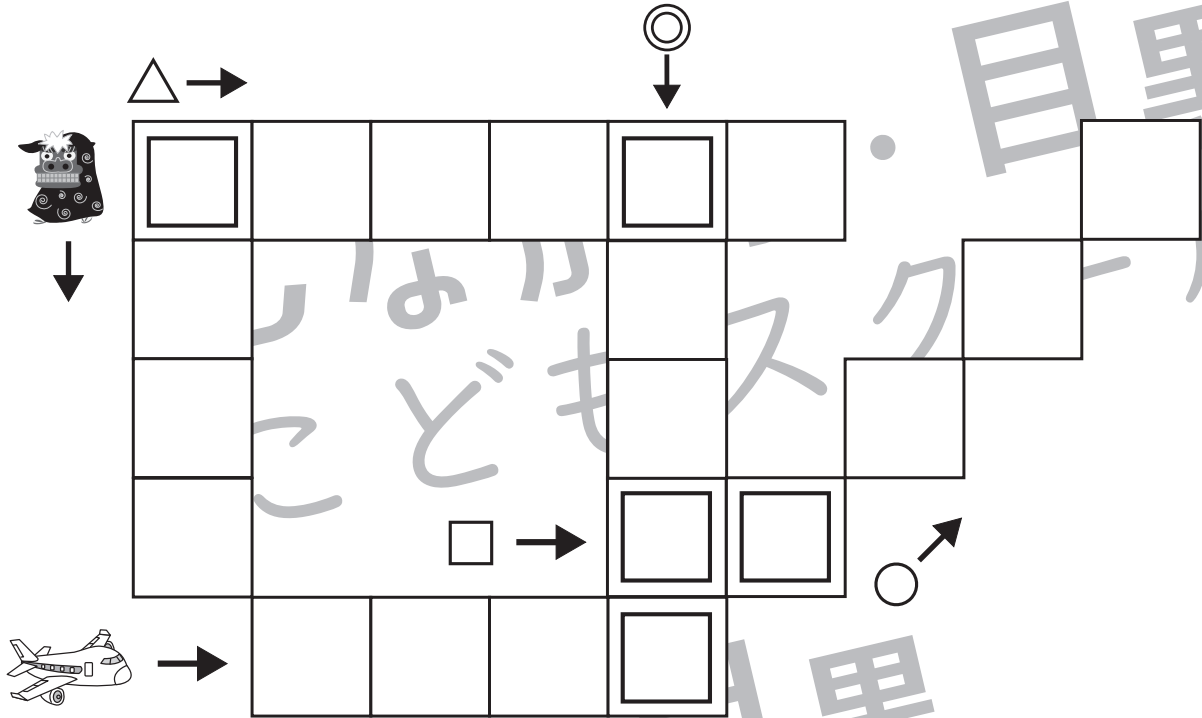


# おうちで、やろう。

Study at home. 小学校受験の家庭学習教材

## 言語：クロスワード②

左の四角の縦や横、斜めに並んだマスには、右の絵の名前が入ります。ただし、マスの中に口がある場所は2つの名前に使う音が入り、同じ音となります。この約束の時、○△□の矢印の方向にちょうどよく入るものを右の四角の中から選んでそれぞれ矢印の記号をつけます。矢印に絵があるものは絵の名前が入ります。



※1. このプリントは、しながわ・目黒こどもスクールのウェブサイトからダウンロードできます。無断複写・引用はご遠慮ください。

※2. このプリントを活用したオンライン授業のスケジュールは、しながわ・目黒こどもスクールのウェブサイトでご確認ください。



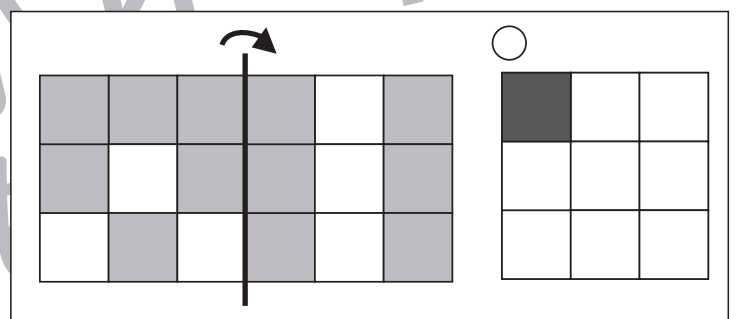
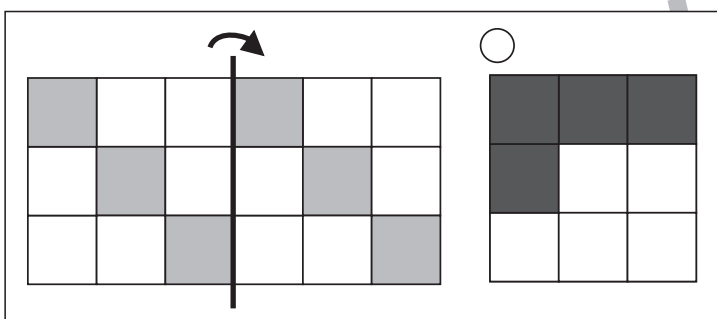
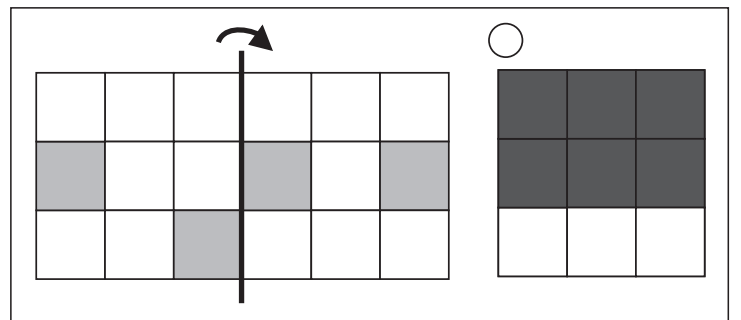
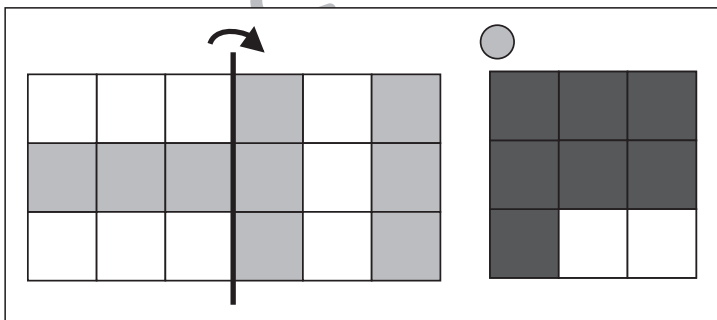
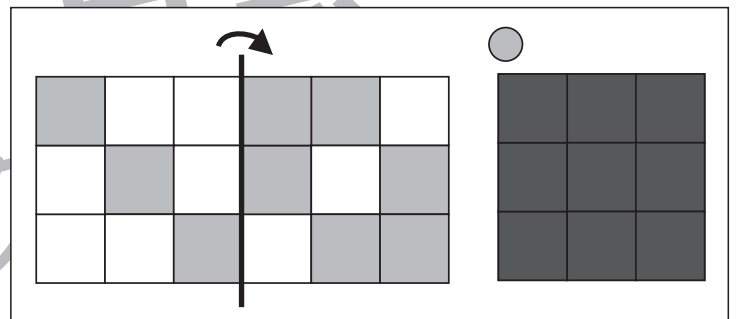
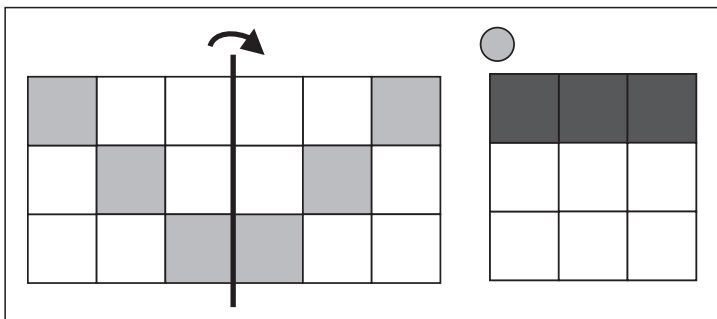
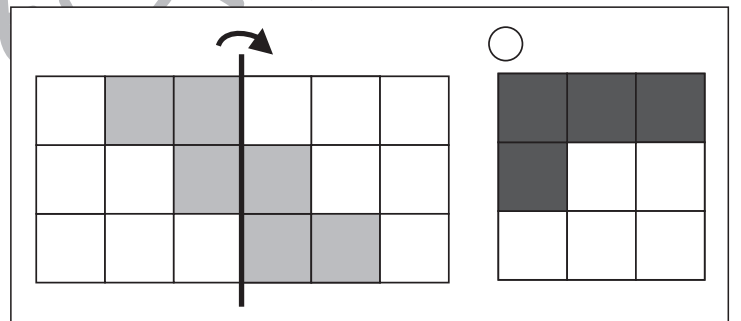
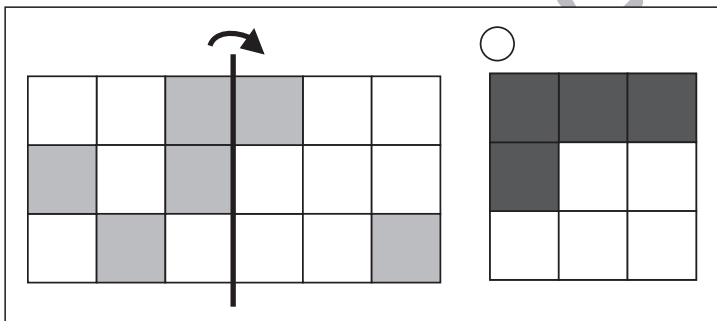
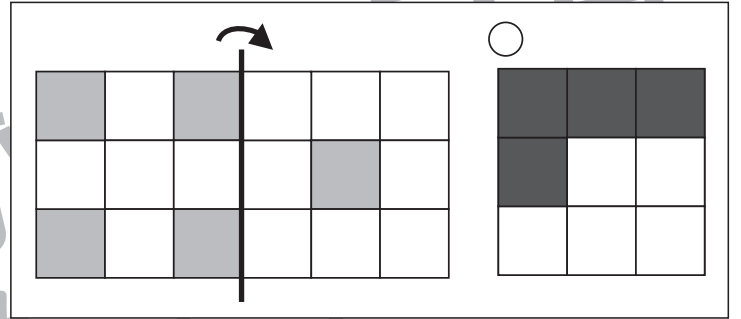
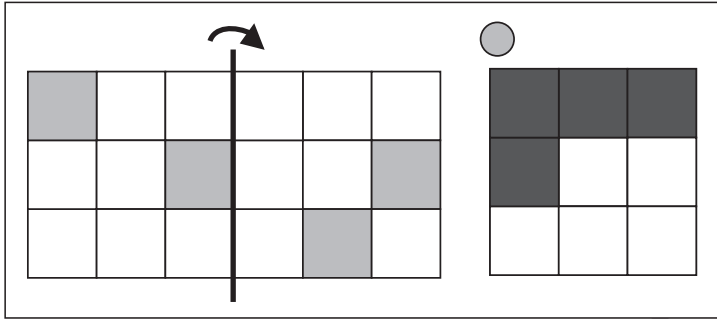
# おうちで、やろう。

Study at home. 小学校受験の家庭学習教材

## 図形：折り重ね 62

左側にあるマス目が矢印の方向に重なった時、灰色と白色のマスがいくつになるか考えます。

右の四角の上には○があり、同じ色のマスの数だけマスを塗ります。塗るときには一番上の段の左から右へと順番に隙間が無いように塗ります



※1. このプリントは、しながわ・目黒こどもスクールのウェブサイトでダウンロードができます。無断複写・引用はご遠慮ください。

※2. このプリントを活用したオンライン授業のスケジュールは、しながわ・目黒こどもスクールのウェブサイトでご確認ください。



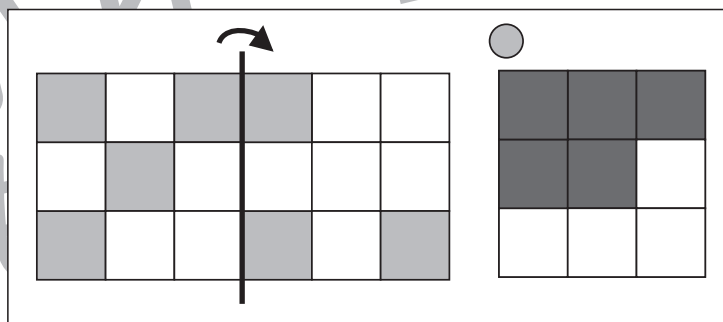
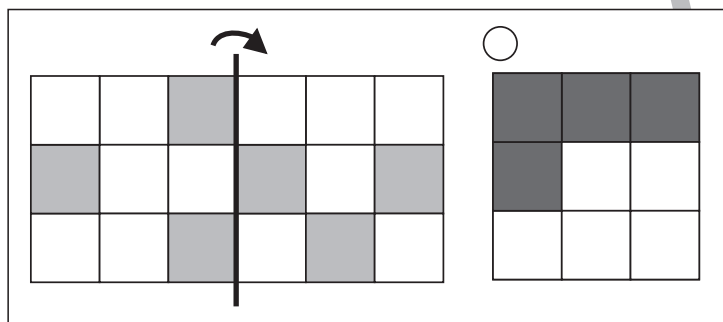
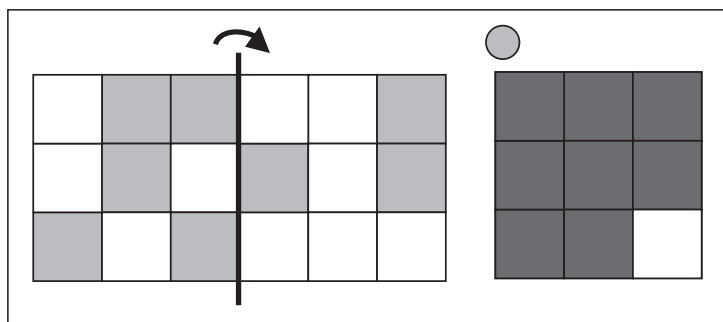
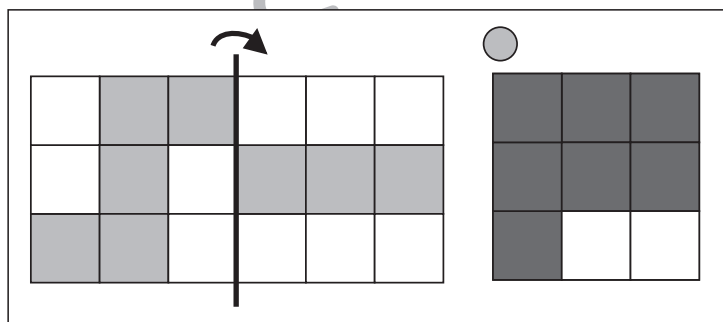
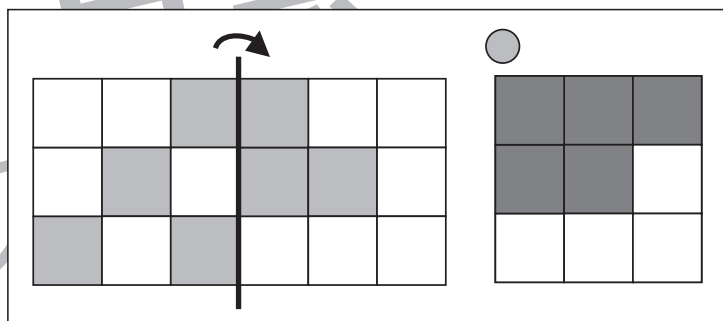
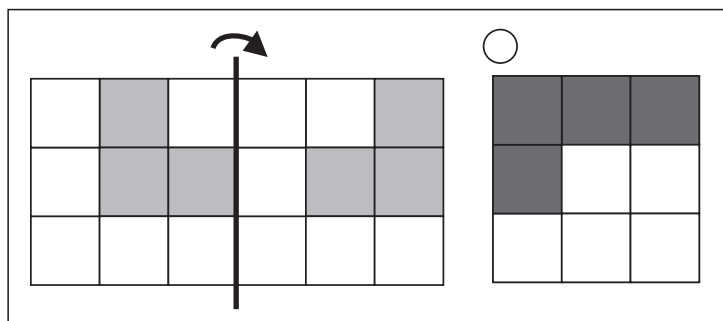
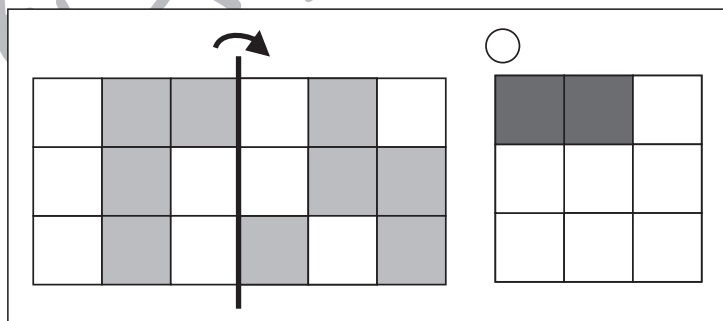
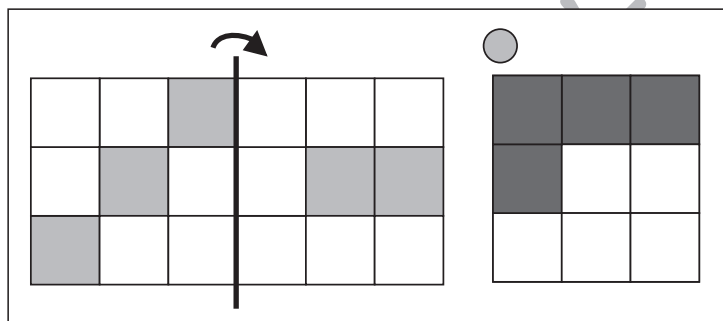
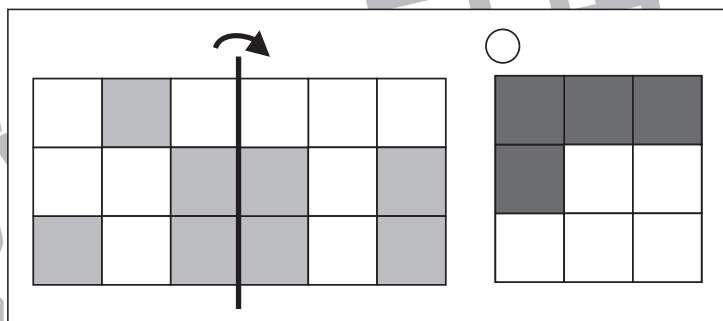
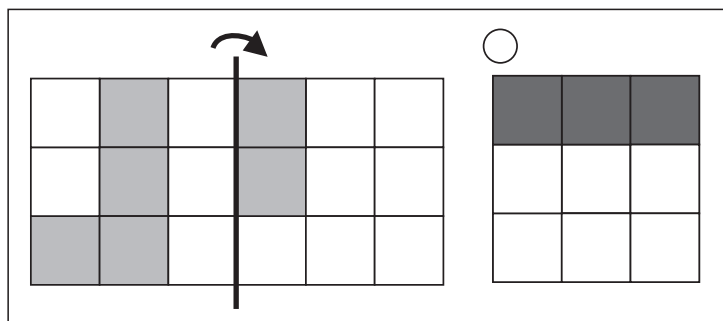
# おうちで、やろう。

Study at home. 小学校受験の家庭学習教材

## 図形：折り重ね 63

左側にあるマス目が矢印の方向に重なった時、灰色と白色のマスがいくつになるか考えます。

右の四角の上には○があり、同じ色のマスの数だけマスを塗ります。塗るときには一番上の段の左から右へと順番に隙間が無いように塗ります



※1. このプリントは、しながわ・目黒こどもスクールのウェブサイトでダウンロードができます。無断複写・引用はご遠慮ください。

※2. このプリントを活用したオンライン授業のスケジュールは、しながわ・目黒こどもスクールのウェブサイトでご確認ください。



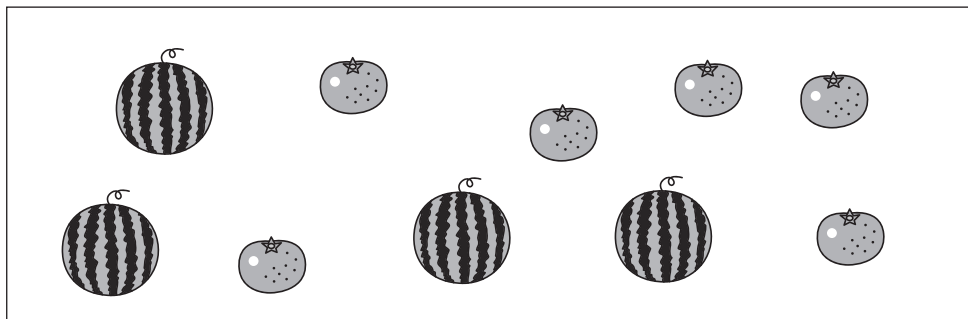


# おうちで、やろう。

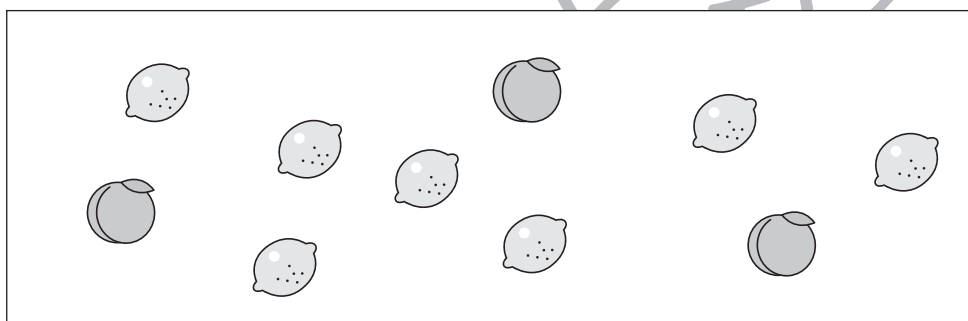
Study at home. 小学校受験の家庭学習教材

数量：同数⑩

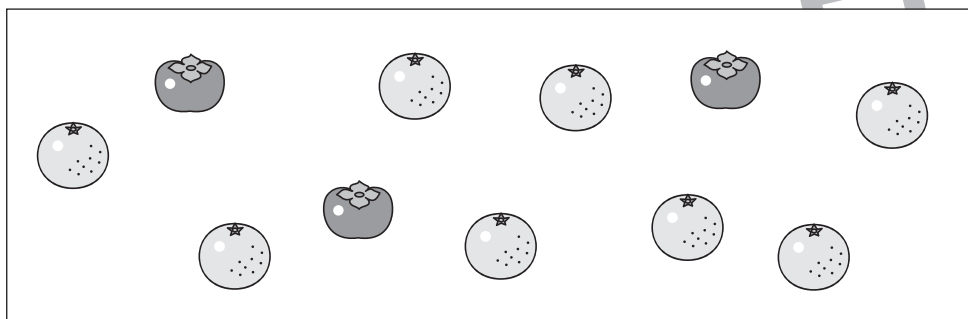
左の四角の中には2種類の果物がありますが、数が違います。この2つの果物の数を同じにするにはどちらの果物を増やせばよいですか。右の四角の増やす果物の四角にその数だけ〇をかきます。




	
	$\bigcirc \times 2$




	$\bigcirc \times 4$
	



	
	$\bigcirc \times 5$



	$\bigcirc \times 3$
	



	
	$\bigcirc \times 6$

※1. このプリントは、しながわ・目黒こどもスクールのウェブサイトでダウンロードができます。無断複写・引用はご遠慮ください。

※2. このプリントを活用したオンライン授業のスケジュールは、しながわ・目黒こどもスクールのウェブサイトでご確認ください。

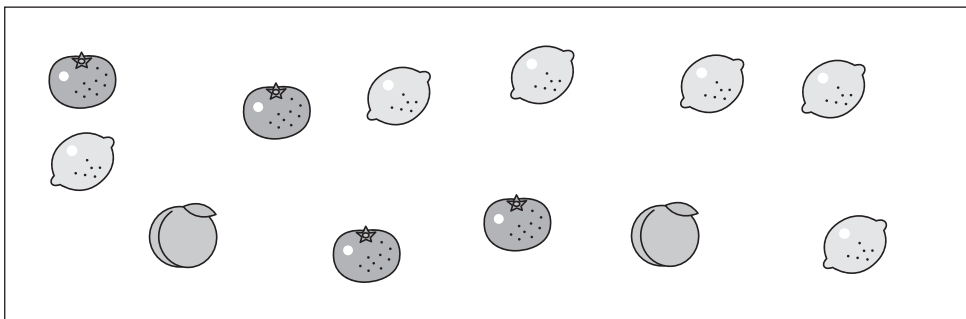


# おうちで、やろう。

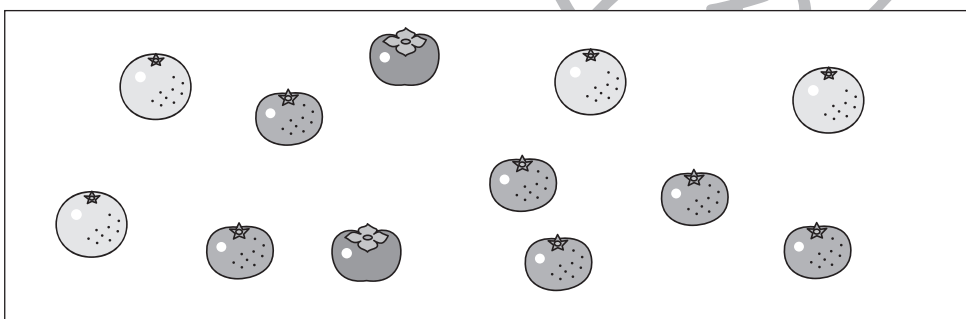
Study at home. 小学校受験の家庭学習教材

数量：同数⑪


左の四角の中には3種類の果物がありますが、数が違います。この3つの果物の数を同じにするにはどの果物を増やせばよいですか。右の四角の増やす果物の四角にその数だけ〇をかきます。




	○×2
	○×4




	○×4
	○×2



	○×5
	○×4



	○×4
	○×6



	○×5
	○×7

※1. このプリントは、しながわ・目黒こどもスクールのウェブサイトでダウンロードができます。無断複写・引用はご遠慮ください。

※2. このプリントを活用したオンライン授業のスケジュールは、しながわ・目黒こどもスクールのウェブサイトでご確認ください。

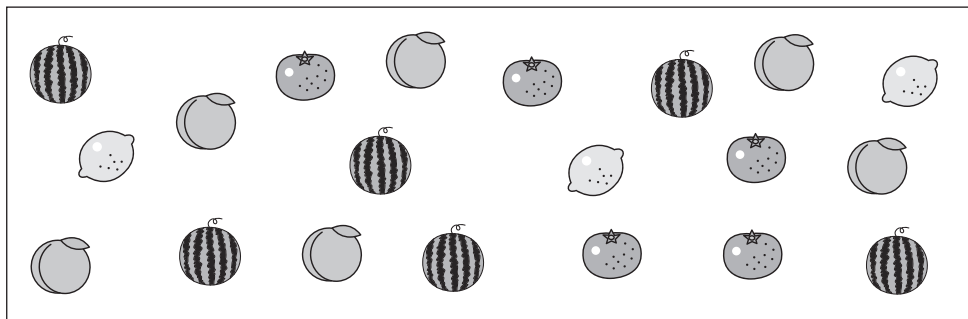


# おうちで、やろう。


Study at home. 小学校受験の家庭学習教材

数量：同数⑫

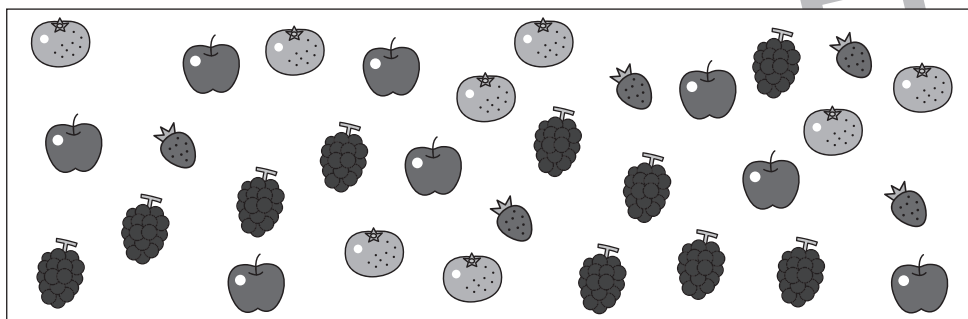
左の四角の中には4種類の果物がありますが、この4つのうち同じ数の果物があります。同じ数の果物を見つけて、右の四角のその果物の場所にその数だけ〇をかきます。



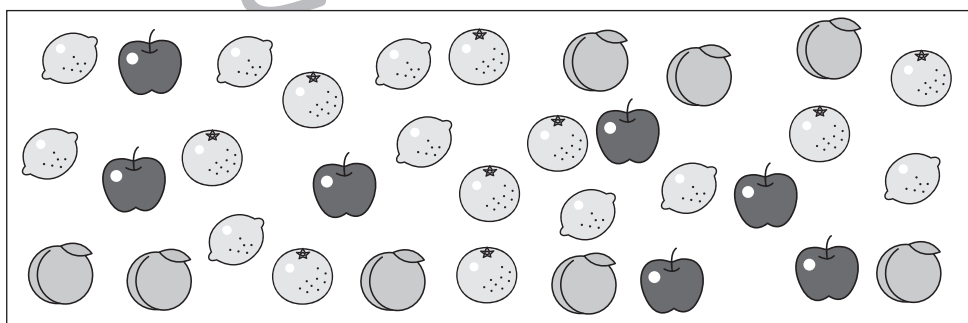
	○×6
	○×6




	○×7
	○×7



	○×8
	○×8



	○×9
	○×9



	○×10
	○×10

※1. このプリントは、しながわ・目黒こどもスクールのウェブサイトでダウンロードができます。無断複写・引用はご遠慮ください。

※2. このプリントを活用したオンライン授業のスケジュールは、しながわ・目黒こどもスクールのウェブサイトでご確認ください。