

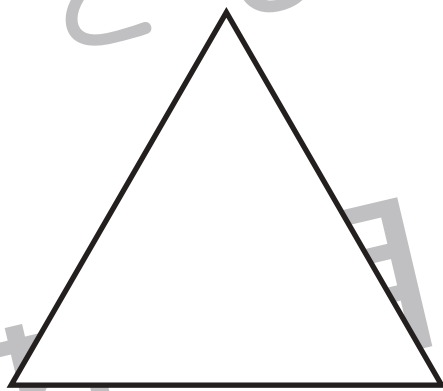



# おうちで、やろう。

Study at home. 小学校受験の家庭学習教材

巧緻性：はさみ④

- ①真ん中の点線ではさみできます。
  - ②切り取った灰色の紙を使い上の○、△、□の形に切ります。灰色の紙にはそれぞれの形はありませんので、自分で大きさや形を考えながら切りましょう。
  - ③切った形を上形の形に合わせてのりで貼り付けます。
- ※この問題に解答はありません。






# おうちで、やろう。

Study at home. 小学校受験の家庭学習教材

巧緻性：はさみ⑤

- ①真ん中の点線ではさみできます。
  - ②切り取った灰色の紙を使い上の形と同じ形に切ります。灰色の紙にはそれぞれの形はありませんので、自分で大きさや形を考えながら切りましょう。
  - ③切った形を上形の形に合わせてのりで貼り付けます。
- ※この問題に解答はありません。






# おうちで、やろう。

Study at home. 小学校受験の家庭学習教材

巧緻性：はさみ⑥

- ①真ん中の点線ではさみできます。
  - ②切り取った灰色の紙を使い上の形をつくるために必要な丸を3つ切ります。  
灰色の紙には丸い形はありませんので、自分で大きさや形を考えながら切りましょう。
  - ③切った3つの丸を上のに合わせてのりで貼り付けます。  
丸が重なっていますので、お手本通りに貼れるように順番を考えながら貼り付けましょう。
- ※この問題に解答はありません。





# おうちで、やろう。

Study at home. 小学校受験の家庭学習教材

推理：系列完成⑳

数字がある決まりに従って並んでいます。空いている四角に入る数字を考えて、その数字をかきます。

1				5	6		8		10
---	--	--	--	---	---	--	---	--	----

1	4	6		10		14	16		
---	---	---	--	----	--	----	----	--	--

1	1	2	2	3			4	5	
---	---	---	---	---	--	--	---	---	--

10	9			6	5		3		1
----	---	--	--	---	---	--	---	--	---

1	2	2	3		3	4			4
---	---	---	---	--	---	---	--	--	---

1	3		7	9		13		17	
---	---	--	---	---	--	----	--	----	--

1	2	3	1				2	3	1
---	---	---	---	--	--	--	---	---	---

※1. このプリントは、しながわ・目黒こどもスクールのウェブサイトでダウンロードができます。無断複写・引用はご遠慮ください。  
 ※2. このプリントを活用したオンライン授業のスケジュールは、しながわ・目黒こどもスクールのウェブサイトでご確認ください。



# おうちで、やろう。

Study at home. 小学校受験の家庭学習教材

## 推理：系列完成 21

数字がある決まりに従って並んでいます。空いている四角に入る数字を考えて、その数字をかきます。

1	3	2			2	1	3		
---	---	---	--	--	---	---	---	--	--

			3	5	6	1		5	6
--	--	--	---	---	---	---	--	---	---

2	4	3	5					2	4
---	---	---	---	--	--	--	--	---	---

9	9		1	5	9	9	3		
---	---	--	---	---	---	---	---	--	--

1			3	1	1	3	3	1	
---	--	--	---	---	---	---	---	---	--

		6	8	2	5	6		2	5
--	--	---	---	---	---	---	--	---	---

3	4	7	9	8				9	8
---	---	---	---	---	--	--	--	---	---

※1. このプリントは、しながわ・目黒こどもスクールのウェブサイトでダウンロードができます。無断複写・引用はご遠慮ください。  
※2. このプリントを活用したオンライン授業のスケジュールは、しながわ・目黒こどもスクールのウェブサイトでご確認ください。



# おうちで、やろう。

Study at home. 小学校受験の家庭学習教材

推理：系列完成 22

数字がある決まりに従って並んでいます。空いている四角に入る数字を考えて、その数字をかきます。

				1	3	2	4	1	
4									
									4
3	1		2		1	4	2	3	1

5		5		5		5	9	5	8
9									5
5									9
8	5	9		8			5	8	5

※1. このプリントは、しながわ・目黒こどもスクールのウェブサイトでダウンロードができます。無断複写・引用はご遠慮ください。  
 ※2. このプリントを活用したオンライン授業のスケジュールは、しながわ・目黒こどもスクールのウェブサイトでご確認ください。



# おうちで、やろう。

Study at home. 小学校受験の家庭学習教材

推理：条件推理④

これは動物探し迷路です。太い四角がスタートです。四角の中には2種類の動物がいます。次のマスに進むにはそれぞれの四角の下にいる動物を考えます。進めるのは同じ動物がいる四角です。この約束で進んでいって最後の四角に○をつけます。

The maze consists of the following animal pairs in each cell (row by row, left to right):

- Row 1: (1,1) Mouse/Bear; (1,2) Goat/Rabbit; (1,3) Dog/Monkey; (1,4) Lion/Monkey; (1,5) Cow/Panda
- Row 2: (2,1) Hippo/Hippo; (2,2) Bear/Tiger; (2,3) Tiger/Lion; (2,4) Koala/Ram; (2,5) Monkey/Koala
- Row 3: (3,1) Rabbit/Rabbit; (3,2) Dog/Cow; (3,3) Dog/Rabbit; (3,4) Dog/Cat; (3,5) Dog/Horse
- Row 4: (4,1) Rabbit/Dog; (4,2) Rabbit/Zebra; (4,3) Cow/Bear; (4,4) Bear/Dog; (4,5) Cat/Bear

※1. このプリントは、しながわ・目黒こどもスクールのウェブサイトでダウンロードができます。無断複写・引用はご遠慮ください。  
 ※2. このプリントを活用したオンライン授業のスケジュールは、しながわ・目黒こどもスクールのウェブサイトでご確認ください。




# おうちで、やろう。

Study at home. 小学校受験の家庭学習教材

## 推理：条件推理④

これは動物探し迷路です。太い四角がスタートです。四角の中には2種類の動物がいます。次の四角に進むにはそれぞれの四角の中の動物を考えます。進めるのはどちらか同じ動物がいる四角です。この約束で進んでいって最後の四角に○をつけます。



※1. このプリントは、しながわ・目黒こどもスクールのウェブサイトからダウンロードできます。無断複写・引用はご遠慮ください。  
 ※2. このプリントを活用したオンライン授業のスケジュールは、しながわ・目黒こどもスクールのウェブサイトでご確認ください。





# おうちで、やろう。

Study at home. 小学校受験の家庭学習教材

処理：運筆⑪

壁にぶつからないように一周線をかきます。素早く綺麗に線をかきましょう。どこからはじめてもよいです。

この問題はスピードを意識して取り組む練習をしてみましょう。(1分～1分30秒)

※この問題に解答はありません。



※1. このプリントは、しながわ・目黒こどもスクールのウェブサイトでダウンロードができます。無断複写・引用はご遠慮ください。

※2. このプリントを活用したオンライン授業のスケジュールは、しながわ・目黒こどもスクールのウェブサイトでご確認ください。



# おうちで、やろう。


Study at home. 小学校受験の家庭学習教材

処理：運筆⑫

壁にぶつからないように一周線をかきます。素早く綺麗に線をかきましょう。どこからはじめてもよいです。

この問題はスピードを意識して取り組む練習をしてみましょう。(1分～1分30秒)

※この問題に解答はありません。



※1. このプリントは、しながわ・目黒こどもスクールのウェブサイトでダウンロードができます。無断複写・引用はご遠慮ください。

※2. このプリントを活用したオンライン授業のスケジュールは、しながわ・目黒こどもスクールのウェブサイトでご確認ください。