



おうちで、やろう。

Study at home. 小学校受験の家庭学習教材

記憶：心情理解①本文

※手を膝の上に置いて、静かに聞きましょう。問題用紙は表にしたまま聞きましょう。-

※9月28日(月)のオンライン授業では、実施中に担当者が読み上げます。

たろうくんは明日が誕生日です。誕生日はお家でお友だちを呼んでパーティーをする予定です。たろうくんはとても楽しみにしています。お母さんが「明日が楽しみね」と言いました。たろうくんは「うん」と大きな声で言いました。

問題①:たろうくんがお母さんに「明日が楽しみね」と言われたときの気持ちとして正しい顔の表情を選んで○をつけます。

今日は運動会です。まなみさんはリレーに出ます。次がまなみさんの順番です。すると前のお友だちが別のチームに抜かれてしまいました。まなみさんはバトンを受け取って一生懸命走りました。すると前を走っていたお友だちを抜かして次のお友だちにバトンを渡しました。それを見たチームのみんなは喜んでいました。

問題②:まなみさんがバトンを受け取って走っているときの気持ちとして正しい顔の表情を選んで○をつけます。

けんじくんの家族はこれから動物園行きます。でも朝起きると今日の天気は雨です。けんじくんは昨日の夜にてるてる坊主を作ったのに雨になってしまいました。けんじくんは「残念だな。雨は嫌だな。」と言いました。すると、お父さんが「午後になったら晴れるみたいだよ。」と言うと、けんじくんは「よかった。晴れたら色々な動物が見れるね。」と言いました。

問題③:朝起きて雨だとわかったときのけんじくんの気持ちとして正しい顔の表情を選んで○をつけます。

みどりさんは幼稚園ではなこさんと一緒にみどりさんのクレヨンでお絵かきをしています。2人で仲良く描いているとはなこさんの使っていた青色のクレヨンが折れてしまいました。それを見たみどりさんは「あっ。」と言いました。でもすぐにはなこさんが「ごめんね。」と言ってくれたのではなこさんは「いいよ。」と残念そうに言いました。そしてまた絵を描き始めました。家に帰ってお母さんに今日あったことを話していると家のチャイムがなりました。みどりさんがドアを開けるとはなこさんとはなこさんのお母さんが立っていました。そしてはなこさんが「今日ごめんね。これどうぞ。」と言って青色のクレヨンのみどりさんに渡しました。みどりさんはビックリしましたが、「ありがとう。また明日一緒に絵を描こうね。」と言いました。

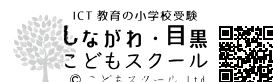
問題④:青色のクレヨンが折れてしまったときのみどりさんの気持ちとして正しい顔の表情を選んで○をつけます。

問題⑤:はなこさんがみどりさんの家に行ってクレヨンのみどりさんに渡したときの気持ちとして正しい顔の表情を選んで○をつけます。

問題⑥:クレヨンを受け取ったあとのみどりさんの気持ちとして正しい顔の表情を選んで○をつけます。

※1. このプリントは、しながわ・目黒こどもスクールのウェブサイトからダウンロードができます。無断複写・引用はご遠慮ください。

※2. このプリントを活用したオンライン授業のスケジュールは、しながわ・目黒こどもスクールのウェブサイトでご確認ください。





おうちで、やろう。

Study at home. 小学校受験の家庭学習教材

記憶：心情理解①

別紙【記憶 - 心情理解 (本文)】を使用します。

問題用紙を裏返しにして、お家の方にお話の本文を読んでもらってから、①～⑥までの問題に取り組みましょう。

①

②

③

④

⑤

⑥

※1. このプリントは、しながわ・目黒こどもスクールのウェブサイトでダウンロードができます。無断複写・引用はご遠慮ください。

※2. このプリントを活用したオンライン授業のスケジュールは、しながわ・目黒こどもスクールのウェブサイトでご確認ください。


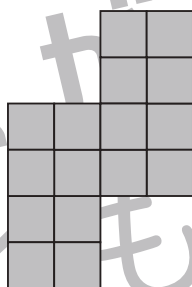

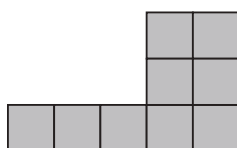




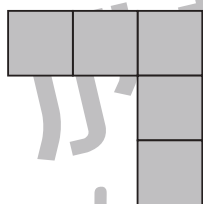



おうちで、やろう。

Study at home. 小学校受験の家庭学習教材

図形：構成④③

一番左のマスに空いている部分に矢印の右にある形をこのままの向きで入れますが、まだ完成しません。灰色のマスのパズルがあと何枚あれば完成しますか。その数だけ右の四角の中に○をかきます。



※1. このプリントは、しながわ・目黒こどもスクールのウェブサイトでダウンロードができます。無断複写・引用はご遠慮ください。
※2. このプリントを活用したオンライン授業のスケジュールは、しながわ・目黒こどもスクールのウェブサイトでご確認ください。



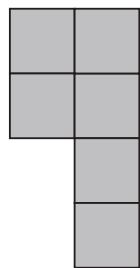


おうちで、やろう。

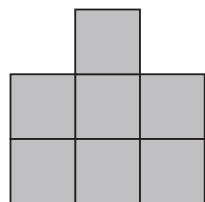

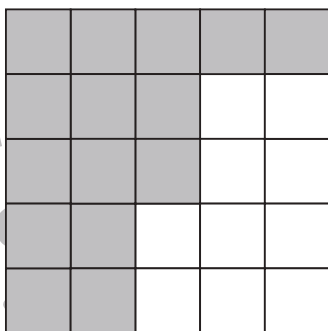
Study at home. 小学校受験の家庭学習教材

図形：構成④④

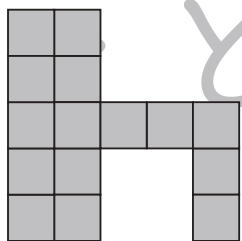
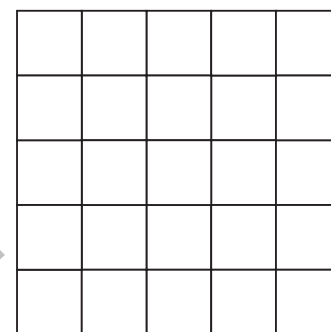

一番左のパズルの形を真ん中の白い部分にぴったりはまるように入れても足りない部分があります。その足りない部分の場所と形を考え、一番右のマスの中を塗りましょう。



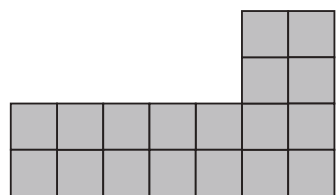


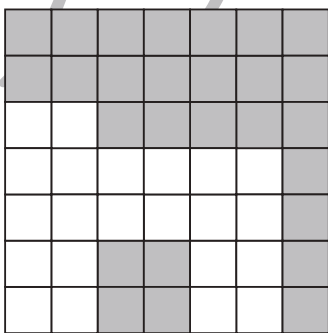
+





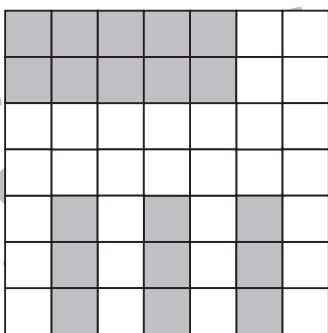
+



+



+



※1. このプリントは、しながわ・目黒こどもスクールのウェブサイトでダウンロードができます。無断複写・引用はご遠慮ください。
※2. このプリントを活用したオンライン授業のスケジュールは、しながわ・目黒こどもスクールのウェブサイトでご確認ください。



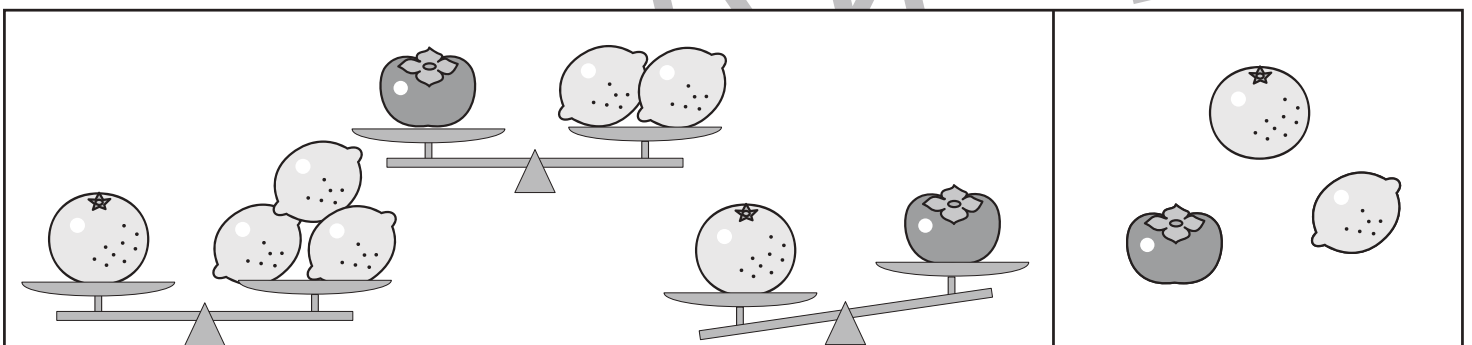



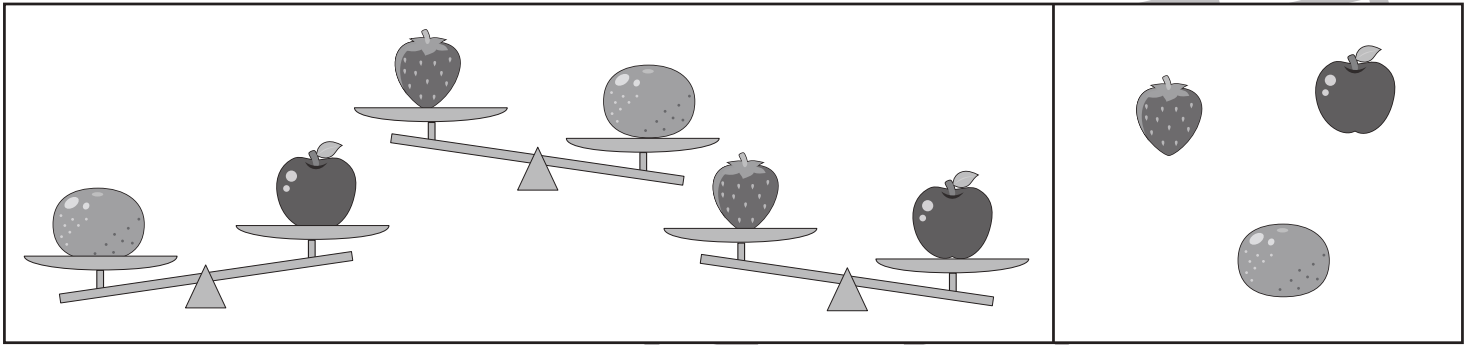


おうちで、やろう。

Study at home. 小学校受験の家庭学習教材

推理：重さ⑰

左の四角の中は3つのものをシーソーで重さ比べをした様子です。左の四角の中から一番重いものを選び○を、一番軽いものに△をつけます。



※1. このプリントは、しながわ・目黒こどもスクールのウェブサイトでダウンロードができます。無断複写・引用はご遠慮ください。

※2. このプリントを活用したオンライン授業のスケジュールは、しながわ・目黒こどもスクールのウェブサイトでご確認ください。


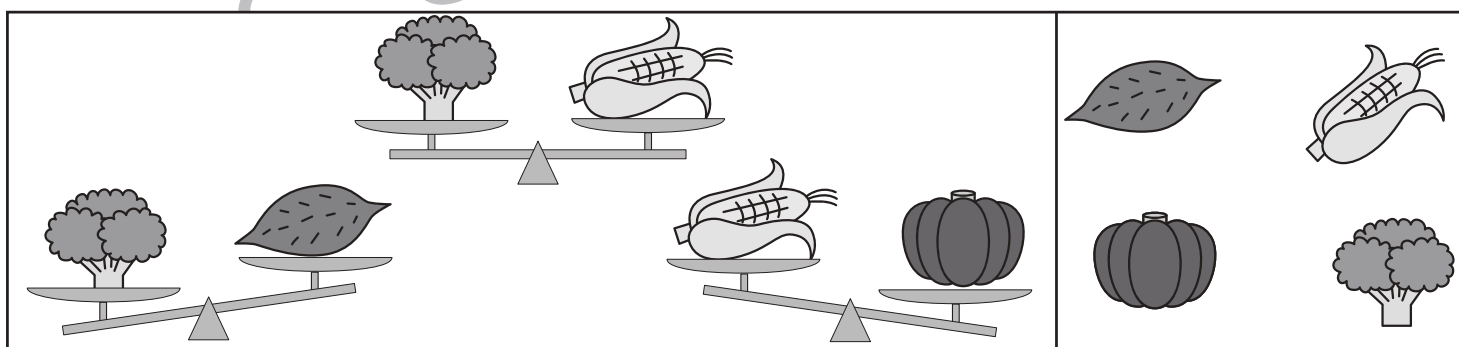


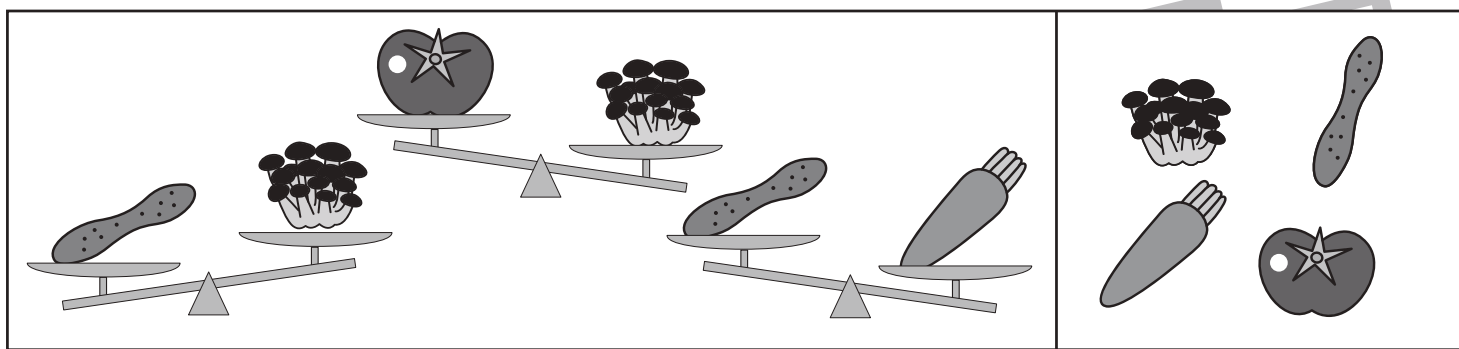


おうちで、やろう。

Study at home. 小学校受験の家庭学習教材

推理：重さ⑱

左の四角の中は4つの野菜をシーソーで重さ比べをした様子です。左の四角の中から一番重いものを選び○を、一番軽いものに△をつけます。



※1. このプリントは、しながわ・目黒こどもスクールのウェブサイトからダウンロードできます。無断複写・引用はご遠慮ください。

※2. このプリントを活用したオンライン授業のスケジュールは、しながわ・目黒こどもスクールのウェブサイトでご確認ください。

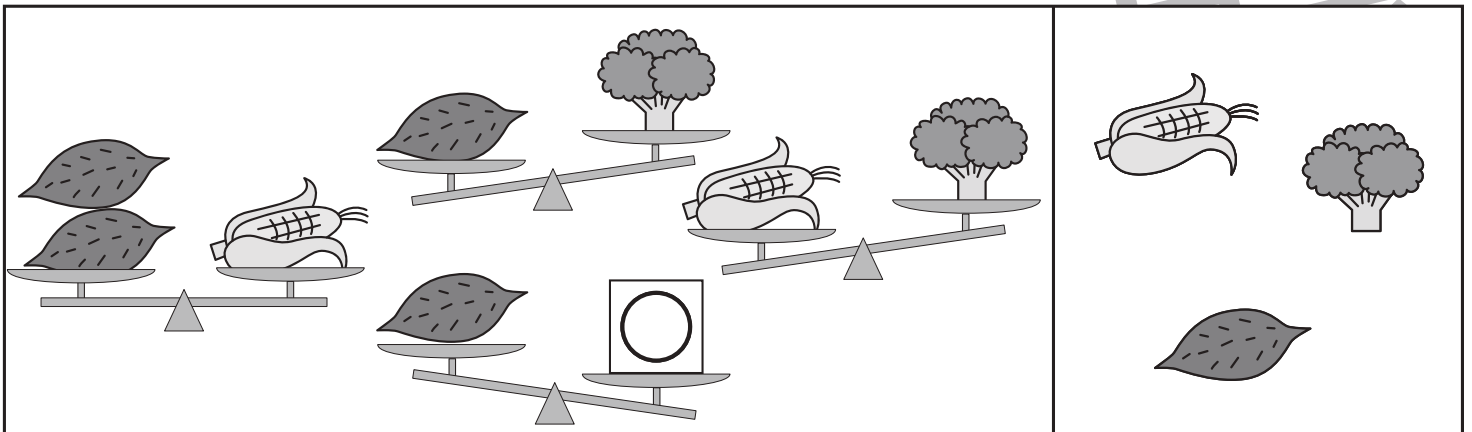
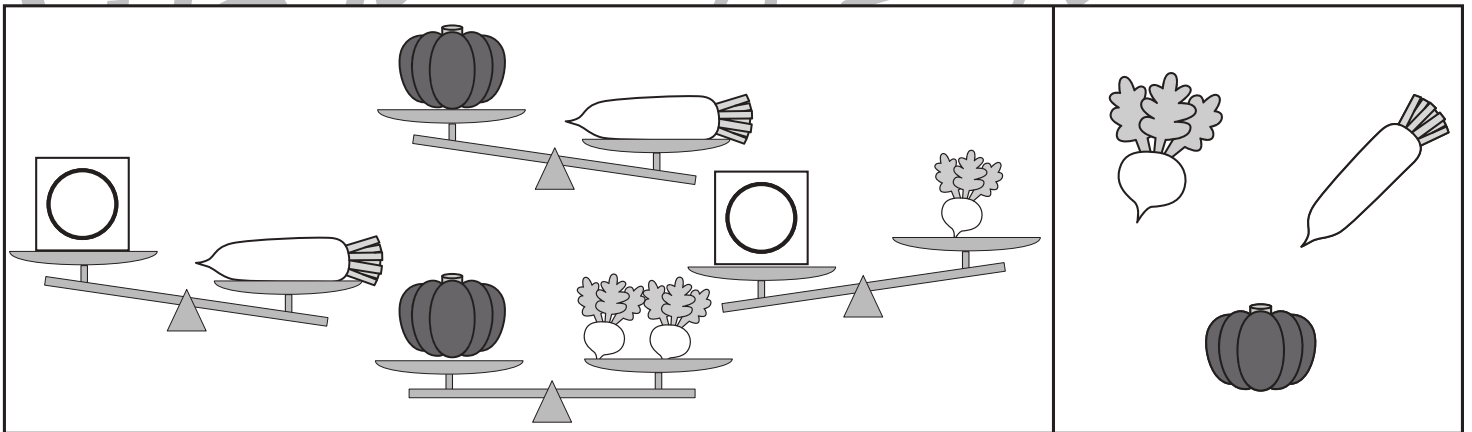
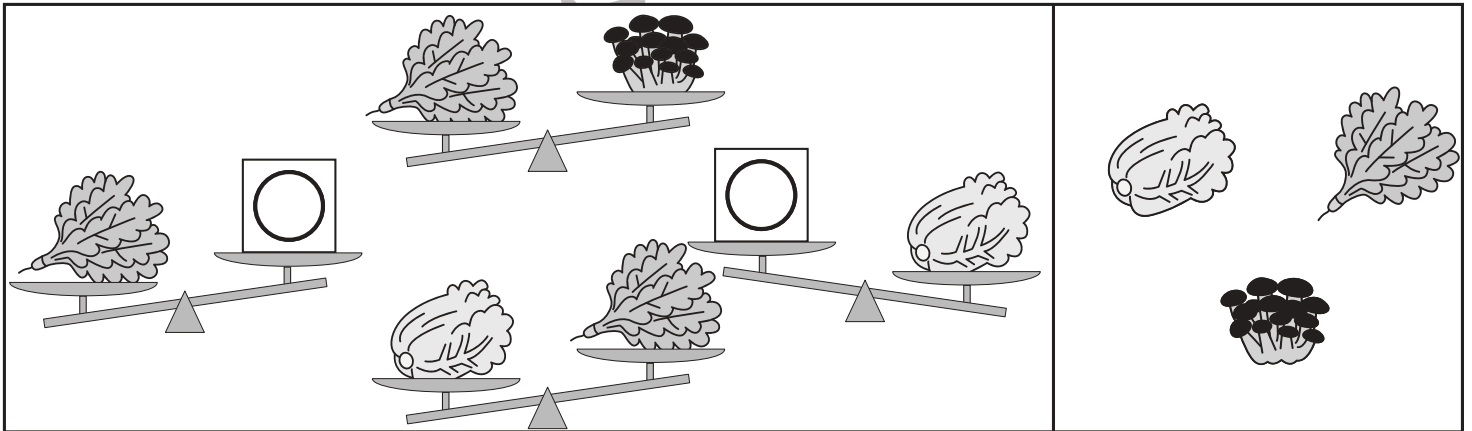
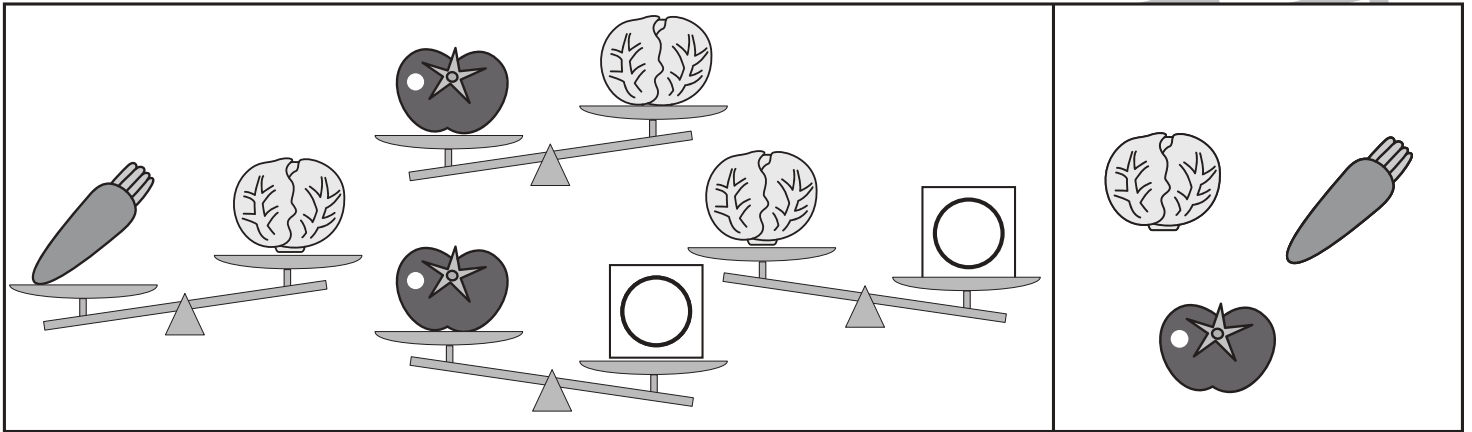


おうちで、やろう。

Study at home. 小学校受験の家庭学習教材

推理：重さ⑬

左の四角の中は3つの野菜をシーソーで重さ比べをした様子です。右の四角の中から○の付いている四角に入る野菜を選びその野菜に○をつけます。



※1. このプリントは、しながわ・目黒こどもスクールのウェブサイトからダウンロードできます。無断複写・引用はご遠慮ください。

※2. このプリントを活用したオンライン授業のスケジュールは、しながわ・目黒こどもスクールのウェブサイトでご確認ください。

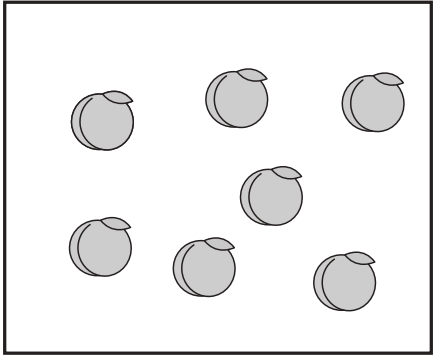
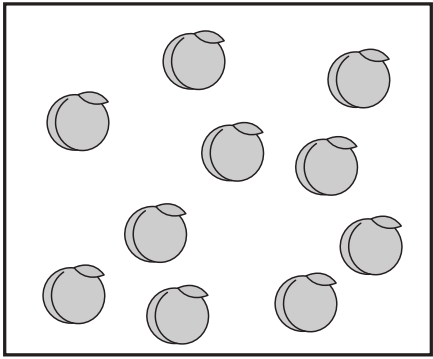
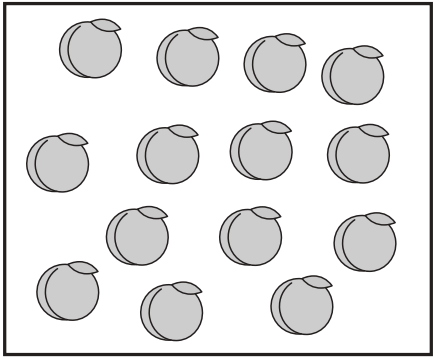


おうちで、やろう。

Study at home. 小学校受験の家庭学習教材

数量：分割⑦

一番左の箱の中に入っているももを点線でつながれているマスに分けていきます。このとき、太いマスに分けるももはいくつですか。その数だけマスの中に○をかきます。

	<table border="1" style="margin: 0 auto;"> <tr><td> </td><td> </td><td> </td><td> </td></tr> <tr><td> </td><td> </td><td> </td><td> </td></tr> </table> <table border="1" style="margin: 0 auto;"> <tr><td>🍑</td><td>🍑</td><td>🍑</td><td>🍑</td></tr> <tr><td> </td><td> </td><td> </td><td> </td></tr> </table>									🍑	🍑	🍑	🍑					<table border="1" style="margin: 0 auto;"> <tr><td> </td><td> </td><td> </td></tr> <tr><td> </td><td> </td><td> </td></tr> </table> <table border="1" style="margin: 0 auto;"> <tr><td>🍑</td><td>🍑</td><td> </td></tr> <tr><td> </td><td> </td><td> </td></tr> </table> <table border="1" style="margin: 0 auto;"> <tr><td> </td><td> </td><td> </td></tr> <tr><td> </td><td> </td><td> </td></tr> </table>							🍑	🍑										
🍑	🍑	🍑	🍑																																	
🍑	🍑																																			
	<table border="1" style="margin: 0 auto;"> <tr><td> </td><td> </td><td> </td><td> </td></tr> <tr><td> </td><td> </td><td> </td><td> </td></tr> </table> <table border="1" style="margin: 0 auto;"> <tr><td>🍑</td><td>🍑</td><td>🍑</td><td>🍑</td></tr> <tr><td>🍑</td><td> </td><td> </td><td> </td></tr> </table>									🍑	🍑	🍑	🍑	🍑				<table border="1" style="margin: 0 auto;"> <tr><td> </td><td> </td><td> </td></tr> <tr><td>🍑</td><td> </td><td> </td></tr> </table> <table border="1" style="margin: 0 auto;"> <tr><td>🍑</td><td>🍑</td><td> </td></tr> <tr><td> </td><td> </td><td> </td></tr> </table> <table border="1" style="margin: 0 auto;"> <tr><td> </td><td> </td><td> </td></tr> <tr><td> </td><td> </td><td> </td></tr> </table>				🍑			🍑	🍑										
🍑	🍑	🍑	🍑																																	
🍑																																				
🍑																																				
🍑	🍑																																			
	<table border="1" style="margin: 0 auto;"> <tr><td> </td><td> </td><td> </td><td> </td></tr> <tr><td> </td><td> </td><td> </td><td> </td></tr> </table> <table border="1" style="margin: 0 auto;"> <tr><td>🍑</td><td>🍑</td><td>🍑</td><td>🍑</td></tr> <tr><td>🍑</td><td>🍑</td><td> </td><td> </td></tr> </table>									🍑	🍑	🍑	🍑	🍑	🍑			<table border="1" style="margin: 0 auto;"> <tr><td> </td><td> </td><td> </td></tr> <tr><td>🍑</td><td>🍑</td><td> </td></tr> </table> <table border="1" style="margin: 0 auto;"> <tr><td>🍑</td><td>🍑</td><td>🍑</td></tr> <tr><td>🍑</td><td> </td><td> </td></tr> </table> <table border="1" style="margin: 0 auto;"> <tr><td> </td><td> </td><td> </td></tr> <tr><td> </td><td> </td><td> </td></tr> </table>				🍑	🍑		🍑	🍑	🍑	🍑								
🍑	🍑	🍑	🍑																																	
🍑	🍑																																			
🍑	🍑																																			
🍑	🍑	🍑																																		
🍑																																				

※1. このプリントは、しながわ・目黒こどもスクールのウェブサイトでダウンロードができます。無断複写・引用はご遠慮ください。

※2. このプリントを活用したオンライン授業のスケジュールは、しながわ・目黒こどもスクールのウェブサイトでご確認ください。

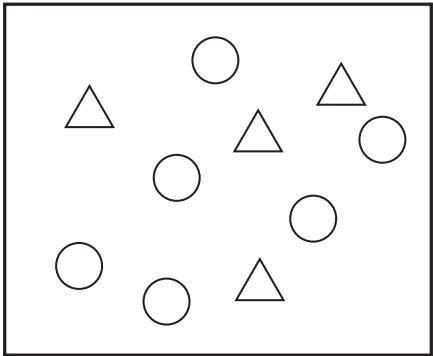
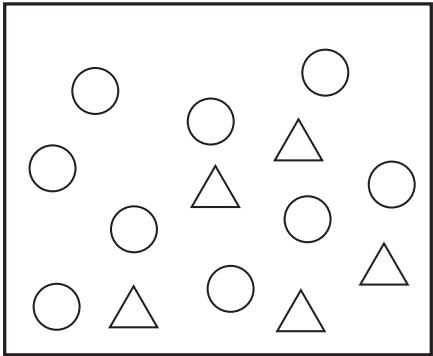
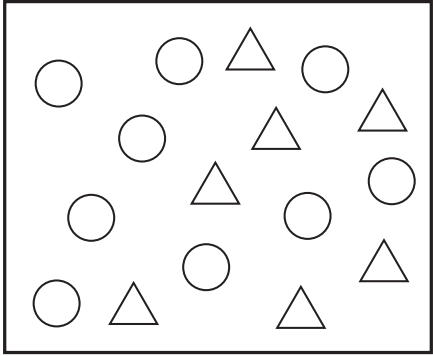


おうちで、やろう。

Study at home. 小学校受験の家庭学習教材

数量：分割⑧

一番左の箱の中に入っている○と△を点線でつながれているマスに分けていきます。このとき、太いマスに分ける○と△はいくつですか。その数だけマスの中に○と△をかきます。

	<table border="1" style="margin: 0 auto; border-collapse: collapse;"> <tr><td> </td><td> </td><td> </td><td> </td></tr> <tr><td> </td><td> </td><td> </td><td> </td></tr> </table> <table border="1" style="margin: 0 auto; border-collapse: collapse;"> <tr><td>○</td><td>○</td><td>○</td><td>○</td></tr> <tr><td>△</td><td>△</td><td> </td><td> </td></tr> </table>									○	○	○	○	△	△			<table border="1" style="margin: 0 auto; border-collapse: collapse;"> <tr><td> </td><td> </td><td> </td></tr> <tr><td>○</td><td>△</td><td> </td></tr> <tr><td> </td><td> </td><td> </td></tr> <tr><td>○</td><td>○</td><td>△</td></tr> <tr><td> </td><td> </td><td> </td></tr> <tr><td> </td><td> </td><td> </td></tr> </table>				○	△					○	○	△						
○	○	○	○																																	
△	△																																			
○	△																																			
○	○	△																																		
	<table border="1" style="margin: 0 auto; border-collapse: collapse;"> <tr><td> </td><td> </td><td> </td><td> </td></tr> <tr><td> </td><td> </td><td> </td><td> </td></tr> </table> <table border="1" style="margin: 0 auto; border-collapse: collapse;"> <tr><td>○</td><td>○</td><td>○</td><td>○</td></tr> <tr><td>○</td><td>△</td><td>△</td><td> </td></tr> </table>									○	○	○	○	○	△	△		<table border="1" style="margin: 0 auto; border-collapse: collapse;"> <tr><td> </td><td> </td><td> </td></tr> <tr><td>○</td><td>△</td><td> </td></tr> <tr><td> </td><td> </td><td> </td></tr> <tr><td>○</td><td>○</td><td>○</td></tr> <tr><td>△</td><td> </td><td> </td></tr> <tr><td> </td><td> </td><td> </td></tr> </table>				○	△					○	○	○	△					
○	○	○	○																																	
○	△	△																																		
○	△																																			
○	○	○																																		
△																																				
	<table border="1" style="margin: 0 auto; border-collapse: collapse;"> <tr><td> </td><td> </td><td> </td><td> </td></tr> <tr><td> </td><td> </td><td> </td><td> </td></tr> </table> <table border="1" style="margin: 0 auto; border-collapse: collapse;"> <tr><td>○</td><td>○</td><td>○</td><td>○</td></tr> <tr><td>△</td><td>△</td><td>△</td><td>△</td></tr> </table>									○	○	○	○	△	△	△	△	<table border="1" style="margin: 0 auto; border-collapse: collapse;"> <tr><td> </td><td> </td><td> </td></tr> <tr><td>○</td><td>○</td><td>○</td></tr> <tr><td> </td><td> </td><td> </td></tr> <tr><td>○</td><td>△</td><td>△</td></tr> <tr><td>△</td><td> </td><td> </td></tr> <tr><td> </td><td> </td><td> </td></tr> </table>				○	○	○				○	△	△	△					
○	○	○	○																																	
△	△	△	△																																	
○	○	○																																		
○	△	△																																		
△																																				

※1. このプリントは、しながわ・目黒こどもスクールのウェブサイトでダウンロードができます。無断複写・引用はご遠慮ください。
 ※2. このプリントを活用したオンライン授業のスケジュールは、しながわ・目黒こどもスクールのウェブサイトでご確認ください。






おうちで、やろう。

Study at home. 小学校受験の家庭学習教材

数量：分割⑨

一番左の箱の中に入っているりんごとみかみを点線でつながれているマスに分けていきます。このとき、太いマスに分けるりんごとみかんはいくつですか。その数だけマスの中にもりんごは○を、みかんは△をかきます。

	<table border="1" style="width: 100%; height: 100%; border-collapse: collapse;"> <tr><td style="width: 25%; height: 20px;"></td><td style="width: 25%; height: 20px;"></td><td style="width: 25%; height: 20px;"></td><td style="width: 25%; height: 20px;"></td></tr> <tr><td style="width: 25%; height: 20px;"></td><td style="width: 25%; height: 20px;"></td><td style="width: 25%; height: 20px;"></td><td style="width: 25%; height: 20px;"></td></tr> </table>									<table border="1" style="width: 100%; height: 100%; border-collapse: collapse;"> <tr><td style="width: 33%; height: 20px;"></td><td style="width: 33%; height: 20px;"></td><td style="width: 33%; height: 20px;"></td></tr> <tr><td style="width: 33%; height: 20px;"></td><td style="width: 33%; height: 20px;"></td><td style="width: 33%; height: 20px;"></td></tr> <tr><td style="width: 33%; height: 20px;"></td><td style="width: 33%; height: 20px;"></td><td style="width: 33%; height: 20px;"></td></tr> <tr><td style="width: 33%; height: 20px;"></td><td style="width: 33%; height: 20px;"></td><td style="width: 33%; height: 20px;"></td></tr> </table>												
	<table border="1" style="width: 100%; height: 100%; border-collapse: collapse;"> <tr><td style="width: 25%; height: 20px;"></td><td style="width: 25%; height: 20px;"></td><td style="width: 25%; height: 20px;"></td><td style="width: 25%; height: 20px;"></td></tr> <tr><td style="width: 25%; height: 20px;"></td><td style="width: 25%; height: 20px;"></td><td style="width: 25%; height: 20px;"></td><td style="width: 25%; height: 20px;"></td></tr> </table>									<table border="1" style="width: 100%; height: 100%; border-collapse: collapse;"> <tr><td style="width: 33%; height: 20px;"></td><td style="width: 33%; height: 20px;"></td><td style="width: 33%; height: 20px;"></td></tr> <tr><td style="width: 33%; height: 20px;"></td><td style="width: 33%; height: 20px;"></td><td style="width: 33%; height: 20px;"></td></tr> <tr><td style="width: 33%; height: 20px;"></td><td style="width: 33%; height: 20px;"></td><td style="width: 33%; height: 20px;"></td></tr> <tr><td style="width: 33%; height: 20px;"></td><td style="width: 33%; height: 20px;"></td><td style="width: 33%; height: 20px;"></td></tr> </table>												
	<table border="1" style="width: 100%; height: 100%; border-collapse: collapse;"> <tr><td style="width: 25%; height: 20px;"></td><td style="width: 25%; height: 20px;"></td><td style="width: 25%; height: 20px;"></td><td style="width: 25%; height: 20px;"></td></tr> <tr><td style="width: 25%; height: 20px;"></td><td style="width: 25%; height: 20px;"></td><td style="width: 25%; height: 20px;"></td><td style="width: 25%; height: 20px;"></td></tr> </table>									<table border="1" style="width: 100%; height: 100%; border-collapse: collapse;"> <tr><td style="width: 33%; height: 20px;"></td><td style="width: 33%; height: 20px;"></td><td style="width: 33%; height: 20px;"></td></tr> <tr><td style="width: 33%; height: 20px;"></td><td style="width: 33%; height: 20px;"></td><td style="width: 33%; height: 20px;"></td></tr> <tr><td style="width: 33%; height: 20px;"></td><td style="width: 33%; height: 20px;"></td><td style="width: 33%; height: 20px;"></td></tr> <tr><td style="width: 33%; height: 20px;"></td><td style="width: 33%; height: 20px;"></td><td style="width: 33%; height: 20px;"></td></tr> </table>												

※1. このプリントは、しながわ・目黒こどもスクールのウェブサイトでダウンロードができます。無断複写・引用はご遠慮ください。
※2. このプリントを活用したオンライン授業のスケジュールは、しながわ・目黒こどもスクールのウェブサイトでご確認ください。











おうちで、やろう。

Study at home. 小学校受験の家庭学習教材

図形：島作り⑤

黒い丸を全て通って1本の線をつなぎ、島をつくります。縦・横・斜めに進むことができます。



※1. このプリントは、しながわ・目黒こどもスクールのウェブサイトでダウンロードができます。無断複写・引用はご遠慮ください。
※2. このプリントを活用したオンライン授業のスケジュールは、しながわ・目黒こどもスクールのウェブサイトでご確認ください。