



おうちで、やろう。

Study at home. 小学校受験の家庭学習教材

言語：しりとり⑧

左上のカラスからはじめてしりとりで、できるだけ長くつなげます。つなげた絵を線で結びましょう。



※1. このプリントは、しながわ・目黒こどもスクールのウェブサイトダウンロードができます。無断複写・引用はご遠慮ください。

※2. このプリントを活用したオンライン授業のスケジュールは、しながわ・目黒こどもスクールのウェブサイトでご確認ください。



おうちで、やろう。

Study at home. 小学校受験の家庭学習教材

常識：季節⑮

左の四角の中の絵の季節を考えます。

春はケーキの下に、夏はドーナツの下に、秋はプリンの下に、冬はたい焼きの下に○をかきます。

※1. このプリントは、しながわ・目黒こどもスクールのウェブサイトからダウンロードできます。無断複写・引用はご遠慮ください。

※2. このプリントを活用したオンライン授業のスケジュールは、しながわ・目黒こどもスクールのウェブサイトでご確認ください。

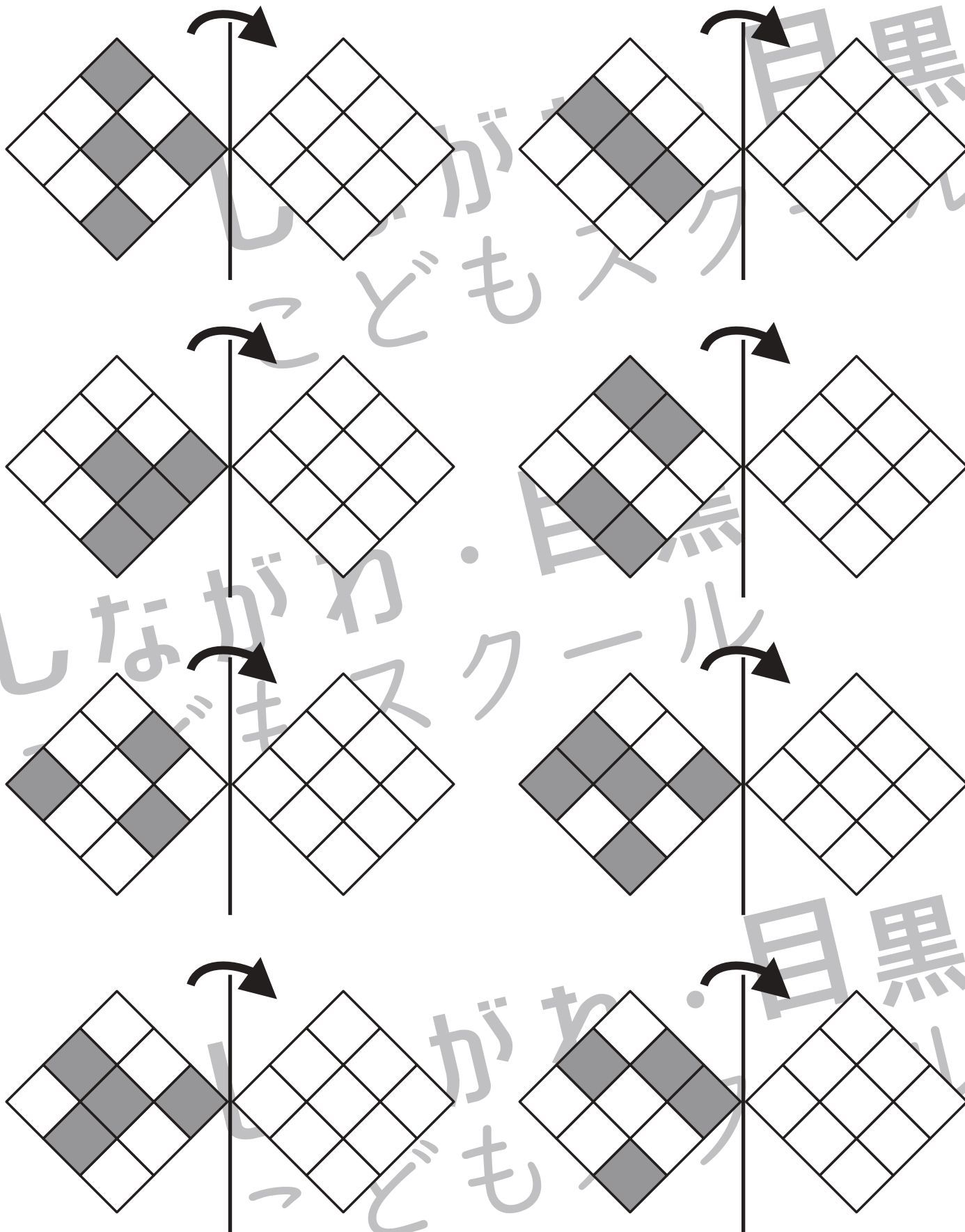


おうちで、やろう。

Study at home. 小学校受験の家庭学習教材

図形：折り重ね 64

それぞれの四角は透明です。真ん中の線で矢印の方へ折り重ねた時の見え方を考えて、マスを塗ります。



※1. このプリントは、しながわ・目黒こどもスクールのウェブサイトでダウンロードができます。無断複写・引用はご遠慮ください。
 ※2. このプリントを活用したオンライン授業のスケジュールは、しながわ・目黒こどもスクールのウェブサイトでご確認ください。

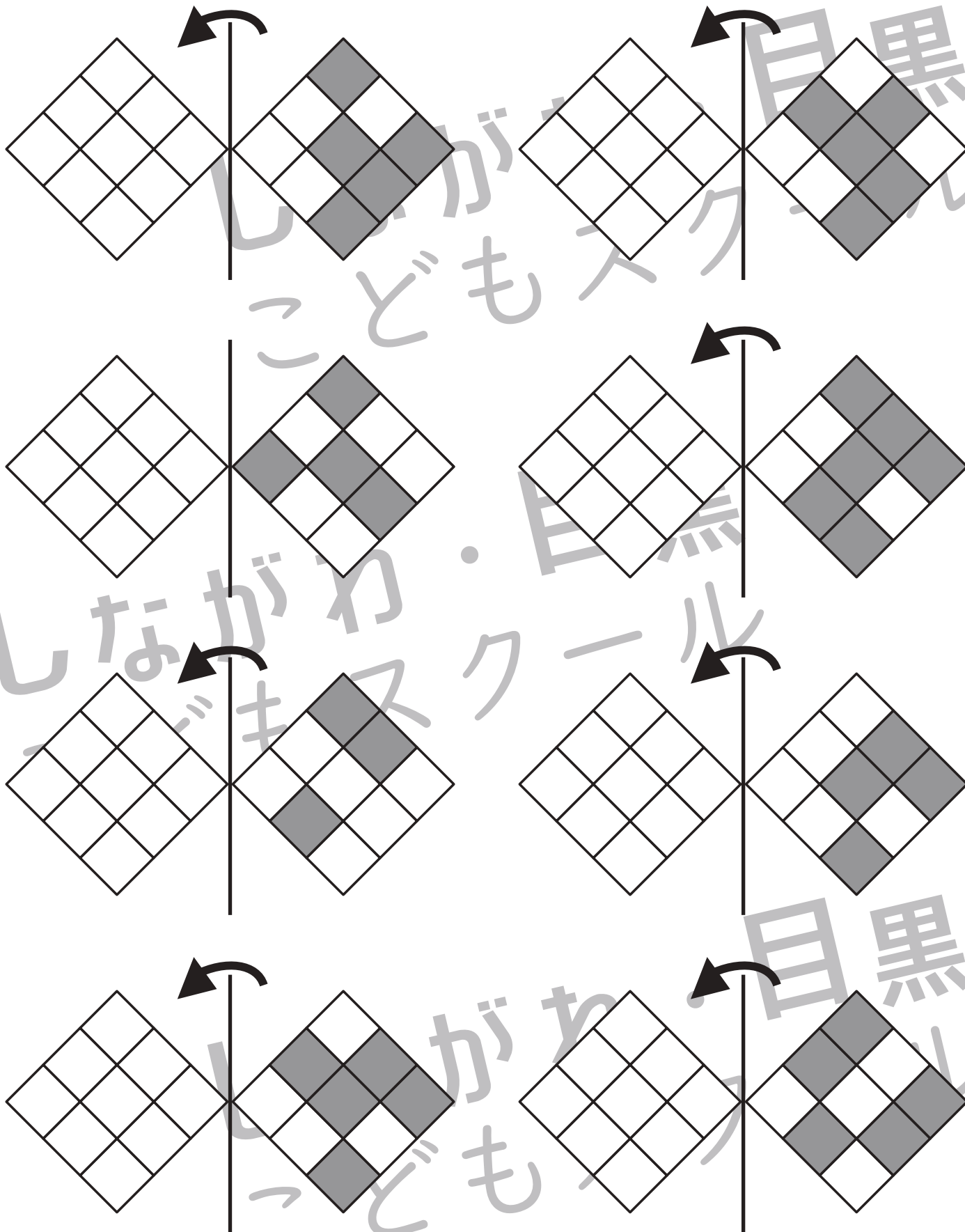


おうちで、やろう。

Study at home. 小学校受験の家庭学習教材

図形：折り重ね 65

それぞれの四角は透明です。真ん中の線で矢印の方へ折り重ねた時の見え方を考えて、マスを塗ります。



※1. このプリントは、しながわ・目黒こどもスクールのウェブサイトでダウンロードができます。無断複写・引用はご遠慮ください。
 ※2. このプリントを活用したオンライン授業のスケジュールは、しながわ・目黒こどもスクールのウェブサイトでご確認ください。

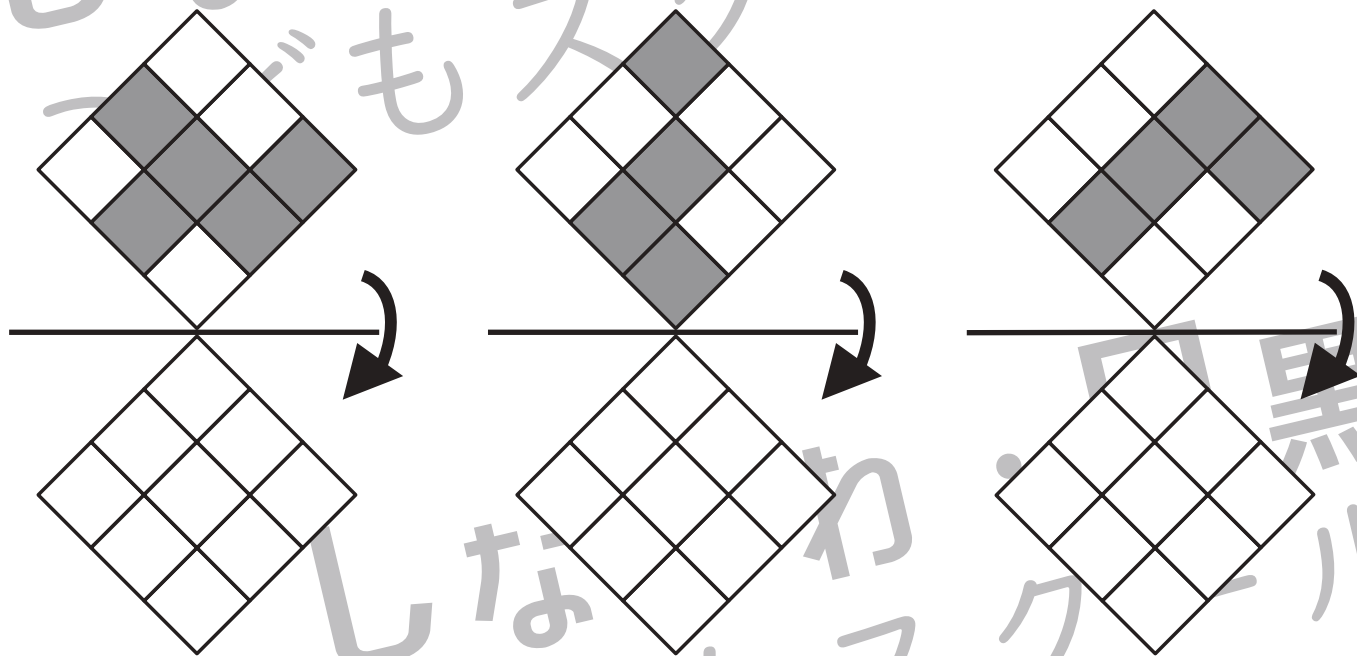
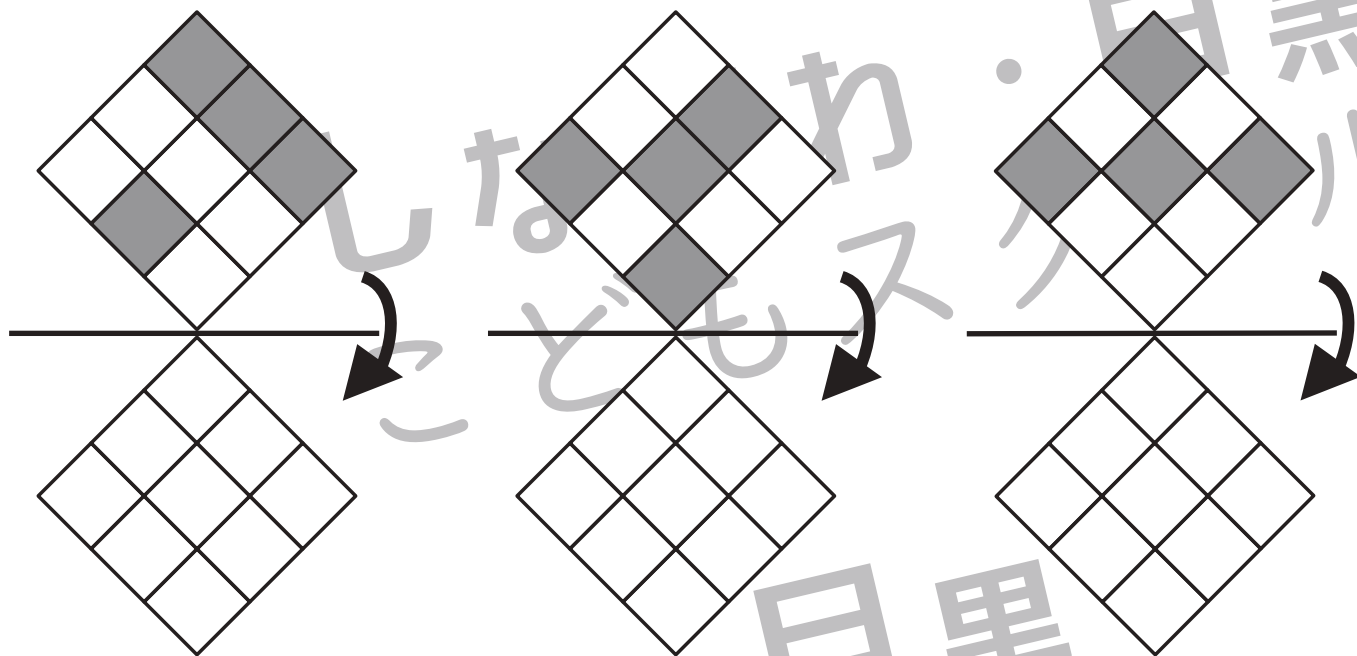


おうちで、やろう。

Study at home. 小学校受験の家庭学習教材

図形：折り重ね 66

それぞれの四角は透明です。真ん中の線で矢印の方へ折り重ねた時の見え方を考えて、マスを塗ります。



※1. このプリントは、しながわ・目黒こどもスクールのウェブサイトでダウンロードができます。無断複写・引用はご遠慮ください。
 ※2. このプリントを活用したオンライン授業のスケジュールは、しながわ・目黒こどもスクールのウェブサイトでご確認ください。

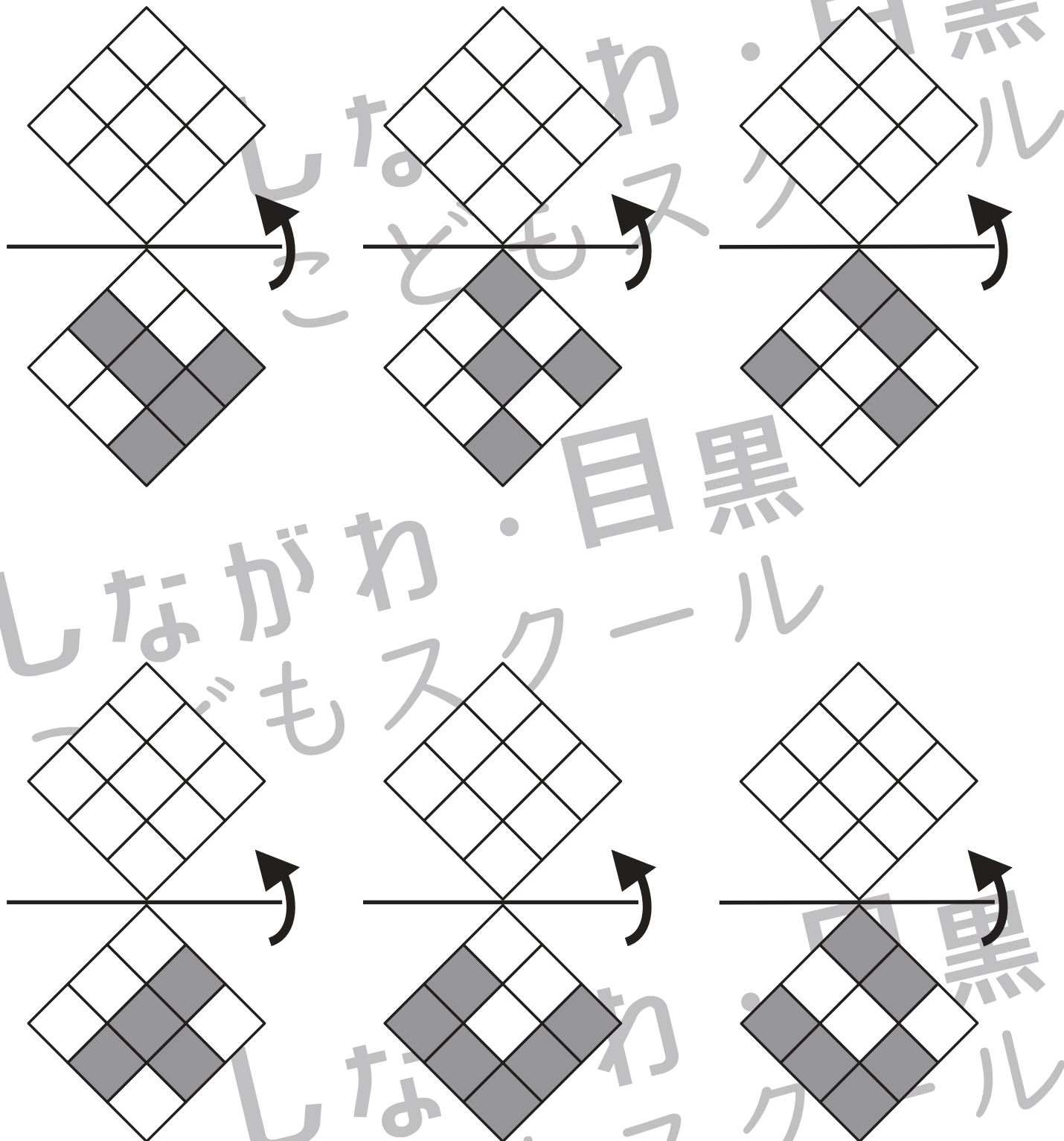


おうちで、やろう。

Study at home. 小学校受験の家庭学習教材

図形：折り重ね 67

それぞれの四角は透明です。真ん中の線で矢印の方へ折り重ねた時の見え方を考えて、マスを塗ります。



※1. このプリントは、しながわ・目黒こどもスクールのウェブサイトでダウンロードができます。無断複写・引用はご遠慮ください。
 ※2. このプリントを活用したオンライン授業のスケジュールは、しながわ・目黒こどもスクールのウェブサイトでご確認ください。



おうちで、やろう。

Study at home. 小学校受験の家庭学習教材

推理：じゃんけん⑱

ウサギとブタでじゃんけんゲームをします。じゃんけんの手は左がウサギで、右がブタです。じゃんけんに勝つと相手から1つ食べ物をもらえます。二回じゃんけんした後、ウサギが持っている食べ物の数だけ下の四角に○をかきます。

※1. このプリントは、しながわ・目黒こどもスクールのウェブサイトからダウンロードできます。無断複写・引用はご遠慮ください。

※2. このプリントを活用したオンライン授業のスケジュールは、しながわ・目黒こどもスクールのウェブサイトでご確認ください。



おうちで、やろう。

Study at home. 小学校受験の家庭学習教材

推理：じゃんけん⑱

ウサギとブタでじゃんけんゲームをします。じゃんけんの手は左がウサギで、右がブタです。じゃんけんに勝つと相手から2つ食べ物をもらえます。ただし、あいこの場合は2匹とも外でじゃんけんを見ているクマさんに1つあげます。二回じゃんけんした後、ウサギが持っている食べ物の数だけ下の四角に○をかきます。

※1. このプリントは、しながわ・目黒こどもスクールのウェブサイトからダウンロードできます。無断複写・引用はご遠慮ください。

※2. このプリントを活用したオンライン授業のスケジュールは、しながわ・目黒こどもスクールのウェブサイトでご確認ください。

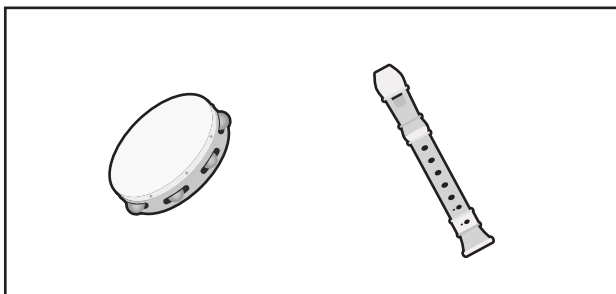
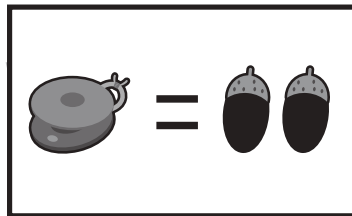

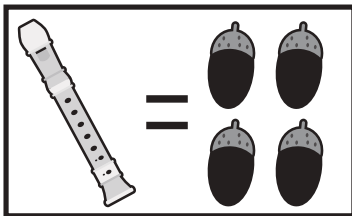
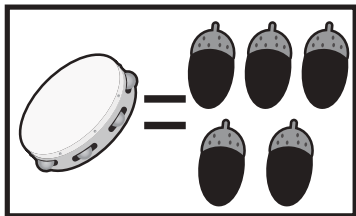


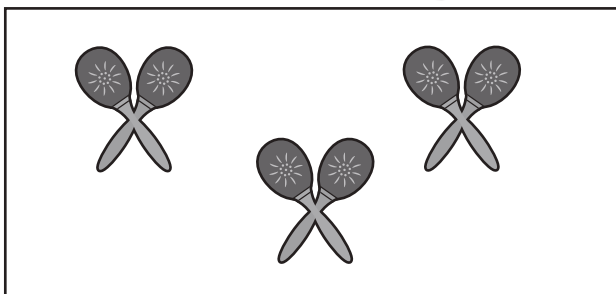
おうちで、やろう。

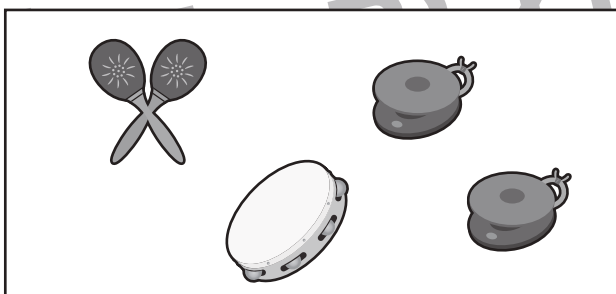
Study at home. 小学校受験の家庭学習教材

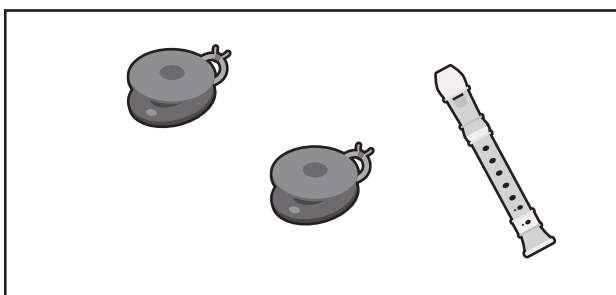
数量：置き換え⑬


上の太い四角の中がお約束です。それぞれの楽器は右のドングリの数で買うことができます。左の四角の楽器を買うためにはドングリはいくつあればいいですか。そのドングリの数だけ右の四角に○をつけます。











※1. このプリントは、しながわ・目黒こどもスクールのウェブサイトでダウンロードができます。無断複写・引用はご遠慮ください。
※2. このプリントを活用したオンライン授業のスケジュールは、しながわ・目黒こどもスクールのウェブサイトでご確認ください。






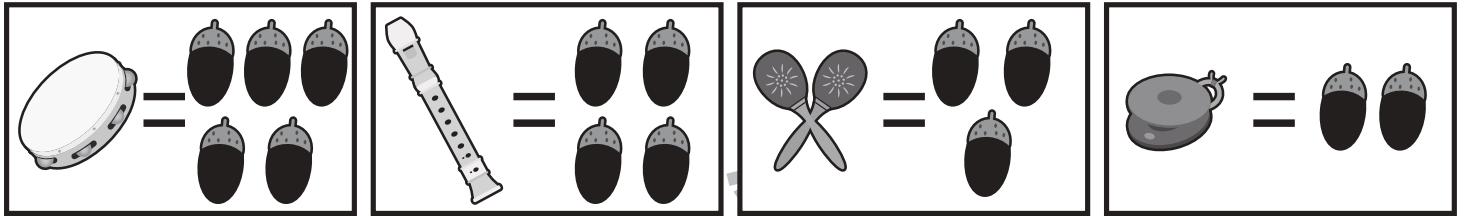


おうちで、やろう。

Study at home. 小学校受験の家庭学習教材

数量：置き換え⑭

上の太い四角の中がお約束です。それぞれの楽器は右のドングリの数で買うことができます。左の四角の楽器を買うために必要なドングリの数だけを真ん中の四角に○を書きます。真ん中のドングリの個数で買える楽器の数だけ右の四角にまるをつけます。



※1. このプリントは、しながわ・目黒こどもスクールのウェブサイトでダウンロードができます。無断複写・引用はご遠慮ください。

※2. このプリントを活用したオンライン授業のスケジュールは、しながわ・目黒こどもスクールのウェブサイトでご確認ください。