









おうちで、やろう。

Study at home. 小学校受験の家庭学習教材

指示の聞き取り②④

それぞれの動物がお話の通りにマスを移動します。

- ①イヌ：右に2つ、上に1つ移動したマスに○をかきます。
- ②クマ：左端まで移動して下に3つ移動したマスに△をかきます。
- ③ネコ：右、下、右の順番でそれぞれ2つずつ移動したマスに×をかきます。
- ④パンダ：右に3つ、左下に1つ移動したマスに◎をかきます。
- ⑤サルとライオン：サルは右上に進み、ライオンは上に進みます。2匹はぶつかる場所に移動しました。そのマスに□をかきます。

			○				
							
					□		
							
△							
							×
							
							
			◎				

※1. このプリントは、しながわ・目黒こどもスクールのウェブサイトでダウンロードができます。無断複写・引用はご遠慮ください。

※2. このプリントを活用したオンライン授業のスケジュールは、しながわ・目黒こどもスクールのウェブサイトでご確認ください。









おうちで、やろう。

Study at home. 小学校受験の家庭学習教材

指示の聞き取り⑳

たろうくんは家族で動物園に来ました★から★までたろうくんの家族が通った道に線を引きます。プリントは見ながらお話を聞きます。たろうくんはゾウが見える★の入り口から入り、シマウマとパンダのを左右に見ながら進みました。シマウマの檻の所を左に曲がってカンガルーを見ました。妹のけいこさんがフラミンゴを見たいと言ったので突き当たりを右に曲がって、フラミンゴとカンガルーを左右に見ながら進みました。ペンギンが見えてきましたが、右手の方にライオンが見えて、けいこさんが怖がってしまったので、ライオンの檻の手前の角を左に曲がってペンギンとサルとコアラをライオンの近くを通らないように見ながら進みました。コアラを通り過ぎて右に曲がり左手にキリンを見てパンダとキリンの間を通過してそのまま真っすぐ進み出口の★へ向かいました。



※1. このプリントは、しながわ・目黒こどもスクールのウェブサイトからダウンロードできます。無断複製・引用はご遠慮ください。
※2. このプリントを活用したオンライン授業のスケジュールは、しながわ・目黒こどもスクールのウェブサイトでご確認ください。













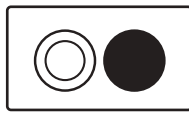
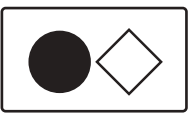


おうちで、やろう。







Study at home. 小学校受験の家庭学習教材







言語：音の理解③⑥







左の四角の中の名前の音を矢印の先の四角の中の記号にします。このとき、右の四角の中の四角の中の記号の音を続けてできる名前の絵を矢印の先の絵の中から選んで○をつけます。

  	  
---	---

    	  
--	---

  	  
---	--

  	  
---	--

  	  
---	--

※1. このプリントは、しながわ・目黒こどもスクールのウェブサイトでダウンロードができます。無断複写・引用はご遠慮ください。
 ※2. このプリントを活用したオンライン授業のスケジュールは、しながわ・目黒こどもスクールのウェブサイトでご確認ください。



おうちで、やろう。

Study at home. 小学校受験の家庭学習教材

図形：回転重ね⑱

左のマスが矢印の方向に1回倒した後、隣にあるマスにぴったり重ねます。この時、隠れないで見えているものを一番右の四角の中から選び○をつけます。

🍏		🐧	
	🐱	🦓	
🍓			🍌

🐯	🐹		
🍓	🐭	🐨	
		🍓	

🐭	🍓		🐶
	🐧	🍏	
	🍇		

※1. このプリントは、しながわ・目黒こどもスクールのウェブサイトでダウンロードができます。無断複写・引用はご遠慮ください。
※2. このプリントを活用したオンライン授業のスケジュールは、しながわ・目黒こどもスクールのウェブサイトでご確認ください。









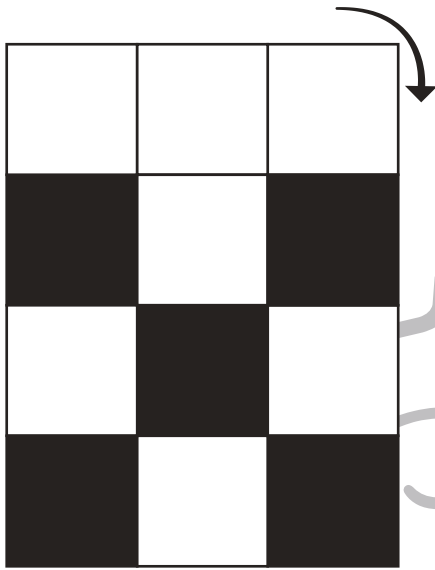


おうちで、やろう。

Study at home. 小学校受験の家庭学習教材

図形：回転重ね⑬

左のマスが矢印の方向に1回倒した後、隣にあるマスにぴったり重ねます。この時、隠れないで見えているものを一番右の四角の中から選び○をつけます。



※1. このプリントは、しながわ・目黒こどもスクールのウェブサイトからダウンロードできます。無断複写・引用はご遠慮ください。

※2. このプリントを活用したオンライン授業のスケジュールは、しながわ・目黒こどもスクールのウェブサイトでご確認ください。












おうちで、やろう。

Study at home. 小学校受験の家庭学習教材

図形：回転重ね⑳

左のマスが矢印の方向に1回倒した後、隣にあるマスにぴったり重ねます。この時、隠れないで見えているものを一番右の四角の中から選び○をつけます。



※1. このプリントは、しながわ・目黒こどもスクールのウェブサイトからダウンロードできます。無断複写・引用はご遠慮ください。

※2. このプリントを活用したオンライン授業のスケジュールは、しながわ・目黒こどもスクールのウェブサイトでご確認ください。





おうちで、やろう。

Study at home. 小学校受験の家庭学習教材

図形：模写②⑤

この問題は上から下へと〇と×を上のお手本と同じ場所にかきます。まず、一番上がお手本です。すぐ下に上のお手本と同じ場所に同じ記号をかきます。次は今、かいた場所がお手本です。同じようにすぐ下に上のお手本と同じ場所に同じ記号をかきます。このようにして正しくかいていくと一番下はすべての場所に〇か×をかくことになります。

○	×	○
○	×	○
	×	
○	×	○
	×	
		×
○	×	○
	×	
×		×
○	×	○
	×	
×	○	×
○	×	○
○	×	
×	○	×
○	×	○
○	×	○
×	○	×

○		×
	○	
○	×	×
	○	
○	×	×
×	○	
		×
○	×	×
×	○	
		×
○	×	×
×	○	○
		×
○	×	×
○	×	×
×	○	○

○		
	×	
○		×
	×	
○		×
	×	
	×	
○	○	×
	×	
	×	×
○	○	×
	×	○
○	×	×
○	○	×
	×	○
○	×	×
○	○	×
×	×	○

○		
○		
		×
○		
○		
×		×
○		
○		
×	×	×
○		
○	○	
×	×	×
○		×
○	○	○
×	×	×
○	×	×
○	○	○
×	×	×

※1. このプリントは、しながわ・目黒こどもスクールのウェブサイトでダウンロードができます。無断複写・引用はご遠慮ください。
※2. このプリントを活用したオンライン授業のスケジュールは、しながわ・目黒こどもスクールのウェブサイトでご確認ください。



おうちで、やろう。

Study at home. 小学校受験の家庭学習教材

図形：模写②⑥

この問題は上から下へと〇と×を上のお手本と同じ場所にかきます。まず、一番上がお手本です。すぐ下に上のお手本と同じ場所に同じ記号をかきます。次は今、かいた場所がお手本です。同じようにすぐ下に上のお手本と同じ場所に同じ記号をかきます。このようにして正しくかいていくと一番下はすべての場所に〇か×をかくことになります。

×		
	×	
×		
	×	
△		
×		
	×	○
△		
×		
	×	○
△		▷
×	○	
	×	○
△	×	▷
×	○	△
	×	○
△	×	▷
×	○	△
○	×	○
△	×	▷

○		
○		×
		△
○		×
○		△
○		×
○		△
	×	
○		×
○		△
△	×	▷
○	△	×
○		△
△	×	▷
○	△	×
○	○	△
△	×	▷

	▷	
×		
	▷	
×		○
	▷	×
		○
×	△	○
	▷	×
		○
×	△	○
	▷	×
△	×	○
×	△	○
○	▷	×
△	×	○

		○
		▷
	○	○
		▷
×	○	○
		▷
		△
×	○	○
×		▷
		△
×	○	○
×	×	▷
	○	△
×	○	○
×	×	▷
▷	○	△
×	○	○
×	×	▷

※1. このプリントは、しながわ・目黒こどもスクールのウェブサイトからダウンロードできます。無断複写・引用はご遠慮ください。
※2. このプリントを活用したオンライン授業のスケジュールは、しながわ・目黒こどもスクールのウェブサイトでご確認ください。



おうちで、やろう。

Study at home. 小学校受験の家庭学習教材

数量：サイコロ②⑦

サイコロの目の数を合わせて10にします。左の四角にあるサイコロの目を合わせて足りない数はいくつですか。そのサイコロの目を真ん中の四角から選んで○をつけます。さらに真ん中の四角で選んだサイコロの目の裏の目の数だけ、右の四角の○を塗ります。

※1. このプリントは、しながわ・目黒こどもスクールのウェブサイトでダウンロードができます。無断複写・引用はご遠慮ください。

※2. このプリントを活用したオンライン授業のスケジュールは、しながわ・目黒こどもスクールのウェブサイトでご確認ください。



おうちで、やろう。

Study at home. 小学校受験の家庭学習教材

数量：サイコロ②⑧

サイコロの目の数を合わせて12にします。左の四角にあるサイコロの目を合わせて足りない数はいくつですか。そのサイコロの目を真ん中の四角から選んで○をつけます。さらに真ん中の四角で選んだサイコロの目の裏の目の数だけ、右の四角の○を塗ります。

※1. このプリントは、しながわ・目黒こどもスクールのウェブサイトでダウンロードができます。無断複写・引用はご遠慮ください。

※2. このプリントを活用したオンライン授業のスケジュールは、しながわ・目黒こどもスクールのウェブサイトでご確認ください。