



おうちで、やろう。

Study at home. 小学校受験の家庭学習教材

常識：生活②④

下の四角の中で1本、2本と数えるものに○を、1枚、2枚と数えるものに×を付けましょう。



※1. このプリントは、しながわ・目黒こどもスクールのウェブサイトからダウンロードできます。無断複写・引用はご遠慮ください。

※2. このプリントを活用したオンライン授業のスケジュールは、しながわ・目黒こどもスクールのウェブサイトでご確認ください。



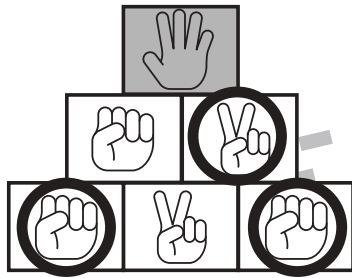
おうちで、やろう。

Study at home. 小学校受験の家庭学習教材

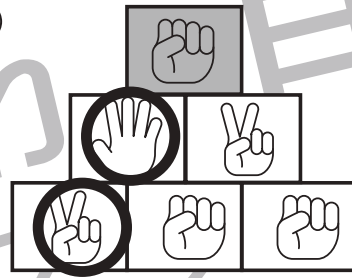
推理：じゃんけん⑳

じゃんけんで勝つ手を探して進みます。上の灰色の四角から四角の中の手に勝つものを下の段から選んで○をつけます。上から順番に進み一番下の段までそれぞれ○をつけます。

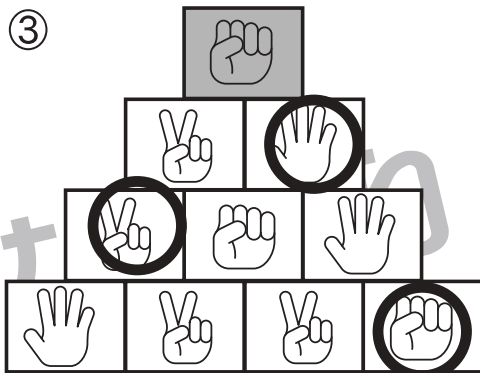
①



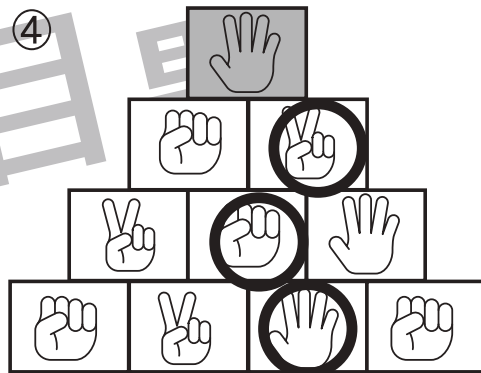
②



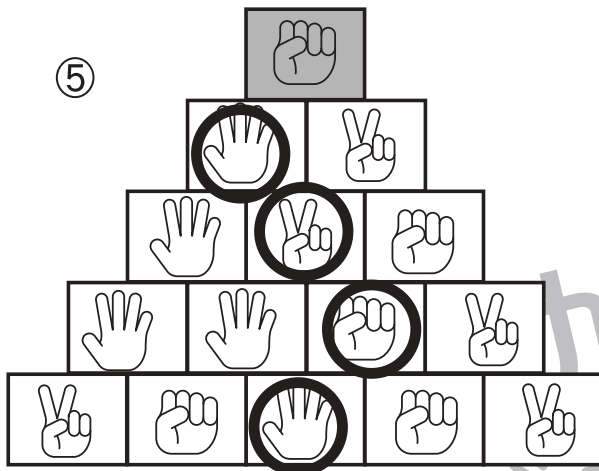
③



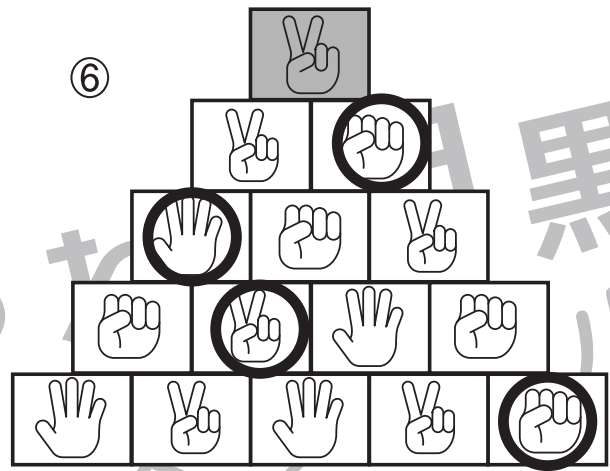
④



⑤



⑥



※1. このプリントは、しながわ・目黒こどもスクールのウェブサイトでダウンロードができます。無断複写・引用はご遠慮ください。

※2. このプリントを活用したオンライン授業のスケジュールは、しながわ・目黒こどもスクールのウェブサイトでご確認ください。



おうちで、やろう。

Study at home. 小学校受験の家庭学習教材

推理：系列完成⑳

記号が記号がある順番で並んでいます。この並び方にはある決まりがあります。どんな決まりがあるのかを考えて、一番右の空いているマスに形を書きましょう。

<table border="1" style="width: 100%; height: 100%;"> <tr><td>△</td></tr> <tr><td> </td></tr> <tr><td>○</td></tr> <tr><td>□</td></tr> </table>	△		○	□	➡	<table border="1" style="width: 100%; height: 100%;"> <tr><td> </td></tr> <tr><td>○</td></tr> <tr><td>□</td></tr> <tr><td>△</td></tr> </table>		○	□	△	➡	<table border="1" style="width: 100%; height: 100%;"> <tr><td>○</td></tr> <tr><td>□</td></tr> <tr><td>△</td></tr> <tr><td> </td></tr> </table>	○	□	△		➡	<table border="1" style="width: 100%; height: 100%;"> <tr><td>□</td></tr> <tr><td>△</td></tr> <tr><td> </td></tr> <tr><td>○</td></tr> </table>	□	△		○
△																						
○																						
□																						
○																						
□																						
△																						
○																						
□																						
△																						
□																						
△																						
○																						

<table border="1" style="width: 100%; height: 100%;"> <tr><td>×</td></tr> <tr><td>□</td></tr> <tr><td>△</td></tr> <tr><td>○</td></tr> </table>	×	□	△	○	➡	<table border="1" style="width: 100%; height: 100%;"> <tr><td>□</td></tr> <tr><td>△</td></tr> <tr><td>○</td></tr> <tr><td>×</td></tr> </table>	□	△	○	×	➡	<table border="1" style="width: 100%; height: 100%;"> <tr><td>△</td></tr> <tr><td>○</td></tr> <tr><td>×</td></tr> <tr><td>□</td></tr> </table>	△	○	×	□	➡	<table border="1" style="width: 100%; height: 100%;"> <tr><td>○</td></tr> <tr><td>×</td></tr> <tr><td>□</td></tr> <tr><td>△</td></tr> </table>	○	×	□	△
×																						
□																						
△																						
○																						
□																						
△																						
○																						
×																						
△																						
○																						
×																						
□																						
○																						
×																						
□																						
△																						

<table border="1" style="width: 100%; height: 100%;"> <tr><td>●</td></tr> <tr><td> </td></tr> <tr><td>■</td></tr> <tr><td>▲</td></tr> <tr><td>□</td></tr> </table>	●		■	▲	□	➡	<table border="1" style="width: 100%; height: 100%;"> <tr><td> </td></tr> <tr><td>■</td></tr> <tr><td> </td></tr> <tr><td>▲</td></tr> <tr><td>□</td></tr> <tr><td>●</td></tr> </table>		■		▲	□	●	➡	<table border="1" style="width: 100%; height: 100%;"> <tr><td>■</td></tr> <tr><td> </td></tr> <tr><td>▲</td></tr> <tr><td>□</td></tr> <tr><td>●</td></tr> <tr><td> </td></tr> </table>	■		▲	□	●		➡	<table border="1" style="width: 100%; height: 100%;"> <tr><td> </td></tr> <tr><td>▲</td></tr> <tr><td>□</td></tr> <tr><td>●</td></tr> <tr><td> </td></tr> <tr><td>■</td></tr> </table>		▲	□	●		■
●																													
■																													
▲																													
□																													
■																													
▲																													
□																													
●																													
■																													
▲																													
□																													
●																													
▲																													
□																													
●																													
■																													

<table border="1" style="width: 100%; height: 100%;"> <tr><td>●</td></tr> <tr><td>△</td></tr> <tr><td>■</td></tr> <tr><td>○</td></tr> <tr><td>▲</td></tr> <tr><td>□</td></tr> </table>	●	△	■	○	▲	□	➡	<table border="1" style="width: 100%; height: 100%;"> <tr><td>■</td></tr> <tr><td>○</td></tr> <tr><td>▲</td></tr> <tr><td>□</td></tr> <tr><td>●</td></tr> <tr><td>△</td></tr> </table>	■	○	▲	□	●	△	➡	<table border="1" style="width: 100%; height: 100%;"> <tr><td>▲</td></tr> <tr><td>□</td></tr> <tr><td>●</td></tr> <tr><td>△</td></tr> <tr><td>■</td></tr> <tr><td>○</td></tr> </table>	▲	□	●	△	■	○	➡	<table border="1" style="width: 100%; height: 100%;"> <tr><td>●</td></tr> <tr><td>△</td></tr> <tr><td>■</td></tr> <tr><td>○</td></tr> <tr><td>▲</td></tr> <tr><td>□</td></tr> </table>	●	△	■	○	▲	□
●																														
△																														
■																														
○																														
▲																														
□																														
■																														
○																														
▲																														
□																														
●																														
△																														
▲																														
□																														
●																														
△																														
■																														
○																														
●																														
△																														
■																														
○																														
▲																														
□																														

※1. このプリントは、しながわ・目黒こどもスクールのウェブサイトでダウンロードができます。無断複写・引用はご遠慮ください。
 ※2. このプリントを活用したオンライン授業のスケジュールは、しながわ・目黒こどもスクールのウェブサイトでご確認ください。



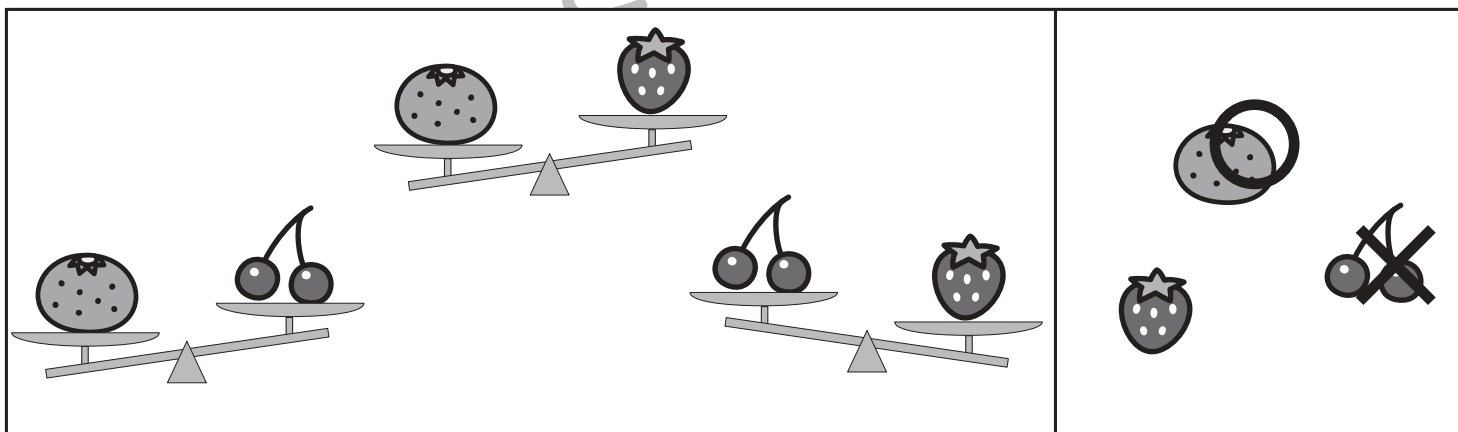



おうちで、やろう。

Study at home. 小学校受験の家庭学習教材

推理：重さ⑳

左の四角の中は3つの果物をシーソーで重さ比べをした様子です。右の四角の中から一番重い果物を選びその果物に○を一番軽い果物に×をつけます。



※1. このプリントは、しながわ・目黒こどもスクールのウェブサイトでダウンロードができます。無断複写・引用はご遠慮ください。

※2. このプリントを活用したオンライン授業のスケジュールは、しながわ・目黒こどもスクールのウェブサイトでご確認ください。



おうちで、やろう。

Study at home. 小学校受験の家庭学習教材

推理：重さ②1

左の四角の中は3つの野菜をシーソーで重さ比べをした様子です。右の四角の中から左から重い順に並んでいるものに○をつけます。



※1. このプリントは、しながわ・目黒こどもスクールのウェブサイトからダウンロードができます。無断複写・引用はご遠慮ください。

※2. このプリントを活用したオンライン授業のスケジュールは、しながわ・目黒こどもスクールのウェブサイトでご確認ください。



おうちで、やろう。

Study at home. 小学校受験の家庭学習教材

数量：加減②⑥

ウサギが上の数のミカンを持って歩いています。途中でタヌキに会ったら2つミカンをあげます。木のある所を通ると3つミカンが増えます。最後にウサギが持っているミカンの数だけ右の四角に○をつけます。

	$\bigcirc \times 2$

	$\bigcirc \times 6$

	$\bigcirc \times 4$

	$\bigcirc \times 9$

	$\bigcirc \times 9$

※1. このプリントは、しながわ・目黒こどもスクールのウェブサイトでダウンロードができます。無断複写・引用はご遠慮ください。
※2. このプリントを活用したオンライン授業のスケジュールは、しながわ・目黒こどもスクールのウェブサイトでご確認ください。



おうちで、やろう。

Study at home. 小学校受験の家庭学習教材

数量：加減⑳

ウサギが上の数のミカンを持って歩いています。途中でネコに会ったら1つ、ブタに会ったら3つミカンをあげます。木のある所を通ると2つミカンが増えます。ネコとブタ以外にはミカンはあげません。最後にウサギが持っているミカンの数だけ右の四角に○をつけます。

	$\bigcirc \times 7$

	$\bigcirc \times 1$

	$\bigcirc \times 8$

	$\bigcirc \times 3$

	$\bigcirc \times 5$

※1. このプリントは、しながわ・目黒こどもスクールのウェブサイトでダウンロードができます。無断複写・引用はご遠慮ください。
※2. このプリントを活用したオンライン授業のスケジュールは、しながわ・目黒こどもスクールのウェブサイトでご確認ください。



おうちで、やろう。

Study at home. 小学校受験の家庭学習教材

数量：多少⑦

①上の絵を見ながら一番数が多いものを下の3つの中から見つけてその絵の下の四角に○をつけます。

②上の絵を見ながら同じ数のものを下の3つの中から見つけてその絵の下の四角に○をつけます。

①

<input type="radio"/>	<input type="radio"/>	<input type="radio"/>

②

<input type="radio"/>	<input type="radio"/>	<input type="radio"/>

※1. このプリントは、しながわ・目黒こどもスクールのウェブサイトでダウンロードができます。無断複写・引用はご遠慮ください。

※2. このプリントを活用したオンライン授業のスケジュールは、しながわ・目黒こどもスクールのウェブサイトでご確認ください。



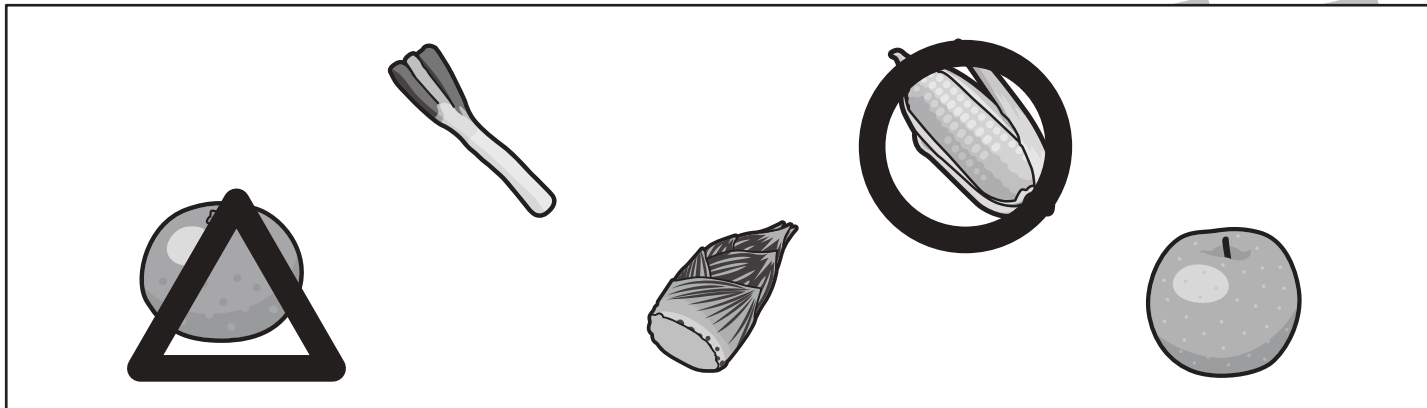


おうちで、やろう。

Study at home. 小学校受験の家庭学習教材

言語：音の理解③⑦

それぞれの四角の中で、音の数がいちばん多いものに○を、3つの音でできているものには△をつけましょう。
答えはひとつだけとは限りません。



※1. このプリントは、しながわ・目黒こどもスクールのウェブサイトでダウンロードができます。無断複写・引用はご遠慮ください。
 ※2. このプリントを活用したオンライン授業のスケジュールは、しながわ・目黒こどもスクールのウェブサイトでご確認ください。