

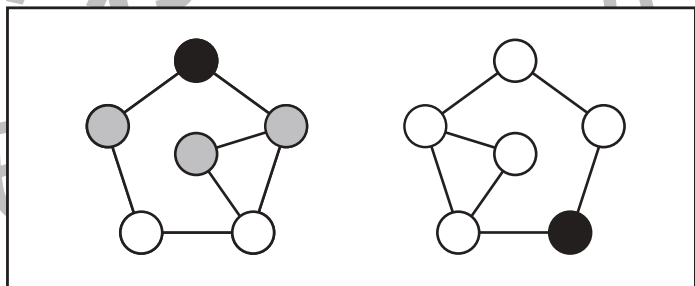
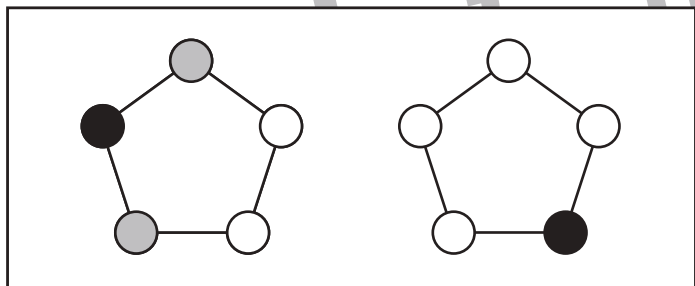
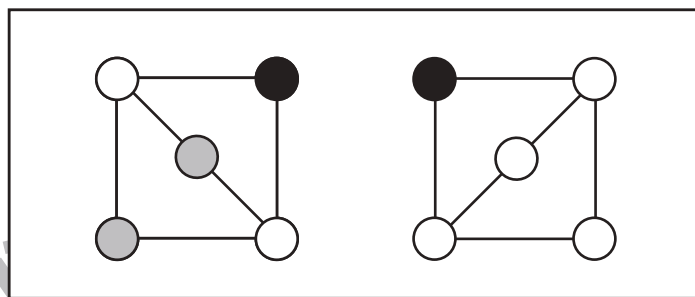
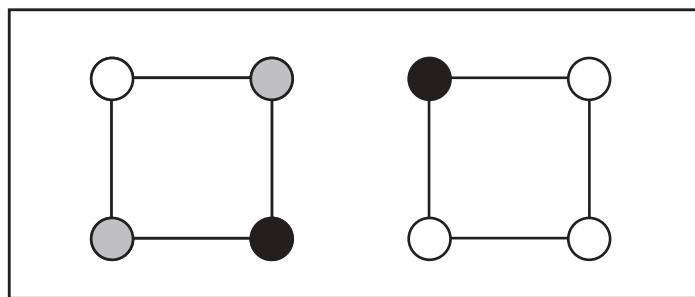
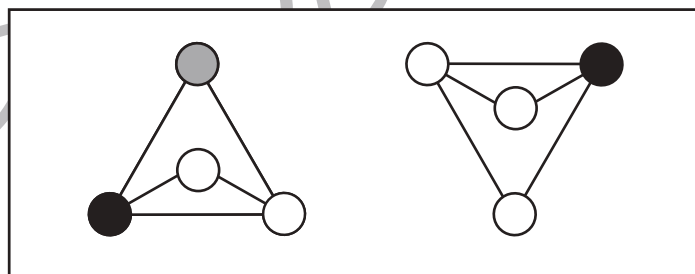
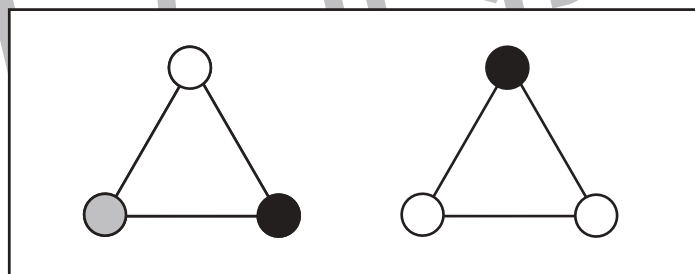
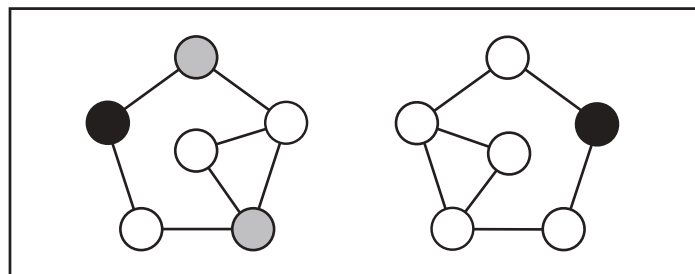
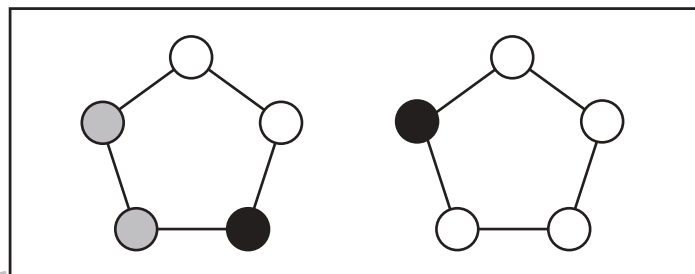
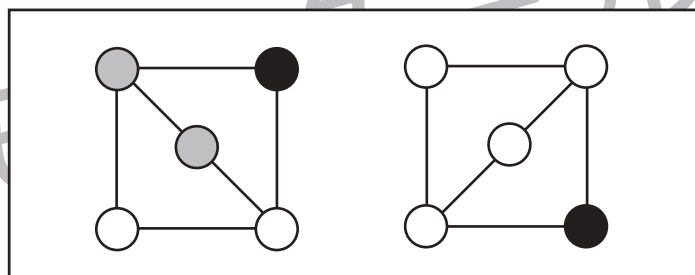
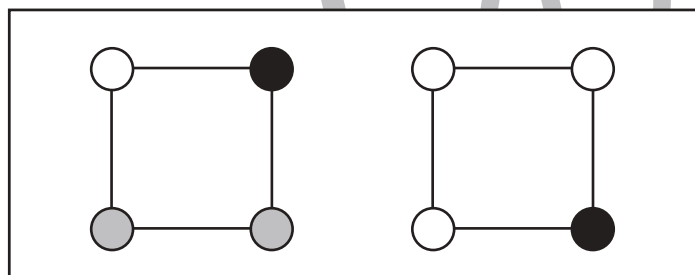
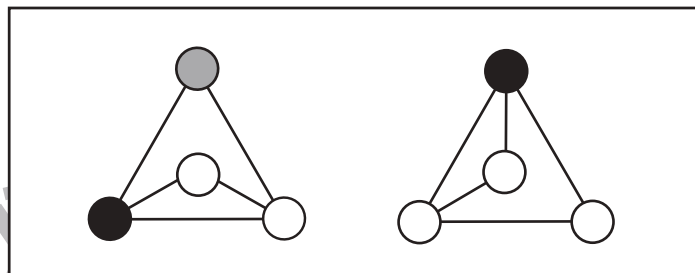
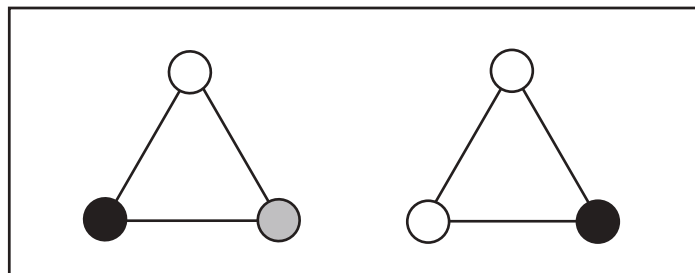


おうちで、やろう。

Study at home. 小学校受験の家庭学習教材

図形：回転 59

左の形が右の形のように回ったとき、灰色の丸はどこになるかを考えて、右の○を塗ります。



※1. このプリントは、しながわ・目黒こどもスクールのウェブサイトでダウンロードができます。無断複写・引用はご遠慮ください。
※2. このプリントを活用したオンライン授業のスケジュールは、しながわ・目黒こどもスクールのウェブサイトでご確認ください。



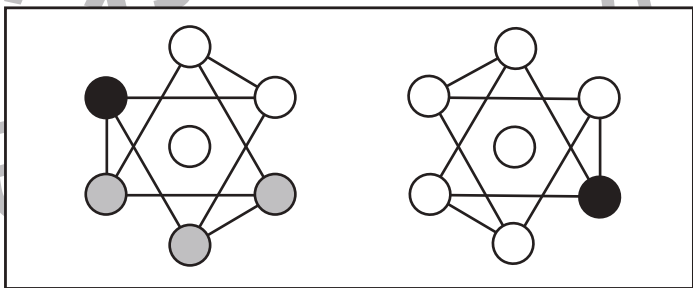
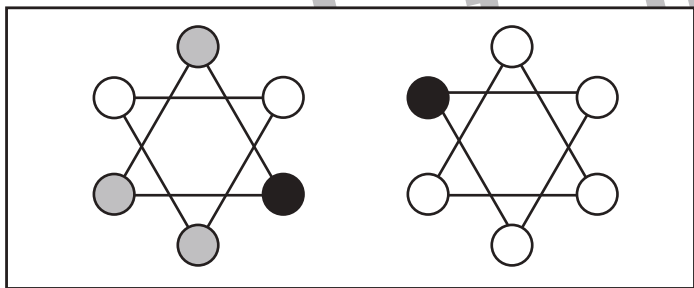
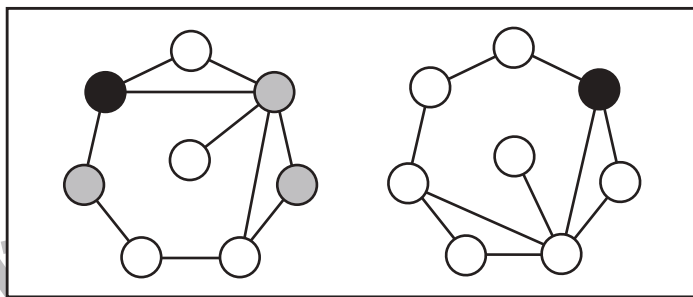
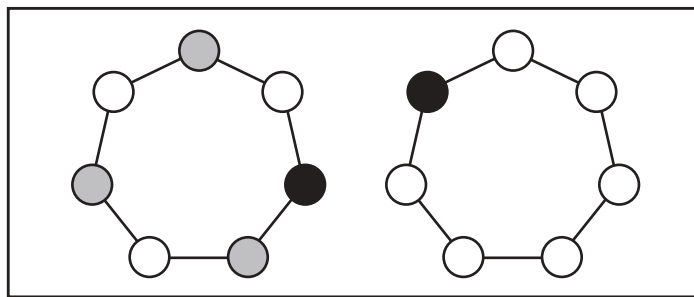
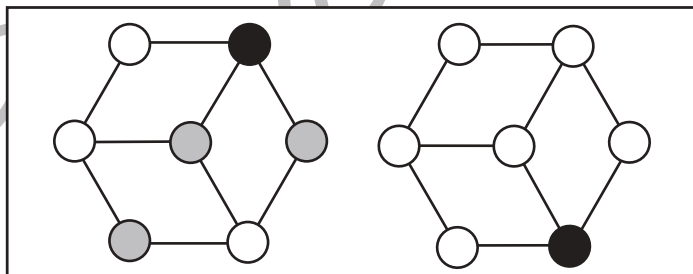
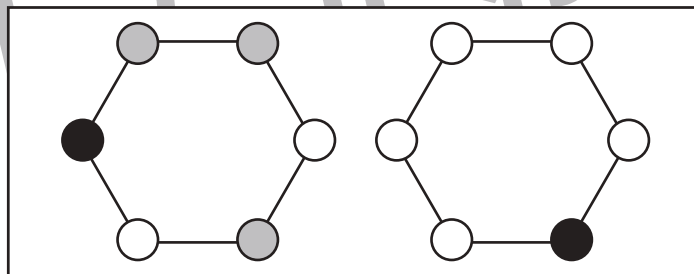
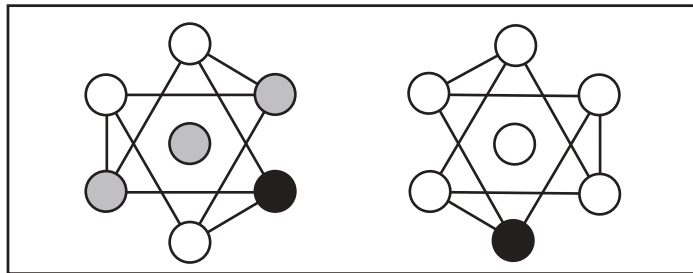
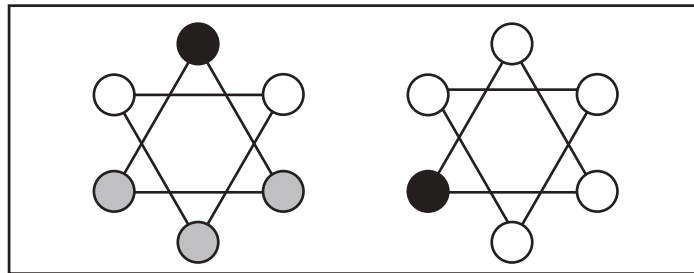
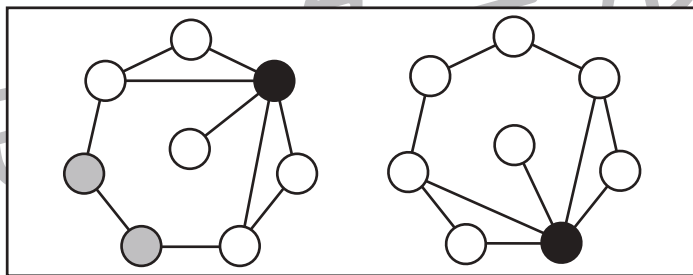
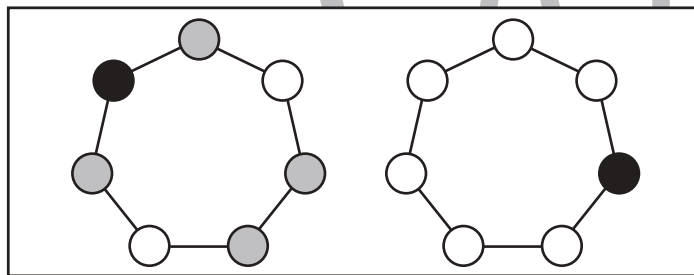
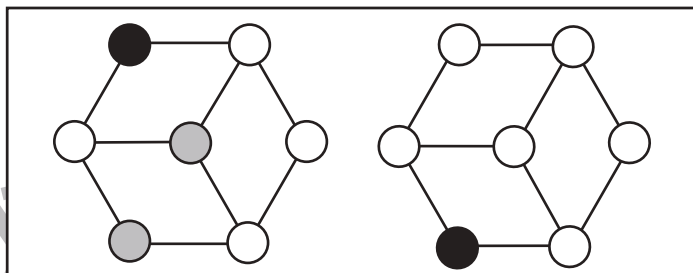
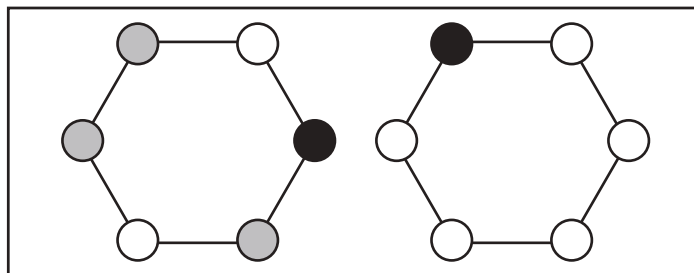


おうちで、やろう。

Study at home. 小学校受験の家庭学習教材

図形：回転 60

左の形が右の形のように回ったとき、灰色の丸はどこになるかを考えて、右の○を塗ります。



※1. このプリントは、しながわ・目黒こどもスクールのウェブサイトでダウンロードができます。無断複写・引用はご遠慮ください。
※2. このプリントを活用したオンライン授業のスケジュールは、しながわ・目黒こどもスクールのウェブサイトでご確認ください。





おうちで、やろう。

Study at home. 小学校受験の家庭学習教材

図形：重ね④④

それぞれの四角は透明です。2つの四角をぴったり重ねるとどのように見えるか考えて、右の中から選び○をつけます。

※1. このプリントは、しながわ・目黒こどもスクールのウェブサイトからダウンロードできます。無断複写・引用はご遠慮ください。
 ※2. このプリントを活用したオンライン授業のスケジュールは、しながわ・目黒こどもスクールのウェブサイトでご確認ください。



おうちで、やろう。

Study at home. 小学校受験の家庭学習教材

図形：回転重ね⑬

2枚の四角は透明です。上の四角の角にある丸が下の四角の角にある丸に重なるように回転させてから重ねます。2枚を重ねた後の見え方を考えて下の四角に模様をかきます。

※1. このプリントは、しながわ・目黒こどもスクールのウェブサイトでダウンロードができます。無断複写・引用はご遠慮ください。

※2. このプリントを活用したオンライン授業のスケジュールは、しながわ・目黒こどもスクールのウェブサイトでご確認ください。



おうちで、やろう。

Study at home. 小学校受験の家庭学習教材

図形：回転重ね⑰

2枚の四角は透明です。上の四角の角にある丸が下の四角の角にある丸に重なるように回転させてからから重ねます。2枚を重ねた後の見え方を考えて下の四角に模様をかきます。

※1. このプリントは、しながわ・目黒こどもスクールのウェブサイトでダウンロードができます。無断複写・引用はご遠慮ください。

※2. このプリントを活用したオンライン授業のスケジュールは、しながわ・目黒こどもスクールのウェブサイトでご確認ください。

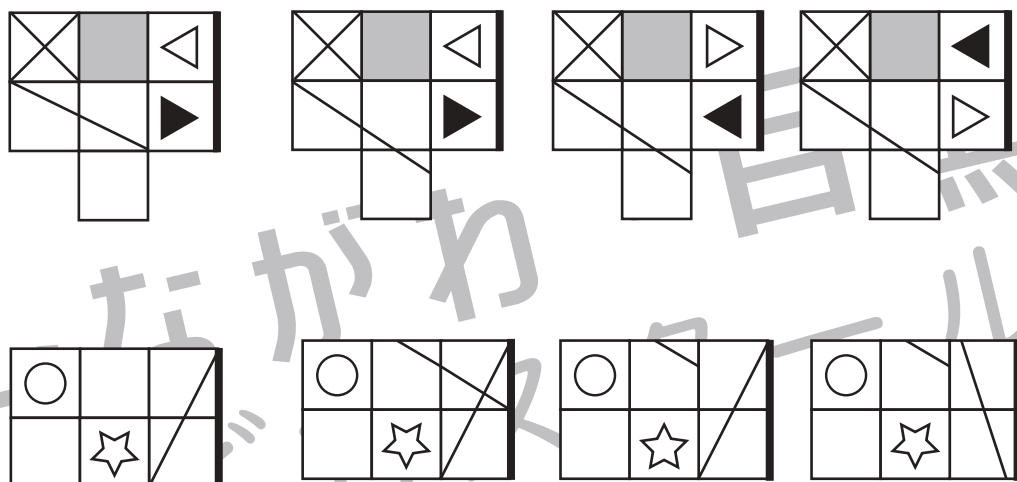

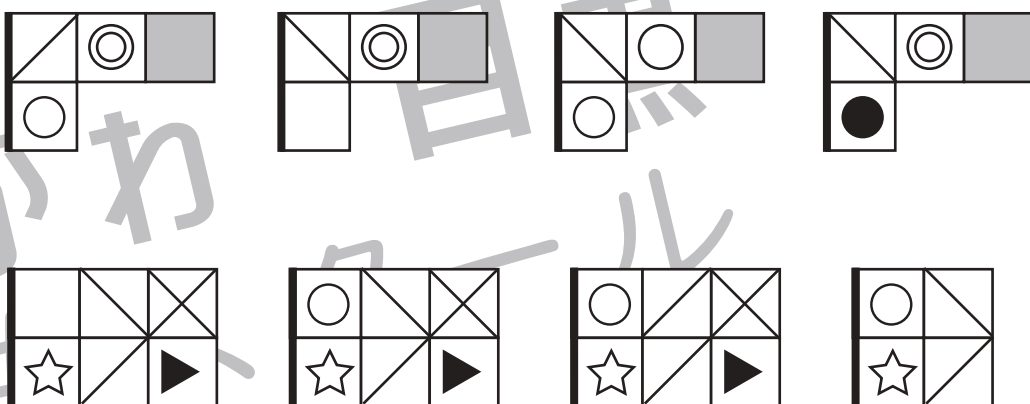
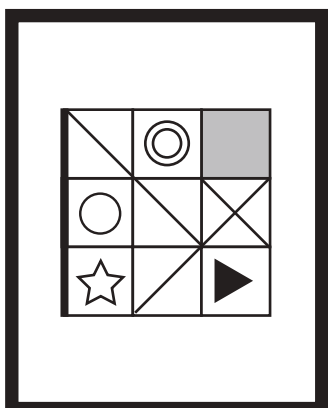
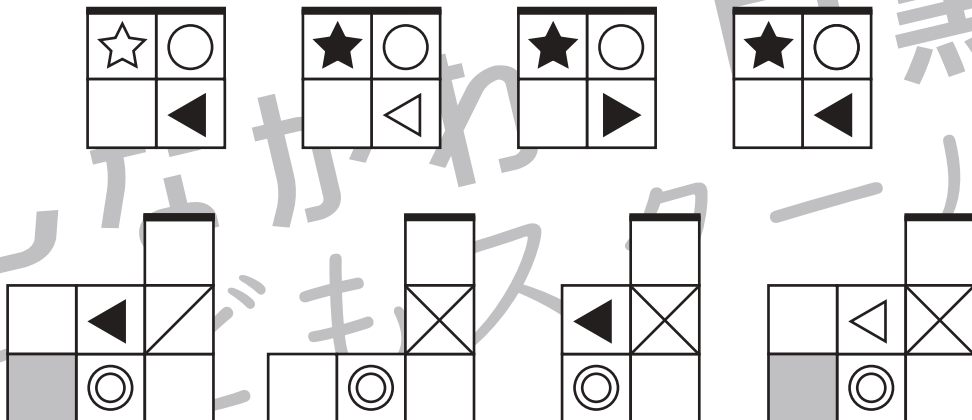



おうちで、やろう。

Study at home. 小学校受験の家庭学習教材

図形：複合⑤

左の形がお手本です、右にあるパズルから2枚を使ってお手本の形を作ります。2つ選んで○をつけます。
パズルは重なっても良いですが、必ずお手本の形になるように重ねましょう。



※1. このプリントは、しながわ・目黒こどもスクールのウェブサイトでダウンロードができます。無断複写・引用はご遠慮ください。
※2. このプリントを活用したオンライン授業のスケジュールは、しながわ・目黒こどもスクールのウェブサイトでご確認ください。









おうちで、やろう。

Study at home. 小学校受験の家庭学習教材

推理：シルエット⑪

左の絵はいくつかのものが重なっている影です。右の四角の中から重なっていないものを全部選んで○をつけましょう。



※1. このプリントは、しながわ・目黒こどもスクールのウェブサイトからダウンロードできます。無断複写・引用はご遠慮ください。

※2. このプリントを活用したオンライン授業のスケジュールは、しながわ・目黒こどもスクールのウェブサイトでご確認ください。



おうちで、やろう。

Study at home. 小学校受験の家庭学習教材

数量：条件推理①⑨

みんなで公園でたくさんのクワガタとカブトムシを取ってきました。
左の図のように虫かごの中にクワガタとカブトムシを分けていくといくつ虫かごが必要でしょうか。
その数だけ右の四角に○をつけましょう。

※1. このプリントは、しながわ・目黒こどもスクールのウェブサイトでダウンロードができます。無断複写・引用はご遠慮ください。
※2. このプリントを活用したオンライン授業のスケジュールは、しながわ・目黒こどもスクールのウェブサイトでご確認ください。



おうちで、やろう。

Study at home. 小学校受験の家庭学習教材

数量：条件推理⑳

たくさんの熱帯魚と水草があります。
左の図のように水槽の中に二種類の金魚と水草入れていくといくつ水槽が必要でしょうか。
その数だけ右の四角に○をつけましょう。

※1. このプリントは、しながわ・目黒こどもスクールのウェブサイトでダウンロードができます。無断複写・引用はご遠慮ください。
 ※2. このプリントを活用したオンライン授業のスケジュールは、しながわ・目黒こどもスクールのウェブサイトでご確認ください。


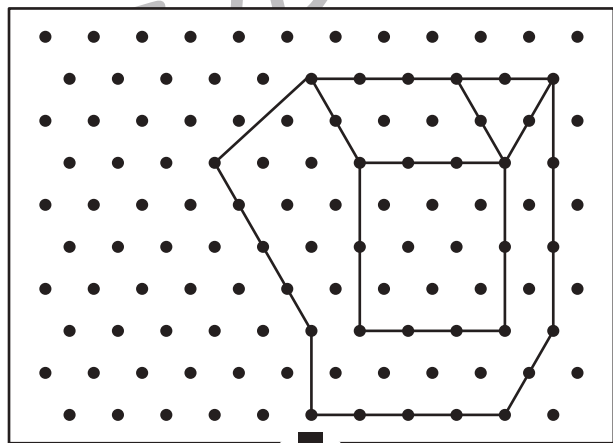

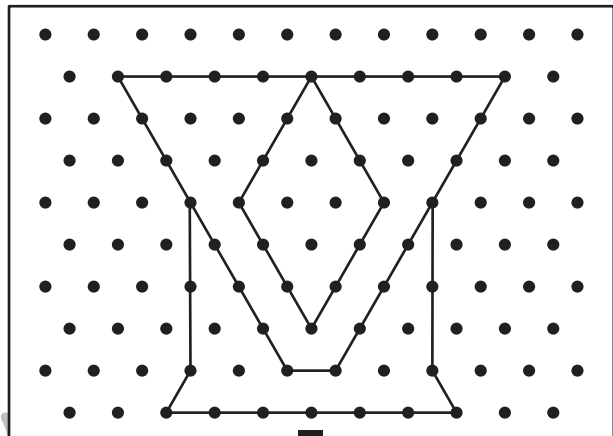
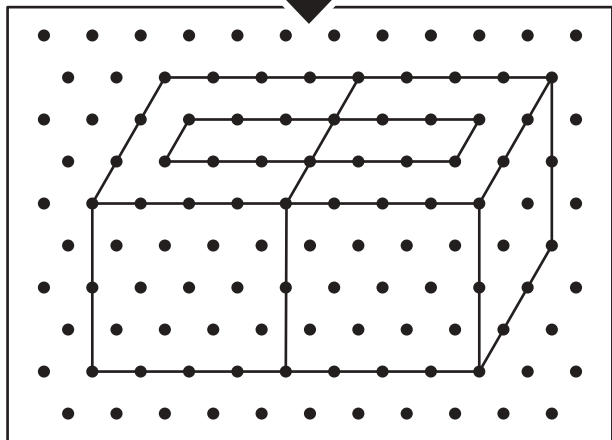
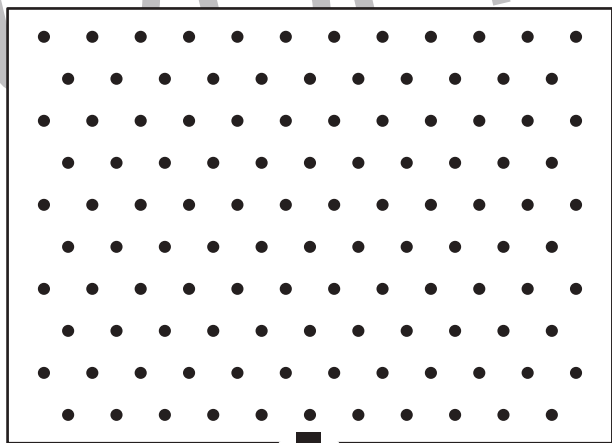

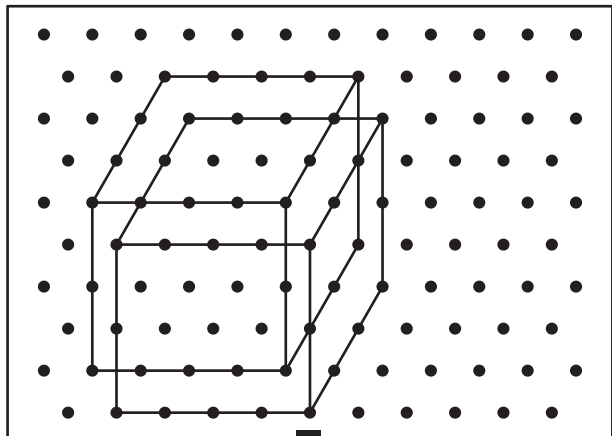


おうちで、やろう。

Study at home. 小学校受験の家庭学習教材

図形：点図形⑳

上のお手本と同じになるように右の四角の点と点を結びます。※このプリントに解答はありません。



※1. このプリントは、しながわ・目黒こどもスクールのウェブサイトからダウンロードできます。無断複写・引用はご遠慮ください。

※2. このプリントを活用したオンライン授業のスケジュールは、しながわ・目黒こどもスクールのウェブサイトでご確認ください。

