



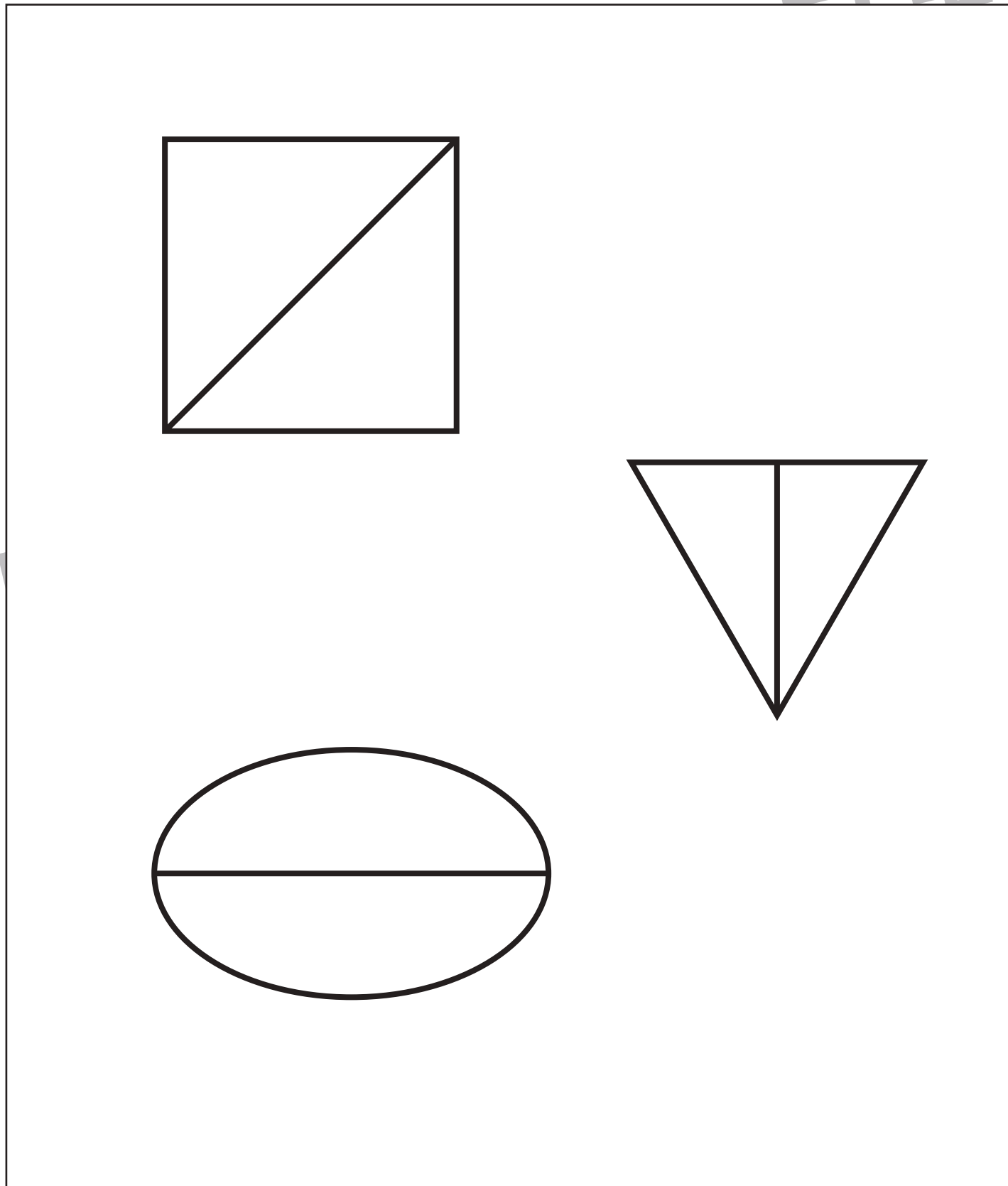
おうちで、やろう。

Study at home. 小学校受験の家庭学習教材

記憶：絵の記憶⑩ 記憶用紙

別紙『記憶 - 絵の記憶⑩』を行う際に使用します。この用紙を20秒間記憶させてください。その後、記憶したものと同じ形をなぞります。記憶する際はプリントは裏返しにします。

※10月19日(月)のオンライン授業では実施中に記憶する絵を画面で表示します。



※1. このプリントは、しながわ・目黒こどもスクールのウェブサイトからダウンロードできます。無断複写・引用はご遠慮ください。

※2. このプリントを活用したオンライン授業のスケジュールは、しながわ・目黒こどもスクールのウェブサイトでご確認ください。




おうちで、やろう。

Study at home. 小学校受験の家庭学習教材

記憶：絵の記憶⑩

別紙『記憶 - 絵の記憶⑩記憶用紙』を使用し、20秒間記憶してから問題に取り組みます。
覚えた形と同じものだけをなぞります。回転していたり、裏返しになっているものはなぞりません。
※10月19日(月)のオンライン授業では実施中に記憶する絵を画面で表示します。



※1. このプリントは、しながわ・目黒こどもスクールのウェブサイトからダウンロードできます。無断複写・引用はご遠慮ください。
※2. このプリントを活用したオンライン授業のスケジュールは、しながわ・目黒こどもスクールのウェブサイトでご確認ください。








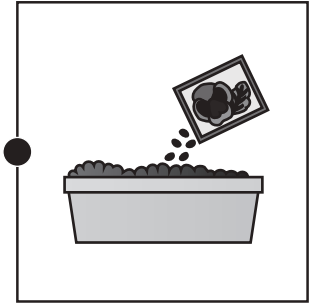



おうちで、やろう。

Study at home. 小学校受験の家庭学習教材

言語：音の理解③④

それぞれの絵は動きを表すことばになっています。左と右で同じ言葉で違う動きの絵を見つけて点と点を結びます。



※1. このプリントは、しながわ・目黒こどもスクールのウェブサイトからダウンロードできます。無断複写・引用はご遠慮ください。

※2. このプリントを活用したオンライン授業のスケジュールは、しながわ・目黒こどもスクールのウェブサイトでご確認ください。




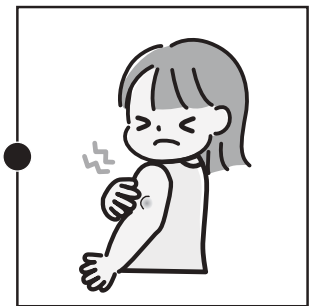
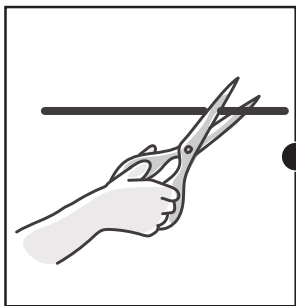






おうちで、やろう。

Study at home. 小学校受験の家庭学習教材

言語：音の理解③⑤

それぞれの絵は動きを表すことばになっています。左と右で同じ言葉で違う動きの絵を見つけて点と点を結びます。



※1. このプリントは、しながわ・目黒こどもスクールのウェブサイトからダウンロードができます。無断複写・引用はご遠慮ください。

※2. このプリントを活用したオンライン授業のスケジュールは、しながわ・目黒こどもスクールのウェブサイトでご確認ください。





おうちで、やろう。

Study at home. 小学校受験の家庭学習教材

図形：折り重ね鏡③

左の四角を太い線で矢印の方向へ折り重ねたときの模様を考えて真ん中の四角にかきます。さらに真ん中の模様を鏡に映した時の模様を一番右の四角にかきます。

The main content consists of four rows of visual puzzles. Each row follows a three-step process:

- Step 1:** A 3x6 grid with a vertical line in the 3rd column. A curved arrow above the line indicates a fold to the left. The grid contains various shapes: black circles, white circles, black triangles, and white triangles.
- Step 2:** A 3x3 grid representing the result of the fold. The shapes from the original grid are now positioned in the 3x3 area.
- Step 3:** A 3x3 grid with a vertical line in the 2nd column. A thick vertical bar to the right of the line and a right-pointing arrow indicate a mirror reflection. The final grid shows the mirrored pattern of the previous step.

※1. このプリントは、しながわ・目黒こどもスクールのウェブサイトでダウンロードができます。無断複写・引用はご遠慮ください。

※2. このプリントを活用したオンライン授業のスケジュールは、しながわ・目黒こどもスクールのウェブサイトでご確認ください。



おうちで、やろう。

Study at home. 小学校受験の家庭学習教材

図形：折り重ね鏡④

左の四角を太い線で矢印の方向へ折り重ねたときの模様を考えて真ん中の四角にかきます。さらに真ん中の模様を鏡に映した時の模様を一番右の四角にかきます。

The main content consists of four rows of visual puzzles. Each row follows a three-step process:

- Step 1:** A 3x5 grid with various shapes (circles, triangles) and a vertical line. An arrow indicates a fold from the left side towards the center.
- Step 2:** A 3x3 grid representing the result of the fold from Step 1.
- Step 3:** A 3x3 grid with a vertical line and an arrow pointing to it, representing a mirror reflection. This leads to a final 3x3 grid on the right.

The four rows use different patterns of shapes and lines to test spatial reasoning.

※1. このプリントは、しながわ・目黒こどもスクールのウェブサイトでダウンロードができます。無断複写・引用はご遠慮ください。
 ※2. このプリントを活用したオンライン授業のスケジュールは、しながわ・目黒こどもスクールのウェブサイトでご確認ください。

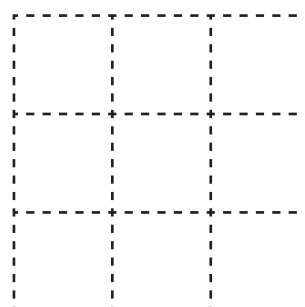
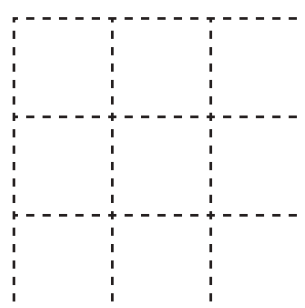
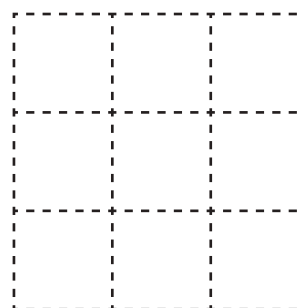

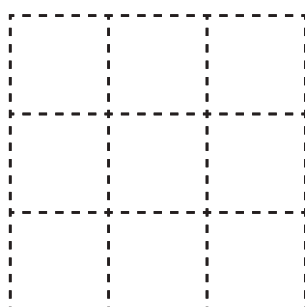
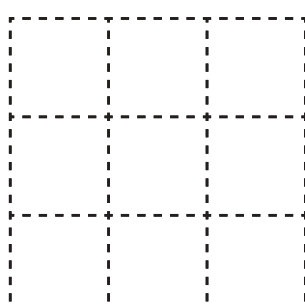


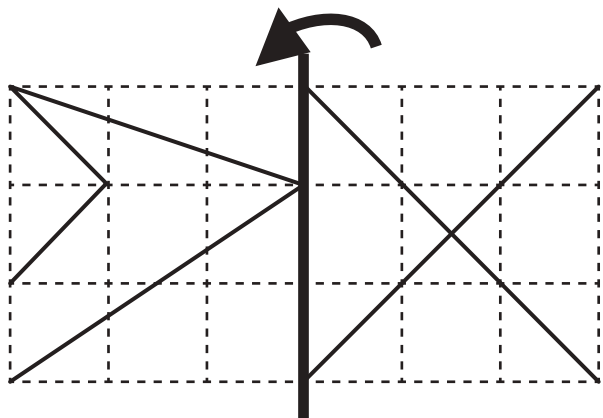


おうちで、やろう。

Study at home. 小学校受験の家庭学習教材

図形：折り重ね鏡⑤

左の四角を太い線で矢印の方向へ折り重ねたときの模様を考えて真ん中の四角にかきます。さらに真ん中の模様を鏡に映した時の模様を一番右の四角にかきます。



※1. このプリントは、しながわ・目黒こどもスクールのウェブサイトでダウンロードができます。無断複写・引用はご遠慮ください。
※2. このプリントを活用したオンライン授業のスケジュールは、しながわ・目黒こどもスクールのウェブサイトでご確認ください。



おうちで、やろう。

Study at home. 小学校受験の家庭学習教材

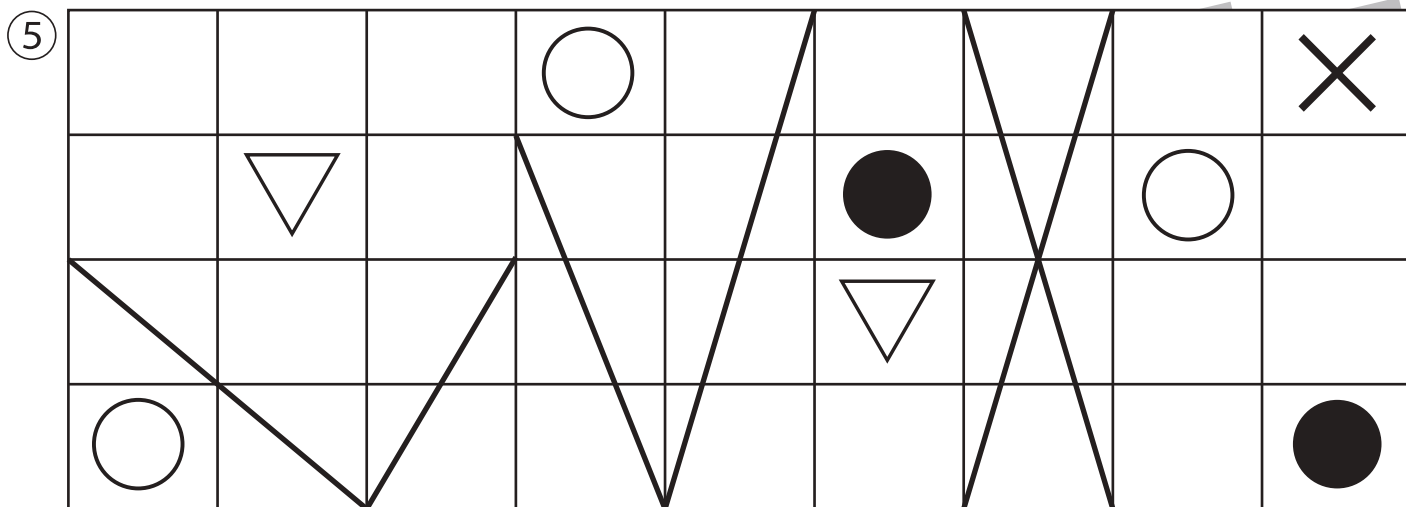
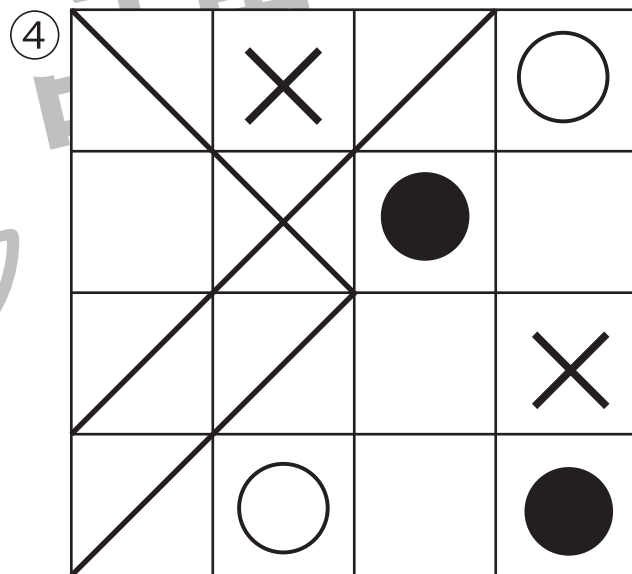
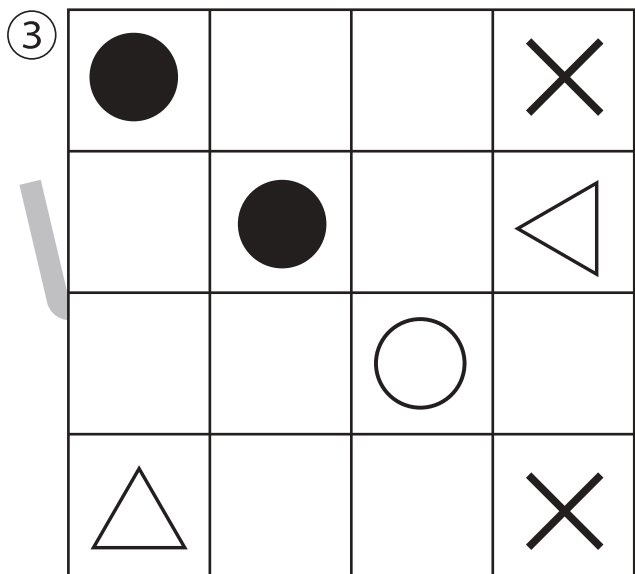
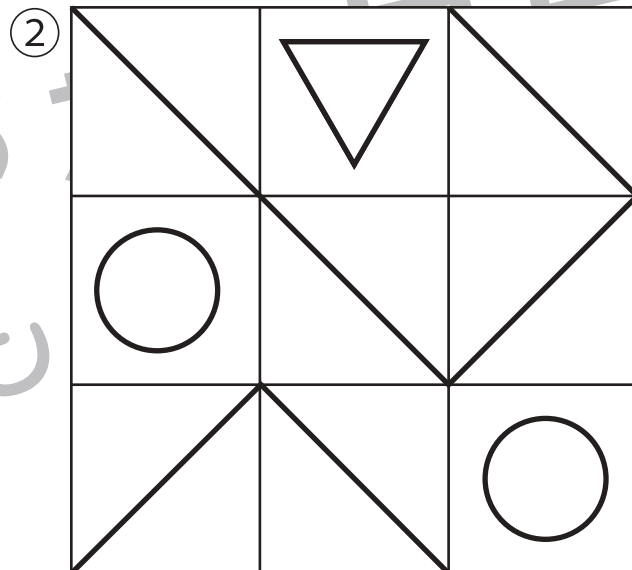
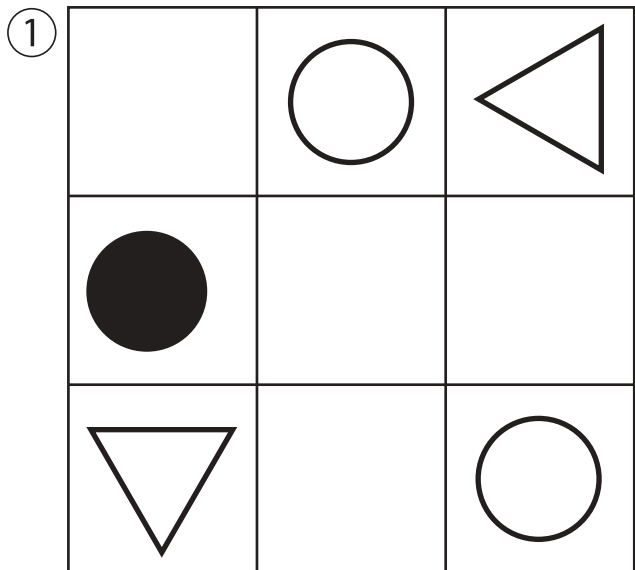
図形：模写②(お手本)

お手本(このプリント)を見て別紙問題『図形：模写②』にお手本と同じ場所に同じ記号をかきます。

※別紙問題『図形：模写②』を使用します。また、解答はこのプリントで確認してください。

※10月12日(月)のオンライン授業では1問ずつお手本を画面で見ながら取り組みます。

ご家庭で取り組む場合は、このプリントを前に掲示、またはお家の方がお子さまの前で持って取り組んでください。



※1. このプリントは、しながわ・目黒こどもスクールのウェブサイトでダウンロードができます。無断複写・引用はご遠慮ください。

※2. このプリントを活用したオンライン授業のスケジュールは、しながわ・目黒こどもスクールのウェブサイトでご確認ください。



おうちで、やろう。

Study at home. 小学校受験の家庭学習教材

図形：模写②④

お手本（このプリント）を見て別紙問題『図形：模写②④』にお手本と同じ場所に同じ記号をかきます。

※別紙問題『図形：模写②④』を使用します。また、解答はこのプリントで確認してください。

※10月12日（月）のオンライン授業では1問ずつお手本を画面で見ながら取り組みます。

ご家庭で取り組む場合は、このプリントを前に掲示、またはお家の方がお子さまの前で持って取り組んでください。

①

| | | |
|--|--|--|
| | | |
| | | |
| | | |

②

| | | |
|--|--|--|
| | | |
| | | |
| | | |

③

| | | | |
|--|--|--|--|
| | | | |
| | | | |
| | | | |
| | | | |

④

| | | | |
|--|--|--|--|
| | | | |
| | | | |
| | | | |
| | | | |

⑤

| | | | | | | | | |
|--|--|--|--|--|--|--|--|--|
| | | | | | | | | |
| | | | | | | | | |
| | | | | | | | | |
| | | | | | | | | |

※1. このプリントは、しながわ・目黒こどもスクールのウェブサイトでダウンロードができます。無断複写・引用はご遠慮ください。

※2. このプリントを活用したオンライン授業のスケジュールは、しながわ・目黒こどもスクールのウェブサイトでご確認ください。



おうちで、やろう。

Study at home. 小学校受験の家庭学習教材

数量：サイコロ②④

上のサイコロは隠れて見えていない目があります。
隠れて見えていない目のうち一番大きい数の目を考えて、下の四角にその目をかきます。

※1. このプリントは、しながわ・目黒こどもスクールのウェブサイトでダウンロードができます。無断複写・引用はご遠慮ください。
 ※2. このプリントを活用したオンライン授業のスケジュールは、しながわ・目黒こどもスクールのウェブサイトでご確認ください。



おうちで、やろう。

Study at home. 小学校受験の家庭学習教材

数量：サイコロ②⑤

上のサイコロは隠れて見えていない目があります。
隠れて見えていない目のうち一番小さい数の目を考えて、下の四角にその目をかきます。

| |
|--|
| |
| |

| |
|--|
| |
| |

| |
|--|
| |
| |

| |
|--|
| |
| |

| |
|--|
| |
| |

| |
|--|
| |
| |

※1. このプリントは、しながわ・目黒こどもスクールのウェブサイトでダウンロードができます。無断複写・引用はご遠慮ください。
 ※2. このプリントを活用したオンライン授業のスケジュールは、しながわ・目黒こどもスクールのウェブサイトでご確認ください。



おうちで、やろう。

Study at home. 小学校受験の家庭学習教材

数量：サイコロ②⑥

上のサイコロは隠れて見えていない目があります。

隠れて見えていない目をすべてあわせるといくつになりますか。その数だけ下の●を囲みます。

※1. このプリントは、しながわ・目黒こどもスクールのウェブサイトでダウンロードができます。無断複写・引用はご遠慮ください。

※2. このプリントを活用したオンライン授業のスケジュールは、しながわ・目黒こどもスクールのウェブサイトでご確認ください。