




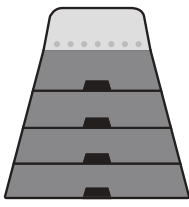











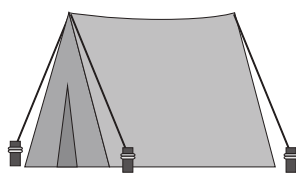


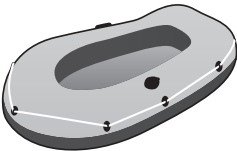








# おうちで、やろう。

Study at home. 小学校受験の家庭学習教材

## 言語：しりとり⑨

左の絵からしりとりを始めて、右の四角の中の絵を使ってしりとりでつなげていきます。このとき、一番最後になる絵に○をつけます。

※1. このプリントは、しながわ・目黒こどもスクールのウェブサイトからダウンロードできます。無断複写・引用はご遠慮ください。

※2. このプリントを活用したオンライン授業のスケジュールは、しながわ・目黒こどもスクールのウェブサイトでご確認ください。



# おうちで、やろう。

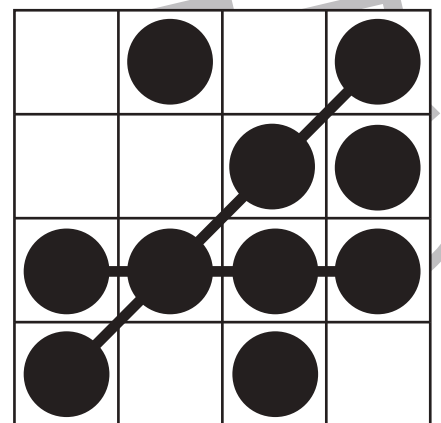
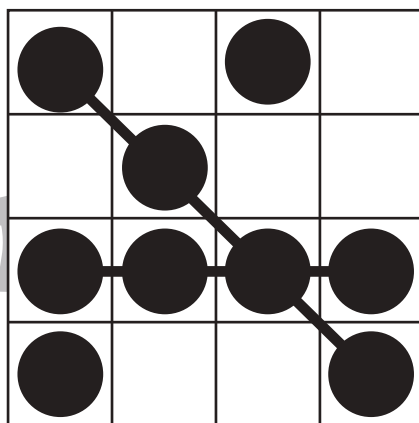
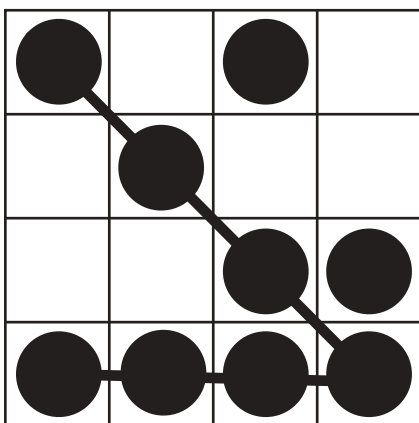
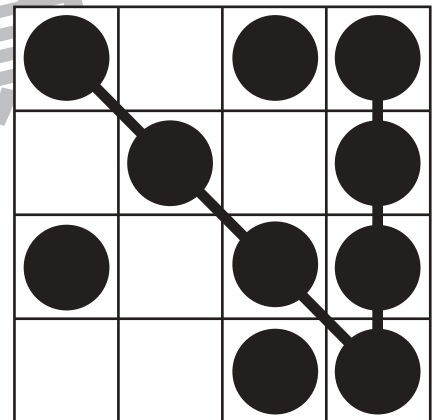
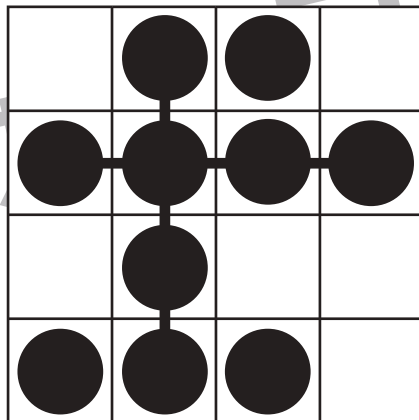
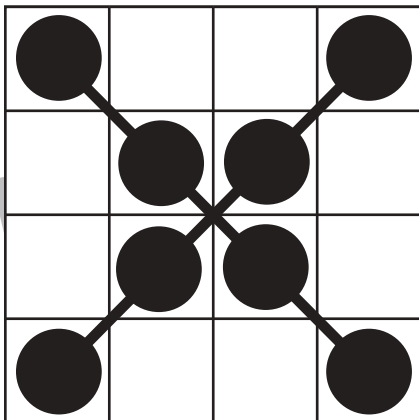
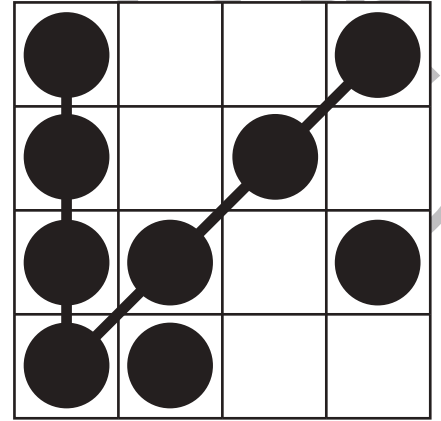
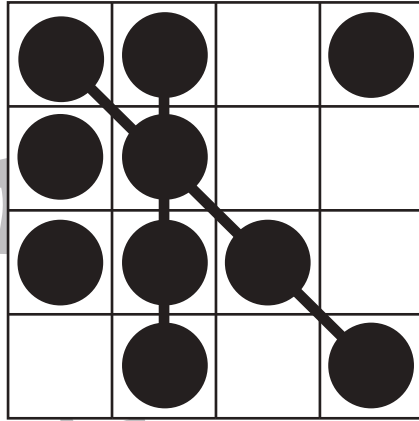
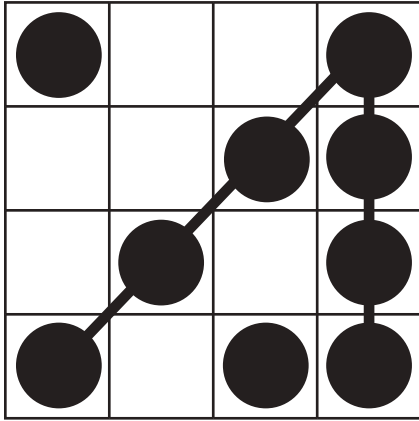
Study at home. 小学校受験の家庭学習教材

## 図形：ビンゴ⑦

空いているどこかのマスに●を2つかくと縦・横・斜めのどこかに4つの●の列が2列できます。

●の列が2列できるように空いているマスに1つだけ●をかきます。ただし、●は1列に1つだけしかかくことはできません。

解答は1つではありませんので違う場所でも正しければ正解としてください。



※1. このプリントは、しながわ・目黒こどもスクールのウェブサイトでダウンロードができます。無断複写・引用はご遠慮ください。

※2. このプリントを活用したオンライン授業のスケジュールは、しながわ・目黒こどもスクールのウェブサイトでご確認ください。



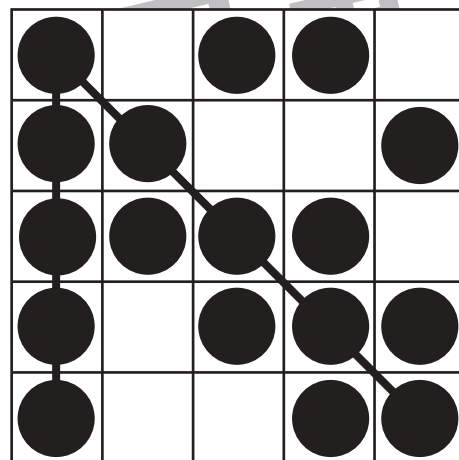

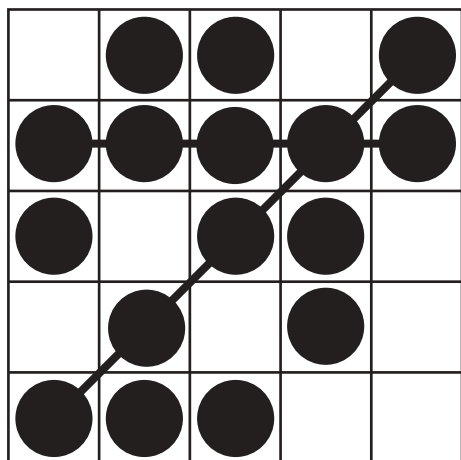

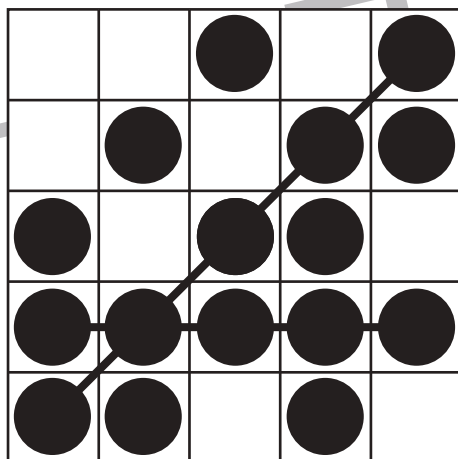
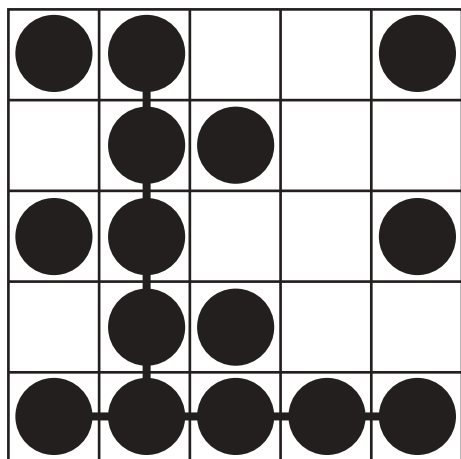
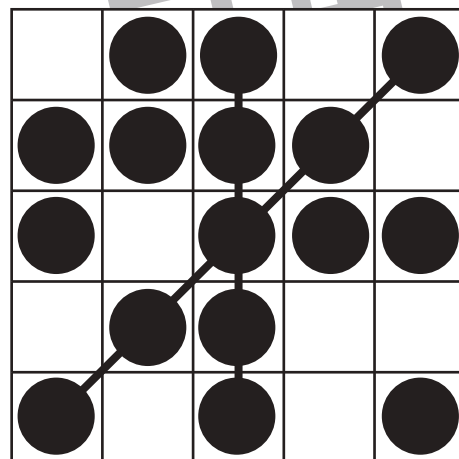
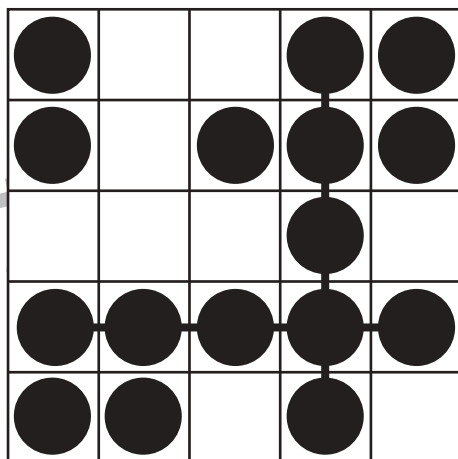
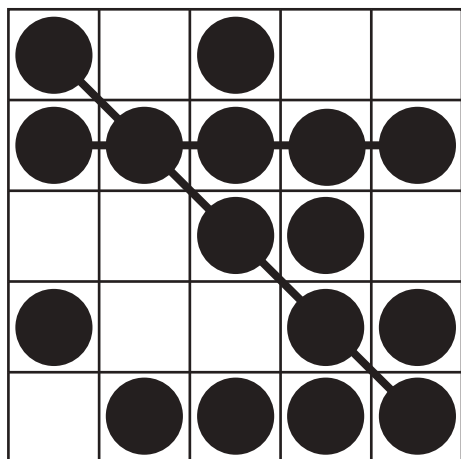


# おうちで、やろう。

Study at home. 小学校受験の家庭学習教材

図形：ビンゴ⑧

空いているどこかのマスに●を2つかくと縦・横・斜めのどこかに5つの●の列が2列できます。  
●の列が2列できるように空いているマスに2つ●をかきます。ただし、●は1列に1つだけしかかくことはできません。  
解答は1つではありませんので違う場所でも正しければ正解としてください。



※1. このプリントは、しながわ・目黒こどもスクールのウェブサイトでダウンロードができます。無断複写・引用はご遠慮ください。  
※2. このプリントを活用したオンライン授業のスケジュールは、しながわ・目黒こどもスクールのウェブサイトでご確認ください。


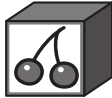







# おうちで、やろう。



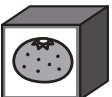
Study at home. 小学校受験の家庭学習教材

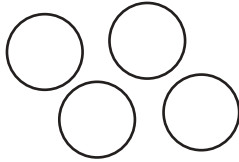



## 推理：ブラックボックス⑳


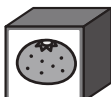


上の太枠の中がお約束です。○が箱の中を通ると約束にしがたって出てきます。どんな約束なのかを考えて、左の○が箱を通して出てきた後を矢印の右の中から選んで○をつけます。






 →  → 



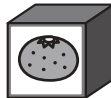

	
	





 →  → 

 →  →  → 

 →  →  → 

※1. このプリントは、しながわ・目黒こどもスクールのウェブサイトでダウンロードができます。無断複写・引用はご遠慮ください。

※2. このプリントを活用したオンライン授業のスケジュールは、しながわ・目黒こどもスクールのウェブサイトでご確認ください。



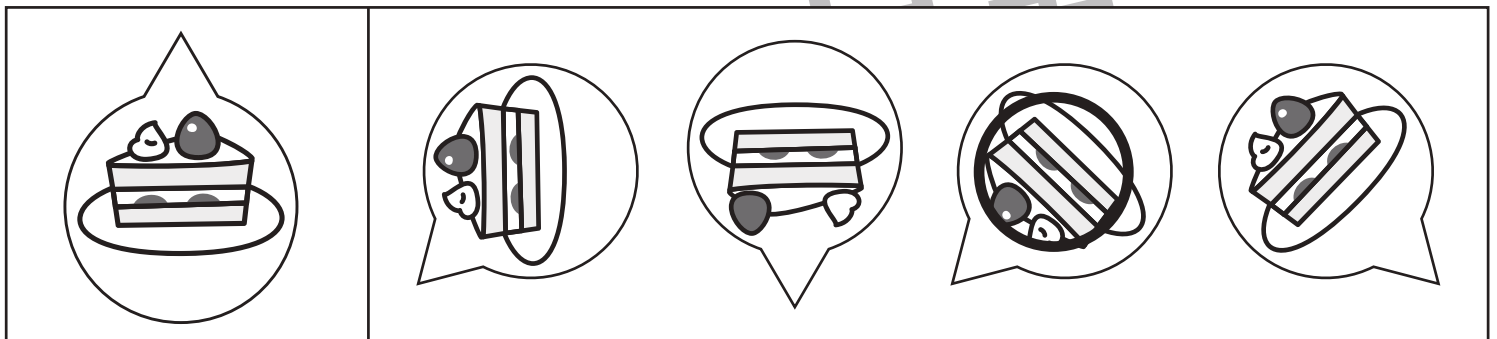




# おうちで、やろう。

Study at home. 小学校受験の家庭学習教材

推理：回転⑰

左の絵がぐるっと回転した時の絵を右の四角の中から選んで○をつけます。



※1. このプリントは、しながわ・目黒こどもスクールのウェブサイトからダウンロードできます。無断複写・引用はご遠慮ください。

※2. このプリントを活用したオンライン授業のスケジュールは、しながわ・目黒こどもスクールのウェブサイトでご確認ください。



# おうちで、やろう。

Study at home. 小学校受験の家庭学習教材

数量：サイコロ⑱

上に2つのサイコロの目があります。下のねこの絵が描かれているカードのうち4枚を使ってねこの数を2つのサイコロの目を合わせた数にするにはどのカードを使えばよいですか。そのカードを4枚選んで○をつけます。

サイコロの目: 3, 4  
 答え：4枚のカードで猫が7匹になる組み合わせ


サイコロの目: 4, 3  
 答え：4枚のカードで猫が8匹になる組み合わせ


サイコロの目: 5, 4  
 答え：4枚のカードで猫が11匹になる組み合わせ


サイコロの目: 6, 5  
 答え：4枚のカードで猫が12匹になる組み合わせ


※1. このプリントは、しながわ・目黒こどもスクールのウェブサイトでダウンロードができます。無断複写・引用はご遠慮ください。  
 ※2. このプリントを活用したオンライン授業のスケジュールは、しながわ・目黒こどもスクールのウェブサイトでご確認ください。



# おうちで、やろう。

Study at home. 小学校受験の家庭学習教材

数量：サイコロ⑳

上に3つのサイコロの目があります。下のねこの絵が描かれているカードのうち4枚を使ってねこの数を3つのサイコロの目を合わせた数にするにはどのカードを使えばよいですか。そのカードを4枚選んで○をつけます。

サイコロの目: 4, 1, 4

答え：4枚のカードで猫が11匹になる組み合わせ


サイコロの目: 3, 4, 5

答え：4枚のカードで猫が13匹になる組み合わせ


サイコロの目: 4, 5, 4

答え：4枚のカードで猫が14匹になる組み合わせ


サイコロの目: 5, 5, 5

答え：4枚のカードで猫が17匹になる組み合わせ


※1. このプリントは、しながわ・目黒こどもスクールのウェブサイトでダウンロードができます。無断複写・引用はご遠慮ください。  
 ※2. このプリントを活用したオンライン授業のスケジュールは、しながわ・目黒こどもスクールのウェブサイトでご確認ください。