



# おうちで、やろう。

Study at home. 小学校受験の家庭学習教材

## 指示の聞き取り②⑥

お話をよく聞いて、それぞれの段の果物に○をつけます。プリントは見たままお話を聞きましょう。

- ①ネコの段のお話です。今からお話をする果物だけ○をつけます。→「バナナ」「ブドウ」「リンゴ」
- ②パンダの段のお話です。今からお話をする果物だけ○をつけます。→「リンゴ」「ミカン」「バナナ」「モモ」
- ③クマの段のお話です。今からお話をする果物ではないものに○をつけます。「ミカン」「モモ」
- ④サルの段のお話です。今からお話をする果物ではないものに○をつけます。「ブドウ」「リンゴ」「ミカン」「バナナ」
- ⑤ライオンの段のお話です。今からお話をする果物で最後から2番目に言った果物に○をつけます。「モモ」「ミカン」「リンゴ」
- ⑥ウサギの段のお話です。今からお話をする果物で最後から2番目に言った果物に○をつけます。「ブドウ」「モモ」「バナナ」「ミカン」


※1. このプリントは、しながわ・目黒こどもスクールのウェブサイトでダウンロードができます。無断複写・引用はご遠慮ください。

※2. このプリントを活用したオンライン授業のスケジュールは、しながわ・目黒こどもスクールのウェブサイトでご確認ください。

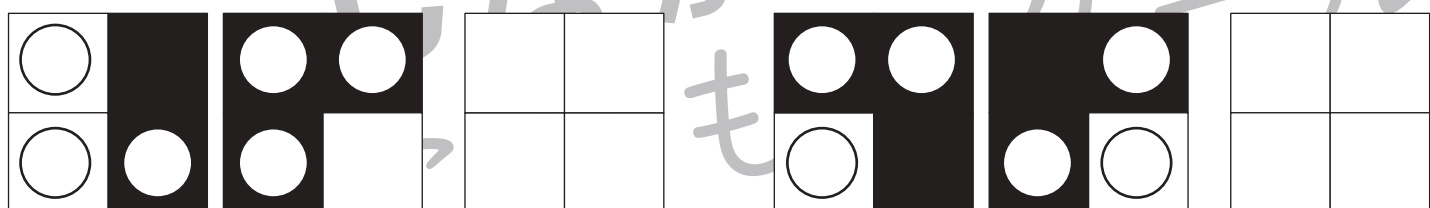
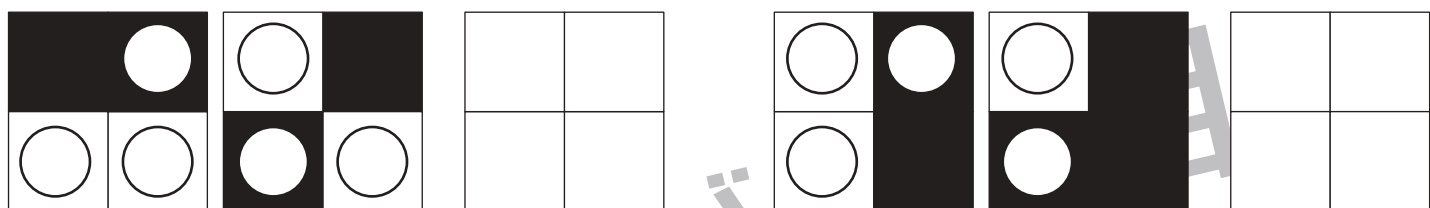
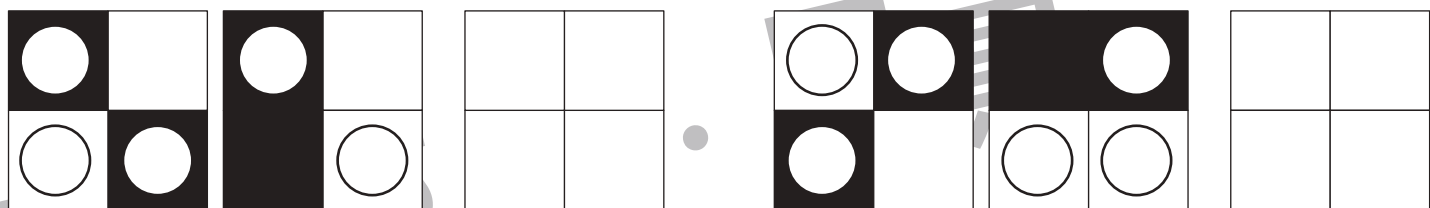
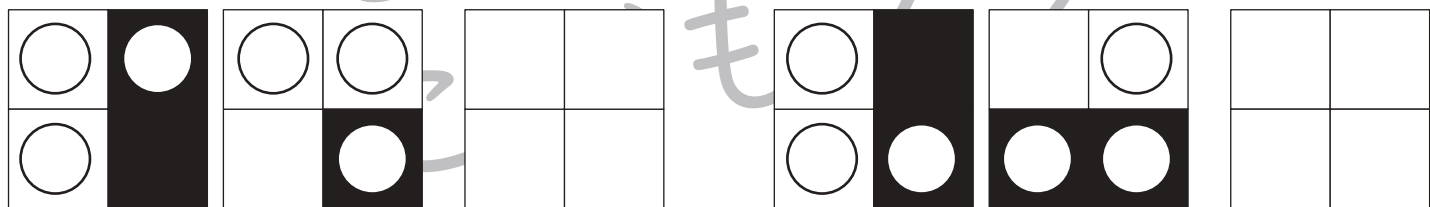



# おうちで、やろう。

Study at home. 小学校受験の家庭学習教材

図形：重ね④⑤

左の2枚の四角を重ねます。このとき、見えている○だけを右の四角にかきます。



※1. このプリントは、しながわ・目黒こどもスクールのウェブサイトでダウンロードができます。無断複写・引用はご遠慮ください。  
 ※2. このプリントを活用したオンライン授業のスケジュールは、しながわ・目黒こどもスクールのウェブサイトでご確認ください。



# おうちで、やろう。

Study at home. 小学校受験の家庭学習教材

図形：重ね④⑥

上の2枚の四角を重ねます。このとき、見えている○だけを下の四角にかきます。


※1. このプリントは、しながわ・目黒こどもスクールのウェブサイトからダウンロードできます。無断複写・引用はご遠慮ください。  
 ※2. このプリントを活用したオンライン授業のスケジュールは、しながわ・目黒こどもスクールのウェブサイトでご確認ください。



# おうちで、やろう。

Study at home. 小学校受験の家庭学習教材

## 図形：重ね④⑦

上の2枚の四角を重ねます。このとき、見えている○だけを下の四角にかきます。


※1. このプリントは、しながわ・目黒こどもスクールのウェブサイトからダウンロードできます。無断複写・引用はご遠慮ください。  
 ※2. このプリントを活用したオンライン授業のスケジュールは、しながわ・目黒こどもスクールのウェブサイトでご確認ください。

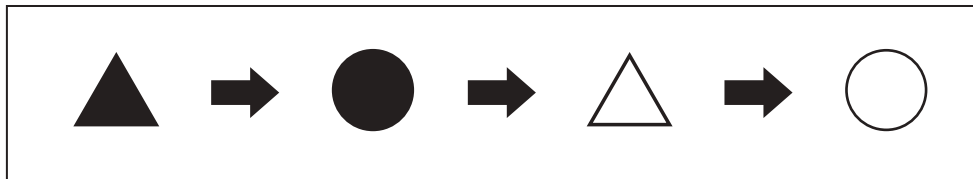


# おうちで、やろう。

Study at home. 小学校受験の家庭学習教材

## 推理：系列完成⑳

記号が下の四角の中に上の太い四角の中の順番で並んでいます。この並び方にはある決まりがあります。どんな決まりがあるのかを考えて△の次の○の場所に○をかきます。







※1. このプリントは、しながわ・目黒こどもスクールのウェブサイトでダウンロードができます。無断複写・引用はご遠慮ください。  
 ※2. このプリントを活用したオンライン授業のスケジュールは、しながわ・目黒こどもスクールのウェブサイトでご確認ください。




# おうちで、やろう。

Study at home. 小学校受験の家庭学習教材

## 推理：系列完成②⑥

記号が下の四角の中に上の太い四角の中の順番で並んでいます。この並び方にはある決まりがあります。どんな決まりがあるのかを考えて△の次の○の場所に○をかきます。



			△					
					●			
							▲	

								▲
							●	
						△		

▲								
		●						
				△				

	▲							
			●					
						△		

※1. このプリントは、しながわ・目黒こどもスクールのウェブサイトでダウンロードができます。無断複写・引用はご遠慮ください。  
 ※2. このプリントを活用したオンライン授業のスケジュールは、しながわ・目黒こどもスクールのウェブサイトでご確認ください。



# おうちで、やろう。

Study at home. 小学校受験の家庭学習教材

数量：違う数⑥

モモとミカンの数の違う数だけウサギは前に進むことができます。左の四角から矢印の順番に見ていったとき、最後にウサギが着いたマスに○をかきます。

	→											

	→		→									

	→		→									

	→		→		→							

※1. このプリントは、しながわ・目黒こどもスクールのウェブサイトでダウンロードができます。無断複写・引用はご遠慮ください。  
 ※2. このプリントを活用したオンライン授業のスケジュールは、しながわ・目黒こどもスクールのウェブサイトでご確認ください。



# おうちで、やろう。

Study at home. 小学校受験の家庭学習教材

数量：違う数⑦

モモとミカンの数の違いだけウサギさんは前に進むことができます。左の四角から矢印の順番に見ていったとき、最後にウサギが着いたマスに○をかきます。モモとミカンでない果物の数は数えません。また、モモとミカンが同じ数だった場合、ウサギ進むことができません。

	→											

	→		→									

	→		→									

	→		→		→							

※1. このプリントは、しながわ・目黒こどもスクールのウェブサイトでダウンロードができます。無断複写・引用はご遠慮ください。  
 ※2. このプリントを活用したオンライン授業のスケジュールは、しながわ・目黒こどもスクールのウェブサイトでご確認ください。





# おうちで、やろう。

Study at home. 小学校受験の家庭学習教材

数量：違う数⑧

イチゴとサクランボの数の違う数分だけウサギは前に進むことができます。左の四角から矢印の順番に見ていったとき、最後にウサギが着いたマスに○をかきます。イチゴとサクランボでない果物の数は数えません。また、イチゴとサクランボが同じ数だった場合、ウサギは進むことができません。





※1. このプリントは、しながわ・目黒こどもスクールのウェブサイトでダウンロードができます。無断複写・引用はご遠慮ください。

※2. このプリントを活用したオンライン授業のスケジュールは、しながわ・目黒こどもスクールのウェブサイトでご確認ください。




# おうちで、やろう。

Study at home. 小学校受験の家庭学習教材

あいであ ていきょう【ことそう】

## 推理：たからさがし 28

あなたは宝島にやってきました。宝箱をたくさん見つけにいきます。下からお手本にある「宝箱」「4つ刃の手裏剣」「クナイ」どこかに1つだけある「石板」を見つけて○をつけましょう。「もう空いている宝箱」と「ほかの忍者道具」はハズレですから何も印はつけません。宝探しの時間はたったの1分です。それまでに、できるだけ多くの「宝箱」「4つ刃の手裏剣」「クナイ」を見つけてみましょう。



※1. このプリントは、しながわ・目黒子どもスクールのウェブサイトでごダウンロードできます。無断複写・引用はご遠慮ください。  
※2. このプリントを活用したオンライン授業のスケジュールは、しながわ・目黒子どもスクールのウェブサイトをご確認ください。

