



おうちで、やろう。

Study at home. 小学校受験の家庭学習教材

図形：構成④7

左の枠の中に右の四角の中のパズルを入れていきます。使わないパズルに × をつけましょう。

--	--

--	--

--	--

--	--

--	--

※1. このプリントは、しながわ・目黒こどもスクールのウェブサイトでダウンロードができます。無断複写・引用はご遠慮ください。
 ※2. このプリントを活用したオンライン授業のスケジュールは、しながわ・目黒こどもスクールのウェブサイトでご確認ください。



おうちで、やろう。

Study at home. 小学校受験の家庭学習教材

図形：構成④⑧

左の枠の中に右の四角の中のパズルを入れていきます。使わないパズルに × をつけましょう。

--	--	--	--	--	--

--	--	--	--	--	--

--	--	--	--	--	--

--	--	--	--	--	--

--	--	--	--	--	--

※1. このプリントは、しながわ・目黒こどもスクールのウェブサイトでダウンロードができます。無断複写・引用はご遠慮ください。
 ※2. このプリントを活用したオンライン授業のスケジュールは、しながわ・目黒こどもスクールのウェブサイトでご確認ください。

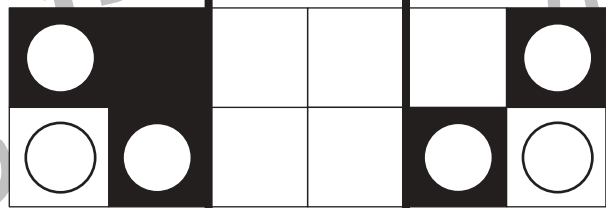

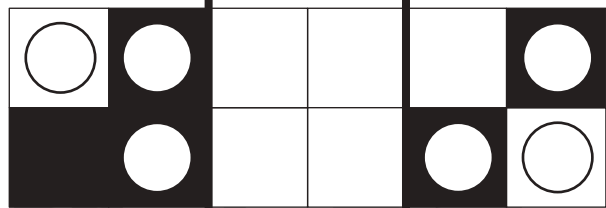
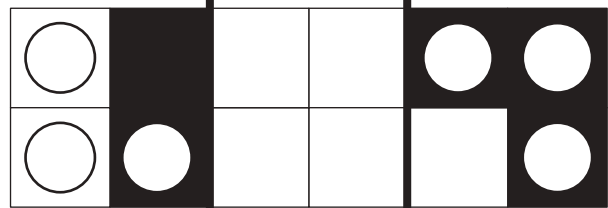






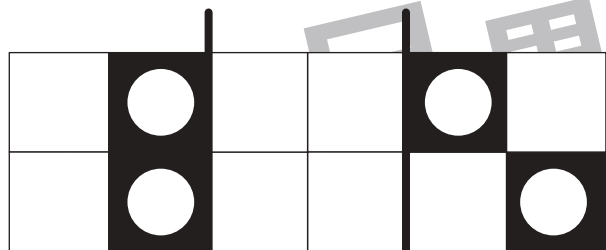
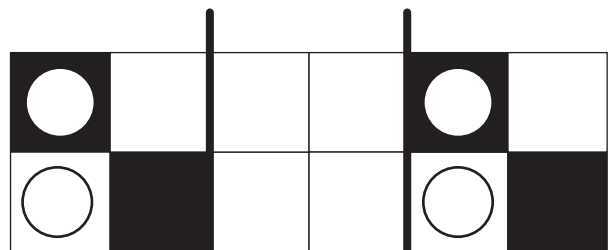


おうちで、やろう。

Study at home. 小学校受験の家庭学習教材

図形：折り重ね 75

左右の2枚を真ん中の四角に折り重ねます。このとき、隠れないで見えている○だけを真ん中の四角にかきます。



※1. このプリントは、しながわ・目黒こどもスクールのウェブサイトでダウンロードができます。無断複写・引用はご遠慮ください。
※2. このプリントを活用したオンライン授業のスケジュールは、しながわ・目黒こどもスクールのウェブサイトでご確認ください。




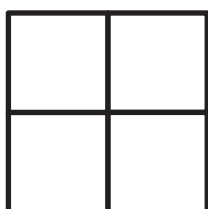








おうちで、やろう。

Study at home. 小学校受験の家庭学習教材

図形：折り重ね 76

左と右、上の3枚を真ん中の四角に折り重ねます。このとき、隠れないで見えている○だけを下の太い四角の中にかきます。



※1. このプリントは、しながわ・目黒こどもスクールのウェブサイトでダウンロードができます。無断複写・引用はご遠慮ください。
※2. このプリントを活用したオンライン授業のスケジュールは、しながわ・目黒こどもスクールのウェブサイトでご確認ください。

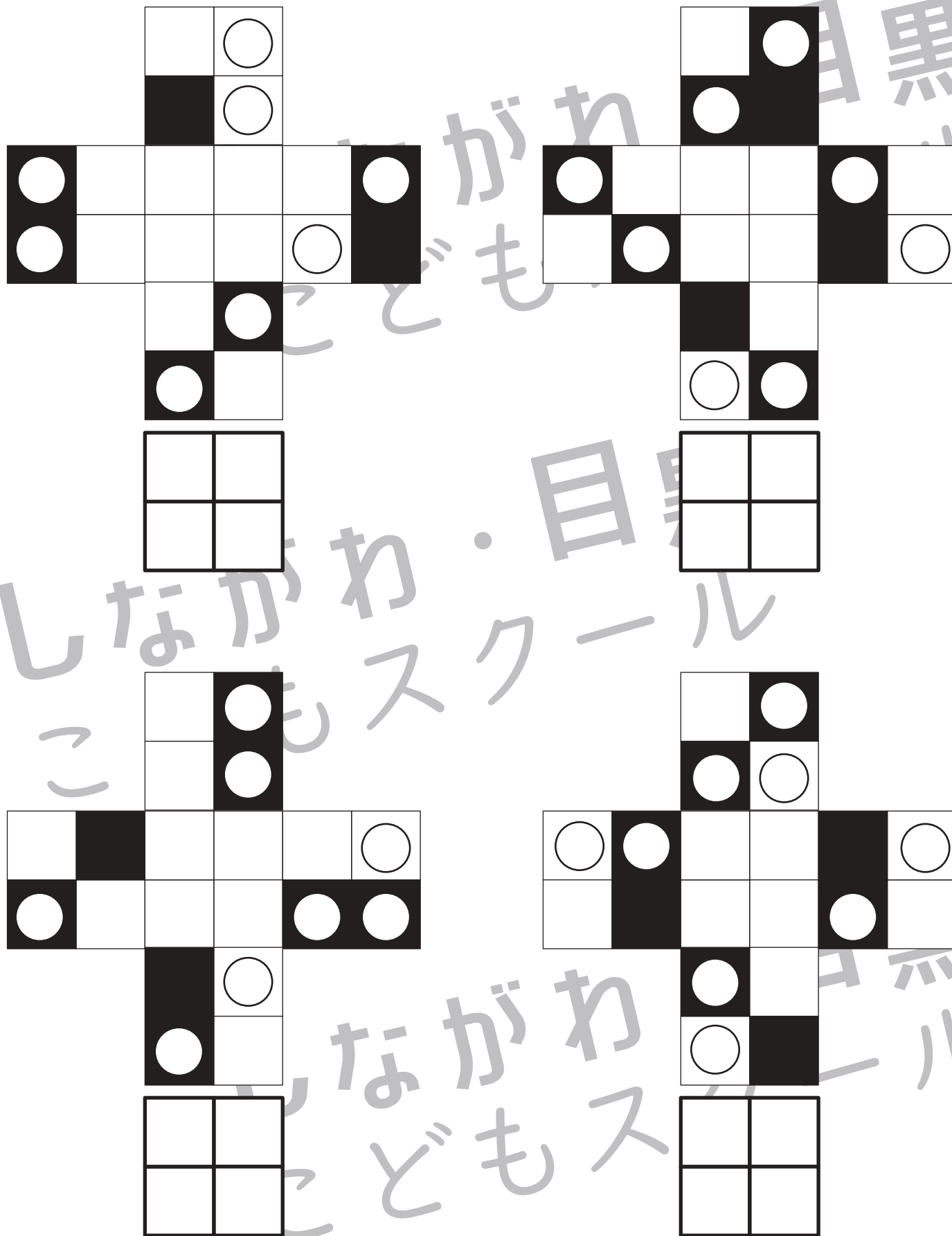


おうちで、やろう。

Study at home. 小学校受験の家庭学習教材

図形：折り重ね 77

左と右、上と下の4枚を真ん中の四角に折り重ねます。このとき、隠れないで見えている○だけを下の太い四角の中にかきます。



※1. このプリントは、しながわ・目黒こどもスクールのウェブサイトでダウンロードができます。無断複写・引用はご遠慮ください。
※2. このプリントを活用したオンライン授業のスケジュールは、しながわ・目黒こどもスクールのウェブサイトでご確認ください。



おうちで、やろう。

Study at home. 小学校受験の家庭学習教材

推理：あみだくじ⑨

○、×、△、◎からあみだくじで進み、それぞれの記号がついた場所にそれぞれの記号をかきます。

※あみだくじのルール：①上から下へ進みます。道は戻ってはいけません。②途中で曲がり角があったら必ず曲がります。

○ × △ ◎

○ △ × ◎

○ × △ ◎

◎ × △ ○

※1. このプリントは、しながわ・目黒こどもスクールのウェブサイトでダウンロードができます。無断複写・引用はご遠慮ください。

※2. このプリントを活用したオンライン授業のスケジュールは、しながわ・目黒こどもスクールのウェブサイトでご確認ください。



おうちで、やろう。

Study at home. 小学校受験の家庭学習教材

推理：あみだくじ⑩

○、×、△、◎からあみだくじで進み、それぞれの記号がついた場所にそれぞれの記号をかきます。

※あみだくじのルール：①上から下へ進みます。道は戻ってはいけません。②途中で曲がり角があったら必ず曲がります。

○ △ × ◎

△ × ◎ ○

○ △ × ◎

◎ △ × ○

※1. このプリントは、しながわ・目黒こどもスクールのウェブサイトでダウンロードができます。無断複写・引用はご遠慮ください。

※2. このプリントを活用したオンライン授業のスケジュールは、しながわ・目黒こどもスクールのウェブサイトでご確認ください。



おうちで、やろう。

Study at home. 小学校受験の家庭学習教材

推理：条件推理 48

それぞれの四角は表が白、裏が灰色のタイルを9つ集めて並べたものです。左のお手本を矢印の先の右のようにしたとき、お手本から裏返しにしたタイルに○をつけます。

The puzzles are arranged in five rows and four columns. Each puzzle shows a transformation from a 3x3 grid of tiles to another 3x3 grid. The tiles are either white (top) or grey (bottom). The transformations are as follows:

- Row 1:** Sample: (1,1) grey, (1,2) white, (1,3) white; (2,1) white, (2,2) grey, (2,3) grey; (3,1) white, (3,2) white, (3,3) grey. Target: (1,1) grey, (1,2) grey, (1,3) grey; (2,1) white, (2,2) grey, (2,3) white; (3,1) white, (3,2) grey, (3,3) grey.
- Row 2:** Sample: (1,1) white, (1,2) grey, (1,3) grey; (2,1) white, (2,2) grey, (2,3) white; (3,1) grey, (3,2) grey, (3,3) white. Target: (1,1) grey, (1,2) grey, (1,3) grey; (2,1) white, (2,2) white, (2,3) grey; (3,1) grey, (3,2) grey, (3,3) white.
- Row 3:** Sample: (1,1) white, (1,2) white, (1,3) grey; (2,1) white, (2,2) grey, (2,3) white; (3,1) grey, (3,2) grey, (3,3) white. Target: (1,1) grey, (1,2) grey, (1,3) grey; (2,1) white, (2,2) white, (2,3) white; (3,1) white, (3,2) grey, (3,3) grey.
- Row 4:** Sample: (1,1) white, (1,2) grey, (1,3) white; (2,1) white, (2,2) grey, (2,3) white; (3,1) white, (3,2) grey, (3,3) white. Target: (1,1) white, (1,2) white, (1,3) grey; (2,1) grey, (2,2) grey, (2,3) grey; (3,1) white, (3,2) grey, (3,3) white.
- Row 5:** Sample: (1,1) white, (1,2) grey, (1,3) grey; (2,1) white, (2,2) grey, (2,3) grey; (3,1) white, (3,2) grey, (3,3) grey. Target: (1,1) white, (1,2) grey, (1,3) grey; (2,1) grey, (2,2) grey, (2,3) grey; (3,1) white, (3,2) white, (3,3) white.

※1. このプリントは、しながわ・目黒こどもスクールのウェブサイトからダウンロードできます。無断複写・引用はご遠慮ください。
※2. このプリントを活用したオンライン授業のスケジュールは、しながわ・目黒こどもスクールのウェブサイトでご確認ください。



おうちで、やろう。

Study at home. 小学校受験の家庭学習教材

推理：条件推理 49

それぞれの四角は表が白、裏が灰色のタイルを9つ集めて並べたものです。左のお手本を矢印の先の右のようにしたとき、お手本から裏返しにしたタイルに○をつけます。

※1. このプリントは、しながわ・目黒こどもスクールのウェブサイトでダウンロードができます。無断複写・引用はご遠慮ください。

※2. このプリントを活用したオンライン授業のスケジュールは、しながわ・目黒こどもスクールのウェブサイトでご確認ください。