




































# おうちで、やろう。

Study at home. 小学校受験の家庭学習教材

## 図形：置き換え②①

上の太枠がお手本です。それぞれの絵を、すぐ横にある数字に変えて下のマスと同じ場所にかきます。  
この問題は時間を意識して取り組みましょう。(目安1分～1分30秒)

	1		2		3
	4		5		6

6		6		5		1		5		2	
	4		6		2			3			1
		2					6			5	
1				4	1				4		6
	5		4				3				
		6		3		2			2		5

※1. このプリントは、しながわ・目黒こどもスクールのウェブサイトからダウンロードできます。無断複写・引用はご遠慮ください。

※2. このプリントを活用したオンライン授業のスケジュールは、しながわ・目黒こどもスクールのウェブサイトでご確認ください。

































# おうちで、やろう。

Study at home. 小学校受験の家庭学習教材

図形：置き換え②②

上の太枠がお手本です。それぞれの絵を、すぐ横にある数字に変えて下のマスの同じ場所にかきます。  
この問題は時間を意識して取り組みましょう。(目安1分～1分30秒)

	7		8		9
	10		11		12

8		7			8					9	
			10	11		9		7			12
	10			9			8			10	
		12			12			11			
11			10			7					11
	7				9			12	8		

※1. このプリントは、しながわ・目黒こどもスクールのウェブサイトでダウンロードができます。無断複写・引用はご遠慮ください。  
 ※2. このプリントを活用したオンライン授業のスケジュールは、しながわ・目黒こどもスクールのウェブサイトでご確認ください。





# おうちで、やろう。

Study at home. 小学校受験の家庭学習教材

## 推理：はしご②

子どもがブロックを登ってリンゴを取りに行きます。一段上や一段下のブロックに進むには、はしごが必要です。スタートのところに掛かっているはしごの他に、あといくつ必要かを考えて下のはしごに○をつけましょう。はしごは横にすることはできません。

おてほん OK

おてほん NG

- ・よこむきにはできません。
- ・はしごをつなげてはいけません。

※1. このプリントは、しながわ・目黒こどもスクールのウェブサイトでダウンロードができます。無断複写・引用はご遠慮ください。  
 ※2. このプリントを活用したオンライン授業のスケジュールは、しながわ・目黒こどもスクールのウェブサイトでご確認ください。

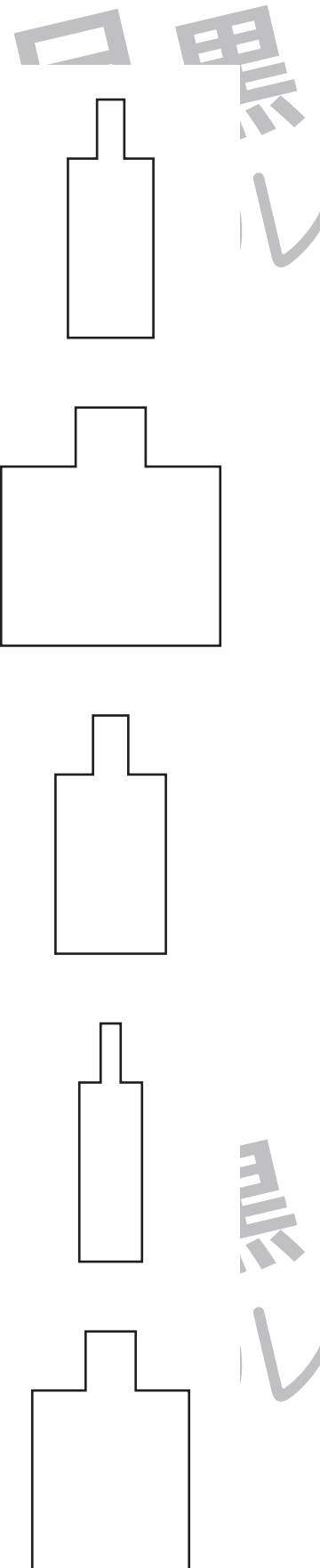








# おうちで、やろう。

Study at home. 小学校受験の家庭学習教材

推理：水量⑬

左のコップに入った水を右の入れ物に移し替えます。一番水の量が多いコップから大きい入れ物に順番に入れていきます。それぞれどの入れ物にいれたらよいか考えて、点と点を結びます。



※1. このプリントは、しながわ・目黒こどもスクールのウェブサイトでダウンロードができます。無断複写・引用はご遠慮ください。  
 ※2. このプリントを活用したオンライン授業のスケジュールは、しながわ・目黒こどもスクールのウェブサイトでご確認ください。

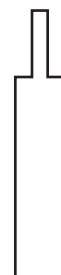
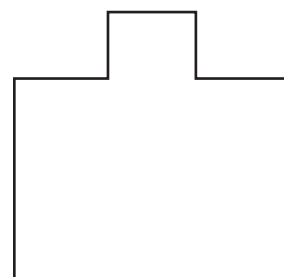
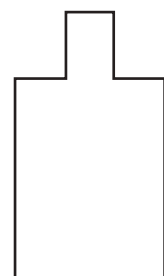
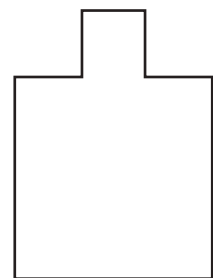
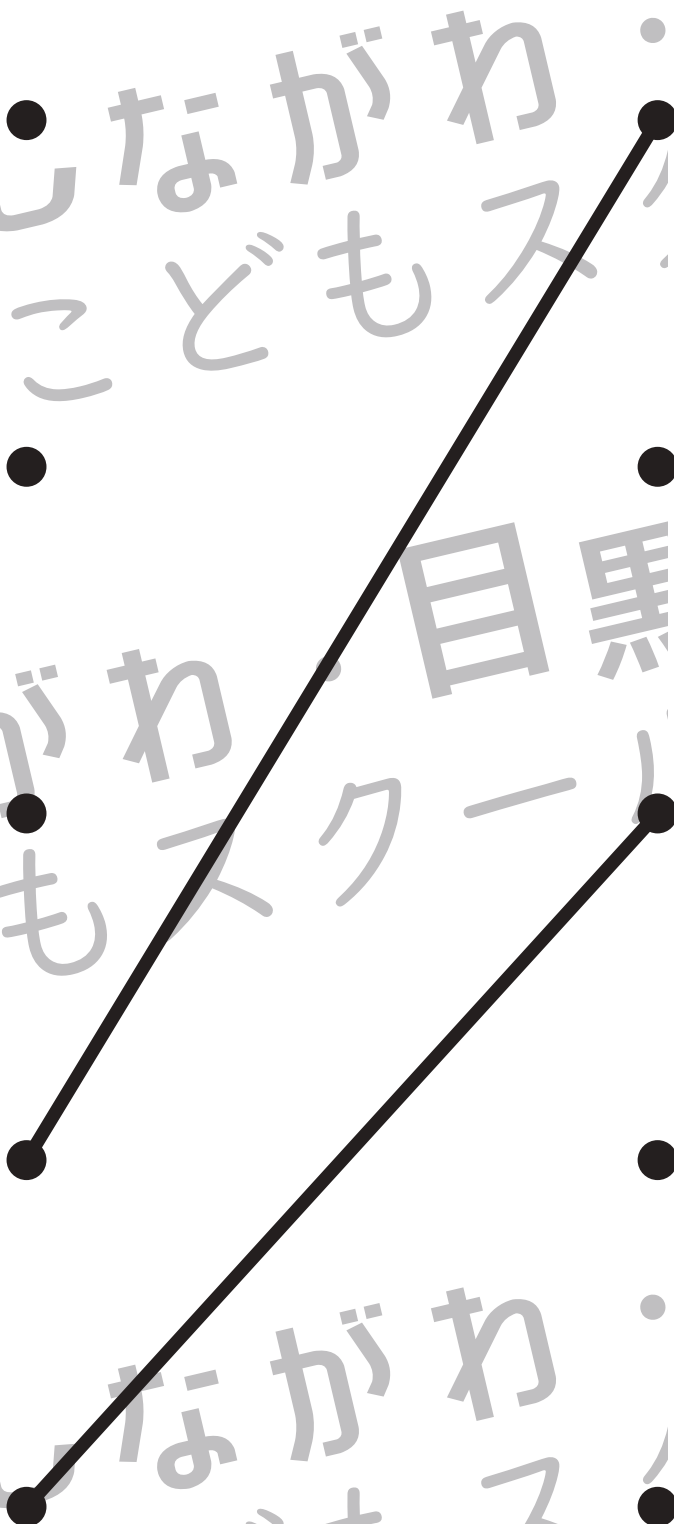







# おうちで、やろう。

Study at home. 小学校受験の家庭学習教材

推理：水量⑭

左のコップに入った水を右の入れ物に移し替えます。一番水の量が多いコップから大きい入れ物に順番に入れていきます。このとき、2番目に水の量が多いコップとその入れ物、2番目に水の量が少ないコップとその水を入れる入れ物だけを点と点を線で結びます。



※1. このプリントは、しながわ・目黒こどもスクールのウェブサイトでダウンロードができます。無断複写・引用はご遠慮ください。  
※2. このプリントを活用したオンライン授業のスケジュールは、しながわ・目黒こどもスクールのウェブサイトでご確認ください。