



おうちで、やろう。

Study at home. 小学校受験の家庭学習教材

言語：言葉⑦

それぞれの言葉にぴったり合う絵をみつけてそれぞれの記号をつけます。

- ①「ふわふわ」に合う絵を見つけて○をつけます。
- ②「すいすい」に合う絵を見つけて△をつけます。
- ③「くるくる」に合う絵を見つけて◎をつけます。
- ④「ゆらゆら」に合う絵を見つけて×をつけます。
- ⑤「ざあざあ」に合う絵を見つけて□をつけます。
- ⑥「ぱちぱち」に合う絵を見つけて/をつけます。

※1. このプリントは、しながわ・目黒こどもスクールのウェブサイトでダウンロードができます。無断複写・引用はご遠慮ください。
 ※2. このプリントを活用したオンライン授業のスケジュールは、しながわ・目黒こどもスクールのウェブサイトでご確認ください。















おうちで、やろう。

Study at home. 小学校受験の家庭学習教材

言語：言葉⑧

それぞれの言葉にぴったり合う絵をみつけてそれぞれの記号をつけます。

- ①「パウオン」に合う絵を見つけて○をつけます。
- ②「ヒヒー」に合う絵を見つけて△をつけます。
- ③「よるよる」に合う絵を見つけて◎をつけます。
- ④「コケココ」に合う絵を見つけて×をつけます。
- ⑤「ピョンピョン」に合う絵を見つけて□をつけます。
- ⑥「ワンワン」に合う絵を見つけて/をつけます。

※1. このプリントは、しながわ・目黒こどもスクールのウェブサイトでダウンロードができます。無断複写・引用はご遠慮ください。

※2. このプリントを活用したオンライン授業のスケジュールは、しながわ・目黒こどもスクールのウェブサイトでご確認ください。



おうちで、やろう。

Study at home. 小学校受験の家庭学習教材

図形：移動④⑦

○からはじめて上の矢印を左から順番に進みます。最後についた点を○で囲みます。

→ → ↘ ↓ ↓

A 4x8 dot grid with arrows: right, right, down-right, down, down. Starting points are circled at (1,4) and (4,8).

→ → ↑ ↗ ← ←

A 4x8 dot grid with arrows: right, right, up, up-right, left, left. Starting points are circled at (1,5) and (3,4).

→ ↘ → ← ↑

A 4x8 dot grid with arrows: right, down-right, right, left, up. Starting points are circled at (2,3) and (2,5).

↘ ← ← ↗ ↑ ←

A 4x8 dot grid with arrows: down-right, left, left, up-right, up, left. Starting points are circled at (1,1) and (3,4).

↓ ↗ → ← ↑

A 4x8 dot grid with arrows: down, up-right, right, left, up. Starting points are circled at (1,5) and (2,7).

← ← ↗ ↓ ↗ ← ↘

A 4x8 dot grid with arrows: left, left, up-right, down, up-right, left, down-right. Starting points are circled at (2,7) and (2,8).

← ↓ ↘ → ↑

A 4x8 dot grid with arrows: left, down, down-right, right, up. Starting points are circled at (2,3) and (3,4).

↗ → ↘ → ↑ → ↗

A 4x8 dot grid with arrows: up-right, right, down-right, right, up, right, up-right. Starting point is circled at (1,8).

↑ ← ↘ ↘ →

A 4x8 dot grid with arrows: up, left, down-right, down-right, right. Starting points are circled at (2,4) and (3,2).

← ↘ ↘ ← ↑ ↑ ↘ ↓

A 4x8 dot grid with arrows: left, down-right, down-right, left, up, up, down-right, down. Starting points are circled at (1,5) and (3,2).

↗ ← ↓ ↓ ↗

A 4x8 dot grid with arrows: up-right, left, down, down, up-right. Starting points are circled at (2,4) and (2,5).

→ → ↘ ↘ ↑ ↑ ↗ ↗

A 4x8 dot grid with arrows: right, right, down-right, down-right, up, up, up-right, up-right. Starting points are circled at (2,4) and (2,6).

※1. このプリントは、しながわ・目黒こどもスクールのウェブサイトでダウンロードができます。無断複写・引用はご遠慮ください。
 ※2. このプリントを活用したオンライン授業のスケジュールは、しながわ・目黒こどもスクールのウェブサイトでご確認ください。





おうちで、やろう。

Study at home. 小学校受験の家庭学習教材

図形：移動④⑧

○からはじめて上の矢印を左から順番に進みます。最後についた点を○で囲みます。

↓	↓	↙	↗	→	←	↑	
●	●	●	○	●	●	●	●
●	●	●	●	●	○	●	●
●	●	●	●	●	●	●	●
●	●	●	●	●	●	●	●

→	→	→	↗	↙	↗	←	←
●	●	●	●	●	○	●	●
○	●	●	●	●	●	●	●
●	●	●	●	●	●	●	●
●	●	●	●	●	●	●	●

→	↙	→	→	↑	→	→	
●	●	●	●	●	●	●	●
●	○	●	●	●	○	●	●
●	●	●	●	●	●	●	●
●	●	●	●	●	●	●	●

↙	↑	←	↖	↓	←	←	→
●	●	●	●	●	●	●	●
●	○	●	○	●	●	●	●
●	●	●	●	●	●	●	●
●	●	●	●	●	●	●	●

↓	↙	↙	←	↑	↗	←	
●	●	●	●	●	●	●	○
●	●	●	●	○	●	●	●
●	●	●	●	●	●	●	●
●	●	●	●	●	●	●	●

←	→	↘	↓	↗	→	↙	↖
●	●	●	●	●	●	●	●
●	○	●	●	●	○	●	●
●	●	●	○	●	●	●	●
●	●	●	●	●	●	●	●

↙	↓	↙	→	↗	←	↓	
●	○	●	●	●	●	●	●
●	●	●	●	●	●	●	●
●	●	●	●	●	●	●	●
●	●	●	●	○	●	●	●

↖	↓	↗	→	↓	←	↖	↘
●	●	●	●	●	●	●	●
●	○	●	○	●	●	●	●
●	●	●	●	●	●	●	●
●	●	●	●	●	●	●	●

→	←	↙	↗	↗	→	↑	
●	●	●	●	●	○	●	●
●	●	●	●	●	●	●	●
●	○	●	●	●	●	●	●
●	●	●	●	●	●	●	●

←	↘	↘	→	→	↑	↙	←
●	●	●	●	●	●	●	○
●	●	●	●	●	●	●	●
●	●	●	●	●	●	○	●
●	●	●	●	●	●	●	●

↘	↓	↓	↗	↗	↓	←	
●	●	●	●	●	○	●	●
●	●	●	●	●	●	●	●
●	●	●	●	●	○	●	●
●	●	●	●	●	●	●	●

→	↓	↗	↙	→	→	↙	↗
●	●	●	●	●	●	●	●
●	○	●	●	●	●	●	●
●	●	●	●	●	●	○	●
●	●	●	●	●	●	●	●

※1. このプリントは、しながわ・目黒こどもスクールのウェブサイトでダウンロードができます。無断複写・引用はご遠慮ください。
 ※2. このプリントを活用したオンライン授業のスケジュールは、しながわ・目黒こどもスクールのウェブサイトでご確認ください。





おうちで、やろう。

Study at home. 小学校受験の家庭学習教材

図形：移動④⑨

○からはじめて上の矢印を左から順番に進みます。矢印は白いマスにある黒い矢印はその向きに進み、黒いマスにある白い矢印はその向きとは反対に進みます。この約束のとき、最後についた点を○で囲みます。

↓	↓	↑	→	→	↙	↓	
●	●	○	●	●	●	●	●
●	○	●	●	●	●	●	●
●	●	●	●	●	●	●	●
●	●	●	●	●	●	●	●

↑	←	→	↗	↗	↙	→	↑
●	●	●	●	●	●	●	●
○	●	●	●	●	●	●	●
●	●	○	●	●	●	●	●
●	●	●	●	●	●	●	●

→	↘	↑	→	↑	→	→	
●	●	●	●	●	●	●	●
●	●	○	●	●	●	●	●
●	●	●	●	●	○	●	●
●	●	●	●	●	●	●	●

↙	→	←	↗	→	←	→	→
●	●	●	●	●	●	●	●
●	●	●	●	●	●	○	●
●	●	●	●	●	●	●	●
●	○	●	●	●	●	●	●

↓	↘	↙	↑	↓	↙	↑	
●	●	○	●	●	●	●	●
●	●	●	○	●	●	●	●
●	●	●	●	●	●	●	●
●	●	●	●	●	●	●	●

→	→	↗	→	↗	→	↙	↙
●	●	●	●	●	●	●	●
○	●	○	●	●	●	●	●
●	●	●	●	●	●	●	●
●	●	●	●	●	●	●	●

↙	↓	↗	↙	↙	←	↓	
●	●	●	●	●	●	●	●
●	●	●	●	●	●	●	●
●	○	○	●	●	●	●	●
●	●	●	●	●	●	●	●

↙	→	↗	↑	↙	←	↙	↑
●	●	●	●	●	●	●	●
●	●	●	●	●	●	●	●
●	●	●	○	●	○	●	●
●	●	●	●	●	●	●	●

↓	↑	↗	←	←	↙	→	
●	●	●	●	●	●	○	●
●	●	●	●	●	●	●	●
●	●	○	●	●	●	●	●
●	●	●	●	●	●	●	●

↓	↙	↙	←	↘	↓	↙	←
●	●	●	●	○	●	●	●
●	●	●	●	●	●	●	●
●	●	●	●	●	●	○	●
●	●	●	●	●	●	●	●

↙	↓	←	↗	↗	↗	↓	
●	●	○	●	●	○	●	●
●	●	●	●	●	●	●	●
●	●	●	●	●	●	●	●
●	●	●	●	●	●	●	●

↙	→	↙	↑	↙	→	→	↗
●	●	○	●	●	●	●	●
●	○	●	●	●	●	●	●
●	●	●	●	●	●	●	●
●	●	●	●	●	●	●	●

※1. このプリントは、しながわ・目黒こどもスクールのウェブサイトでダウンロードができます。無断複写・引用はご遠慮ください。
※2. このプリントを活用したオンライン授業のスケジュールは、しながわ・目黒こどもスクールのウェブサイトでご確認ください。





おうちで、やろう。

Study at home. 小学校受験の家庭学習教材

推理：条件推理 50

男の子と女の子がじゃんけんをして階段を上っていくゲームをしています。じゃんけんで勝つと1段上に行き、負けてしまうと1段下に下がります。あいこのときは男の子も女の子も1段上に行けます。このルールで左マスの順番でじゃんけんをしました。男の子が着いた段には○を、女の子が着いた段には△を、着いた階段のいちばん上のマスの中につけましょう。

↓			

↓			
↓			

↓			
↓			
↓			

↓			
↓			
↓			

※1. このプリントは、しながわ・目黒こどもスクールのウェブサイトでダウンロードができます。無断複写・引用はご遠慮ください。
※2. このプリントを活用したオンライン授業のスケジュールは、しながわ・目黒こどもスクールのウェブサイトでご確認ください。





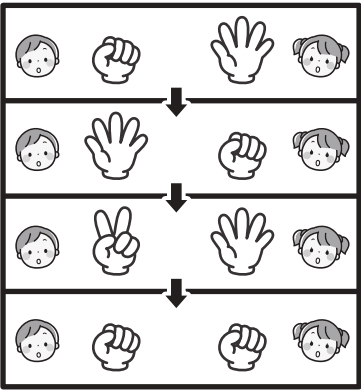

おうちで、やろう。

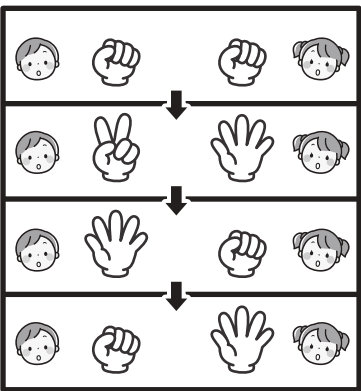
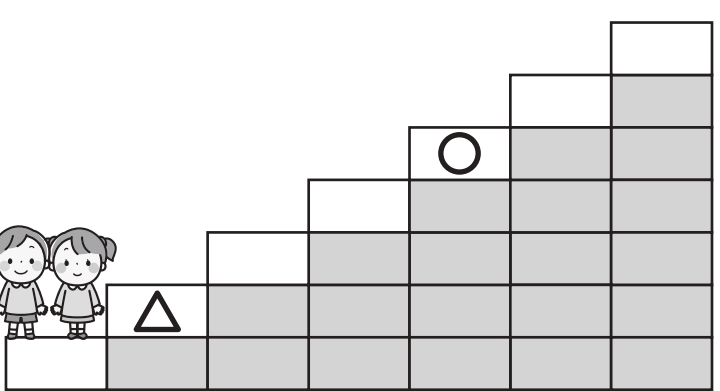
Study at home. 小学校受験の家庭学習教材

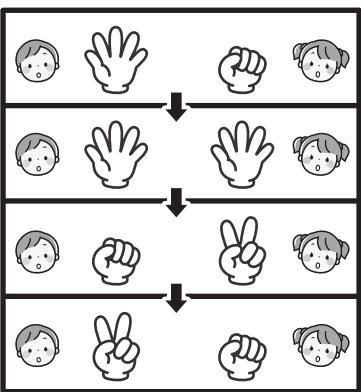

推理：条件推理 51

男の子と女の子がじゃんけんをして階段を上っていくゲームをしています。じゃんけんで勝つと2段上に行き、負けてしまうと1段下に下がります。あいこのときは男の子も女の子も1段上に行けます。このルールで左マスの順番でじゃんけんをしました。男の子が着いた段には○を、女の子が着いた段には△を、右の絵の横の四角の中につけましょう。

	
---	--

	
--	---

	
---	--

	
---	--

※1. このプリントは、しながわ・目黒こどもスクールのウェブサイトでダウンロードができます。無断複写・引用はご遠慮ください。
 ※2. このプリントを活用したオンライン授業のスケジュールは、しながわ・目黒こどもスクールのウェブサイトでご確認ください。

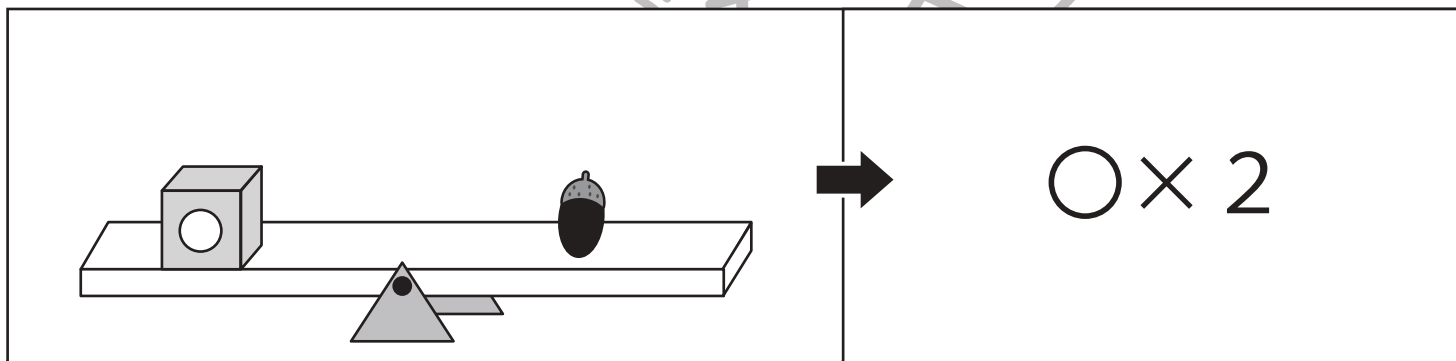
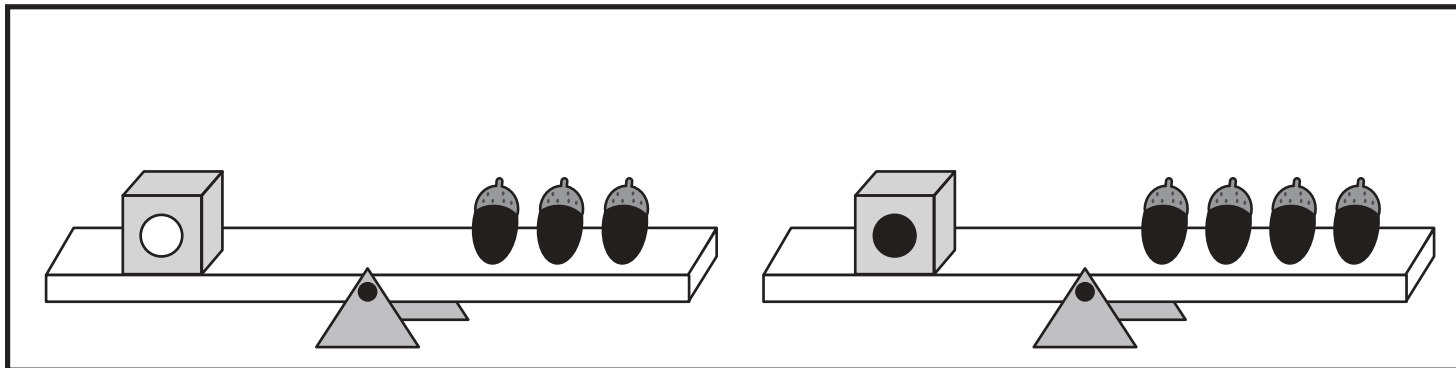


おうちで、やろう。

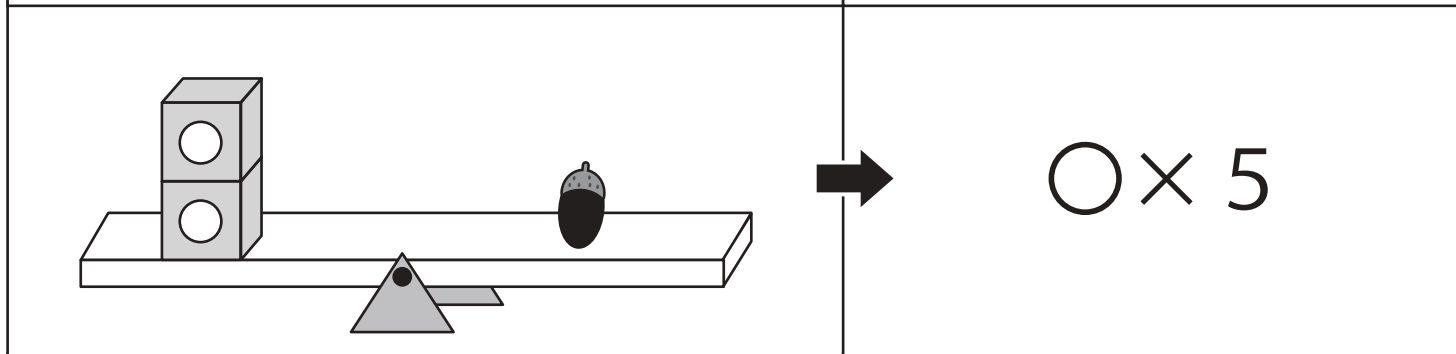
Study at home. 小学校受験の家庭学習教材

数量：置き換え⑮

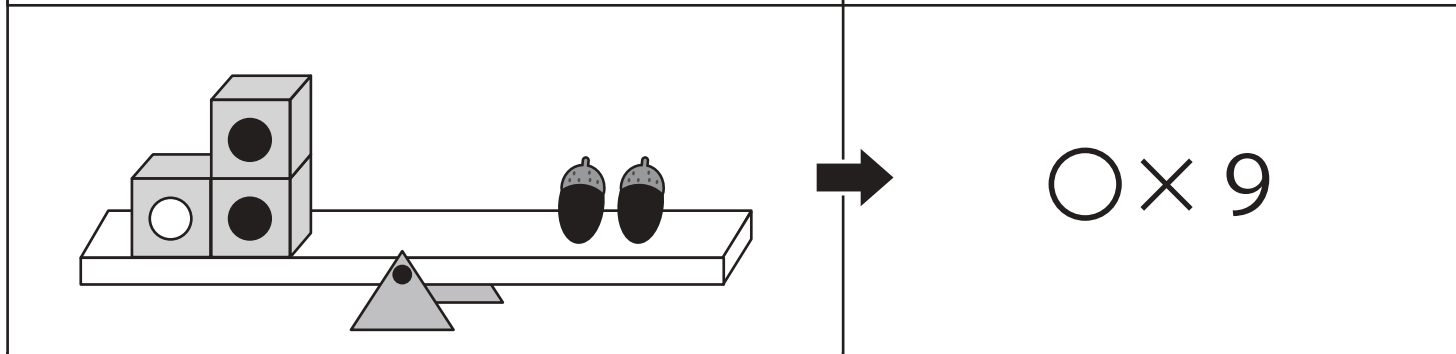
上の太い四角の中がお約束です。記号のついた箱はいつかのドングリと同じ重さで吊り合っています。下のシーソーが吊り合うためには右側にあといくつのドングリを乗せればよいかを考えて、足りない数だけ矢印の右に○を書きましょう。



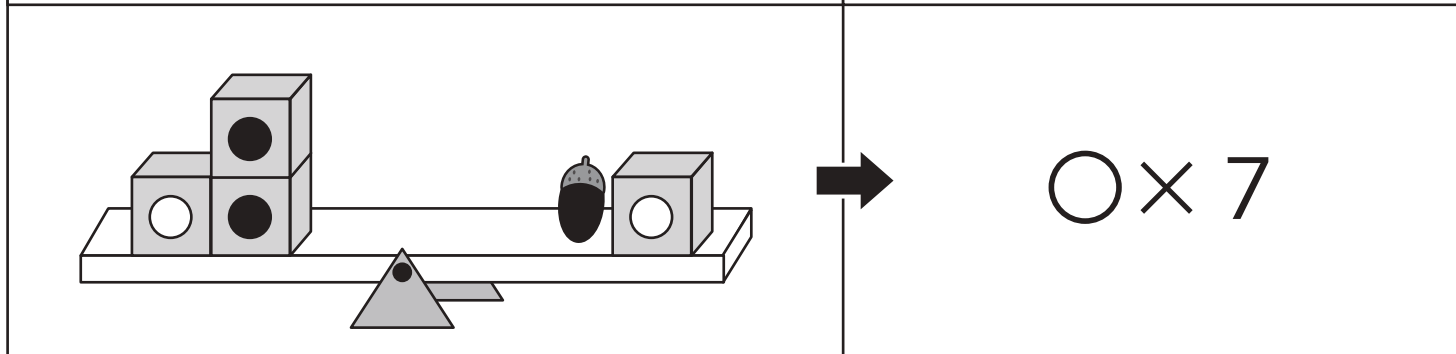
$$\bigcirc \times 2$$



$$\bigcirc \times 5$$



$$\bigcirc \times 9$$



$$\bigcirc \times 7$$

※1. このプリントは、しながわ・目黒こどもスクールのウェブサイトでダウンロードができます。無断複写・引用はご遠慮ください。

※2. このプリントを活用したオンライン授業のスケジュールは、しながわ・目黒こどもスクールのウェブサイトでご確認ください。



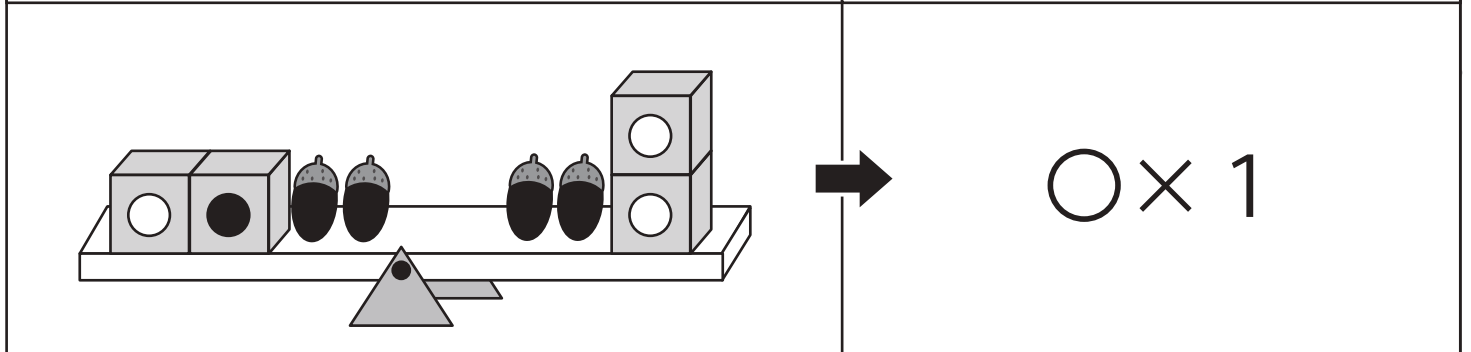
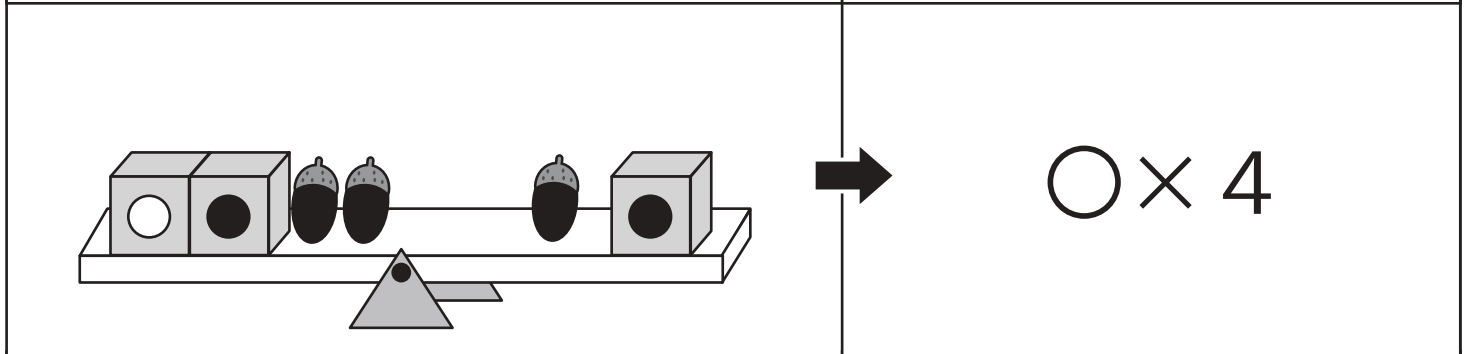
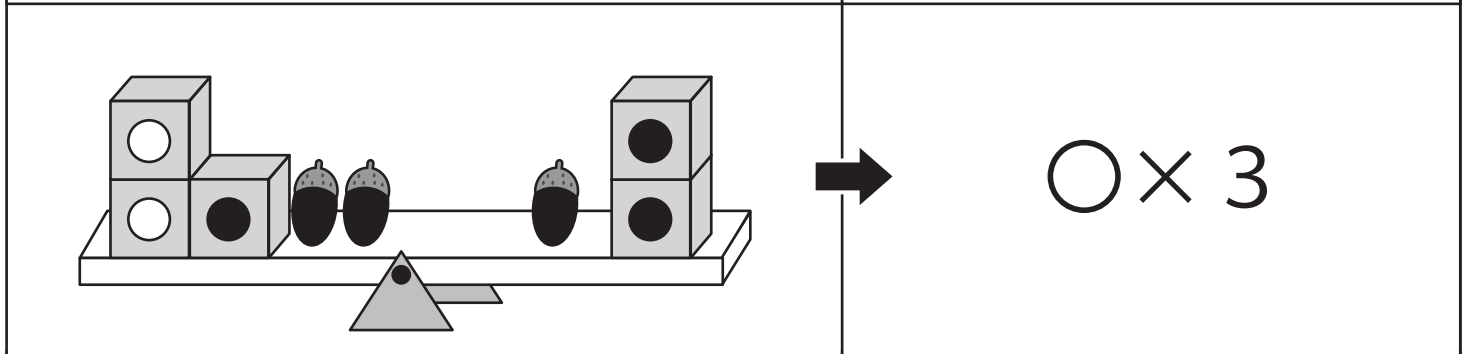
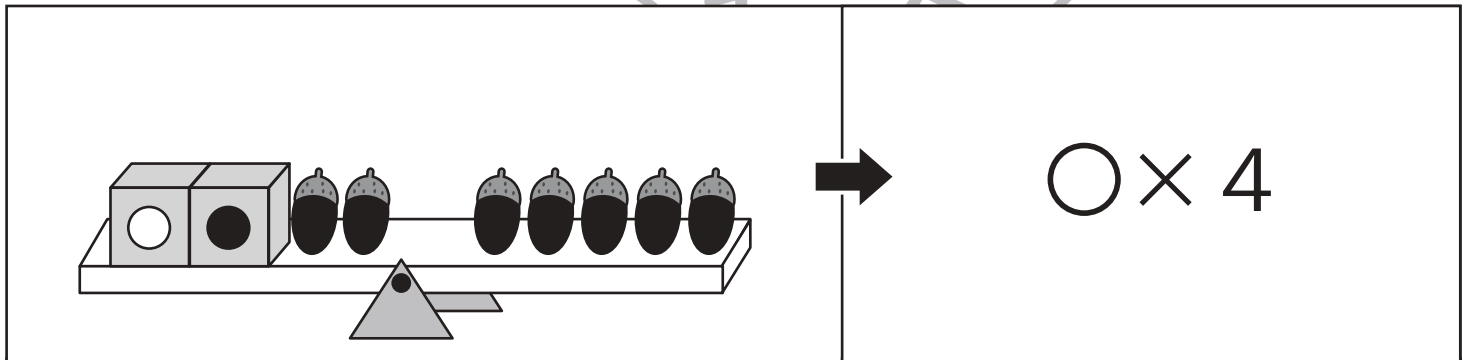
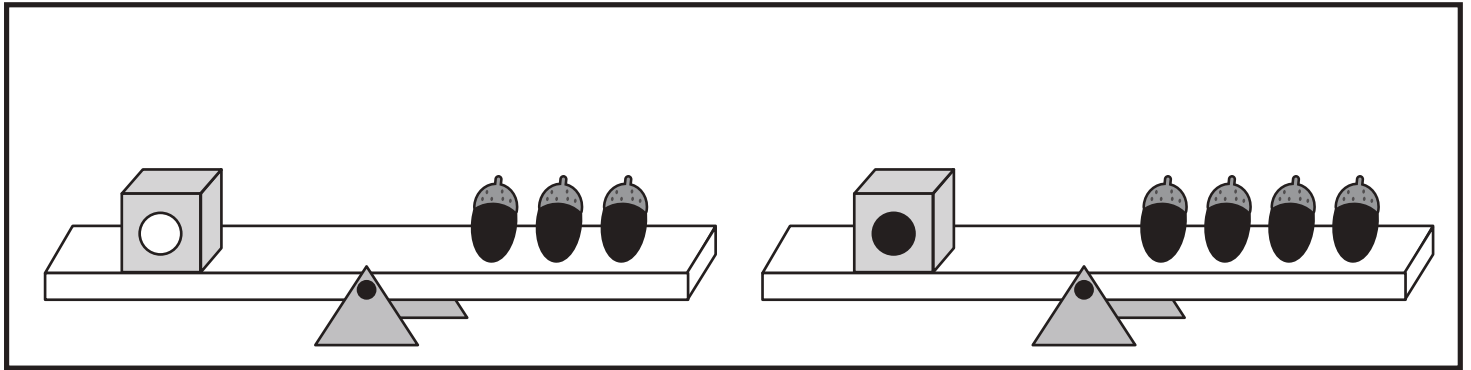


おうちで、やろう。

Study at home. 小学校受験の家庭学習教材

数量：置き換え⑬

上の太い四角の中がお約束です。記号のついた箱はいつかのドングリと同じ重さで吊り合っています。下のシーソーが吊り合うためには右側にあといくつのドングリを乗せればよいかを考えて、足りない数だけ矢印の右に○を書きましょう。



※1. このプリントは、しながわ・目黒こどもスクールのウェブサイトでダウンロードができます。無断複写・引用はご遠慮ください。

※2. このプリントを活用したオンライン授業のスケジュールは、しながわ・目黒こどもスクールのウェブサイトでご確認ください。









おうちで、やろう。

Study at home. 小学校受験の家庭学習教材

処理：計数③

上の四角の中の絵の数をかぞえて、下の四角の同じ絵の右にその数だけ〇をかきます。
この問題はスピードを意識して取り組む練習をしてみましょう。(1分30秒～2分)



	○×8
	○×9
	○×7
	○×5
	○×10

※1. このプリントは、しながわ・目黒こどもスクールのウェブサイトからダウンロードできます。無断複写・引用はご遠慮ください。
※2. このプリントを活用したオンライン授業のスケジュールは、しながわ・目黒こどもスクールのウェブサイトでご確認ください。

