


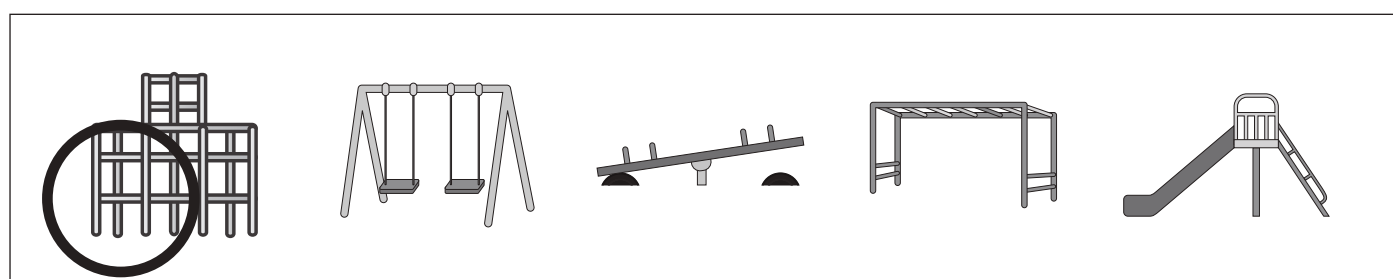
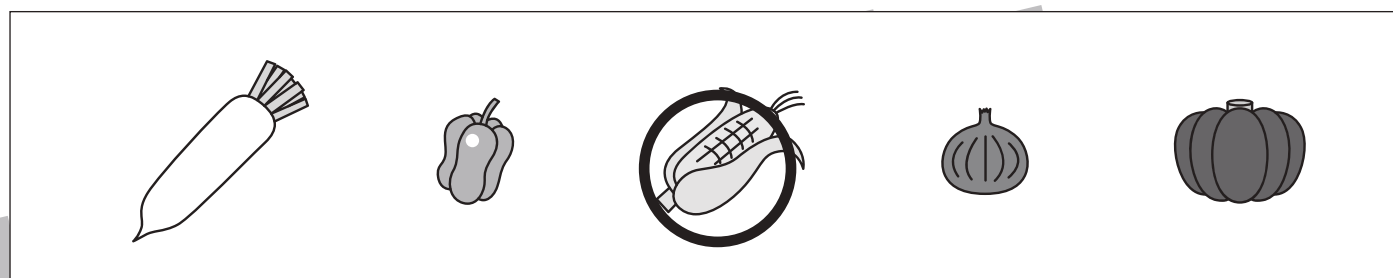




おうちで、やろう。

Study at home. 小学校受験の家庭学習教材

言語：音の数⑱

それぞれの四角の中の名前の音の数が一番多いものに○をつけます。



※1. このプリントは、しながわ・目黒こどもスクールのウェブサイトでダウンロードができます。無断複写・引用はご遠慮ください。

※2. このプリントを活用したオンライン授業のスケジュールは、しながわ・目黒こどもスクールのウェブサイトでご確認ください。



おうちで、やろう。

Study at home. 小学校受験の家庭学習教材

常識：なぞなぞ⑧

①～⑤の問題を聞いて、下の四角の中から正しいものを選びます。


①私は夏に咲きます。棒が近くにあるとつるで巻つく事が出来ます。私に○をつけてください。

②私は地面に穴を掘ることが出来ます。地面の中に住んでいます。私に△をつけてください。

③私は暑い季節に使います。風が吹くとききれいな音が出ます。私に□をつけてください。

④私は夏にしか見かけられません。力持ちで、自慢の角を一本持っています。私に◎をつけてください。

⑤私は小学校に行くときに使います。たくさんの物を入れることが出来ます。私に×をつけてください。



※1. このプリントは、しながわ・目黒こどもスクールのウェブサイトダウンロードができます。無断複写・引用はご遠慮ください。

※2. このプリントを活用したオンライン授業のスケジュールは、しながわ・目黒こどもスクールのウェブサイトでご確認ください。

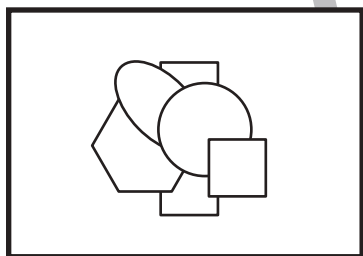
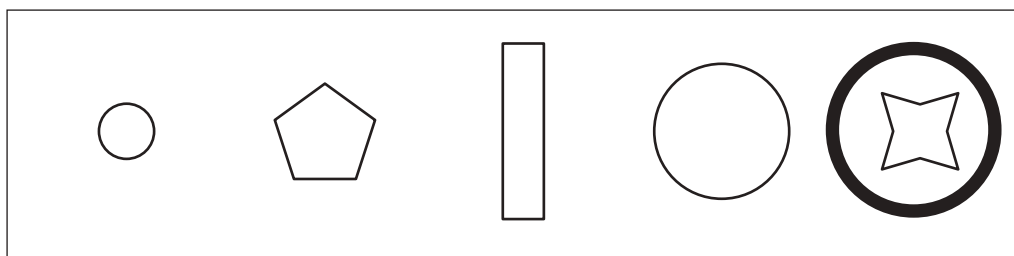
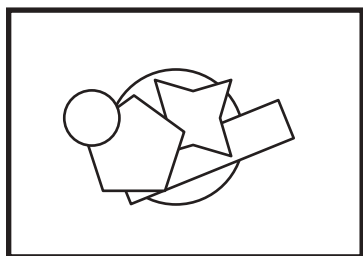

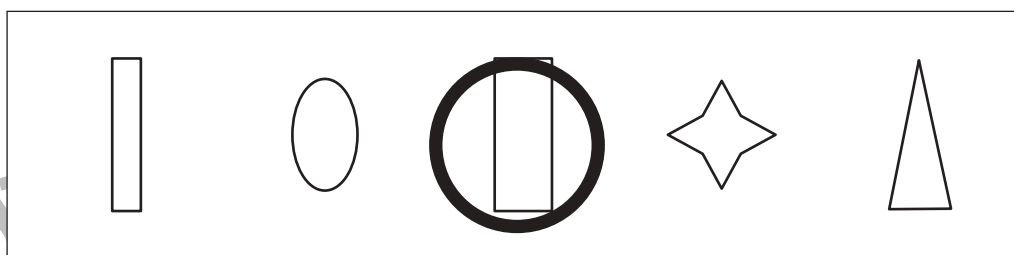

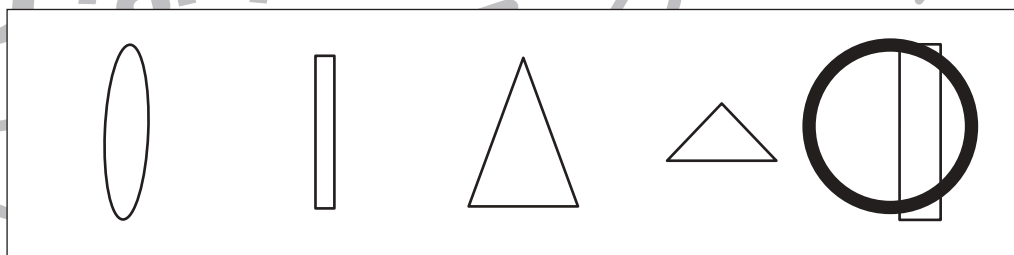

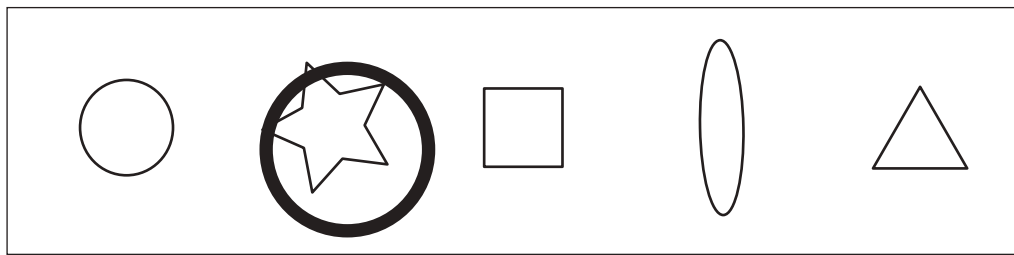



おうちで、やろう。

Study at home. 小学校受験の家庭学習教材

図形：重なり②

左の太い四角の中は右の四角の中の形のうち5つを重ねて作ったものです。上から3番目にある形を見つけて○をつけます。



※1. このプリントは、しながわ・目黒こどもスクールのウェブサイトでダウンロードができます。無断複写・引用はご遠慮ください。

※2. このプリントを活用したオンライン授業のスケジュールは、しながわ・目黒こどもスクールのウェブサイトでご確認ください。



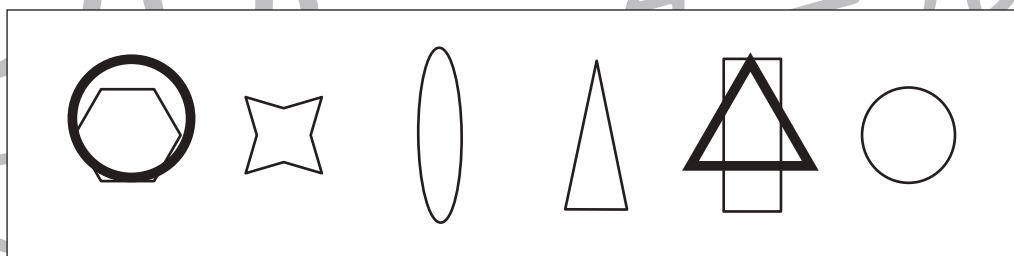

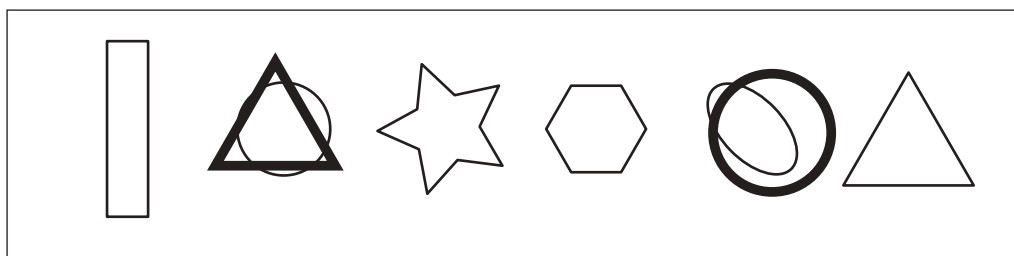


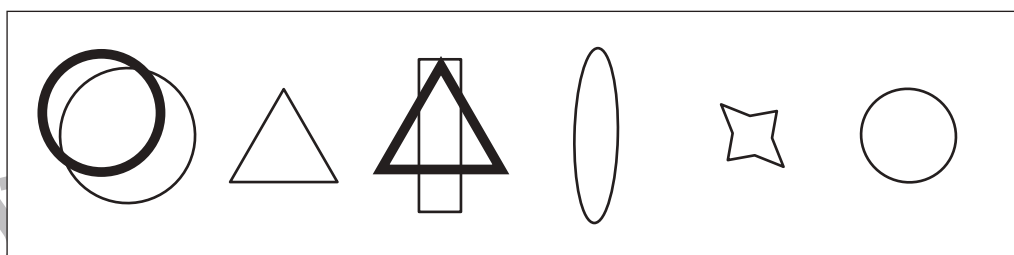

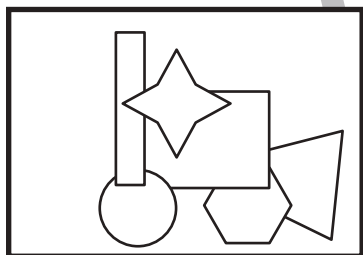
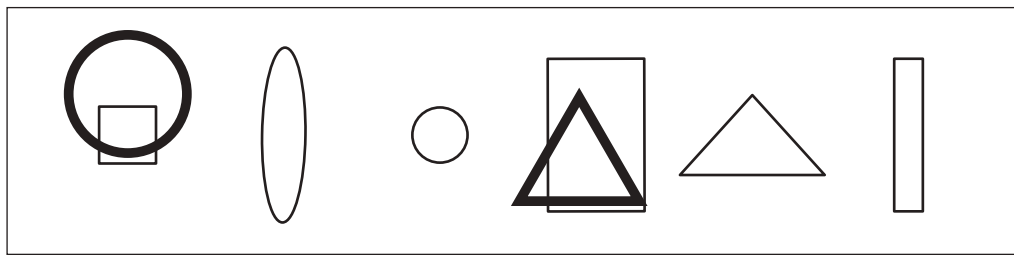



おうちで、やろう。

Study at home. 小学校受験の家庭学習教材

図形：重なり⑳

左の太い四角の中は右の四角の中の形のうち6つを重ねて作ったものです。上から3番目にある形に○を、5番目にある形に△をつけます。



※1. このプリントは、しながわ・目黒こどもスクールのウェブサイトからダウンロードできます。無断複写・引用はご遠慮ください。
※2. このプリントを活用したオンライン授業のスケジュールは、しながわ・目黒こどもスクールのウェブサイトでご確認ください。






おうちで、やろう。

Study at home. 小学校受験の家庭学習教材

図形：置き換え⑳

上に並んでいる太い四角がお手本です。上の四角の中に並んだ絵を下の四角の同じ場所に数字に置き換えてかきます。ただし、一番上の段の左から右、2段目の左から右と順番通りに進みます。この問題はスピードを意識して取り組みましょう。(1分～1分30秒)



※1. このプリントは、しながわ・目黒こどもスクールのウェブサイトでダウンロードができます。無断複写・引用はご遠慮ください。

※2. このプリントを活用したオンライン授業のスケジュールは、しながわ・目黒こどもスクールのウェブサイトでご確認ください。




おうちで、やろう。

Study at home. 小学校受験の家庭学習教材

図形：置き換え②④

上に並んでいる太い四角がお手本です。上の四角の中に並んだ絵を下の四角の同じ場所に数字に置き換えてかきます。ただし、一番上の段の左から右、2段目の左から右と順番通りに進みます。この問題はスピードを意識して取り組みましょう。(1分～1分30秒)



1	2	3	4	5	4	5	3
2	1	2	1	3	4	5	4
3	5	1	2	2	5	4	3
1	2	1	4	5	3	5	4
1	2	3	4	5	3	2	1

※1. このプリントは、しながわ・目黒こどもスクールのウェブサイトでダウンロードができます。無断複写・引用はご遠慮ください。

※2. このプリントを活用したオンライン授業のスケジュールは、しながわ・目黒こどもスクールのウェブサイトでご確認ください。

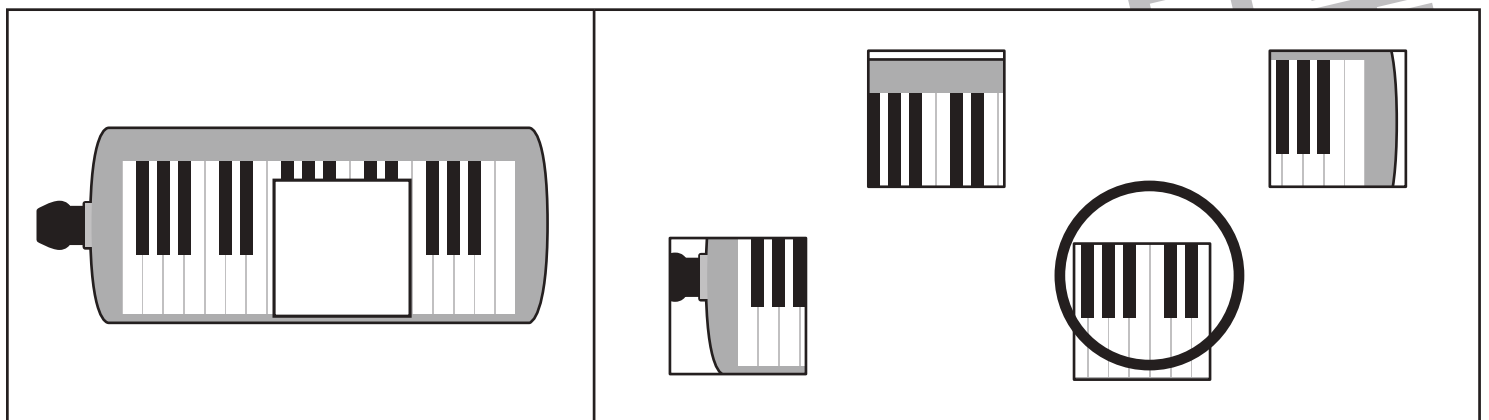

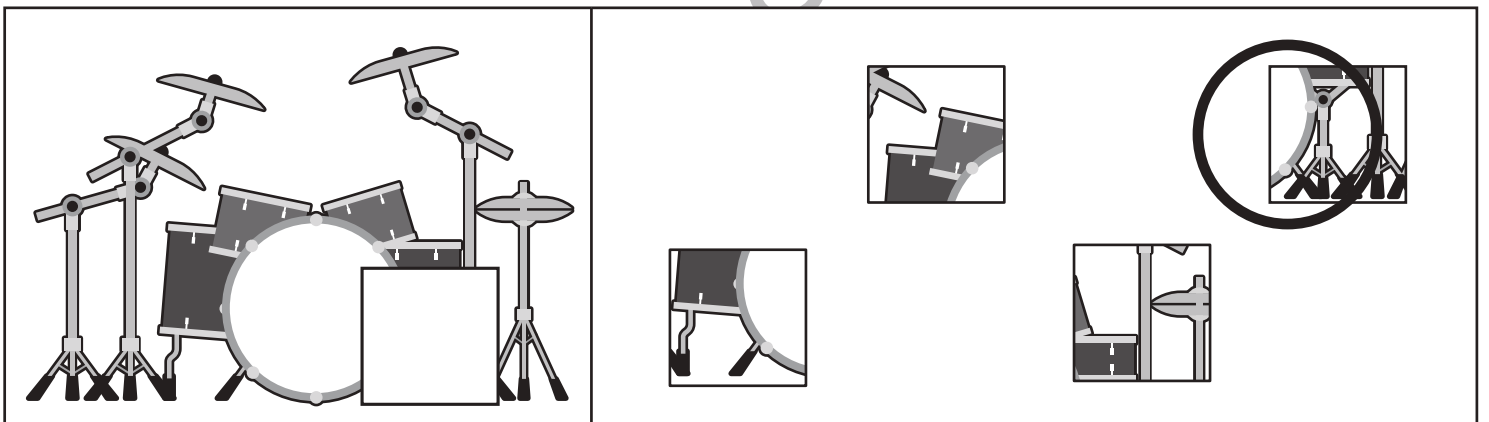
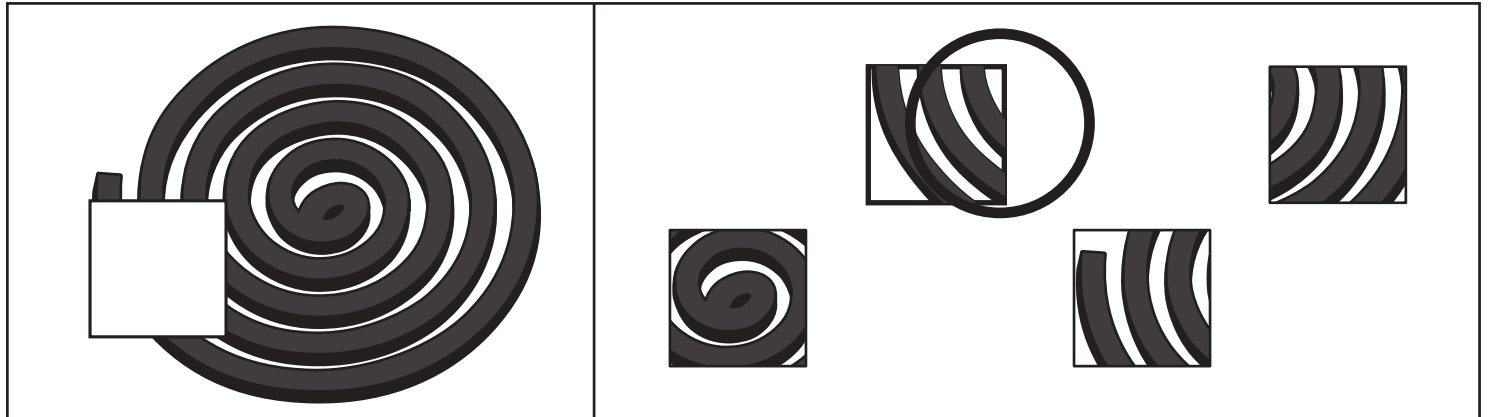


おうちで、やろう。

Study at home. 小学校受験の家庭学習教材

推理：パズル⑦

左の絵の空いているところにぴったり合うものを右から選び○をつけます。



※1. このプリントは、しながわ・目黒こどもスクールのウェブサイトでダウンロードができます。無断複写・引用はご遠慮ください。
 ※2. このプリントを活用したオンライン授業のスケジュールは、しながわ・目黒こどもスクールのウェブサイトでご確認ください。

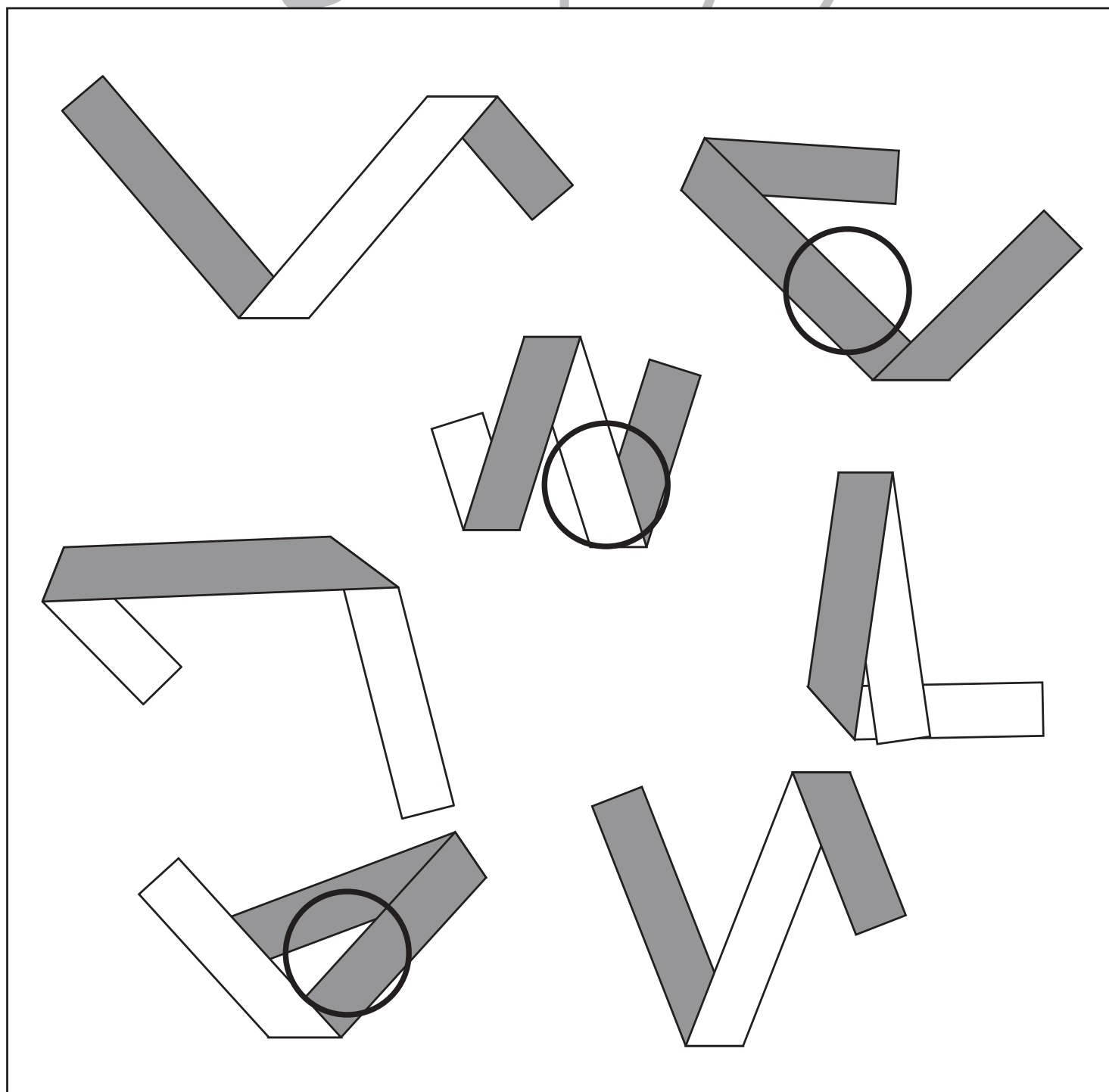
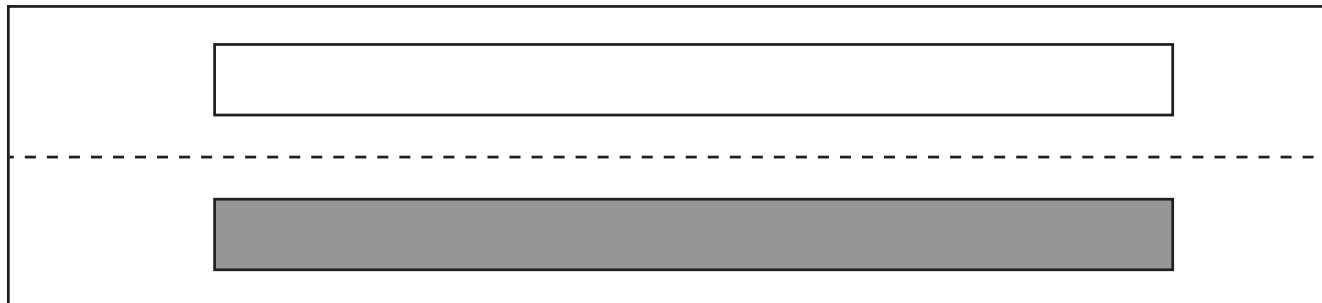


おうちで、やろう。

Study at home. 小学校受験の家庭学習教材

推理：折り図形①

表が白色、裏が灰色のテープがあります。このテープを2回折ってできない図形に○をつけます。



※1. このプリントは、しながわ・目黒こどもスクールのウェブサイトからダウンロードできます。無断複写・引用はご遠慮ください。
※2. このプリントを活用したオンライン授業のスケジュールは、しながわ・目黒こどもスクールのウェブサイトでご確認ください。

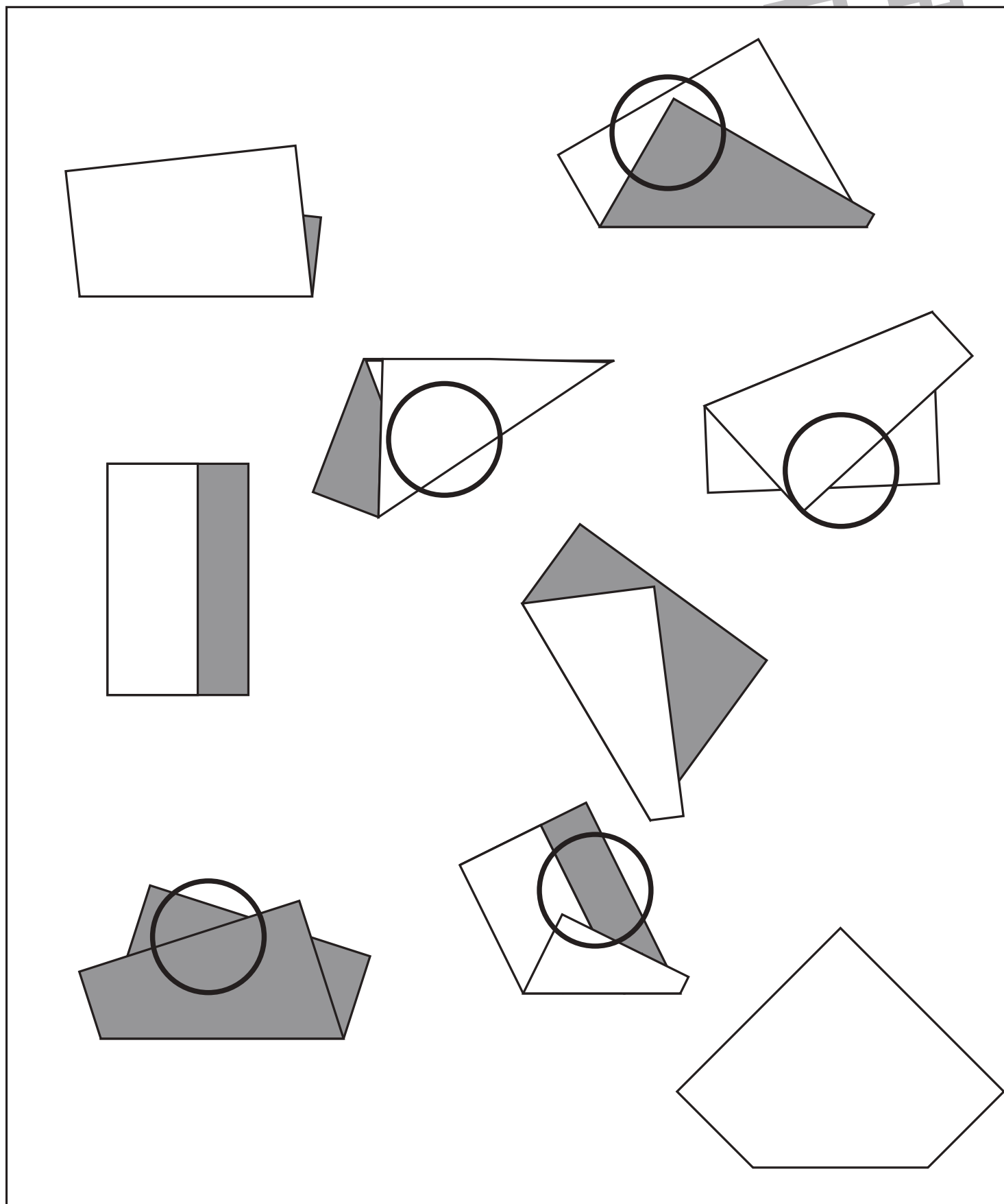


おうちで、やろう。

Study at home. 小学校受験の家庭学習教材

推理：折り図形②

表が白色、裏が灰色の折り紙があります。この折り紙を灰色同士が重なるように1度だけ折りました。この約束で折っていないものを見つけて○をつけます。



※1. このプリントは、しながわ・目黒こどもスクールのウェブサイトからダウンロードできます。無断複写・引用はご遠慮ください。

※2. このプリントを活用したオンライン授業のスケジュールは、しながわ・目黒こどもスクールのウェブサイトでご確認ください。