

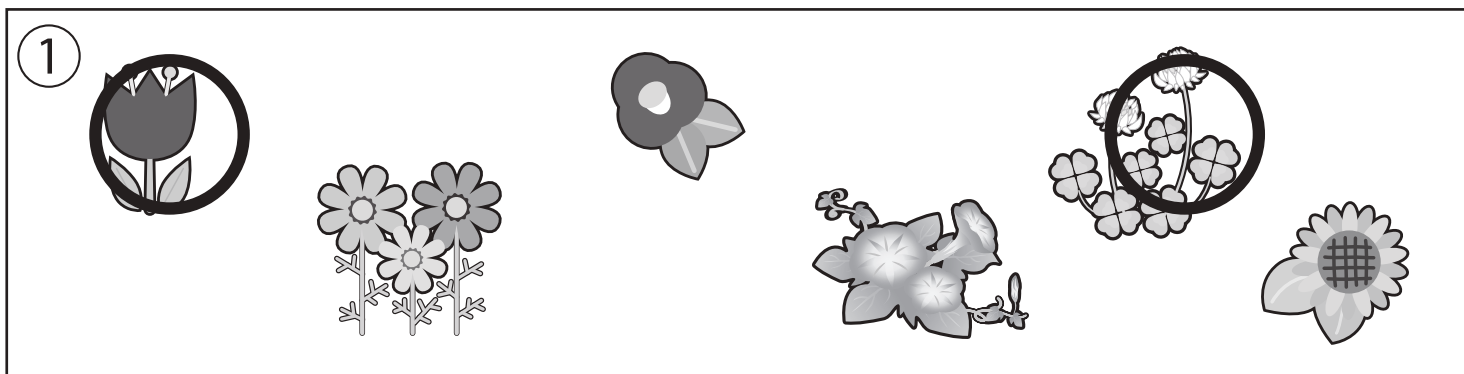


おうちで、やろう。


Study at home. 小学校受験の家庭学習教材

常識：行事1

①こどもの日はどの季節の行事ですか。その季節の花に○をつけます。



②こどもの日に関係しないものに×をつけます。



※1. このプリントは、しながわ・目黒こどもスクールのウェブサイトでダウンロードができます。無断複写・引用はご遠慮ください。

※2. このプリントを活用したオンライン授業のスケジュールは、しながわ・目黒こどもスクールのウェブサイトでご確認ください。

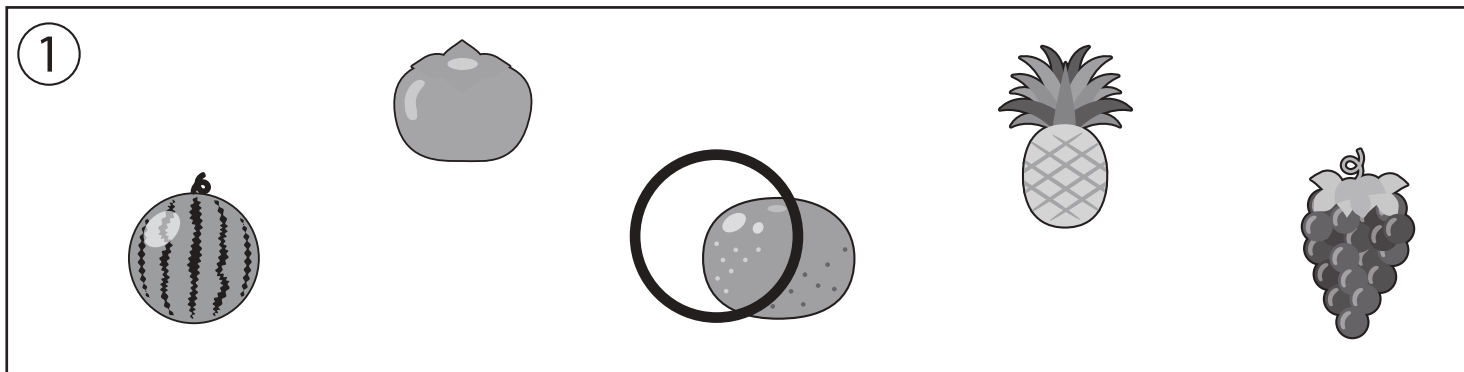


おうちで、やろう。


Study at home. 小学校受験の家庭学習教材

常識：行事2

①節分はどの季節の行事ですか。その季節の果物に○をつけます。



②節分の日に関するものに○をつけます。



※1. このプリントは、しながわ・目黒こどもスクールのウェブサイトからダウンロードができます。無断複写・引用はご遠慮ください。

※2. このプリントを活用したオンライン授業のスケジュールは、しながわ・目黒こどもスクールのウェブサイトでご確認ください。



おうちで、やろう。

Study at home. 小学校受験の家庭学習教材

図形：回転 4

左のお手本を矢印の方向へ 1 回倒した時の見え方を考えて右の四角にかきます。

Figure 1: A 2x2 grid with a triangle in the top-right cell. An arrow points to a 2x2 grid with a triangle in the bottom-right cell.

Figure 2: A 2x2 grid with a triangle in the top-left cell. An arrow points to a 2x2 grid with a triangle in the top-right cell.

Figure 3: A 2x2 grid with a triangle in the bottom-left cell. An arrow points to a 2x2 grid with a triangle in the bottom-right cell.

Figure 4: A 2x2 grid with a triangle in the top-right cell. An arrow points to a 2x2 grid with a triangle in the top-left cell.

Figure 5: A 2x2 grid with a triangle in the bottom-right cell. An arrow points to a 2x2 grid with a triangle in the bottom-left cell.

Figure 6: A 2x2 grid with a triangle in the top-right cell. An arrow points to a 2x2 grid with a triangle in the bottom-right cell.

Figure 7: A 2x2 grid with a triangle in the top-left cell. An arrow points to a 2x2 grid with a triangle in the top-right cell.

Figure 8: A 2x2 grid with a triangle in the bottom-left cell. An arrow points to a 2x2 grid with a triangle in the bottom-right cell.

Figure 9: A 2x2 grid with a triangle in the top-right cell. An arrow points to a 2x2 grid with a triangle in the top-left cell.

Figure 10: A 2x2 grid with a triangle in the bottom-right cell. An arrow points to a 2x2 grid with a triangle in the bottom-left cell.

Figure 11: A 2x2 grid with a triangle in the top-left cell. An arrow points to a 2x2 grid with a triangle in the top-right cell.

Figure 12: A 2x2 grid with a triangle in the bottom-left cell. An arrow points to a 2x2 grid with a triangle in the bottom-right cell.

Figure 13: A 2x2 grid with a triangle in the top-right cell. An arrow points to a 2x2 grid with a triangle in the top-left cell.

Figure 14: A 2x2 grid with a triangle in the bottom-right cell. An arrow points to a 2x2 grid with a triangle in the bottom-left cell.

Figure 15: A 2x2 grid with a triangle in the top-left cell. An arrow points to a 2x2 grid with a triangle in the top-right cell.

Figure 16: A 2x2 grid with a triangle in the bottom-left cell. An arrow points to a 2x2 grid with a triangle in the bottom-right cell.

Figure 17: A 2x2 grid with a triangle in the top-right cell. An arrow points to a 2x2 grid with a triangle in the top-left cell.

Figure 18: A 2x2 grid with a triangle in the bottom-right cell. An arrow points to a 2x2 grid with a triangle in the bottom-left cell.

Figure 19: A 2x2 grid with a triangle in the top-left cell. An arrow points to a 2x2 grid with a triangle in the top-right cell.

Figure 20: A 2x2 grid with a triangle in the bottom-left cell. An arrow points to a 2x2 grid with a triangle in the bottom-right cell.

※1. このプリントは、しながわ・目黒こどもスクールのウェブサイトでダウンロードができます。無断複写・引用はご遠慮ください。

※2. このプリントを活用したオンライン授業のスケジュールは、しながわ・目黒こどもスクールのウェブサイトでご確認ください。



おうちで、よろう。

Study at home. 小学校受験の家庭学習教材

図形：回転5

左のお手本を矢印の方向へ1回倒した時の見え方を考えて右の四角にかきます。

A 5x2 grid of visual puzzles. Each puzzle consists of two 2x2 grids. A curved arrow points from the left grid to the right grid, indicating a 90-degree clockwise rotation. The shapes in the right grid are the result of rotating the shapes in the left grid.

※1. このプリントは、しながわ・目黒こどもスクールのウェブサイトでダウンロードができます。無断複写・引用はご遠慮ください。
 ※2. このプリントを活用したオンライン授業のスケジュールは、しながわ・目黒こどもスクールのウェブサイトでご確認ください。



おうちで、よろう。

Study at home. 小学校受験の家庭学習教材

図形：重ね4

上の2枚の板は透明です。この2枚の板を重ねたときの見え方を考えて下の四角にかきます。

※1. このプリントは、しながわ・目黒こどもスクールのウェブサイトでダウンロードができます。無断複写・引用はご遠慮ください。

※2. このプリントを活用したオンライン授業のスケジュールは、しながわ・目黒こどもスクールのウェブサイトでご確認ください。



おうちで、やろう。

Study at home. 小学校受験の家庭学習教材

推理：積み木1

上の四角の中の積み木の数数を数えてその数だけ下の四角に○を書きます。

○	○	○	○
○	○		

○	○	○	○
○	○	○	

○	○	○	○
○	○	○	○

○	○	○	○
○	○	○	○
○	○		

○	○	○	○
○	○	○	○
○			

○	○	○	○
○	○	○	○
○			

※1. このプリントは、しながわ・目黒こどもスクールのウェブサイトでダウンロードができます。無断複写・引用はご遠慮ください。
 ※2. このプリントを活用したオンライン授業のスケジュールは、しながわ・目黒こどもスクールのウェブサイトでご確認ください。



おうちで、やろう。

Study at home. 小学校受験の家庭学習教材

推理：積み木2

上の四角の中の積み木の数を数えてその数だけ下の四角に○を書きます。

○	○	○	○
○			

○	○	○	○
○	○		

○	○	○	○
○	○	○	○

○	○	○	○
○	○	○	○
○	○	○	○

○	○	○	○
○	○	○	○
○	○	○	○

○	○	○	○
○	○	○	○
○	○	○	

※1. このプリントは、しながわ・目黒こどもスクールのウェブサイトからダウンロードできます。無断複写・引用はご遠慮ください。
 ※2. このプリントを活用したオンライン授業のスケジュールは、しながわ・目黒こどもスクールのウェブサイトでご確認ください。



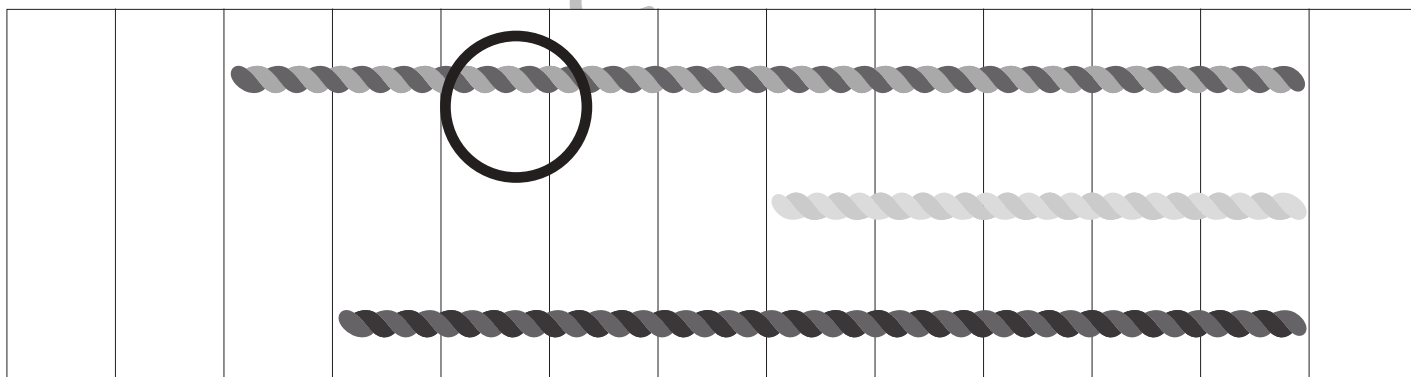
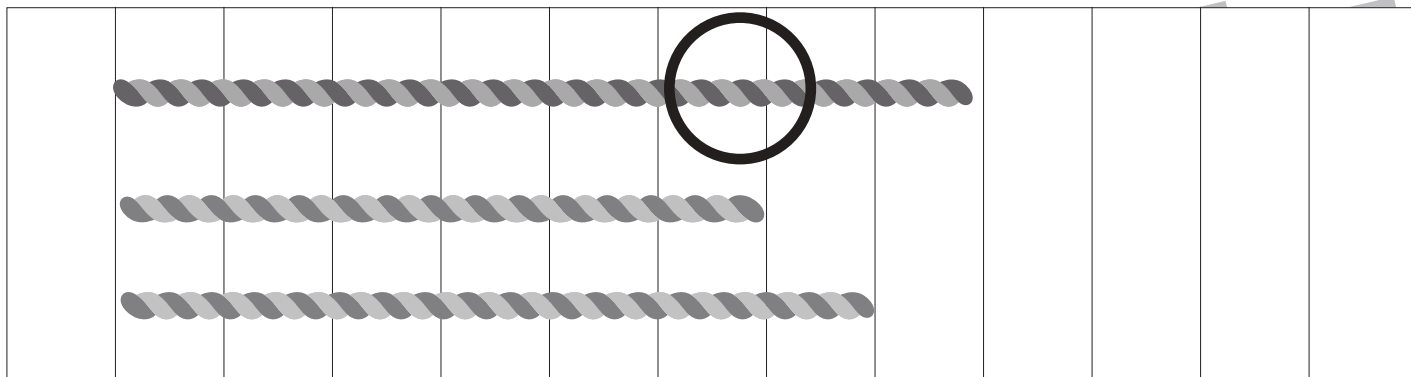


おうちで、やろう。

Study at home. 小学校受験の家庭学習教材

数量：長さ1

ひもの長さが一番長いものに○、をつけます。



※1. このプリントは、しながわ・目黒こどもスクールのウェブサイトでダウンロードができます。無断複写・引用はご遠慮ください。

※2. このプリントを活用したオンライン授業のスケジュールは、しながわ・目黒こどもスクールのウェブサイトでご確認ください。


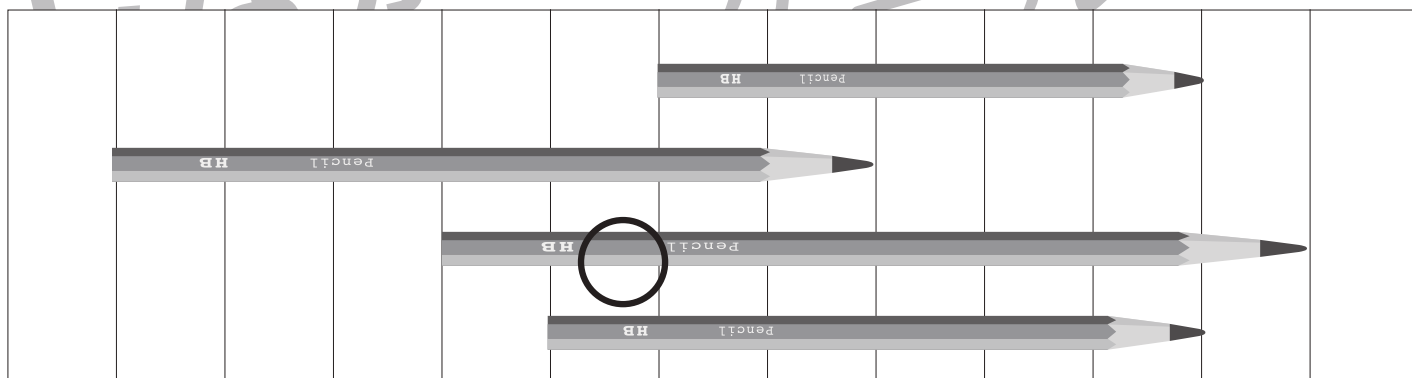
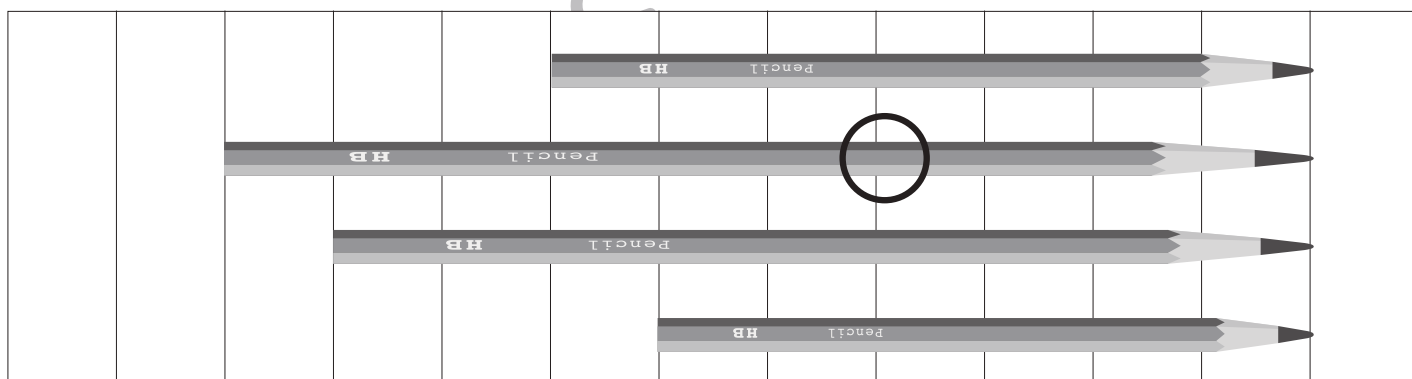
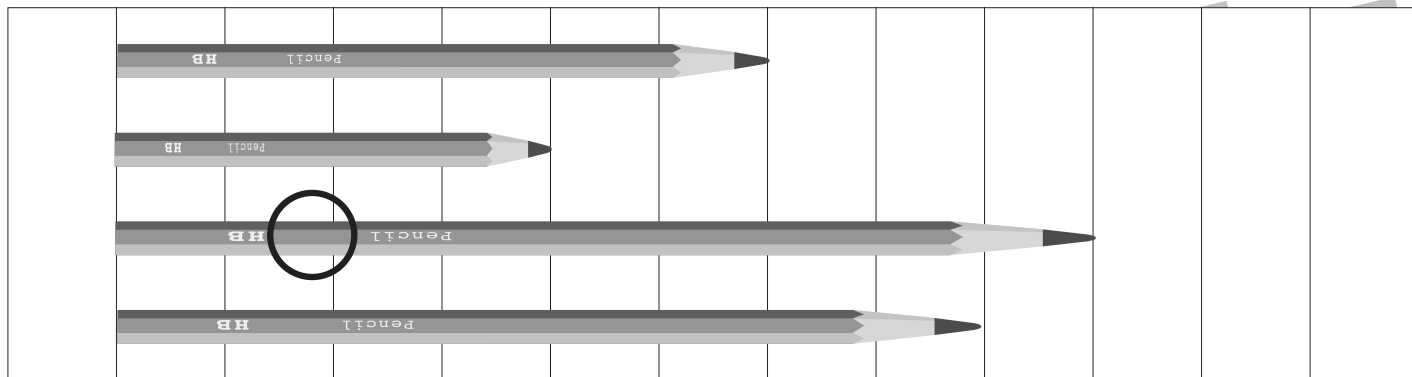


おうちで、やろう。

Study at home. 小学校受験の家庭学習教材

数量：長さ2

鉛筆の長さが一番長いものに○、をつけます。



※1. このプリントは、しながわ・目黒こどもスクールのウェブサイトからダウンロードできます。無断複写・引用はご遠慮ください。

※2. このプリントを活用したオンライン授業のスケジュールは、しながわ・目黒こどもスクールのウェブサイトでご確認ください。

