

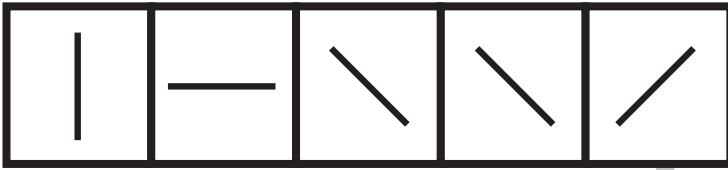


おうちで、よろう。

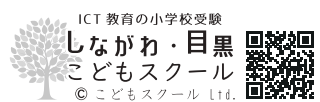
Study at home. 小学校受験の家庭学習教材

処理：系列完成 1

上の四角の中にマークがお手本です。お手本の順番で一番上の段の左から横に向かってかきます。右端までかけたら次の段の左から右へと順番に進みます。この問題はスピードを意識して取り組みましょう。(制限時間2～3分)



※1.このプリントは、しながわ・目黒こどもスクールのウェブサイトでダウンロードができます。無断複写・引用はご遠慮ください。
※2.このプリントを活用したオンライン授業のスケジュールは、しながわ・目黒こどもスクールのウェブサイトでご確認ください。






おうちで、やろう。

Study at home. 小学校受験の家庭学習教材

処理：系列完成2

上の四角の中にマークがお手本です。お手本の順番で一番上の段の左から横に向かってかきます。右端までかけたら次の段の左から右へと順番に進みます。この問題はスピードを意識して取り組みましょう。(制限時間 1分30分～2分)



※1. このプリントは、しながわ・目黒こどもスクールのウェブサイトでダウンロードができます。無断複写・引用はご遠慮ください。
※2. このプリントを活用したオンライン授業のスケジュールは、しながわ・目黒こどもスクールのウェブサイトでご確認ください。

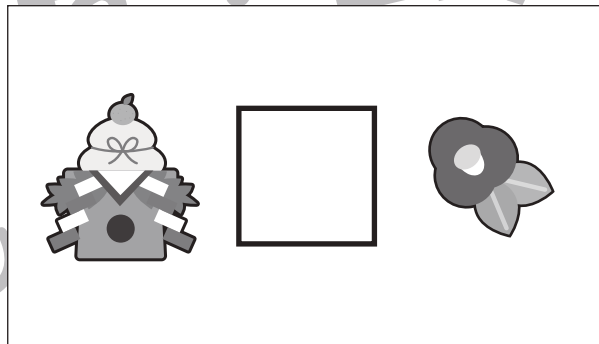
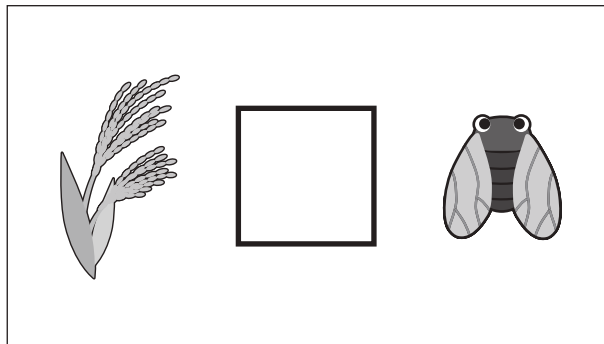
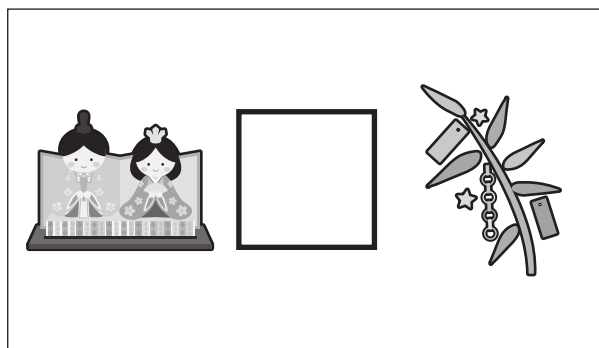



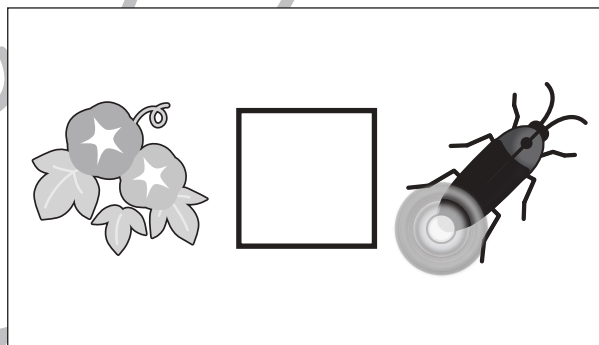





おうちで、やろう。

Study at home. 小学校受験の家庭学習教材

常識：季節1

四角の中の2つの絵の季節が同じときは○を、違うときは△を真ん中の太い四角の中にかきます。



※1. このプリントは、しながわ・目黒こどもスクールのウェブサイトでダウンロードができます。無断複写・引用はご遠慮ください。
※2. このプリントを活用したオンライン授業のスケジュールは、しながわ・目黒こどもスクールのウェブサイトでご確認ください。





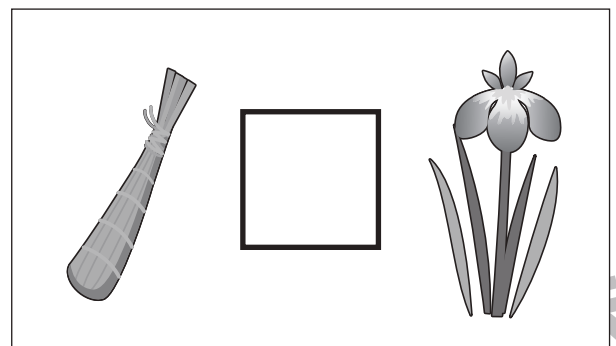
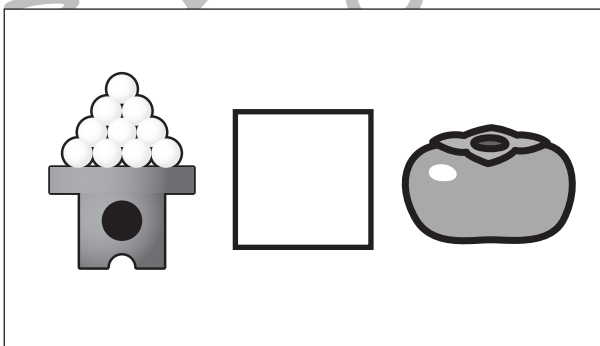

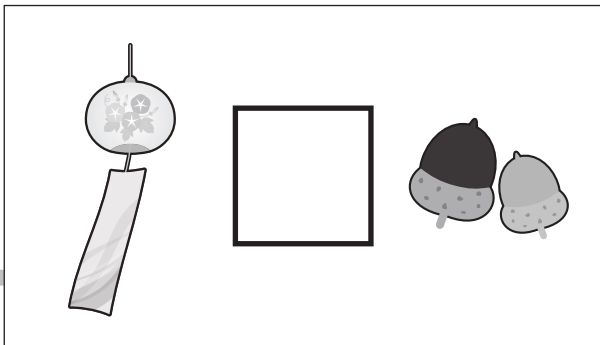

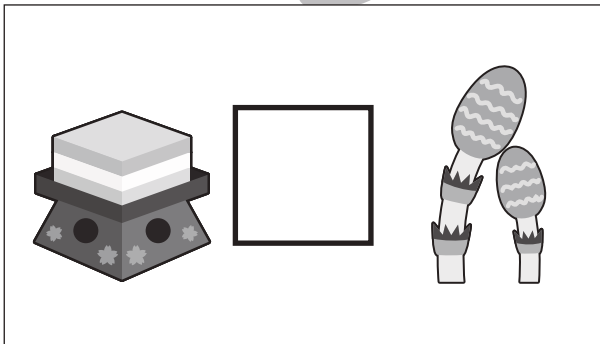
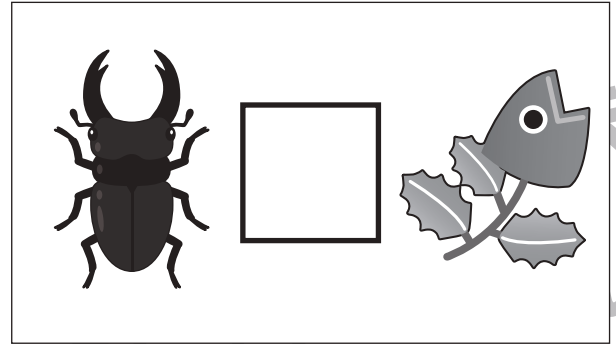
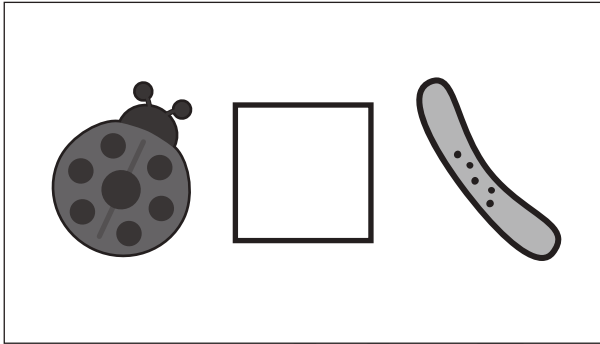


おうちで、やろう。

Study at home. 小学校受験の家庭学習教材

常識：季節2

四角の中の2つの絵の季節が同じときは○を、違うときは△を真ん中の太い四角の中にかきます。



※1. このプリントは、しながわ・目黒こどもスクールのウェブサイトでダウンロードができます。無断複写・引用はご遠慮ください。
※2. このプリントを活用したオンライン授業のスケジュールは、しながわ・目黒こどもスクールのウェブサイトでご確認ください。





おうちで、よろう。

Study at home. 小学校受験の家庭学習教材

図形：重ね 1

上の2枚の板は透明です。この2枚の板をぴったり重ねたときの見え方を考えて下の四角にかきます。

※1. このプリントは、しながわ・目黒こどもスクールのウェブサイトでダウンロードができます。無断複写・引用はご遠慮ください。

※2. このプリントを活用したオンライン授業のスケジュールは、しながわ・目黒こどもスクールのウェブサイトでご確認ください。



おうちで、やろう。

Study at home. 小学校受験の家庭学習教材

図形：重ね2

上の2枚の板は透明です。この2枚の板をぴったり重ねたときの見え方を考えて下の四角にかきます。

※1. このプリントは、しながわ・目黒こどもスクールのウェブサイトでダウンロードができます。無断複写・引用はご遠慮ください。

※2. このプリントを活用したオンライン授業のスケジュールは、しながわ・目黒こどもスクールのウェブサイトでご確認ください。



おうちで、やろう。

Study at home. 小学校受験の家庭学習教材

図形：重ね3

上の2枚の板は透明です。この2枚の板を重ねたときの見え方を考えて下の四角にかきます。

※1. このプリントは、しながわ・目黒こどもスクールのウェブサイトでダウンロードができます。無断複写・引用はご遠慮ください。

※2. このプリントを活用したオンライン授業のスケジュールは、しながわ・目黒こどもスクールのウェブサイトでご確認ください。




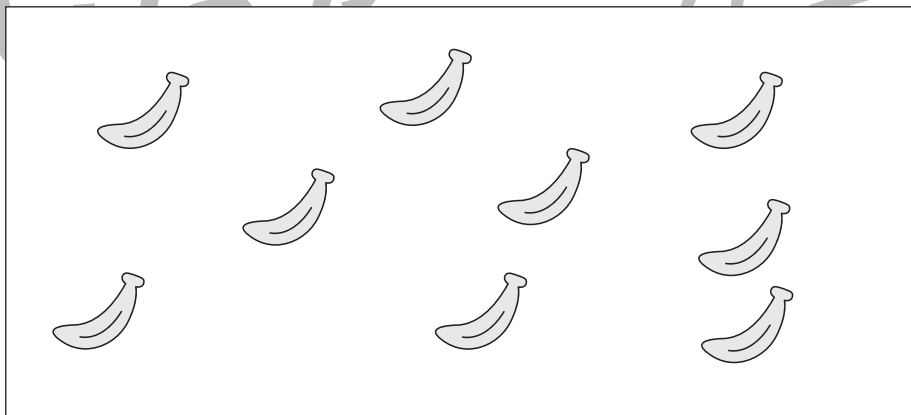
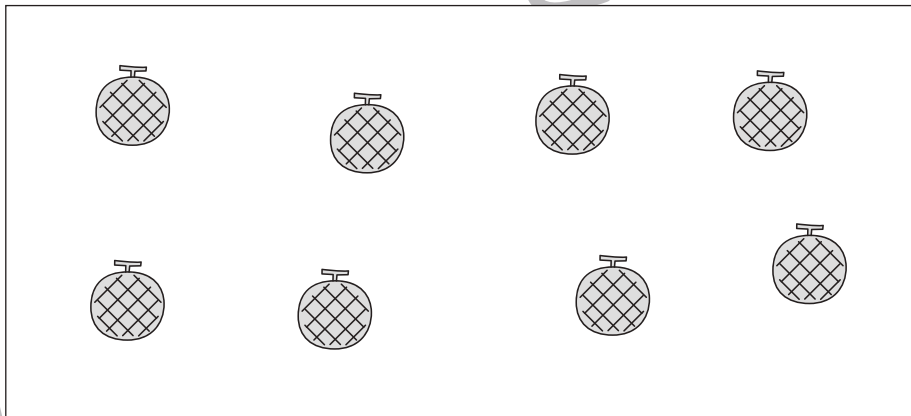
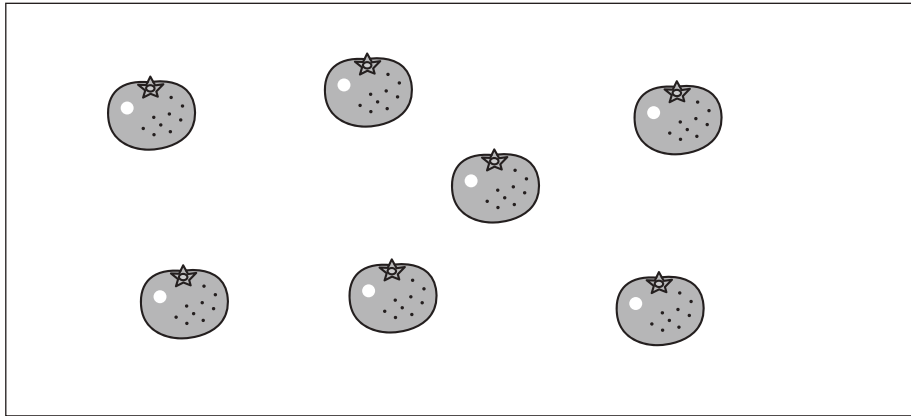


おうちで、やろう。

Study at home. 小学校受験の家庭学習教材

数量：計数3

左の四角の中の果物の数だけ右の四角の中に○をかきます。



※1. このプリントは、しながわ・目黒こどもスクールのウェブサイトでダウンロードができます。無断複写・引用はご遠慮ください。
※2. このプリントを活用したオンライン授業のスケジュールは、しながわ・目黒こどもスクールのウェブサイトでご確認ください。



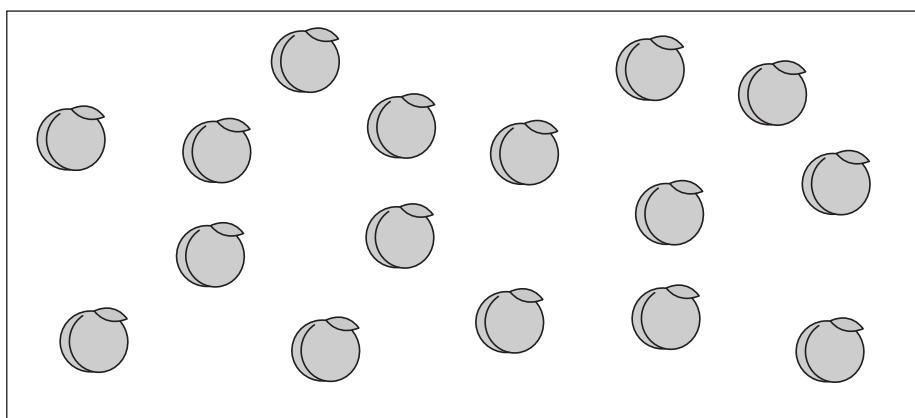

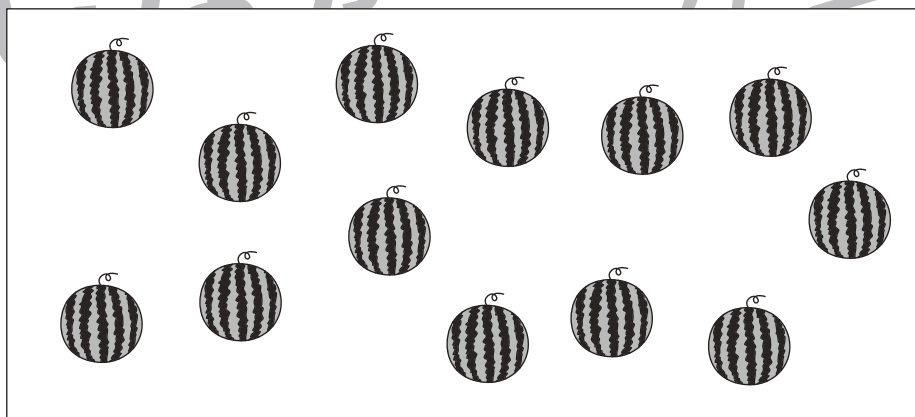






おうちで、やろう。

Study at home. 小学校受験の家庭学習教材

数量：計数4

左の四角の中の果物の数だけ右の四角の中に○をかきます。



※1. このプリントは、しながわ・目黒こどもスクールのウェブサイトでダウンロードができます。無断複写・引用はご遠慮ください。
※2. このプリントを活用したオンライン授業のスケジュールは、しながわ・目黒こどもスクールのウェブサイトでご確認ください。



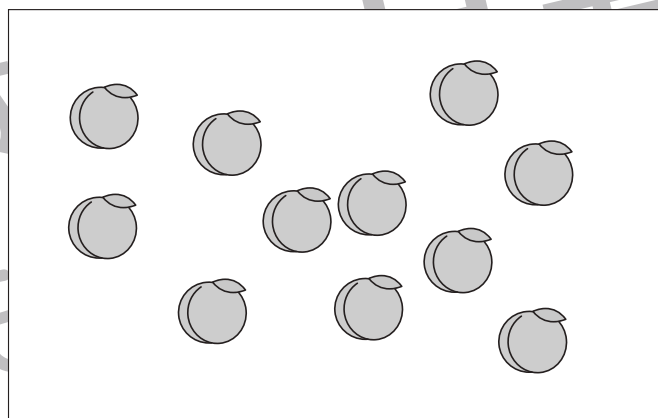
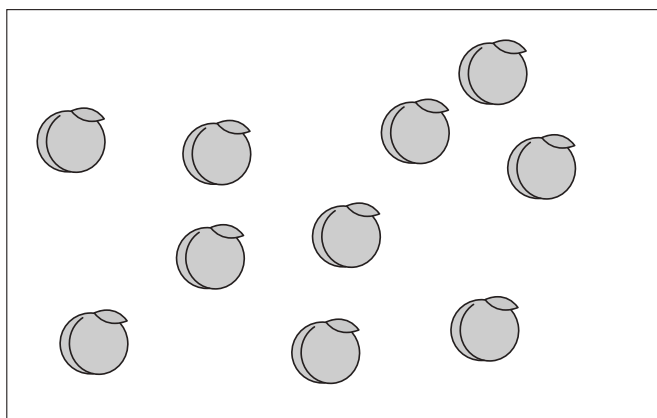
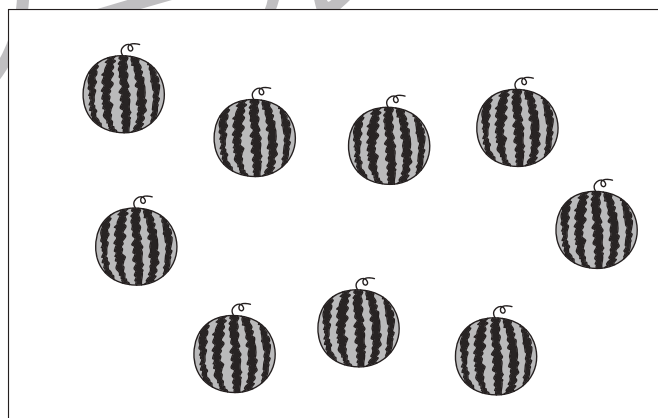




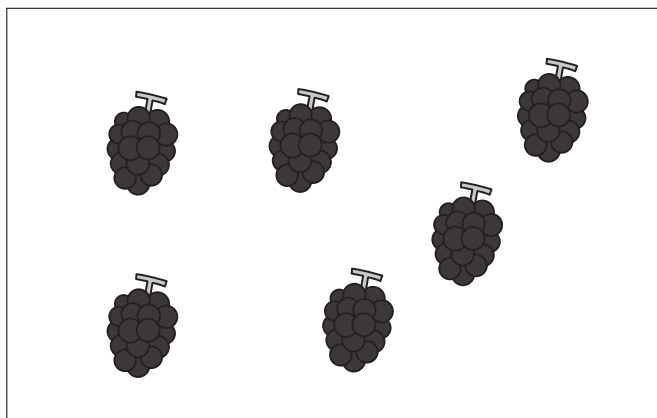


おうちで、やろう。

Study at home. 小学校受験の家庭学習教材

数量：多少1

左と右の四角の中の果物の数をかぞえて、多い方の四角に○をつけます。



※1. このプリントは、しながわ・目黒こどもスクールのウェブサイトでダウンロードができます。無断複写・引用はご遠慮ください。

※2. このプリントを活用したオンライン授業のスケジュールは、しながわ・目黒こどもスクールのウェブサイトでご確認ください。

