


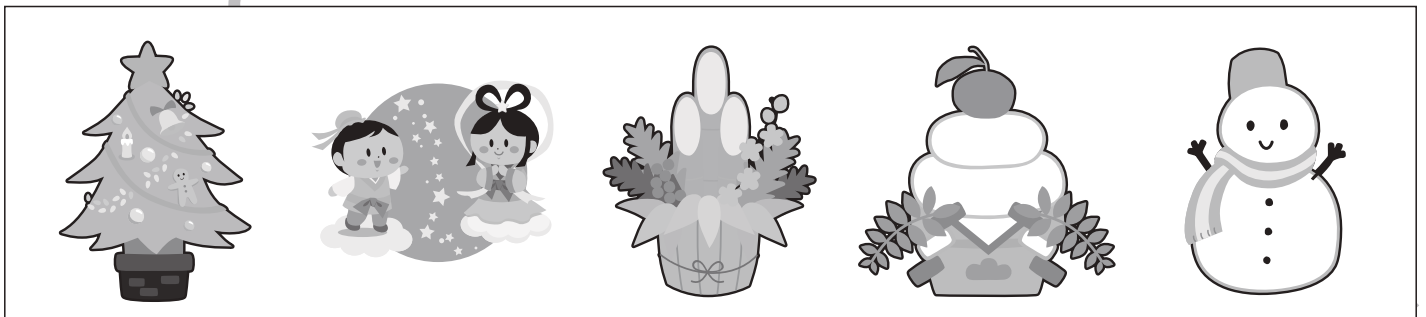

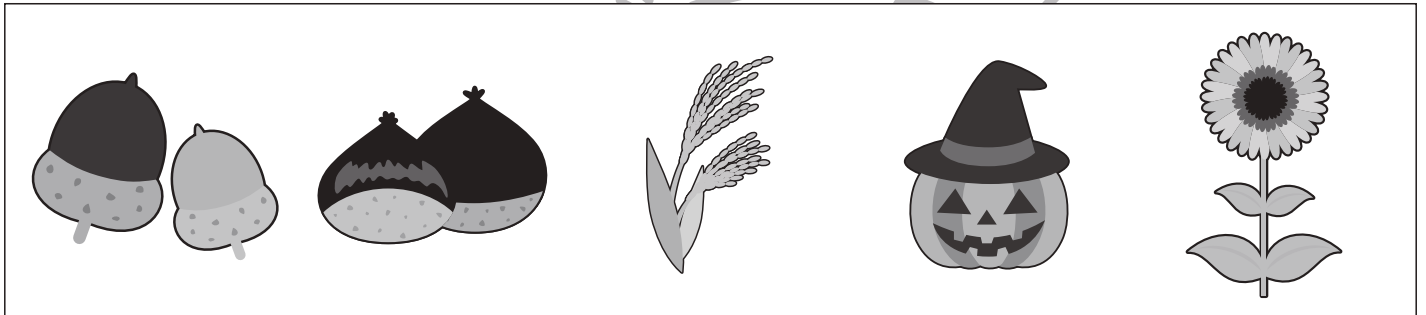



# おうちで、やろう。

Study at home. 小学校受験の家庭学習教材

## 常識：季節3

それぞれの四角の中で違う季節のものを見つけて×をつけます。



※1. このプリントは、しながわ・目黒こどもスクールのウェブサイトからダウンロードできます。無断複写・引用はご遠慮ください。  
※2. このプリントを活用したオンライン授業のスケジュールは、しながわ・目黒こどもスクールのウェブサイトでご確認ください。






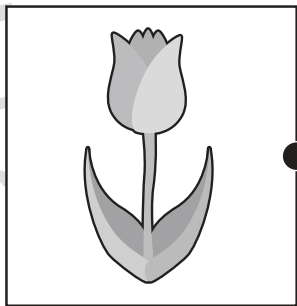






# おうちで、やろう。

Study at home. 小学校受験の家庭学習教材

## 常識：季節4

左の四角の中の絵と同じ季節の虫を右の四角の中から探して点と点を線で結びます。



※1. このプリントは、しながわ・目黒こどもスクールのウェブサイトからダウンロードできます。無断複写・引用はご遠慮ください。  
※2. このプリントを活用したオンライン授業のスケジュールは、しながわ・目黒こどもスクールのウェブサイトでご確認ください。

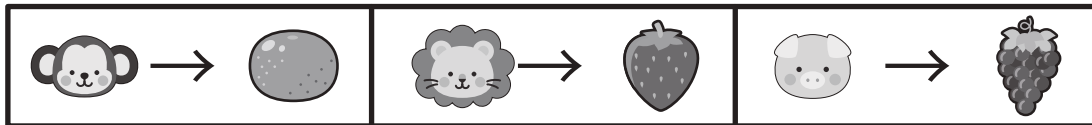







# おうちで、やろう。






Study at home. 小学校受験の家庭学習教材






## 図形：置き換え 1






上の太い四角が約束です。それぞれの動物は矢印の右にある食べ物に変えます。この約束で左の四角の中の動物を食べ物に置き換えたとき、下の四角の中から正しいものを見つけて○をつけます。








				
---	---	---	---	---

				
--	--	--	--	--

				
---	---	---	---	---

				
---	---	---	---	---

				
---	---	---	---	---

※1. このプリントは、しながわ・目黒こどもスクールのウェブサイトからダウンロードできます。無断複写・引用はご遠慮ください。  
 ※2. このプリントを活用したオンライン授業のスケジュールは、しながわ・目黒こどもスクールのウェブサイトでご確認ください。


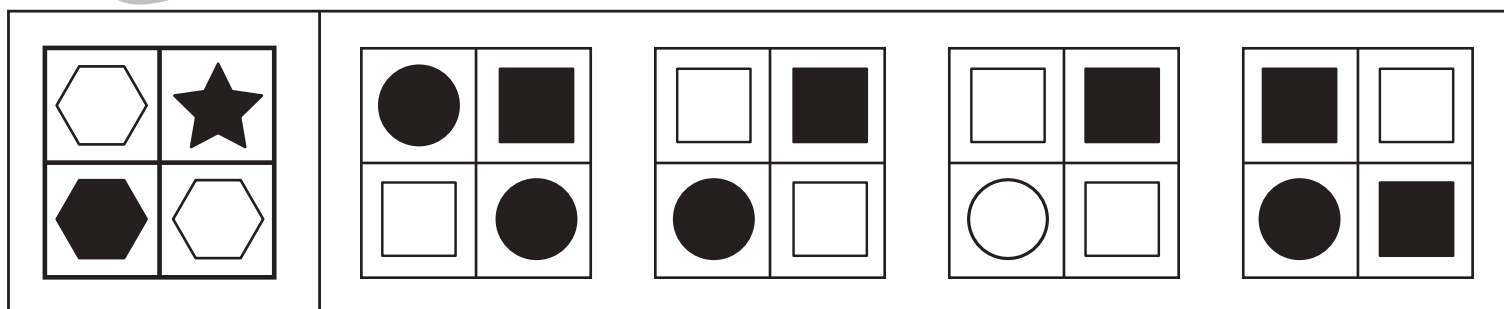

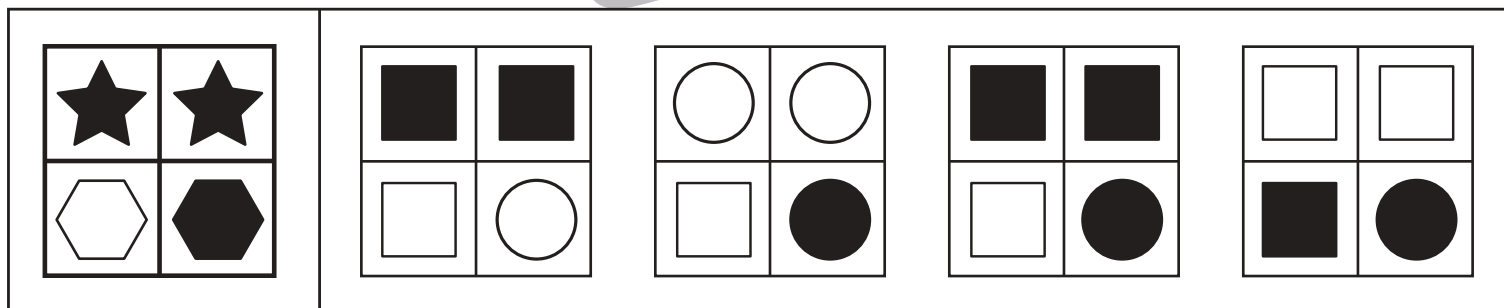
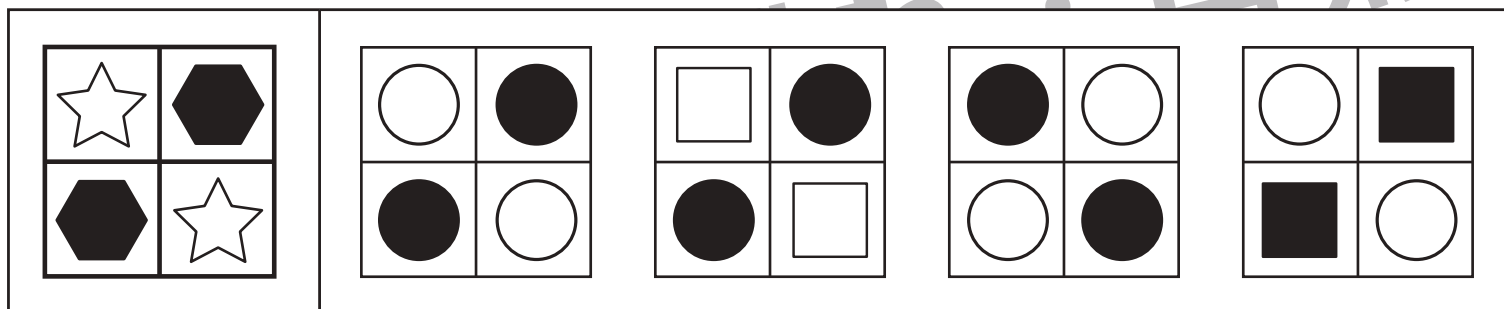


# おうちで、やろう。

Study at home. 小学校受験の家庭学習教材

## 図形：置き換え2

上の太い四角が約束です。それぞれの形は矢印の右にある形に変わります。この約束で左の四角の中の形を置き換えたとき、下の四角の中から正しいものを見つけて○をつけます。



※1. このプリントは、しながわ・目黒こどもスクールのウェブサイトからダウンロードできます。無断複写・引用はご遠慮ください。

※2. このプリントを活用したオンライン授業のスケジュールは、しながわ・目黒こどもスクールのウェブサイトでご確認ください。

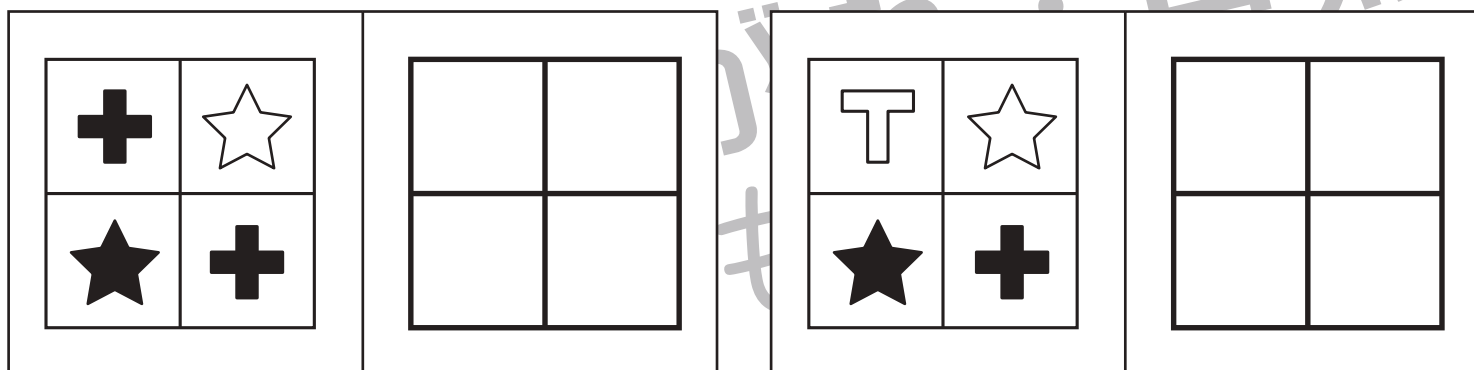
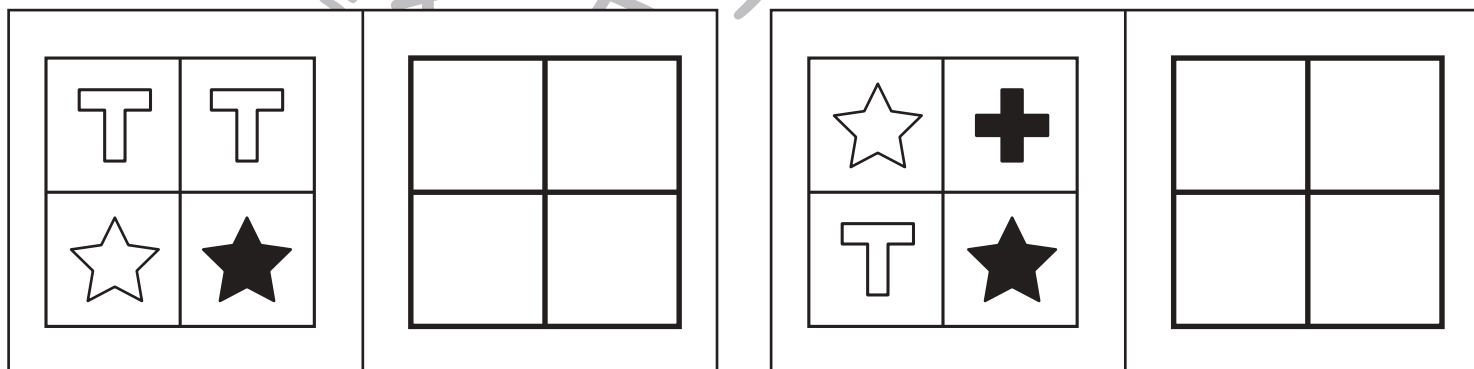
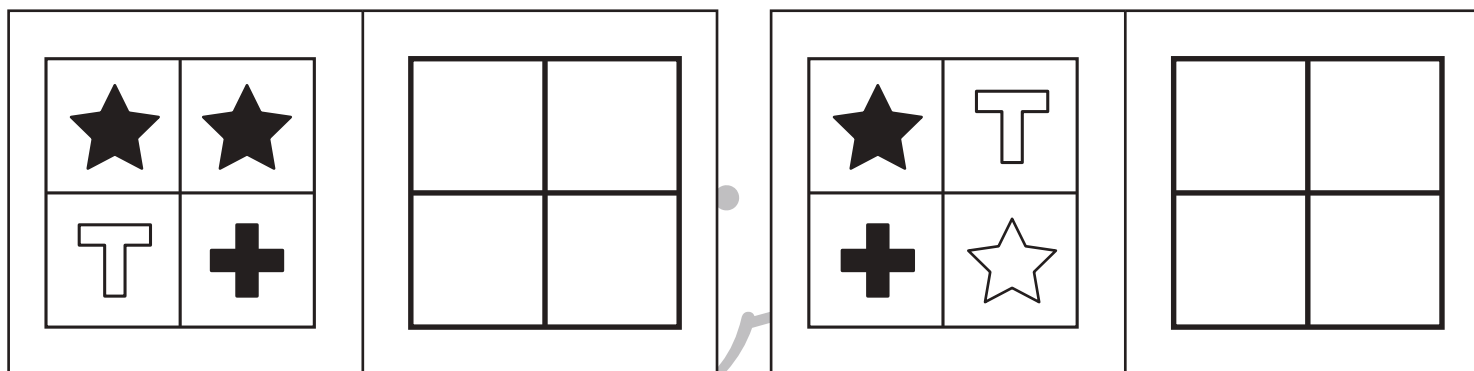
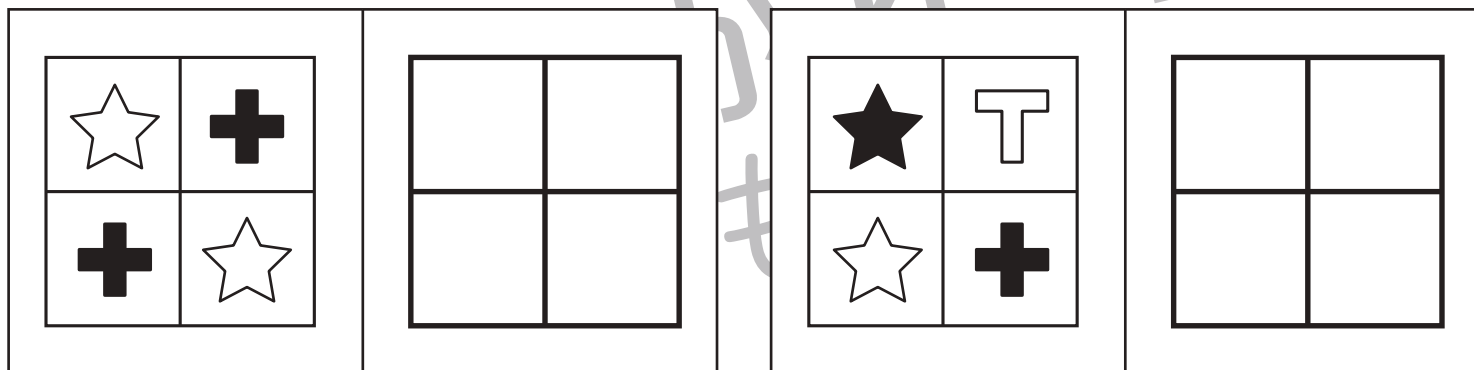


# おうちで、やろう。

Study at home. 小学校受験の家庭学習教材

## 図形：置き換え3

上の太い四角が約束です。それぞれの形は矢印の右にある形に変えます。この約束で左の四角の中の形を右の四角に形を書き入れましょう。



※1. このプリントは、しながわ・目黒こどもスクールのウェブサイトでダウンロードができます。無断複写・引用はご遠慮ください。

※2. このプリントを活用したオンライン授業のスケジュールは、しながわ・目黒こどもスクールのウェブサイトでご確認ください。





# おうちで、やろう。

Study at home. 小学校受験の家庭学習教材

## 推理：シルエット1

左上の太い四角の中の絵がお手本です。四角の中にはこのお手本の影がたくさんあります。その中で一つだけ違う影が混ざっています。お手本の影でないものをみつけて○をつけます。



※1. このプリントは、しながわ・目黒こどもスクールのウェブサイトからダウンロードできます。無断複写・引用はご遠慮ください。

※2. このプリントを活用したオンライン授業のスケジュールは、しながわ・目黒こどもスクールのウェブサイトでご確認ください。



# おうちで、やろう。

Study at home. 小学校受験の家庭学習教材

数量：足りない数4

上のリンゴの数がお手本の数です。

左の四角の中のリンゴが上のリンゴの数になるように、足りないリンゴの数だけ右の四角に○をつけましょう。



--	--

--	--

--	--

--	--

--	--

※1. このプリントは、しながわ・目黒こどもスクールのウェブサイトでダウンロードができます。無断複写・引用はご遠慮ください。

※2. このプリントを活用したオンライン授業のスケジュールは、しながわ・目黒こどもスクールのウェブサイトでご確認ください。



# おうちで、やろう。

Study at home. 小学校受験の家庭学習教材

数量：足りない数5

上のイチゴの数がお手本の数です。

左の四角の中のイチゴが上のイチゴの数になるように、足りないイチゴの数だけ右の四角に○をつけましょう。



--	--

--	--

--	--

--	--

--	--

※1. このプリントは、しながわ・目黒こどもスクールのウェブサイトでダウンロードができます。無断複写・引用はご遠慮ください。

※2. このプリントを活用したオンライン授業のスケジュールは、しながわ・目黒こどもスクールのウェブサイトでご確認ください。





# おうちで、やろう。

Study at home. 小学校受験の家庭学習教材

数量：足りない数6

上のイチゴの数がお手本の数です。

左の四角の中のイチゴが上のイチゴの数になるように、足りないイチゴの数だけ右の四角に○をつけましょう。



--	--

--	--

--	--

--	--

--	--

※1. このプリントは、しながわ・目黒こどもスクールのウェブサイトでダウンロードができます。無断複写・引用はご遠慮ください。

※2. このプリントを活用したオンライン授業のスケジュールは、しながわ・目黒こどもスクールのウェブサイトでご確認ください。



# おうちで、やろう。

Study at home. 小学校受験の家庭学習教材

## 図形：点図形 6

左のお手本と同じになるように右の四角に線をかきます。 ※このプリントに解答はありません。


※1. このプリントは、しながわ・目黒こどもスクールのウェブサイトでダウンロードができます。無断複写・引用はご遠慮ください。

※2. このプリントを活用したオンライン授業のスケジュールは、しながわ・目黒こどもスクールのウェブサイトでご確認ください。