













おうちで、やろう。

Study at home. 小学校受験の家庭学習教材

言語：音の理解6

左と右の四角の中の絵で2番目の音が同じもの同士を線で結びます。



※1. このプリントは、しながわ・目黒こどもスクールのウェブサイトでダウンロードができます。無断複写・引用はご遠慮ください。

※2. このプリントを活用したオンライン授業のスケジュールは、しながわ・目黒こどもスクールのウェブサイトでご確認ください。



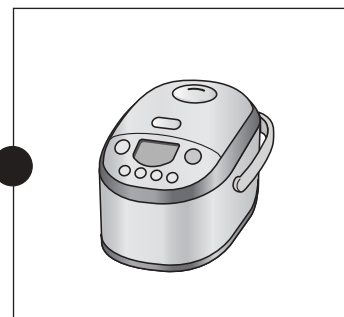


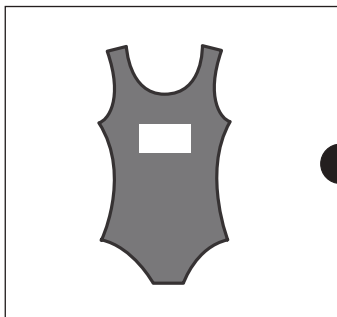



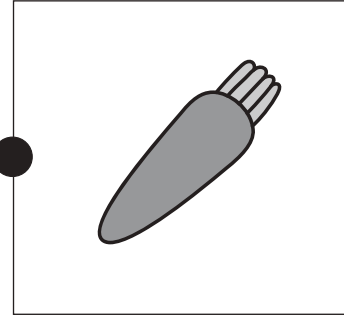



おうちで、やろう。

Study at home. 小学校受験の家庭学習教材

言語：音の理解7

左と右の四角の中の絵で2番目の音が同じもの同士を線で結びます。



※1. このプリントは、しながわ・目黒こどもスクールのウェブサイトでダウンロードができます。無断複写・引用はご遠慮ください。
※2. このプリントを活用したオンライン授業のスケジュールは、しながわ・目黒こどもスクールのウェブサイトでご確認ください。





左の見本が矢印の方向に 1 回倒れたときの見え方を考えて、右の中から選んで○をつけます。

※ 1. このプリントは、しながわ・目黒こどもスクールのウェブサイトでダウンロードができます。無断複写・引用はご遠慮ください。
 ※ 2. このプリントを活用したオンライン授業のスケジュールは、しながわ・目黒こどもスクールのウェブサイトでご確認ください。



左の見本が矢印の方向に 1 回倒れたときの見え方を考えて、右の中から選んで○をつけます。

※1. このプリントは、しながわ・目黒こどもスクールのウェブサイトでダウンロードができます。無断複写・引用はご遠慮ください。
 ※2. このプリントを活用したオンライン授業のスケジュールは、しながわ・目黒こどもスクールのウェブサイトでご確認ください。



おうちで、やろう。

Study at home. 小学校受験の家庭学習教材

推理：積み木3

左の四角の中の積み木はお手本で黒と白の積み木でできています。お手本の積み木のうち黒い積み木だけをとります。黒い積み木をとったあと、上にあった白い積み木はそのまま下へ落ちます。この時、残った白い積み木の形を右の四角の中から選んで○をつけます。

※1. このプリントは、しながわ・目黒こどもスクールのウェブサイトでダウンロードができます。無断複写・引用はご遠慮ください。

※2. このプリントを活用したオンライン授業のスケジュールは、しながわ・目黒こどもスクールのウェブサイトでご確認ください。



おうちで、やろう。

Study at home. 小学校受験の家庭学習教材

推理：積み木4

左の四角の中の積み木はお手本で黒と白の積み木でできています。お手本の積み木のうち黒い積み木だけをとります。黒い積み木をとったあと、上にあった白い積み木はそのままへ落ちます。この時、残った白い積み木の形を右の四角の中から選んで○をつけます。

※1. このプリントは、しながわ・目黒こどもスクールのウェブサイトでダウンロードができます。無断複写・引用はご遠慮ください。

※2. このプリントを活用したオンライン授業のスケジュールは、しながわ・目黒こどもスクールのウェブサイトでご確認ください。

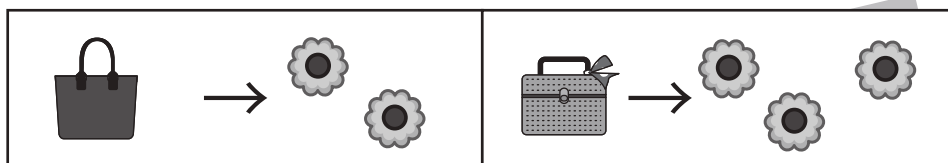


おうちで、やろう。

Study at home. 小学校受験の家庭学習教材

数量：置き換え 1

上の太い四角の中が約束です。それぞれのカバンの中には矢印の右の数だけクッキーが入っています。四角の中のカバンの中に入っているクッキーは合わせていくつになりますか。その数だけ下の四角のクッキーを○で囲みます。



黒

※1. このプリントは、しながわ・目黒こどもスクールのウェブサイトからダウンロードができます。無断複写・引用はご遠慮ください。

※2. このプリントを活用したオンライン授業のスケジュールは、しながわ・目黒こどもスクールのウェブサイトでご確認ください。












































おうちで、よろう。

Study at home. 小学校受験の家庭学習教材

数量：置き換え2

上の太い四角の中が約束です。それぞれのクリスマスの飾りの中には矢印の右の数だけクッキーが入っています。四角の中の飾りの中に入っているクッキーは合わせていくつになりますか。その数だけ下の四角の中のクッキーを○で囲みます。

 → 	 → 	 → 
 		 
		
  	  	  
		
   	   	   
		

※1. このプリントは、しながわ・目黒こどもスクールのウェブサイトでダウンロードができます。無断複写・引用はご遠慮ください。

※2. このプリントを活用したオンライン授業のスケジュールは、しながわ・目黒こどもスクールのウェブサイトでご確認ください。
























































おうちで、やろう。

Study at home. 小学校受験の家庭学習教材

数量：置き換え3

上の太い四角の中が約束です。それぞれのクリスマスの飾りの中には矢印の右の数だけ飴やクッキーが入っています。四角の中の飾りの中に入っている飴やクッキーは合わせていくつになりますか。その数だけ下の飴やクッキーの四角に○をかきます。

 → 	 →  	 →  
 	 	 
		
		
  	  	  
		
		
   	   	   
		
		

※1. このプリントは、しながわ・目黒こどもスクールのウェブサイトでダウンロードができます。無断複写・引用はご遠慮ください。

※2. このプリントを活用したオンライン授業のスケジュールは、しながわ・目黒こどもスクールのウェブサイトでご確認ください。



おうちで、やろう。

Study at home. 小学校受験の家庭学習教材

図形：点図形⑨

左のお手本と同じになるように右の四角に線をかきます。 ※このプリントに解答はありません。

※1. このプリントは、しながわ・目黒こどもスクールのウェブサイトでダウンロードができます。無断複写・引用はご遠慮ください。
 ※2. このプリントを活用したオンライン授業のスケジュールは、しながわ・目黒こどもスクールのウェブサイトでご確認ください。