

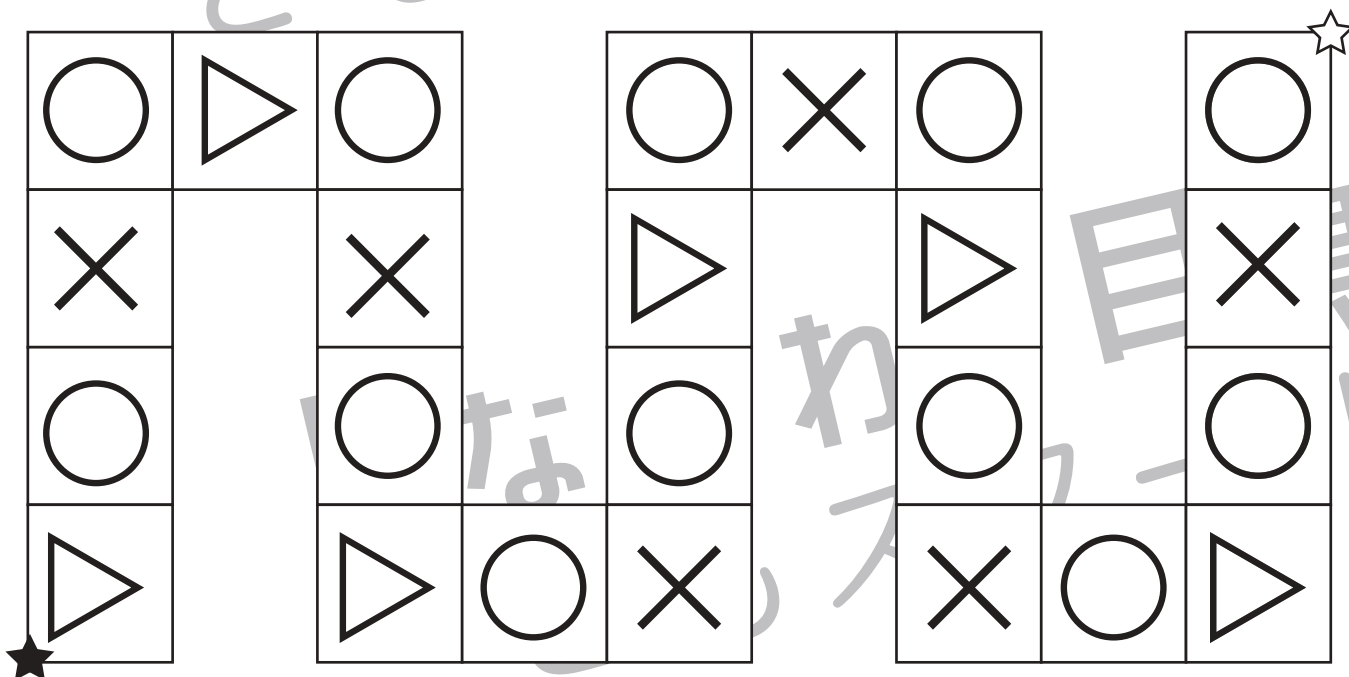
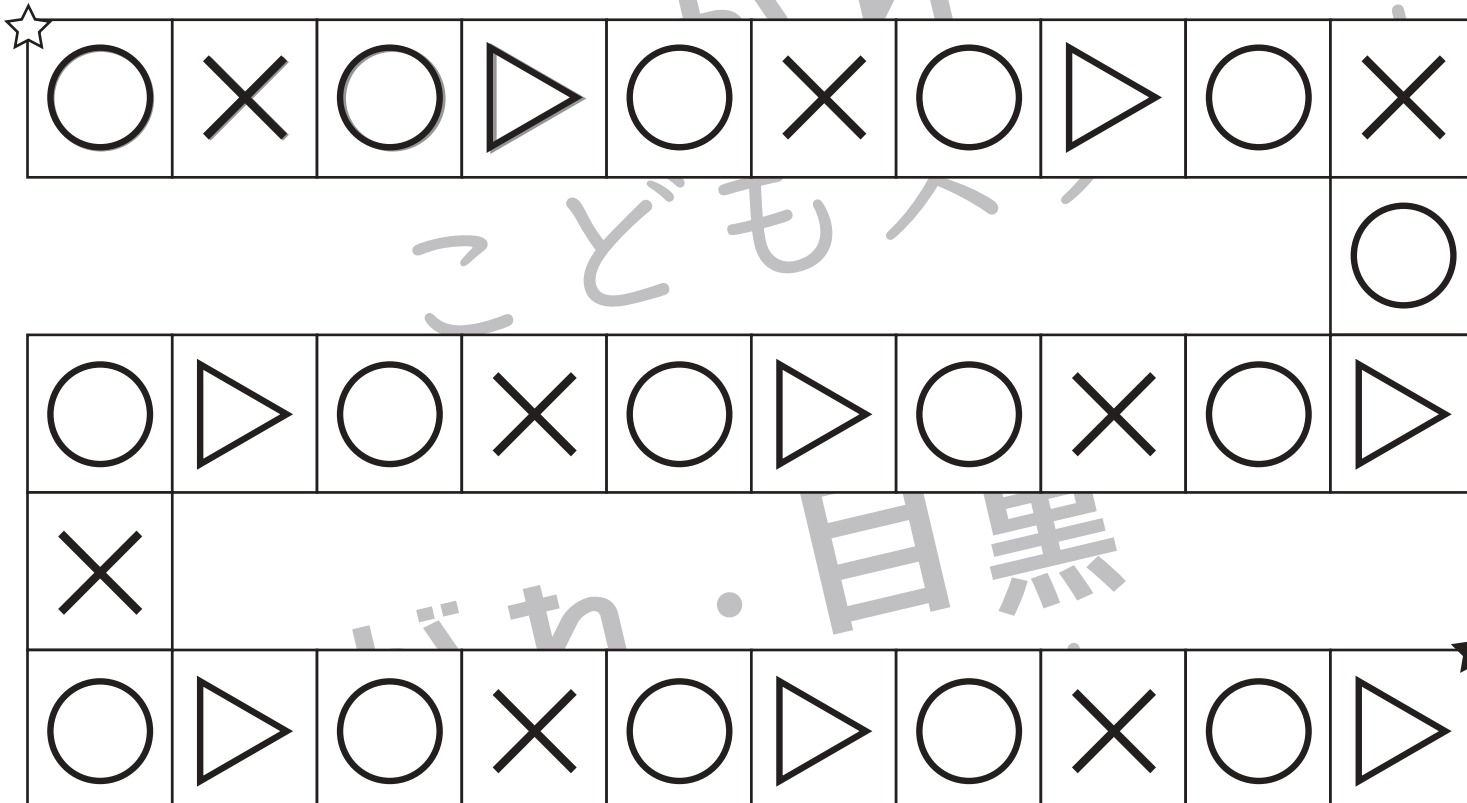


おうちで、やろう。

Study at home. 小学校受験の家庭学習教材

処理：系列完成3

上の太い四角の中がお手本です。お手本の順番で☆から★まで記号をかきます。灰色の記号はなぞってから先に進みましょう。



※1. このプリントは、しながわ・目黒こどもスクールのウェブサイトでダウンロードができます。無断複写・引用はご遠慮ください。
 ※2. このプリントを活用したオンライン授業のスケジュールは、しながわ・目黒こどもスクールのウェブサイトでご確認ください。

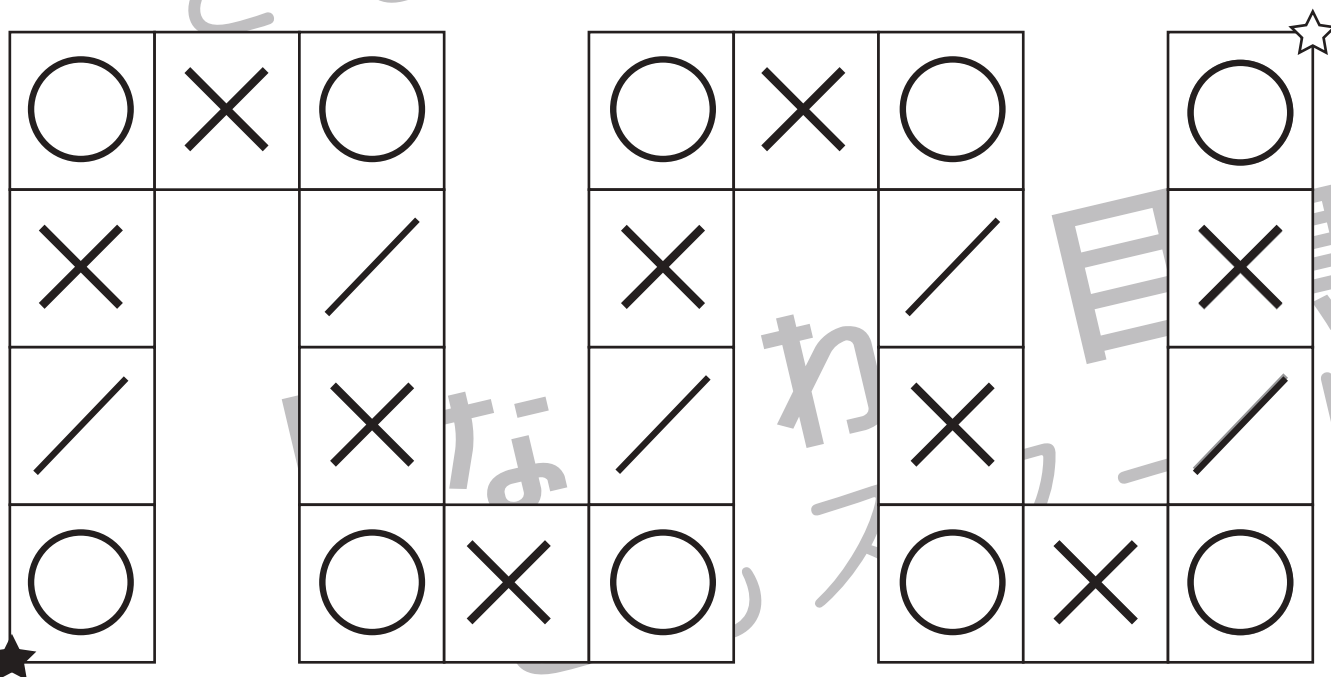
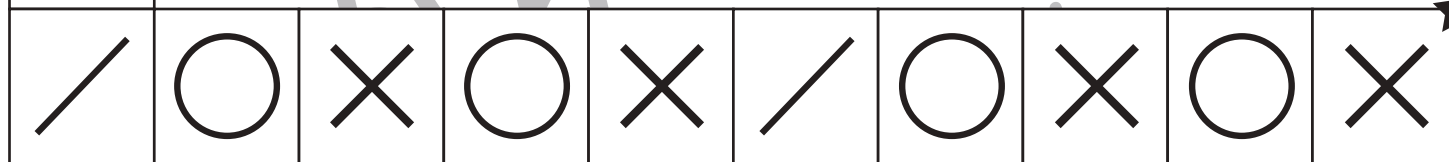
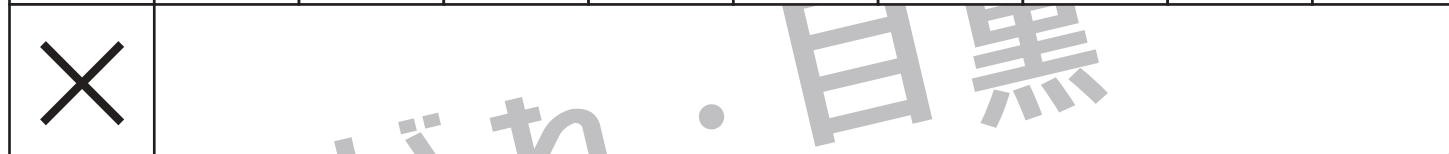
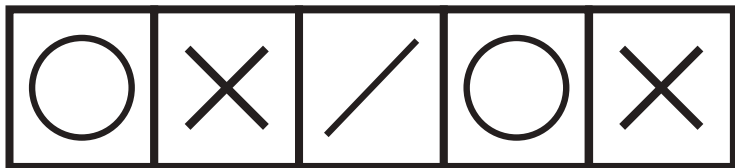


おうちで、やろう。

Study at home. 小学校受験の家庭学習教材

処理：系列完成4

上の太い四角の中がお手本です。お手本の順番で☆から★まで記号をかきます。灰色の記号はなぞってから先に進みましょう。



※1. このプリントは、しながわ・目黒こどもスクールのウェブサイトでダウンロードができます。無断複写・引用はご遠慮ください。
 ※2. このプリントを活用したオンライン授業のスケジュールは、しながわ・目黒こどもスクールのウェブサイトでご確認ください。

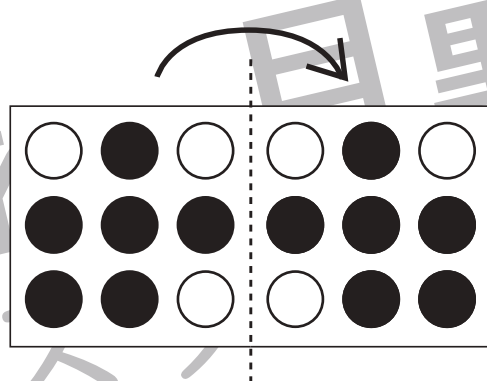
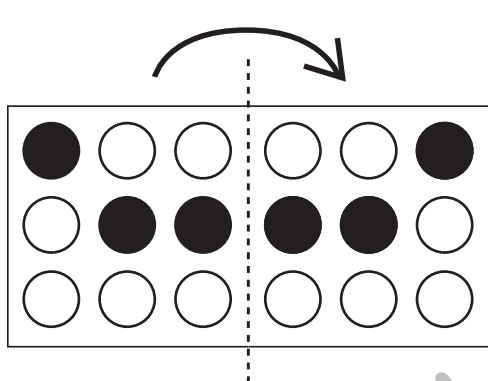
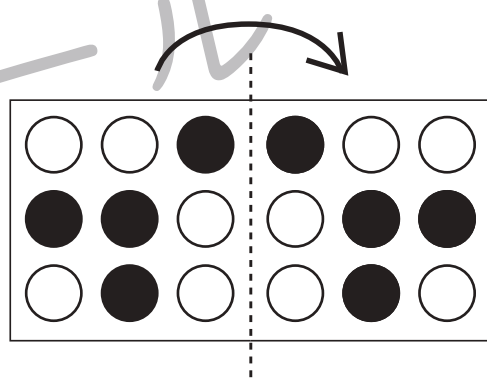
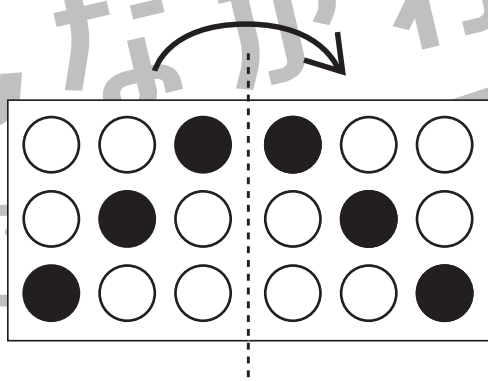
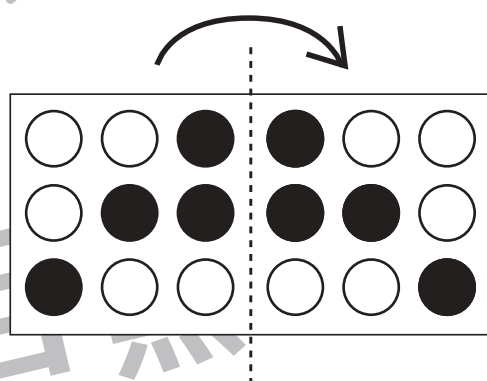
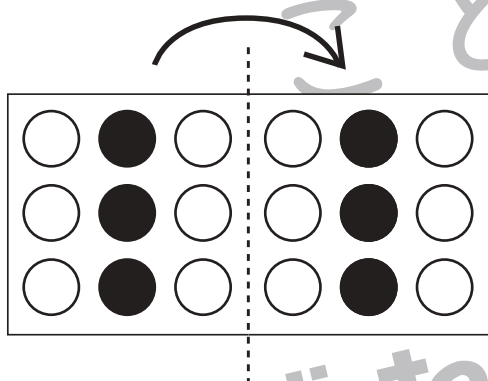
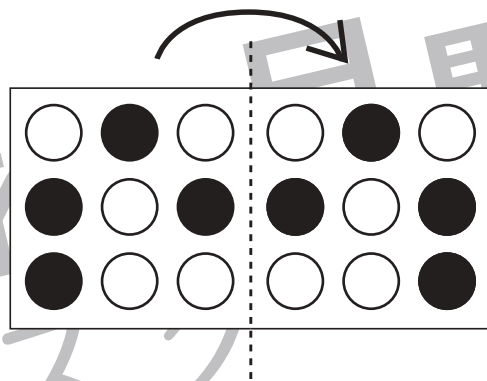
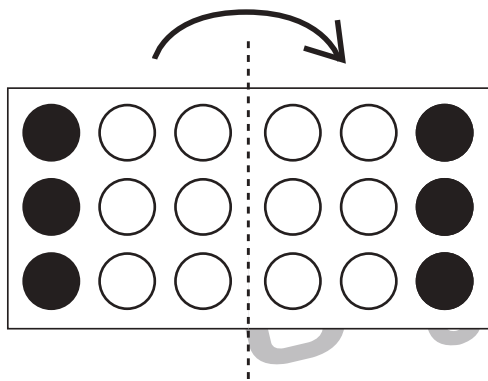


おうちで、やろう。

Study at home. 小学校受験の家庭学習教材

図形：折り重ね 4

真ん中の太い線で矢印の方向へ折り重ねたときの見え方を考えて右の○を塗ります。



※1. このプリントは、しながわ・目黒こどもスクールのウェブサイトでダウンロードができます。無断複写・引用はご遠慮ください。
※2. このプリントを活用したオンライン授業のスケジュールは、しながわ・目黒こどもスクールのウェブサイトでご確認ください。



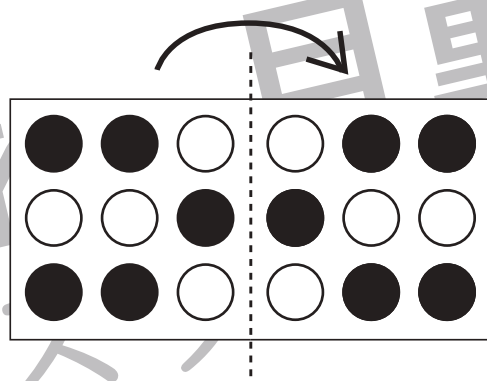
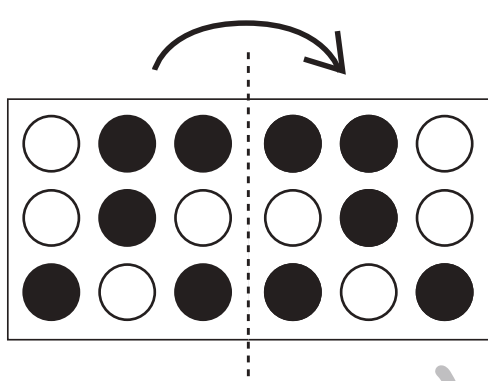
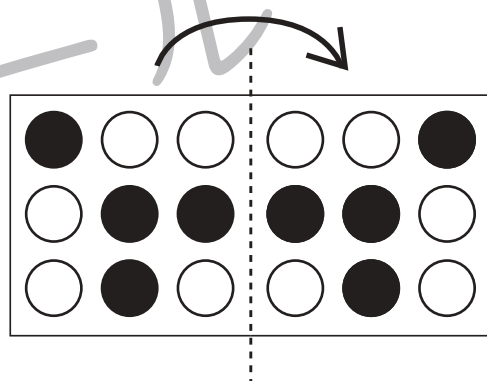
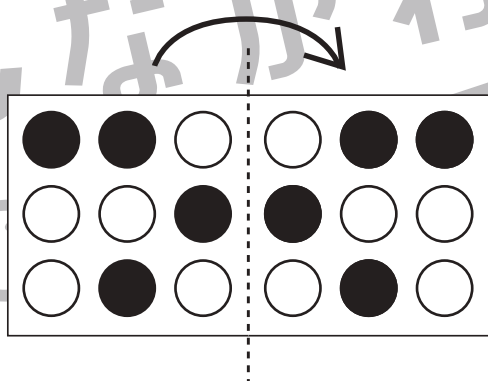
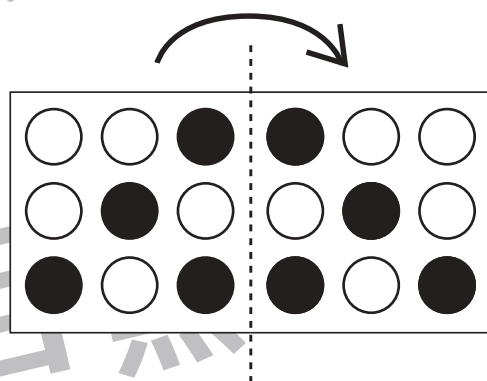
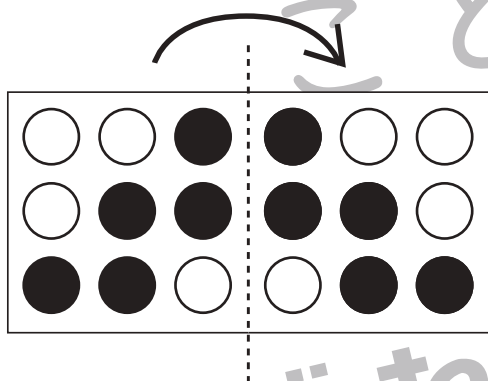
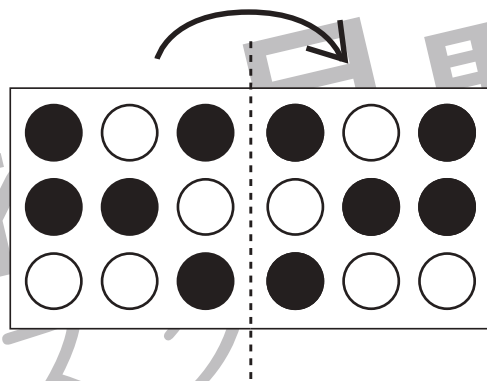
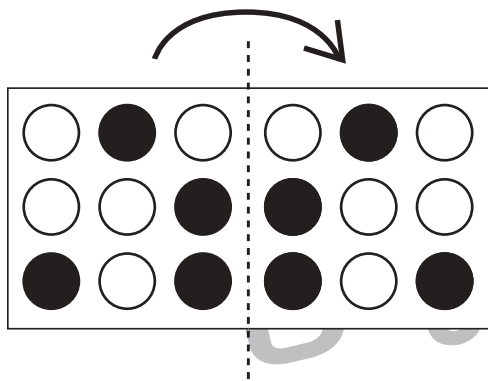


おうちで、やろう。

Study at home. 小学校受験の家庭学習教材

図形：折り重ね5

真ん中の太い線で矢印の方向へ折り重ねたときの見え方を考えて右の○を塗ります。



※1. このプリントは、しながわ・目黒こどもスクールのウェブサイトでダウンロードができます。無断複写・引用はご遠慮ください。
※2. このプリントを活用したオンライン授業のスケジュールは、しながわ・目黒こどもスクールのウェブサイトでご確認ください。



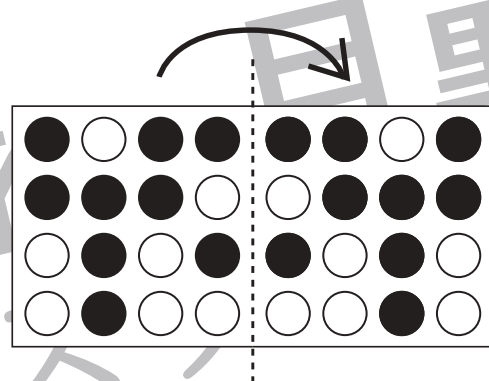
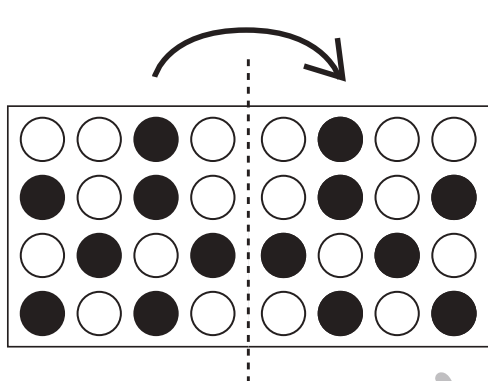
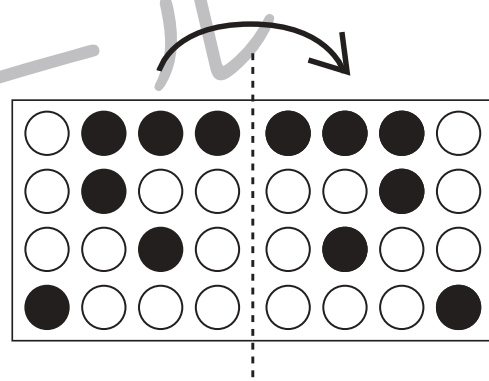
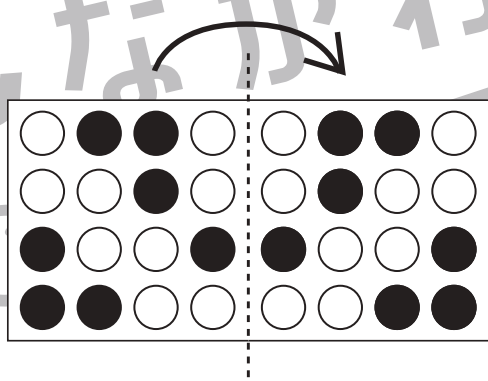
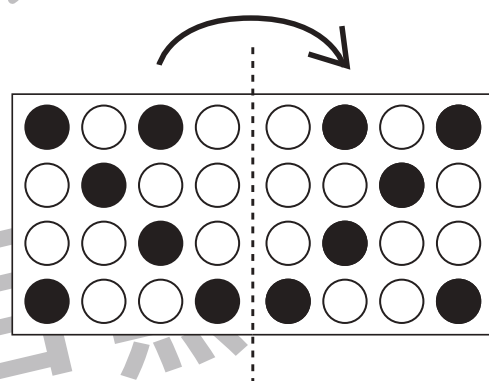
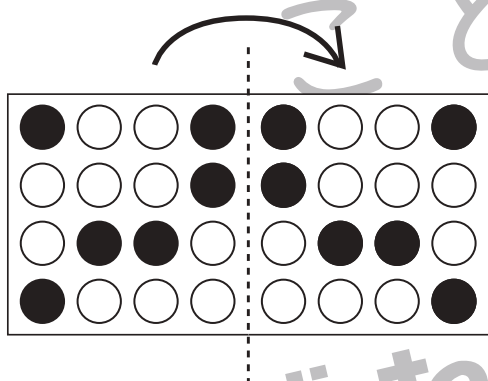
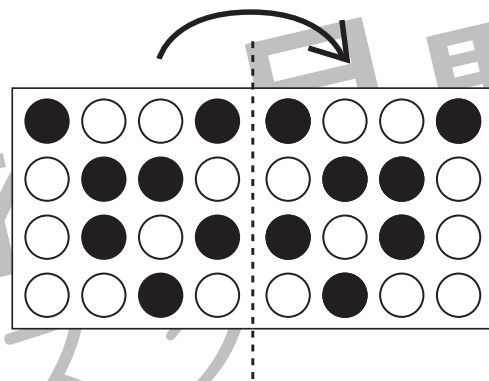
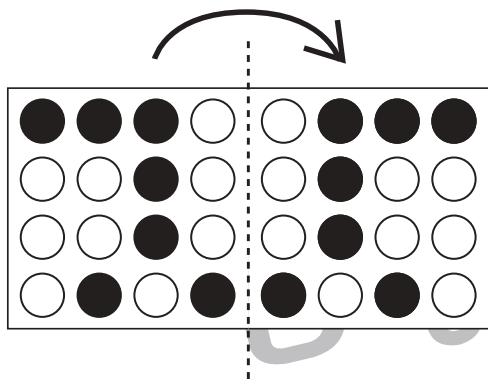


おうちで、やろう。

Study at home. 小学校受験の家庭学習教材

図形：折り重ね6

真ん中の太い線で矢印の方向へ折り重ねたときの見え方を考えて右の○を塗ります。



※1. このプリントは、しながわ・目黒こどもスクールのウェブサイトでダウンロードができます。無断複写・引用はご遠慮ください。
※2. このプリントを活用したオンライン授業のスケジュールは、しながわ・目黒こどもスクールのウェブサイトでご確認ください。




おうちで、やろう。

Study at home. 小学校受験の家庭学習教材

推理：左右1

- ①左手を上げている女の子に○をつけます。
- ②右手をあげている男の子に△をつけます。



※1. このプリントは、しながわ・目黒こどもスクールのウェブサイトからダウンロードできます。無断複写・引用はご遠慮ください。
 ※2. このプリントを活用したオンライン授業のスケジュールは、しながわ・目黒こどもスクールのウェブサイトでご確認ください。



おうちで、やろう。

Study at home. 小学校受験の家庭学習教材

数量：余る数4

上のリンゴの数がお手本の数です。

左の四角の中のリンゴが上のリンゴの数になるようにするとリンゴが余ります。余るリンゴの数だけ右の四角に○をかきます。



	$\bigcirc \times 1$
--	---------------------

	$\bigcirc \times 2$
--	---------------------

	$\bigcirc \times 4$
--	---------------------

	$\bigcirc \times 3$
--	---------------------

	$\bigcirc \times 6$
--	---------------------

※1. このプリントは、しながわ・目黒こどもスクールのウェブサイトでダウンロードができます。無断複写・引用はご遠慮ください。

※2. このプリントを活用したオンライン授業のスケジュールは、しながわ・目黒こどもスクールのウェブサイトでご確認ください。



おうちで、やろう。

Study at home. 小学校受験の家庭学習教材

数量：余る数5

上のリンゴの数がお手本の数です。

左の四角の中のリンゴが上のリンゴの数になるようにするとリンゴが余ります。余るリンゴの数だけ右の四角に○をかきます。



	$\bigcirc \times 1$
--	---------------------

	$\bigcirc \times 2$
--	---------------------

	$\bigcirc \times 3$
--	---------------------

	$\bigcirc \times 4$
--	---------------------

	$\bigcirc \times 8$
--	---------------------

※1. このプリントは、しながわ・目黒こどもスクールのウェブサイトでダウンロードができます。無断複写・引用はご遠慮ください。

※2. このプリントを活用したオンライン授業のスケジュールは、しながわ・目黒こどもスクールのウェブサイトでご確認ください。



おうちで、やろう。

Study at home. 小学校受験の家庭学習教材

数量：余る数6

上のリンゴとイチゴの数がお手本です。

左の四角の中のリンゴが上のお手本の数になるようにするとそれぞれ余ります。余った数だけ右の四角のそれぞれの絵の隣にかきます。



	○ × 2
	○ × 1

	○ × 3
	○ × 3

	○ × 5
	○ × 2

	○ × 6
	○ × 1

	○ × 4
	○ × 5

※1. このプリントは、しながわ・目黒こどもスクールのウェブサイトでダウンロードができます。無断複写・引用はご遠慮ください。

※2. このプリントを活用したオンライン授業のスケジュールは、しながわ・目黒こどもスクールのウェブサイトでご確認ください。