

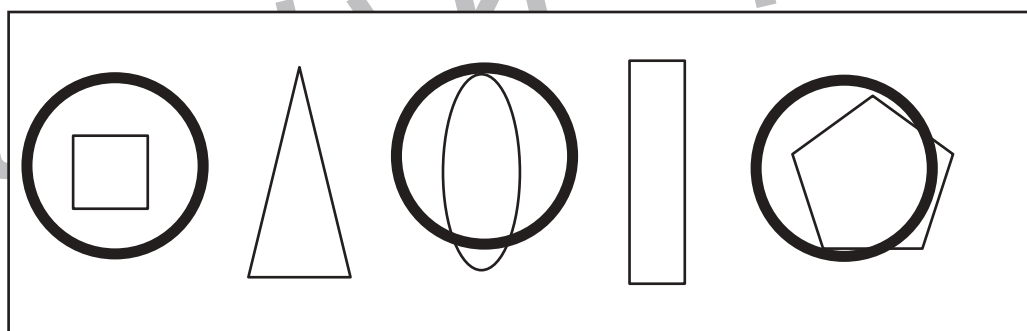
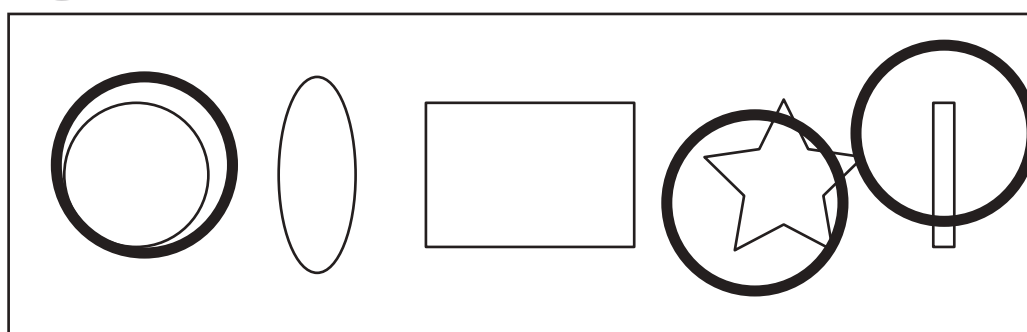

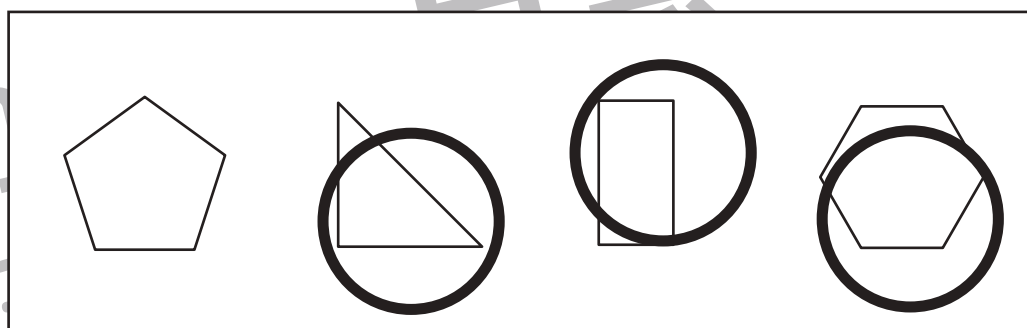

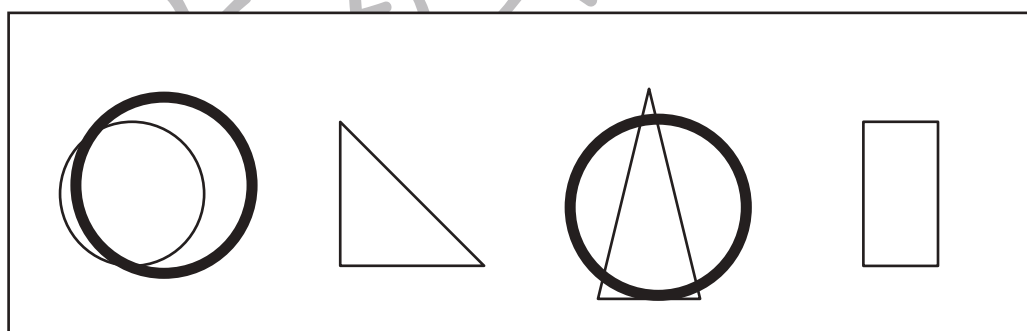

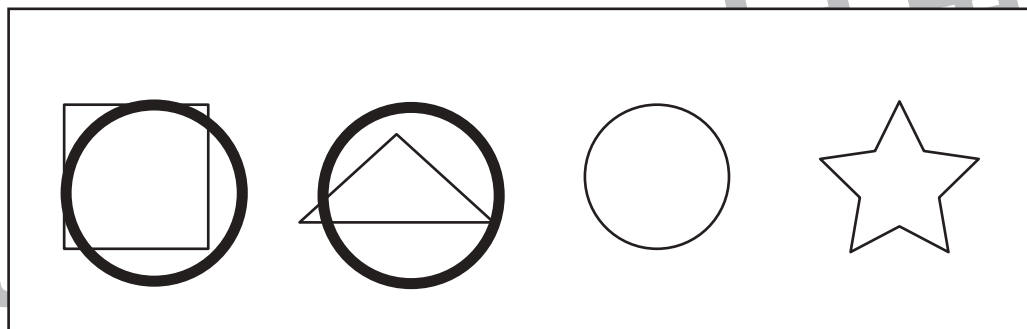



おうちで、やろう。

Study at home. 小学校受験の家庭学習教材

図形：構成1

左の四角の中の形がお手本です。このお手本を右の四角の中の形を組み合わせて作ります。使う形を選んで○をつけます。お手本の形は右の四角の中の形を重ねているものもあります。



※1. このプリントは、しながわ・目黒こどもスクールのウェブサイトでダウンロードができます。無断複写・引用はご遠慮ください。
※2. このプリントを活用したオンライン授業のスケジュールは、しながわ・目黒こどもスクールのウェブサイトでご確認ください。



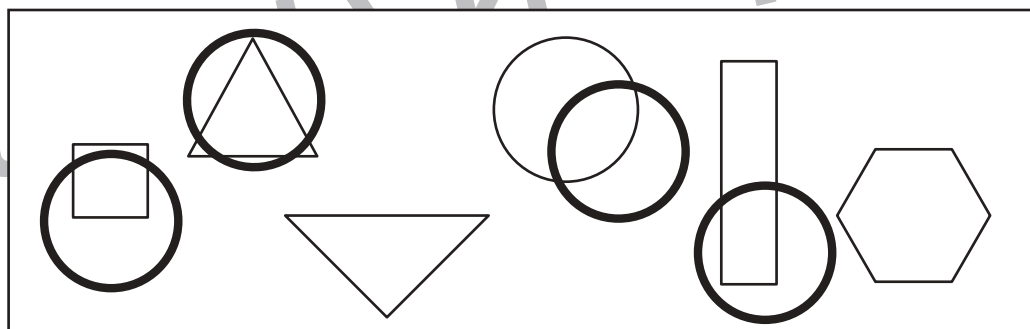
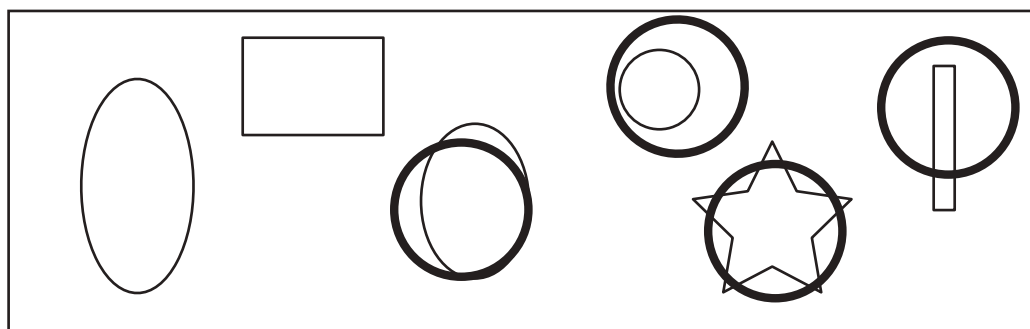




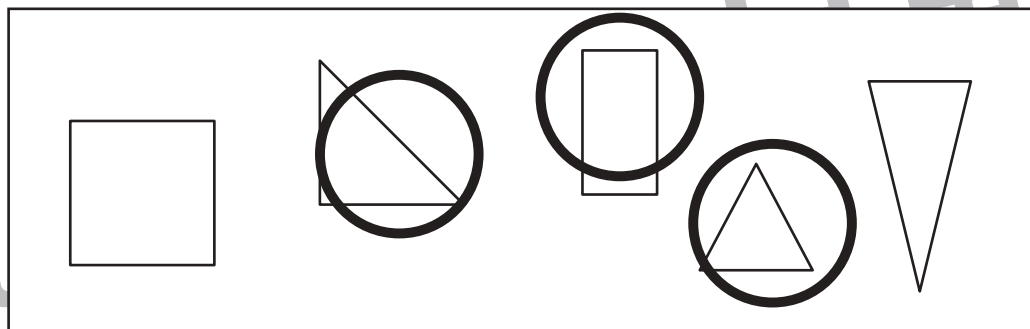


おうちで、やろう。

Study at home. 小学校受験の家庭学習教材

図形：構成2

左の四角の中の形がお手本です。このお手本を右の四角の中の形を組み合わせて作ります。使う形を選んで○をつけます。お手本の形は右の四角の中の形を重ねているものもあります。



※1. このプリントは、しながわ・目黒こどもスクールのウェブサイトからダウンロードできます。無断複写・引用はご遠慮ください。
※2. このプリントを活用したオンライン授業のスケジュールは、しながわ・目黒こどもスクールのウェブサイトでご確認ください。



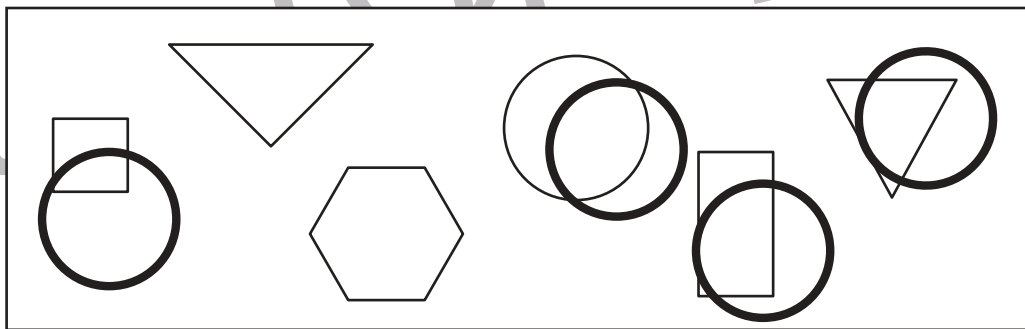

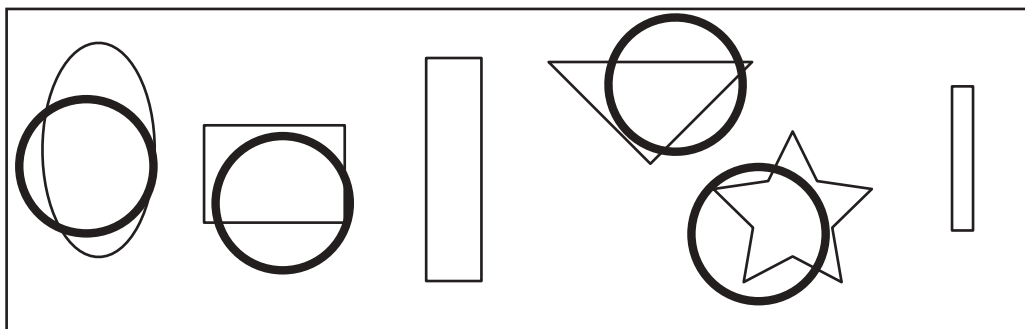



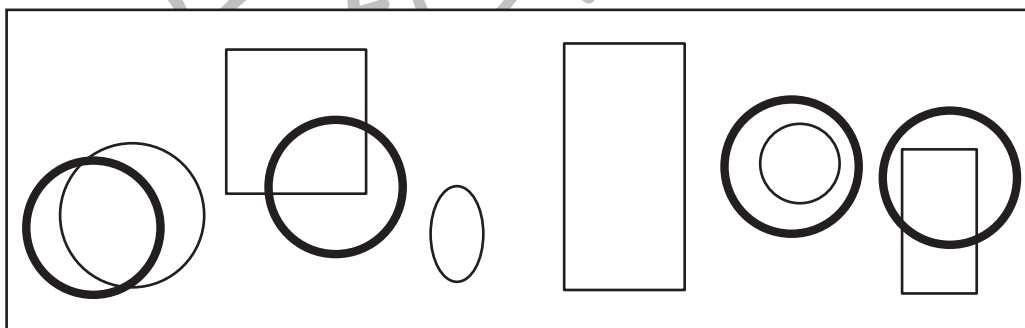





おうちで、やろう。

Study at home. 小学校受験の家庭学習教材

図形：構成 3

左の四角の中の形がお手本です。このお手本を右の四角の中の形を組み合わせて作ります。使う形を選んで○をつけます。お手本の形は右の四角の中の形を重ねているものもあります。



※1. このプリントは、しながわ・目黒こどもスクールのウェブサイトからダウンロードできます。無断複写・引用はご遠慮ください。
※2. このプリントを活用したオンライン授業のスケジュールは、しながわ・目黒こどもスクールのウェブサイトでご確認ください。



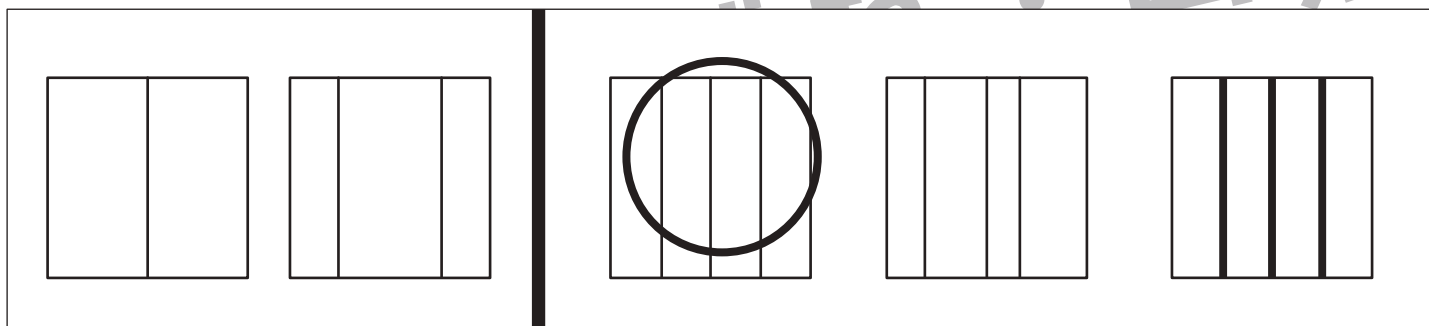
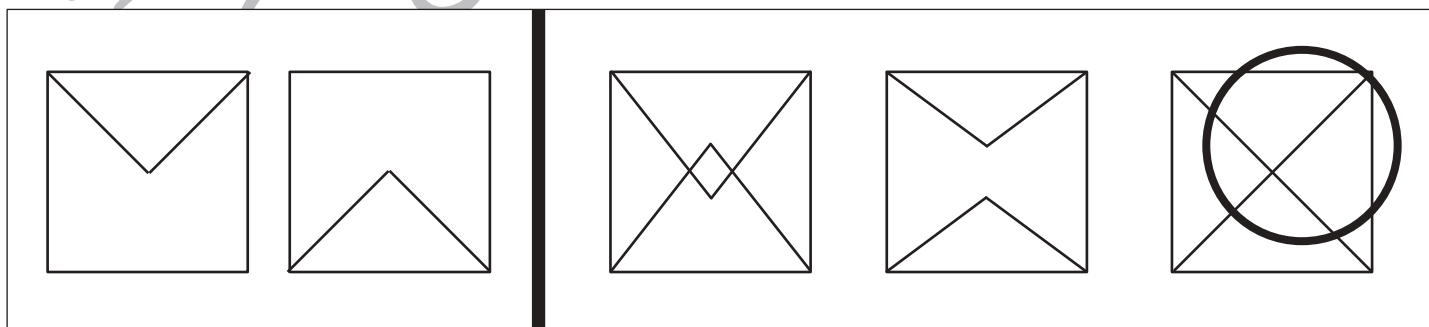
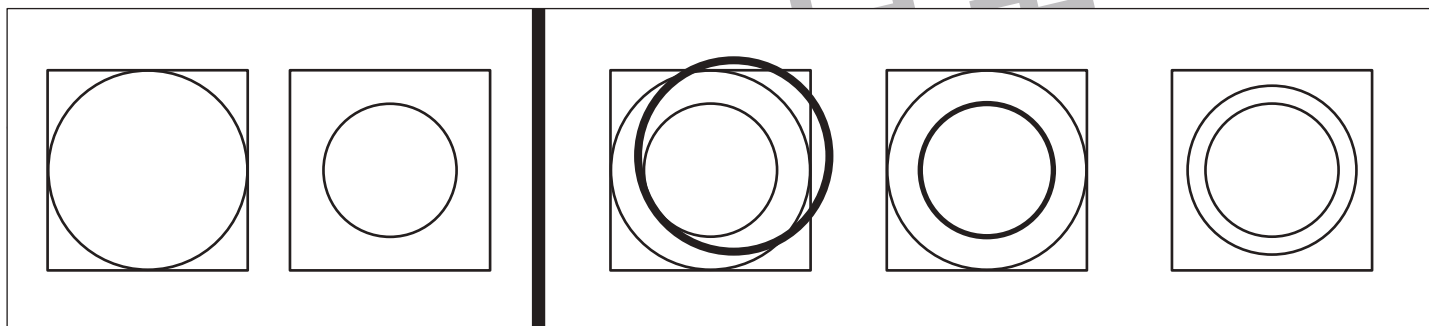
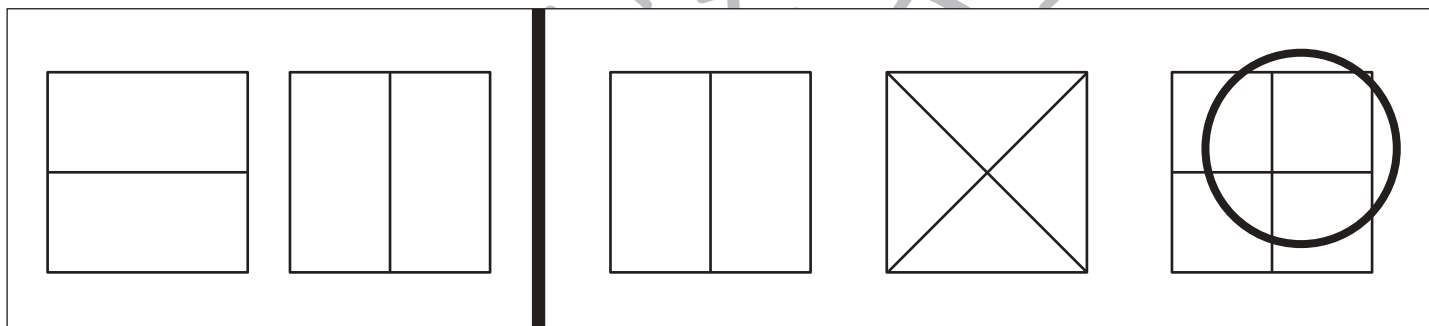
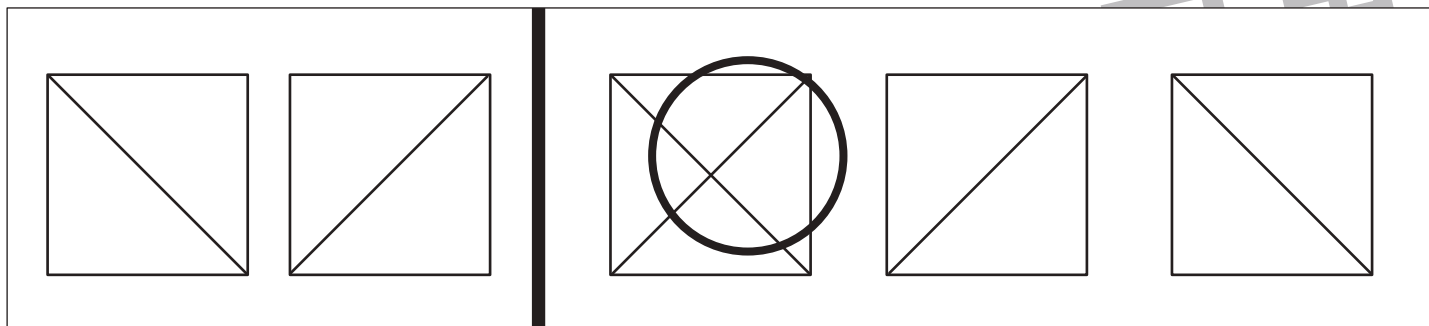


おうちで、やろう。

Study at home. 小学校受験の家庭学習教材

図形：重ね図形 8

左にある2枚の透明な板を重ねた時にどのように見えるかを考えて。右の3つの中から1つ選んで○をつけましょう。



※1. このプリントは、しながわ・目黒こどもスクールのウェブサイトでダウンロードができます。無断複写・引用はご遠慮ください。
 ※2. このプリントを活用したオンライン授業のスケジュールは、しながわ・目黒こどもスクールのウェブサイトでご確認ください。



おうちで、やろう。

Study at home. 小学校受験の家庭学習教材

図形：重ね図形 9

左にある2枚の透明な板を重ねた時にどのように見えるかを考えて、右の3つの中から1つ選び○をつけましょう。

※1. このプリントは、しながわ・目黒こどもスクールのウェブサイトでダウンロードができます。無断複写・引用はご遠慮ください。
※2. このプリントを活用したオンライン授業のスケジュールは、しながわ・目黒こどもスクールのウェブサイトでご確認ください。



おうちで、やろう。

Study at home. 小学校受験の家庭学習教材

図形：重ね図形 10

左にある2枚の透明な板を重ねた時にどのように見えるかを考えて。右の3つの中から1つ選び○をつけましょう。

※1. このプリントは、しながわ・目黒こどもスクールのウェブサイトでダウンロードができます。無断複写・引用はご遠慮ください。
 ※2. このプリントを活用したオンライン授業のスケジュールは、しながわ・目黒こどもスクールのウェブサイトでご確認ください。


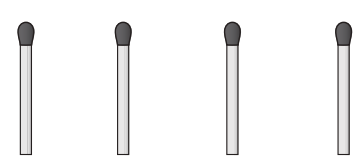
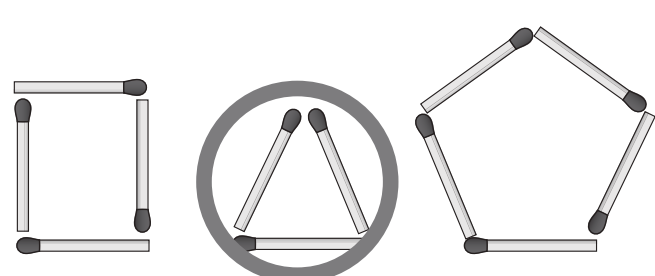
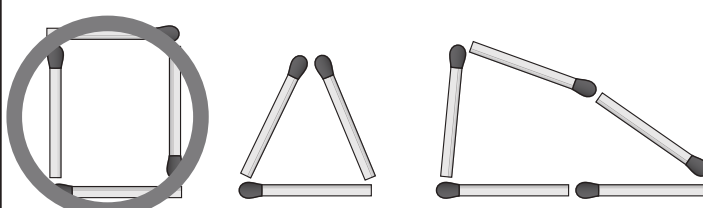


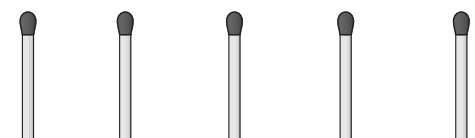
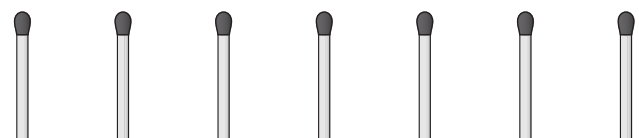
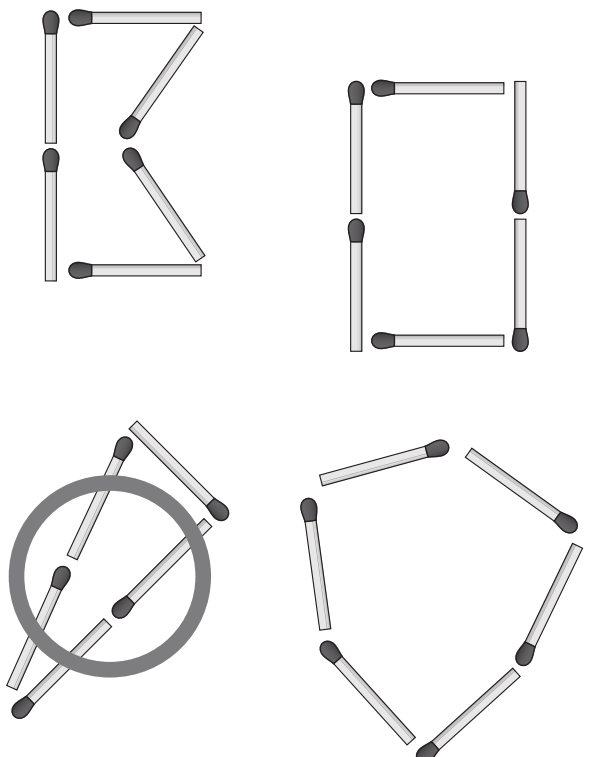
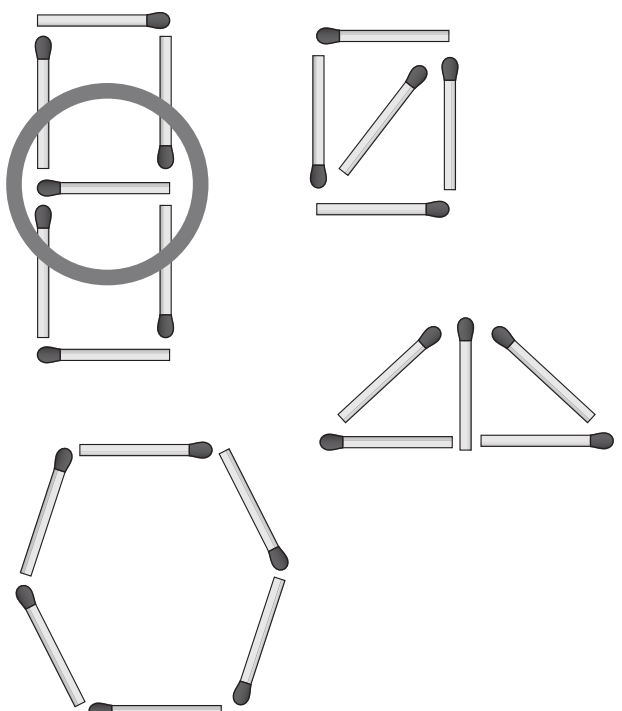
おうちで、やろう。

Study at home. 小学校受験の家庭学習教材

数量：マッチの数 1

上の四角の中のマッチの数がお手本です。下の四角の中の形はマッチを使って作ったものです。上のお手本の数でできているものを見つけて○をつけます。

※1. このプリントは、しながわ・目黒こどもスクールのウェブサイトでダウンロードができます。無断複写・引用はご遠慮ください。
 ※2. このプリントを活用したオンライン授業のスケジュールは、しながわ・目黒こどもスクールのウェブサイトでご確認ください。




おうちで、やろう。

Study at home. 小学校受験の家庭学習教材

数量：計数5


左には白と灰色に塗られたマスがあります。それぞれいくつあるかを数えて、右の四角の中に○をかきましょう。



$$\bigcirc \times 4$$




$$\bigcirc \times 5$$



$$\bigcirc \times 5$$




$$\bigcirc \times 4$$



$$\bigcirc \times 4$$




$$\bigcirc \times 5$$



$$\bigcirc \times 6$$



$$\bigcirc \times 3$$



$$\bigcirc \times 6$$



$$\bigcirc \times 3$$

※1. このプリントは、しながわ・目黒こどもスクールのウェブサイトでダウンロードができます。無断複写・引用はご遠慮ください。
※2. このプリントを活用したオンライン授業のスケジュールは、しながわ・目黒こどもスクールのウェブサイトでご確認ください。




おうちで、やろう。

Study at home. 小学校受験の家庭学習教材

数量：計数6


左には白と灰色に塗られたマスがあります。それぞれいくつあるかを数えて、右の四角の中に○をかきましょう。



$$\bigcirc \times 6$$




$$\bigcirc \times 10$$



$$\bigcirc \times 10$$




$$\bigcirc \times 6$$



$$\bigcirc \times 7$$




$$\bigcirc \times 9$$



$$\bigcirc \times 5$$



$$\bigcirc \times 11$$



$$\bigcirc \times 8$$



$$\bigcirc \times 8$$

※1. このプリントは、しながわ・目黒こどもスクールのウェブサイトでダウンロードができます。無断複写・引用はご遠慮ください。
※2. このプリントを活用したオンライン授業のスケジュールは、しながわ・目黒こどもスクールのウェブサイトでご確認ください。




おうちで、やろう。

Study at home. 小学校受験の家庭学習教材

数量：計数7


左には白と灰色に塗られたマスがあります。それぞれいくつあるかを数えて、右の四角の中に○をかきましょう。



○×10




○×15



○×12




○×13



○×10




○×15



○×13



○×12



○×11



○×14

※1. このプリントは、しながわ・目黒こどもスクールのウェブサイトでダウンロードができます。無断複写・引用はご遠慮ください。
※2. このプリントを活用したオンライン授業のスケジュールは、しながわ・目黒こどもスクールのウェブサイトでご確認ください。