



おうちで、やろう。

Study at home. 小学校受験の家庭学習教材

図形：回転9

左の見本が矢印の方向に1回倒れたときの見え方を考えて、右の中から選んで○をつけます。

※1. このプリントは、しながわ・目黒こどもスクールのウェブサイトでダウンロードができます。無断複写・引用はご遠慮ください。
 ※2. このプリントを活用したオンライン授業のスケジュールは、しながわ・目黒こどもスクールのウェブサイトでご確認ください。



おうちで、やろう。

Study at home. 小学校受験の家庭学習教材

図形：鏡6

左の形を黒い線のところに鏡を置いて見たときの見え方を考えて、右の中から選び○をつけます。

※1. このプリントは、しながわ・目黒こどもスクールのウェブサイトでダウンロードができます。無断複写・引用はご遠慮ください。
 ※2. このプリントを活用したオンライン授業のスケジュールは、しながわ・目黒こどもスクールのウェブサイトでご確認ください。



おうちで、やろう。

Study at home. 小学校受験の家庭学習教材

図形：重ね 11

上にある二枚の四角は透明な板です。この2枚の四角を重ねた時の見え方を考えて、下の四角に線をかきます。

※1. このプリントは、しながわ・目黒こどもスクールのウェブサイトからダウンロードできます。無断複写・引用はご遠慮ください。

※2. このプリントを活用したオンライン授業のスケジュールは、しながわ・目黒こどもスクールのウェブサイトでご確認ください。



おうちで、やろう。

Study at home. 小学校受験の家庭学習教材

図形：重ね 12

上にある二枚の四角は透明な板です。この2枚の四角を重ねた時の見え方を考えて、下の四角に線をかきます。

※1. このプリントは、しながわ・目黒こどもスクールのウェブサイトからダウンロードできます。無断複写・引用はご遠慮ください。
 ※2. このプリントを活用したオンライン授業のスケジュールは、しながわ・目黒こどもスクールのウェブサイトでご確認ください。



おうちで、やろう。

Study at home. 小学校受験の家庭学習教材

図形：重ね 13

上にある二枚の四角は透明な板です。この2枚の四角を重ねた時の見え方を考えて、下の四角に線をかきます。

※1. このプリントは、しながわ・目黒こどもスクールのウェブサイトからダウンロードできます。無断複写・引用はご遠慮ください。

※2. このプリントを活用したオンライン授業のスケジュールは、しながわ・目黒こどもスクールのウェブサイトでご確認ください。



おうちで、やろう。

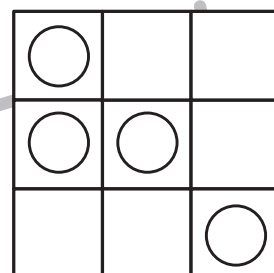

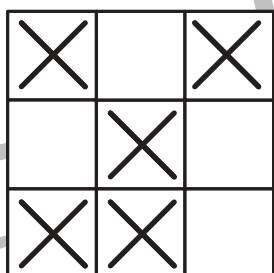
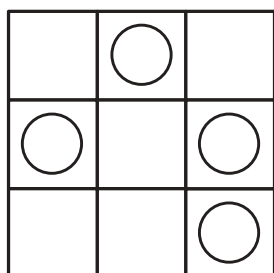
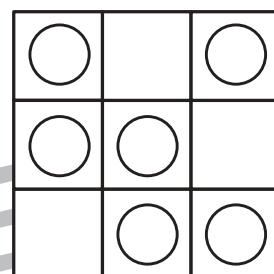

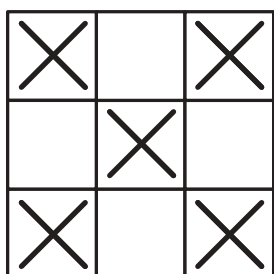
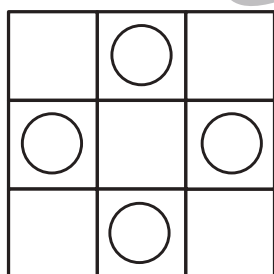
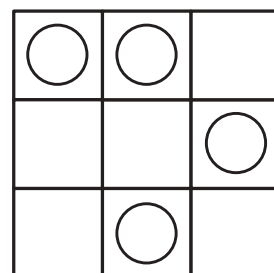

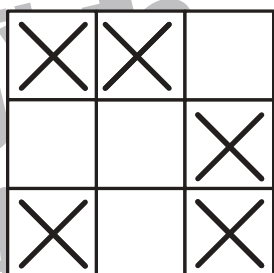
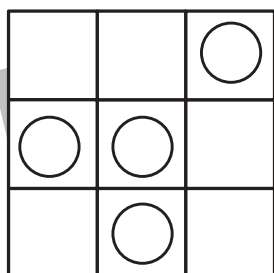
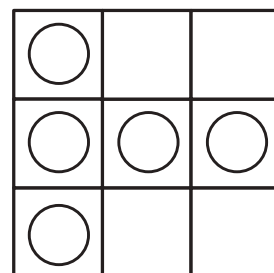
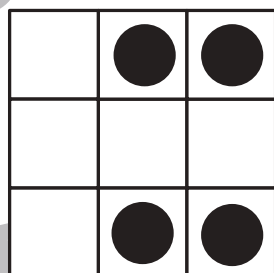
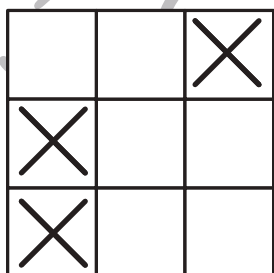
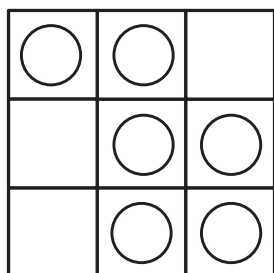
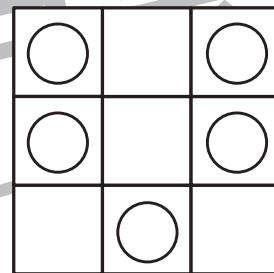
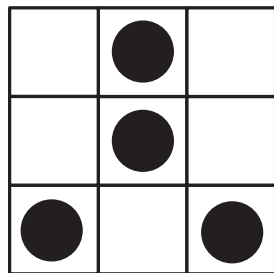
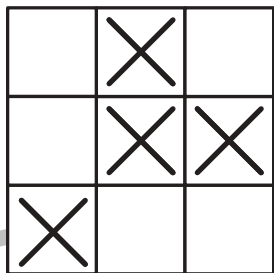
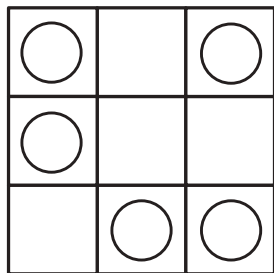
Study at home. 小学校受験の家庭学習教材

図形：条件模写 2

下に描いている約束通りにマスの中に記号をかきます。

①左の四角がお手本です。お手本で○がないマスに×をかきます。×をかくのは右の四角のマスです。

②左の四角がお手本です。お手本で●がないマスに○をかきます。○をかくのは右の四角のマスです。



※1. このプリントは、しながわ・目黒こどもスクールのウェブサイトでダウンロードができます。無断複写・引用はご遠慮ください。

※2. このプリントを活用したオンライン授業のスケジュールは、しながわ・目黒こどもスクールのウェブサイトでご確認ください。



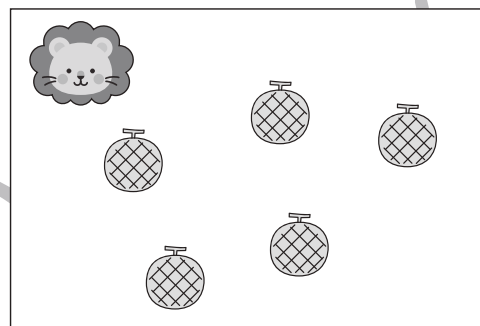
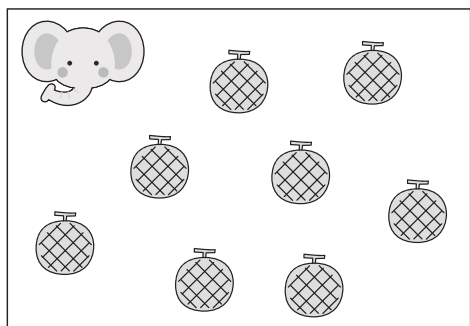




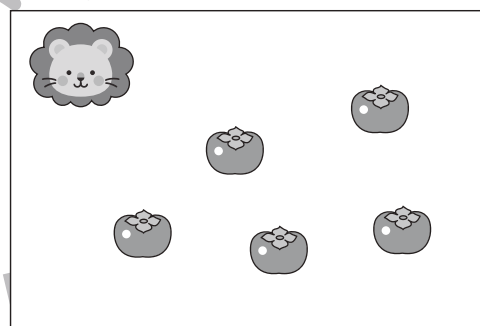
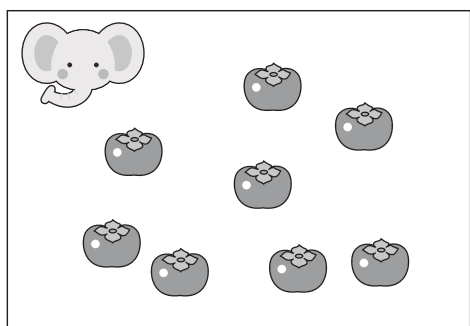

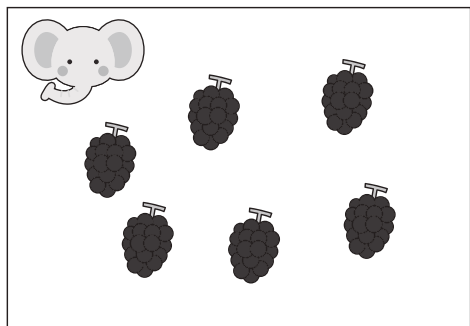


おうちで、やろう。

Study at home. 小学校受験の家庭学習教材

数量：違う数 1

ゾウとライオンが同じ果物を持っていますが、持っている数が違います。ゾウはライオンよりもいくつ多く果物を持っていますか。その数だけ真ん中の四角の中に○をかきます。



※1. このプリントは、しながわ・目黒こどもスクールのウェブサイトからダウンロードできます。無断複写・引用はご遠慮ください。
※2. このプリントを活用したオンライン授業のスケジュールは、しながわ・目黒こどもスクールのウェブサイトでご確認ください。






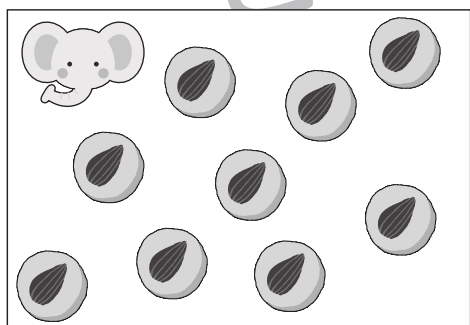



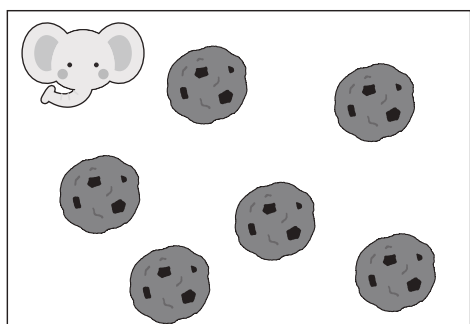




おうちで、やろう。

Study at home. 小学校受験の家庭学習教材

数量：違う数2

ゾウとライオンが同じクッキーを持っていますが、持っている数が違います。2匹が持っているクッキーの数の違いはいくつですか。その数だけ真ん中の四角に○をかきます。



※1. このプリントは、しながわ・目黒こどもスクールのウェブサイトでダウンロードができます。無断複写・引用はご遠慮ください。

※2. このプリントを活用したオンライン授業のスケジュールは、しながわ・目黒こどもスクールのウェブサイトでご確認ください。

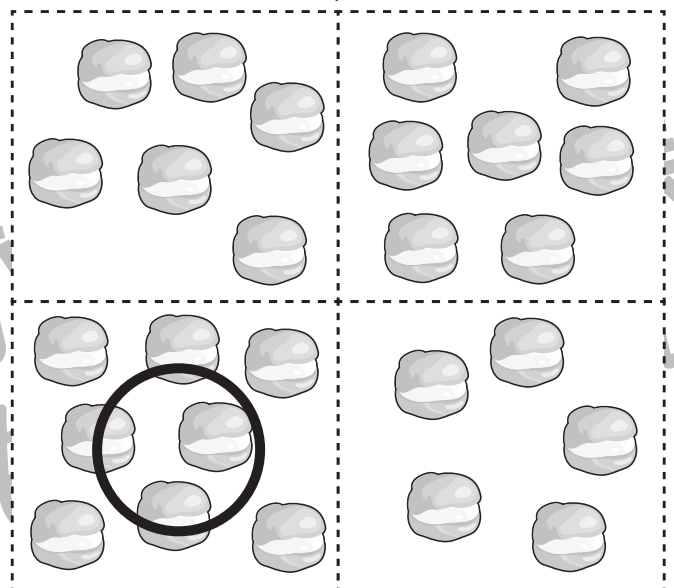
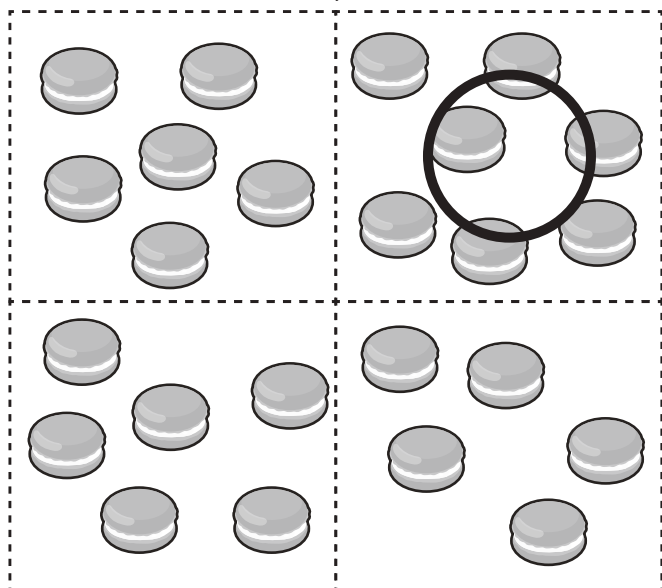

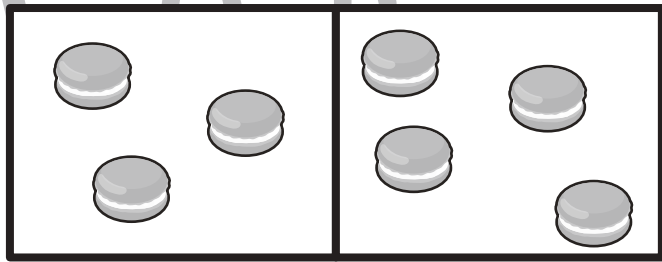
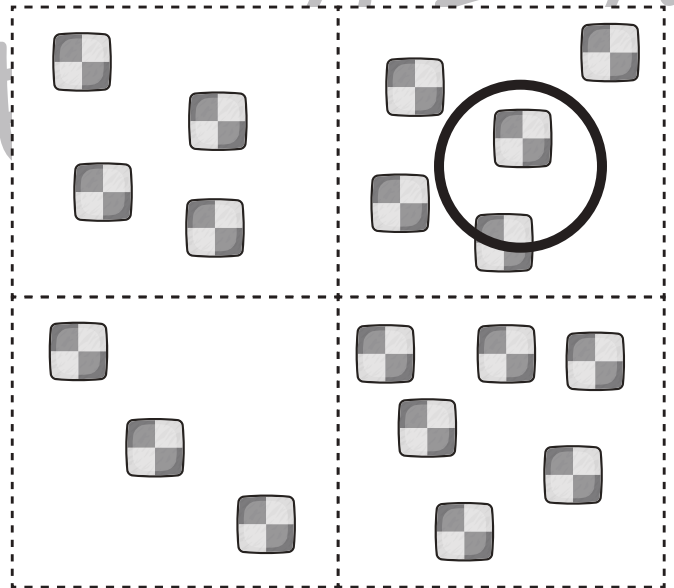
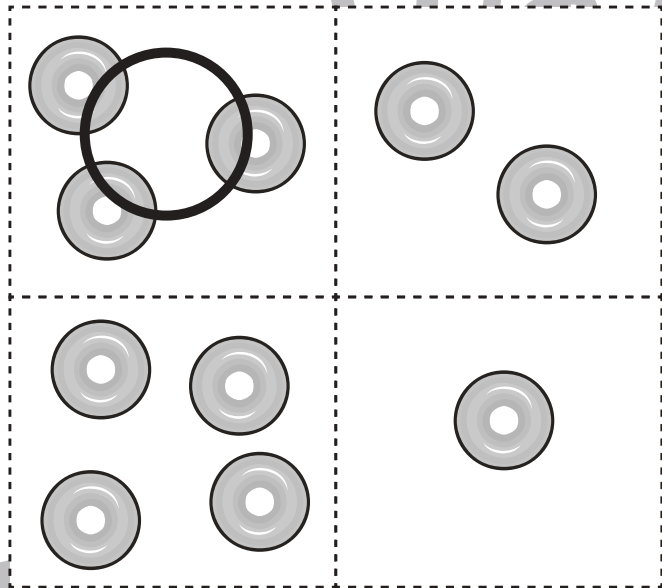
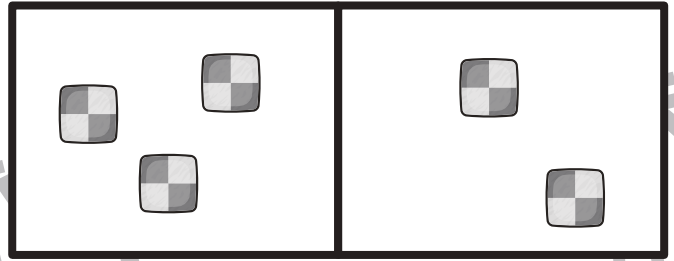
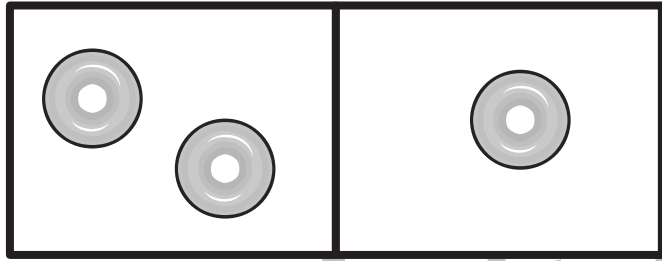


おうちで、やろう。

Study at home. 小学校受験の家庭学習教材

数量：加減1

太い四角の中にあるお菓子を合わせるといくつになりますか。下の四角の中から選んで○をつけます。



※1. このプリントは、しながわ・目黒こどもスクールのウェブサイトからダウンロードできます。無断複写・引用はご遠慮ください。
※2. このプリントを活用したオンライン授業のスケジュールは、しながわ・目黒こどもスクールのウェブサイトでご確認ください。



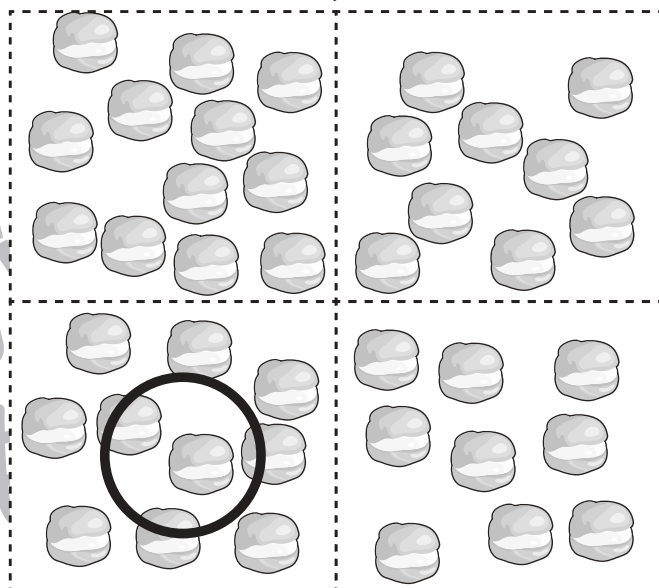
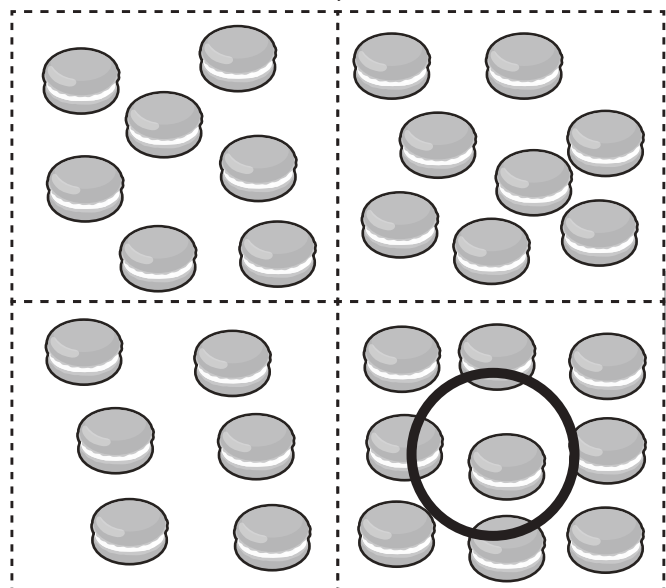

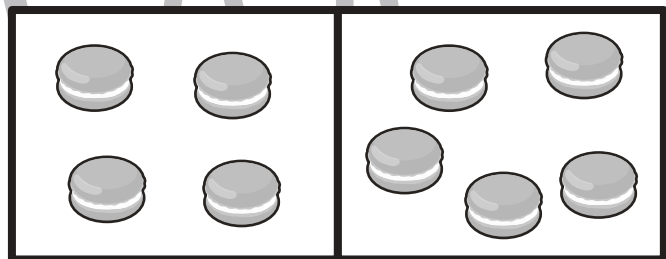
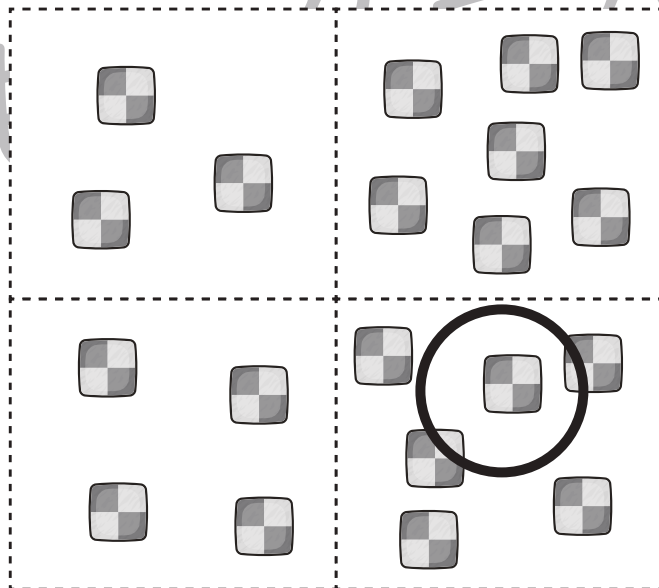
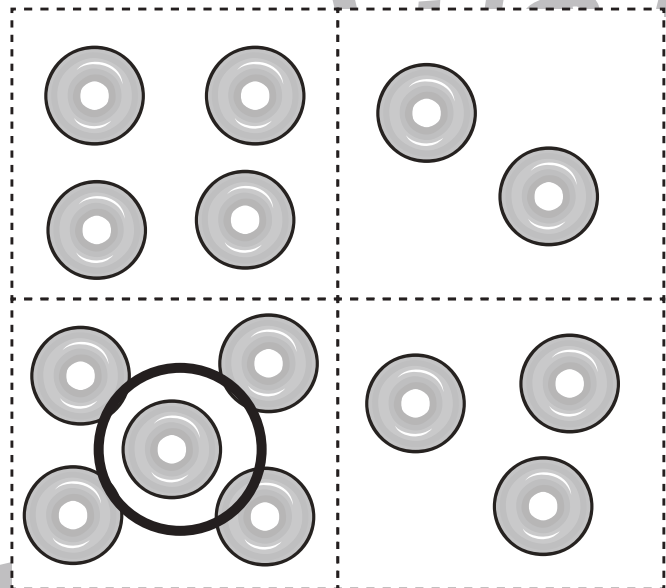
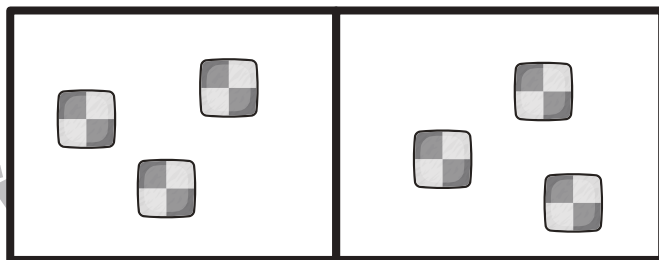
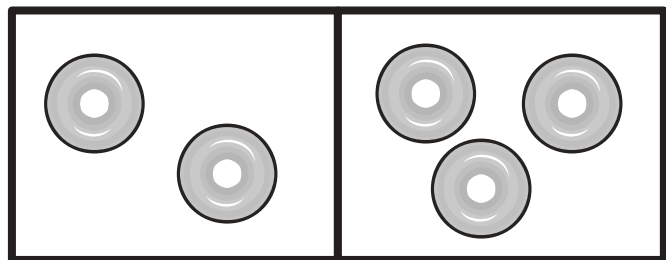


おうちで、やろう。

Study at home. 小学校受験の家庭学習教材

数量：加減2

太い四角の中にあるお菓子を合わせるといくつになりますか。下の四角の中から選んで○をつけます。



※1. このプリントは、しながわ・目黒こどもスクールのウェブサイトからダウンロードができます。無断複写・引用はご遠慮ください。
※2. このプリントを活用したオンライン授業のスケジュールは、しながわ・目黒こどもスクールのウェブサイトでご確認ください。

