



# おうちで、やろう。

Study at home. 小学校受験の家庭学習教材

図形：移動7

それぞれ上の太い四角の中が約束です。下のマスのリンゴは上の四角の矢印のとおりに動きます。矢印は左から順番に見てリンゴが進んだ道に線をかき、最後についたマスに○をかきます。



	🍏			



🍏				



			🍏	



		🍏		



		🍏		



		🍏		

※1. このプリントは、しながわ・目黒こどもスクールのウェブサイトでダウンロードができます。無断複写・引用はご遠慮ください。

※2. このプリントを活用したオンライン授業のスケジュールは、しながわ・目黒こどもスクールのウェブサイトでご確認ください。






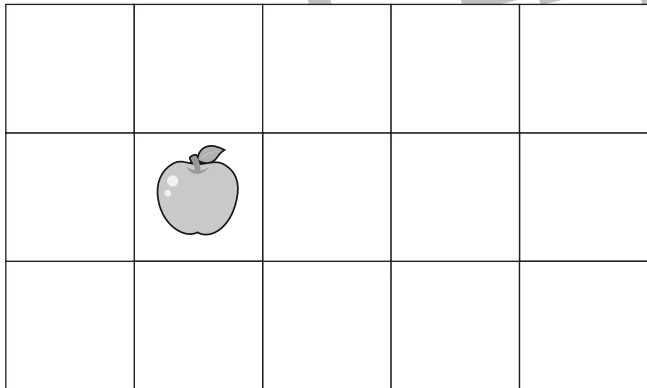


# おうちで、やろう。

Study at home. 小学校受験の家庭学習教材

図形：移動8

それぞれ上の太い四角の中が約束です。下のマスのリンゴは上の四角の矢印のとおりに動きます。矢印は左から順番に見てリンゴが進んだ道に線をかき、最後についたマスに○をかきます。



※1. このプリントは、しながわ・目黒こどもスクールのウェブサイトでダウンロードができます。無断複写・引用はご遠慮ください。

※2. このプリントを活用したオンライン授業のスケジュールは、しながわ・目黒こどもスクールのウェブサイトでご確認ください。







# おうちで、やろう。

Study at home. 小学校受験の家庭学習教材


## 図形：移動9


それぞれ上の太い四角の中が約束です。下のマスのリンゴは上の四角の矢印のとおりに動きます。矢印は左から順番に見てリンゴが進んだ道に線をかき、最後についたマスに○をかきます。





				




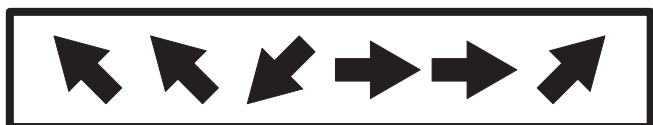
				





				








※1. このプリントは、しながわ・目黒こどもスクールのウェブサイトでダウンロードができます。無断複写・引用はご遠慮ください。

※2. このプリントを活用したオンライン授業のスケジュールは、しながわ・目黒こどもスクールのウェブサイトでご確認ください。







# おうちで、やろう。


Study at home.


## 推理：ブラックボックス3


上の太い四角の中が約束です。リンゴの絵の箱の中に白い○を入れると1つ増えて出てきます。バナナの絵の箱の中に白い○を入れると色が変わって出てきます。このお約束の通りに左にある○を矢印の順番に箱の中に入れていきます。最後に出てきた○を右の四角にかきます。



○ ○ →  → ○ ○ ○	○ →  → ●
	● →  → ○

○ ○ →  →






○ ○ ○ →  →



○ ○ →  →  →



○ ○ ○ ○ →  →  →



※1. このプリントは、しながわ・目黒こどもスクールのウェブサイトでダウンロードができます。無断複写・引用はご遠慮ください。  
 ※2. このプリントを活用したオンライン授業のスケジュールは、しながわ・目黒こどもスクールのウェブサイトでご確認ください。






# おうちで、やろう。

Study at home.

## 推理：ブラックボックス4

上の太い四角の中が約束です。モモの絵の箱の中に白い○を入れると2つ減って出てきます。バナナの絵の箱の中に白い○を入れると色が違って出てきます。このお約束の通りに左にある○を矢印の順番に箱の中に入れていきます。最後に出てきた○を右の四角にかきます。

※1. このプリントは、しながわ・目黒こどもスクールのウェブサイトでダウンロードができます。無断複写・引用はご遠慮ください。  
 ※2. このプリントを活用したオンライン授業のスケジュールは、しながわ・目黒こどもスクールのウェブサイトでご確認ください。

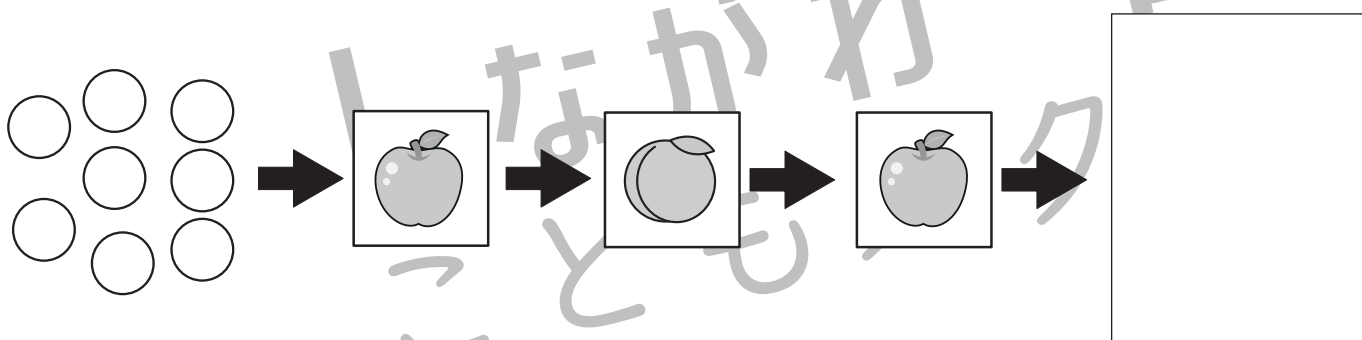
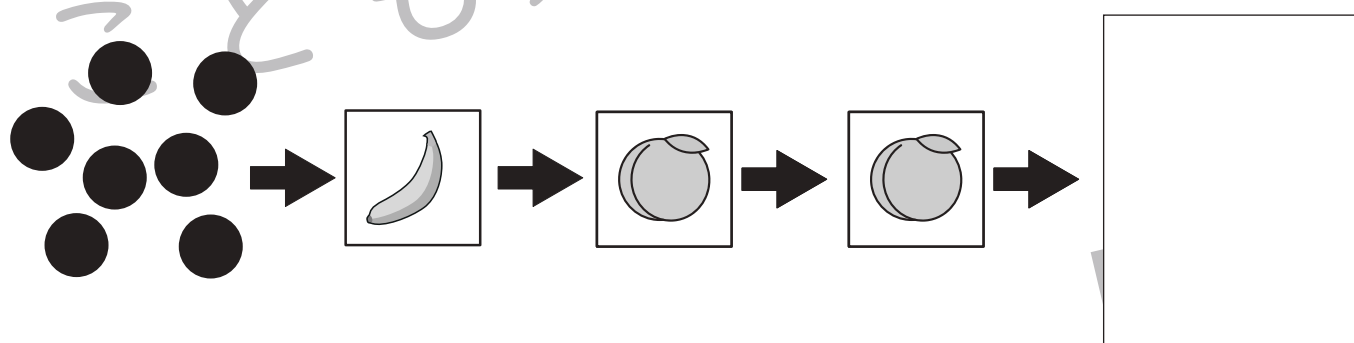
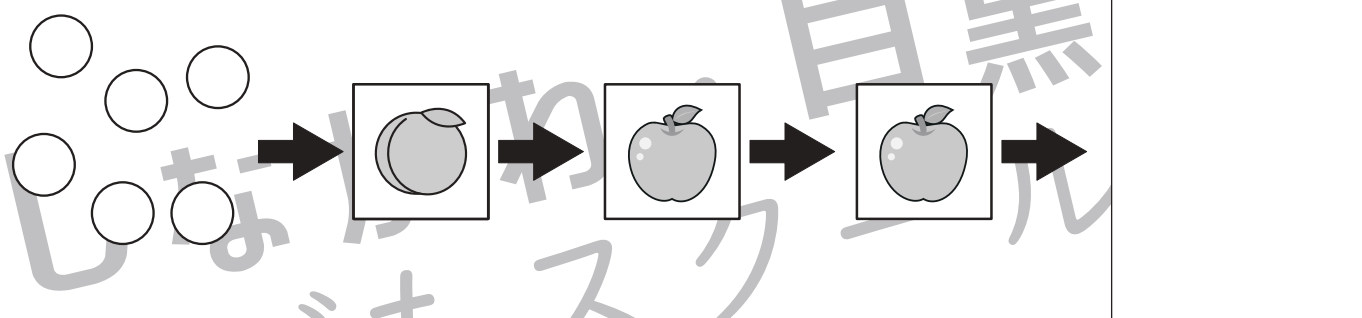
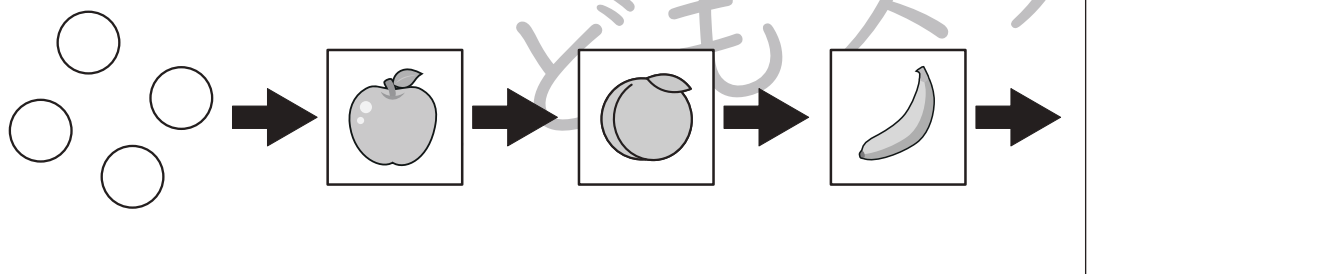
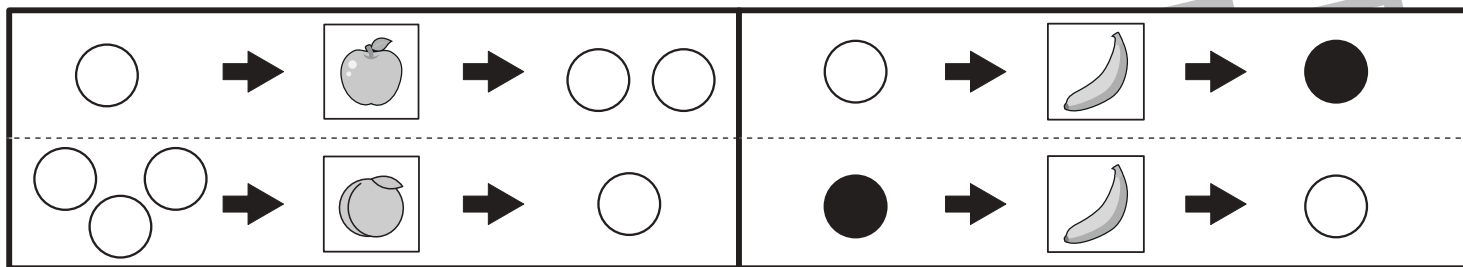


# おうちで、やろう。

Study at home.

推理：ブラックボックス5

上の太い四角の中が約束です。リンゴの絵の箱の中に白い○を入れると1つ増えて出てきます。モモの絵の箱の中に白い○を入れると2つ減って出てきます。バナナの絵の箱の中に白い○を入れると色が変わって出てきます。このお約束の通りに左にある○を矢印の順番に箱の中に入れていきます。最後に出てきた○を右の四角にかきます。



※1. このプリントは、しながわ・目黒こどもスクールのウェブサイトでダウンロードができます。無断複写・引用はご遠慮ください。  
 ※2. このプリントを活用したオンライン授業のスケジュールは、しながわ・目黒こどもスクールのウェブサイトでご確認ください。



# おうちで、やろう。

Study at home. 小学校受験の家庭学習教材

## 推理：系列完成4

それぞれマスには記号がある約束で並んでいます。このとき、空いている太いマスに入る記号を考えてその記号をかきます。

①

○	△	<b>□</b>	△	○	△	○	<b>□</b>	○	△
---	---	----------	---	---	---	---	----------	---	---

②

×	○	■	<b>□</b>	○	■	×	<b>□</b>	■	×
---	---	---	----------	---	---	---	----------	---	---

	○	×	■	○	<b>□</b>	■	○	×	<b>□</b>
--	---	---	---	---	----------	---	---	---	----------

③

▽	◎	☆	×	●	▽	◎	☆	×	●
---	---	---	---	---	---	---	---	---	---

					<b>□</b>				
--	--	--	--	--	----------	--	--	--	--

◎									
---	--	--	--	--	--	--	--	--	--

☆	<b>□</b>	●	▽	◎	☆	×	●	▽	<b>□</b>
---	----------	---	---	---	---	---	---	---	----------

☆	◎	<b>□</b>	●	×	☆	◎	<b>□</b>	●	×
---	---	----------	---	---	---	---	----------	---	---

※1. このプリントは、しながわ・目黒こどもスクールのウェブサイトでダウンロードができます。無断複写・引用はご遠慮ください。  
 ※2. このプリントを活用したオンライン授業のスケジュールは、しながわ・目黒こどもスクールのウェブサイトでご確認ください。

















# おうちで、やろう。

Study at home. 小学校受験の家庭学習教材

数量：加減3

真ん中の太い四角の中のイチゴをネコとイヌで分けてみました。ネコの分けたイチゴは左の四角の中の数になったとき、イヌに分けた数はいくつですか。その数だけ右の四角に○をかきます。



※1. このプリントは、しながわ・目黒こどもスクールのウェブサイトでダウンロードができます。無断複写・引用はご遠慮ください。  
※2. このプリントを活用したオンライン授業のスケジュールは、しながわ・目黒こどもスクールのウェブサイトでご確認ください。





















# おうちで、やろう。

Study at home. 小学校受験の家庭学習教材

数量：加減4

真ん中の太い四角の中のイチゴをネコとイヌで分けました。ネコの分けたイチゴは左の四角の中の数になったとき、イヌに分けた数はいくつですか。その数だけ右の四角に○をかきます。



※1. このプリントは、しながわ・目黒こどもスクールのウェブサイトでダウンロードができます。無断複写・引用はご遠慮ください。  
※2. このプリントを活用したオンライン授業のスケジュールは、しながわ・目黒こどもスクールのウェブサイトでご確認ください。





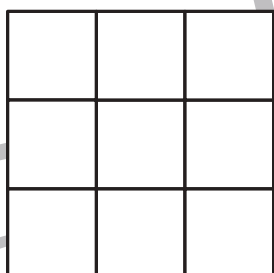
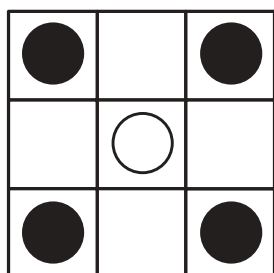
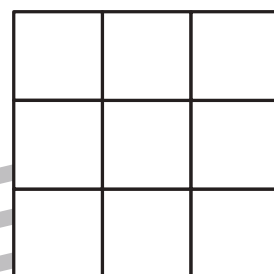
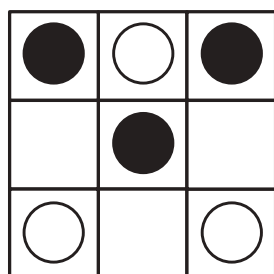
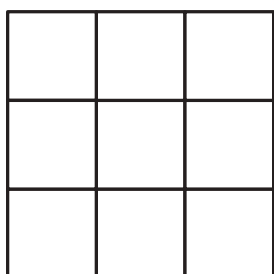

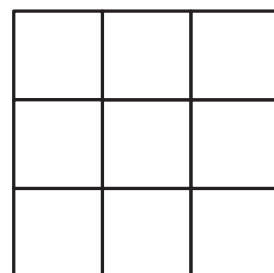

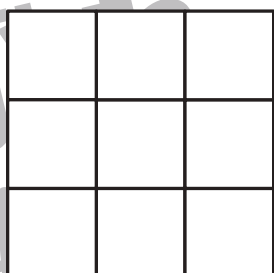
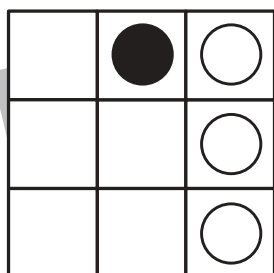
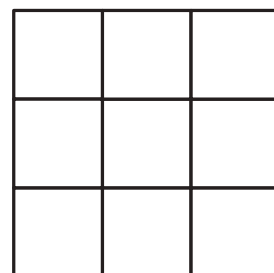


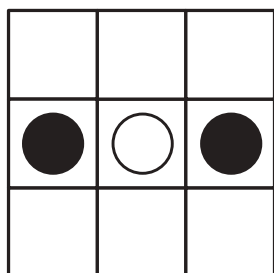

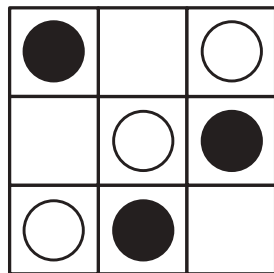
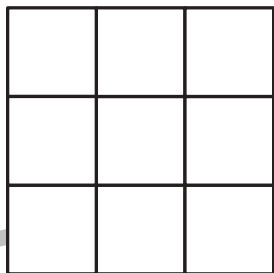
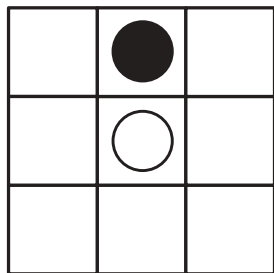


# おうちで、やろう。

Study at home. 小学校受験の家庭学習教材

図形：模写2

左の四角がお手本です。お手本のマスの中には○と●があります。この○の色を反対にして右のマスにかきます。○は●に、●は○に変えてかきましょう。



※1. このプリントは、しながわ・目黒こどもスクールのウェブサイトでダウンロードができます。無断複写・引用はご遠慮ください。  
※2. このプリントを活用したオンライン授業のスケジュールは、しながわ・目黒こどもスクールのウェブサイトでご確認ください。