

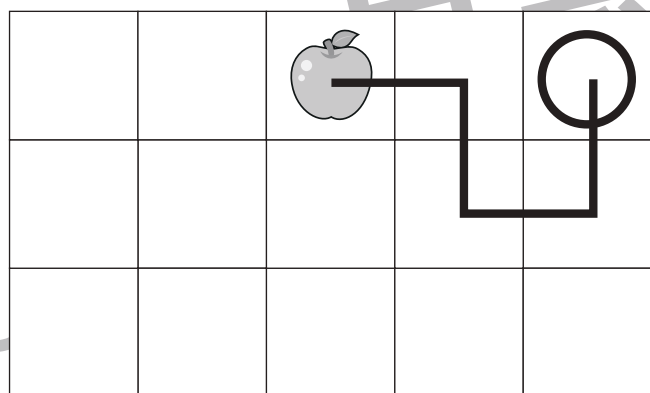


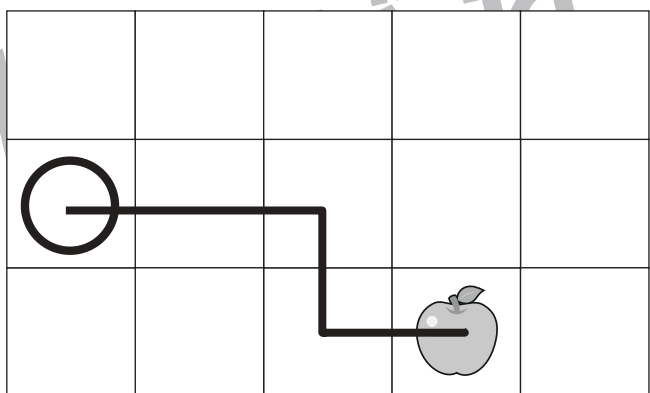
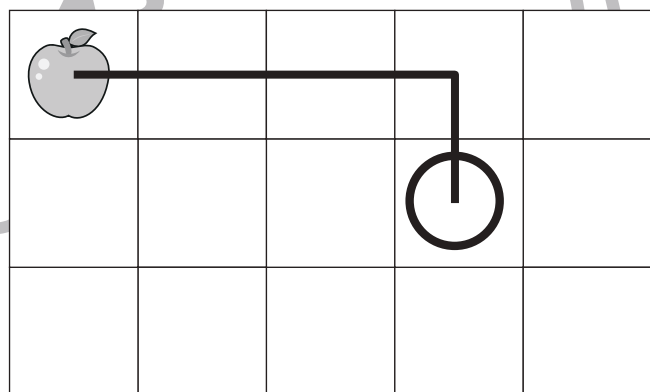



おうちで、やろう。

Study at home. 小学校受験の家庭学習教材

図形：移動7

それぞれ上の太い四角の中が約束です。下のマスのリンゴは上の四角の矢印のとおりに動きます。矢印は左から順番に見てリンゴが進んだ道に線をかき、最後についたマスに○をかきます。



※1. このプリントは、しながわ・目黒こどもスクールのウェブサイトでダウンロードができます。無断複写・引用はご遠慮ください。

※2. このプリントを活用したオンライン授業のスケジュールは、しながわ・目黒こどもスクールのウェブサイトでご確認ください。



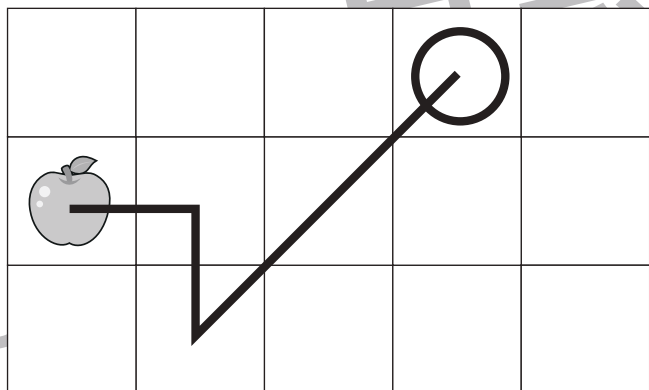
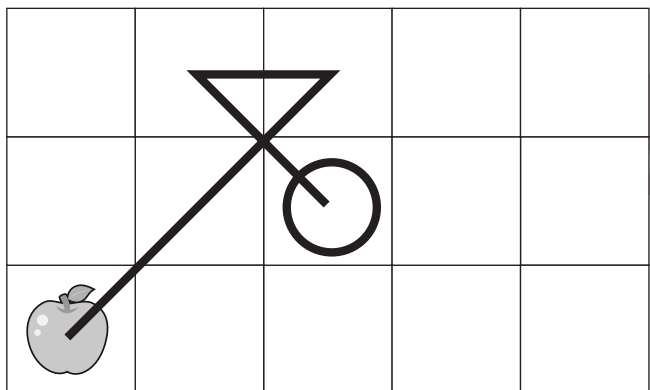
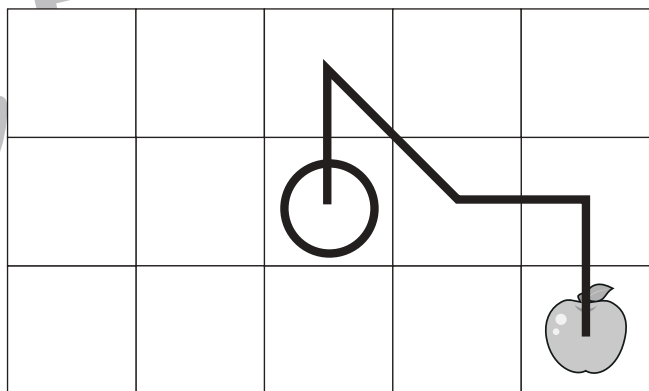
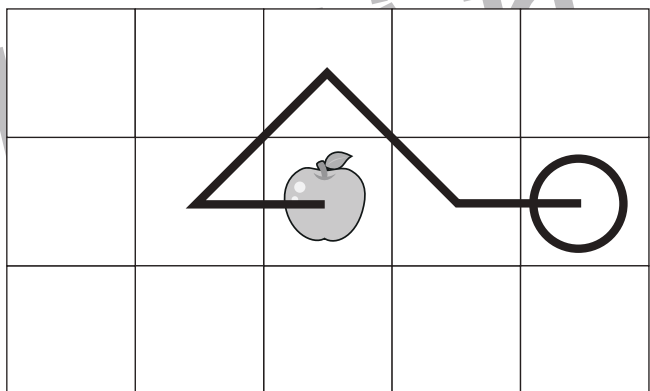
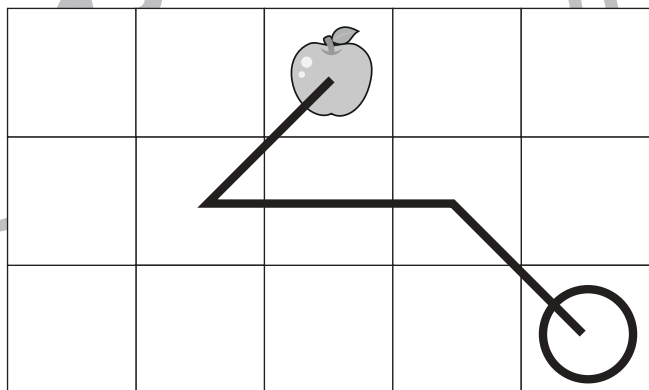
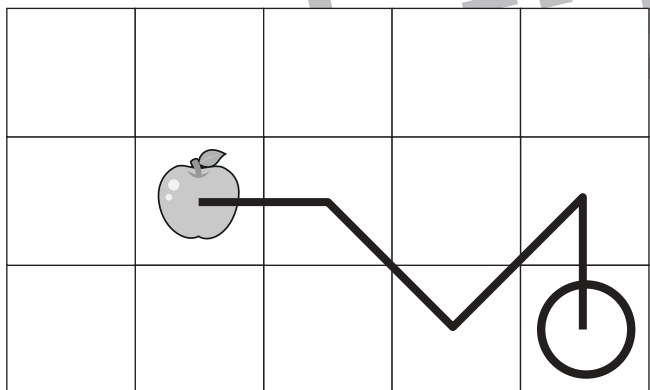


おうちで、やろう。

Study at home. 小学校受験の家庭学習教材

図形：移動8

それぞれ上の太い四角の中が約束です。下のマスのリンゴは上の四角の矢印のとおりに動きます。矢印は左から順番に見てリンゴが進んだ道に線をかき、最後についたマスに○をかきます。



※1. このプリントは、しながわ・目黒こどもスクールのウェブサイトでダウンロードができます。無断複写・引用はご遠慮ください。

※2. このプリントを活用したオンライン授業のスケジュールは、しながわ・目黒こどもスクールのウェブサイトでご確認ください。



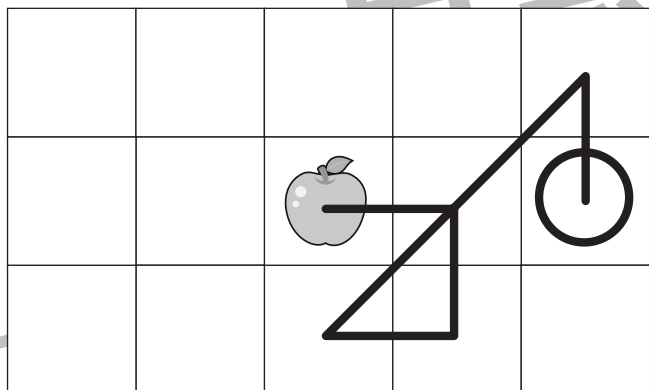

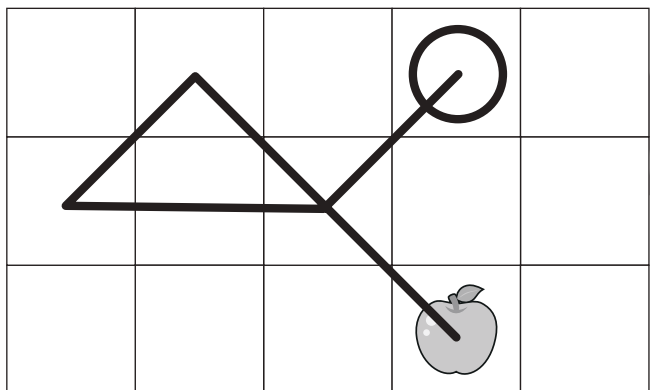
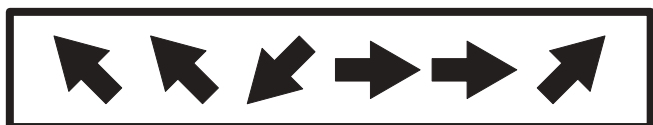
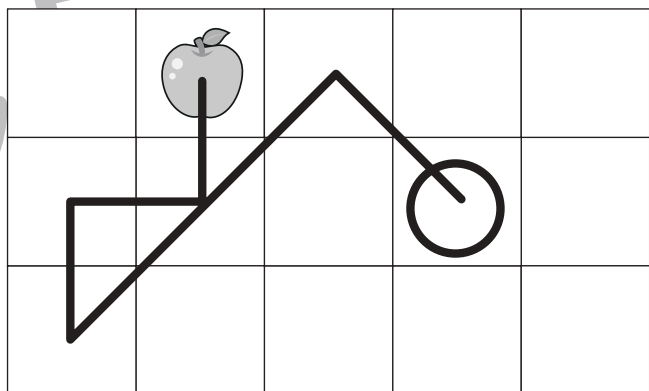

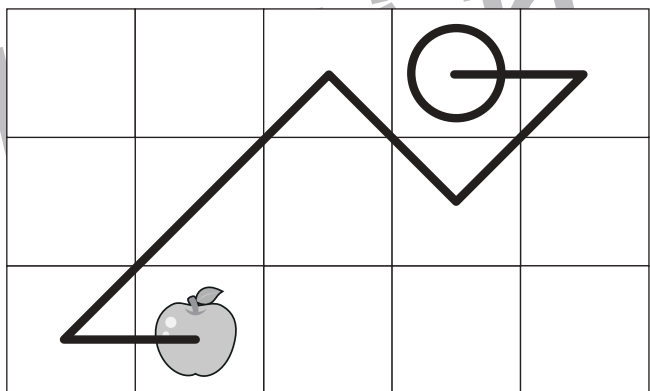

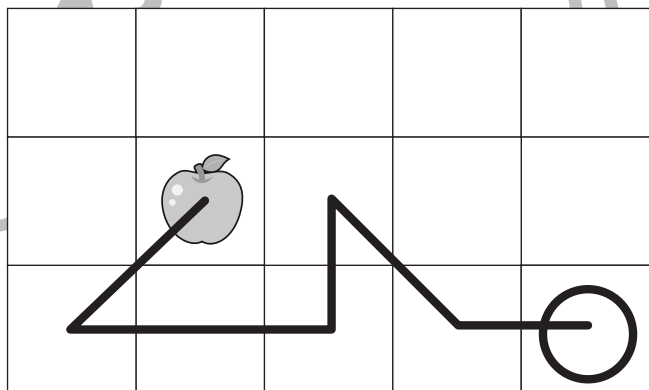





おうちで、やろう。

Study at home. 小学校受験の家庭学習教材

図形：移動9

それぞれ上の太い四角の中が約束です。下のマスのリンゴは上の四角の矢印のとおりに動きます。矢印は左から順番に見てリンゴが進んだ道に線をかき、最後についたマスに○をかきます。



※1. このプリントは、しながわ・目黒こどもスクールのウェブサイトでダウンロードができます。無断複写・引用はご遠慮ください。

※2. このプリントを活用したオンライン授業のスケジュールは、しながわ・目黒こどもスクールのウェブサイトでご確認ください。



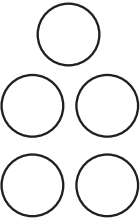
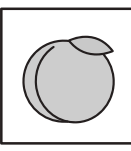
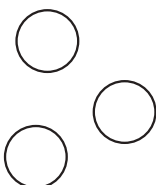

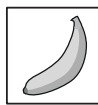


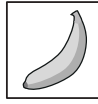



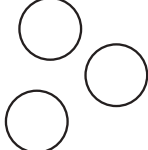
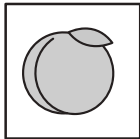


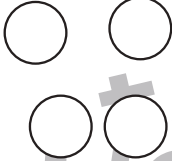
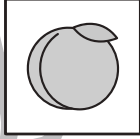



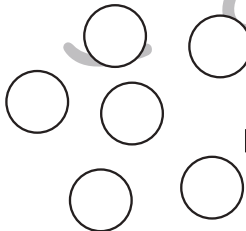

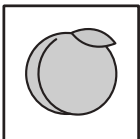


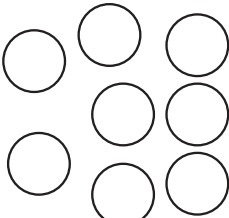




おうちで、やろう。

Study at home.

推理：ブラックボックス4

上の太い四角の中が約束です。モモの絵の箱の中に白い○を入れると2つ減って出てきます。バナナの絵の箱の中に白い○を入れると色が違って出てきます。このお約束の通りに左にある○を矢印の順番に箱の中に入れていきます。最後に出てきた○を右の四角にかきます。

	→		→	
	→		→	
	→		→	


 →
 
 →
 


 →
 
 →
 
 →
 


 →
 
 →
 
 →
 


 →
 
 →
 
 →
 


※1. このプリントは、しながわ・目黒こどもスクールのウェブサイトでダウンロードができます。無断複写・引用はご遠慮ください。

※2. このプリントを活用したオンライン授業のスケジュールは、しながわ・目黒こどもスクールのウェブサイトでご確認ください。

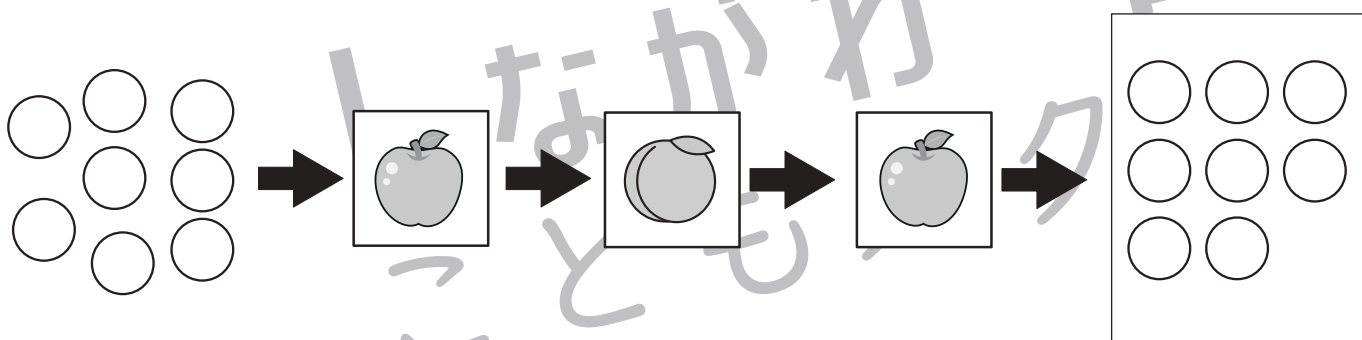
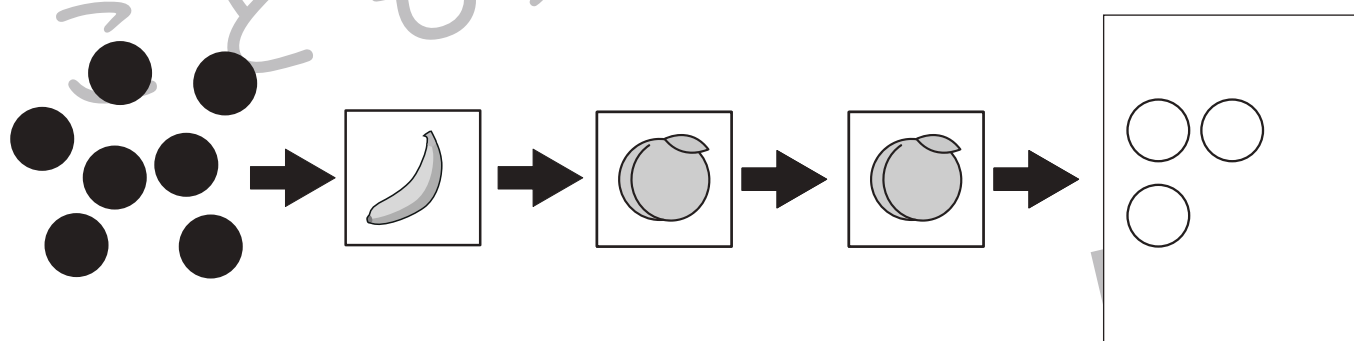
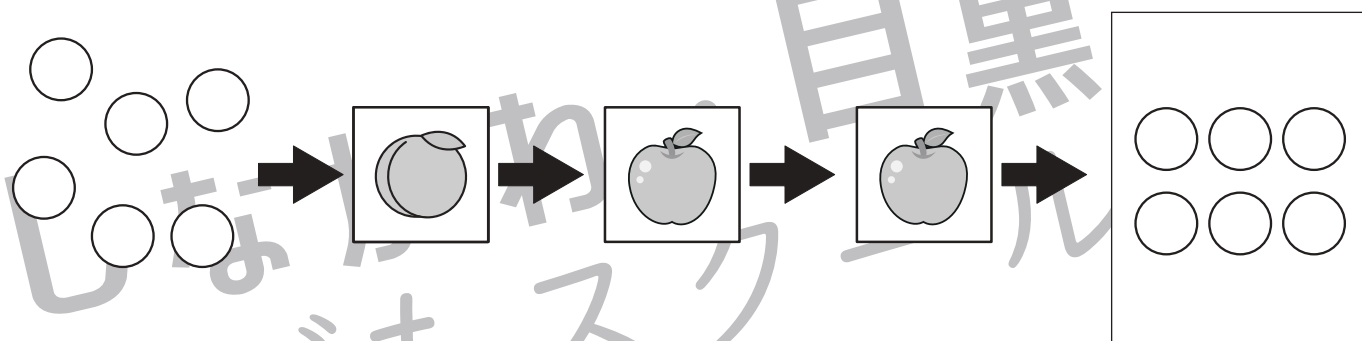
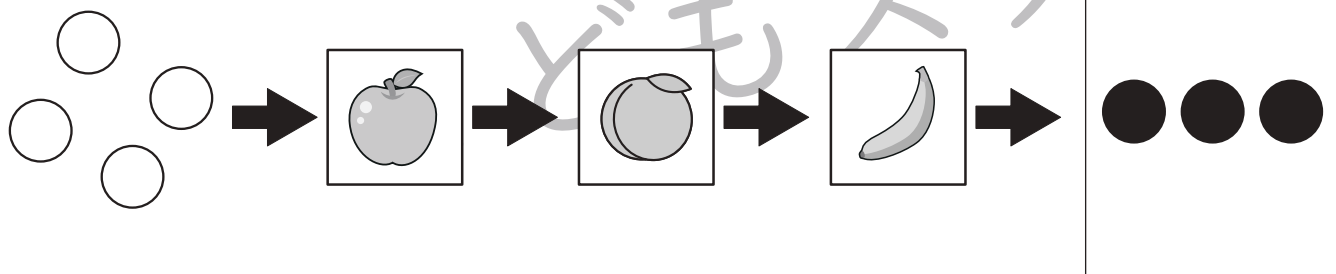
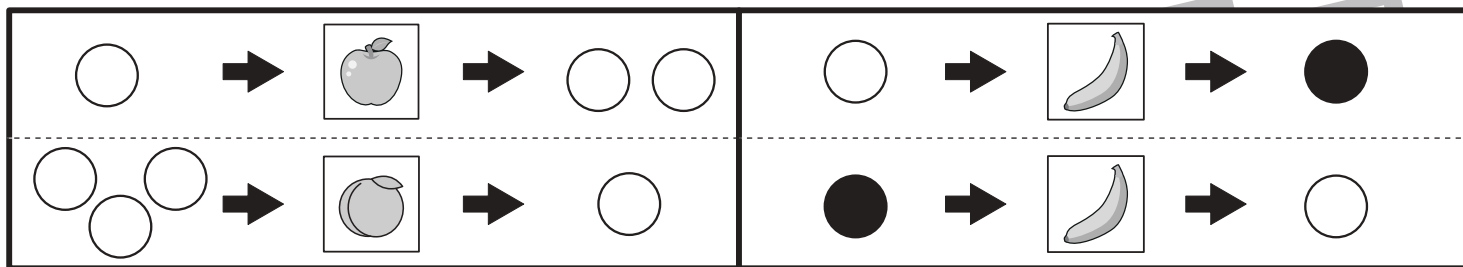


おうちで、やろう。

Study at home.

推理：ブラックボックス5

上の太い四角の中が約束です。リンゴの絵の箱の中に白い○を入れると1つ増えて出てきます。モモの絵の箱の中に白い○を入れると2つ減って出てきます。バナナの絵の箱の中に白い○を入れると色が変わって出てきます。このお約束の通りに左にある○を矢印の順番に箱の中に入れていきます。最後に出てきた○を右の四角にかきます。



※1. このプリントは、しながわ・目黒こどもスクールのウェブサイトでダウンロードができます。無断複写・引用はご遠慮ください。
 ※2. このプリントを活用したオンライン授業のスケジュールは、しながわ・目黒こどもスクールのウェブサイトでご確認ください。



おうちで、やろう。

Study at home. 小学校受験の家庭学習教材

推理：系列完成4

それぞれマスには記号がある約束で並んでいます。このとき、空いている太いマスに入る記号を考えてその記号をかきます。

①

○	△	○	△	○	△	○	△	○	△
---	---	---	---	---	---	---	---	---	---

②

×	○	■	×	○	■	×	○	■	×
---	---	---	---	---	---	---	---	---	---

■	○	×	■	○	×	■	○	×	■
---	---	---	---	---	---	---	---	---	---

③

▽	◎	☆	×	●	▽	◎	☆	×	●
---	---	---	---	---	---	---	---	---	---

▽	●	×	☆	◎	▽	●	×	☆	◎
---	---	---	---	---	---	---	---	---	---

◎									
---	--	--	--	--	--	--	--	--	--

☆	×	●	▽	◎	☆	×	●	▽	◎
---	---	---	---	---	---	---	---	---	---

☆	◎	▽	●	×	☆	◎	▽	●	×
---	---	---	---	---	---	---	---	---	---

※1. このプリントは、しながわ・目黒こどもスクールのウェブサイトでダウンロードができます。無断複写・引用はご遠慮ください。

※2. このプリントを活用したオンライン授業のスケジュールは、しながわ・目黒こどもスクールのウェブサイトでご確認ください。


















おうちで、やろう。

Study at home. 小学校受験の家庭学習教材

数量：加減3

真ん中の太い四角の中のイチゴをネコとイヌで分けました。ネコの分けたイチゴは左の四角の中の数になったとき、イヌに分けた数はいくつですか。その数だけ右の四角に○をかきます。



※1. このプリントは、しながわ・目黒こどもスクールのウェブサイトでダウンロードができます。無断複写・引用はご遠慮ください。
※2. このプリントを活用したオンライン授業のスケジュールは、しながわ・目黒こどもスクールのウェブサイトでご確認ください。









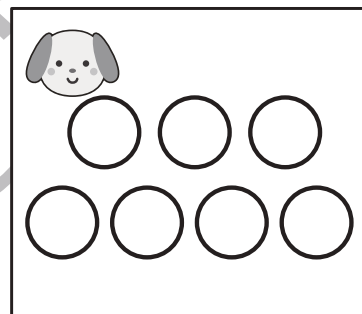










おうちで、やろう。

Study at home. 小学校受験の家庭学習教材

数量：加減4

真ん中の太い四角の中のイチゴをネコとイヌで分けました。ネコの分けたイチゴは左の四角の中の数になったとき、イヌに分けた数はいくつですか。その数だけ右の四角に○をかきます。



※1. このプリントは、しながわ・目黒こどもスクールのウェブサイトでダウンロードができます。無断複写・引用はご遠慮ください。
※2. このプリントを活用したオンライン授業のスケジュールは、しながわ・目黒こどもスクールのウェブサイトでご確認ください。





おうちで、やろう。

Study at home. 小学校受験の家庭学習教材

図形：模写2

左の四角がお手本です。お手本のマスの中には○と●があります。この○の色を反対にして右のマスにかきます。○は●に、●は○に変えてかきましょう。

	▶		▶	
	▶		▶	
	▶		▶	
	▶		▶	
	▶		▶	

※1. このプリントは、しながわ・目黒こどもスクールのウェブサイトでダウンロードができます。無断複写・引用はご遠慮ください。
※2. このプリントを活用したオンライン授業のスケジュールは、しながわ・目黒こどもスクールのウェブサイトでご確認ください。