



おうちで、やろう。

Study at home. 小学校受験の家庭学習教材

推理：系列完成5

それぞれの四角の中には△で作ったマスが並んでいます。その中にあるきまりにしたがって絵が並んでいます。
○・△・□の記号のマスに入る絵をを考えて、それぞれの絵の右の四角にその記号をかきます。

※1. このプリントは、しながわ・目黒こどもスクールのウェブサイトでダウンロードができます。無断複写・引用はご遠慮ください。
※2. このプリントを活用したオンライン授業のスケジュールは、しながわ・目黒こどもスクールのウェブサイトでご確認ください。



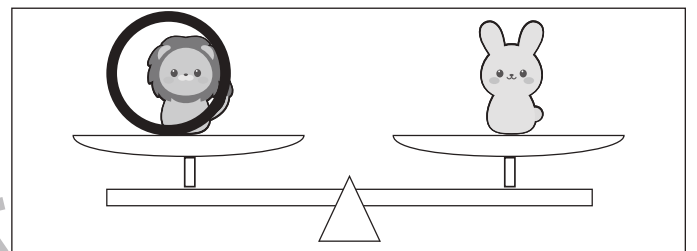
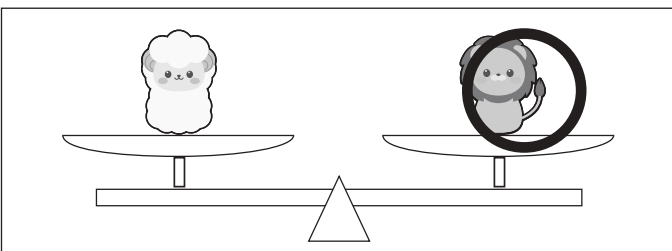

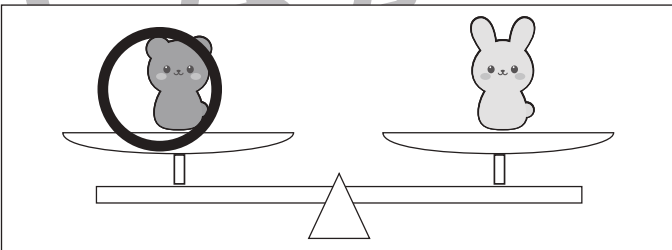
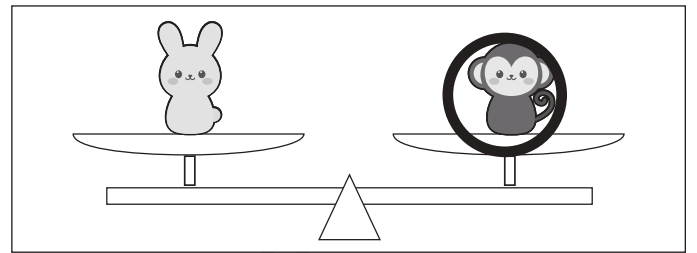
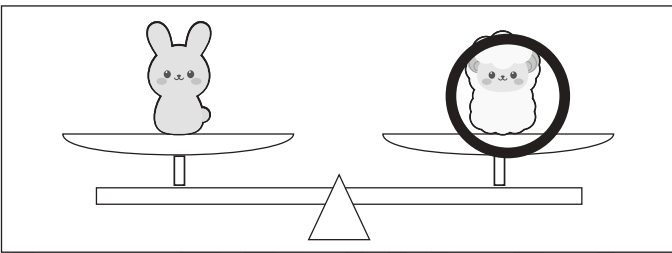

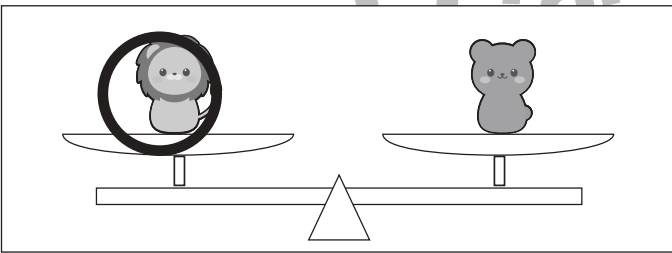


おうちで、やろう。

Study at home. 小学校受験の家庭学習教材

推理：重さ 1

上の四角は動物たちが左から重い順番に並んでいます。一番重いのはライオン、一番軽いのはウサギです。このとき、下のシーソーのように重さ比べをしました。このとき、それぞれのシーソーで下がってしまう動物に○をつけます。



※1. このプリントは、しながわ・目黒こどもスクールのウェブサイトでダウンロードができます。無断複写・引用はご遠慮ください。
 ※2. このプリントを活用したオンライン授業のスケジュールは、しながわ・目黒こどもスクールのウェブサイトでご確認ください。

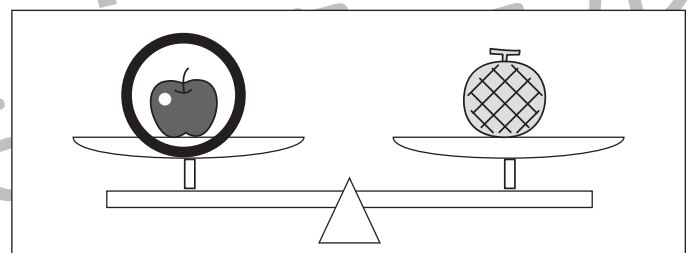

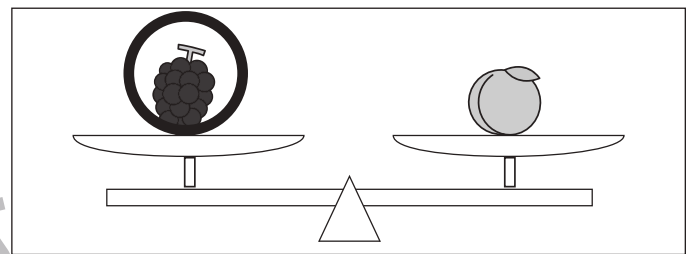
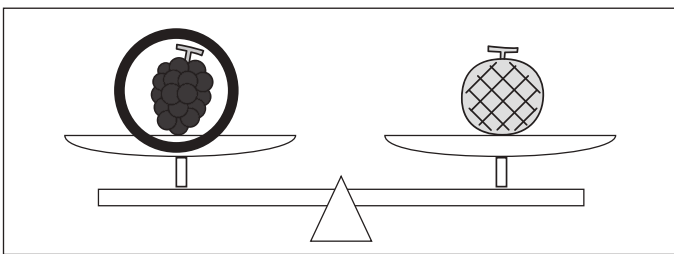


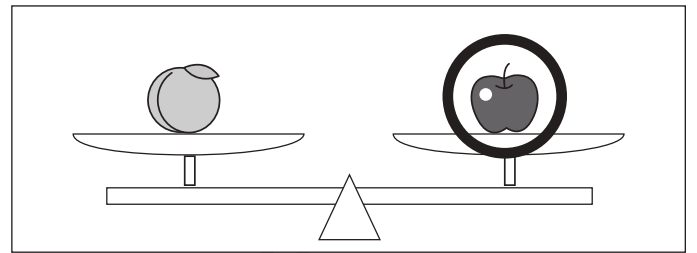
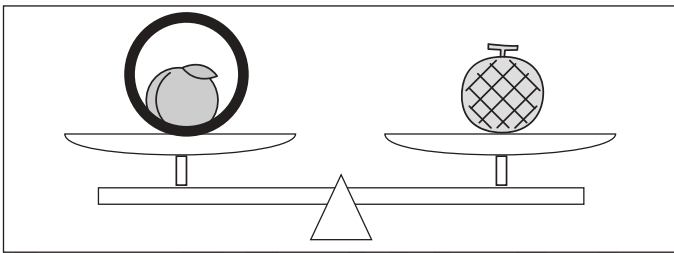
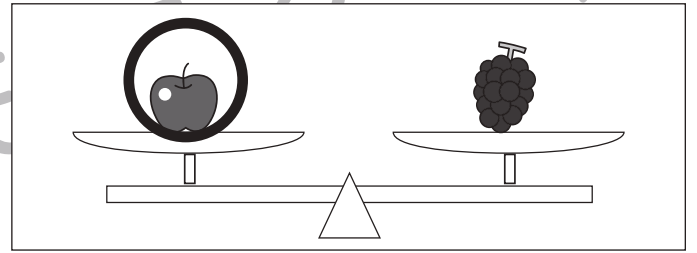
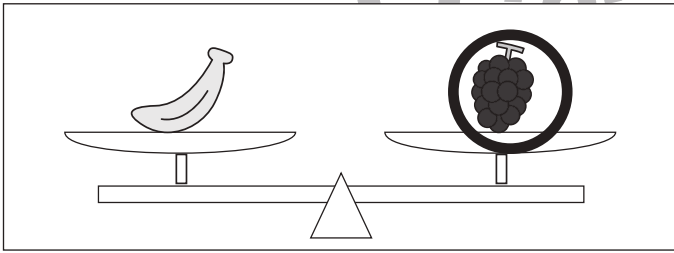
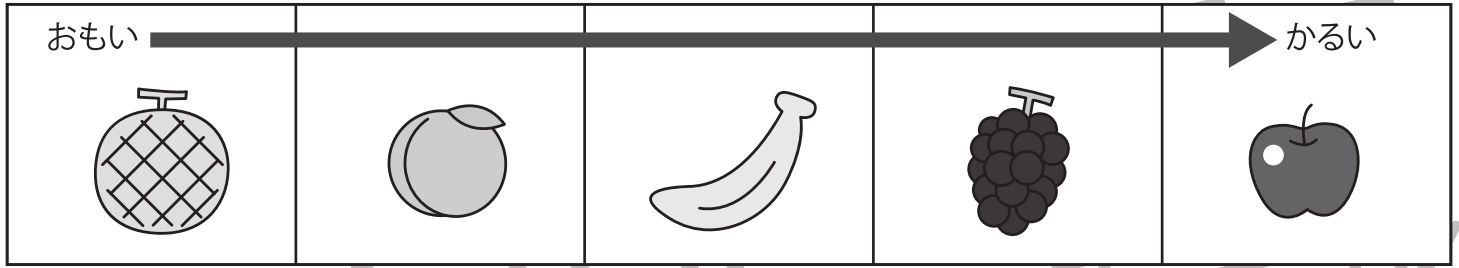


おうちで、やろう。

Study at home. 小学校受験の家庭学習教材

推理：重さ2

上の四角は果物が左から重い順番に並んでいます。一番重いのはメロン、一番軽いのはリンゴです。このとき、下のシーソーのように重さ比べをしました。それぞれのシーソーで上がる果物に○をつけます。



※1. このプリントは、しながわ・目黒こどもスクールのウェブサイトでダウンロードができます。無断複写・引用はご遠慮ください。

※2. このプリントを活用したオンライン授業のスケジュールは、しながわ・目黒こどもスクールのウェブサイトでご確認ください。



おうちで、やろう。

Study at home. 小学校受験の家庭学習教材

推理：重さ3

上の四角はおやつが左から重い順番に並んでいます。同じ四角の中にあるおやつは同じ重さです。一番重いのはパンケーキ、一番軽いのはかしわ餅とドーナツです。このとき、下のシーソーのように重さ比べをしました。それぞれのシーソーで下がってしまうおやつに○をつけます。また、シーソーがそのままのときは両方のおやつに○をつけます。

おもい ←			→ かるい

※1. このプリントは、しながわ・目黒こどもスクールのウェブサイトからダウンロードできます。無断複写・引用はご遠慮ください。
 ※2. このプリントを活用したオンライン授業のスケジュールは、しながわ・目黒こどもスクールのウェブサイトでご確認ください。

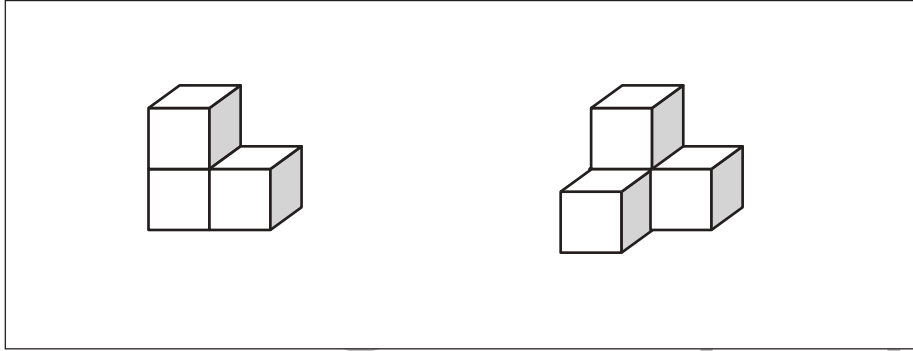


おうちで、やろう。

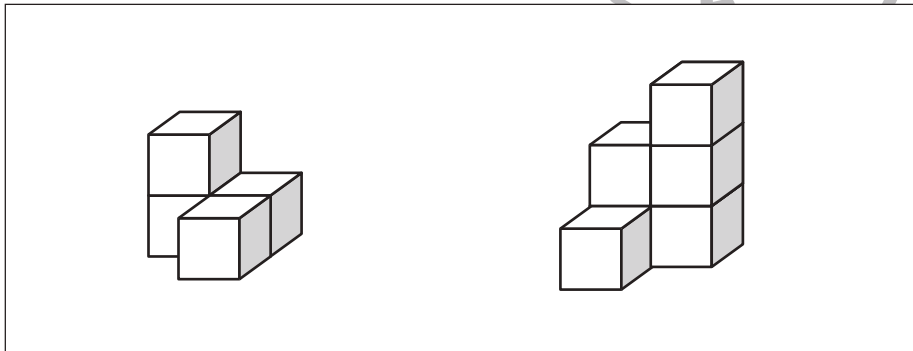
Study at home. 小学校受験の家庭学習教材

数量：積み木 1

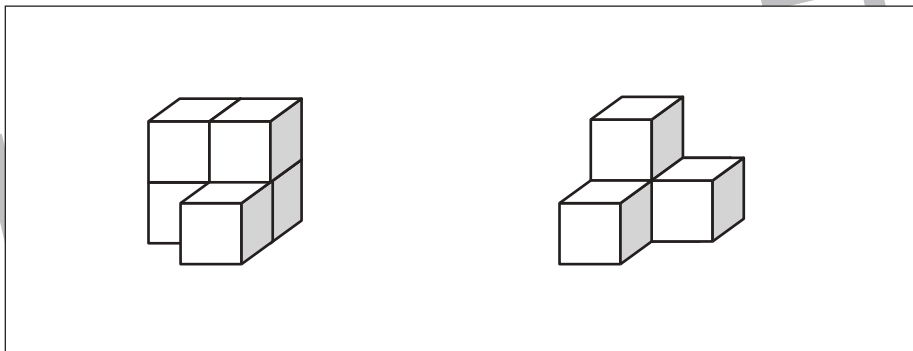
四角の中の2つの積み木を合わせると全部でいくつですか。その数だけ右の四角の中に○をかきます。



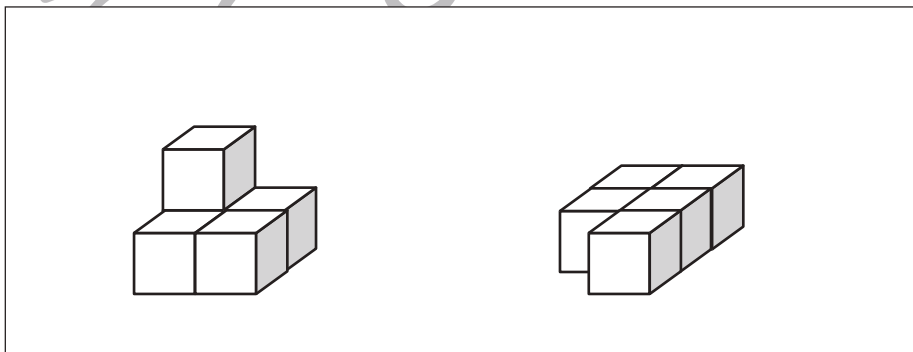
$$\bigcirc \times 7$$



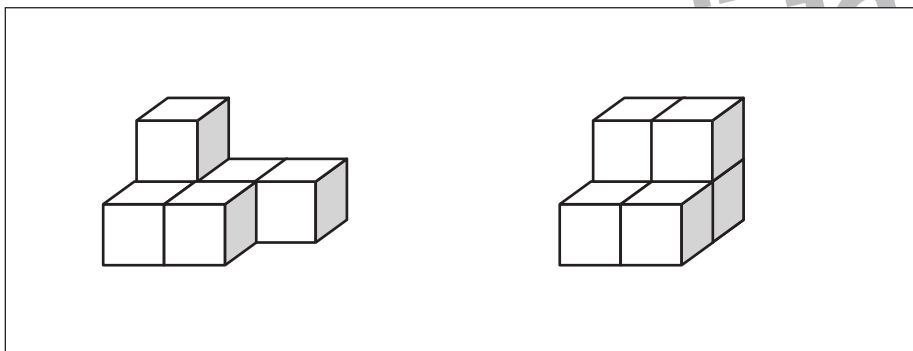
$$\bigcirc \times 10$$



$$\bigcirc \times 9$$



$$\bigcirc \times 10$$



$$\bigcirc \times 12$$

※1. このプリントは、しながわ・目黒こどもスクールのウェブサイトでダウンロードができます。無断複写・引用はご遠慮ください。
※2. このプリントを活用したオンライン授業のスケジュールは、しながわ・目黒こどもスクールのウェブサイトでご確認ください。



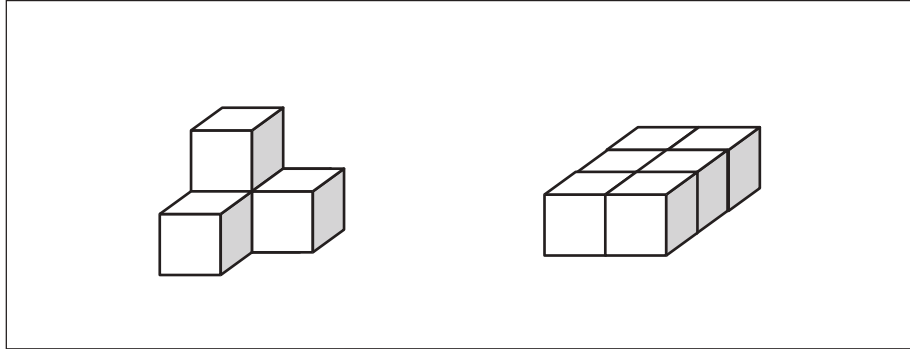


おうちで、やろう。

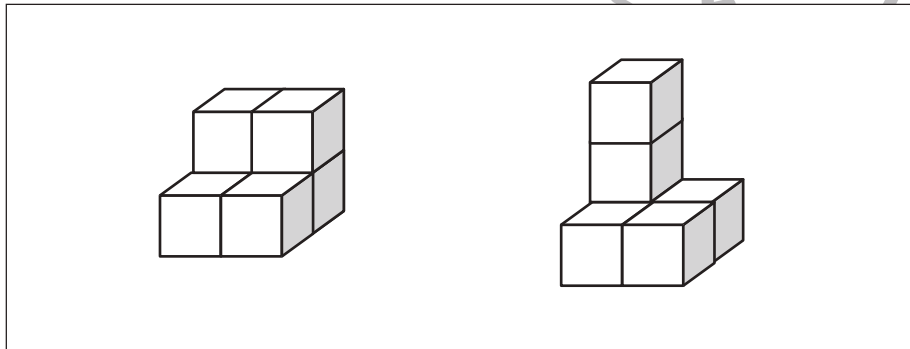
Study at home. 小学校受験の家庭学習教材

数量：積み木2

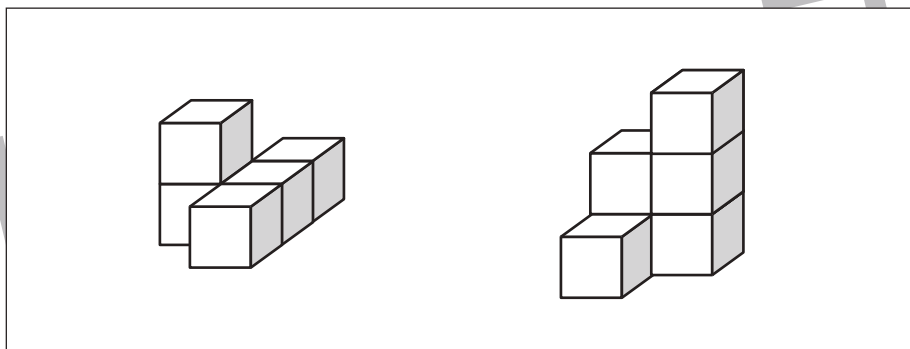
四角の中の2つの積み木を合わせると全部でいくつですか。その数だけ右の四角の中に○をかきます。



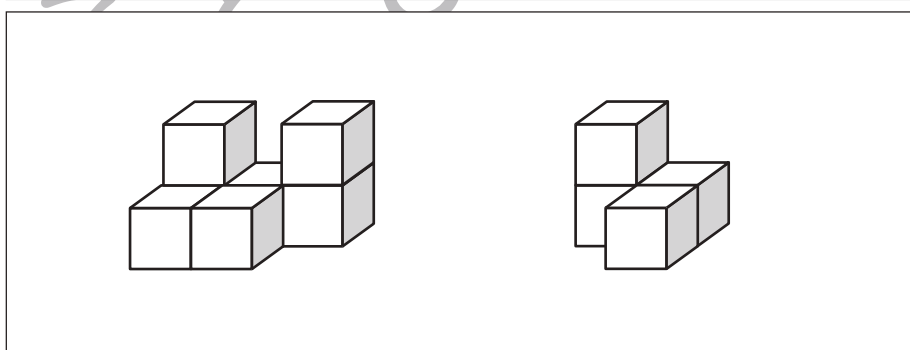
$$\bigcirc \times 10$$



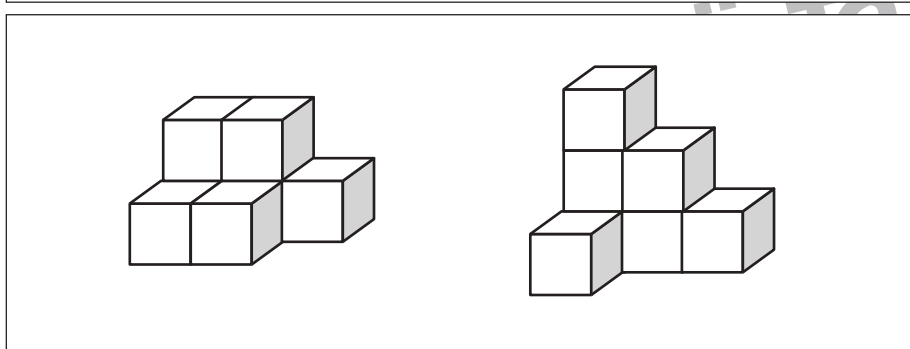
$$\bigcirc \times 12$$



$$\bigcirc \times 11$$



$$\bigcirc \times 11$$



$$\bigcirc \times 14$$

※1. このプリントは、しながわ・目黒こどもスクールのウェブサイトでダウンロードができます。無断複写・引用はご遠慮ください。
※2. このプリントを活用したオンライン授業のスケジュールは、しながわ・目黒こどもスクールのウェブサイトでご確認ください。


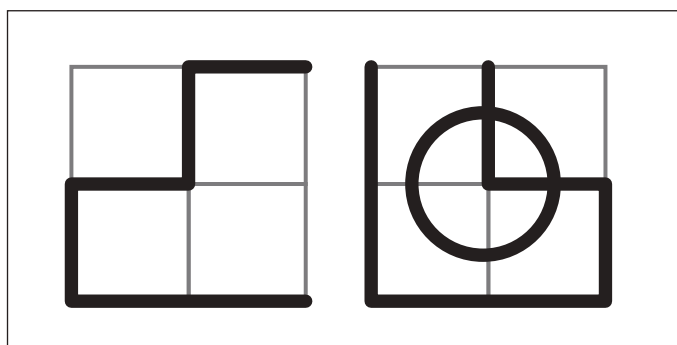
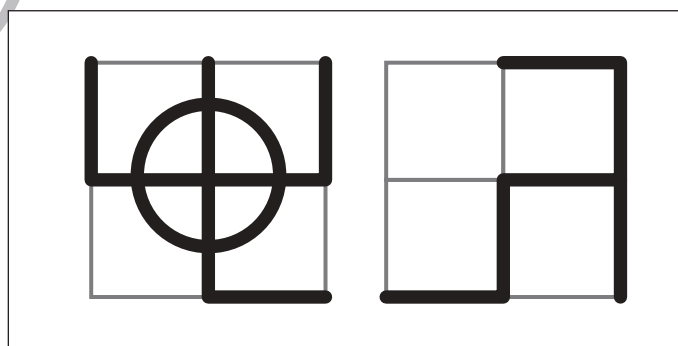
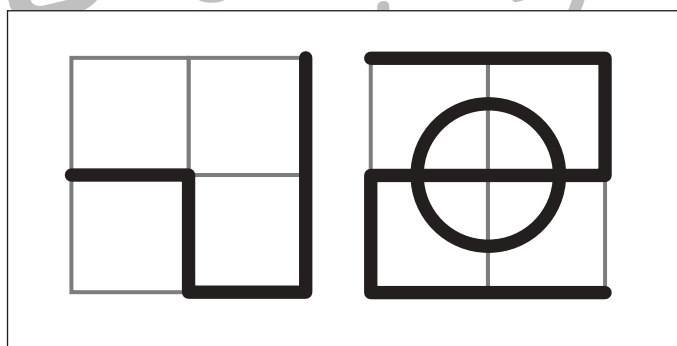
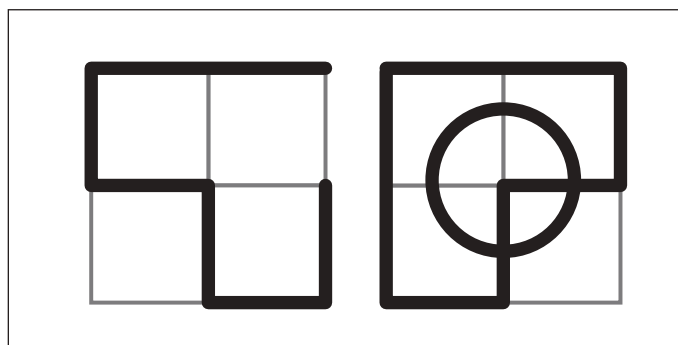
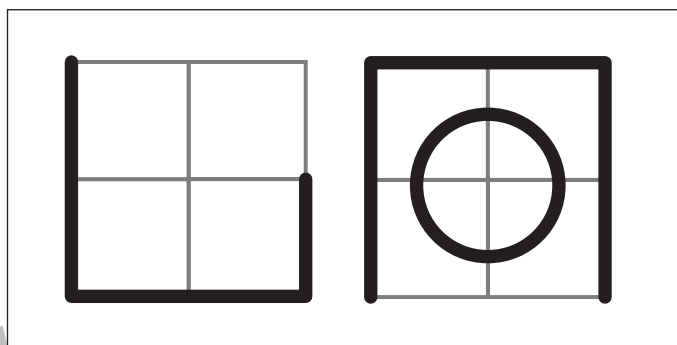
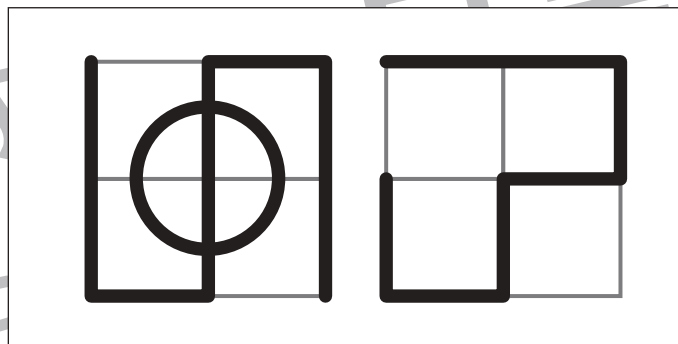
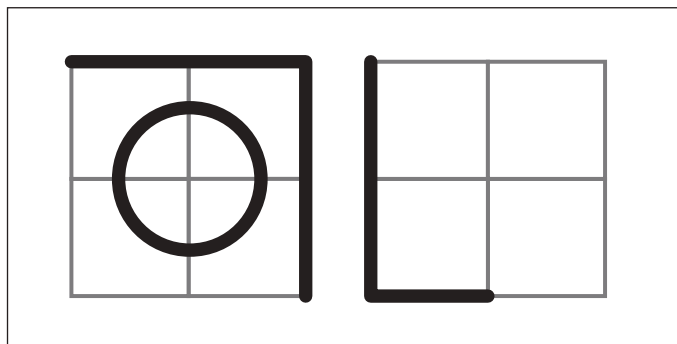


おうちで、やろう。

Study at home. 小学校受験の家庭学習教材

推理：長さ3

2つの四角の中の太い線の長さを比べます。線の長さが長い方に○をつけます。



※1. このプリントは、しながわ・目黒こどもスクールのウェブサイトでダウンロードができます。無断複写・引用はご遠慮ください。
※2. このプリントを活用したオンライン授業のスケジュールは、しながわ・目黒こどもスクールのウェブサイトでご確認ください。






おうちで、やろう。

Study at home. 小学校受験の家庭学習教材

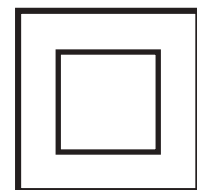
数量：長さ4

それぞれのマスには太い線が描かれています。横に並んだ3つのマスの中で線が一番長いものを見つけます。答えは一番長い線の上にある記号を右の四角の中にかきます。

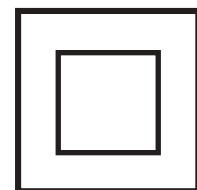
○	△	□
5	4	3




○	△	□
4	4	5



○	△	□
5	4	6



○	△	□
7	8	7



※1. このプリントは、しながわ・目黒こどもスクールのウェブサイトでダウンロードができます。無断複写・引用はご遠慮ください。
※2. このプリントを活用したオンライン授業のスケジュールは、しながわ・目黒こどもスクールのウェブサイトでご確認ください。




おうちで、やろう。

Study at home. 小学校受験の家庭学習教材


数量：長さ5

それぞれのマスには太い線が描かれています。横に並んだ3つのマスの中の線で違う長さをみつけます。答えは一番長い線のマスの上にある記号を右の四角の中にかきます。


○	△	□
4	3	3




○	△	□
6	5	6



○	△	□
7	7	6



○	△	□
7	8	8



※1. このプリントは、しながわ・目黒こどもスクールのウェブサイトでダウンロードができます。無断複写・引用はご遠慮ください。
 ※2. このプリントを活用したオンライン授業のスケジュールは、しながわ・目黒こどもスクールのウェブサイトでご確認ください。

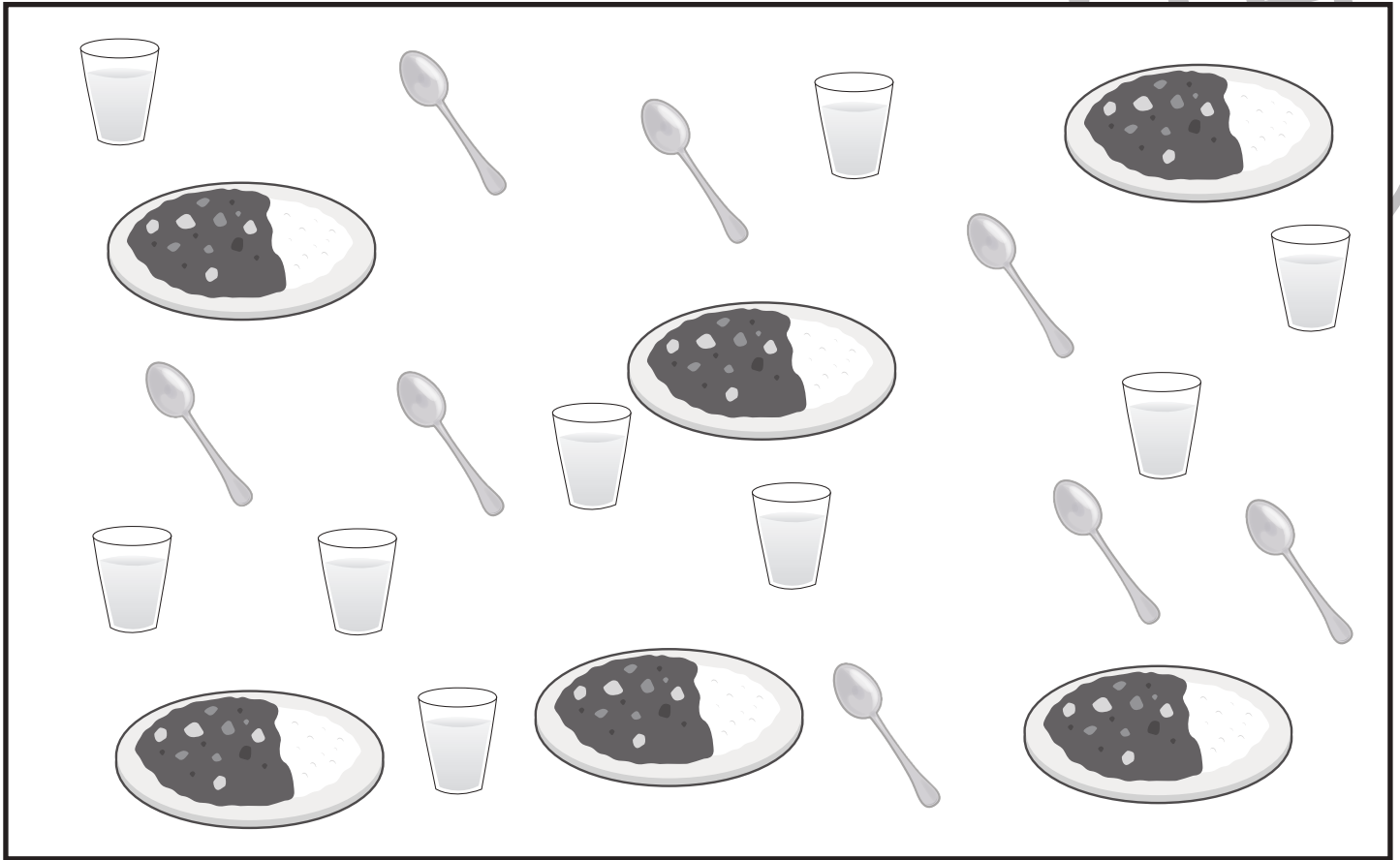


おうちで、やろう。

Study at home. 小学校受験の家庭学習教材

数量：複合1

- ①上の四角の中には「カレーライス」「スプーン」「コップ」があります。この3つを1つずつセットにて1人分にします。四角の中には何人分あるのかを考えてその数だけ〇をかきます。
- ②四角の中の「カレーライス」「スプーン」「コップ」を1人分でセットにしたとき、それぞれ余る数はいくつですか。余る数だけ、それぞれの絵の右に〇をかきます。



①

〇×6

②



〇×2



〇×3

※1. このプリントは、しながわ・目黒こどもスクールのウェブサイトでダウンロードができます。無断複写・引用はご遠慮ください。
 ※2. このプリントを活用したオンライン授業のスケジュールは、しながわ・目黒こどもスクールのウェブサイトでご確認ください。