




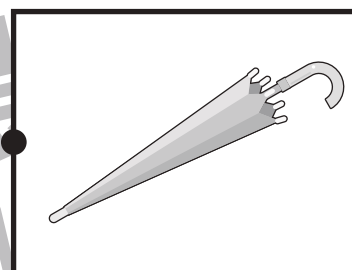
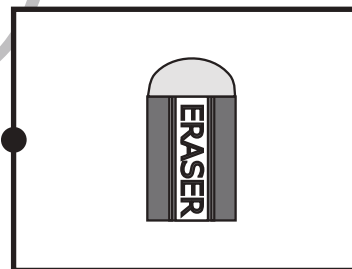


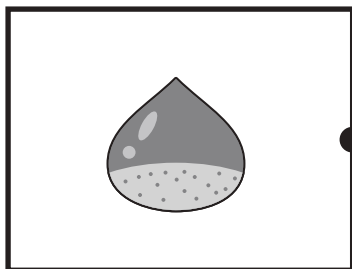





おうちで、やろう。

Study at home. 小学校受験の家庭学習教材

言語：数え方 1

左の四角の中と同じ数え方をするものを右の中から見つけて線で結びましょう。



※1. このプリントは、しながわ・目黒こどもスクールのウェブサイトでダウンロードができます。無断複写・引用はご遠慮ください。

※2. このプリントを活用したオンライン授業のスケジュールは、しながわ・目黒こどもスクールのウェブサイトでご確認ください。





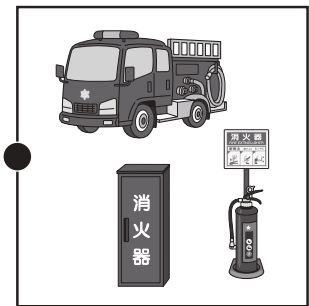

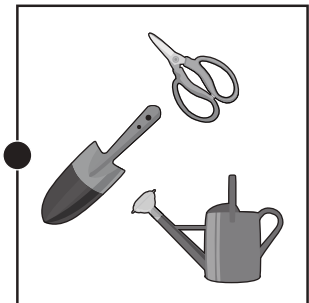

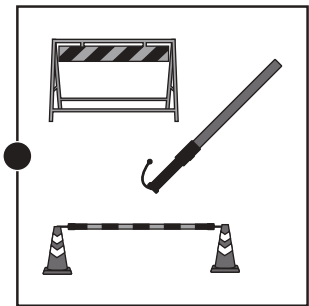

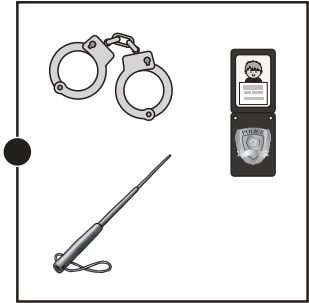



おうちで、やろう。

Study at home. 小学校受験の家庭学習教材

常識：生活1

左の人が働くときに使うものを右から見つけて点と点を線で結びます。



※1. このプリントは、しながわ・目黒こどもスクールのウェブサイトでダウンロードができます。無断複写・引用はご遠慮ください。

※2. このプリントを活用したオンライン授業のスケジュールは、しながわ・目黒こどもスクールのウェブサイトでご確認ください。






おうちで、やろう。

Study at home. 小学校受験の家庭学習教材

常識：生活2

上の人がスポーツをするときに使う道具を下から見つけて点と点を線で結びます。



※1. このプリントは、しながわ・目黒こどもスクールのウェブサイトでダウンロードができます。無断複写・引用はご遠慮ください。
※2. このプリントを活用したオンライン授業のスケジュールは、しながわ・目黒こどもスクールのウェブサイトでご確認ください。



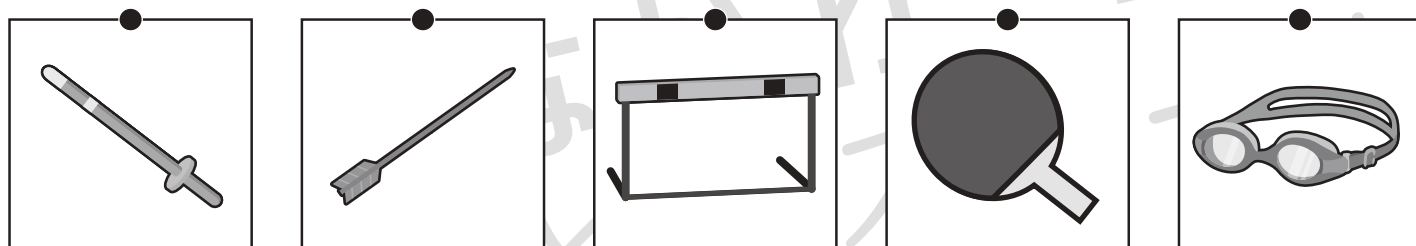



おうちで、やろう。

Study at home. 小学校受験の家庭学習教材

常識：生活3

上の人がスポーツをするときに使う道具を下から見つけて点と点を線で結びます。



※1. このプリントは、しながわ・目黒こどもスクールのウェブサイトでダウンロードができます。無断複写・引用はご遠慮ください。
※2. このプリントを活用したオンライン授業のスケジュールは、しながわ・目黒こどもスクールのウェブサイトでご確認ください。


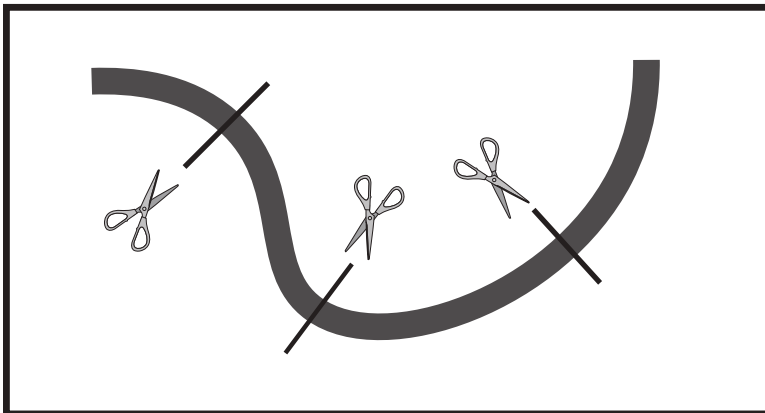
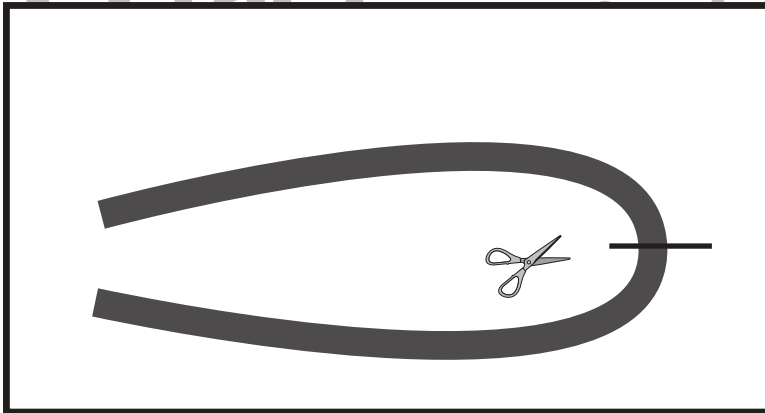

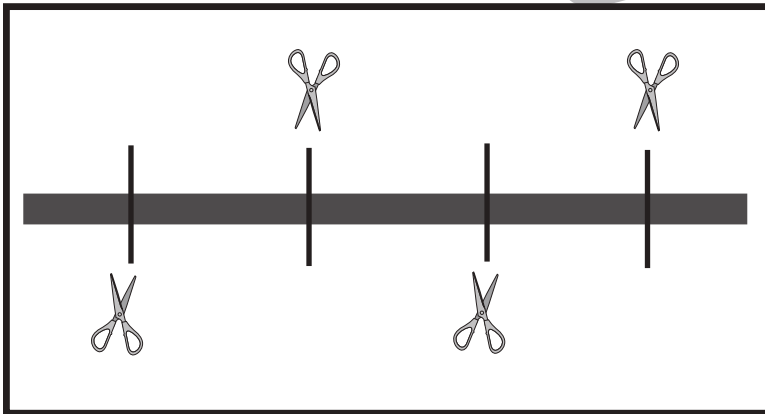

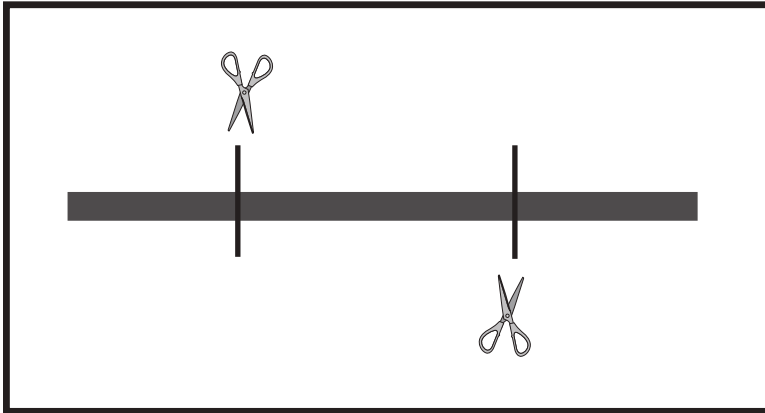


おうちで、やろう。

Study at home. 小学校受験の家庭学習教材

推理：紐の数1

左の四角の中のひもをはさみのところで切るとひもは何本になるかを考えます。その本数だけ右の四角に○をかきます。



※1. このプリントは、しながわ・目黒こどもスクールのウェブサイトからダウンロードできます。無断複写・引用はご遠慮ください。
※2. このプリントを活用したオンライン授業のスケジュールは、しながわ・目黒こどもスクールのウェブサイトでご確認ください。


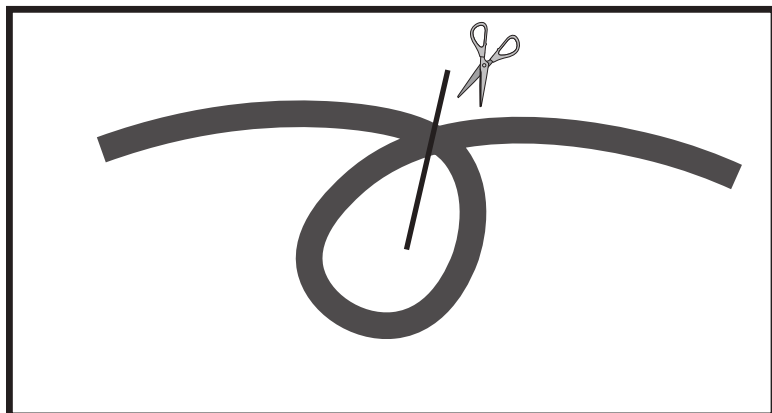



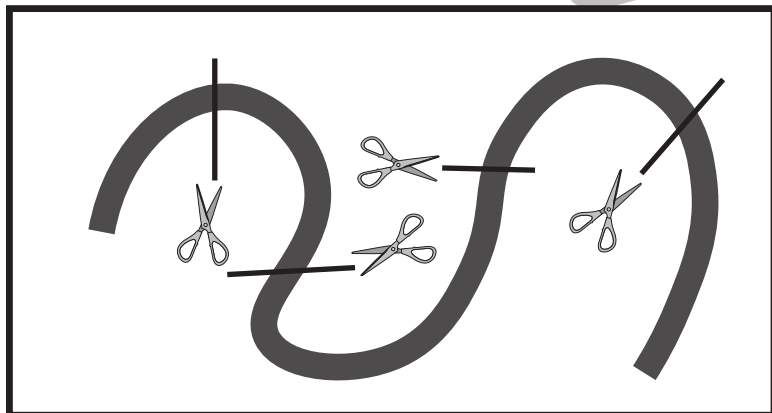

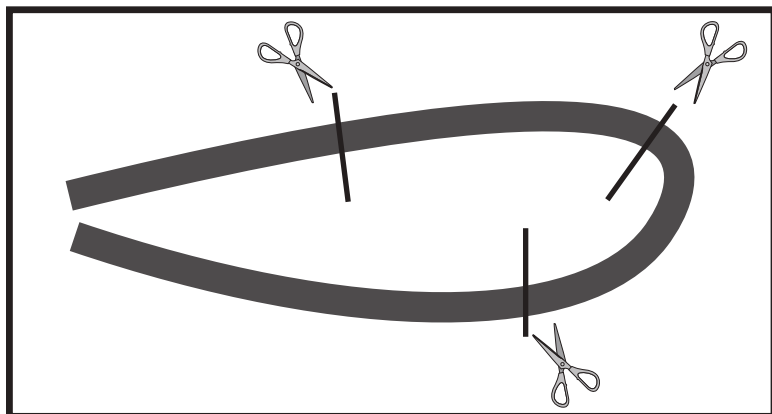


おうちで、やろう。

Study at home. 小学校受験の家庭学習教材

推理：紐の数2

左の四角の中のひもをはさみのところで切るとひもは何本になるかを考えます。その本数だけ右の四角に○をかきます。



※1. このプリントは、しながわ・目黒こどもスクールのウェブサイトでダウンロードができます。無断複写・引用はご遠慮ください。

※2. このプリントを活用したオンライン授業のスケジュールは、しながわ・目黒こどもスクールのウェブサイトでご確認ください。





おうちで、やろう。

Study at home. 小学校受験の家庭学習教材

数量：隠れた数1

矢印の左にあるりんごをいくつか袋の中に隠すと、矢印の右のようになります。袋の中に入っているりんごはいくつですか。その数だけ右の四角に○を描きます。

--	--

--	--

--	--

--	--

--	--

※1. このプリントは、しながわ・目黒こどもスクールのウェブサイトでダウンロードができます。無断複写・引用はご遠慮ください。
 ※2. このプリントを活用したオンライン授業のスケジュールは、しながわ・目黒こどもスクールのウェブサイトでご確認ください。



おうちで、やろう。

Study at home. 小学校受験の家庭学習教材

数量：隠れた数2

矢印の左にあるクッキーをいくつか袋の中に隠すと、矢印の右ようになります。袋の中に入っているクッキーはいくつですか。その数だけ右の四角に○を描きます。

--	--

--	--

--	--

--	--

--	--

※1. このプリントは、しながわ・目黒こどもスクールのウェブサイトでダウンロードができます。無断複写・引用はご遠慮ください。

※2. このプリントを活用したオンライン授業のスケジュールは、しながわ・目黒こどもスクールのウェブサイトでご確認ください。



おうちで、やろう。

Study at home. 小学校受験の家庭学習教材

数量：隠れた数3

矢印の左にある果物のいくつか袋の中に隠すと、矢印の右ようになります。袋の中に入っている果物はそれぞれいくつですか。その数だけ右の四角に○を描きます。

	→		

	→		

	→		

	→		

	→		

※1. このプリントは、しながわ・目黒こどもスクールのウェブサイトダウンロードができます。無断複写・引用はご遠慮ください。

※2. このプリントを活用したオンライン授業のスケジュールは、しながわ・目黒こどもスクールのウェブサイトでご確認ください。



おうちで、やろう。

Study at home. 小学校受験の家庭学習教材

数量：隠れた数4

矢印の左にある野菜のいくつか袋の中に隠すと、矢印の右ようになります。袋の中に入っている野菜はそれぞれいくつですか。その数だけ右の四角に○を描きます。

	→		

	→		

	→		

	→		

	→		

※1. このプリントは、しながわ・目黒こどもスクールのウェブサイトからダウンロードできます。無断複写・引用はご遠慮ください。

※2. このプリントを活用したオンライン授業のスケジュールは、しながわ・目黒こどもスクールのウェブサイトでご確認ください。