





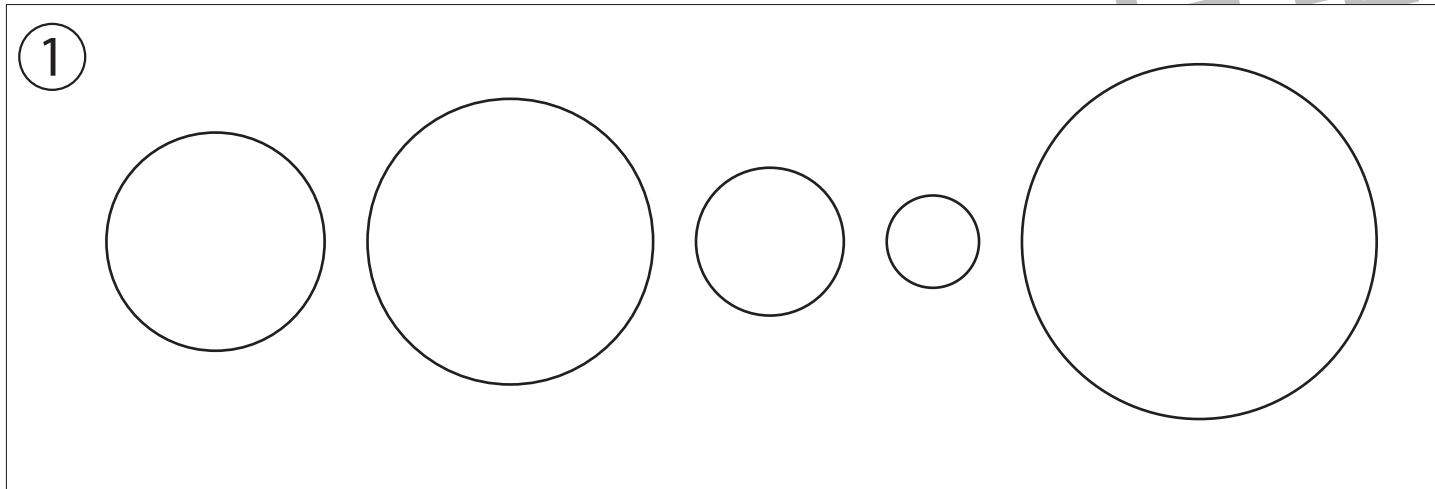
# おうちで、やろう。

Study at home. 小学校受験の家庭学習教材

## 指示の聞き取り 1

それぞれのお話通りになるように色を塗ったり、記号をかきます。問題は1度しか読みませんのでしっかり聞きましょう。

- ① 2番目に大きい○を青色のクーピーで塗り、2番目に小さい○を緑色のクーピーで塗ります。
- ② 四角の中に○を、四角の左に×を、四角の右に△を鉛筆でかきます。
- ③ 同じ大きさの○を横に並べて5つ黒のクーピーでかきます。左端と右端と真ん中の3つの○を黒く塗ります。



※1. このプリントは、しながわ・目黒こどもスクールのウェブサイトからダウンロードできます。無断複写・引用はご遠慮ください。  
※2. このプリントを活用したオンライン授業のスケジュールは、しながわ・目黒こどもスクールのウェブサイトでご確認ください。



# おうちで、やろう。

Study at home. 小学校受験の家庭学習教材

## 指示の聞き取り2（問題文）

※別紙問題プリントを用意し、1問ずつとりくみましょう。

①動物たちがマスを移動していきます。それぞれの動物が動いたマスに印をつけます。

【ゾウ】左に1マス移動します。その場所に青のクーピーで○をかきます。

【ウサギ】上へ4マス移動します。その場所に青のクーピーで×をかきます。

【ライオン】左へ2マス、下へ2マス移動します。その場所に青のクーピーで△をかきます。

【クマ】下へ4マス、右へ5マス移動します。その場所に青のクーピーで□をかきます。

【キリン】右へ2マス、上へ1マス、左へ4マス移動します。その場所に緑のクーピーで◎をかきます。

②これからお話するマスを探します。その場所にそれぞれの印をつけます。

(1)一番上の段の左端のマスに黒のクーピーで○をかきます。


(2)一番下の段の右から2番目のマスに黒のクーピーで×をかきます。

(3)上から3段目の左から5番目のマスに黒のクーピーで△をかきます。

(4)下から2段目の右から3番目のマスに黒のクーピーで□をかきます。

(5)上から4段目の左から6番のマスに黒のクーピーで◎をかきます。

※1. このプリントは、しながわ・目黒こどもスクールのウェブサイトからダウンロードができます。無断複写・引用はご遠慮ください。  
※2. このプリントを活用したオンライン授業のスケジュールは、しながわ・目黒こどもスクールのウェブサイトでご確認ください。










# おうちで、やろう。

Study at home. 小学校受験の家庭学習教材

## 指示の聞き取り2

別紙【指示の聞き取り2(問題文)】を使用します。

①

②


※1. このプリントは、しながわ・目黒こどもスクールのウェブサイトでダウンロードができます。無断複写・引用はご遠慮ください。

※2. このプリントを活用したオンライン授業のスケジュールは、しながわ・目黒こどもスクールのウェブサイトでご確認ください。

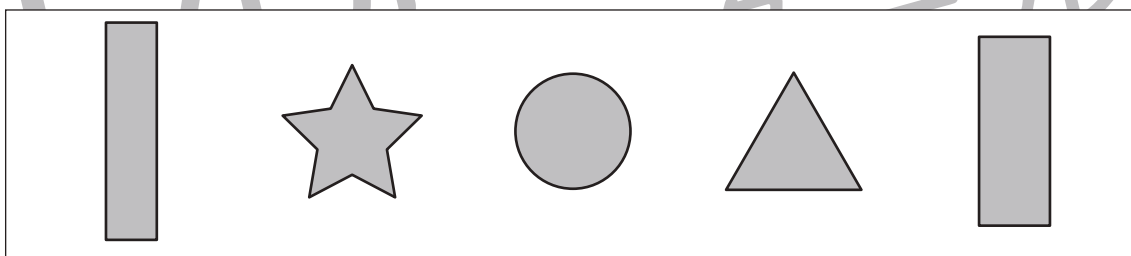
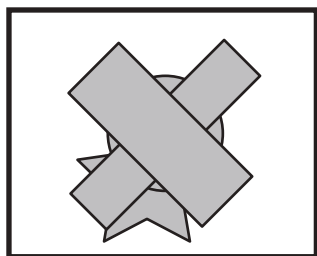
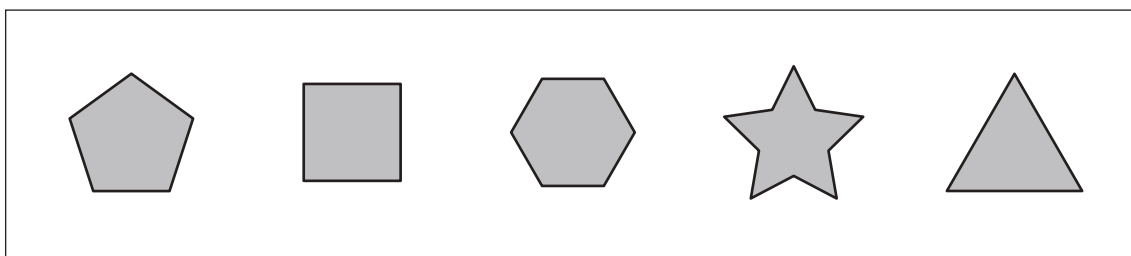
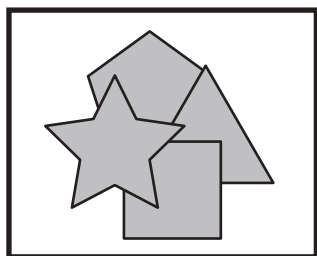
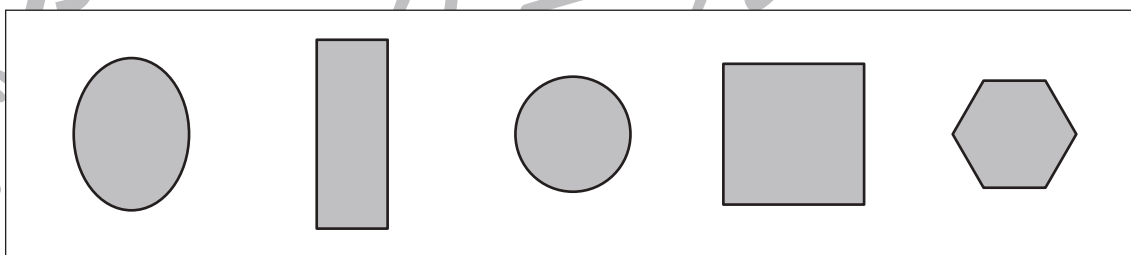
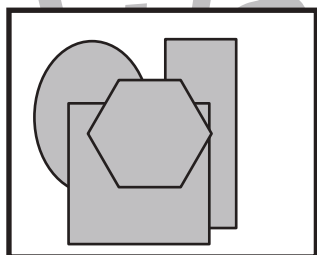
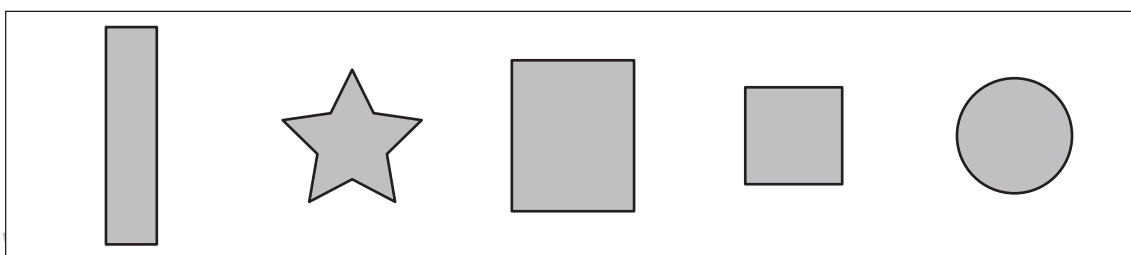
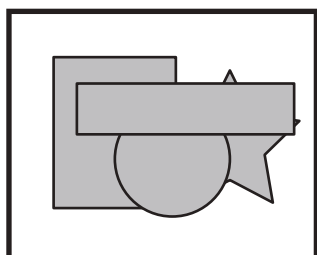
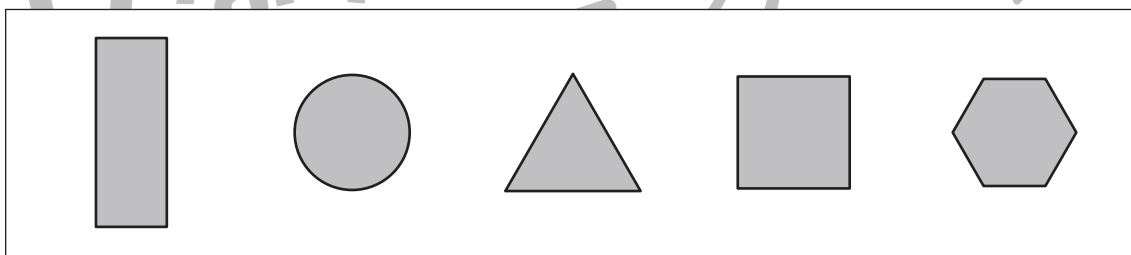
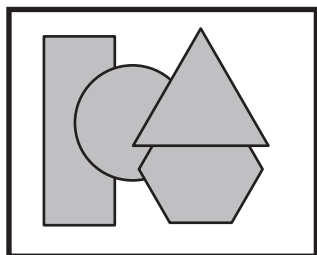
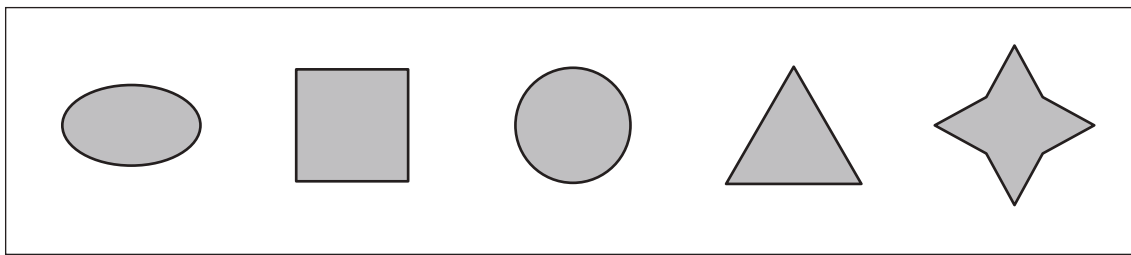
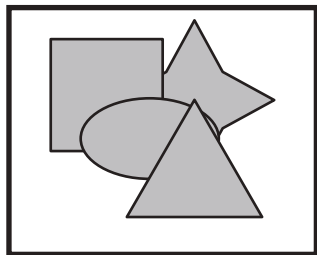


# おうちで、やろう。

Study at home. 小学校受験の家庭学習教材

## 図形：重なり 1

左の太い四角の中はいくつかの形が重なったものです。左の四角の中にある形を右の四角の中から見つけて × をつけます。



※1. このプリントは、しながわ・目黒こどもスクールのウェブサイトでダウンロードができます。無断複写・引用はご遠慮ください。  
※2. このプリントを活用したオンライン授業のスケジュールは、しながわ・目黒こどもスクールのウェブサイトでご確認ください。

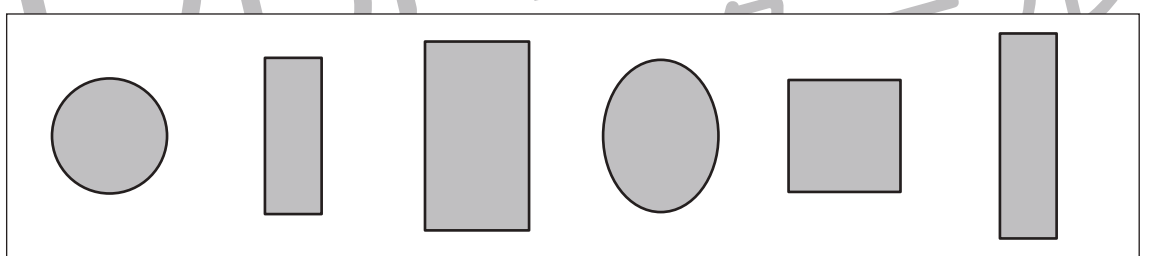
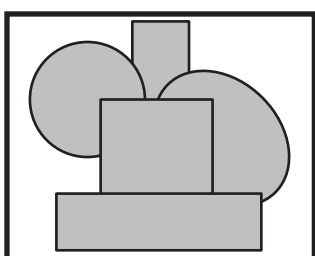
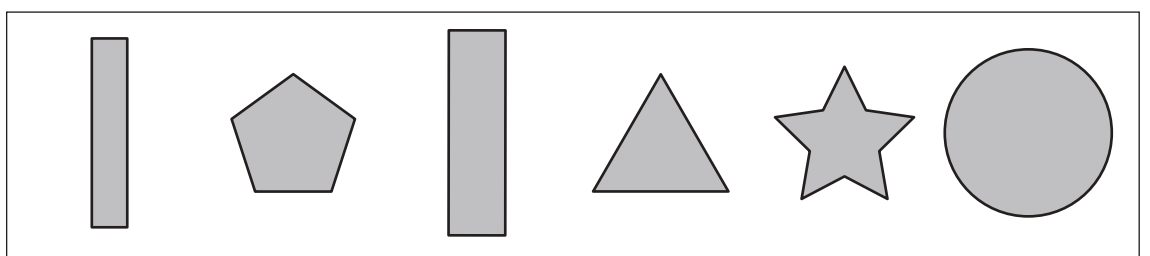
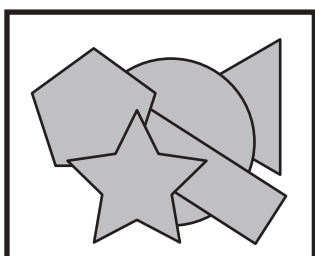
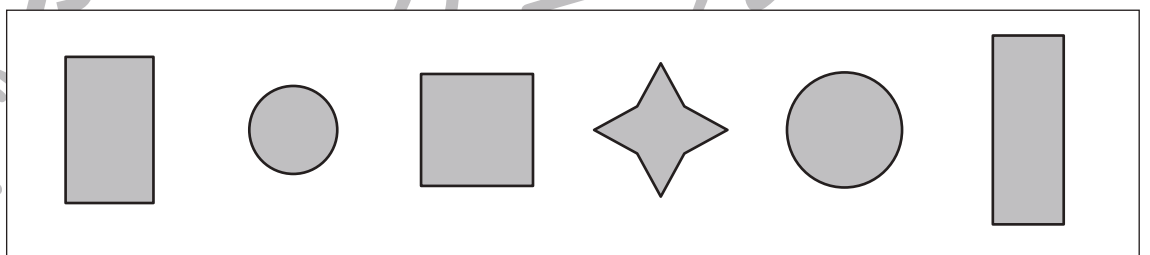
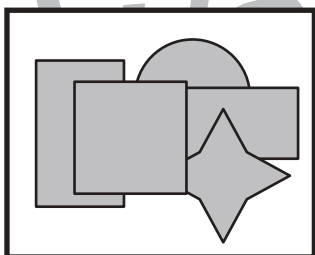
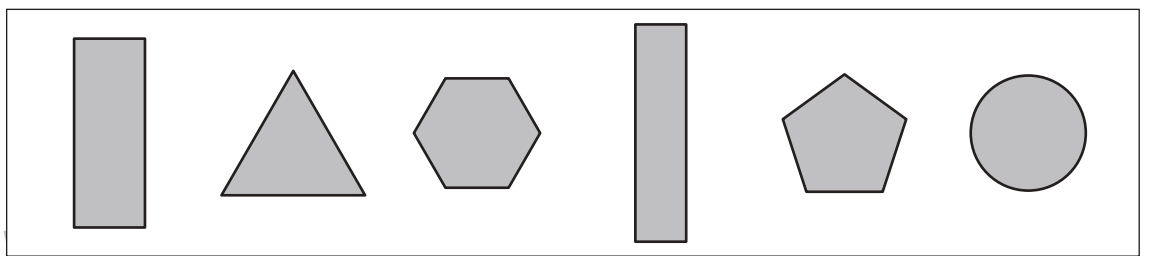
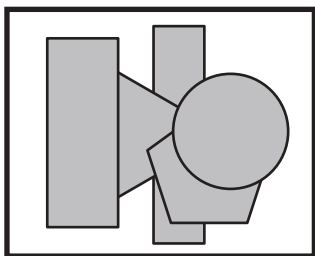
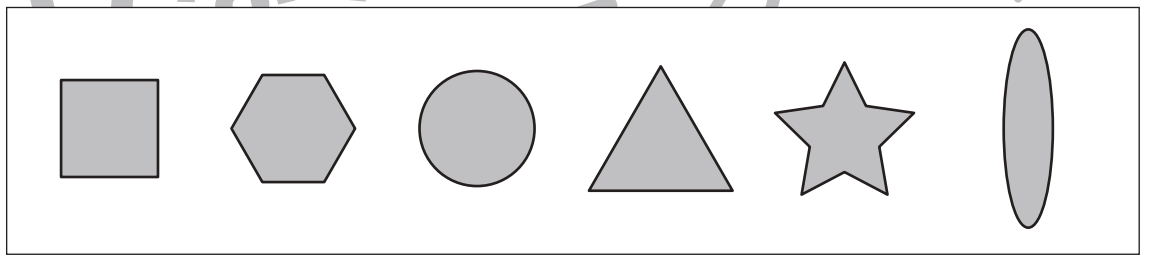
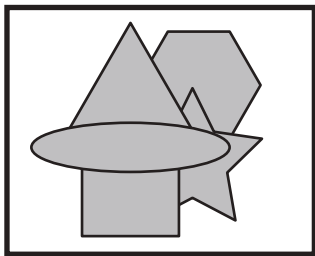
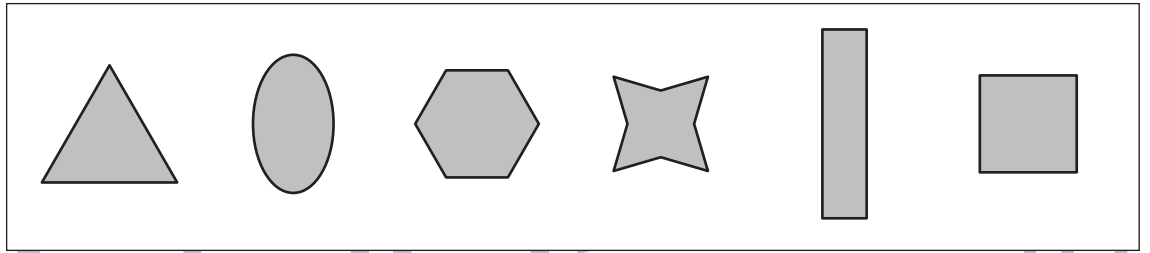
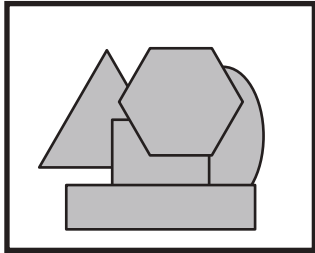


# おうちで、やろう。

Study at home. 小学校受験の家庭学習教材

## 図形：重なり2

左の太い四角の中はいくつかの形が重なったものです。左の四角の中にない形を右の四角の中から見つけて×をつけます。



※1. このプリントは、しながわ・目黒こどもスクールのウェブサイトでダウンロードができます。無断複写・引用はご遠慮ください。  
※2. このプリントを活用したオンライン授業のスケジュールは、しながわ・目黒こどもスクールのウェブサイトでご確認ください。






# おうちで、やろう。


Study at home. 小学校受験の家庭学習教材

数量：サイコロ6


星から上のサイコロの目の数だけマスを進んでいき、最後に着いた場所に○があります。この時、一番最後のサイコロの目を考えてかきます。サイコロは左から右へ順番通りに進みます。




							
---	--	--	--	--	--	--	--


							
--	---	--	--	--	--	--	--



							
---	--	--	--	--	--	--	--

							
--	---	--	--	--	--	--	--



							
---	--	--	--	--	--	--	--

							
---	--	--	--	--	--	--	--

※1. このプリントは、しながわ・目黒こどもスクールのウェブサイトでダウンロードができます。無断複写・引用はご遠慮ください。

※2. このプリントを活用したオンライン授業のスケジュールは、しながわ・目黒こどもスクールのウェブサイトでご確認ください。

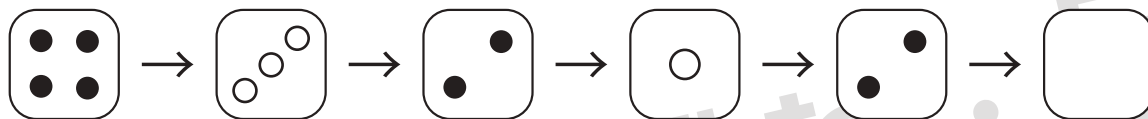


# おうちで、やろう。

Study at home. 小学校受験の家庭学習教材

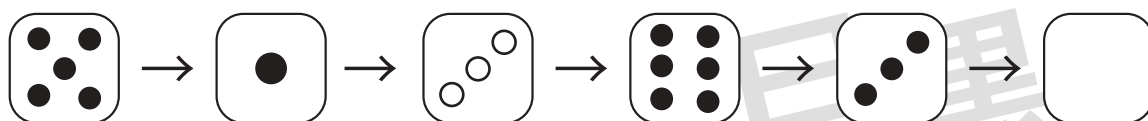
数量：サイコロ7

星から上のサイコロの目の数だけマスを進んでいき、最後に着いた場所に○があります。この時、一番最後のサイコロの目を考えてかきます。サイコロは左から右へ順番通りに進み、黒い目のサイコロはその数だけ進み、白い目のサイコロはその数だけ戻る約束です。



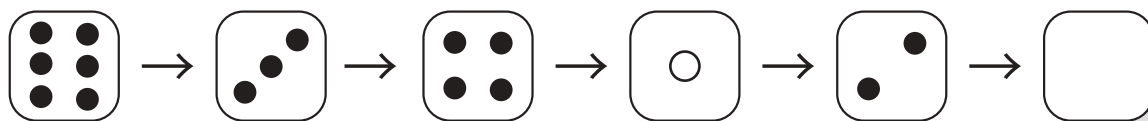
★							
---	--	--	--	--	--	--	--

						○	
--	--	--	--	--	--	---	--



★							
---	--	--	--	--	--	--	--

						○	
--	--	--	--	--	--	---	--



★							
---	--	--	--	--	--	--	--

						○	
--	--	--	--	--	--	---	--

※1. このプリントは、しながわ・目黒こどもスクールのウェブサイトでダウンロードができます。無断複写・引用はご遠慮ください。

※2. このプリントを活用したオンライン授業のスケジュールは、しながわ・目黒こどもスクールのウェブサイトでご確認ください。












# おうちで、やろう。

Study at home. 小学校受験の家庭学習教材

数量：足の数1

左の四角の中には生き物がいます。この生き物の足の数を合わせるといくつになりますか。  
その数だけ右の四角の中に○をかきます。



※1. このプリントは、しながわ・目黒こどもスクールのウェブサイトからダウンロードできます。無断複写・引用はご遠慮ください。  
※2. このプリントを活用したオンライン授業のスケジュールは、しながわ・目黒こどもスクールのウェブサイトでご確認ください。















# おうちで、やろう。

Study at home. 小学校受験の家庭学習教材

数量：足の数 2

左の四角の中には生き物がいます。この生き物の足の数を合わせるといくつになりますか。  
その数だけ右の四角の中に○をかきます。



※1. このプリントは、しながわ・目黒こどもスクールのウェブサイトでダウンロードができます。無断複写・引用はご遠慮ください。  
※2. このプリントを活用したオンライン授業のスケジュールは、しながわ・目黒こどもスクールのウェブサイトでご確認ください。





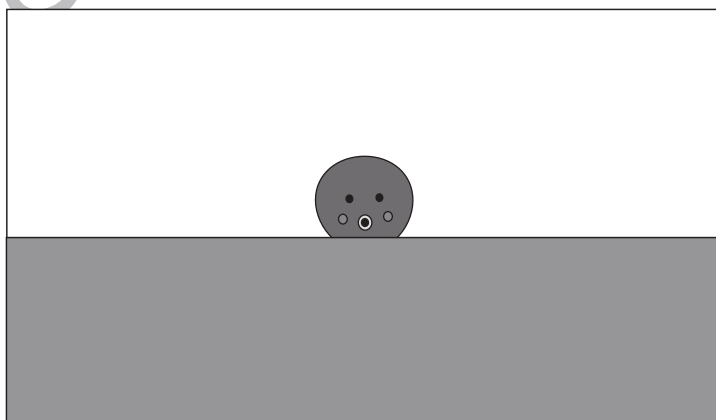





# おうちで、やろう。

Study at home. 小学校受験の家庭学習教材

数量：足の数3

それぞれの四角の中の足の数を合わせるといくつになりますか。  
合わせた足の数が7よりも多い四角に○をつけます。



※1. このプリントは、しながわ・目黒こどもスクールのウェブサイトでダウンロードができます。無断複写・引用はご遠慮ください。  
※2. このプリントを活用したオンライン授業のスケジュールは、しながわ・目黒こどもスクールのウェブサイトでご確認ください。




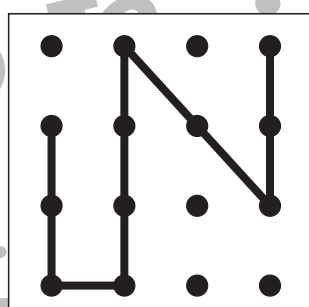

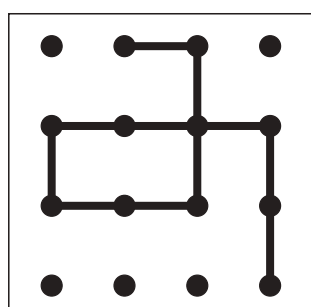

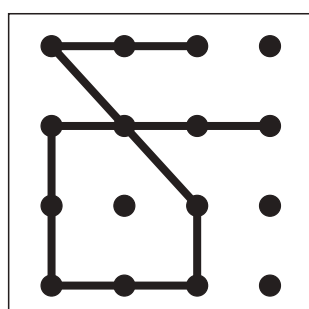

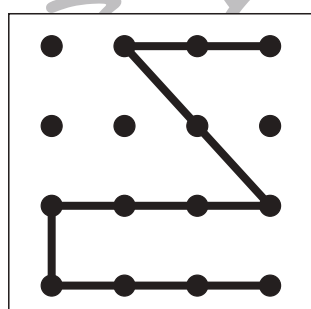

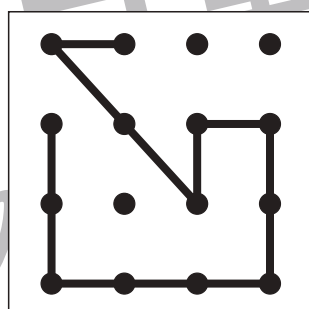

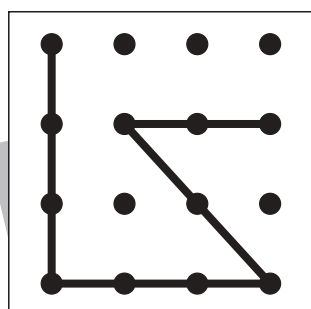

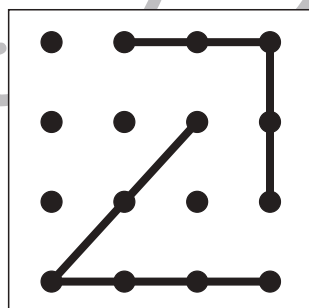

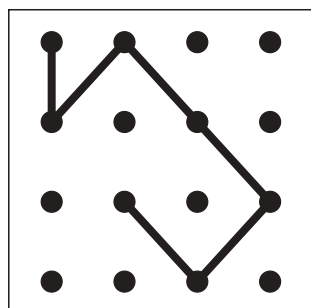

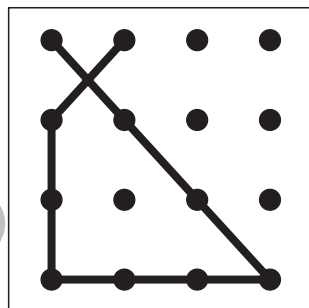

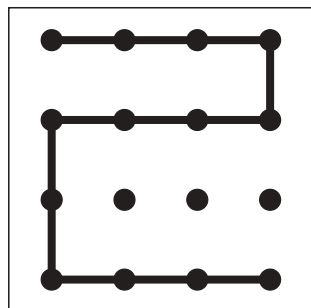


# おうちで、やろう。

Study at home. 小学校受験の家庭学習教材

図形：点図形 10

左のお手本と同じになるように右の四角に線をかきます。 ※このプリントに解答はありません。



※1. このプリントは、しながわ・目黒こどもスクールのウェブサイトでダウンロードができます。無断複写・引用はご遠慮ください。  
※2. このプリントを活用したオンライン授業のスケジュールは、しながわ・目黒こどもスクールのウェブサイトでご確認ください。