



おうちで、やろう。



Study at home. 小学校受験の家庭学習教材

記憶：絵の記憶2 記憶用紙

別紙『記憶 - 絵の記憶2』を行う際に使用します。記憶用紙は真ん中の点線で半分に折り、①、②の問題の際にそれぞれ20秒間ずつ記憶させてください。記憶する際は問題用紙は裏返しにします。記憶後①、②それぞれの問題に答えましょう。

①数が一番多いものに○をつけます。 ②数が違うものに○をつけます。

※1月8日(金)のオンライン授業では実施中に記憶する絵を画面で表示します。



※1. このプリントは、しながわ・目黒こどもスクールのウェブサイトからダウンロードできます。無断複写・引用はご遠慮ください。

※2. このプリントを活用したオンライン授業のスケジュールは、しながわ・目黒こどもスクールのウェブサイトでご確認ください。





おうちで、やろう。

Study at home. 小学校受験の家庭学習教材



記憶：絵の記憶2

別紙『記憶 - 絵の記憶2記憶用紙』を使用します。記憶用紙の絵を見た後に①、②の問題に取り組みましょう。

①



②








おうちで、やろう。

Study at home. 小学校受験の家庭学習教材

指示の聞き取り3

それぞれのお話通りに印をつけます。問題は1度しか読みませんのでしっかり聞きましょう。

- ①左から3番目の子に○、真ん中の子に×をつけます。
- ②女の子だけ数えて右から3番目の子に○をつけます。
- ③-1 めがねをかけていない手を広げている男の子に○をつけます。
③-2 髪の毛を耳の上で2つ結んでいる女の子に×をつけます。



※1. このプリントは、しながわ・目黒こどもスクールのウェブサイトダウンロードができます。無断複写・引用はご遠慮ください。
※2. このプリントを活用したオンライン授業のスケジュールは、しながわ・目黒こどもスクールのウェブサイトでご確認ください。



おうちで、やろう。

Study at home. 小学校受験の家庭学習教材

図形：反転1

左の見本は透明な板にかかれた模様です。この板を上の方の矢印の方向へくると裏返しにした時の見え方を考えて右にかきます。

※1. このプリントは、しながわ・目黒こどもスクールのウェブサイトでダウンロードができます。無断複写・引用はご遠慮ください。
 ※2. このプリントを活用したオンライン授業のスケジュールは、しながわ・目黒こどもスクールのウェブサイトでご確認ください。



おうちで、よろう。

Study at home. 小学校受験の家庭学習教材

図形：反転2

左の見本は透明な板にかかれた模様です。この板を上への矢印の方向へくると裏返しにした時の見え方を考えて右にかきます。

※1. このプリントは、しながわ・目黒こどもスクールのウェブサイトでダウンロードができます。無断複写・引用はご遠慮ください。
 ※2. このプリントを活用したオンライン授業のスケジュールは、しながわ・目黒こどもスクールのウェブサイトでご確認ください。



おうちで、よろう。

Study at home. 小学校受験の家庭学習教材

図形：反転 3

左の見本は透明な板にかかれた模様です。この板を上への矢印の方向へくると裏返しにした時の見え方を考えて右にかきます。

※1. このプリントは、しながわ・目黒こどもスクールのウェブサイトでダウンロードができます。無断複写・引用はご遠慮ください。
 ※2. このプリントを活用したオンライン授業のスケジュールは、しながわ・目黒こどもスクールのウェブサイトでご確認ください。



おうちで、やろう。

Study at home. 小学校受験の家庭学習教材

数量：加減5

①～④の問題をよく聞いて、答えの数だけ右の四角に○をかきます。


①けんたくんはハンバーガーを5個買いました。そのうち、3個食べました残ったハンバーガーの数だけ○をかきます。

②まきさんはフランクフルトを4本持っています。そのうち2本食べました。その後、お父さんが1本くれました。持っているフランクフルトの数だけ○をかきます。


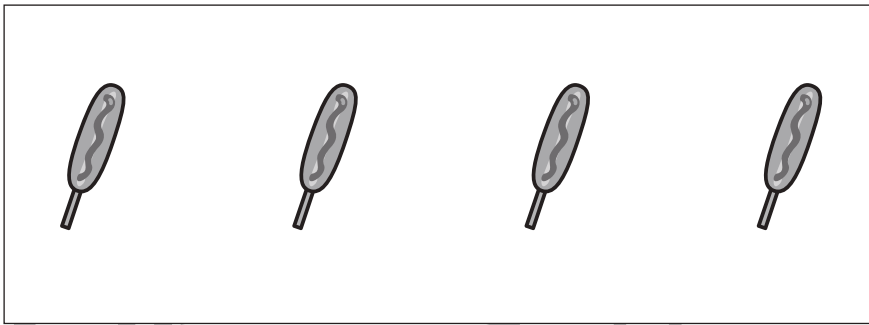
③かんとくんは大きなピザを8枚に分けました。かんとくんが2枚、お母さんが1枚、お父さんが2枚食べました。残ったピザの枚数だけ○をかきます。

④みきさんはお弁当のおにぎりを3つ作りしました。その後、お母さんとお父さんに2つつ作りしました。みきさんが作ったおにぎりは全部でいくつですか。その数だけ○をかきます。

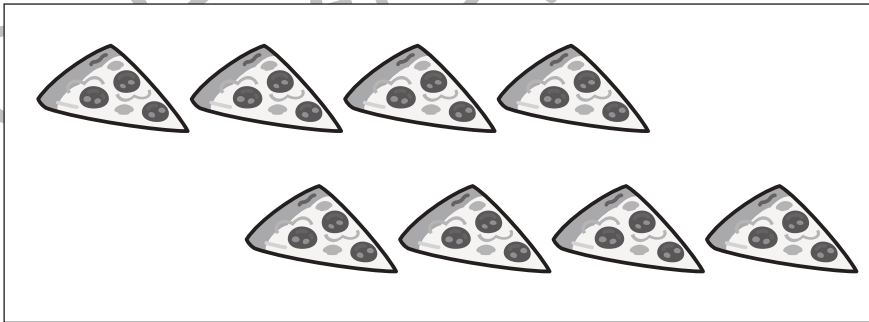
①



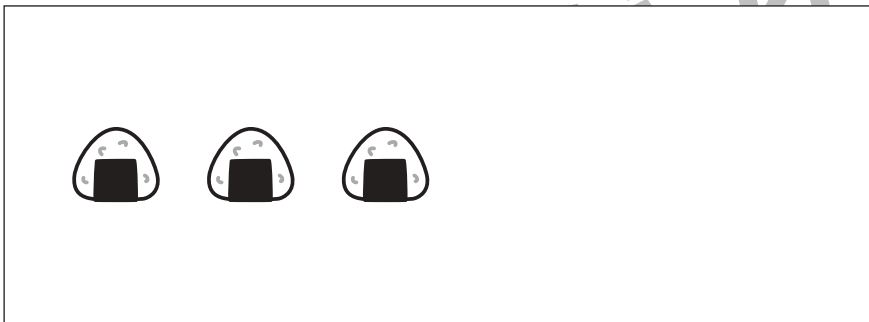
②



③



④



※1. このプリントは、しながわ・目黒こどもスクールのウェブサイトでダウンロードができます。無断複写・引用はご遠慮ください。

※2. このプリントを活用したオンライン授業のスケジュールは、しながわ・目黒こどもスクールのウェブサイトでご確認ください。





おうちで、やろう。

Study at home. 小学校受験の家庭学習教材

数量：加減6

①～④の問題をよく聞いて、答えの数だけ右の四角に○をかきます。



①ことみさんはケーキを4つ買いました。ことみさん、お母さん、お父さんで1つずつ食べました。残ったケーキの数だけ○をかきます。

②お店にお団子が9本売っています。お客さんが5本買ってくれたのでお店の人が2本増やしました。お店のお団子の数だけ○をかきます。

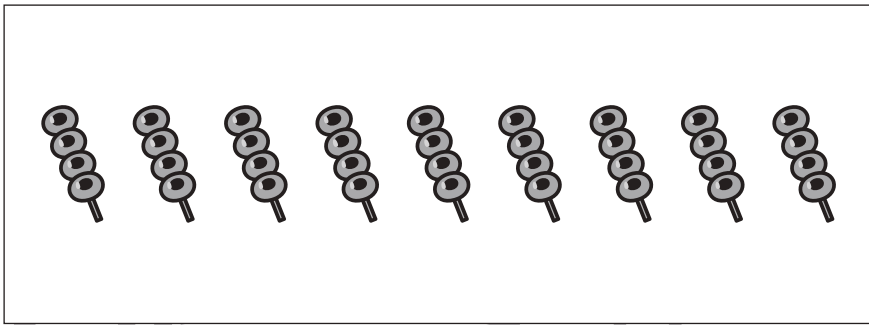
③ともみさんがドーナツを作ります。3人のお友だちに3つずつあげられるようにするにはともみさんはドーナツをいくつ作ればよいですか。その数だけ○をかきます。

④みきおくんがキャンディーの袋を1袋買ったら中にキャンディーが6個入っていました。このキャンディーの袋をもう1袋買いました。みきおくんが持っているキャンディーは全部で何個になりますか。その数だけ○をかきます。

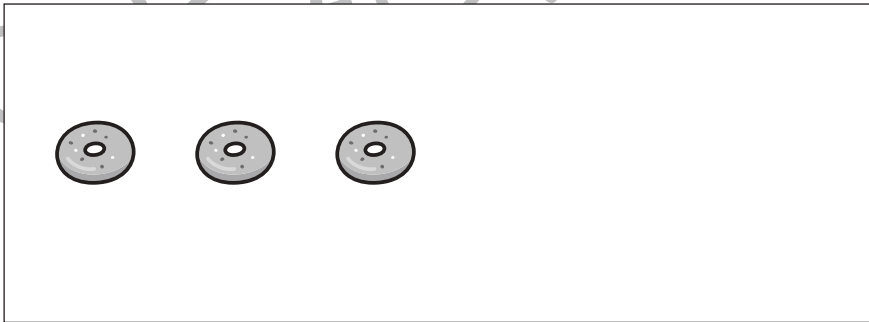
①





②



③



④



※1. このプリントは、しながわ・目黒こどもスクールのウェブサイトでダウンロードができます。無断複写・引用はご遠慮ください。

※2. このプリントを活用したオンライン授業のスケジュールは、しながわ・目黒こどもスクールのウェブサイトでご確認ください。


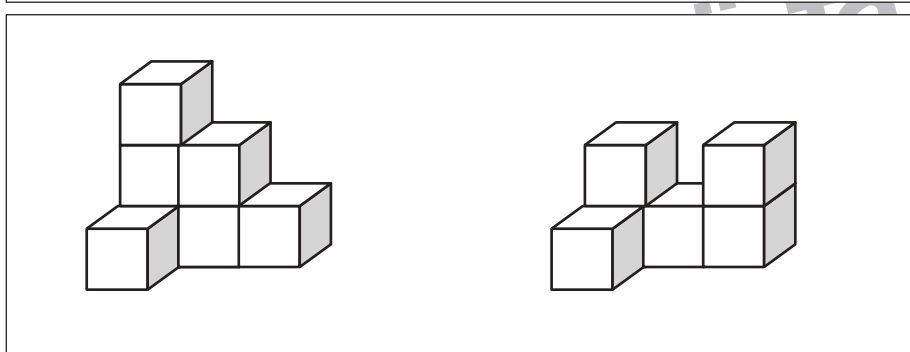

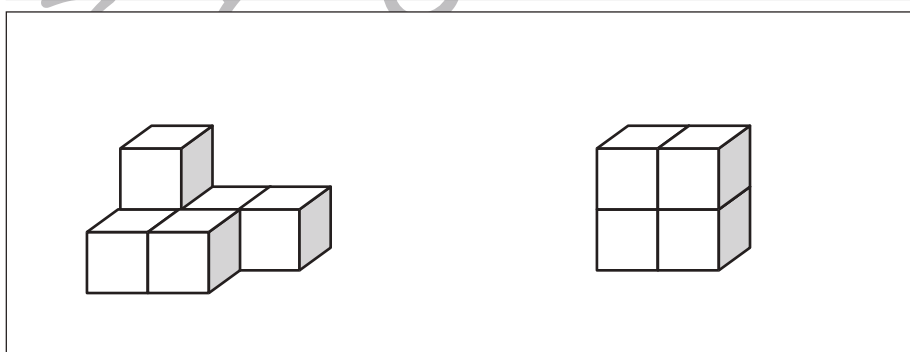

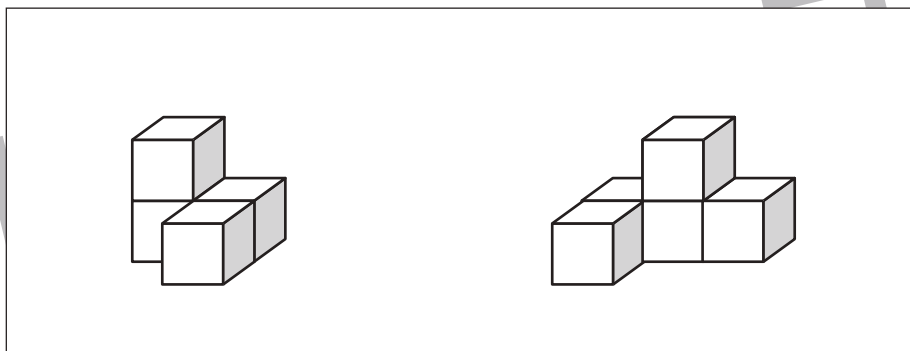

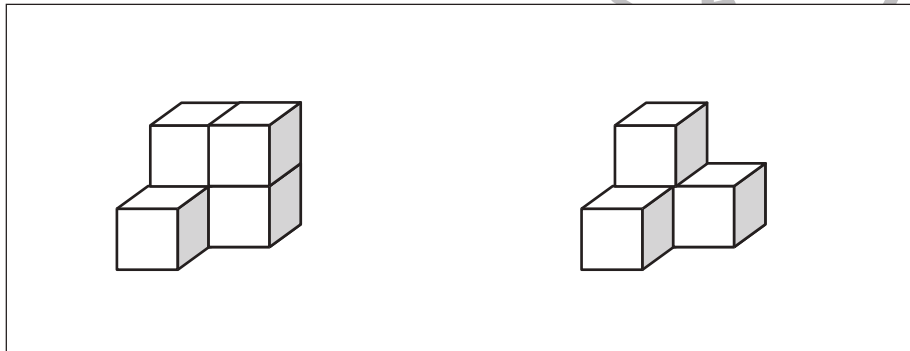

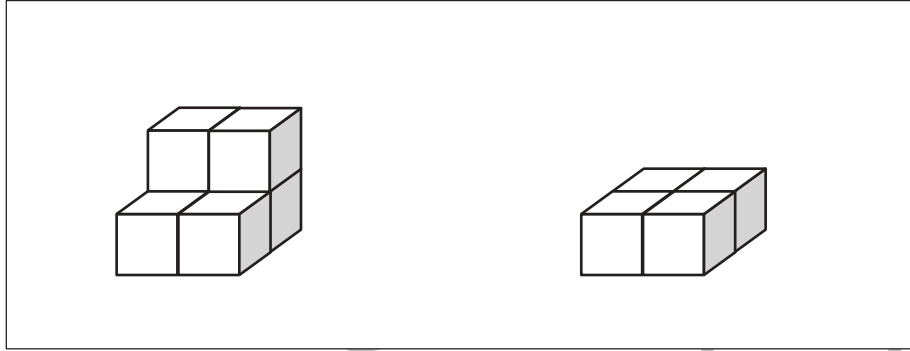


おうちで、やろう。

Study at home. 小学校受験の家庭学習教材

数量：積み木5

左の四角の中の2つの積み木の数はいくつ違いますか。その数だけ右の四角に○をかきます。



※1. このプリントは、しながわ・目黒こどもスクールのウェブサイトでダウンロードができます。無断複写・引用はご遠慮ください。
※2. このプリントを活用したオンライン授業のスケジュールは、しながわ・目黒こどもスクールのウェブサイトでご確認ください。

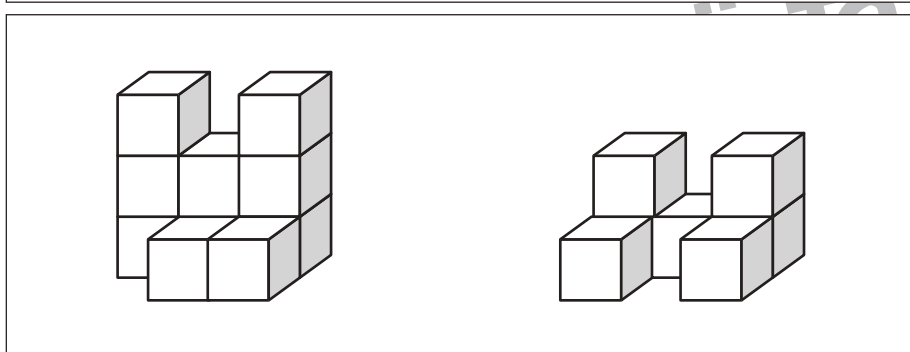
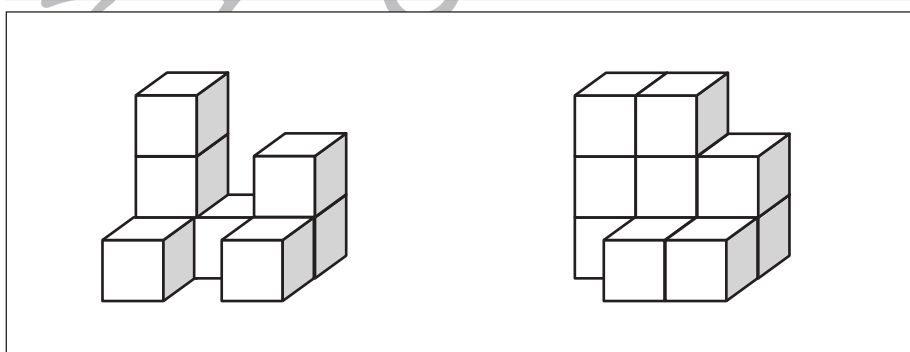

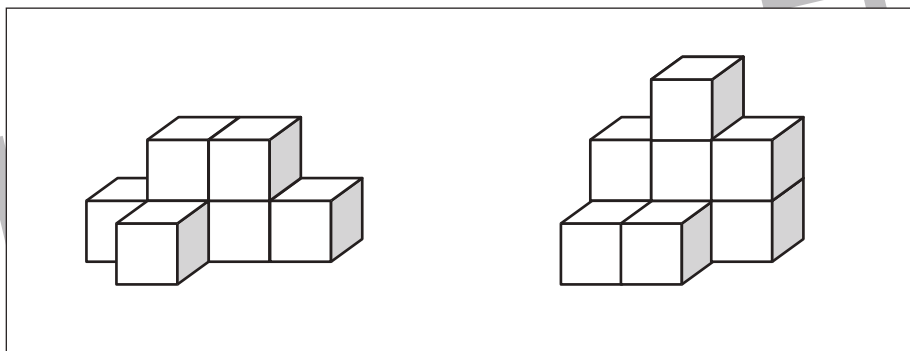

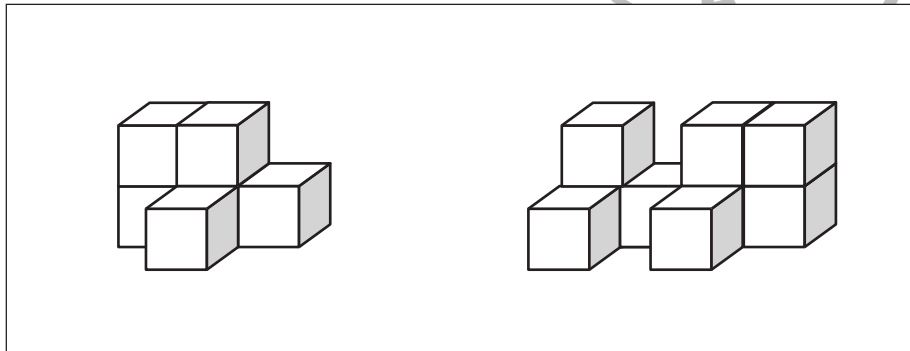

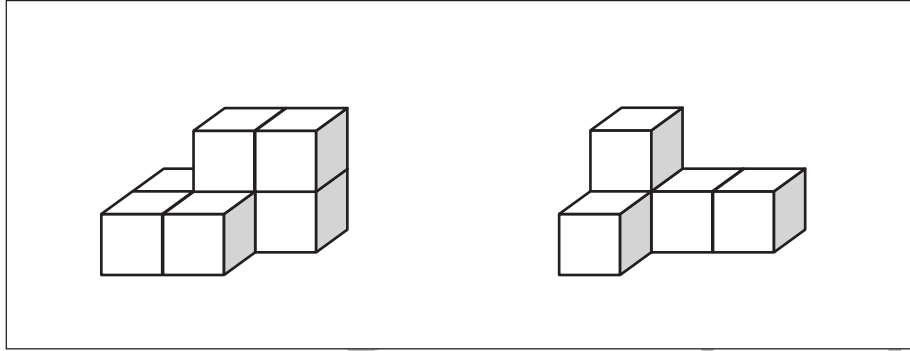


おうちで、やろう。

Study at home. 小学校受験の家庭学習教材

数量：積み木6

左の四角の中の2つの積み木の数はいくつ違いますか。その数だけ右の四角に○をかきます。



※1. このプリントは、しながわ・目黒こどもスクールのウェブサイトでダウンロードができます。無断複写・引用はご遠慮ください。
※2. このプリントを活用したオンライン授業のスケジュールは、しながわ・目黒こどもスクールのウェブサイトでご確認ください。



おうちで、やろう。

Study at home. 小学校受験の家庭学習教材

処理能力：抹消2

上の太い四角の中の絵がお手本です。下のマスの中からお手本の絵をみつけて斜め線（/）をつけていきます。お手本を見つけるときは、一番上の段の左からはじめて、右端まで見ます。1段目ができたら2段目の左から右。次に3段目の左から右と順番に印をつけていきます。この問題はできるだけ早く印をつけます。それぞれ40秒以内を目指し取り組みましょう。





※1. このプリントは、しながわ・目黒こどもスクールのウェブサイトでダウンロードができます。無断複写・引用はご遠慮ください。

※2. このプリントを活用したオンライン授業のスケジュールは、しながわ・目黒こどもスクールのウェブサイトでご確認ください。