



# おうちで、やろう。

Study at home. 小学校受験の家庭学習教材




## 指示の聞き取り4

それぞれのお話通りに印をつけます。問題は1度しか読みませんのでしっかり聞きましょう。

①左を青、右を緑、真ん中を黄色で塗ります。

②四角の中に×を、四角の右に○、四角の左に△を鉛筆でかきます。

③○を横に並べて5つ描きます。この時、一番左からだんだん大きくなるように○をかきます。



※1. このプリントは、しながわ・目黒こどもスクールのウェブサイトでダウンロードができます。無断複写・引用はご遠慮ください。

※2. このプリントを活用したオンライン授業のスケジュールは、しながわ・目黒こどもスクールのウェブサイトでご確認ください。



# おうちで、やろう。

Study at home. 小学校受験の家庭学習教材

図形：移動 10

左の四角がお手本です。このお手本の○を真ん中の太い四角の中の矢印の方向へ1マスずつ動かします。移動した後の場所を考えて、右の四角の中に○をかきます。

①

○		

↓
→
→


②

	○	

↓
→
↑


③

	○	

←
→
→


④

	○	

↑
→
←


⑤

	○	

↑
←
↑


⑥

		○

←
→
↓


⑦

○		

↓
→
↓


⑧

		○

←
↑
→


⑨

		○

↑
↑
←


⑩

	○	

→
←
↑


※1. このプリントは、しながわ・目黒こどもスクールのウェブサイトでダウンロードができます。無断複写・引用はご遠慮ください。  
※2. このプリントを活用したオンライン授業のスケジュールは、しながわ・目黒こどもスクールのウェブサイトでご確認ください。

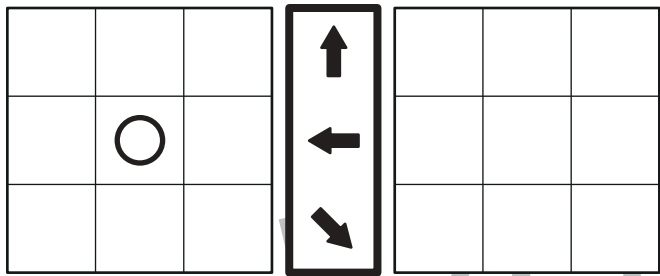


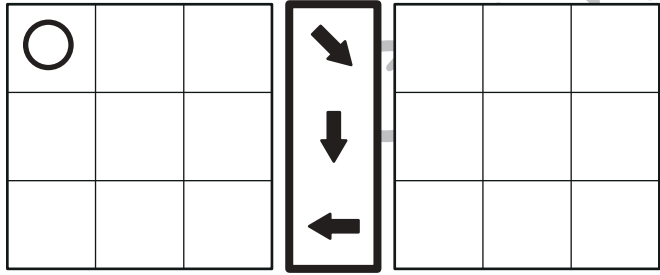
# おうちで、やろう。

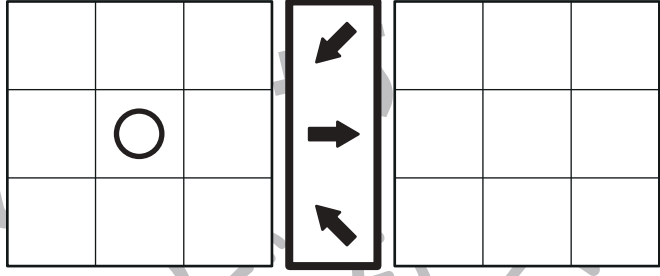
Study at home. 小学校受験の家庭学習教材

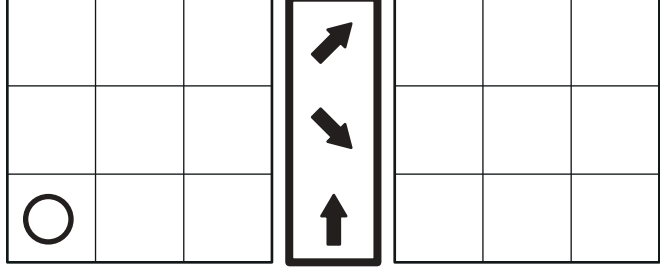
## 図形：移動 11

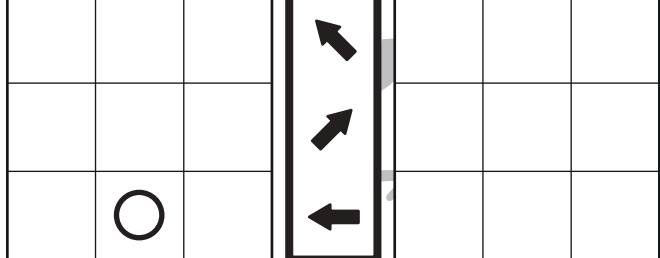
左の四角がお手本です。このお手本の○を真ん中の太い四角の中の矢印の方向へ1マスずつ動かします。移動した後の場所を考えて、右の四角の中に○をかきます。

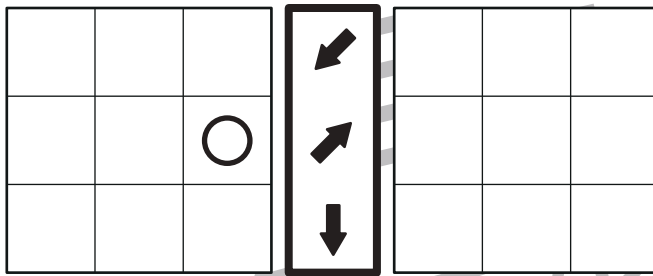
① 

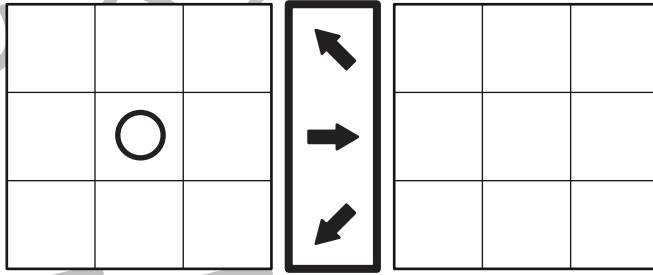
② 

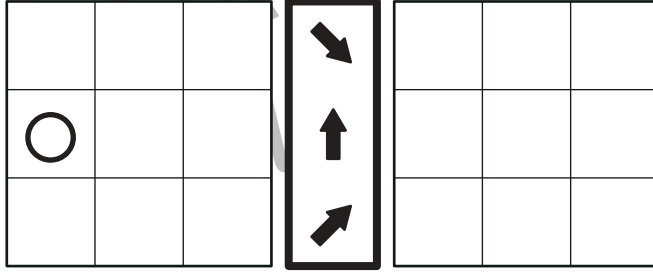
③ 

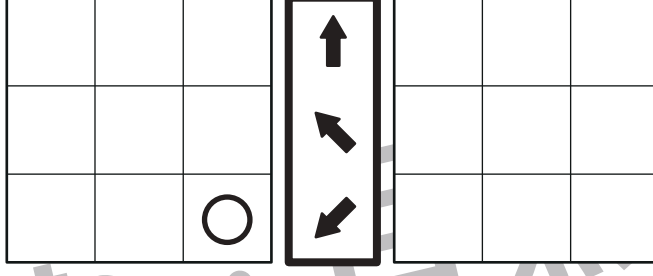
④ 

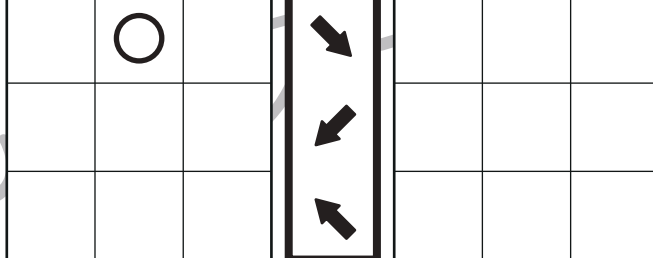
⑤ 

⑥ 

⑦ 

⑧ 

⑨ 

⑩ 

※1. このプリントは、しながわ・目黒こどもスクールのウェブサイトでダウンロードができます。無断複写・引用はご遠慮ください。  
※2. このプリントを活用したオンライン授業のスケジュールは、しながわ・目黒こどもスクールのウェブサイトでご確認ください。



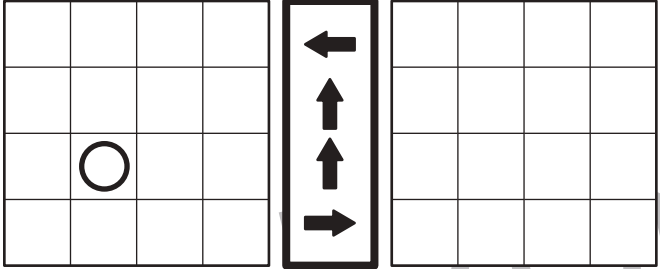
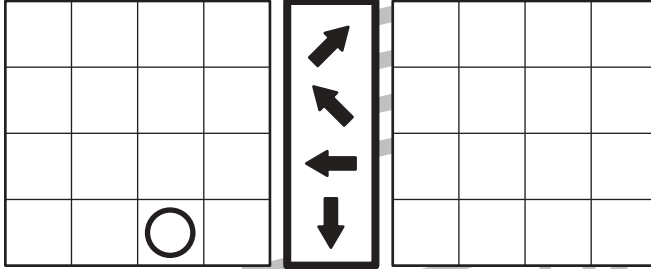


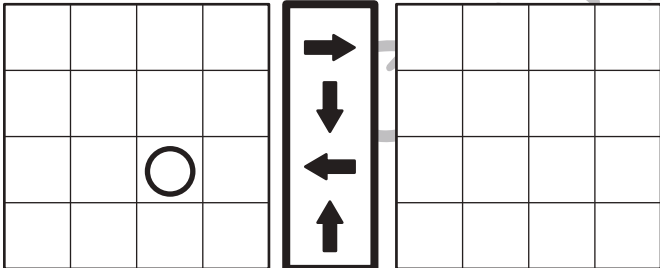
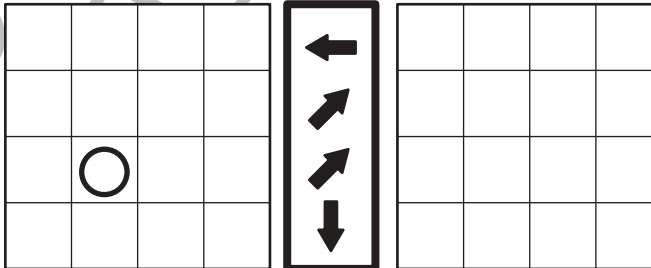
# おうちで、やろう。

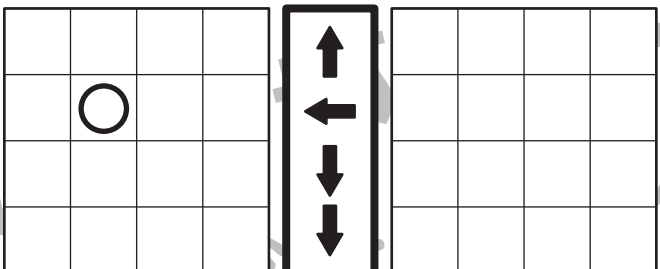
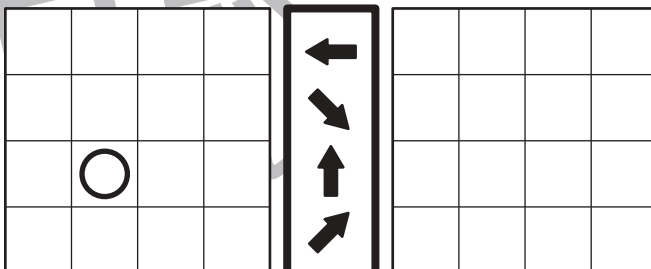
Study at home. 小学校受験の家庭学習教材

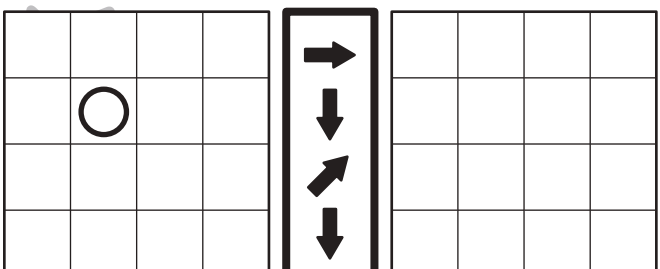
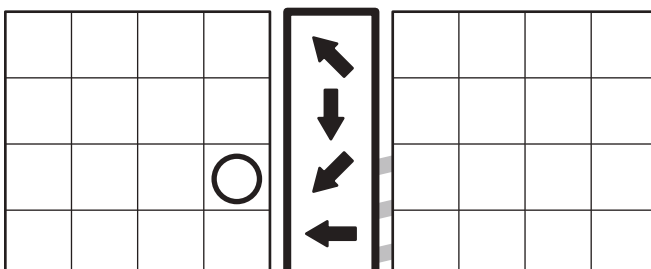
## 図形：移動 12

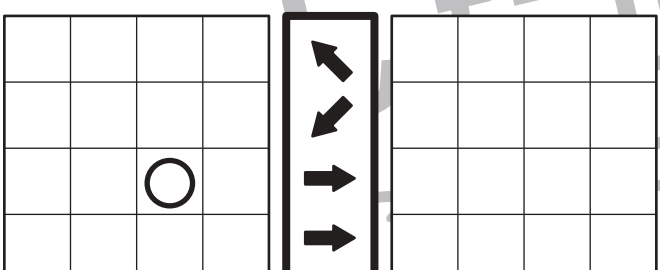
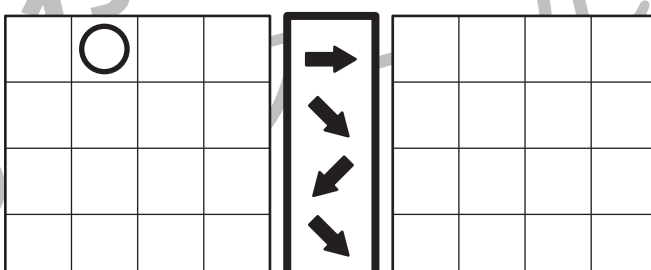
左の四角がお手本です。このお手本の○を真ん中の太い四角の中の矢印の方向へ1マスずつ動かします。移動した後の場所を考えて、右の四角の中に○をかきます。

①  ⑥ 

②  ⑦ 

③  ⑧ 

④  ⑨ 

⑤  ⑩ 

※1. このプリントは、しながわ・目黒こどもスクールのウェブサイトでダウンロードができます。無断複写・引用はご遠慮ください。  
※2. このプリントを活用したオンライン授業のスケジュールは、しながわ・目黒こどもスクールのウェブサイトでご確認ください。



# おうちで、やろう。

Study at home. 小学校受験の家庭学習教材

## 図形：折り重ね 7

左のお手本の真ん中の太い線で矢印の方向へ折り重ねたときの見え方を考えて、右の四角の中から選び○をつけます。

--	--	--	--	--	--

--	--	--	--	--	--

--	--	--	--	--	--

--	--	--	--	--	--

--	--	--	--	--	--

※1. このプリントは、しながわ・目黒こどもスクールのウェブサイトでダウンロードができます。無断複写・引用はご遠慮ください。  
 ※2. このプリントを活用したオンライン授業のスケジュールは、しながわ・目黒こどもスクールのウェブサイトでご確認ください。



# おうちで、やろう。

Study at home. 小学校受験の家庭学習教材

## 図形：折り重ね 8

左のお手本の真ん中の太い線で矢印の方向へ折り重ねたときの見え方を考えて、右の四角の中から選び○をつけます。

Row 1: A sample rectangle with a vertical fold line and an arrow pointing right. To its right are five squares, each with a different grid pattern of vertical and horizontal lines.

Row 2: A sample rectangle with a vertical fold line, an arrow pointing right, and diagonal lines forming an 'X'. To its right are five squares, each with a different grid pattern and diagonal lines.

Row 3: A sample rectangle with a vertical fold line, an arrow pointing right, and diagonal lines forming a diamond shape. To its right are five squares, each with a different grid pattern and diagonal lines.

Row 4: A sample rectangle with a vertical fold line, an arrow pointing right, and a complex geometric pattern of lines. To its right are five squares, each with a different grid pattern and diagonal lines.

Row 5: A sample rectangle with a vertical fold line, an arrow pointing right, and a grid pattern with a diagonal line. To its right are five squares, each with a different grid pattern and diagonal lines.

※1. このプリントは、しながわ・目黒こどもスクールのウェブサイトでダウンロードができます。無断複写・引用はご遠慮ください。  
 ※2. このプリントを活用したオンライン授業のスケジュールは、しながわ・目黒こどもスクールのウェブサイトでご確認ください。

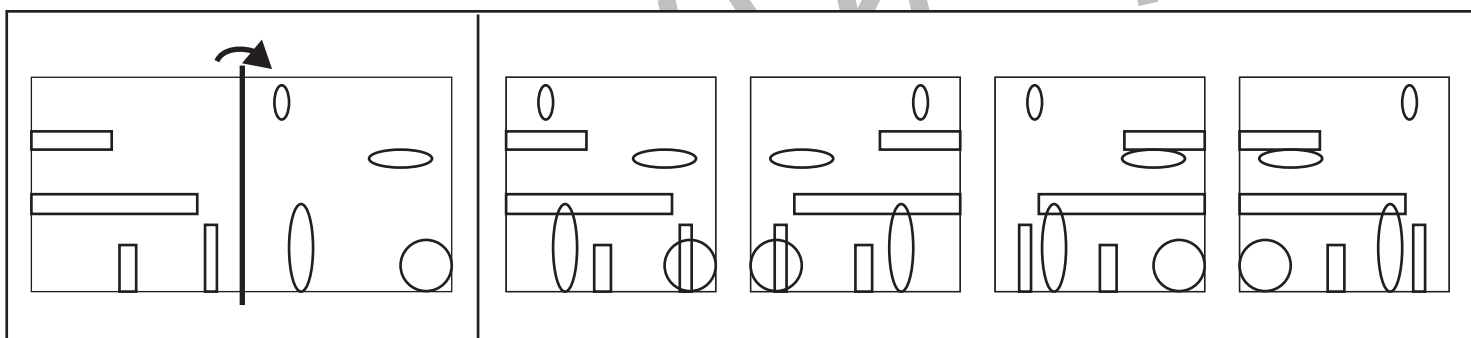
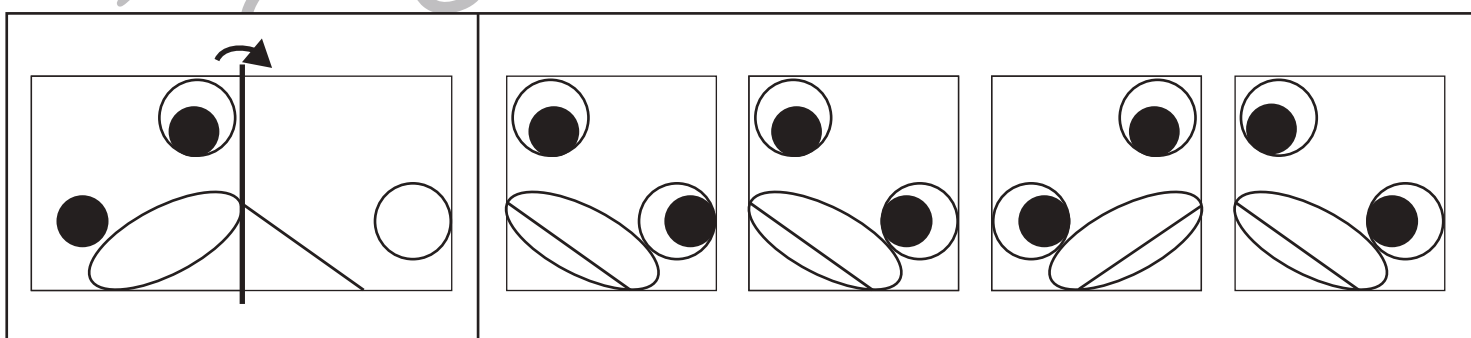
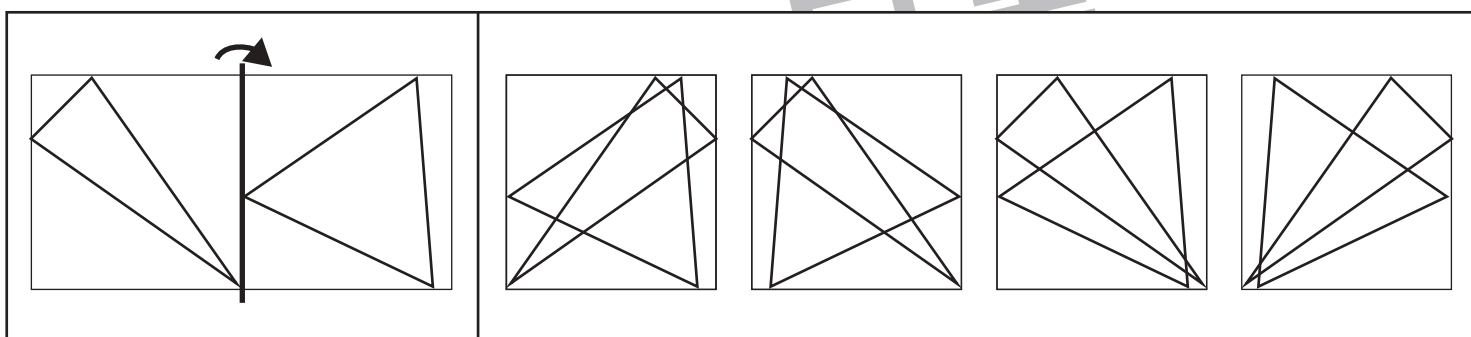
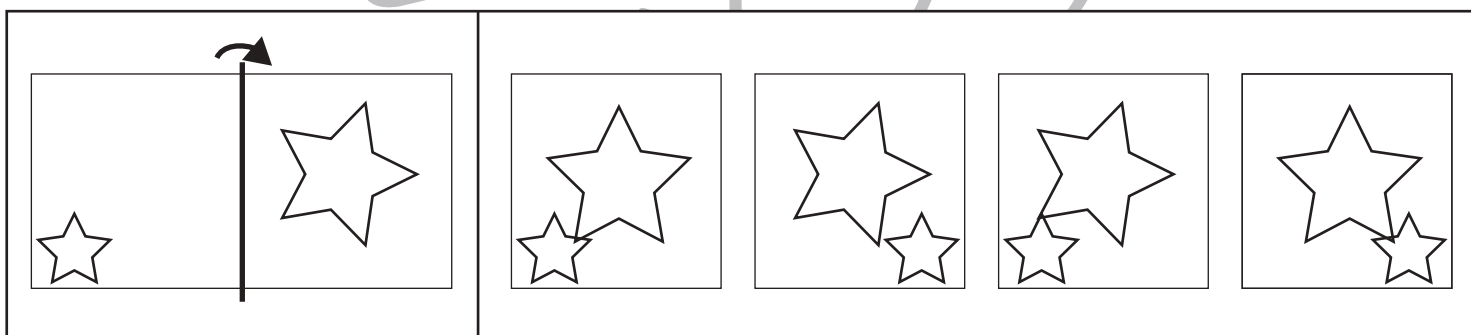
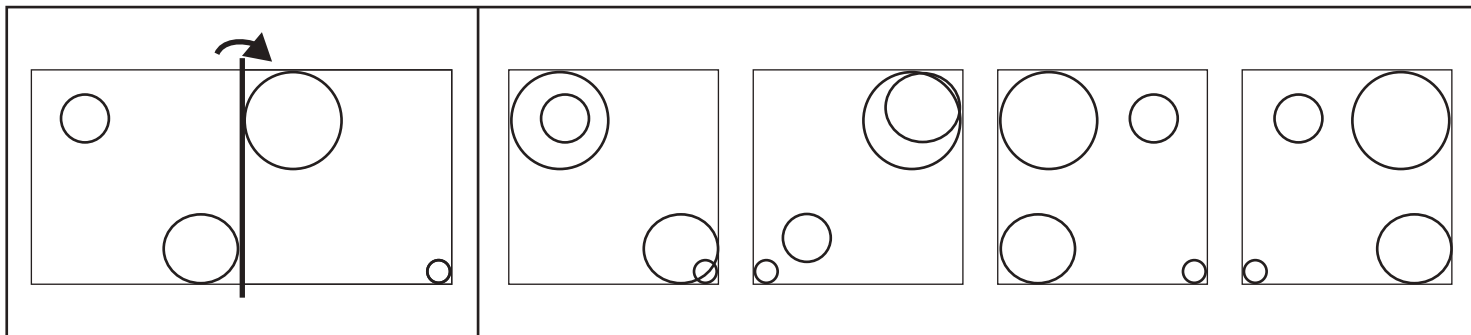


# おうちで、やろう。

Study at home. 小学校受験の家庭学習教材

## 図形：折り重ね 9

左のお手本の真ん中の太い線で矢印の方向へ折り重ねたときの見え方を考えて右の四角の中から選び○をつけます。



※1. このプリントは、しながわ・目黒こどもスクールのウェブサイトでダウンロードができます。無断複写・引用はご遠慮ください。  
 ※2. このプリントを活用したオンライン授業のスケジュールは、しながわ・目黒こどもスクールのウェブサイトでご確認ください。



# おうちで、やろう。

Study at home. 小学校受験の家庭学習教材

数量：セットの数3

左の四角の中はお手本です。この野菜のセットはいくつできるかを考えて、下の四角に○をつけますその数だけ○をつけます。





※1. このプリントは、しながわ・目黒こどもスクールのウェブサイトからダウンロードできます。無断複写・引用はご遠慮ください。

※2. このプリントを活用したオンライン授業のスケジュールは、しながわ・目黒こどもスクールのウェブサイトでご確認ください。





# おうちで、やろう。

Study at home. 小学校受験の家庭学習教材

数量：セットの数4

お店ではお客さんから注文を受けたハンバーガーのセットを用意しています。


セットの中身は「ハンバーガー」「ポテト」「コーラ」をそれぞれ1つずつです。

①下の四角にある材料でセットはいくつ作れるかを考えて下の四角の中に○をかきます。

②ハンバーガーのセットを2セット作るためにはそれぞれいくつずつあればよいですか。

それぞれその材料の絵の四角にその数だけ○をかきます。

③ハンバーガーが3個あります。このとき、セットをつくるのに足りない数だけその絵の四角に○をかきます。



①

--	--

②

--	--	--

③

--	--	--

※1. このプリントは、しながわ・目黒こどもスクールのウェブサイトでダウンロードができます。無断複写・引用はご遠慮ください。

※2. このプリントを活用したオンライン授業のスケジュールは、しながわ・目黒こどもスクールのウェブサイトでご確認ください。


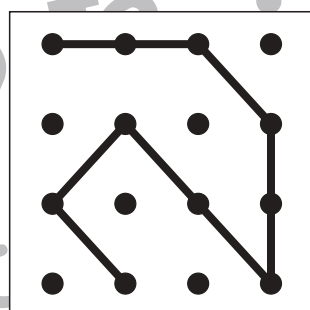

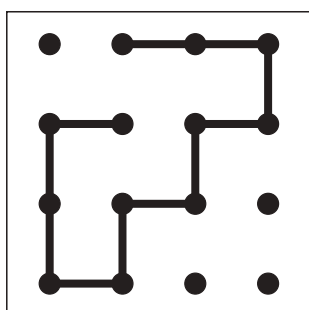

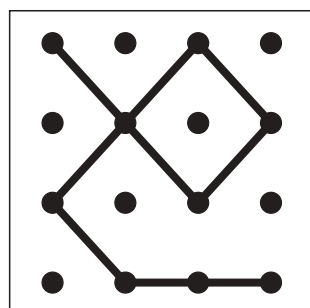

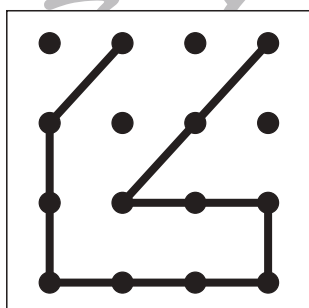



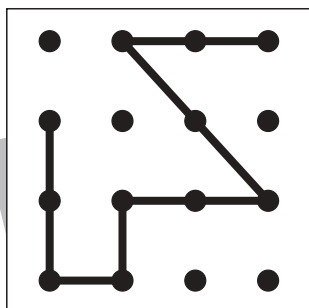

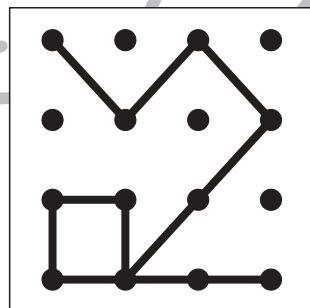

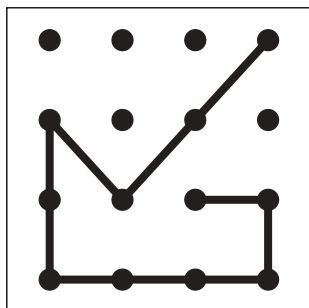

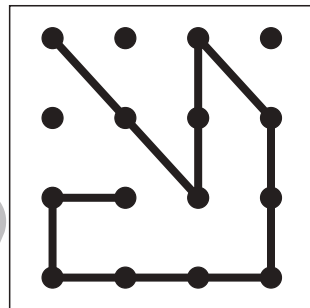

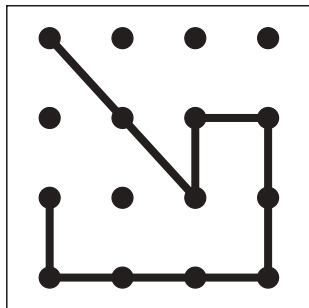


# おうちで、やろう。

Study at home. 小学校受験の家庭学習教材

## 図形：点図形 13

左のお手本と同じになるように右の四角に線をかきます。 ※このプリントに解答はありません。



※1. このプリントは、しながわ・目黒こどもスクールのウェブサイトからダウンロードできます。無断複写・引用はご遠慮ください。  
※2. このプリントを活用したオンライン授業のスケジュールは、しながわ・目黒こどもスクールのウェブサイトでご確認ください。

