

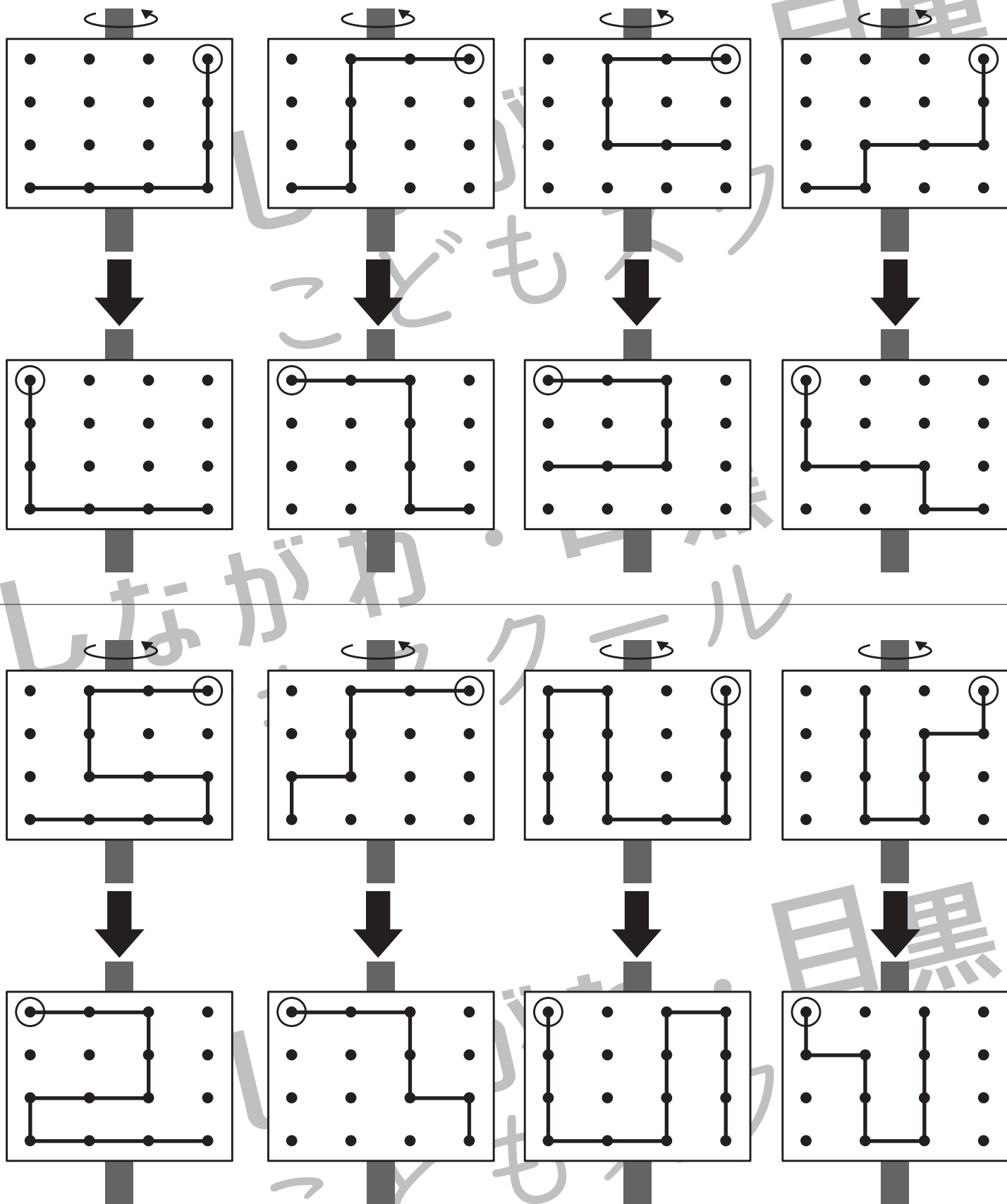


おうちで、よろう。

Study at home. 小学校受験の家庭学習教材

図形：反転4

上の見本は透明な板にかかれた模様です。この板を矢印の方向へくると裏返しにした時の見え方を考えて下にかきます。



※1. このプリントは、しながわ・目黒こどもスクールのウェブサイトでダウンロードができます。無断複写・引用はご遠慮ください。
 ※2. このプリントを活用したオンライン授業のスケジュールは、しながわ・目黒こどもスクールのウェブサイトでご確認ください。



おうちで、よろう。

Study at home. 小学校受験の家庭学習教材

図形：反転5

上の見本は透明な板にかかれた模様です。この板を矢印の方向へくると裏返しにした時の見え方を考えて下にかきます。

※1. このプリントは、しながわ・目黒こどもスクールのウェブサイトでダウンロードができます。無断複写・引用はご遠慮ください。
 ※2. このプリントを活用したオンライン授業のスケジュールは、しながわ・目黒こどもスクールのウェブサイトでご確認ください。



おうちで、やろう。

Study at home. 小学校受験の家庭学習教材

図形：反転6

上の見本は透明な板にかかれた模様です。この板を矢印の方向へくると裏返しにした時の見え方を考えて下にかきます。

※1. このプリントは、しながわ・目黒こどもスクールのウェブサイトでダウンロードができます。無断複写・引用はご遠慮ください。
 ※2. このプリントを活用したオンライン授業のスケジュールは、しながわ・目黒こどもスクールのウェブサイトでご確認ください。

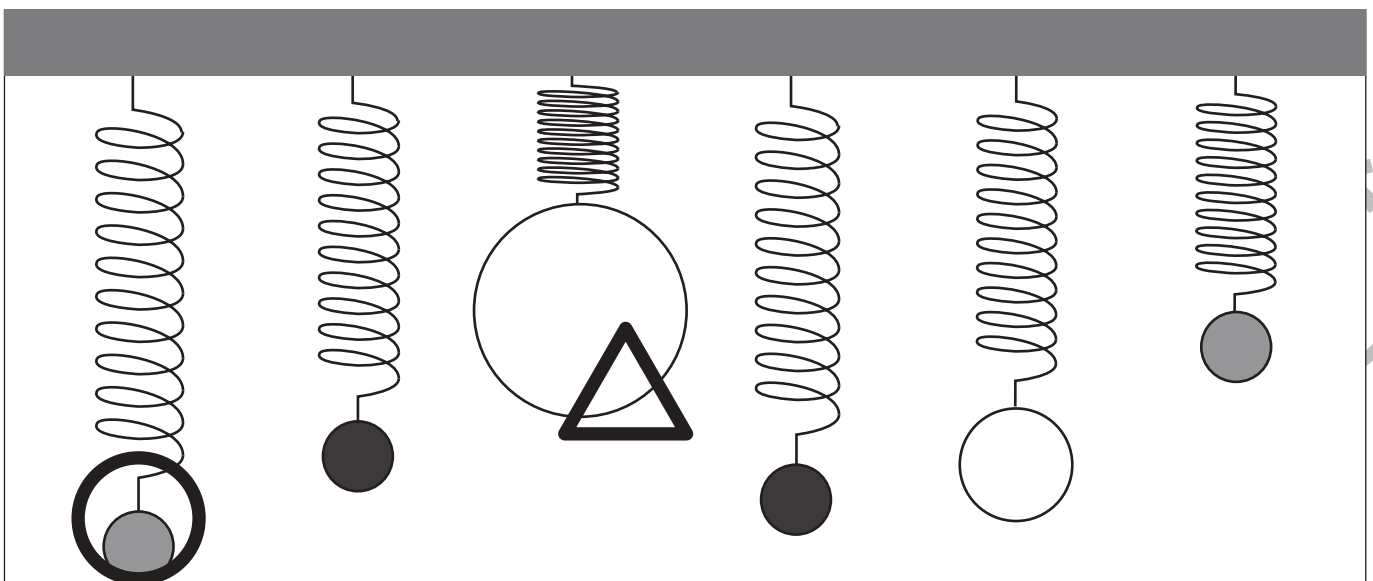
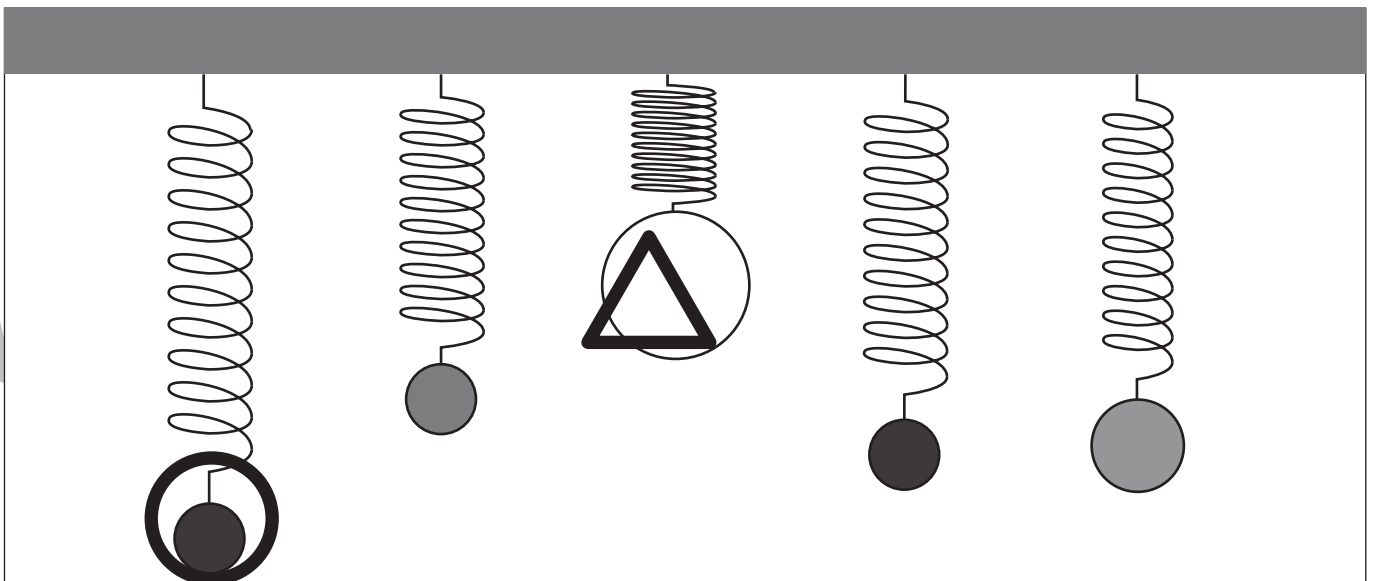
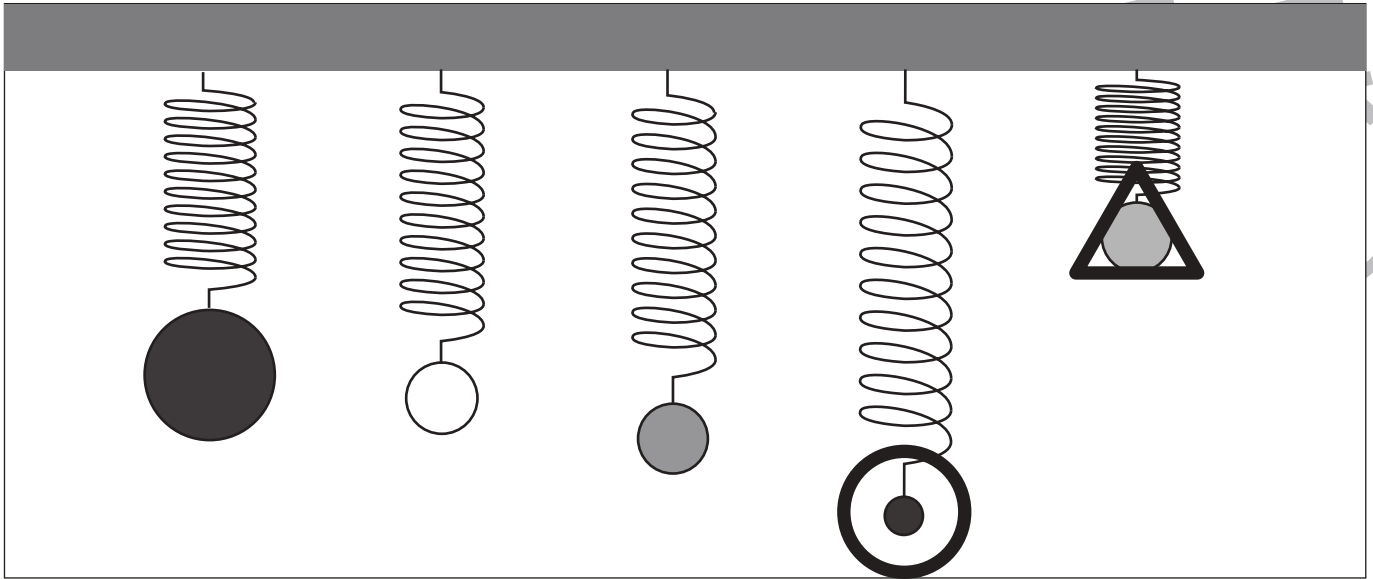


おうちで、やろう。

Study at home. 小学校受験の家庭学習教材

推理：重さ7

バネにボールをつるして重さ比べをしました。一番重いボールに○、一番軽いボールに△をつけます。



※1. このプリントは、しながわ・目黒こどもスクールのウェブサイトでダウンロードができます。無断複写・引用はご遠慮ください。
 ※2. このプリントを活用したオンライン授業のスケジュールは、しながわ・目黒こどもスクールのウェブサイトでご確認ください。

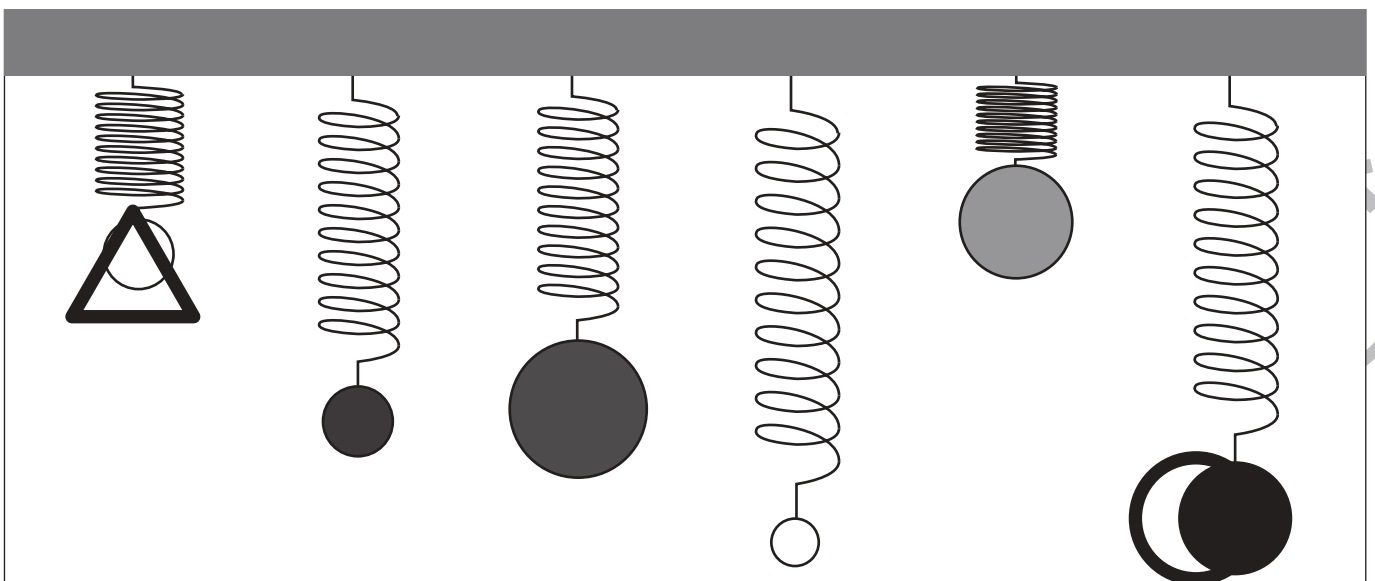
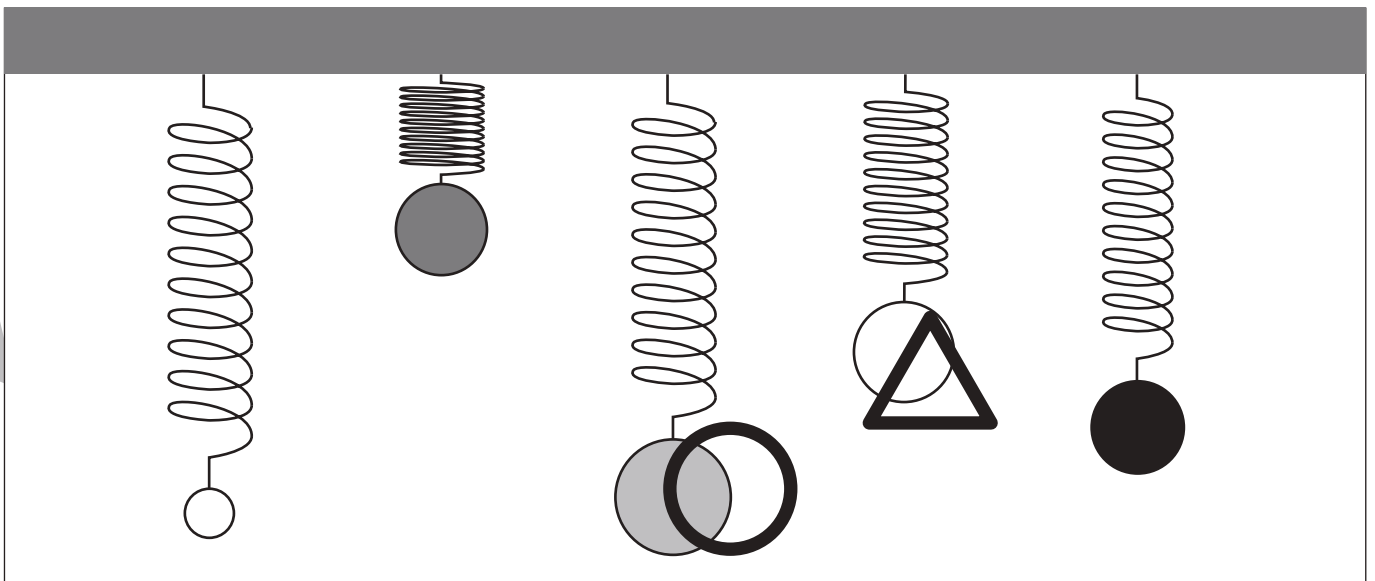
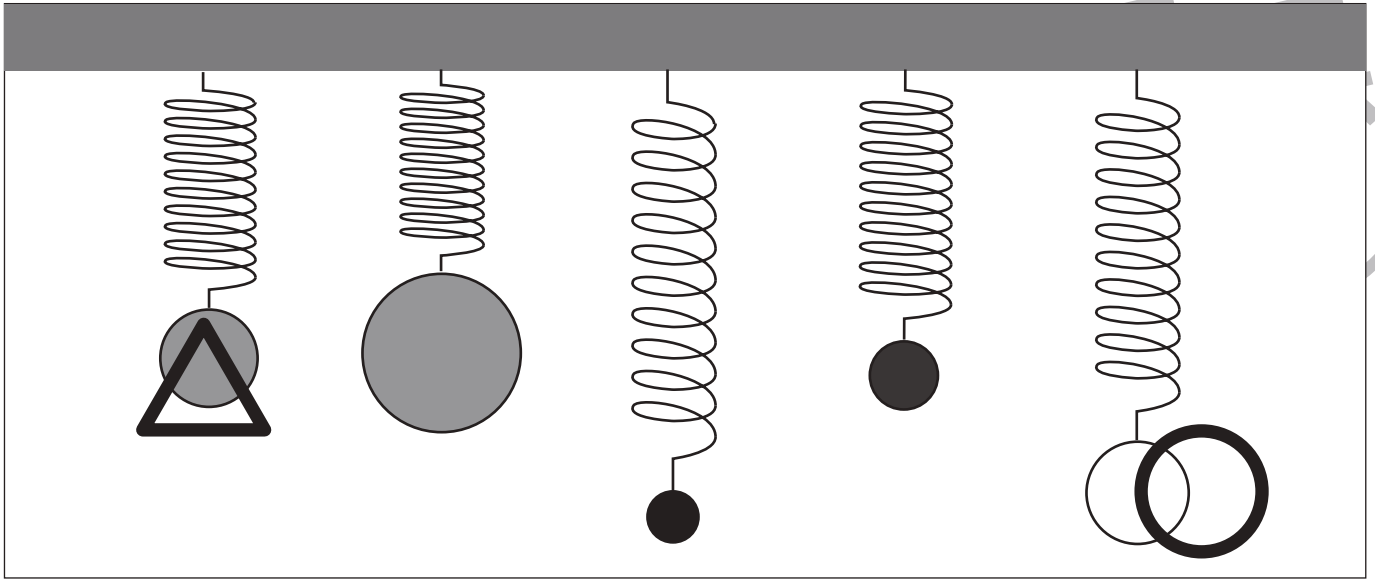


おうちで、やろう。

Study at home. 小学校受験の家庭学習教材

推理：重さ8

バネにボールをつるして重さ比べをしました。二番目重いボールに○、二番目に軽いボールに△をつけます。



※1. このプリントは、しながわ・目黒こどもスクールのウェブサイトでダウンロードができます。無断複写・引用はご遠慮ください。
 ※2. このプリントを活用したオンライン授業のスケジュールは、しながわ・目黒こどもスクールのウェブサイトでご確認ください。


















おうちで、よろう。

Study at home. 小学校受験の家庭学習教材

数量：長さ6

左上の太い四角の中の線の長さを考えます。このお手本の長さと同じ長さを見つけて○をつけます。



※1. このプリントは、しながわ・目黒こどもスクールのウェブサイトでダウンロードができます。無断複写・引用はご遠慮ください。
※2. このプリントを活用したオンライン授業のスケジュールは、しながわ・目黒こどもスクールのウェブサイトでご確認ください。






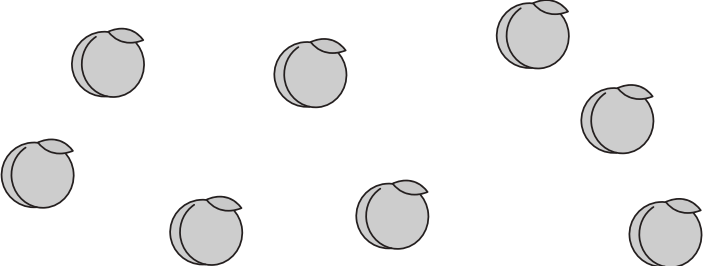








おうちで、やろう。

Study at home. 小学校受験の家庭学習教材

数量：分割4

それぞれの果物を2人のお友だちで仲良く分けると1人分はいくつになりますか。1人分の数だけ○をかきます。

		$\bigcirc \times 3$
		$\bigcirc \times 4$
		$\bigcirc \times 5$
		$\bigcirc \times 6$
		$\bigcirc \times 7$

※1. このプリントは、しながわ・目黒こどもスクールのウェブサイトからダウンロードできます。無断複写・引用はご遠慮ください。

※2. このプリントを活用したオンライン授業のスケジュールは、しながわ・目黒こどもスクールのウェブサイトでご確認ください。













おうちで、やろう。

Study at home. 小学校受験の家庭学習教材

数量：分割5

それぞれの食べ物を左の四角の中のお友だちで仲良く分けると1人分はいくつになりますか。1人分の数だけ○をかきます。

		$\bigcirc \times 4$
		$\bigcirc \times 6$
		$\bigcirc \times 5$
		$\bigcirc \times 6$
		$\bigcirc \times 5$

※1. このプリントは、しながわ・目黒こどもスクールのウェブサイトからダウンロードできます。無断複写・引用はご遠慮ください。

※2. このプリントを活用したオンライン授業のスケジュールは、しながわ・目黒こどもスクールのウェブサイトでご確認ください。


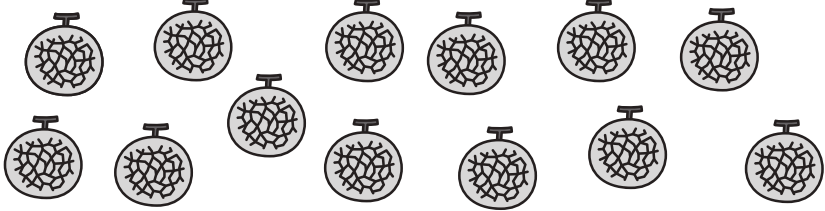



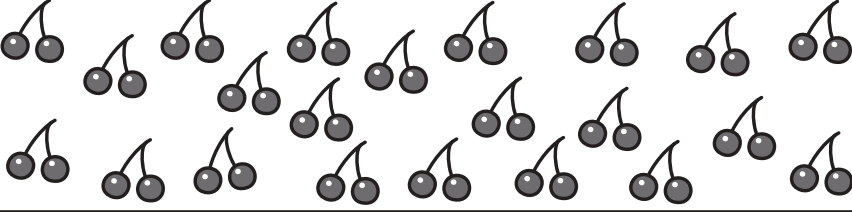

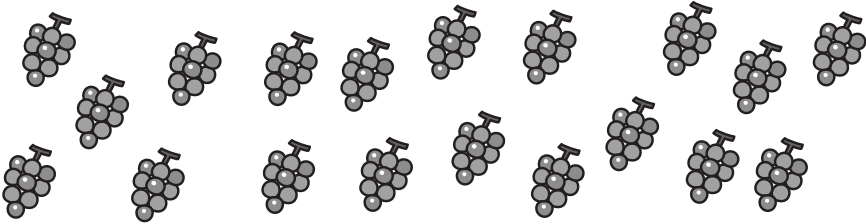




おうちで、やろう。

Study at home. 小学校受験の家庭学習教材

数量：分割6

それぞれの食べ物を左の四角の中のお友だちで仲良く分けると1人分はいくつになりますか。1人分の数だけ下の四角に○をかき、余った食べ物の数だけ右の四角に△をかきます。

	 <div style="text-align: center;">$\bigcirc \times 4$</div>	<div style="text-align: center;">$\triangle \times 1$</div>
	 <div style="text-align: center;">$\bigcirc \times 3$</div>	<div style="text-align: center;">$\triangle \times 2$</div>
	 <div style="text-align: center;">$\bigcirc \times 5$</div>	<div style="text-align: center;">$\triangle \times 2$</div>
	 <div style="text-align: center;">$\bigcirc \times 4$</div>	<div style="text-align: center;">$\triangle \times 3$</div>
	 <div style="text-align: center;">$\bigcirc \times 3$</div>	<div style="text-align: center;">$\triangle \times 4$</div>

※1. このプリントは、しながわ・目黒こどもスクールのウェブサイトでダウンロードができます。無断複写・引用はご遠慮ください。

※2. このプリントを活用したオンライン授業のスケジュールは、しながわ・目黒こどもスクールのウェブサイトでご確認ください。