

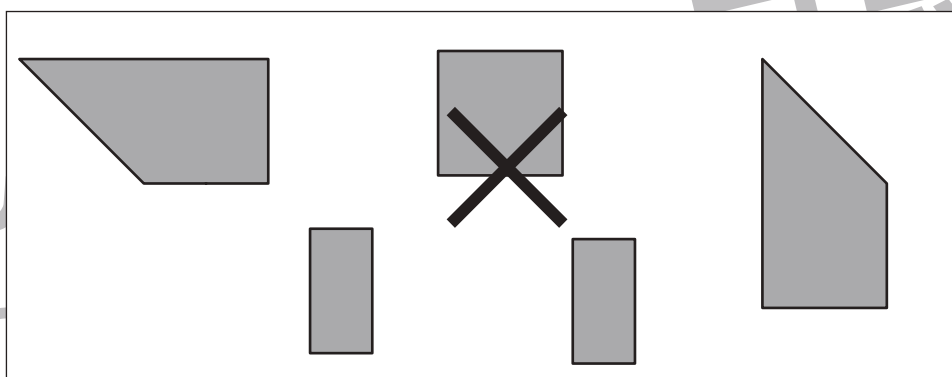
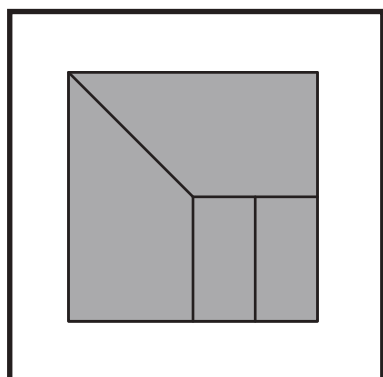
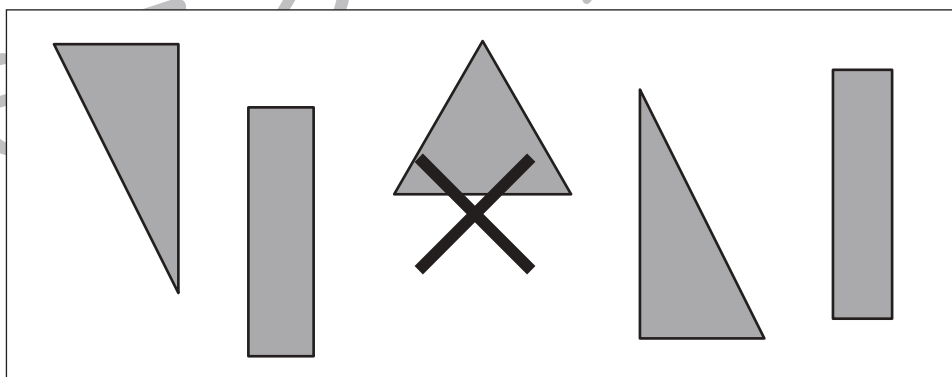
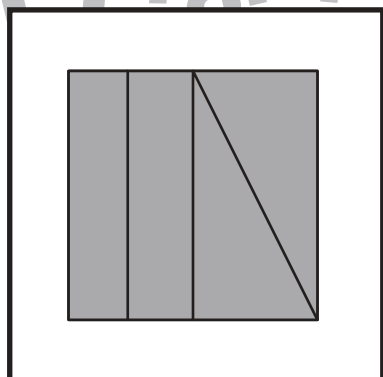
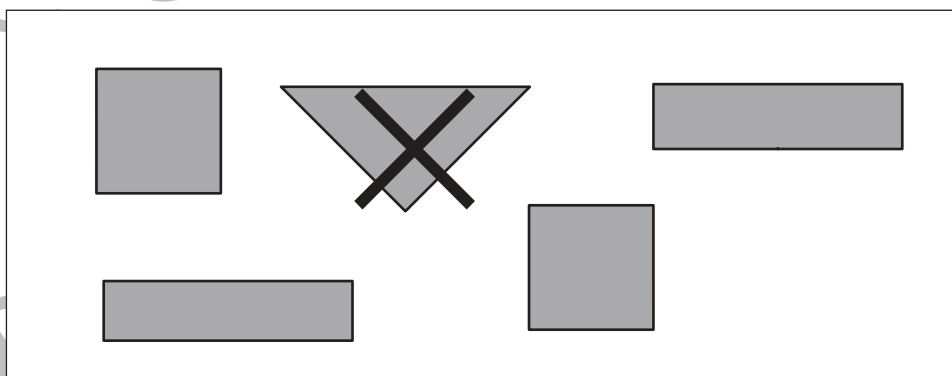
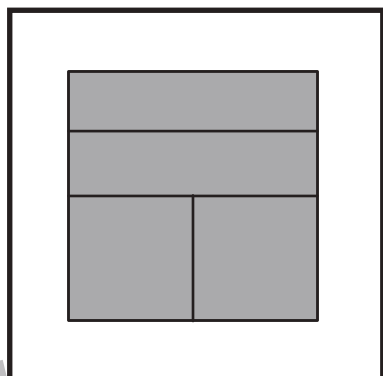
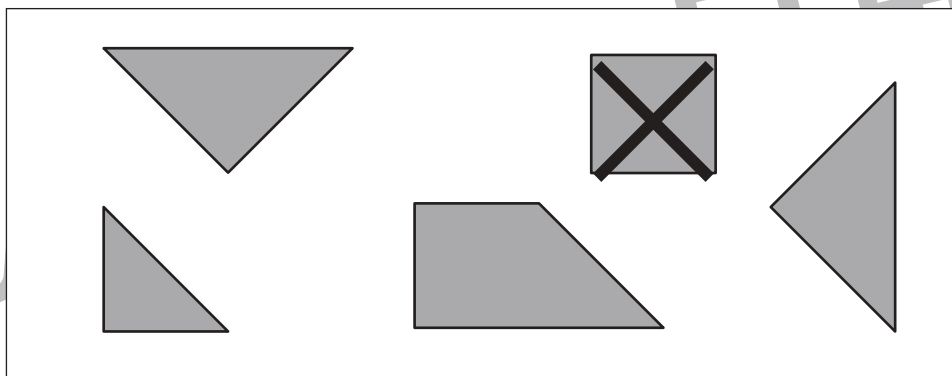
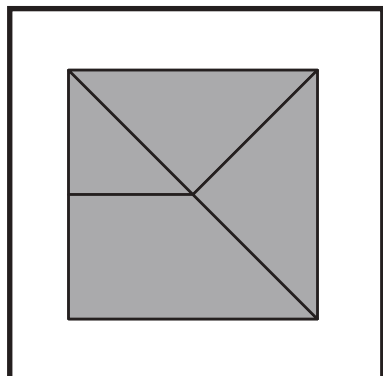


おうちで、やろう。

Study at home. 小学校受験の家庭学習教材

図形：構成9

左の太い四角の中がお手本です。右の四角の中のパズルを、回転させたり裏返しにしたりしないで使ってお手本の形を作ると使わない形が1つあります。使わない形に×をつけます。



※1. このプリントは、しながわ・目黒こどもスクールのウェブサイトでダウンロードができます。無断複写・引用はご遠慮ください。
※2. このプリントを活用したオンライン授業のスケジュールは、しながわ・目黒こどもスクールのウェブサイトでご確認ください。



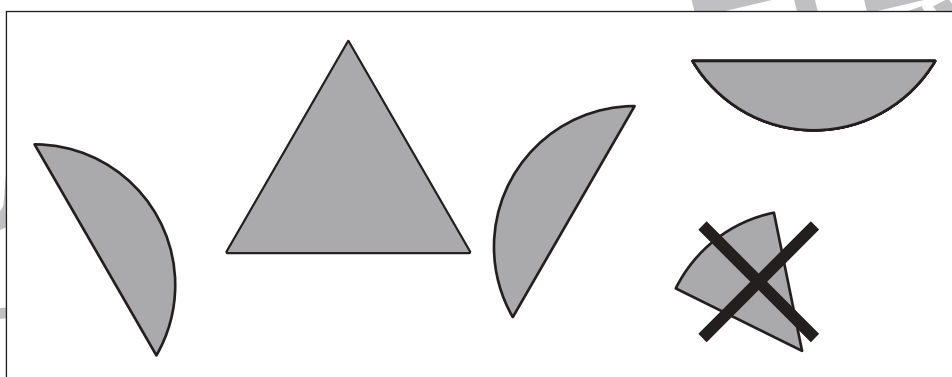
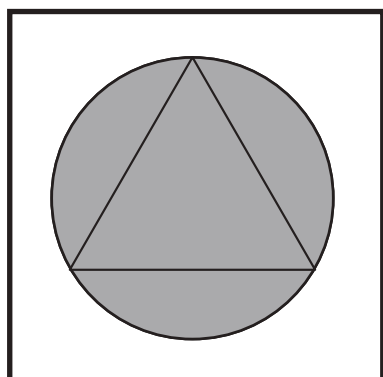
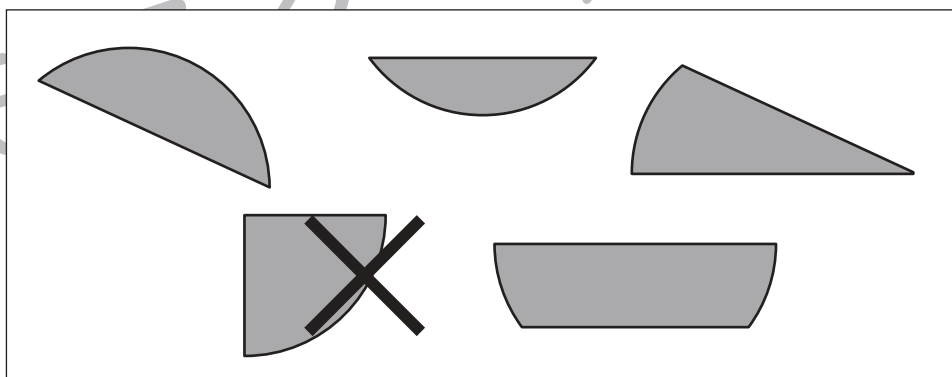
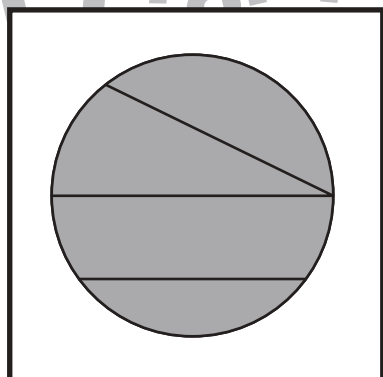
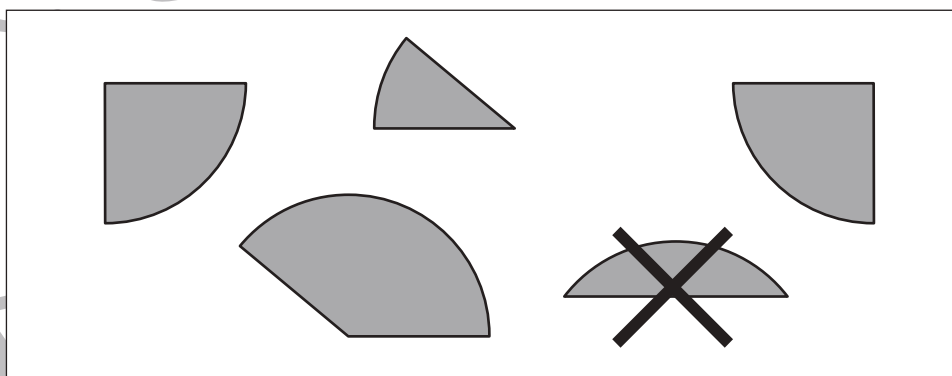
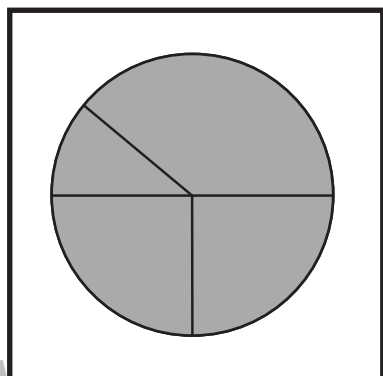
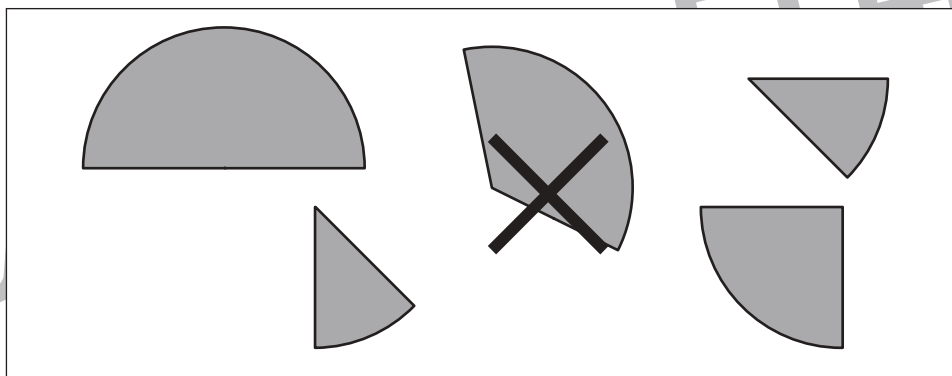
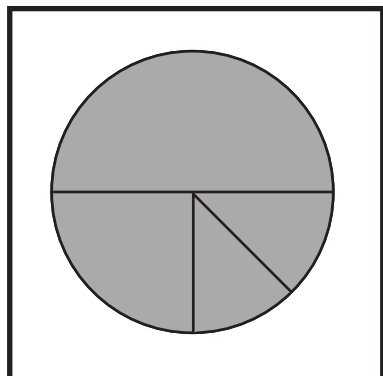


おうちで、やろう。

Study at home. 小学校受験の家庭学習教材

図形：構成 10

左の太い四角の中がお手本です。右の四角の中のパズルを、回転させたり裏返しにしたりしないで使ってお手本の形を作ると使わない形が1つあります。使わない形に×をつけます。



※1. このプリントは、しながわ・目黒こどもスクールのウェブサイトでダウンロードができます。無断複写・引用はご遠慮ください。
※2. このプリントを活用したオンライン授業のスケジュールは、しながわ・目黒こどもスクールのウェブサイトでご確認ください。



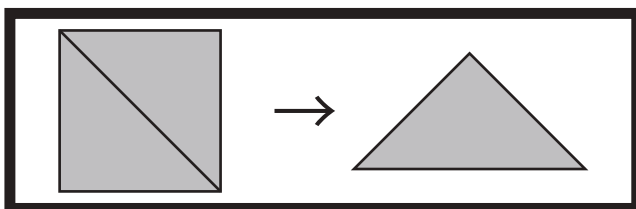


おうちで、やろう。


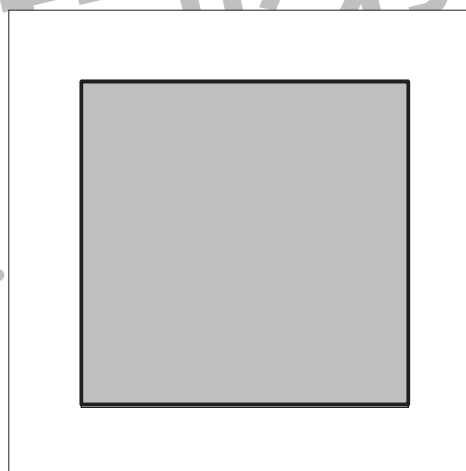
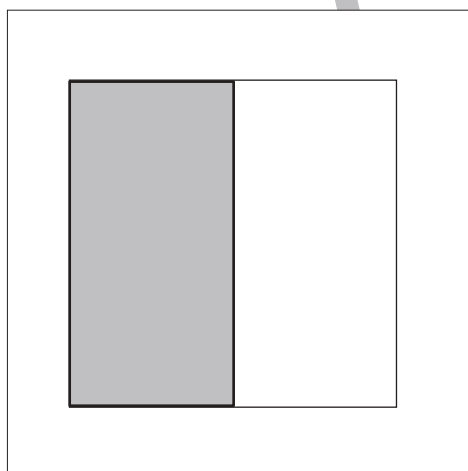
Study at home. 小学校受験の家庭学習教材

図形：三角パズル4

上の太い四角の中の四角を半分にして三角パズルを作りました。この三角パズルを使ってそれぞれの形を作ります。それぞれ形は三角パズルを何枚使えばできるのかを考えて、下の四角の中にその数だけ〇をかきます。



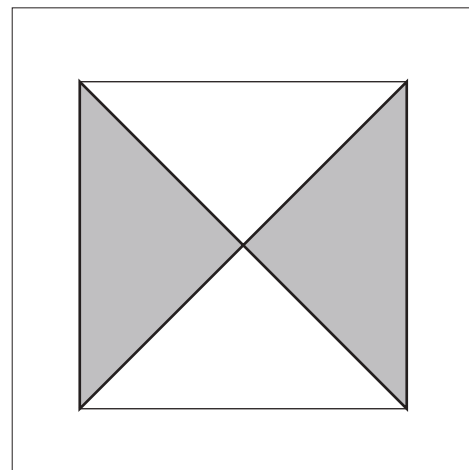
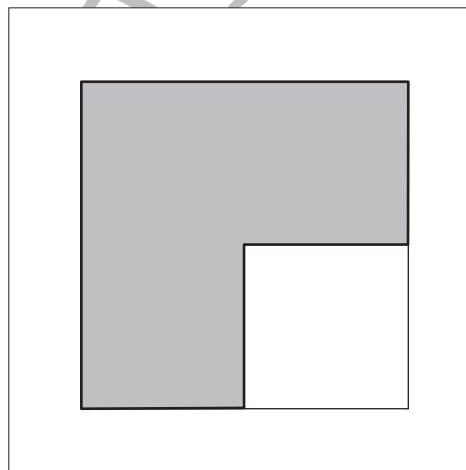
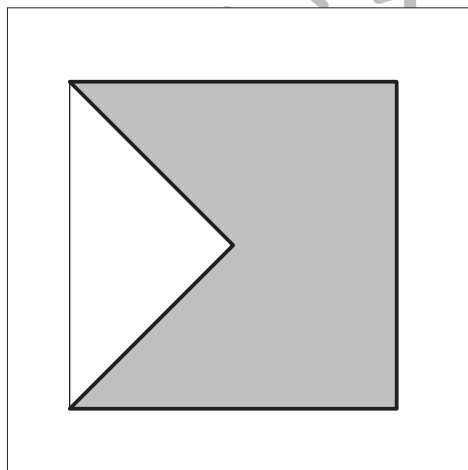
目黒



○ × 4

○ × 8

○ × 4



○ × 6

○ × 6

○ × 4

※1. このプリントは、しながわ・目黒こどもスクールのウェブサイトでダウンロードができます。無断複写・引用はご遠慮ください。
※2. このプリントを活用したオンライン授業のスケジュールは、しながわ・目黒こどもスクールのウェブサイトでご確認ください。






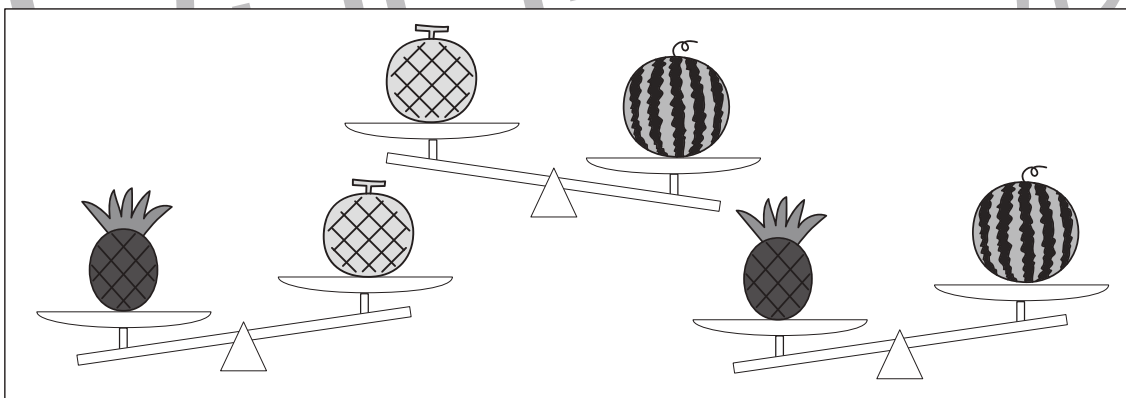

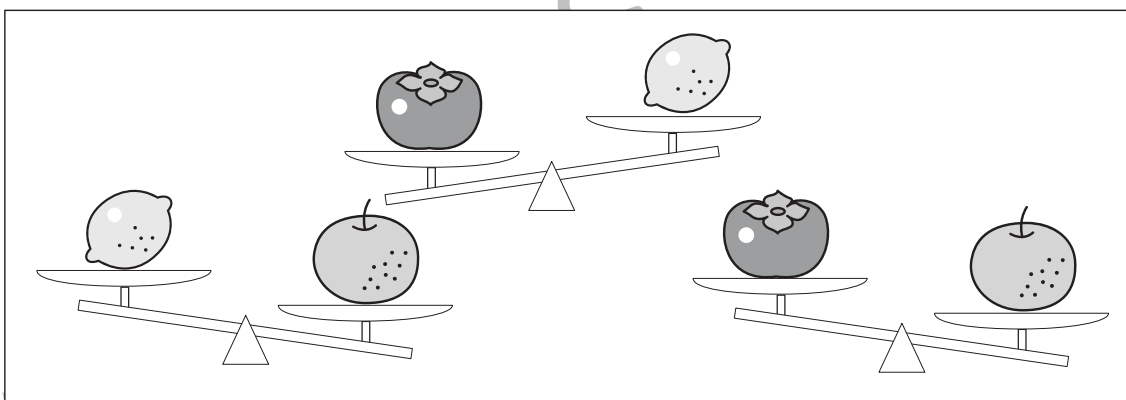




おうちで、やろう。

Study at home. 小学校受験の家庭学習教材

推理：重さ9

天秤に果物をのせて重さ比べをしました。一番重いものに○、一番軽いものに△をつけます。印は右の四角の中の果物につけます。



※1. このプリントは、しながわ・目黒こどもスクールのウェブサイトでダウンロードができます。無断複写・引用はご遠慮ください。
※2. このプリントを活用したオンライン授業のスケジュールは、しながわ・目黒こどもスクールのウェブサイトでご確認ください。








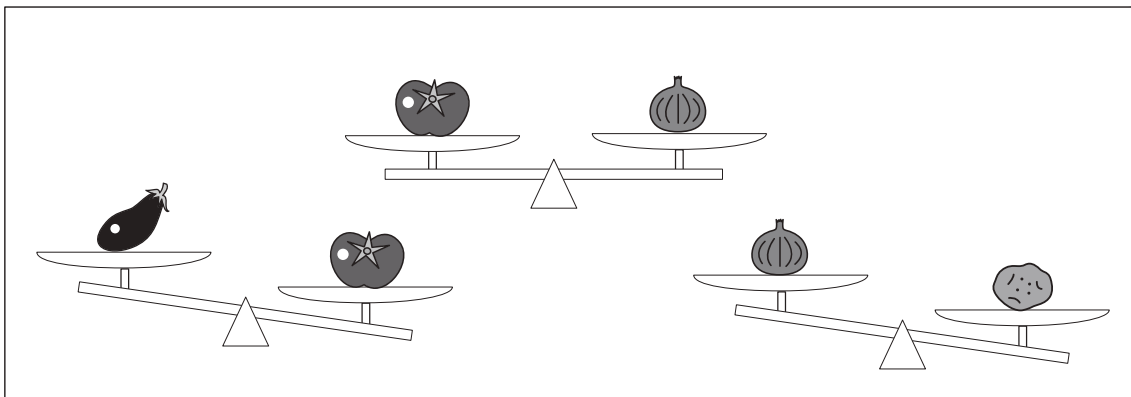


おうちで、やろう。

Study at home. 小学校受験の家庭学習教材

推理：重さ 10

天秤に野菜をのせて重さ比べをしました。一番重いものに○、一番軽いものに△をつけます。印は右の四角の中の野菜につけます。



※1. このプリントは、しながわ・目黒こどもスクールのウェブサイトでダウンロードができます。無断複写・引用はご遠慮ください。
 ※2. このプリントを活用したオンライン授業のスケジュールは、しながわ・目黒こどもスクールのウェブサイトでご確認ください。

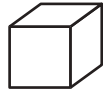
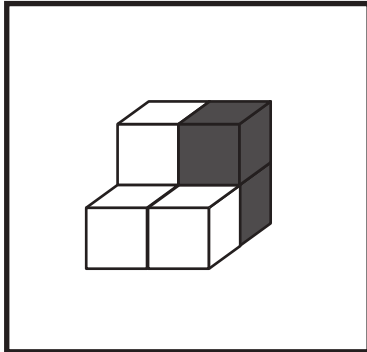


おうちで、やろう。

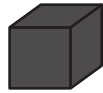
Study at home. 小学校受験の家庭学習教材

推理：積み木7

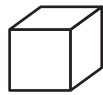
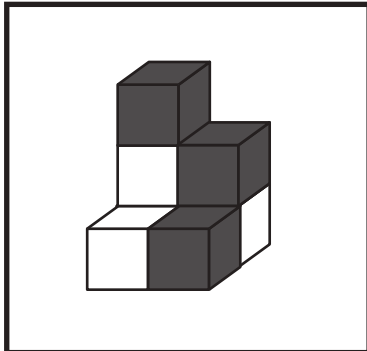
上の四角の中の積み木は白い積み木と黒い積み木で作った形です。隠れて見えない積み木はすべて黒い積み木です。この時、白い積み木と黒い積み木の数はそれぞれいくつですか。その数だけ〇をかきます。



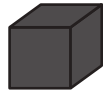
〇 × 3



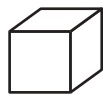
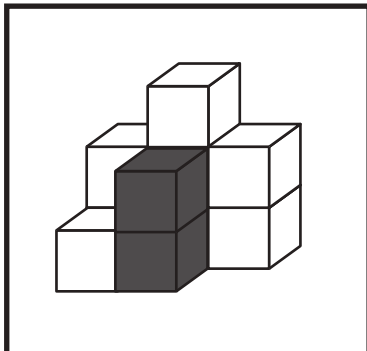
〇 × 3



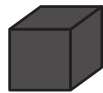
〇 × 3



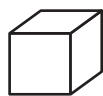
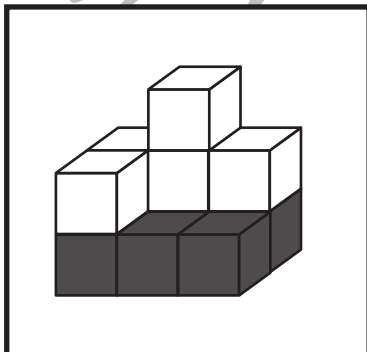
〇 × 4



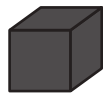
〇 × 5



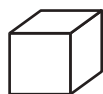
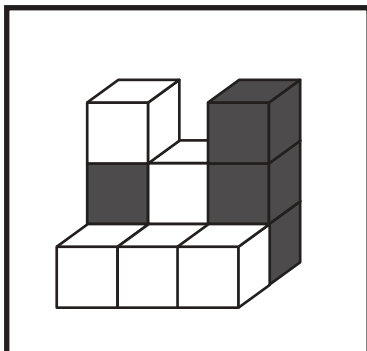
〇 × 5



〇 × 5



〇 × 6



〇 × 5



〇 × 6

※1. このプリントは、しながわ・目黒こどもスクールのウェブサイトでダウンロードができます。無断複写・引用はご遠慮ください。

※2. このプリントを活用したオンライン授業のスケジュールは、しながわ・目黒こどもスクールのウェブサイトでご確認ください。



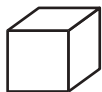
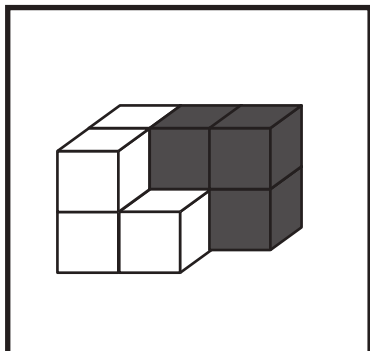


おうちで、やろう。

Study at home. 小学校受験の家庭学習教材

推理：積み木8

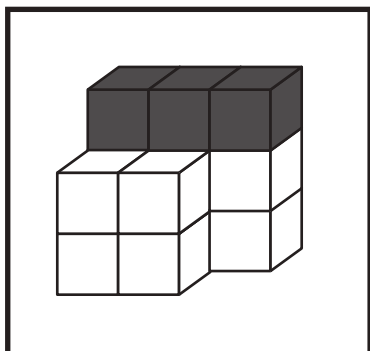
上の四角の中の積み木は白い積み木と黒い積み木で作った形です。隠れて見えない積み木はすべて黒い積み木です。この時、白い積み木と黒い積み木の数はそれぞれいくつですか。その数だけ〇をかきます。



〇 × 4



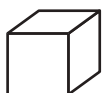
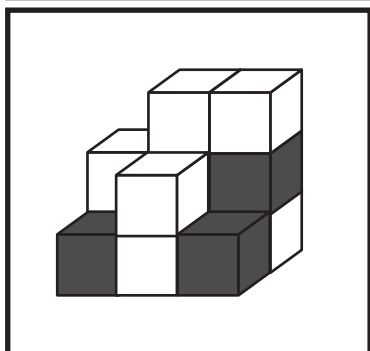
〇 × 5



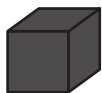
〇 × 6



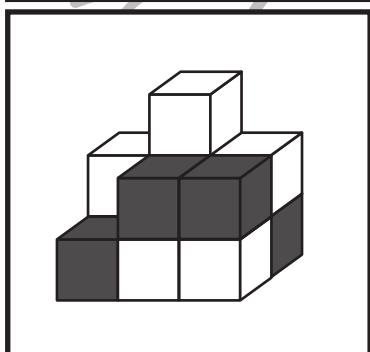
〇 × 7



〇 × 6



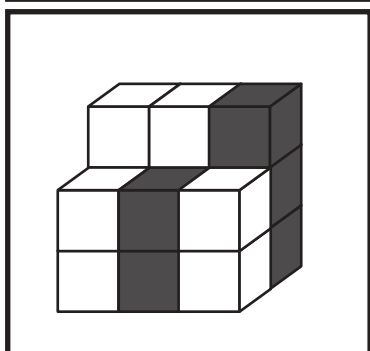
〇 × 6



〇 × 5



〇 × 7



〇 × 6



〇 × 9

※1. このプリントは、しながわ・目黒こどもスクールのウェブサイトでダウンロードができます。無断複写・引用はご遠慮ください。

※2. このプリントを活用したオンライン授業のスケジュールは、しながわ・目黒こどもスクールのウェブサイトでご確認ください。





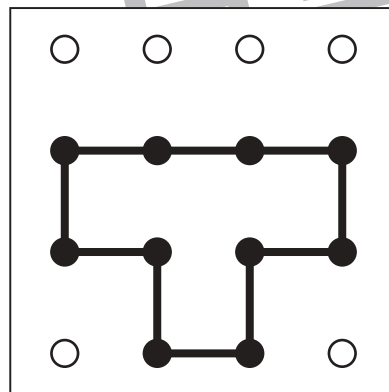
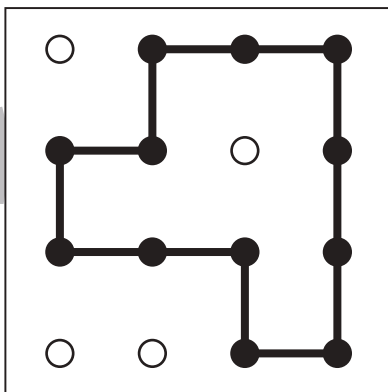
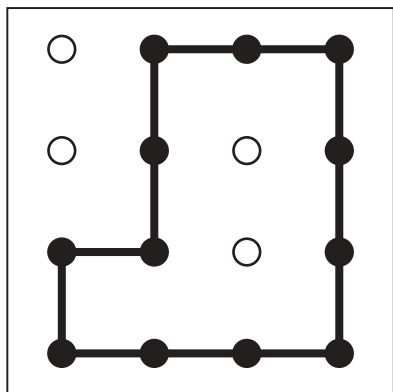
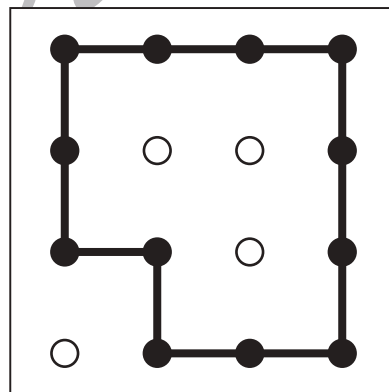
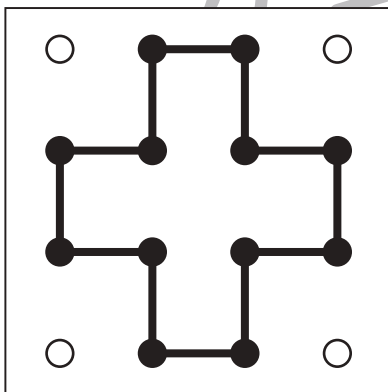
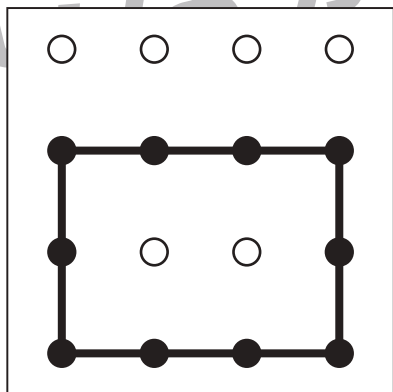
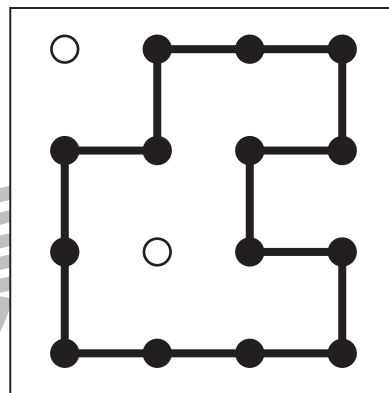
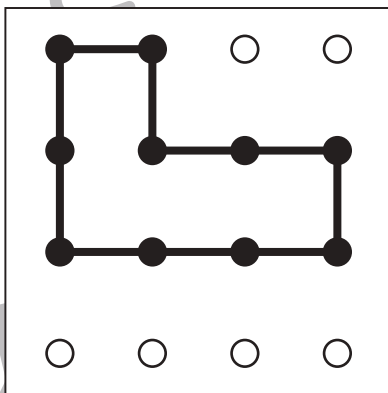
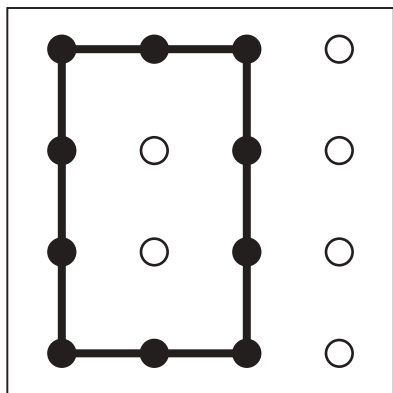
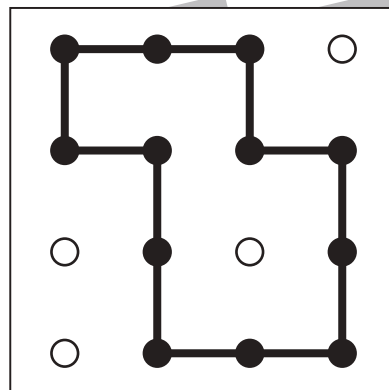
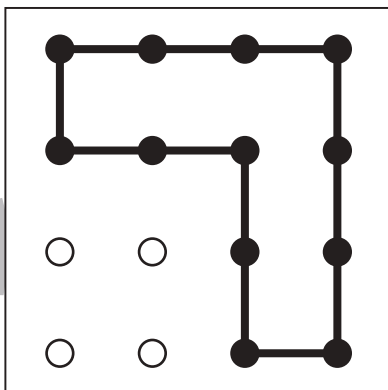
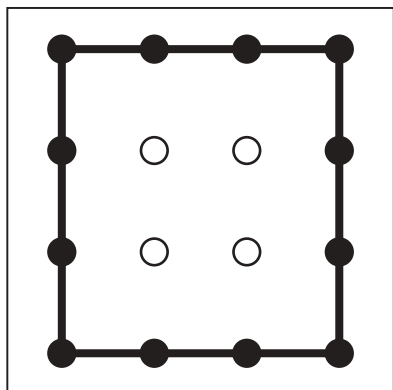
おうちで、やろう。

Study at home. 小学校受験の家庭学習教材

図形：島作り1

黒い丸を全て通って1本の線をつなぎ、島をつくります。縦と横には進めますが斜めに進むことはできません。

※解答は他にもありますので、島作りができていたら正解としてください。



※1. このプリントは、しながわ・目黒こどもスクールのウェブサイトでダウンロードができます。無断複写・引用はご遠慮ください。

※2. このプリントを活用したオンライン授業のスケジュールは、しながわ・目黒こどもスクールのウェブサイトでご確認ください。



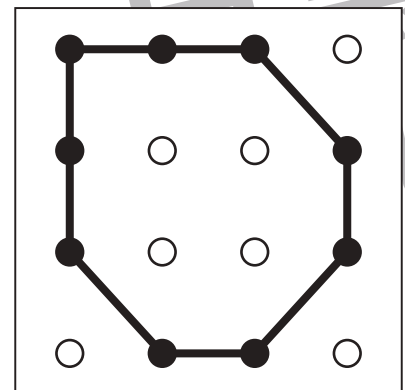
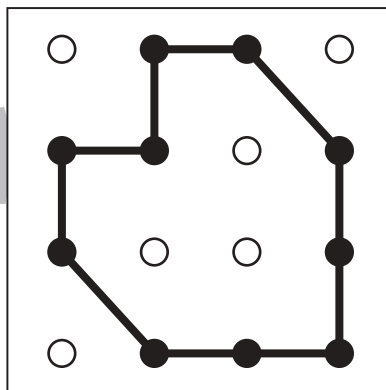
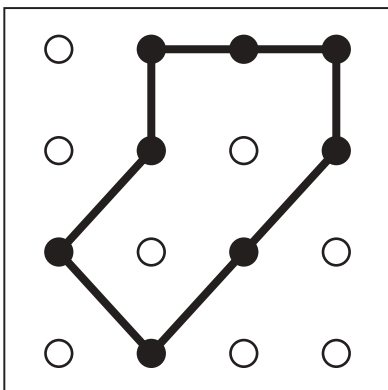
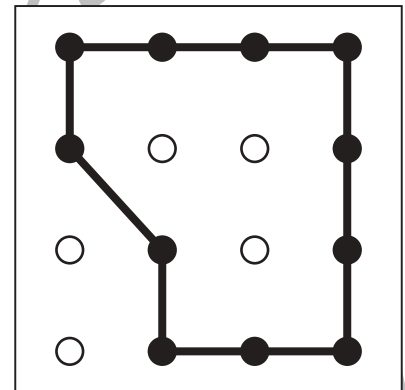
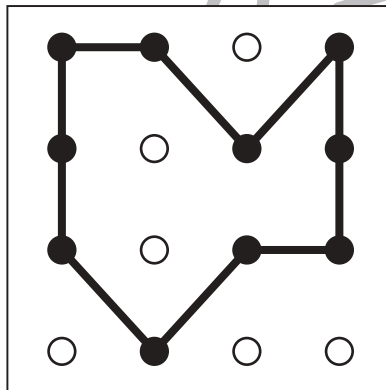
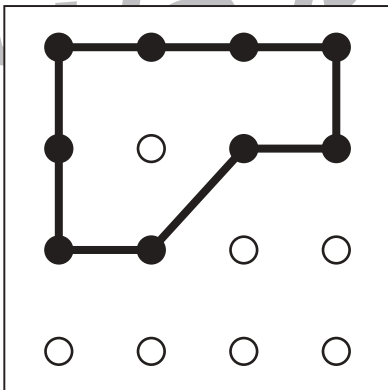
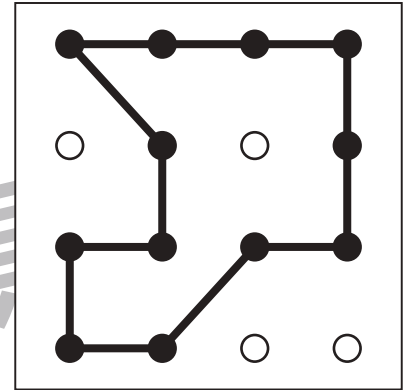
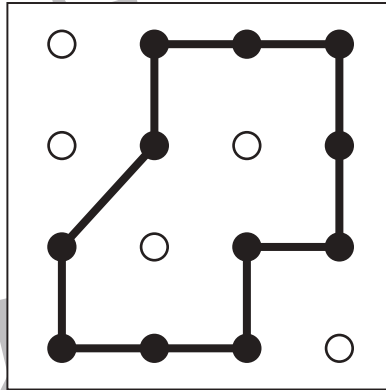
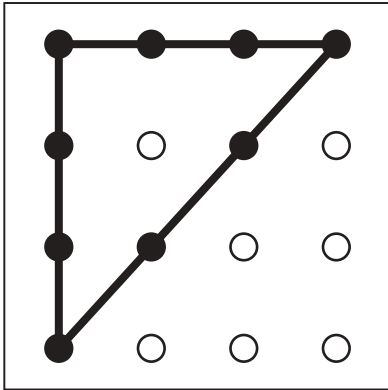
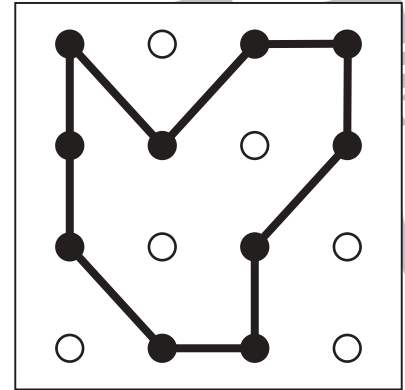
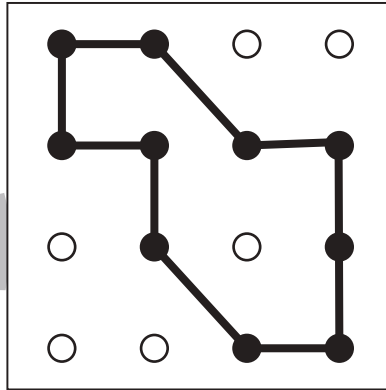
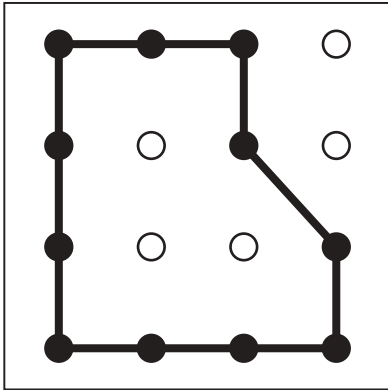


おうちで、やろう。

Study at home. 小学校受験の家庭学習教材

図形：島作り2

黒い丸を全て通って1本の線でつなぎ、島をつくります。縦と横と斜めに進めます。
※解答は他にもありますので、島作りができていたら正解としてください。



※1. このプリントは、しながわ・目黒こどもスクールのウェブサイトでダウンロードができます。無断複写・引用はご遠慮ください。
※2. このプリントを活用したオンライン授業のスケジュールは、しながわ・目黒こどもスクールのウェブサイトでご確認ください。

