



# おうちで、やろう。

Study at home. 小学校受験の家庭学習教材

## 指示の聞き取り7

いろいろな動物が並んでいます。これから、動物たちが自分についてお話をしていきます。お話をよく聞いてどの動物なのかを答えましょう。

お話は1度しか読みませんのでしっかり聞きましょう。

①。「私の体は大きく、たてがみがあります。大好物は肉です。」

さて、このお話をした動物は誰でしょうか。正しいと思う絵に○をつけましょう。




②。「私はジャンプをすることが得意です。そして自分のしっぽで身体を支えることができます。」

さて、このお話をした動物は誰でしょうか。正しいと思う絵に○をつけましょう。



③。「私は走ることが得意で昔は人を乗せて遠くまで連れていきました。好きな食べ物はにんじんです。」

さて、このお話をした運転手さんは誰でしょうか。正しいと思う絵に○をつけましょう。


①



②



③



※1. このプリントは、しながわ・目黒こどもスクールのウェブサイトでダウンロードができます。無断複写・引用はご遠慮ください。

※2. このプリントを活用したオンライン授業のスケジュールは、しながわ・目黒こどもスクールのウェブサイトでご確認ください。




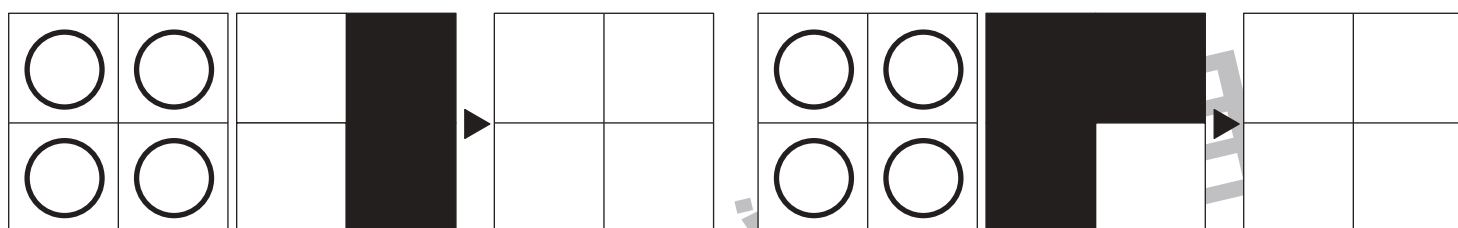

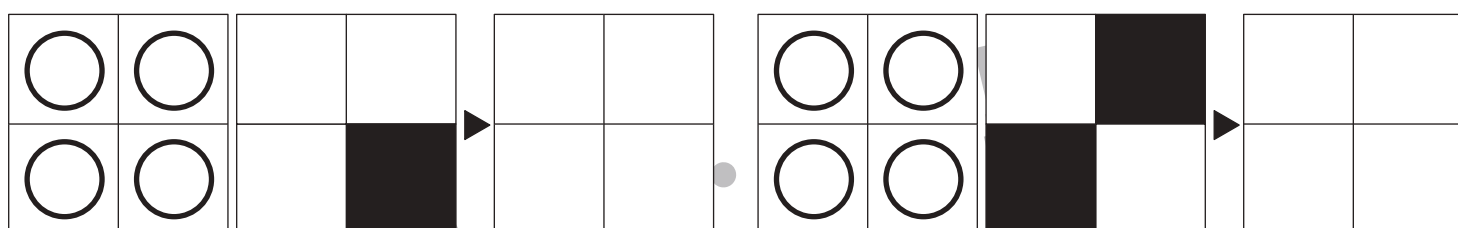
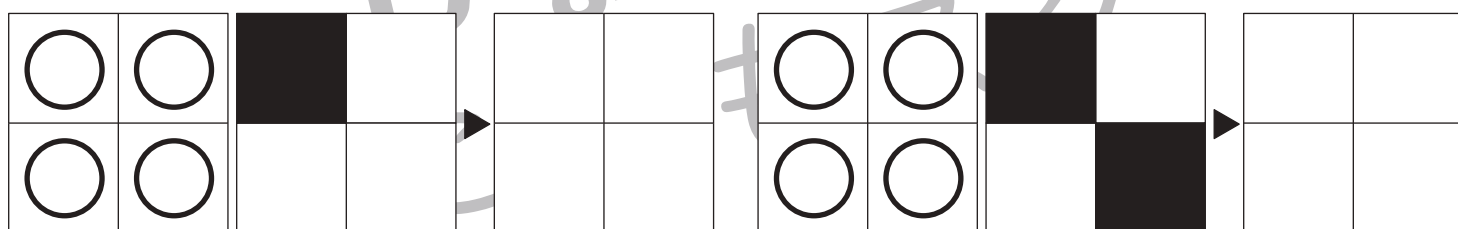
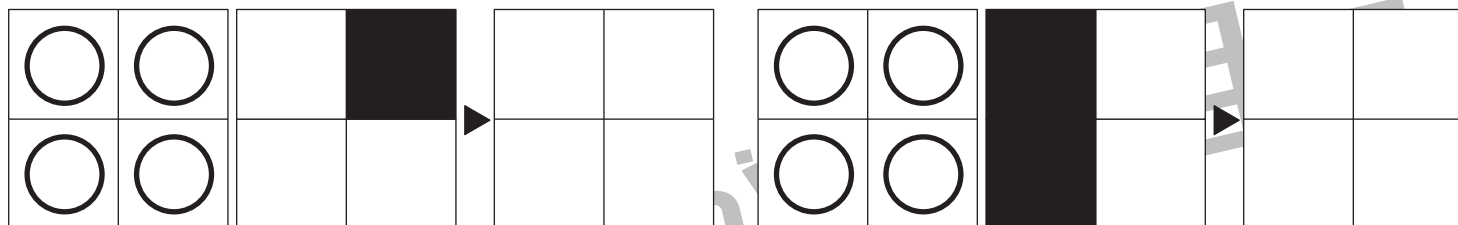


# おうちで、やろう。

Study at home. 小学校受験の家庭学習教材

## 図形：重ね 14

左の2つの四角は透明です。この2つを重ねたとき、隠れずに見えている○を右の四角にかきます。



※1. このプリントは、しながわ・目黒こどもスクールのウェブサイトでダウンロードができます。無断複写・引用はご遠慮ください。  
 ※2. このプリントを活用したオンライン授業のスケジュールは、しながわ・目黒こどもスクールのウェブサイトでご確認ください。



# おうちで、やろう。

Study at home. 小学校受験の家庭学習教材

図形：重ね 15

左の2つの四角は透明です。この2つを重ねたとき、隠れずに見えている○を右の四角にかきます。

○	○	○	■	■	■	□	□	□
○	○	○	□	□	□	○	○	○
○	○	○	□	□	□	○	○	○

○	○	○	□	□	□	○	○	○
○	○	○	■	■	■	○	○	○
○	○	○	□	□	□	○	○	○

○	○	○	□	■	□	○	○	○
○	○	○	□	□	□	○	○	○
○	○	○	□	□	■	○	○	○

○	○	○	□	□	■	○	○	○
○	○	○	□	■	□	○	○	○
○	○	○	■	□	□	○	○	○

○	○	○	□	■	■	○	○	○
○	○	○	□	□	■	○	○	○
○	○	○	■	□	□	○	○	○

○	○	○	■	□	■	○	○	○
○	○	○	□	■	□	○	○	○
○	○	○	□	□	□	○	○	○

※1. このプリントは、しながわ・目黒こどもスクールのウェブサイトでダウンロードができます。無断複写・引用はご遠慮ください。  
 ※2. このプリントを活用したオンライン授業のスケジュールは、しながわ・目黒こどもスクールのウェブサイトでご確認ください。

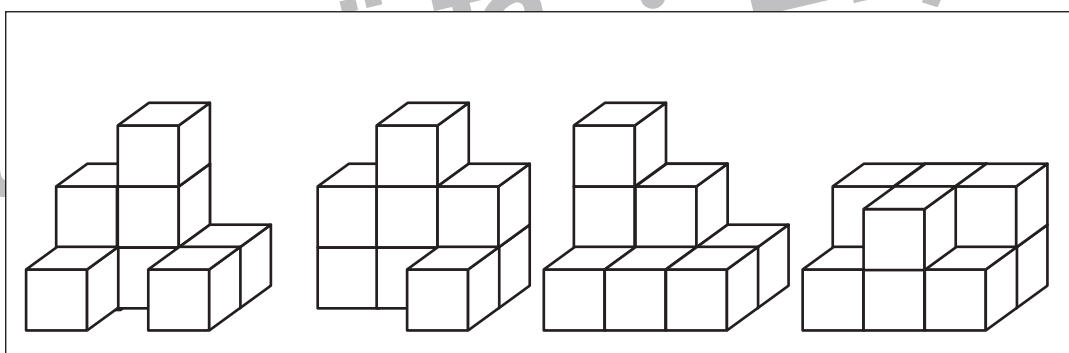
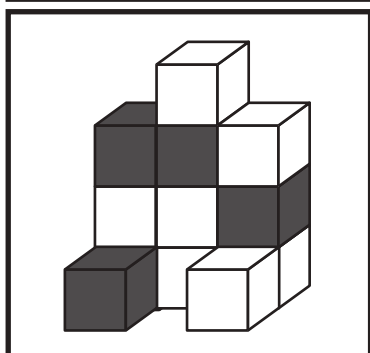
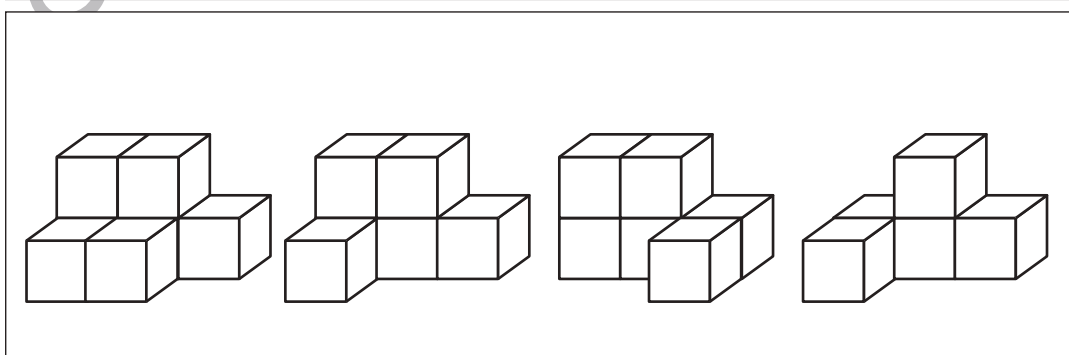
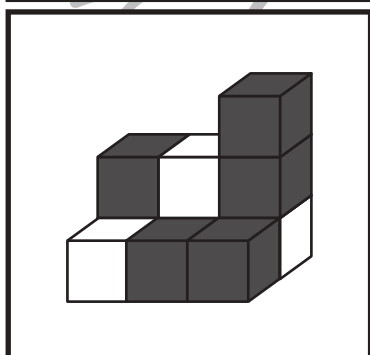
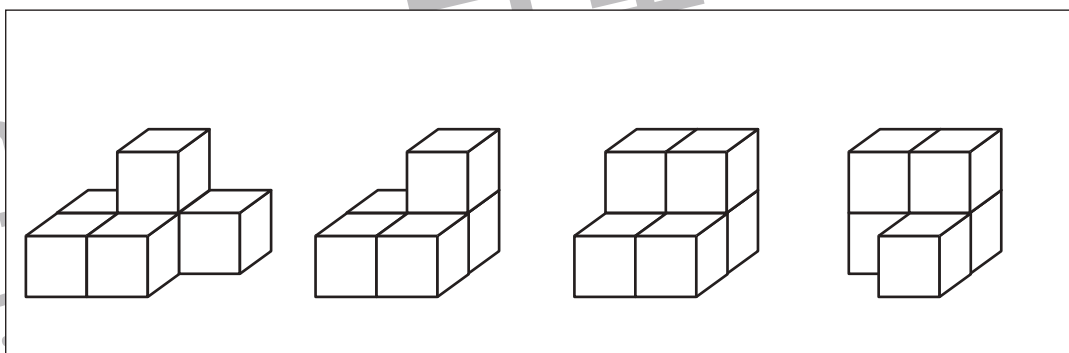
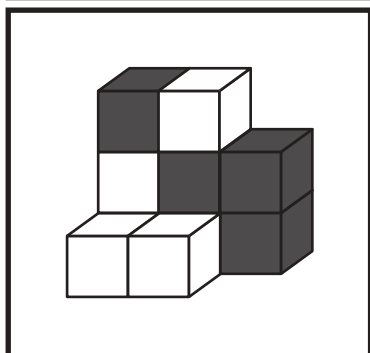
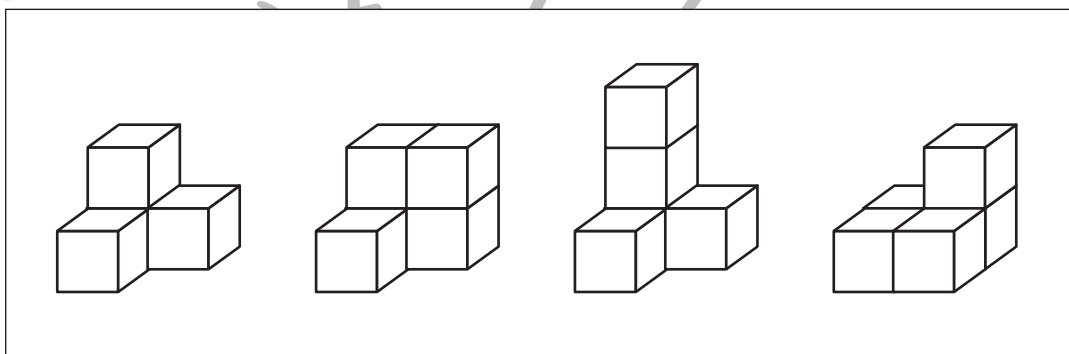
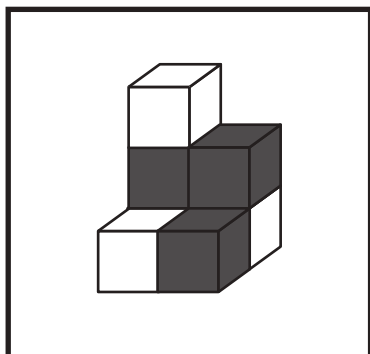
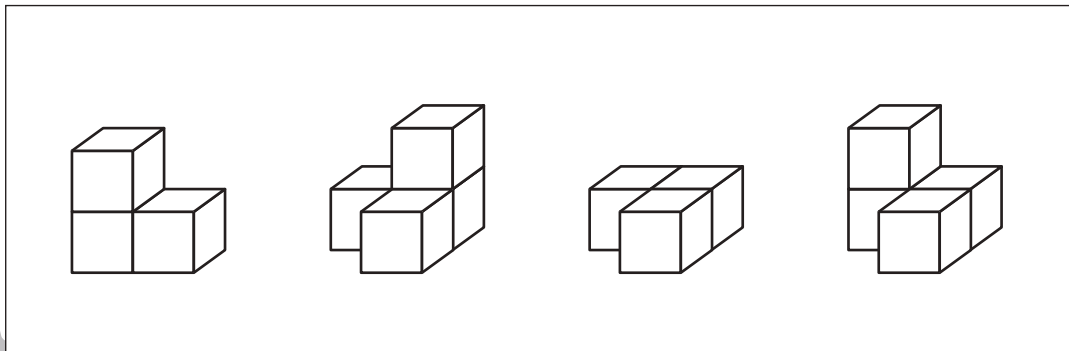
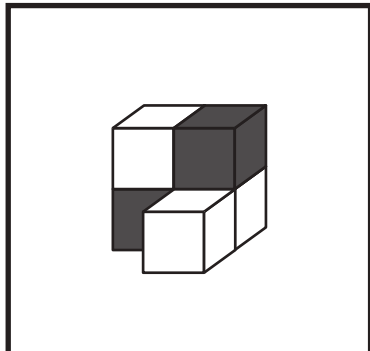


# おうちで、やろう。

Study at home. 小学校受験の家庭学習教材

## 推理：積み木5

左の四角の中の積み木はお手本で黒と白の積み木でできています。黒い積み木は見えているものだけで隠れている場所にはありません。お手本の積み木のうち黒い積み木だけをとります。黒い積み木をとったあと、上にあった白い積み木はそのまま下へ落ちます。この時、残った白い積み木の形を右の四角の中から選んで○をつけます。



※1. このプリントは、しながわ・目黒こどもスクールのウェブサイトでダウンロードができます。無断複写・引用はご遠慮ください。

※2. このプリントを活用したオンライン授業のスケジュールは、しながわ・目黒こどもスクールのウェブサイトでご確認ください。

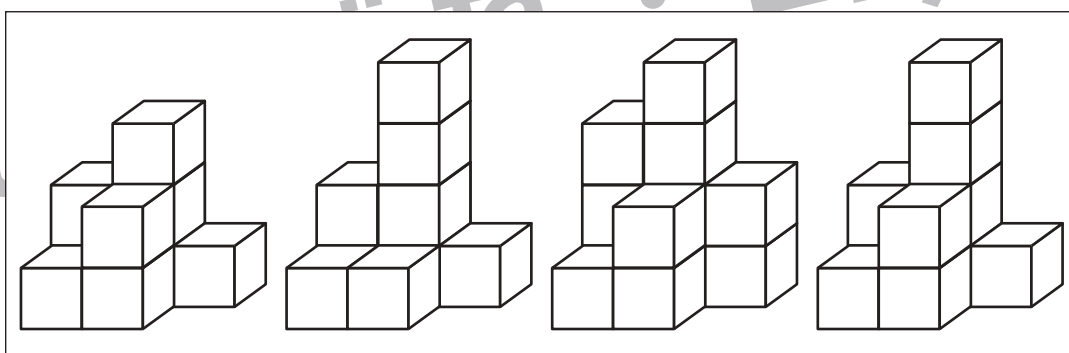
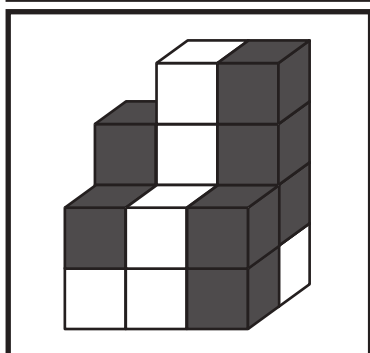
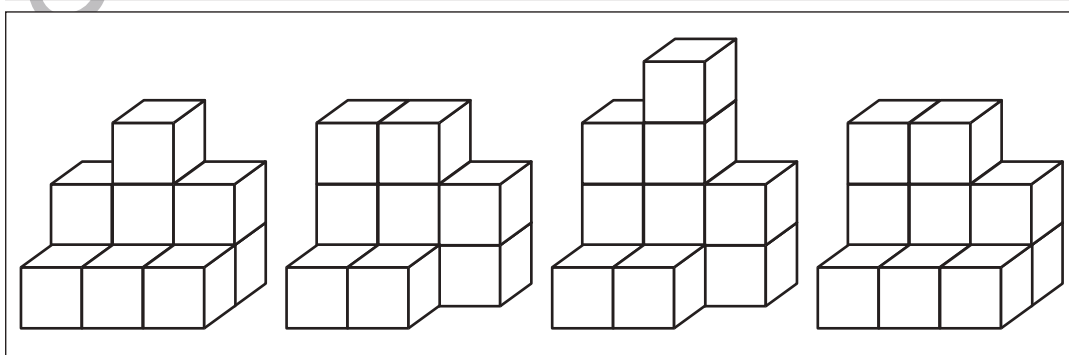
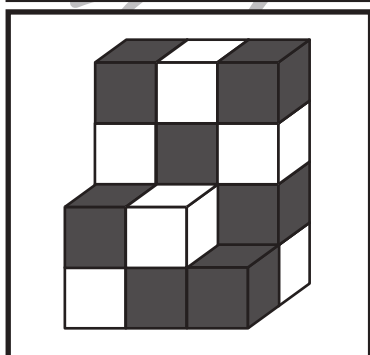
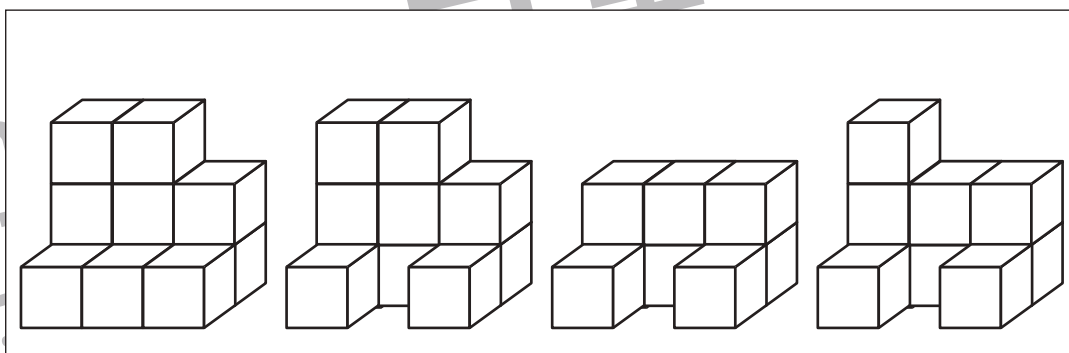
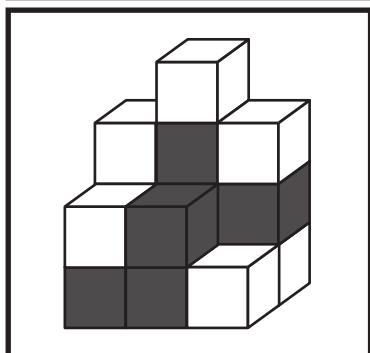
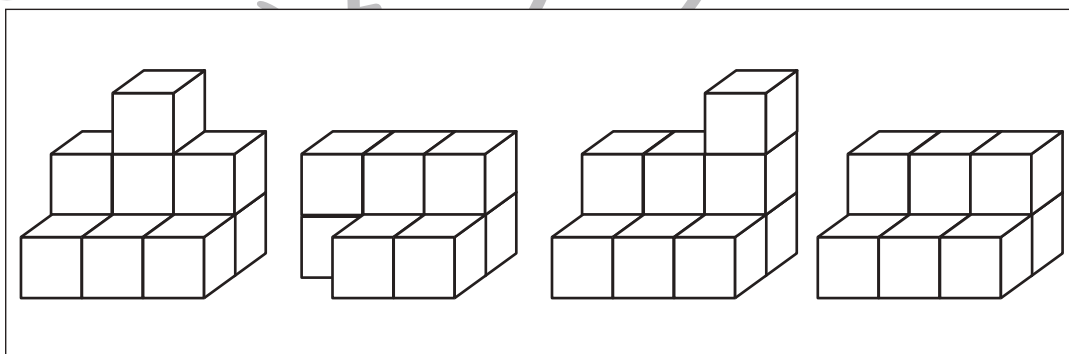
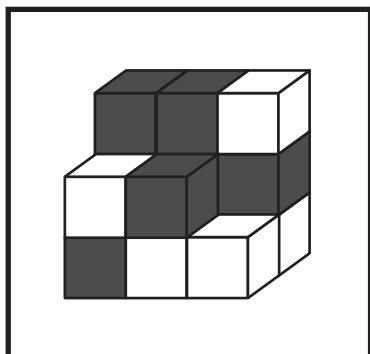
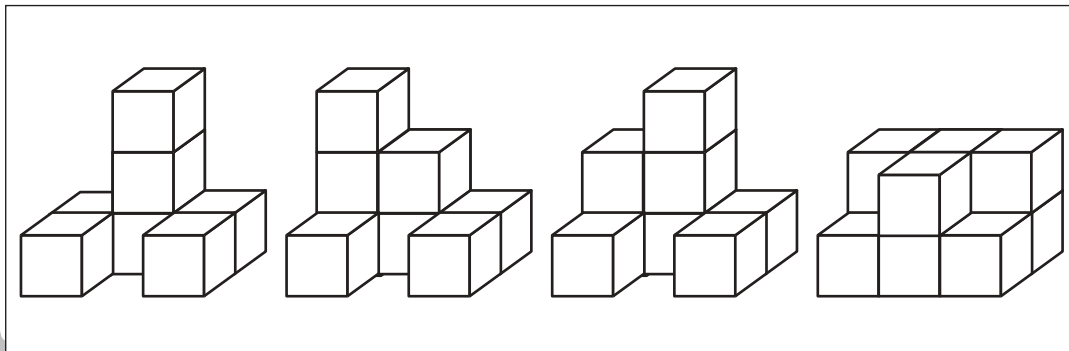
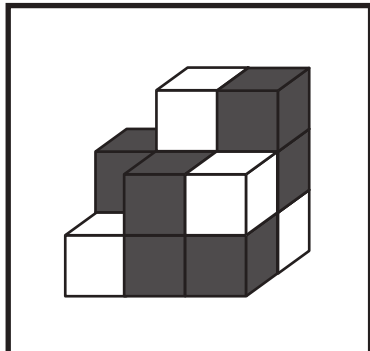


# おうちで、やろう。

Study at home. 小学校受験の家庭学習教材

## 推理：積み木6

左の四角の中の積み木はお手本で黒と白の積み木でできています。黒い積み木は見えているものだけで隠れている場所にはありません。お手本の積み木のうち黒い積み木だけをとります。黒い積み木をとったあと、上にあった白い積み木はそのまま下へ落ちます。この時、残った白い積み木の形を右の四角の中から選んで○をつけます。



※1. このプリントは、しながわ・目黒こどもスクールのウェブサイトでダウンロードができます。無断複写・引用はご遠慮ください。

※2. このプリントを活用したオンライン授業のスケジュールは、しながわ・目黒こどもスクールのウェブサイトでご確認ください。

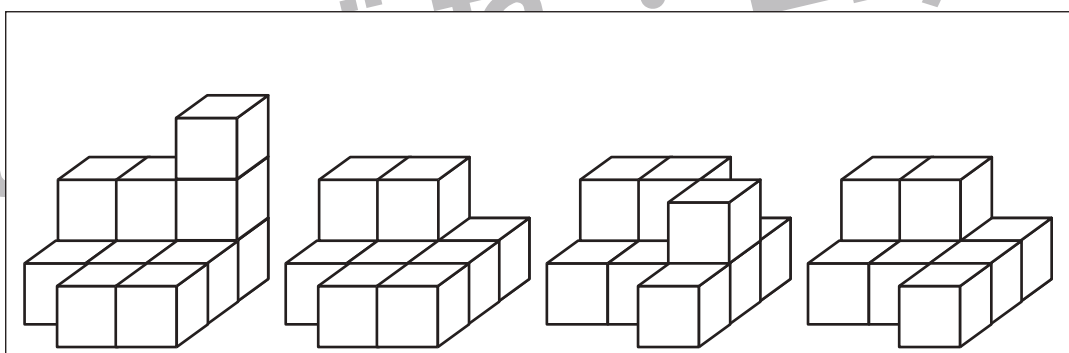
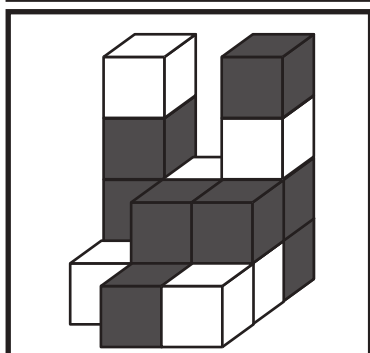
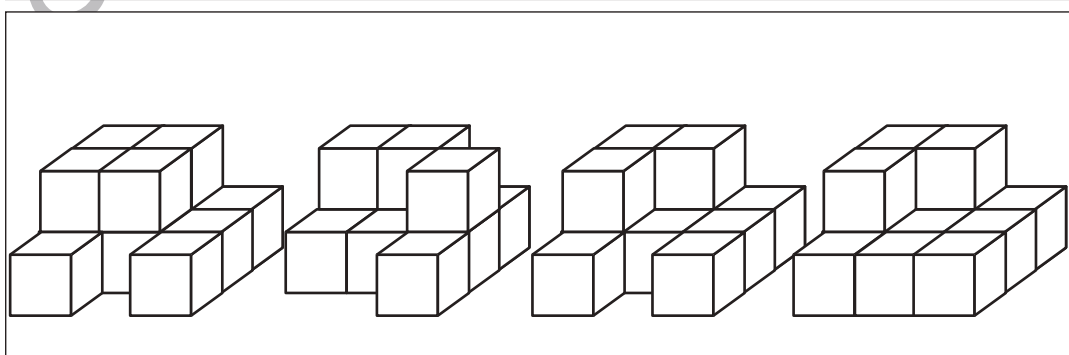
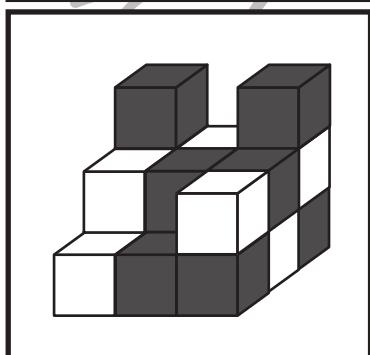
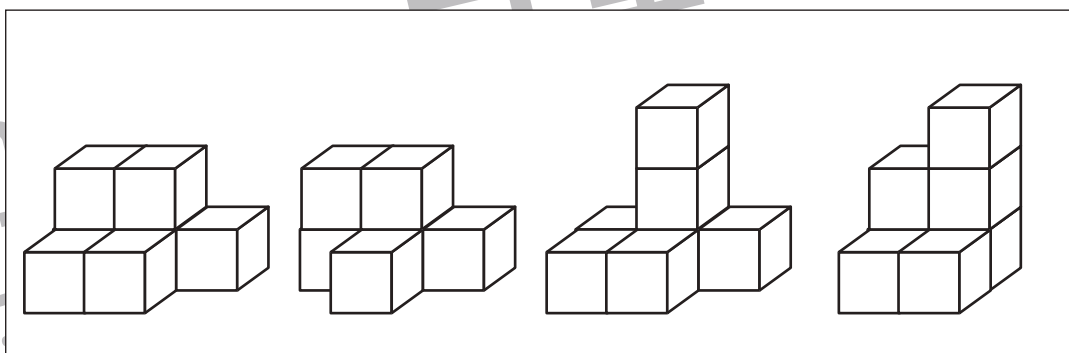
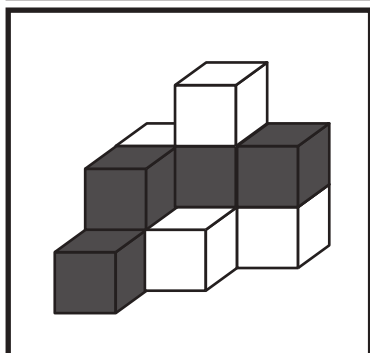
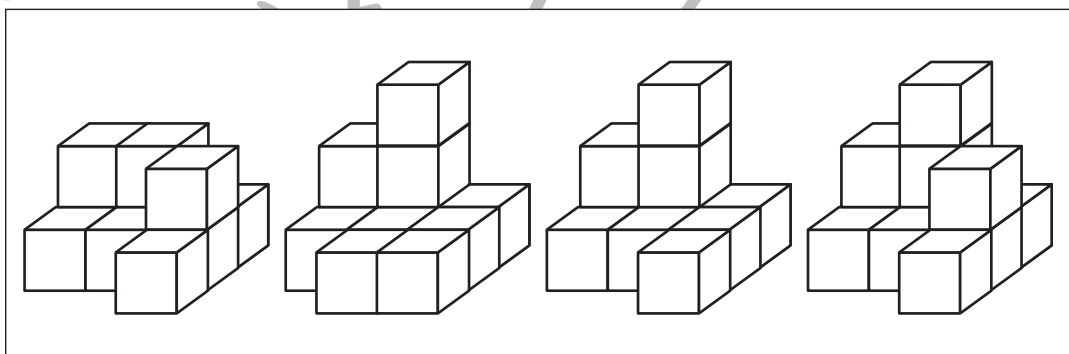
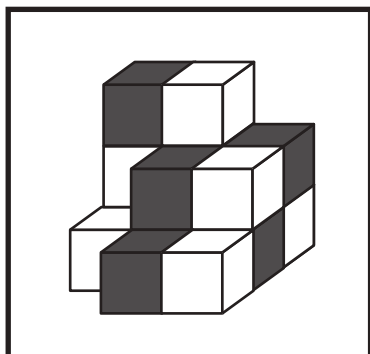
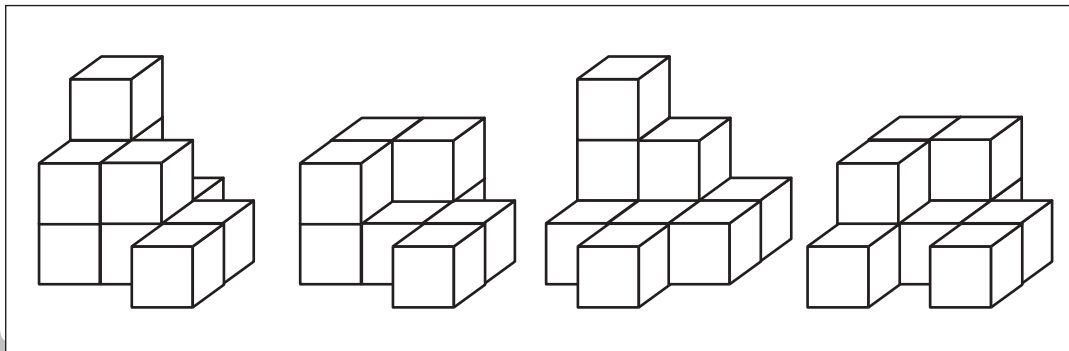
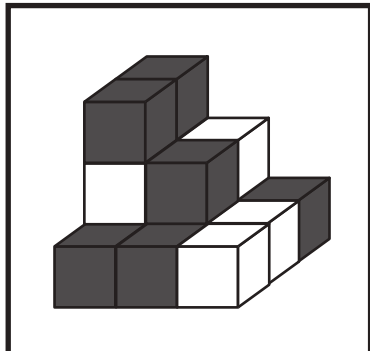


# おうちで、やろう。

Study at home. 小学校受験の家庭学習教材

## 推理：積み木7

左の四角の中の積み木はお手本で黒と白の積み木でできています。黒い積み木は見えているものだけで隠れている場所にはありません。お手本の積み木のうち黒い積み木だけをとります。黒い積み木をとったあと、上にあった白い積み木はそのまま下へ落ちます。この時、残った白い積み木の形を右の四角の中から選んで○をつけます。



※1. このプリントは、しながわ・目黒こどもスクールのウェブサイトからダウンロードできます。無断複写・引用はご遠慮ください。

※2. このプリントを活用したオンライン授業のスケジュールは、しながわ・目黒こどもスクールのウェブサイトでご確認ください。


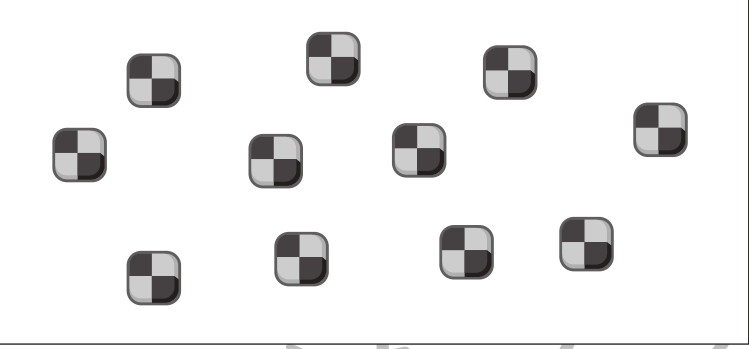










# おうちで、やろう。

Study at home. 小学校受験の家庭学習教材

数量：余る数7

左の四角の中の袋がお手本です。真ん中の大きな四角の中のクッキーでお手本の袋をできるだけ作ります。このとき、余るクッキーはいくつですか。その数だけ一番右の四角に○をかきます。

※1. このプリントは、しながわ・目黒こどもスクールのウェブサイトでダウンロードができます。無断複写・引用はご遠慮ください。  
 ※2. このプリントを活用したオンライン授業のスケジュールは、しながわ・目黒こどもスクールのウェブサイトでご確認ください。



# おうちで、やろう。

Study at home. 小学校受験の家庭学習教材

数量：余る数8

左の四角の中の袋がお手本です。真ん中の大きな四角の中のお菓子でお手本の袋をできるだけ作ります。  
このとき、余るお菓子はそれぞれいくつですか。その数だけ一番右の四角に〇をかきます。余らない場合は何も書きません。


※1. このプリントは、しながわ・目黒こどもスクールのウェブサイトでダウンロードができます。無断複写・引用はご遠慮ください。

※2. このプリントを活用したオンライン授業のスケジュールは、しながわ・目黒こどもスクールのウェブサイトでご確認ください。





# おうちで、やろう。

Study at home. 小学校受験の家庭学習教材

数量：余る数9

左の四角の中の袋がお手本です。真ん中の大きな四角の中の果物でお手本の袋をできるだけ作ります。  
このとき、余る果物はそれぞれいくつですか。その数だけ一番右の四角に○をかきます。余らない場合は何も書きません。


※1. このプリントは、しながわ・目黒こどもスクールのウェブサイトからダウンロードできます。無断複写・引用はご遠慮ください。

※2. このプリントを活用したオンライン授業のスケジュールは、しながわ・目黒こどもスクールのウェブサイトでご確認ください。















# おうちで、やろう。

Study at home. 小学校受験の家庭学習教材

## 図形：島作り3

黒い丸を全て通って1本の線をつなぎ、島をつくります。縦と横と斜めに進めます。



※1. このプリントは、しながわ・目黒こどもスクールのウェブサイトでダウンロードができます。無断複写・引用はご遠慮ください。  
※2. このプリントを活用したオンライン授業のスケジュールは、しながわ・目黒こどもスクールのウェブサイトでご確認ください。