

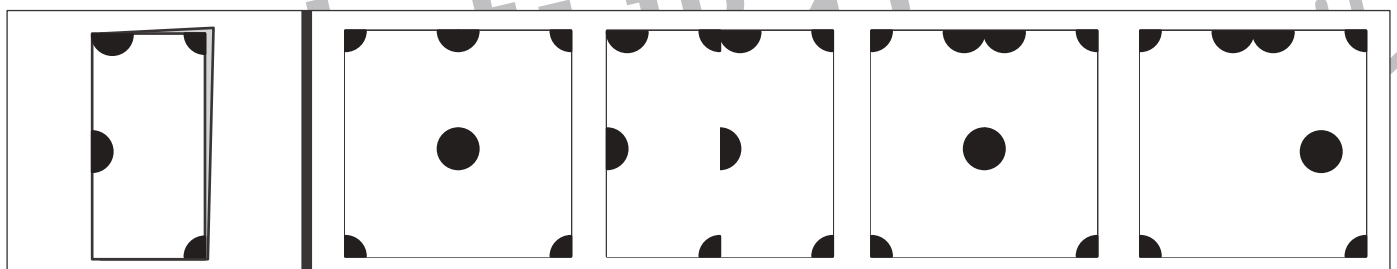


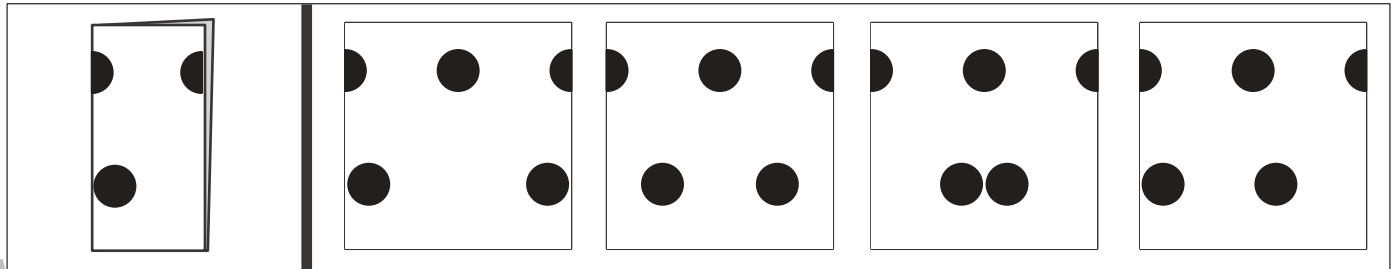
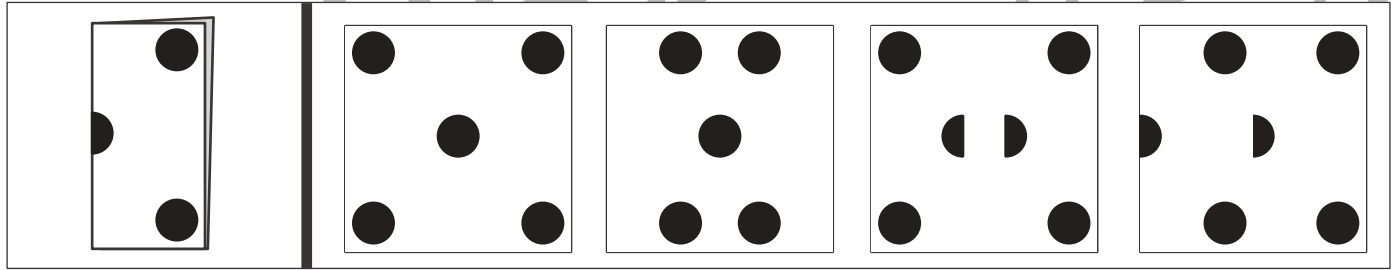
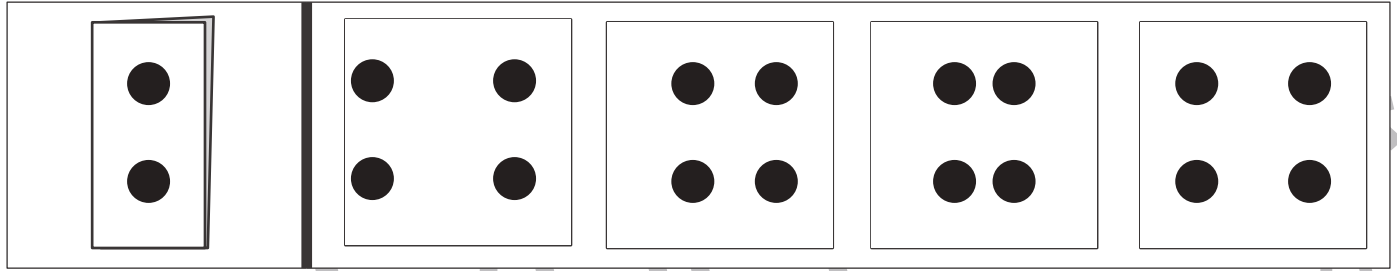


おうちで、やろう。

Study at home. 小学校受験の家庭学習教材

図形：切り抜き5

左のお手本のように折り紙を折り、黒い部分を切り抜いて広げたときの見え方を考えて右の4つの中から正しいものを選んでOをつけます。



※1. このプリントは、しながわ・目黒こどもスクールのウェブサイトでダウンロードができます。無断複写・引用はご遠慮ください。

※2. このプリントを活用したオンライン授業のスケジュールは、しながわ・目黒こどもスクールのウェブサイトでご確認ください。



おうちで、やろう。

Study at home. 小学校受験の家庭学習教材

図形：切り抜き6

左のお手本のように折り紙を折り、黒い部分を切り抜いて広げたときの見え方を考えて右の4つの中から正しいものを選んで○をつけます。

※1. このプリントは、しながわ・目黒こどもスクールのウェブサイトでダウンロードができます。無断複写・引用はご遠慮ください。

※2. このプリントを活用したオンライン授業のスケジュールは、しながわ・目黒こどもスクールのウェブサイトでご確認ください。


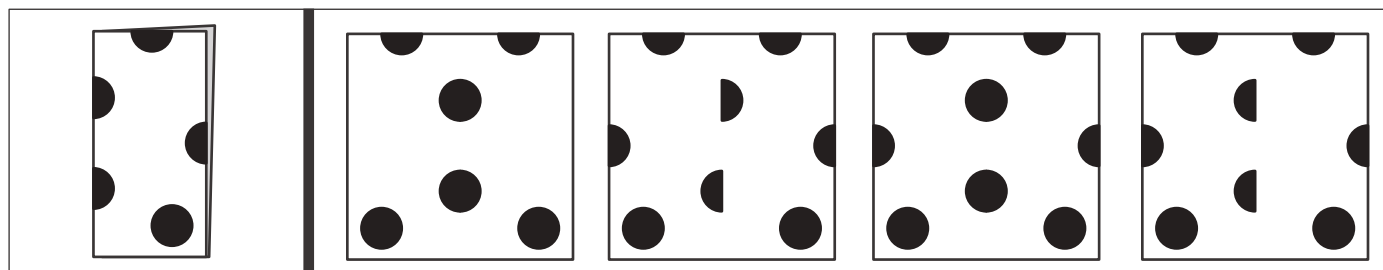
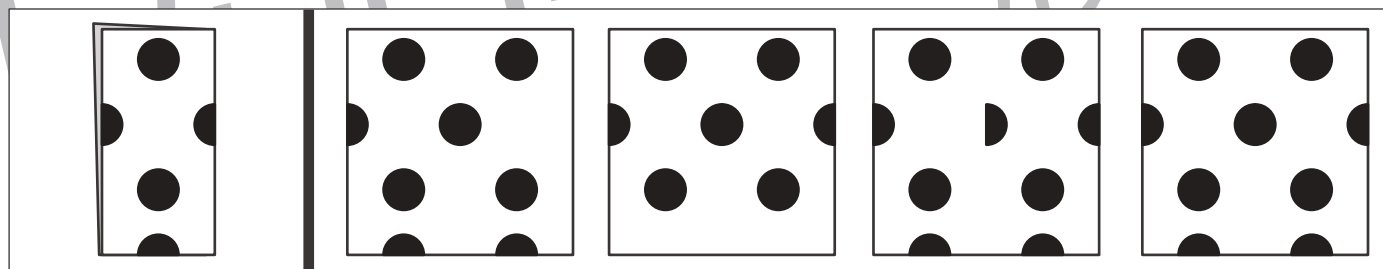
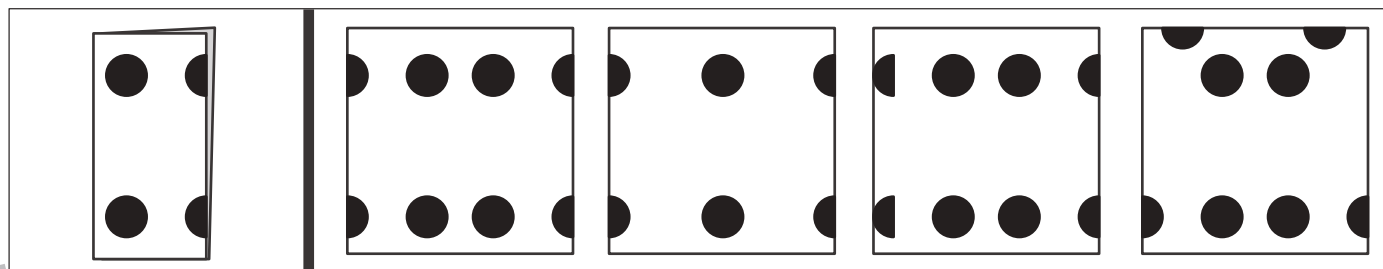
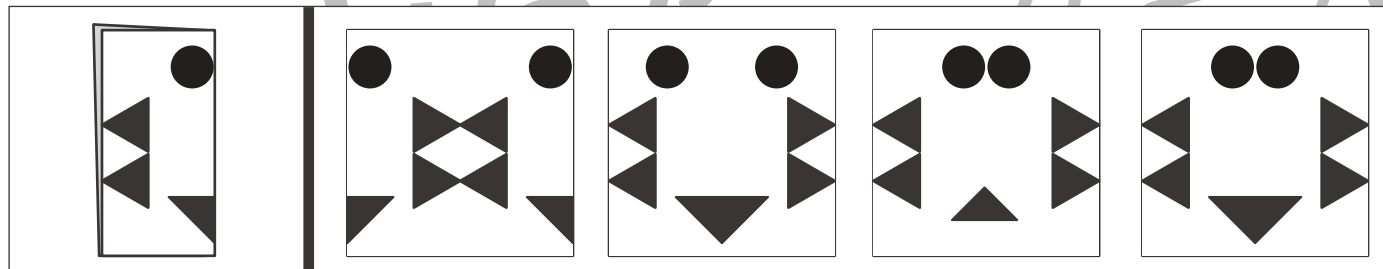



おうちで、やろう。

Study at home. 小学校受験の家庭学習教材

図形：切り抜き7

左のお手本のように折り紙を折り、黒い部分を切り抜いて広げたときの見え方を考えて右の4つの中から正しいものを選んで○をつけます。



※1. このプリントは、しながわ・目黒こどもスクールのウェブサイトでダウンロードができます。無断複写・引用はご遠慮ください。

※2. このプリントを活用したオンライン授業のスケジュールは、しながわ・目黒こどもスクールのウェブサイトでご確認ください。

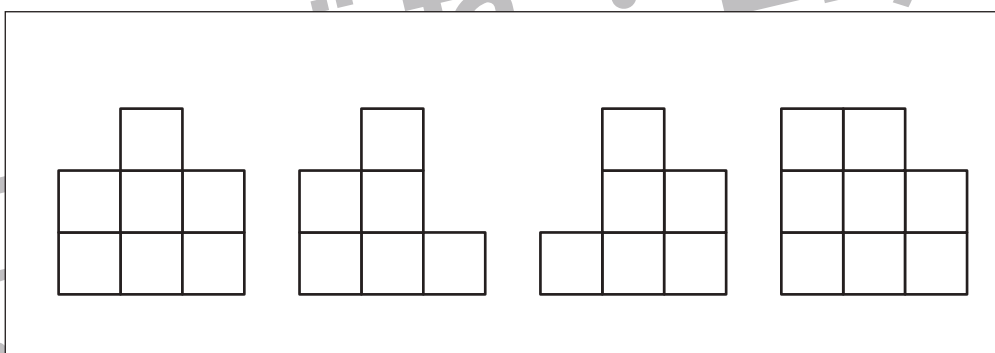

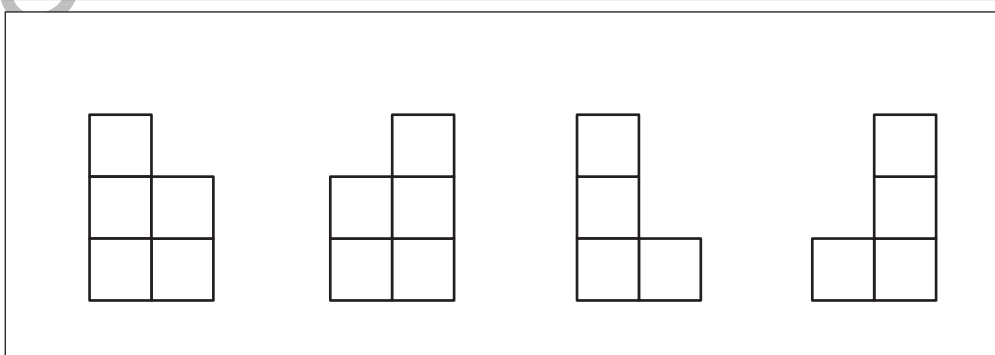

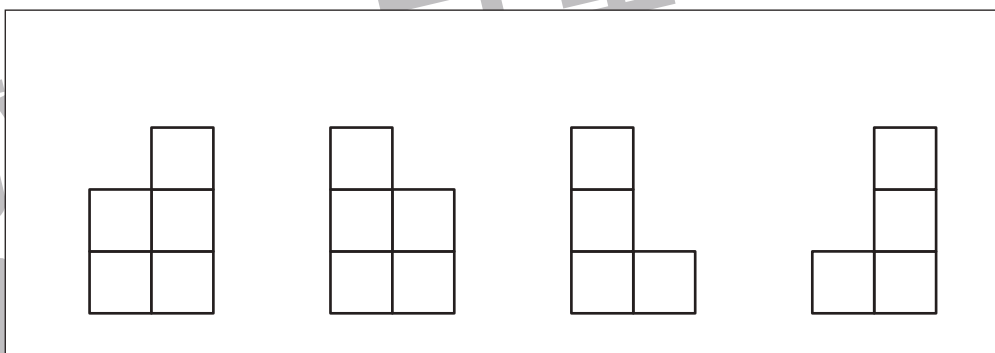

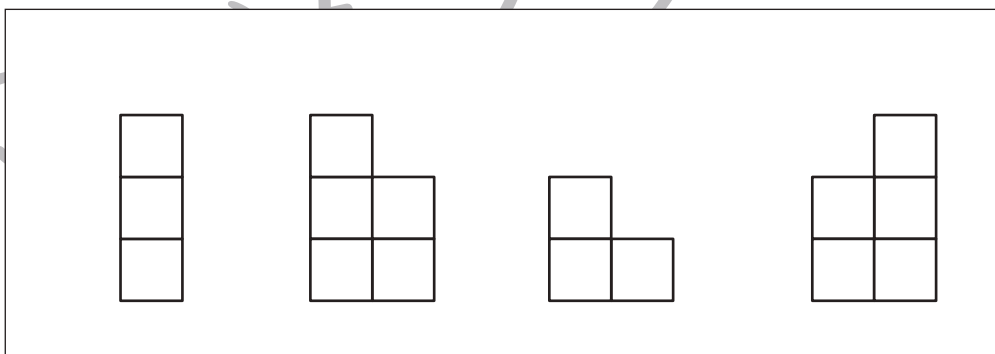

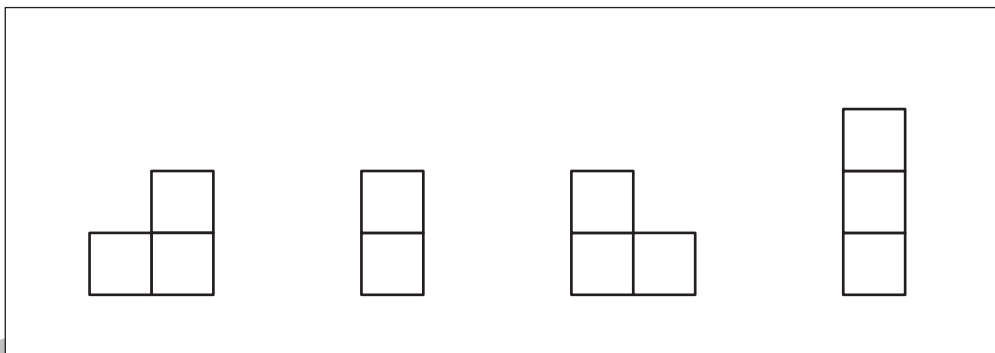



おうちで、やろう。

Study at home. 小学校受験の家庭学習教材

推理：四方観察3

左の太い四角の中の積み木がお手本です。このお手本を女の子の方（後ろ）から見たときの見え方を考えます。ただししものを右の4つの中から選んで○をつけます。



※1. このプリントは、しながわ・目黒こどもスクールのウェブサイトでダウンロードができます。無断複写・引用はご遠慮ください。
※2. このプリントを活用したオンライン授業のスケジュールは、しながわ・目黒こどもスクールのウェブサイトでご確認ください。



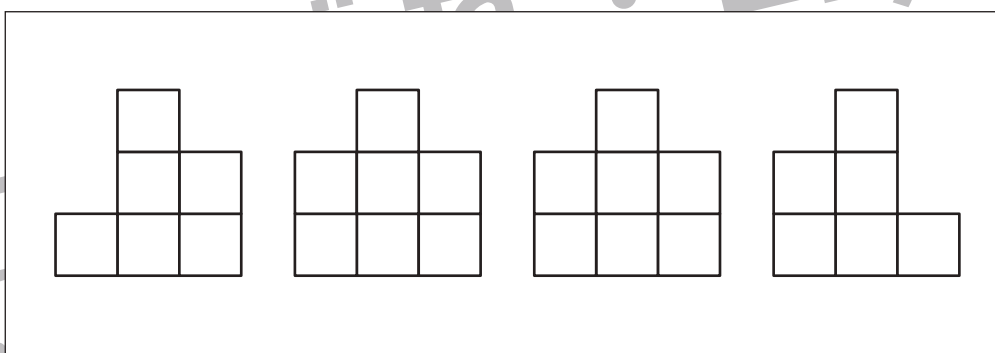

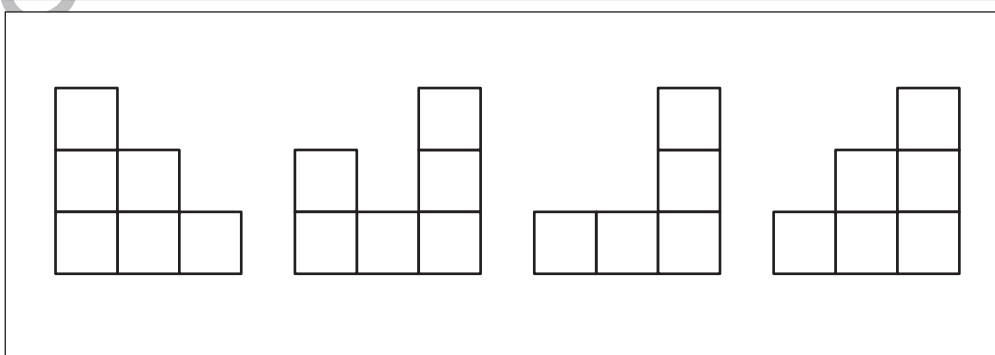

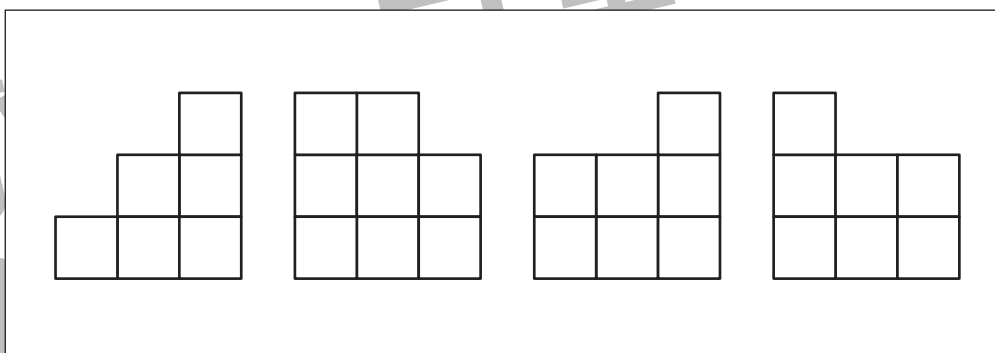

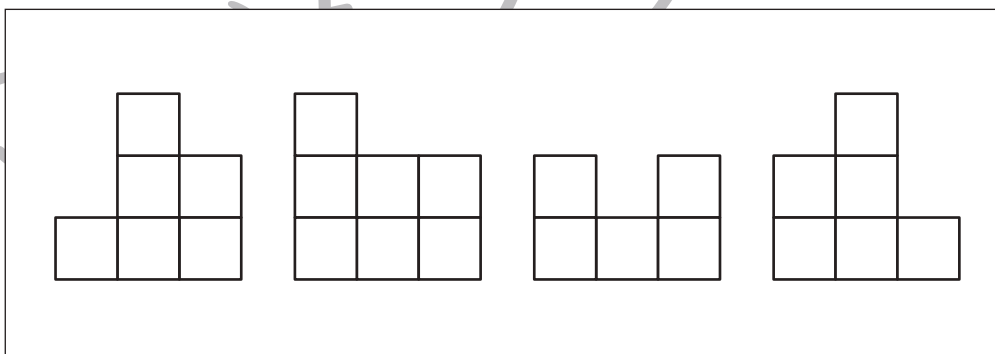

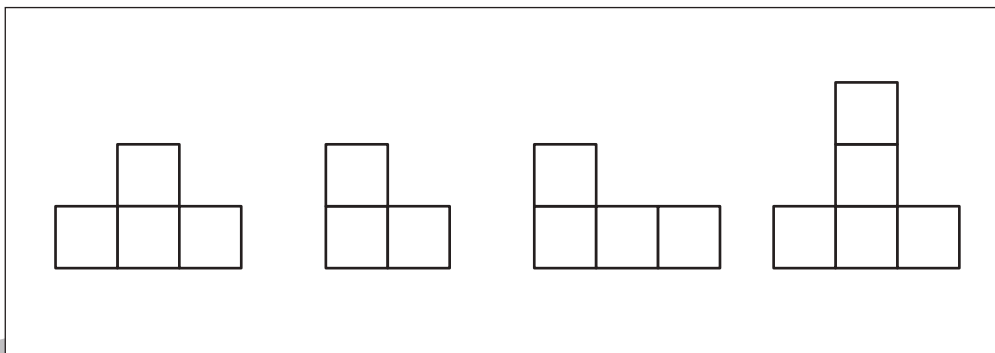



おうちで、やろう。

Study at home. 小学校受験の家庭学習教材

推理：四方観察4

左の太い四角の中の積み木がお手本です。このお手本を女の子の方（後ろ）から見たときの見え方を考えます。ただしものを右の4つの中から選んで○をつけます。



※1. このプリントは、しながわ・目黒こどもスクールのウェブサイトでダウンロードができます。無断複写・引用はご遠慮ください。
※2. このプリントを活用したオンライン授業のスケジュールは、しながわ・目黒こどもスクールのウェブサイトでご確認ください。





おうちで、やろう。

Study at home. 小学校受験の家庭学習教材

推理：系列完成 6

絵がある順番通りに並んでいます。数字の四角に入る絵の並び方を考えて、下の4つから正しい組み合わせを選んで○をつけます。

							①		①					
		②		②										
						③	③							

①

②

③

	④	④	④				⑤	⑤	⑤					
												⑥	⑥	⑥

④

⑤

⑥

※1. このプリントは、しながわ・目黒こどもスクールのウェブサイトからダウンロードできます。無断複写・引用はご遠慮ください。
 ※2. このプリントを活用したオンライン授業のスケジュールは、しながわ・目黒こどもスクールのウェブサイトでご確認ください。



おうちで、やろう。

Study at home. 小学校受験の家庭学習教材

数量：違う数3

ゾウとライオンとクマが同じ果物を持っていますが、持っている数が違います。3匹の持っている果物のうち数が一番多い動物と数が一番少ない動物の果物の数の違いはいくつですか。その数だけ下の四角に○をかきます。

※1. このプリントは、しながわ・目黒こどもスクールのウェブサイトでダウンロードができます。無断複写・引用はご遠慮ください。
 ※2. このプリントを活用したオンライン授業のスケジュールは、しながわ・目黒こどもスクールのウェブサイトでご確認ください。









おうちで、やろう。




Study at home. 小学校受験の家庭学習教材




数量：違う数4




ゾウとライオンとクマが同じクッキーを持っていますが、持っている数が違います。3匹の持っているクッキーのうち数が一番多い動物と数が一番少ない動物のクッキーの数の違いはいくつですか。その数だけ下の四角に○をかきます。

 6 smiley faces	 6 smiley faces	 10 smiley faces

 8 checkerboard squares	 10 checkerboard squares	 6 checkerboard squares

 10 dotted circles	 6 dotted circles	 6 dotted circles

 10 flowers	 6 flowers	 10 flowers

 10 hearts	 6 hearts	 10 hearts

※1. このプリントは、しながわ・目黒こどもスクールのウェブサイトでダウンロードができます。無断複写・引用はご遠慮ください。
 ※2. このプリントを活用したオンライン授業のスケジュールは、しながわ・目黒こどもスクールのウェブサイトでご確認ください。











おうちで、やろう。





Study at home. 小学校受験の家庭学習教材





数量：違う数5





ゾウとブタとライオンとクマが同じクッキーを持っていますが、持っている数が違います。4匹の持っているクッキーのうち数が一番多い動物と数が一番少ない動物のクッキーの数の違いはいくつですか。その数だけ下の四角に○をかきます。

 4 checkerboard cookies	 2 checkerboard cookies	 3 checkerboard cookies	 6 checkerboard cookies

 3 flower cookies	 5 flower cookies	 8 flower cookies	 4 flower cookies

 6 round cookies	 5 round cookies	 7 round cookies	 6 round cookies

 4 heart cookies	 5 heart cookies	 6 heart cookies	 9 heart cookies

 10 smiley cookies	 5 smiley cookies	 7 smiley cookies	 5 smiley cookies

※1. このプリントは、しながわ・目黒こどもスクールのウェブサイトでダウンロードができます。無断複写・引用はご遠慮ください。
 ※2. このプリントを活用したオンライン授業のスケジュールは、しながわ・目黒こどもスクールのウェブサイトでご確認ください。



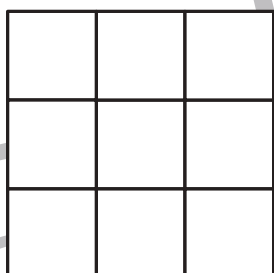

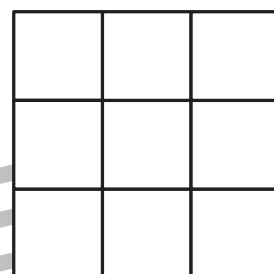
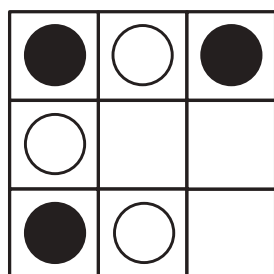
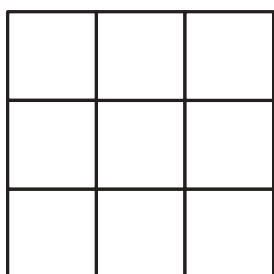

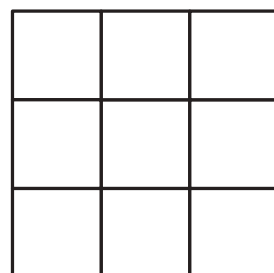

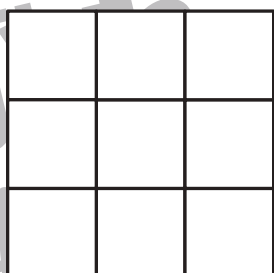

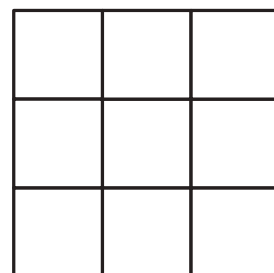
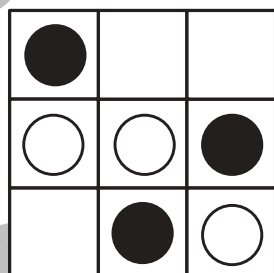

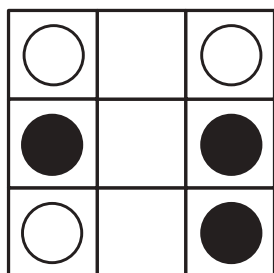


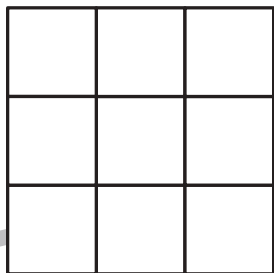
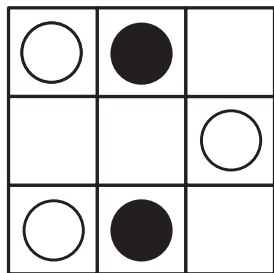


おうちで、やろう。

Study at home. 小学校受験の家庭学習教材

図形：条件模写 4

左のお手本の○は●へ、●は○へと色を変えて右の四角にかきます。



※1. このプリントは、しながわ・目黒こどもスクールのウェブサイトでダウンロードができます。無断複写・引用はご遠慮ください。
※2. このプリントを活用したオンライン授業のスケジュールは、しながわ・目黒こどもスクールのウェブサイトでご確認ください。

