



# おうちで、やろう。

Study at home. 小学校受験の家庭学習教材


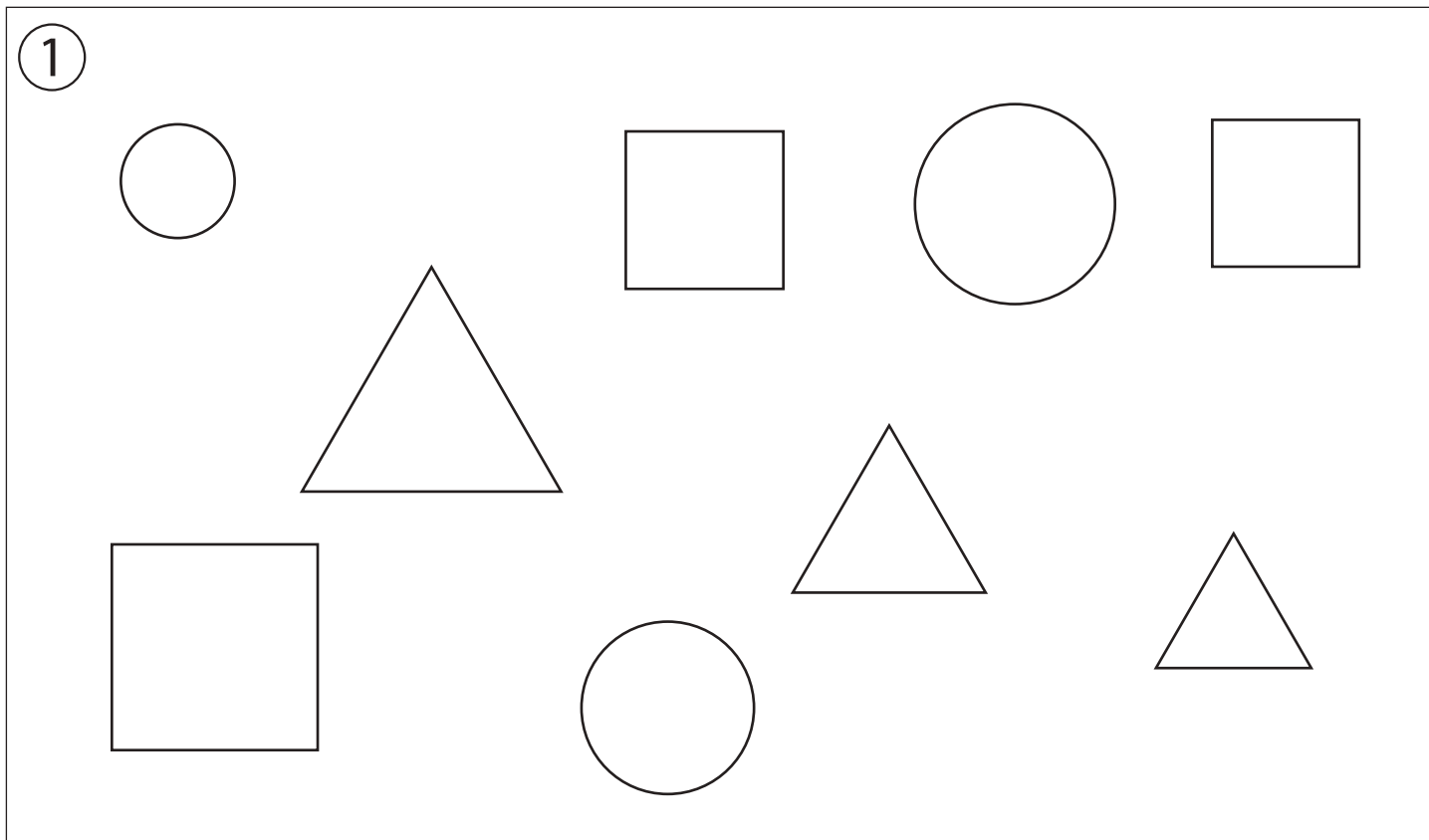
## 指示の聞き取り8

それぞれお話をよく聞いて問題に取り組みます。お話は一度しか読みませんのでしっかり聞きましょう。

①○は赤、□は青、△は緑で塗ります。

②○は茶色、□は黄色、☆は四角と同じ色で塗ります。

※この問題に解答はありません。



※1. このプリントは、しながわ・目黒こどもスクールのウェブサイトでダウンロードができます。無断複写・引用はご遠慮ください。

※2. このプリントを活用したオンライン授業のスケジュールは、しながわ・目黒こどもスクールのウェブサイトでご確認ください。

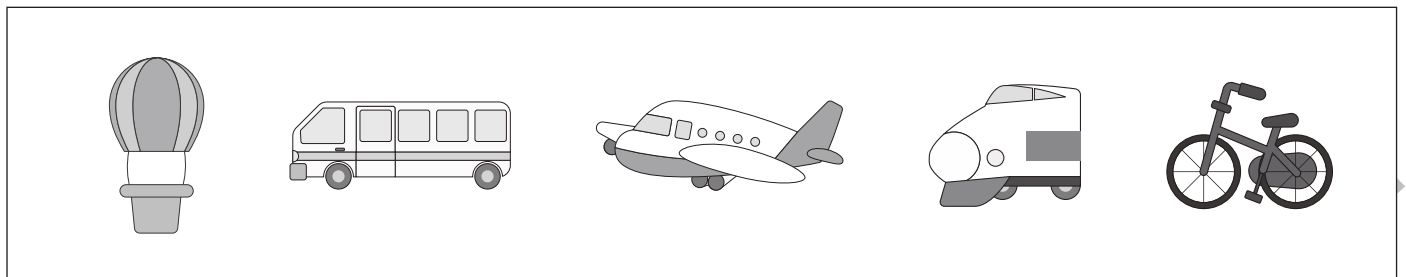

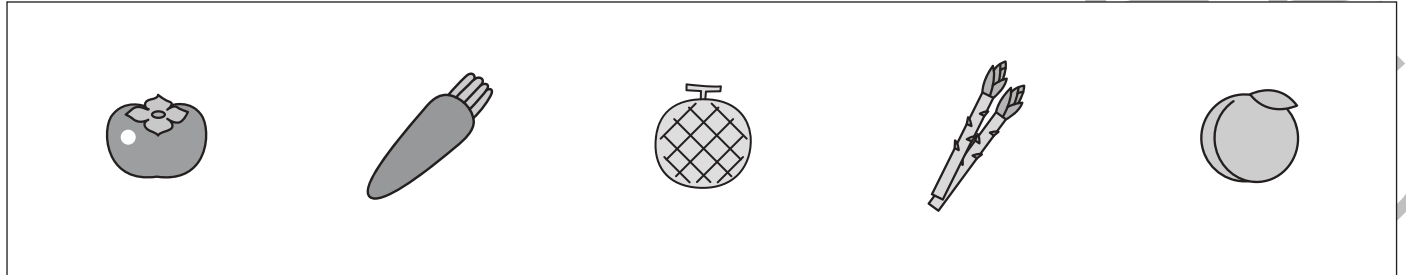


# おうちで、やろう。

Study at home. 小学校受験の家庭学習教材

言語：音の数9

それぞれの四角の中の名前の音の数が同じものを2つつけて○をつけます。



※1. このプリントは、しながわ・目黒こどもスクールのウェブサイトでダウンロードができます。無断複写・引用はご遠慮ください。

※2. このプリントを活用したオンライン授業のスケジュールは、しながわ・目黒こどもスクールのウェブサイトでご確認ください。





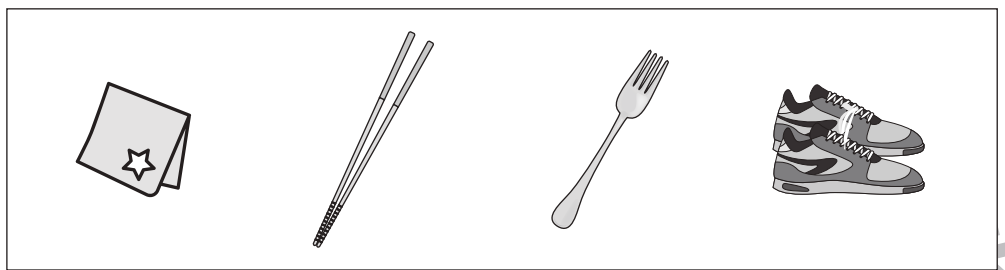
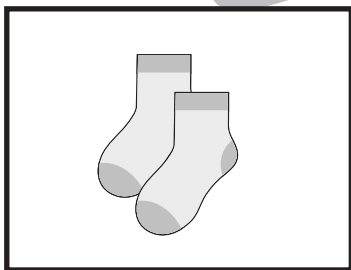

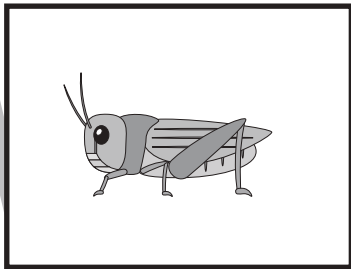



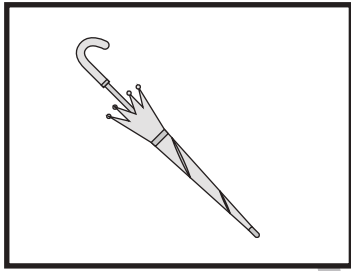


# おうちで、やろう。

Study at home. 小学校受験の家庭学習教材

## 言語：数え方2

左の四角の中と同じ数え方をするものを右の中から見つけて○をつけます。



※1. このプリントは、しながわ・目黒こどもスクールのウェブサイトでダウンロードができます。無断複写・引用はご遠慮ください。  
※2. このプリントを活用したオンライン授業のスケジュールは、しながわ・目黒こどもスクールのウェブサイトでご確認ください。





# おうちで、やろう。

Study at home. 小学校受験の家庭学習教材

図形：鏡 11

左の見本を真ん中の太い線の上に鏡を置いて見た時の見え方を右の四角にかきます。


※1. このプリントは、しながわ・目黒こどもスクールのウェブサイトでダウンロードができます。無断複写・引用はご遠慮ください。  
 ※2. このプリントを活用したオンライン授業のスケジュールは、しながわ・目黒こどもスクールのウェブサイトでご確認ください。



左の見本を真ん中の太い線の上に鏡を置いて見た時の見え方を右の四角にかきます。


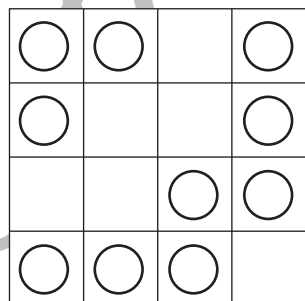

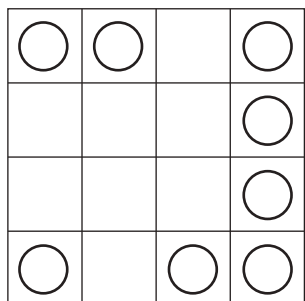

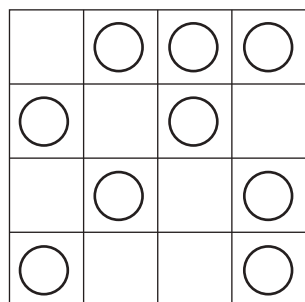


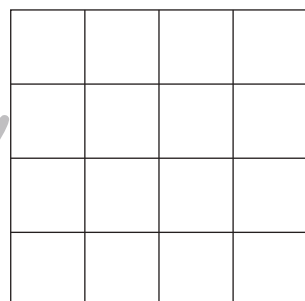
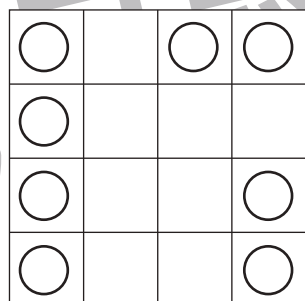
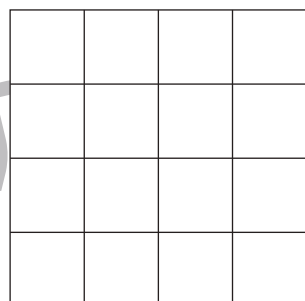
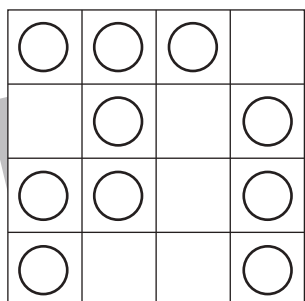

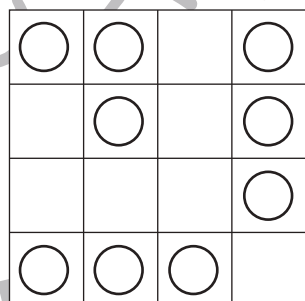

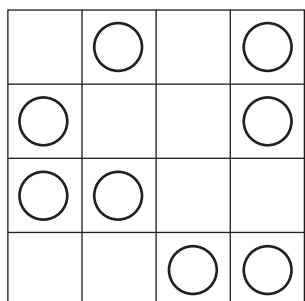

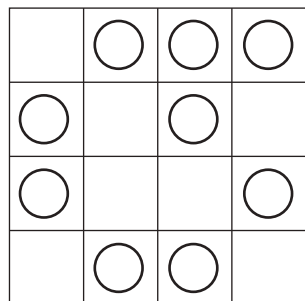

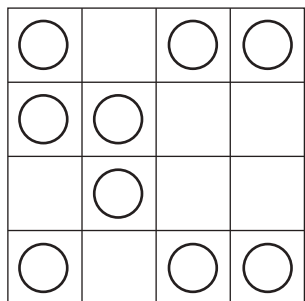

※1. このプリントは、しながわ・目黒こどもスクールのウェブサイトでダウンロードができます。無断複写・引用はご遠慮ください。  
 ※2. このプリントを活用したオンライン授業のスケジュールは、しながわ・目黒こどもスクールのウェブサイトでご確認ください。



# おうちで、やろう。

Study at home. 小学校受験の家庭学習教材

左の見本を真ん中の太い線の上に鏡を置いて見た時の見え方を右の四角にかきます。



※1. このプリントは、しながわ・目黒こどもスクールのウェブサイトからダウンロードできます。無断複写・引用はご遠慮ください。  
 ※2. このプリントを活用したオンライン授業のスケジュールは、しながわ・目黒こどもスクールのウェブサイトでご確認ください。




















































# おうちで、やろう。

Study at home. 小学校受験の家庭学習教材

数量：置き換え4

上の太い四角の中が約束です。それぞれの花瓶の中には矢印の右にある花が入っています。四角の中の花瓶に入っている花はそれぞれ合わせていくつになりますか。その数だけ下のそれぞれの花の四角に○をかきます。

 →  	 →  	 →   
 	 	 
		
		
 	 	 
		
		
  	  	  
		
		

※1. このプリントは、しながわ・目黒こどもスクールのウェブサイトでダウンロードができます。無断複写・引用はご遠慮ください。

※2. このプリントを活用したオンライン授業のスケジュールは、しながわ・目黒こどもスクールのウェブサイトでご確認ください。

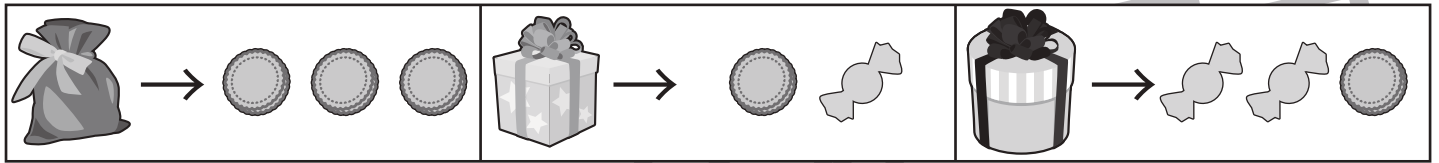





























# おうちで、やろう。

Study at home. 小学校受験の家庭学習教材

数量：置き換え5

上の太い四角の中が約束です。それぞれの箱や袋の中には矢印の右にあるお菓子が入っています。四角の中の箱や袋に入っているお菓子はそれぞれ合わせていくつになりますか。その数だけ下のそれぞれの花の四角に○をかきます。



※1. このプリントは、しながわ・目黒こどもスクールのウェブサイトでダウンロードができます。無断複写・引用はご遠慮ください。

※2. このプリントを活用したオンライン授業のスケジュールは、しながわ・目黒こどもスクールのウェブサイトでご確認ください。



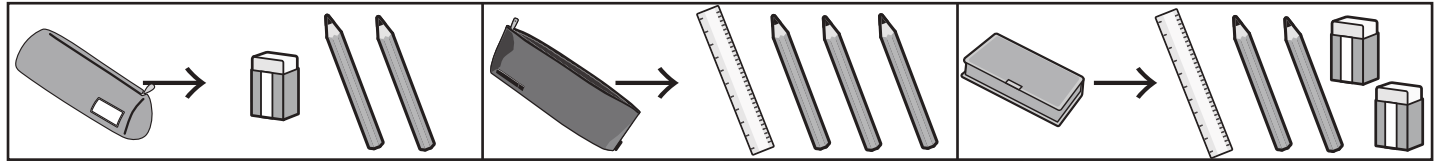


# おうちで、やろう。

Study at home. 小学校受験の家庭学習教材

数量：置き換え6

上の太い四角の中が約束です。それぞれの筆箱の中には矢印の右にある文房具が入っています。四角の中の筆箱に入っている文房具はそれぞれ合わせていくつになりますか。その数だけ下のそれぞれの文房具の四角に○をかきます。




※1. このプリントは、しながわ・目黒こどもスクールのウェブサイトでダウンロードができます。無断複写・引用はご遠慮ください。

※2. このプリントを活用したオンライン授業のスケジュールは、しながわ・目黒こどもスクールのウェブサイトでご確認ください。

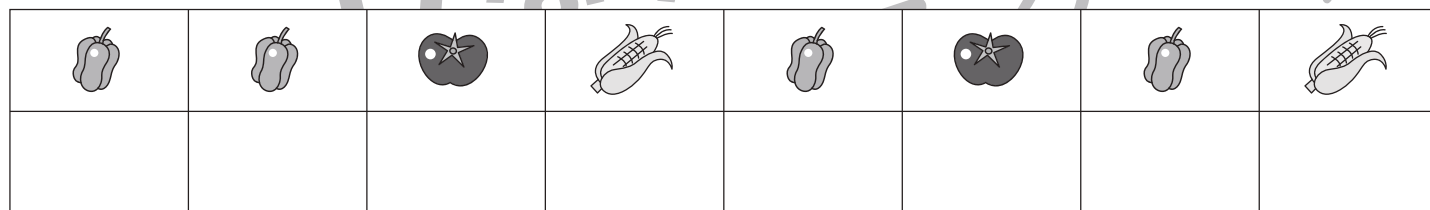
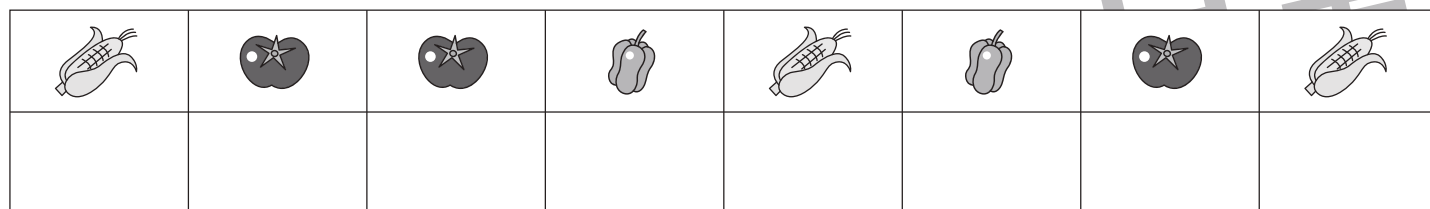




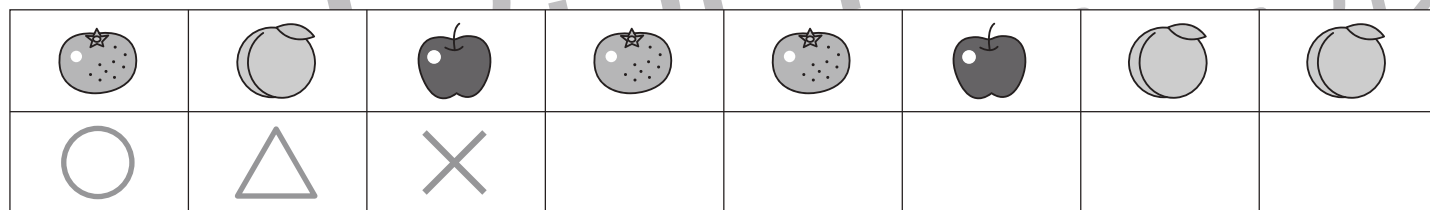
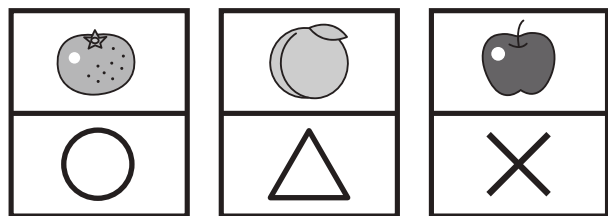


# おうちで、やろう。

Study at home. 小学校受験の家庭学習教材

## 処理能力：置き換え1

上の太い四角の中の絵がお手本です。上の絵の時に下の四角にそれぞれの記号をかきます。問題は一番上の段の左からはじめて、右端まで見ます。1段目ができたら2段目の左から右。次に3段目の左から右と順番に記号をかきます。この問題はできるだけ早く印をつけます。それぞれ1分以内を目指し取り組みましょう。



※1. このプリントは、しながわ・目黒こどもスクールのウェブサイトでダウンロードができます。無断複写・引用はご遠慮ください。  
※2. このプリントを活用したオンライン授業のスケジュールは、しながわ・目黒こどもスクールのウェブサイトでご確認ください。