















# おうちで、やろう。

Study at home. 小学校受験の家庭学習教材

## 常識：季節7

右の絵の行事や様子を1月から順番通りに並べて1番目の絵と星が1つある四角の点と点を結びます。同じようにそれぞれの絵が何番目なのかを考えてその数の星の四角の点と点を線で結びます。

※1. このプリントは、しながわ・目黒こどもスクールのウェブサイトでダウンロードができます。無断複写・引用はご遠慮ください。

※2. このプリントを活用したオンライン授業のスケジュールは、しながわ・目黒こどもスクールのウェブサイトでご確認ください。















# おうちで、やろう。

Study at home. 小学校受験の家庭学習教材

## 常識：季節8

右の絵の行事や様子を1月から順番通りに並べて1番目の絵と星が1つある四角の点と点を結びます。同じようにそれぞれの絵が何番目なのかを考えてその数の星の四角の点と点を線で結びます。

※1. このプリントは、しながわ・目黒こどもスクールのウェブサイトでダウンロードができます。無断複写・引用はご遠慮ください。

※2. このプリントを活用したオンライン授業のスケジュールは、しながわ・目黒こどもスクールのウェブサイトでご確認ください。

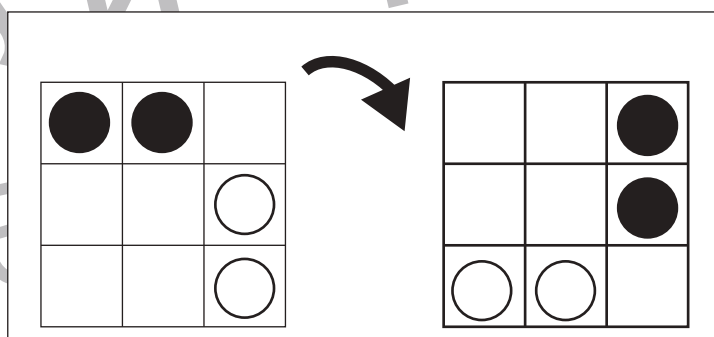
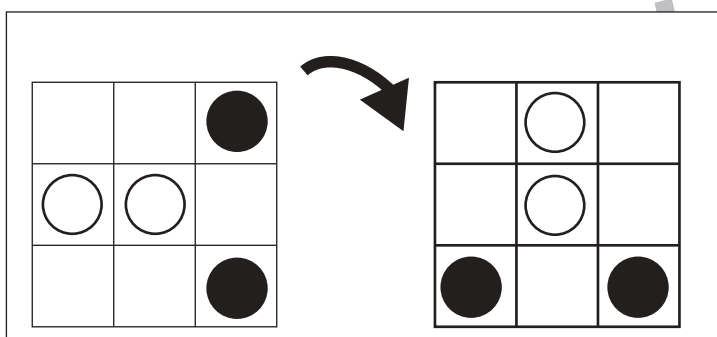
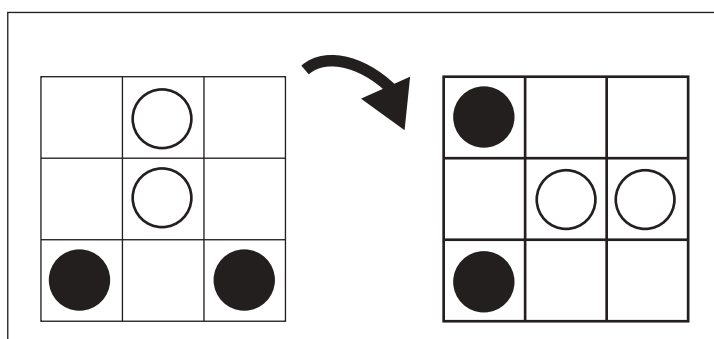
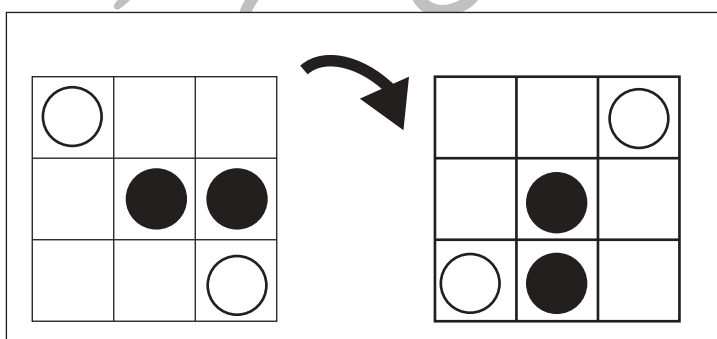
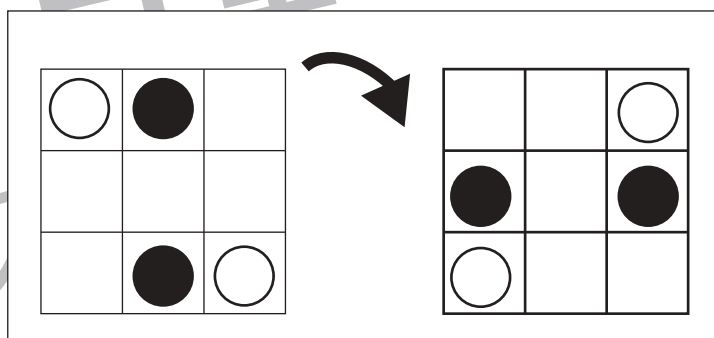
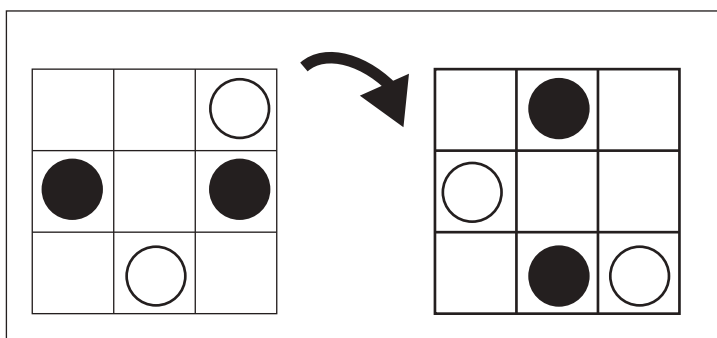
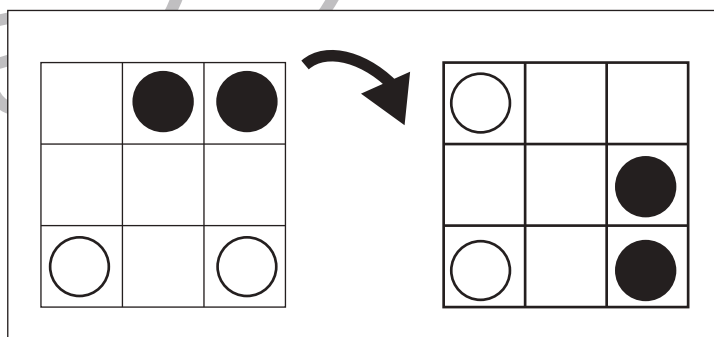
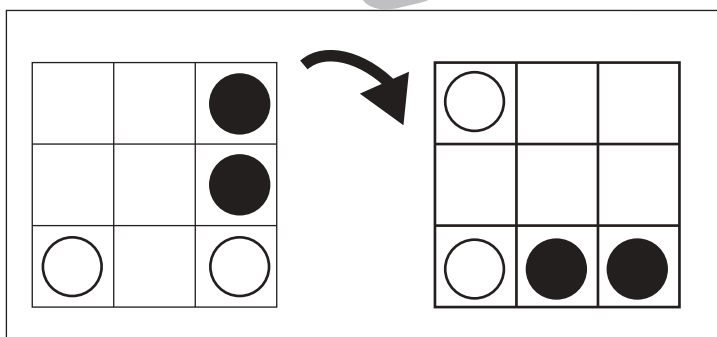
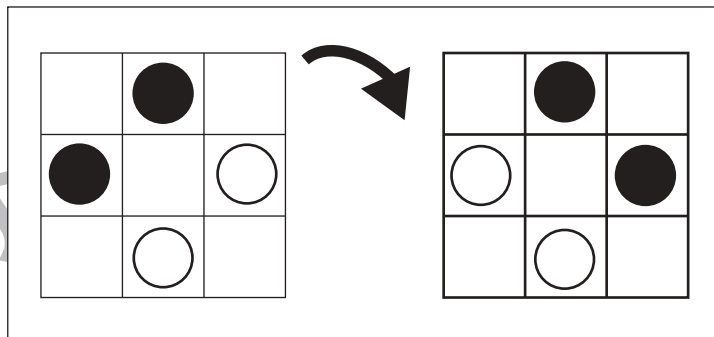
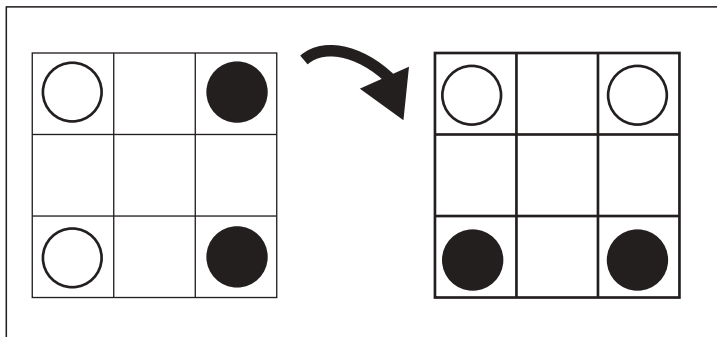


# おうちで、やろう。

Study at home. 小学校受験の家庭学習教材

## 図形：回転 17

左のお手本を矢印の方向へ 1 回倒した時の見え方を考えて右の四角にかきます。



※1. このプリントは、しながわ・目黒こどもスクールのウェブサイトでダウンロードができます。無断複写・引用はご遠慮ください。

※2. このプリントを活用したオンライン授業のスケジュールは、しながわ・目黒こどもスクールのウェブサイトでご確認ください。



# おうちで、よろう。

Study at home. 小学校受験の家庭学習教材

## 図形：回転 18

左のお手本を矢印の方向へ 1 回倒した時の見え方を考えて右の四角にかきます。

A 5x2 grid of 3x3 square puzzles. Each puzzle consists of a 3x3 grid with a diagonal line from the top-left to the bottom-right. A curved arrow indicates a 180-degree rotation of the grid. The shapes in the original grid are rotated 180 degrees in the resulting grid.

○		△
	／	

		○
	＼	
		△

	▽	
	／	
○		

	／	
○		△

○		△

○		
	／	
△		

○	△	

	○	
	▽	
△		

○		△
	／	

		○
	＼	
		△

▽		
	／	
○		

○		△
	＼	

	／	
	▽	
		○

	△	／
○		

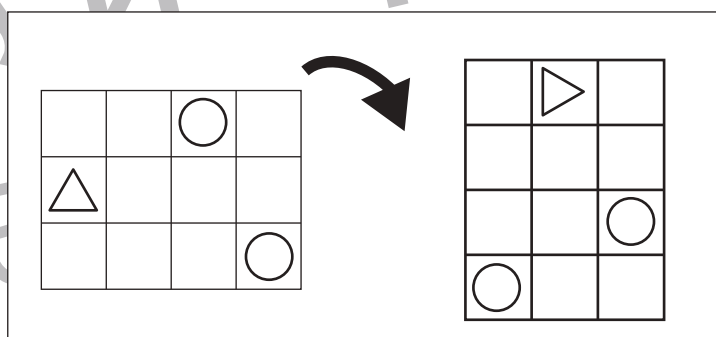
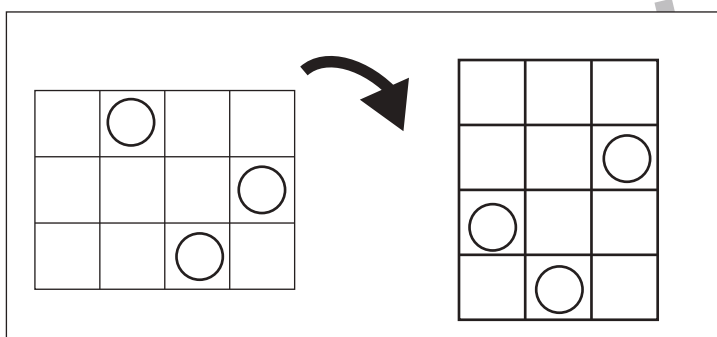
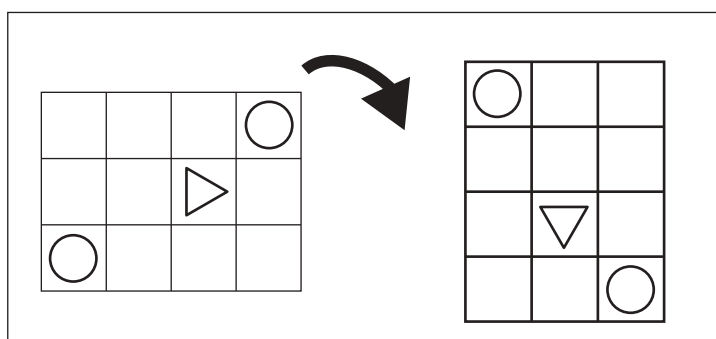
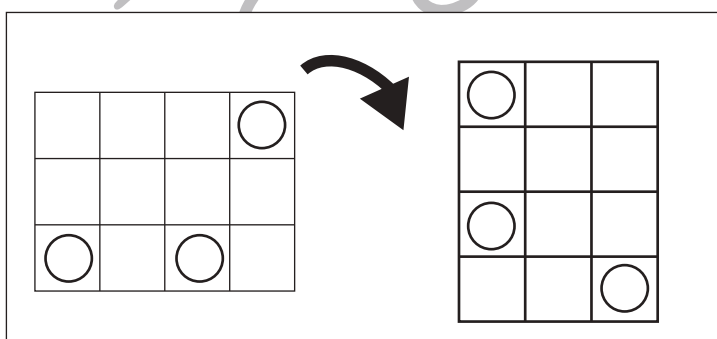
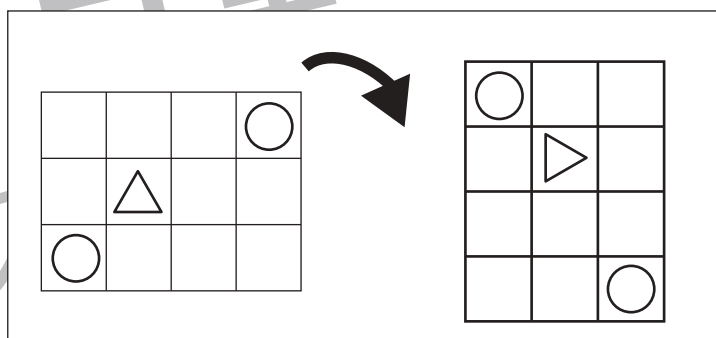
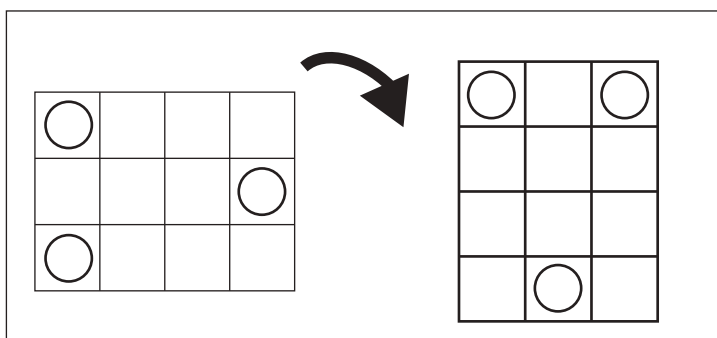
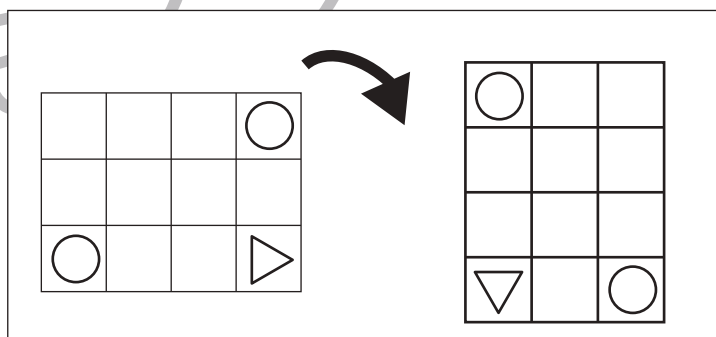
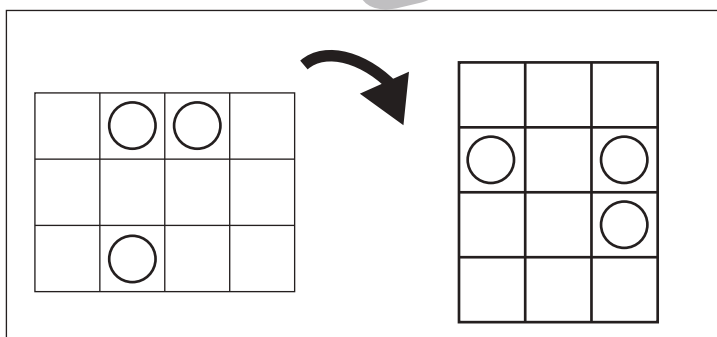
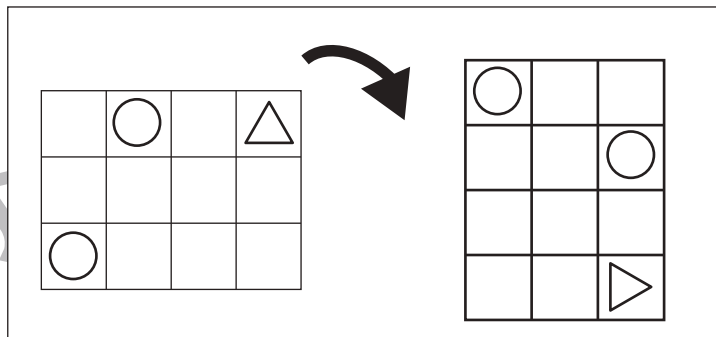
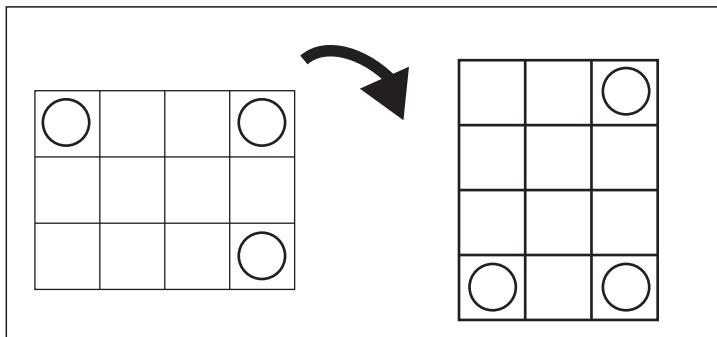
※1. このプリントは、しながわ・目黒こどもスクールのウェブサイトでダウンロードができます。無断複写・引用はご遠慮ください。  
 ※2. このプリントを活用したオンライン授業のスケジュールは、しながわ・目黒こどもスクールのウェブサイトでご確認ください。



# おうちで、よろう。

Study at home. 小学校受験の家庭学習教材

左のお手本を矢印の方向へ 1 回倒した時の見え方を考えて右の四角にかきます。



※1. このプリントは、しながわ・目黒こどもスクールのウェブサイトでダウンロードができます。無断複写・引用はご遠慮ください。  
 ※2. このプリントを活用したオンライン授業のスケジュールは、しながわ・目黒こどもスクールのウェブサイトでご確認ください。



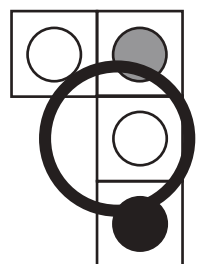
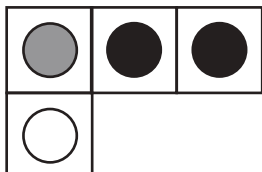



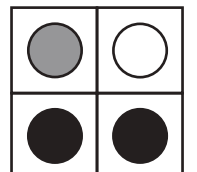
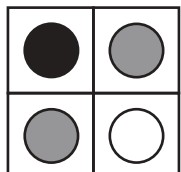



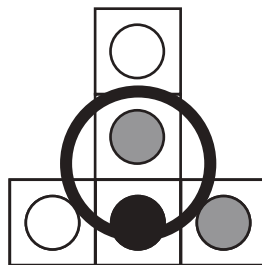
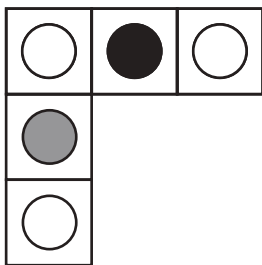
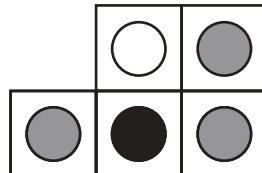

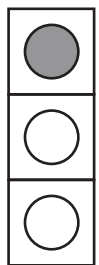
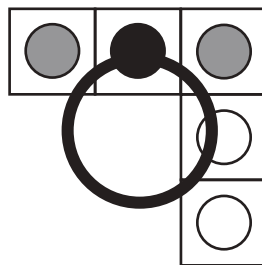
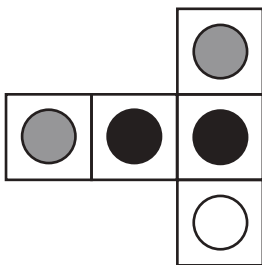


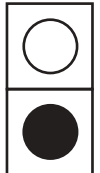
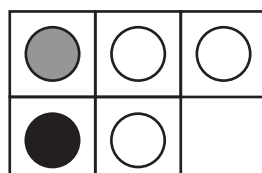
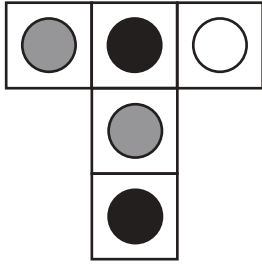
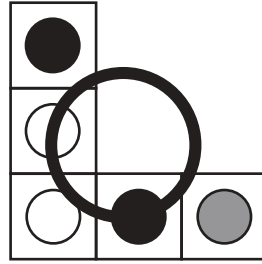


# おうちで、やろう。

Study at home. 小学校受験の家庭学習教材

## 図形：構成 14

左の四角の中にある2つの形を使って右の四角の中の形を作りました。できる形を右の中から見つけて○をつけます。  
左の2つの形は回すことはできますが、裏返したり、はなしたりしてはいけません。

※1. このプリントは、しながわ・目黒こどもスクールのウェブサイトでダウンロードができます。無断複写・引用はご遠慮ください。

※2. このプリントを活用したオンライン授業のスケジュールは、しながわ・目黒こどもスクールのウェブサイトでご確認ください。



# おうちで、やろう。

Study at home. 小学校受験の家庭学習教材

## 図形：構成 15

左の四角の中にある2つの形を使って右の四角の中の形を作りました。できる形を右の中から見つけて○をつけます。  
左の2つの形は回すことはできますが、裏返したり、はなしたりしてはいけません。


※1. このプリントは、しながわ・目黒こどもスクールのウェブサイトでダウンロードができます。無断複写・引用はご遠慮ください。

※2. このプリントを活用したオンライン授業のスケジュールは、しながわ・目黒こどもスクールのウェブサイトでご確認ください。



# おうちで、やろう。

Study at home. 小学校受験の家庭学習教材

## 図形：構成 16

左の四角の中にある2つの形を使って右の四角の中の形を作りました。できる形を右の中から見つけて○をつけます。  
左の2つの形は回すことはできますが、裏返したり、はなしたりしてはいけません。


※1. このプリントは、しながわ・目黒こどもスクールのウェブサイトでダウンロードができます。無断複写・引用はご遠慮ください。

※2. このプリントを活用したオンライン授業のスケジュールは、しながわ・目黒こどもスクールのウェブサイトでご確認ください。






# おうちで、やろう。

Study at home. 小学校受験の家庭学習教材

処理：計数3

上の四角の中の絵の数をかぞえて、下の四角の同じ絵の右にその数だけ〇をかきます。  
この問題はスピードを意識して取り組む練習をしてみましょう。(1分～1分30秒)



〇 × 7



〇 × 8



〇 × 10



〇 × 9

※1. このプリントは、しながわ・目黒こどもスクールのウェブサイトからダウンロードできます。無断複写・引用はご遠慮ください。  
※2. このプリントを活用したオンライン授業のスケジュールは、しながわ・目黒こどもスクールのウェブサイトでご確認ください。