



おうちで、やろう。

Study at home. 小学校受験の家庭学習教材

指示の聞き取り 10

お話をよく聞いて、それぞれの段の野菜に○をつけます。プリントは見たままお話を聞きましょう。

- ①キツネの段のお話です。今からお話をする野菜だけ○をつけます。→「にんじん」「ピーマン」「とうもろこし」
- ②ウサギの段のお話です。今からお話をする野菜だけ○をつけます。→「とうもろこし」「なす」「ピーマン」「トマト」
- ③ゴリラの段のお話です。今からお話をする野菜ではないものに○をつけます。「ナス」「ピーマン」
- ④イヌの段のお話です。今からお話をする野菜ではないものに○をつけます。「にんじん」「とうもろこし」「ピーマン」「トマト」
- ⑤ライオンの段のお話です。今からお話をする野菜で3番目に言った野菜に○をつけます。「とうもろこし」「トマト」「にんじん」
- ⑥ゾウの段のお話です。今からお話をする野菜で一番最後に言った野菜に○をつけます。「ピーマン」「ニンジン」「ナス」「トマト」

※1. このプリントは、しながわ・目黒こどもスクールのウェブサイトでダウンロードができます。無断複写・引用はご遠慮ください。

※2. このプリントを活用したオンライン授業のスケジュールは、しながわ・目黒こどもスクールのウェブサイトでご確認ください。

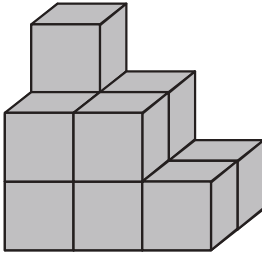
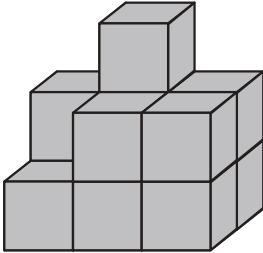
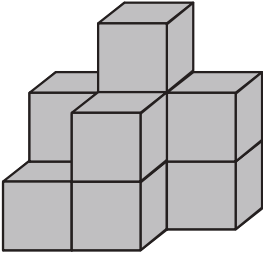
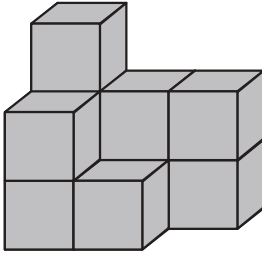
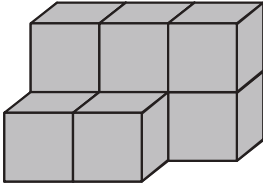
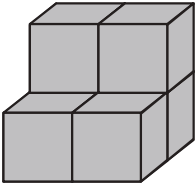


おうちで、やろう。

Study at home. 小学校受験の家庭学習教材

推理：積み木 12

それぞれ積み木で作った形の中で、隠れて見えない積み木があります。
隠れて見えない積み木の数だけ下の四角に○をかきます。



※1. このプリントは、しながわ・目黒こどもスクールのウェブサイトでダウンロードができます。無断複写・引用はご遠慮ください。
 ※2. このプリントを活用したオンライン授業のスケジュールは、しながわ・目黒こどもスクールのウェブサイトでご確認ください。

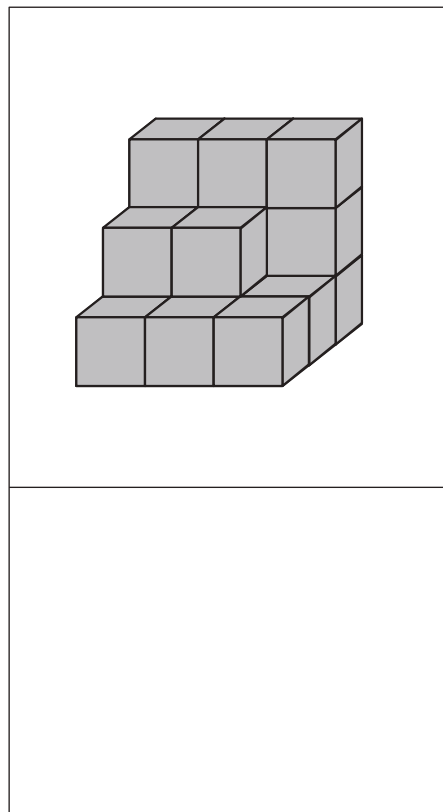
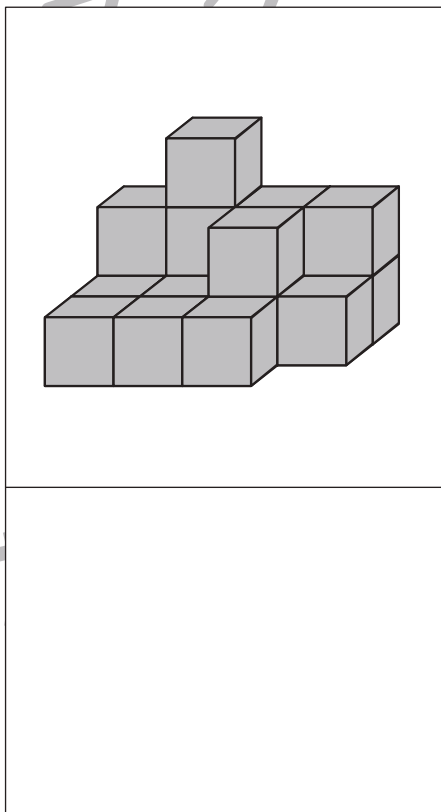
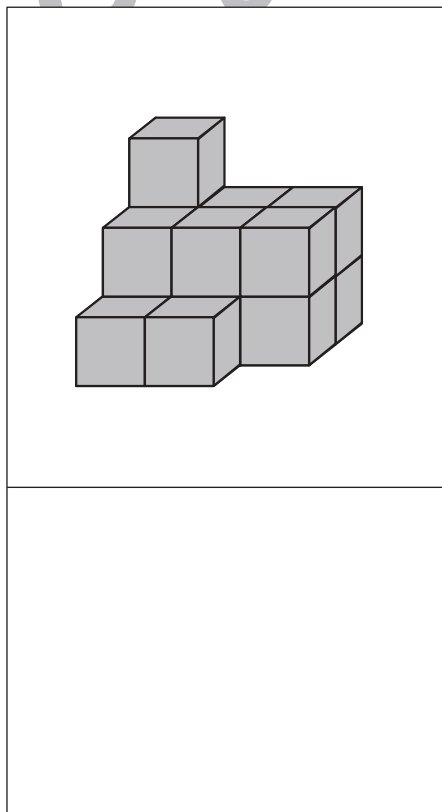
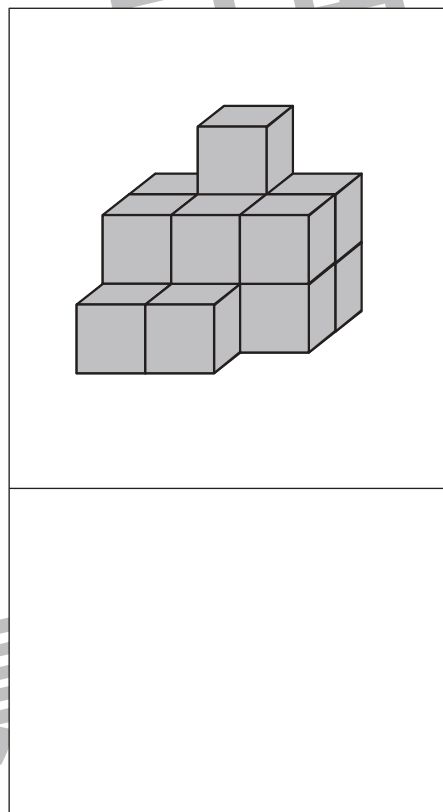
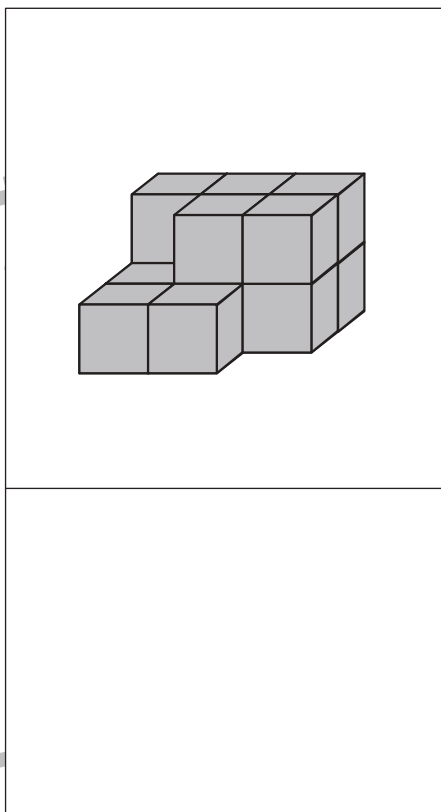
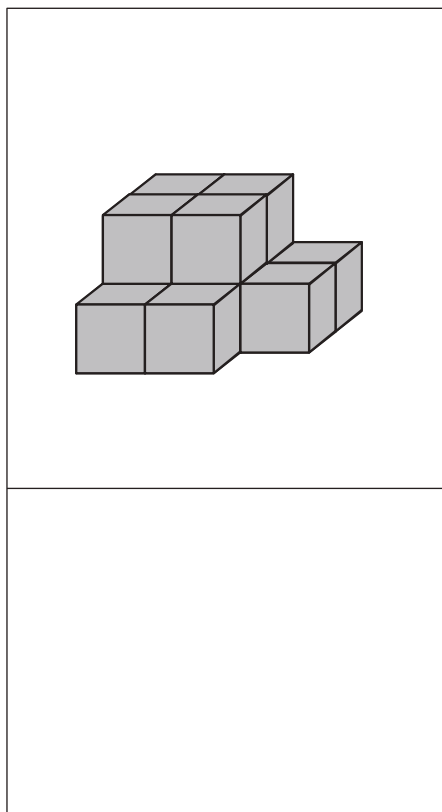


おうちで、やろう。

Study at home. 小学校受験の家庭学習教材

推理：積み木 13

それぞれ積み木で作った形の中で、隠れて見えない積み木があります。
隠れて見えない積み木の数だけ下の四角に○をかきます。



※1. このプリントは、しながわ・目黒こどもスクールのウェブサイトでダウンロードができます。無断複写・引用はご遠慮ください。
 ※2. このプリントを活用したオンライン授業のスケジュールは、しながわ・目黒こどもスクールのウェブサイトでご確認ください。



おうちで、やろう。






Study at home. 小学校受験の家庭学習教材

推理：まほうじん1

左のお手本のようにマスの縦列と横列には、すべて違う動物が入ります。この約束のとき、記号の書かれているマスに当てはまる動物を考えます。下の枠から、記号のマスにいる動物を選んで、同じ記号をつけましょう。

※右のお手本

左側のマスは縦列にも横列にも同じ動物はいません。右側のマスは左の縦列と真ん中の縦列に同じ動物（左の縦列にはブタが2匹、真ん中の列にはクマが2頭います）があるので、まほうじんは完成していません。



※1. このプリントは、しながわ・目黒こどもスクールのウェブサイトでダウンロードができます。無断複写・引用はご遠慮ください。

※2. このプリントを活用したオンライン授業のスケジュールは、しながわ・目黒こどもスクールのウェブサイトでご確認ください。



おうちで、やろう。









Study at home. 小学校受験の家庭学習教材

推理：まほうじん2

左のお手本のようにマスの縦列と横列には、すべて違う動物が入ります。この約束のとき、記号の書かれているマスに当てはまる動物を考えます。下の枠から、記号のマスに入る動物を選んで、同じ記号をつけましょう。

※右のお手本

左側のマスは縦列にも横列にも同じ動物はいません。右側のマスは左の縦列と真ん中の縦列に同じ動物（左の縦列にはブタが2匹、真ん中の列にはクマが2頭います）があるので、まほうじんは完成していません。



※1. このプリントは、しながわ・目黒こどもスクールのウェブサイトでダウンロードができます。無断複写・引用はご遠慮ください。
 ※2. このプリントを活用したオンライン授業のスケジュールは、しながわ・目黒こどもスクールのウェブサイトでご確認ください。



おうちで、やろう。

Study at home. 小学校受験の家庭学習教材

数量：加減 13

左枠にある2枚のお皿にはそれぞれリンゴが乗っています。上のお皿は食べる前のリンゴのお皿、下のお皿は男の子がリンゴを食べた後のお皿です。右枠の男の子がどのお皿のリンゴを食べたのか、男の子のすぐ隣にあるリンゴを食べた後の様子から考えて、正しい組み合わせを線で結びましょう。

The exercise consists of four rows, each enclosed in a large circle. A dashed horizontal line connects the two circles in each row. On the left side of each row, there are two smaller plates. A downward arrow indicates the transition from the top plate to the bottom plate. On the right side of each row, there is a cartoon boy with a large open mouth, and below him are several apple cores representing what remains after eating.

- Row 1: Top plate has 4 apples, bottom plate has 2 apples. Boy has 2 apple cores.
- Row 2: Top plate has 4 apples, bottom plate has 1 apple. Boy has 3 apple cores.
- Row 3: Top plate has 4 apples, bottom plate is empty. Boy has 1 apple core.
- Row 4: Top plate has 4 apples, bottom plate has 3 apples. Boy has 4 apple cores.

※1. このプリントは、しながわ・目黒こどもスクールのウェブサイトでダウンロードができます。無断複写・引用はご遠慮ください。

※2. このプリントを活用したオンライン授業のスケジュールは、しながわ・目黒こどもスクールのウェブサイトでご確認ください。





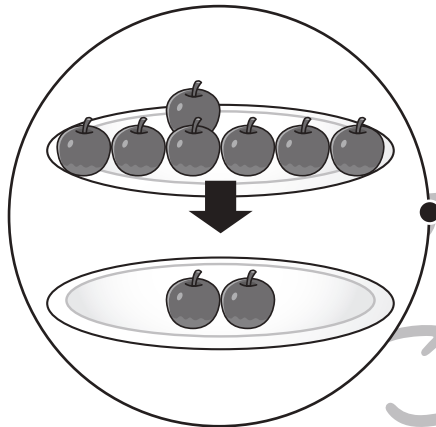
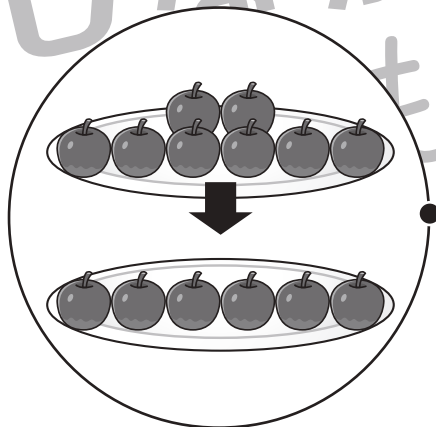
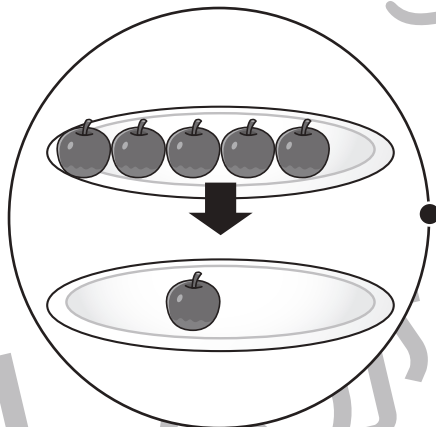
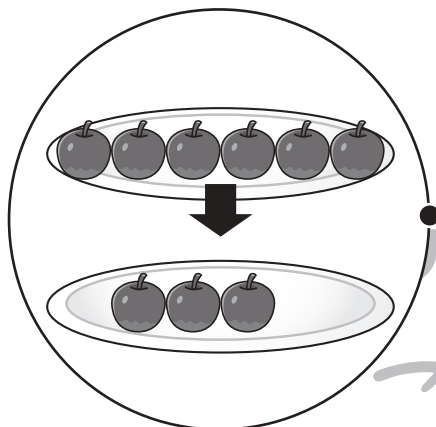


おうちで、やろう。

Study at home. 小学校受験の家庭学習教材

数量：加減 14

左枠にある2枚のお皿にはそれぞれリンゴが乗っています。上のお皿は食べる前のリンゴのお皿、下のお皿は男の子がリンゴを食べた後のお皿です。右枠の男の子がどのお皿のリンゴを食べたのか、男の子のすぐ隣にあるリンゴを食べた後の様子から考えて、正しい組み合わせを線で結びましょう。



※1. このプリントは、しながわ・目黒こどもスクールのウェブサイトでダウンロードができます。無断複写・引用はご遠慮ください。

※2. このプリントを活用したオンライン授業のスケジュールは、しながわ・目黒こどもスクールのウェブサイトでご確認ください。







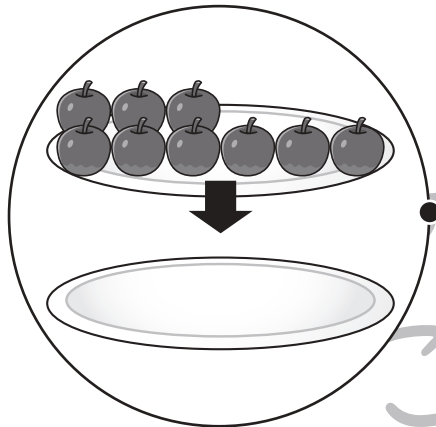
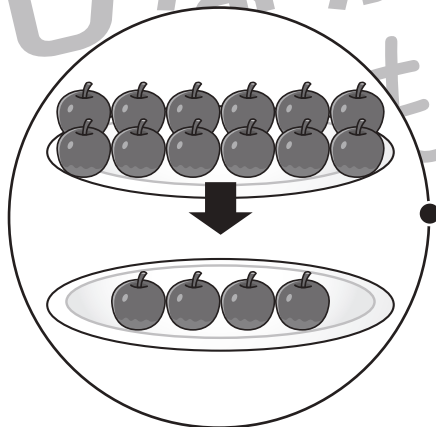
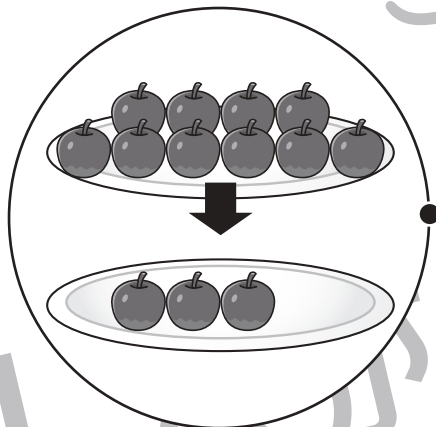
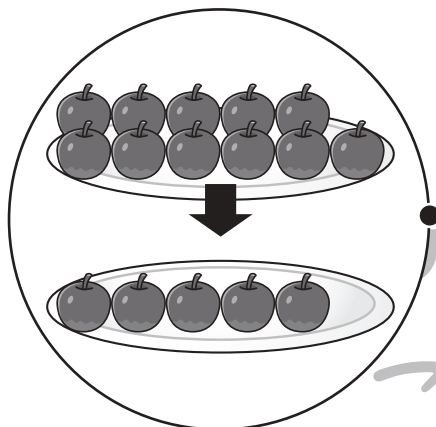


おうちで、やろう。

Study at home. 小学校受験の家庭学習教材

数量：加減 15

左枠にある2枚のお皿にはそれぞれリンゴが乗っています。上のお皿は食べる前のリンゴのお皿、下のお皿は男の子がリンゴを食べた後のお皿です。右枠の男の子がどのお皿のリンゴを食べたのか、男の子のすぐ隣にあるリンゴを食べた後の様子から考えて、正しい組み合わせを線で結びましょう。



※1. このプリントは、しながわ・目黒こどもスクールのウェブサイトでダウンロードができます。無断複写・引用はご遠慮ください。
※2. このプリントを活用したオンライン授業のスケジュールは、しながわ・目黒こどもスクールのウェブサイトでご確認ください。







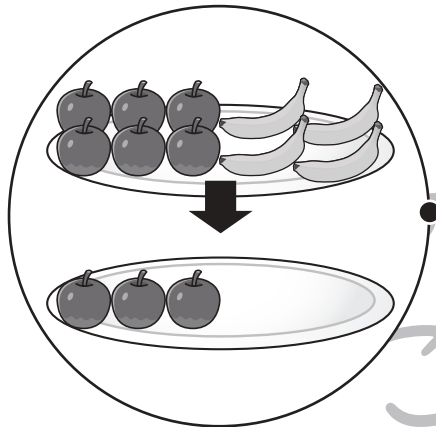
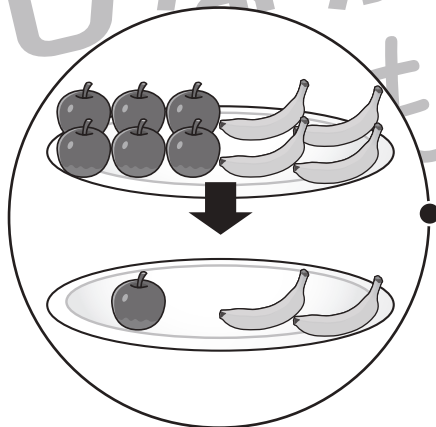
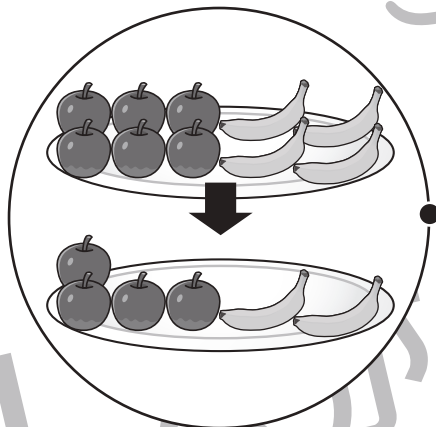
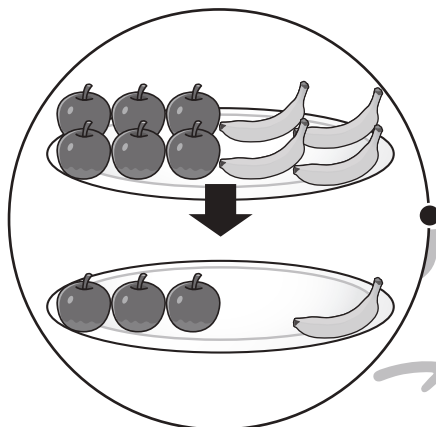


おうちで、やろう。

Study at home. 小学校受験の家庭学習教材

数量：加減 16

左枠にある2枚のお皿にはそれぞれリンゴとバナナが乗っています。上のお皿は食べる前のリンゴとバナナのお皿、下のお皿は男の子がリンゴとバナナを食べた後のお皿です。右枠の男の子がどのお皿のリンゴとバナナを食べたのか、男の子のすぐ隣にあるリンゴとバナナを食べた後の様子から考えて、正しい組み合わせを線で結びましょう。



※1. このプリントは、しながわ・目黒こどもスクールのウェブサイトでダウンロードができます。無断複写・引用はご遠慮ください。
※2. このプリントを活用したオンライン授業のスケジュールは、しながわ・目黒こどもスクールのウェブサイトでご確認ください。





おうちで、やろう。


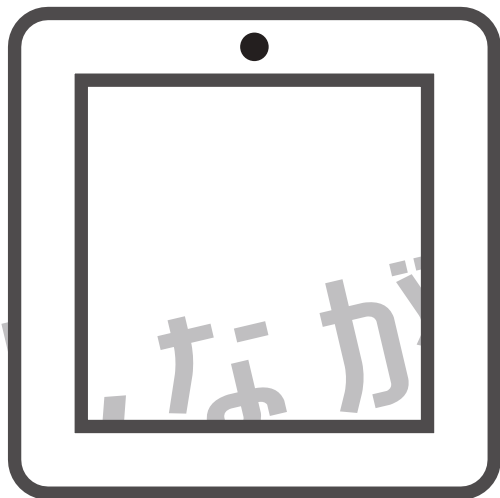

Study at home. 小学校受験の家庭学習教材

処理：運筆1

黒い丸から一周線をかきます。壁にぶつからないようにきれいに素早く線をかきましょう。

この問題はスピードを意識して取り組む練習をしてみましょう。(1分～1分30秒)

※この問題に解答はありません。



※1. このプリントは、しながわ・目黒こどもスクールのウェブサイトでダウンロードができます。無断複写・引用はご遠慮ください。

※2. このプリントを活用したオンライン授業のスケジュールは、しながわ・目黒こどもスクールのウェブサイトでご確認ください。