



おうちで、やろう。

Study at home. 小学校受験の家庭学習教材

常識：なぞなぞ 1

①～⑤の問題を聞いて、下の四角の中から正しいものを選びます。

- ①私は病気の人やケガをした人を病院まで運びます。私に○をつけてください。
- ②私は後ろに大きなくちがあり、その中にゴミを入れて運びます。私に△をつけてください。
- ③私は水の上で人を運びます。車を乗せて運ぶ仲間もいます。私に□をつけてください。
- ④私は1人だけ乗せることができます。そして人の力で動くことができます。私に◎をつけてください。
- ⑤私は頭についているプロペラを使って空を飛ぶことができます。私に×をつけてください。



※1. このプリントは、しながわ・目黒こどもスクールのウェブサイトからダウンロードできます。無断複写・引用はご遠慮ください。

※2. このプリントを活用したオンライン授業のスケジュールは、しながわ・目黒こどもスクールのウェブサイトでご確認ください。



おうちで、やろう。

Study at home. 小学校受験の家庭学習教材

常識：なぞなぞ2

①～⑤の問題を聞いて、下の四角の中から正しいものを選びます。


①私は草を食べます。それからみんなが飲む牛乳を作ることができます。私に○をつけてください。

②私は足がありません。体が長くてくねくねしています。私に△をつけてください。

③私は鳥の仲間です。飛ぶことはできませんが、泳ぐことは得意です。私に□をつけてください。

④私はジャンプが得意で耳が長いです。私に◎をつけてください。

⑤私は飛ぶことが得意です。ただし、昼よりも夜に飛ぶことが多いです。私に×をつけてください。



※1. このプリントは、しながわ・目黒こどもスクールのウェブサイトでダウンロードができます。無断複写・引用はご遠慮ください。

※2. このプリントを活用したオンライン授業のスケジュールは、しながわ・目黒こどもスクールのウェブサイトでご確認ください。



おうちで、やろう。

Study at home. 小学校受験の家庭学習教材

常識：なぞなぞ3

①～⑤の問題を聞いて、下の四角の中から正しいものを選びます。


①私は花の蜜を集めます。お尻に針があって危ないと思ったら針で刺します。私に○をつけてください。

②私は夏に木でたくさん鳴きます。大人になった姿では少ししか生きることができません。私に△をつけてください。

③私は足が8本あります。糸で巣を作って他の虫を捕ります。私に□をつけてください。

④私はこどものときは青虫です。それからさなぎになって大人になります。私に◎をつけてください。

⑤私はこどものときは水の中にいるヤゴです。大人になると空を飛ぶことができます。私に×をつけてください。



※1. このプリントは、しながわ・目黒こどもスクールのウェブサイトからダウンロードできます。無断複写・引用はご遠慮ください。

※2. このプリントを活用したオンライン授業のスケジュールは、しながわ・目黒こどもスクールのウェブサイトでご確認ください。

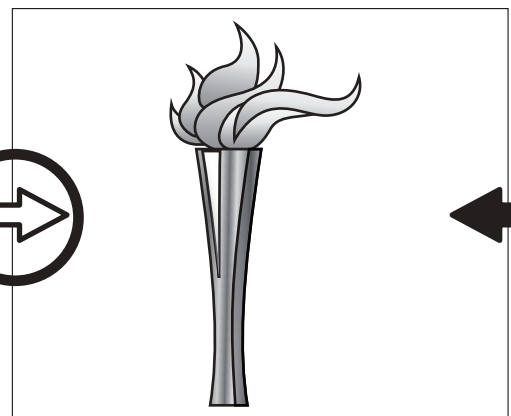

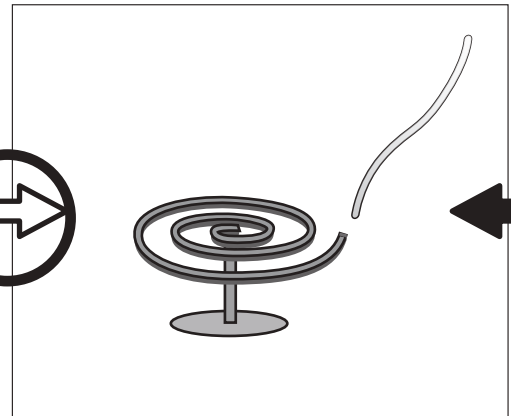
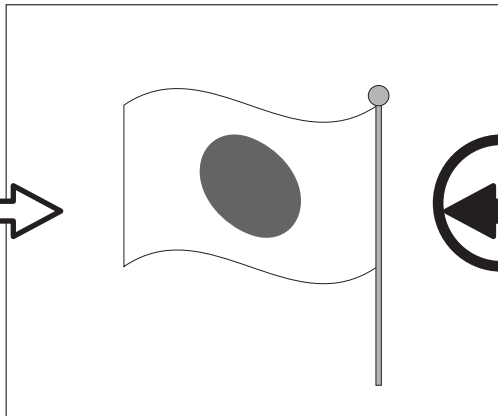


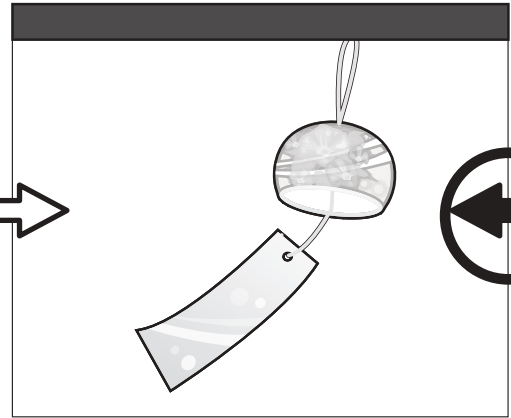



おうちで、やろう。

Study at home. 小学校受験の家庭学習教材

常識：風向き1

それぞれの絵は風に吹かれている様子の絵です。どちらからどちらへ風が吹いていますか。
左から右へ風が吹いているときは白い矢印に、右から左へ風が吹いているときは黒い矢印に○をつけます。



※1. このプリントは、しながわ・目黒こどもスクールのウェブサイトでダウンロードができます。無断複写・引用はご遠慮ください。
※2. このプリントを活用したオンライン授業のスケジュールは、しながわ・目黒こどもスクールのウェブサイトでご確認ください。





おうちで、やろう。

Study at home. 小学校受験の家庭学習教材

常識：風向き2

それぞれの絵は風に吹かれている様子の絵です。どちらからどちらへ風が吹いていますか。
左から右へ風が吹いているときは白い矢印に、右から左へ風が吹いているときは黒い矢印に○をつけます。

	がも	
	ク	
	がも	
	がも	

※1. このプリントは、しながわ・目黒こどもスクールのウェブサイトでダウンロードができます。無断複写・引用はご遠慮ください。

※2. このプリントを活用したオンライン授業のスケジュールは、しながわ・目黒こどもスクールのウェブサイトでご確認ください。




おうちで、やろう。


Study at home. 小学校受験の家庭学習教材

推理：四方観察 11


左の太い四角の中の積み木がお手本です。このお手本を男の子の方（右側）から見たときの見え方を考えます。このとき、灰色の積み木はいくつ見えますか。その数だけ右の四角に○をかきます。




$$\bigcirc \times 3$$




$$\bigcirc \times 2$$



$$\bigcirc \times 3$$



$$\bigcirc \times 4$$



$$\bigcirc \times 4$$

※1. このプリントは、しながわ・目黒こどもスクールのウェブサイトからダウンロードできます。無断複写・引用はご遠慮ください。

※2. このプリントを活用したオンライン授業のスケジュールは、しながわ・目黒こどもスクールのウェブサイトでご確認ください。






おうちで、やろう。


Study at home. 小学校受験の家庭学習教材

推理：四方観察 12


左の太い四角の中の積み木がお手本です。このお手本を女の子の方（左側）から見たときの見え方を考えます。このとき、灰色の積み木はいくつ見えますか。その数だけ右の四角に○をかきます。




$$\bigcirc \times 2$$




$$\bigcirc \times 3$$



$$\bigcirc \times 3$$



$$\bigcirc \times 2$$



$$\bigcirc \times 3$$

※1. このプリントは、しながわ・目黒こどもスクールのウェブサイトでダウンロードができます。無断複写・引用はご遠慮ください。
※2. このプリントを活用したオンライン授業のスケジュールは、しながわ・目黒こどもスクールのウェブサイトでご確認ください。




おうちで、やろう。


Study at home. 小学校受験の家庭学習教材

推理：四方観察 13


左の太い四角の中の積み木がお手本です。このお手本を女の子の方（後ろ）から見たときの見え方を考えます。このとき、灰色の積み木はいくつ見えますか。その数だけ右の四角に○をかきます。




$$\bigcirc \times 2$$




$$\bigcirc \times 2$$



$$\bigcirc \times 4$$



$$\bigcirc \times 5$$



$$\bigcirc \times 4$$

※1. このプリントは、しながわ・目黒こどもスクールのウェブサイトでダウンロードができます。無断複写・引用はご遠慮ください。
※2. このプリントを活用したオンライン授業のスケジュールは、しながわ・目黒こどもスクールのウェブサイトでご確認ください。

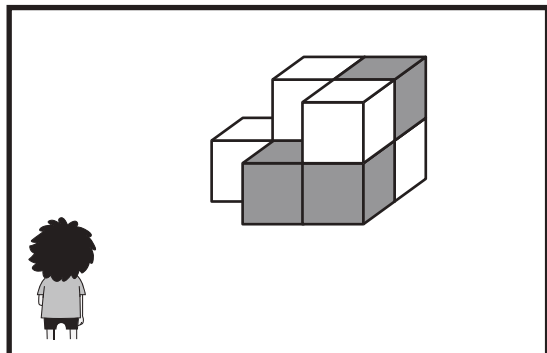


おうちで、やろう。

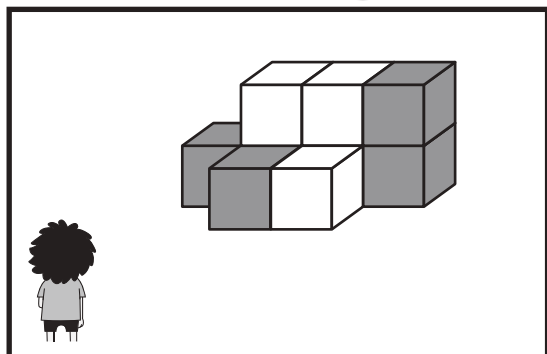
Study at home. 小学校受験の家庭学習教材

推理：四方観察 14

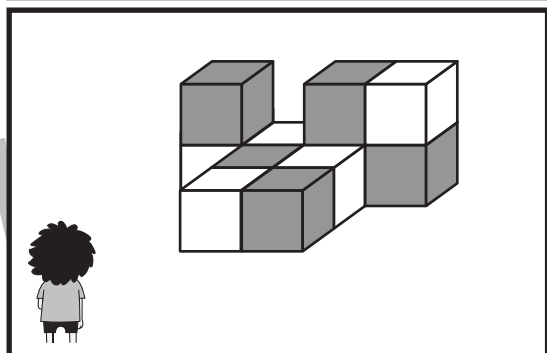
左の太い四角の中の積み木がお手本です。このお手本を男の子が上からのぞいて（上から）見たときの見え方を考えます。このとき、灰色の積み木はいくつ見えますか。その数だけ右の四角に○をかきます。



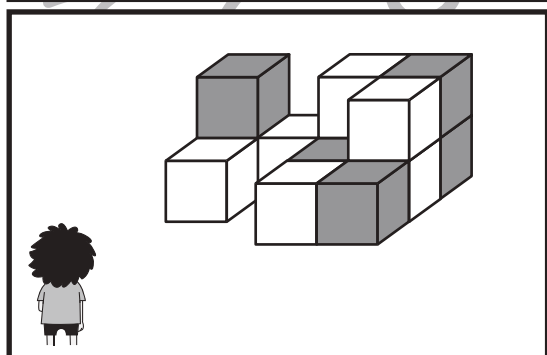
○ × 2



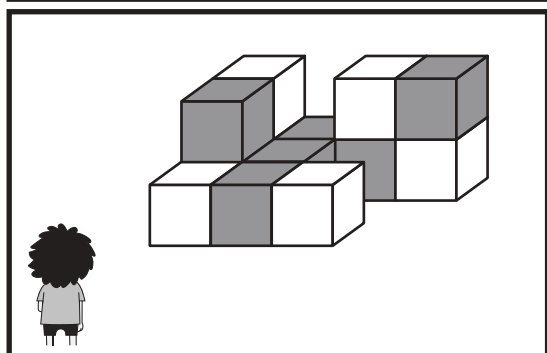
○ × 3



○ × 4



○ × 4



○ × 5

※1. このプリントは、しながわ・目黒こどもスクールのウェブサイトでダウンロードができます。無断複写・引用はご遠慮ください。
※2. このプリントを活用したオンライン授業のスケジュールは、しながわ・目黒こどもスクールのウェブサイトでご確認ください。

