



おうちで、やろう。

Study at home. 小学校受験の家庭学習教材

記憶：絵の記憶4 記憶用紙

別紙『記憶 - 絵の記憶4』を行う際に使用します。記憶用紙は真ん中の点線で半分に折り、①、②の問題の際にそれぞれ20秒間ずつ記憶させてください。記憶する際は問題用紙は裏返しにします。記憶後①、②それぞれの問題に答えましょう。

①②今、見た絵にないものに○をつけます。

※2月5日(金)のオンライン授業では実施中に記憶する絵を画面で表示します。

①



②



※1. このプリントは、しながわ・目黒こどもスクールのウェブサイトからダウンロードできます。無断複写・引用はご遠慮ください。

※2. このプリントを活用したオンライン授業のスケジュールは、しながわ・目黒こどもスクールのウェブサイトでご確認ください。



おうちで、やろう。

Study at home. 小学校受験の家庭学習教材

記憶：絵の記憶4

別紙『記憶 - 絵の記憶4記憶用紙』を使用します。記憶用紙の絵を見た後に①、②の問題に取り組みましょう。


①②今、見た絵にないものに○をつけます。

※この問題に解答はありませんので、記憶用紙で確認してください。

①



②



※1. このプリントは、しながわ・目黒こどもスクールのウェブサイトからダウンロードできます。無断複写・引用はご遠慮ください。

※2. このプリントを活用したオンライン授業のスケジュールは、しながわ・目黒こどもスクールのウェブサイトでご確認ください。





おうちで、やろう。

Study at home. 小学校受験の家庭学習教材

指示の聞き取り9

それぞれお話をよく聞いて問題に取り組みます。お話は一度しか読みませんのでしっかり聞きましょう。

- ①一番上の段の右から3番目のマスに青のクーピーで○をかきます。
- ②一番下の段の右端のマスに茶色のクーピーで△をかきます。
- ③上から3段目の左から2番目のマスに青のクーピーで□をかきます。
- ④上から4段目の左から5番目のマスに緑のクーピーで×をかきます。
- ⑤下から2段目の右から6番目のマスに黒のクーピーで◎をかきます。
- ⑥下から5段目の右から4番目のマスを黄色のクーピーで塗ります。

※1. このプリントは、しながわ・目黒こどもスクールのウェブサイトでダウンロードができます。無断複写・引用はご遠慮ください。
 ※2. このプリントを活用したオンライン授業のスケジュールは、しながわ・目黒こどもスクールのウェブサイトでご確認ください。



おうちで、やろう。

Study at home. 小学校受験の家庭学習教材

図形：構成 17

一番左の四角の中はパズルが完成したお手本です。

このお手本と同じになるように灰色の四角の中に入るパズルを右の3つの中から選んで○をつけます。

※1. このプリントは、しながわ・目黒こどもスクールのウェブサイトでダウンロードができます。無断複写・引用はご遠慮ください。

※2. このプリントを活用したオンライン授業のスケジュールは、しながわ・目黒こどもスクールのウェブサイトでご確認ください。



おうちで、やろう。

Study at home. 小学校受験の家庭学習教材

図形：構成 18

一番左の四角の中はパズルが完成したお手本です。このお手本と同じになるように灰色の四角の中に入るパズルを右の3つの中から選んで○をつけます。右の四角のパズルは回っているものもありますので、しっかり探しましょう。

※1. このプリントは、しながわ・目黒こどもスクールのウェブサイトでダウンロードができます。無断複写・引用はご遠慮ください。

※2. このプリントを活用したオンライン授業のスケジュールは、しながわ・目黒こどもスクールのウェブサイトでご確認ください。



おうちで、やろう。

Study at home. 小学校受験の家庭学習教材

推理：じゃんけん6

矢印の左にいるお友だちが矢印の右にいるお友だちと順番にじゃんけんをしていきます。じゃんけんに勝った時だけ、クッキーを1枚もらえます。この約束の時、最後に持っているクッキーの枚数だけ右の四角に〇をかきます。

	→				

	→				

	→				

	→					

	→					

※1. このプリントは、しながわ・目黒こどもスクールのウェブサイトダウンロードができます。無断複写・引用はご遠慮ください。

※2. このプリントを活用したオンライン授業のスケジュールは、しながわ・目黒こどもスクールのウェブサイトでご確認ください。

























おうちで、やろう。













Study at home. 小学校受験の家庭学習教材















推理：じゃんけん7















矢印の左にいるお友だちが矢印の右にいるお友だちと順番にじゃんけんをしていきます。じゃんけんに勝った時だけ、クッキーを2枚もらえます。この約束の時、最後に持っているクッキーの枚数だけ右の四角に〇をかきます。

						
	→					

						
	→					

						
	→					

							
	→						

							
	→						

※1. このプリントは、しながわ・目黒こどもスクールのウェブサイトからダウンロードできます。無断複写・引用はご遠慮ください。

※2. このプリントを活用したオンライン授業のスケジュールは、しながわ・目黒こどもスクールのウェブサイトでご確認ください。



おうちで、やろう。

Study at home. 小学校受験の家庭学習教材

推理：じゃんけん8

矢印の左にいるお友だちが矢印の右にいるお友だちと順番にじゃんけんをしていきます。じゃんけんに勝った時はクッキーを2枚、あいこのときは1枚もらえます。この約束の時、最後に持っているクッキーの枚数だけ右の四角に〇をかきます。

	→				

	→				

	→					

	→						

	→							

※1. このプリントは、しながわ・目黒こどもスクールのウェブサイトからダウンロードできます。無断複写・引用はご遠慮ください。
 ※2. このプリントを活用したオンライン授業のスケジュールは、しながわ・目黒こどもスクールのウェブサイトでご確認ください。



おうちで、やろう。

Study at home. 小学校受験の家庭学習教材

数量：分割7

真ん中のクッキーを左の四角の中のお友だちで仲良く同じ数になるように分けると1人分はいくつになりますか。
1人分の数だけ右の四角に○をかきます。

※1. このプリントは、しながわ・目黒こどもスクールのウェブサイトでダウンロードができます。無断複写・引用はご遠慮ください。
 ※2. このプリントを活用したオンライン授業のスケジュールは、しながわ・目黒こどもスクールのウェブサイトでご確認ください。











おうちで、やろう。

Study at home. 小学校受験の家庭学習教材

数量：分割 8

四角のクッキーを下の絵のお友だちで仲良く同じ数になるように分けます。1人分が4枚になるようにぴったり分けられるクッキーを見つけて右の四角に○をかきます。



※1. このプリントは、しながわ・目黒こどもスクールのウェブサイトでダウンロードができます。無断複写・引用はご遠慮ください。
※2. このプリントを活用したオンライン授業のスケジュールは、しながわ・目黒こどもスクールのウェブサイトでご確認ください。






おうちで、やろう。

Study at home. 小学校受験の家庭学習教材

処理：計数5

下の四角の中にある星を5つずつ囲みましょう。

この問題はスピードを意識して取り組む練習をしてみましょう。(1分30秒～2分)



※1. このプリントは、しながわ・目黒こどもスクールのウェブサイトでダウンロードができます。無断複写・引用はご遠慮ください。

※2. このプリントを活用したオンライン授業のスケジュールは、しながわ・目黒こどもスクールのウェブサイトでご確認ください。