



おうちで、やろう。

Study at home. 小学校受験の家庭学習教材

常識：なぞなぞ4

①～⑤の問題を聞いて、下の四角の中から正しいものを選びます。

①私は楽器です。白と黒の鍵盤を叩いて音を奏でます。私に○をつけてください。

②私は回るのが得意です。手で回したり、紐を使って回したりします。私に△をつけてください。

③私は1棹、2棹をかぞえます。洋服などをしまって置くものです。私に□をつけてください。

④私はマジックやゲームに使い、4種類のマークがかいてあります。私に◎をつけてください。

⑤私は目がたくさんあります。赤い目や黒い目が1から6までついています。私に×をつけてください。



※1. このプリントは、しながわ・目黒こどもスクールのウェブサイトからダウンロードできます。無断複写・引用はご遠慮ください。

※2. このプリントを活用したオンライン授業のスケジュールは、しながわ・目黒こどもスクールのウェブサイトでご確認ください。



おうちで、やろう。

Study at home. 小学校受験の家庭学習教材

言語：しりとり6

左上の☆から右下の★まで、しりとりでつなげていきます。太い四角の中に入る絵を下の四角の中から選んで、それぞれの四角の中の記号をつけます。

☆					
---	--	--	--	--	--

しながわ
こどもスクール

--	--	--	--	--

--	--	--	--	--

しながわ
こどもスクール

--	--	--	--	--

--	--	--	--	--

※1. このプリントは、しながわ・目黒こどもスクールのウェブサイトからダウンロードできます。無断複写・引用はご遠慮ください。
※2. このプリントを活用したオンライン授業のスケジュールは、しながわ・目黒こどもスクールのウェブサイトでご確認ください。



おうちで、やろう。

Study at home. 小学校受験の家庭学習教材

図形：置き換え7

上の四角の中がお手本の形です。このお手本の黒い四角を白い○にかえます。白い四角は黒い●にかえます。この約束で色をかえて下の四角の○に色を塗ります。間違えてしまった場合は一番下の四角に色を塗りましょう。

※1. このプリントは、しながわ・目黒こどもスクールのウェブサイトでダウンロードができます。無断複写・引用はご遠慮ください。
 ※2. このプリントを活用したオンライン授業のスケジュールは、しながわ・目黒こどもスクールのウェブサイトでご確認ください。



おうちで、やろう。

Study at home. 小学校受験の家庭学習教材

図形：置き換え8

上の四角の中がお手本の形です。このお手本の黒い四角を白い○にかえます。白い四角は黒い●にかえます。この約束で色をかえて下の四角の○と●を書きます。間違えてしまった場合は一番下の四角に色を塗りましょう。

※1. このプリントは、しながわ・目黒こどもスクールのウェブサイトでダウンロードができます。無断複写・引用はご遠慮ください。
 ※2. このプリントを活用したオンライン授業のスケジュールは、しながわ・目黒こどもスクールのウェブサイトでご確認ください。

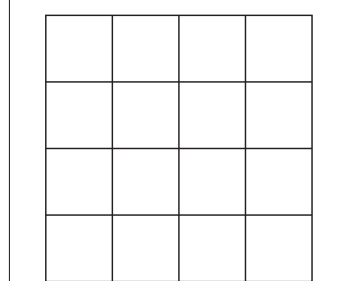
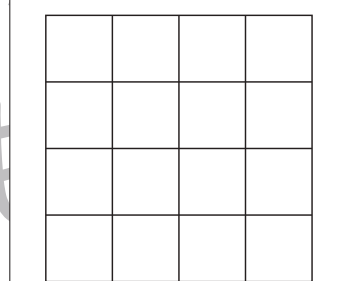
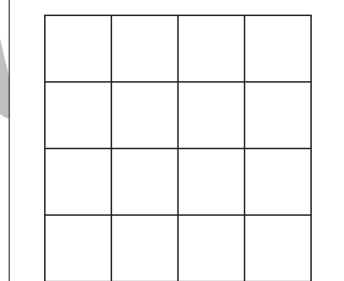
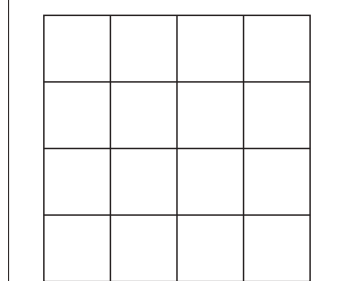
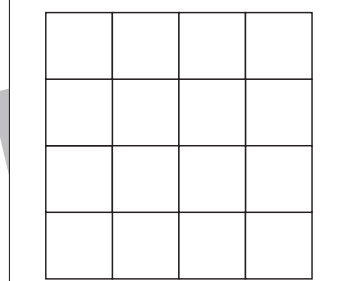
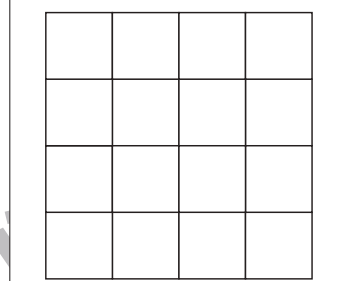
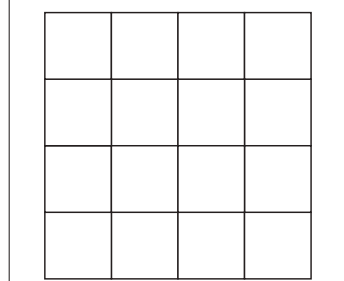
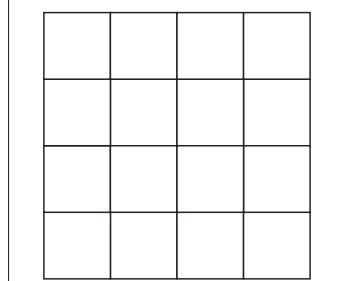




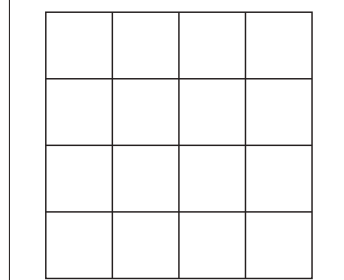
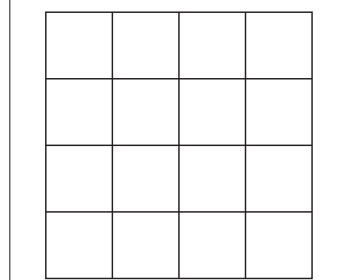
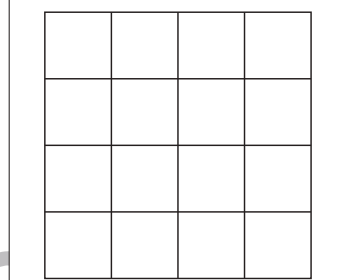
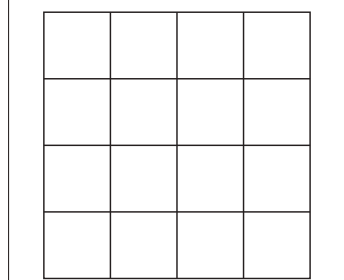
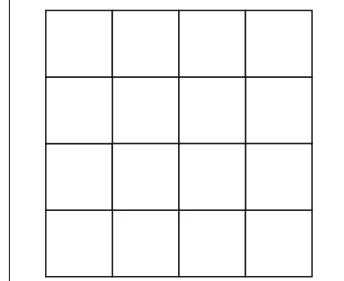
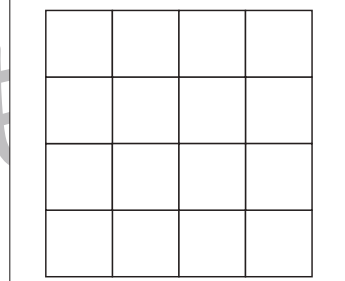
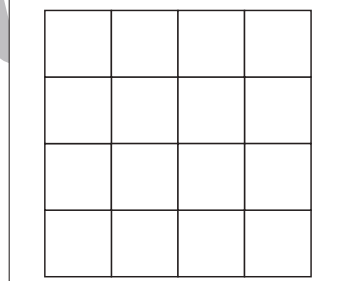
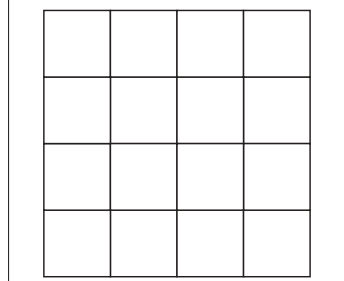






おうちで、やろう。

Study at home. 小学校受験の家庭学習教材

図形：置き換え9

上の四角の中がお手本の形です。このお手本の黒い四角を白い四角にかえます。白い四角は黒い●にかえます。この約束で色をかえて下の四角に●を書きます。間違えてしまった場合は一番下の四角に書きましょう。



※1. このプリントは、しながわ・目黒こどもスクールのウェブサイトからダウンロードできます。無断複写・引用はご遠慮ください。
※2. このプリントを活用したオンライン授業のスケジュールは、しながわ・目黒こどもスクールのウェブサイトでご確認ください。





おうちで、やろう。

Study at home. 小学校受験の家庭学習教材

推理：じゃんけん9

矢印の左にいるお友だちが隣にあるクッキーを持って矢印の右にいるお友だちと順番にじゃんけんをしていきます。じゃんけんに勝った時はクッキーを1枚もらえますが、負けたときは自分の持っているクッキーを1枚あげる約束です。あいこの時はクッキーの数は変わりません。この約束の時、最後に持っているクッキーの枚数だけ右の四角に〇をかきます。

		→					

		→						

		→						

		→						

		→						

※1. このプリントは、しながわ・目黒こどもスクールのウェブサイトからダウンロードできます。無断複写・引用はご遠慮ください。

※2. このプリントを活用したオンライン授業のスケジュールは、しながわ・目黒こどもスクールのウェブサイトでご確認ください。



おうちで、やろう。

Study at home. 小学校受験の家庭学習教材

推理：じゃんけん 10

矢印の左にいるお友だちが隣にあるクッキーを持って矢印の右にいるお友だちと順番にじゃんけんをしていきます。じゃんけんに勝った時はクッキーを2枚もらえますが、負けたときは自分の持っているクッキーを1枚あげる約束です。あいこの時はクッキーの数は変わりません。この約束の時、最後に持っているクッキーの枚数だけ右の四角に〇をかきます。

※1. このプリントは、しながわ・目黒こどもスクールのウェブサイトでダウンロードができます。無断複写・引用はご遠慮ください。

※2. このプリントを活用したオンライン授業のスケジュールは、しながわ・目黒こどもスクールのウェブサイトでご確認ください。

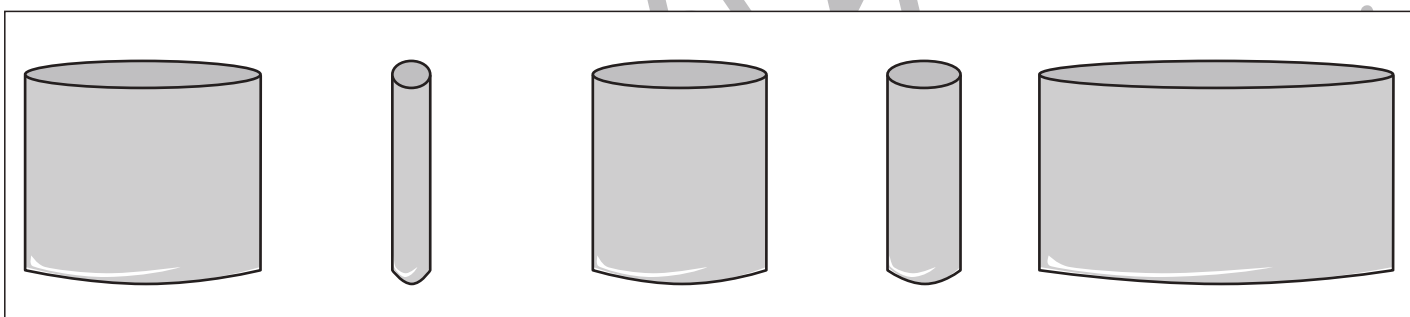
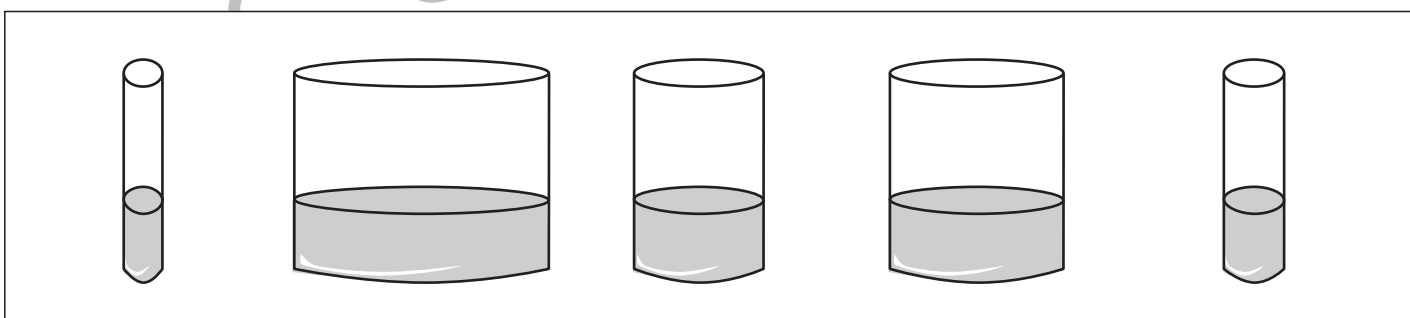
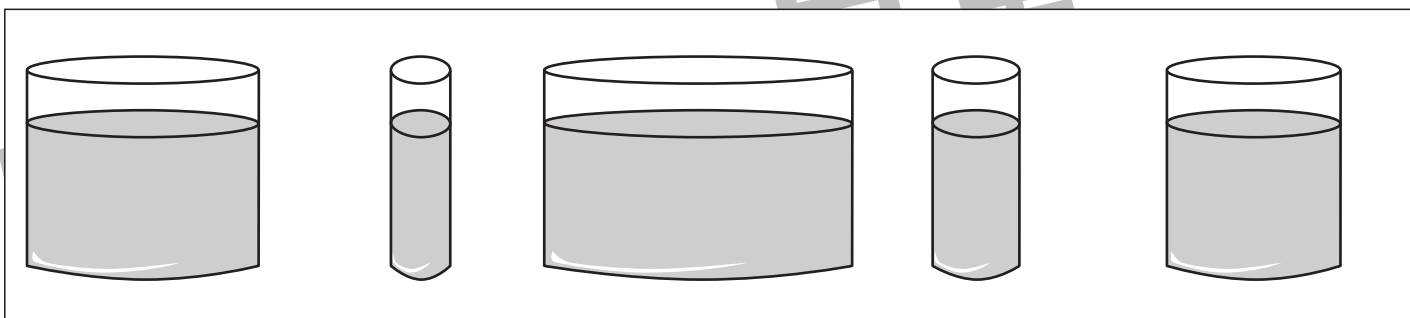
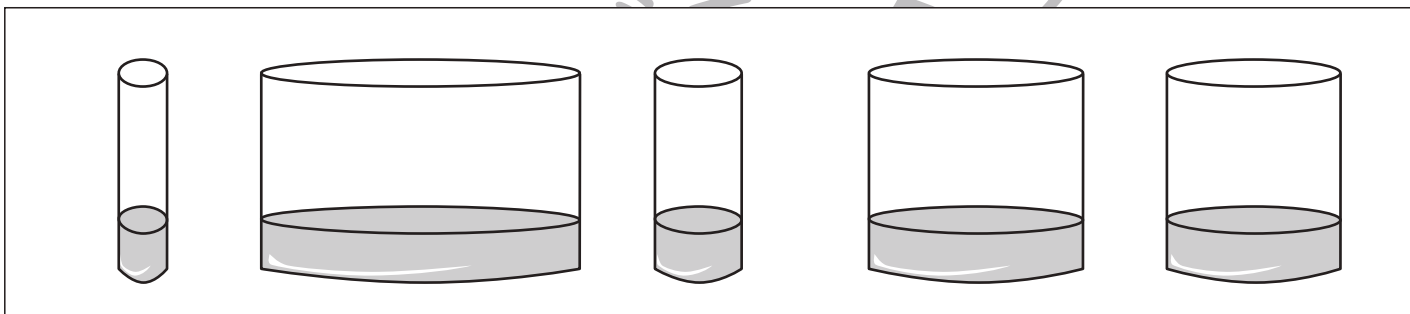
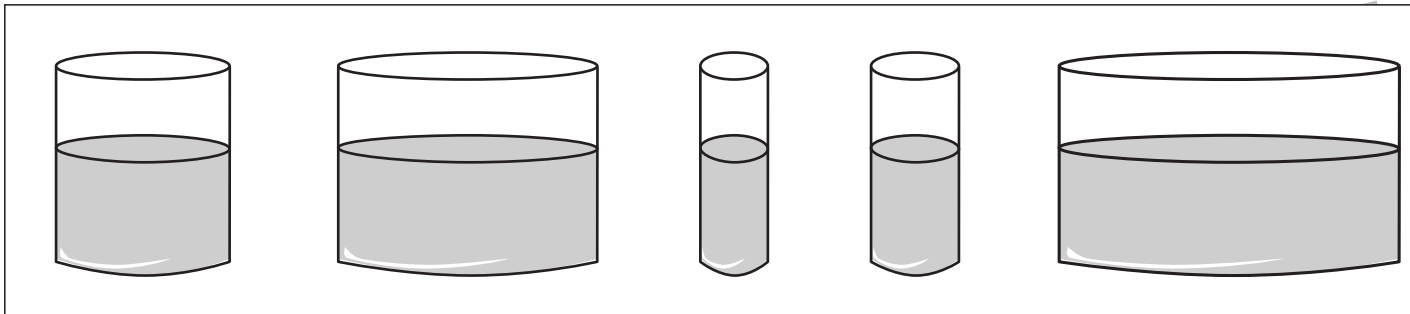


おうちで、やろう。

Study at home. 小学校受験の家庭学習教材

推理：水量4

それぞれの四角の中の大きさの違うコップには同じ高さの水が入っています。
4つのコップの中で水の量が2番目に多いものに○をつけます。



※1. このプリントは、しながわ・目黒こどもスクールのウェブサイトでダウンロードができます。無断複写・引用はご遠慮ください。
※2. このプリントを活用したオンライン授業のスケジュールは、しながわ・目黒こどもスクールのウェブサイトでご確認ください。



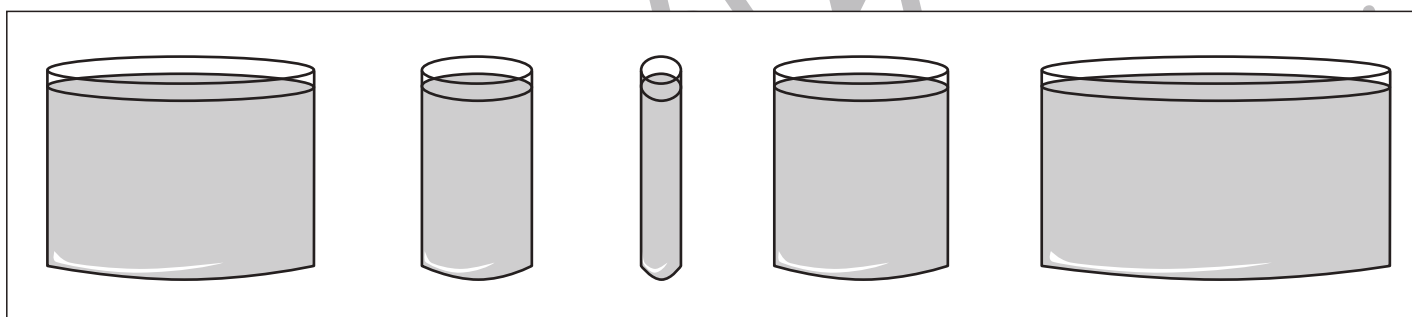
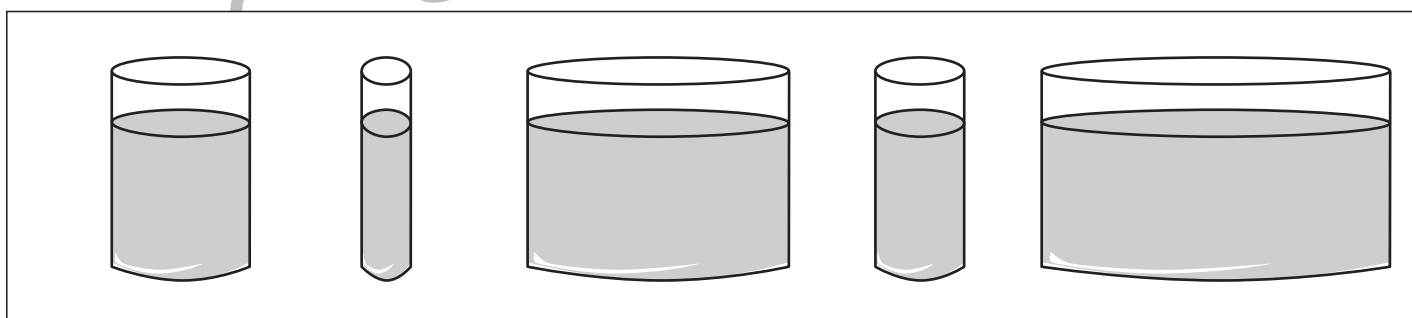
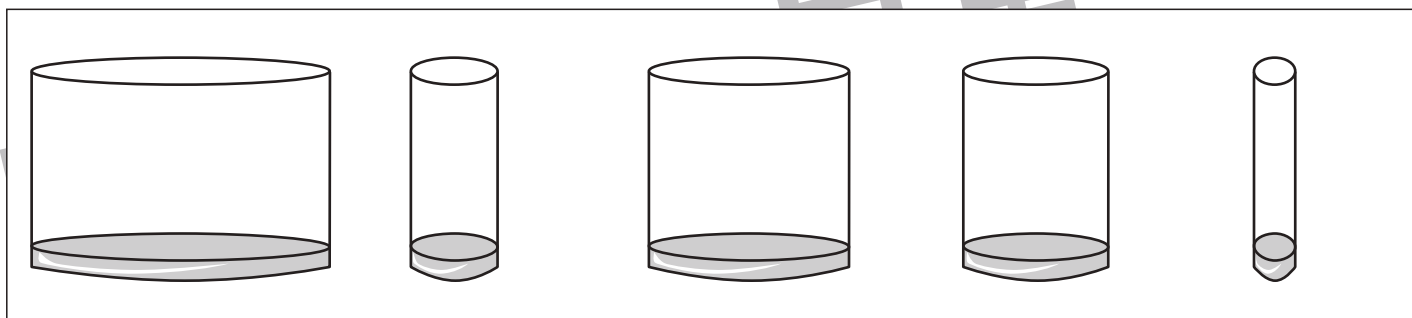
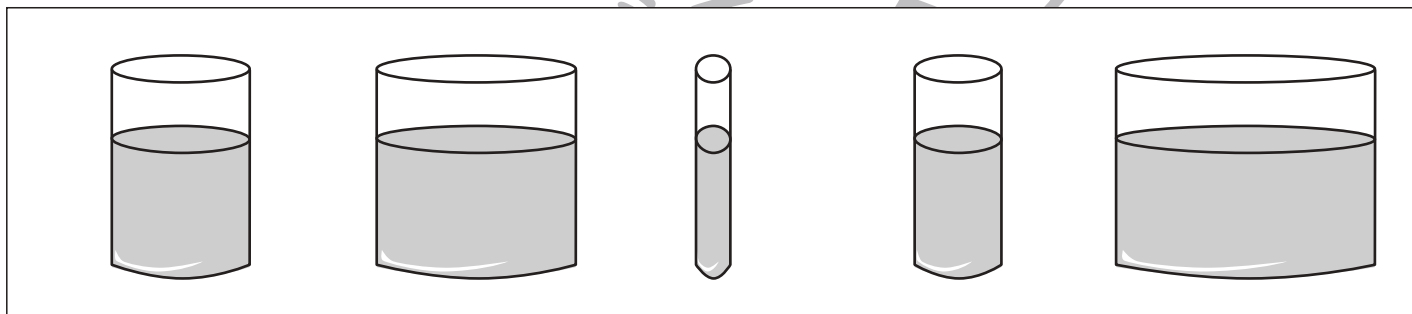
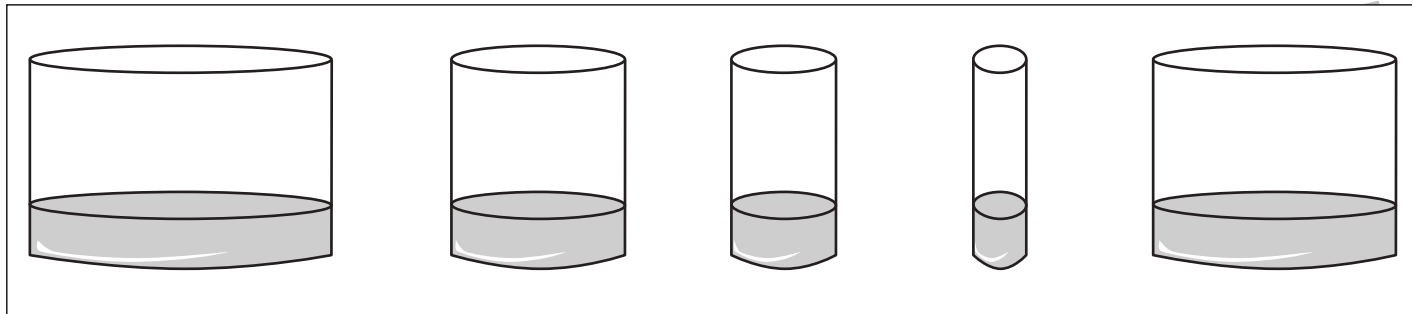


おうちで、やろう。

Study at home. 小学校受験の家庭学習教材

推理：水量5

それぞれの四角の中の大きさの違うコップには同じ高さの水が入っています。
4つのコップの中で水の量が2番目に多いものに○を2番目に少ないものに×をつけます。



※1. このプリントは、しながわ・目黒こどもスクールのウェブサイトでダウンロードができます。無断複写・引用はご遠慮ください。
※2. このプリントを活用したオンライン授業のスケジュールは、しながわ・目黒こどもスクールのウェブサイトでご確認ください。






おうちで、やろう。

Study at home. 小学校受験の家庭学習教材

処理：計数6

下の四角の中にある白と黒の星を白い星が3つと黒い星が2つになるように囲みましょう。
この問題はスピードを意識して取り組む練習をしてみましょう。(1分30秒～2分)



※1. このプリントは、しながわ・目黒こどもスクールのウェブサイトでダウンロードができます。無断複写・引用はご遠慮ください。
※2. このプリントを活用したオンライン授業のスケジュールは、しながわ・目黒こどもスクールのウェブサイトでご確認ください。