



おうちで、やろう。

Study at home. 小学校受験の家庭学習教材

言語：言葉 1

それぞれの言葉にぴったり合う絵をみつけてそれぞれの記号をつけます。

- ①「パチパチ」に合う絵を見つけて○をつけます。
- ②「パラパラ」に合う絵を見つけて△をつけます。
- ③「トントン」に合う絵を見つけて◎をつけます。
- ④「ゴーンゴーン」に合う絵を見つけて×をつけます。
- ⑤「ギコギコ」に合う絵を見つけて□をつけます。
- ⑥「チョキチョキ」に合う絵を見つけて∟をつけます。



※1. このプリントは、しながわ・目黒こどもスクールのウェブサイトでダウンロードができます。無断複写・引用はご遠慮ください。
 ※2. このプリントを活用したオンライン授業のスケジュールは、しながわ・目黒こどもスクールのウェブサイトでご確認ください。

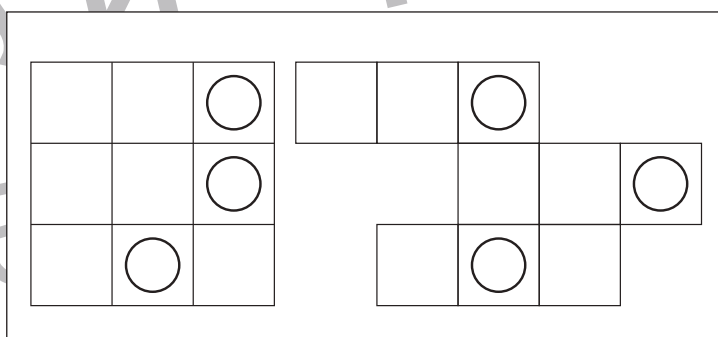
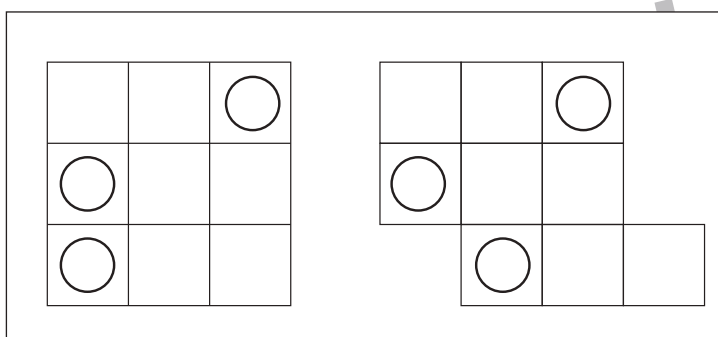
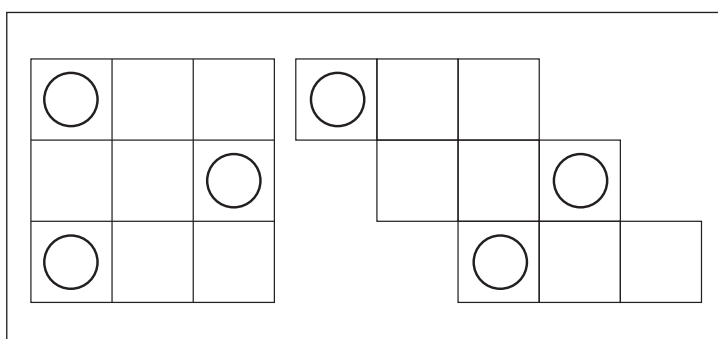
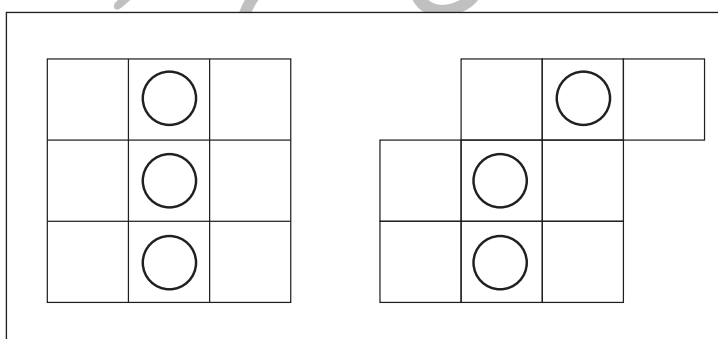
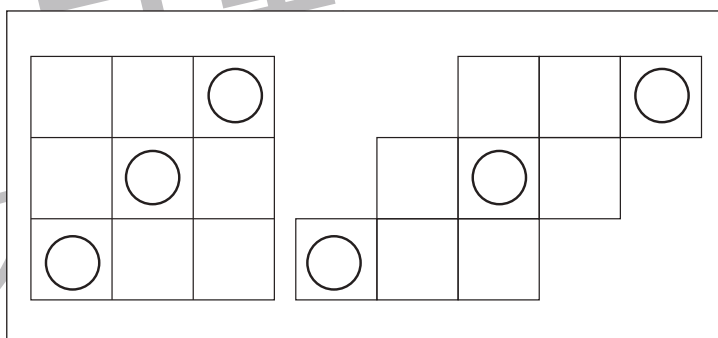
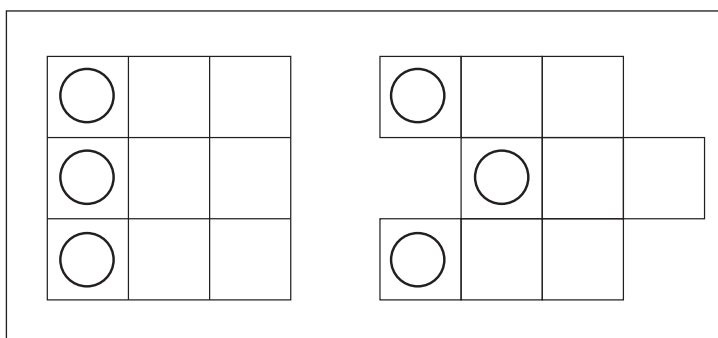
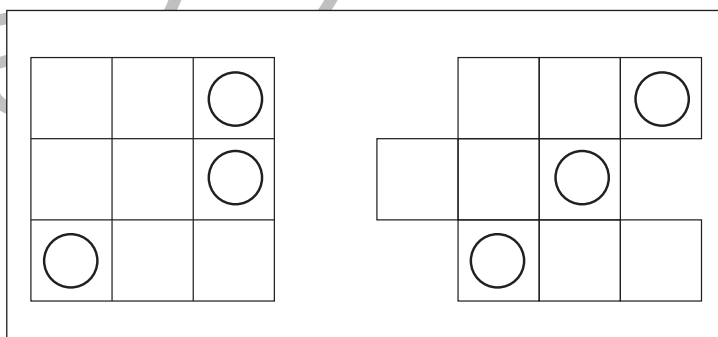
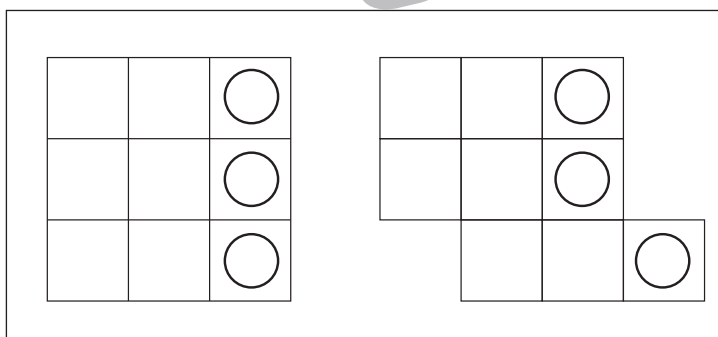
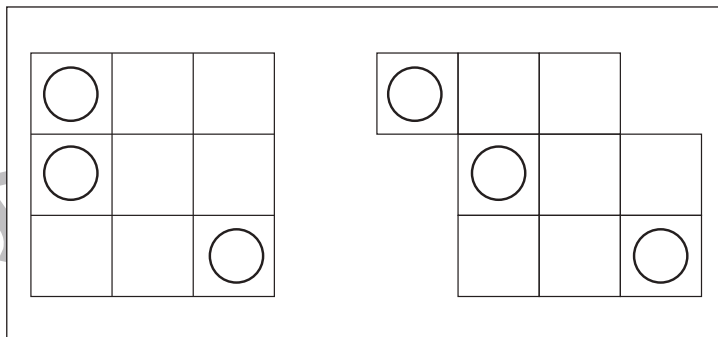
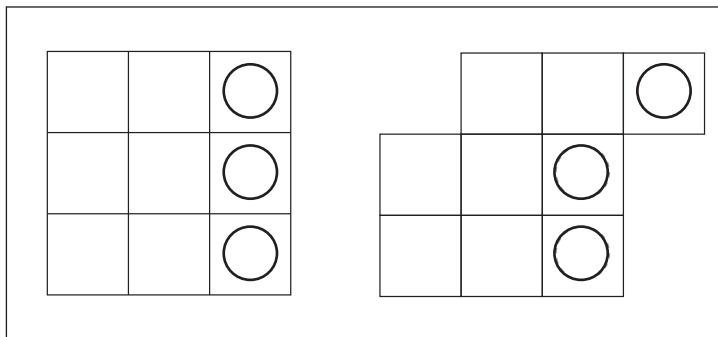


おうちで、やろう。

Study at home. 小学校受験の家庭学習教材

図形：移動 13

左の四角がお手本です。このお手本の○を右の四角の同じ場所にかきます。ただし、右の四角はマスがずれています。どのマスにかけばよいのかを考えましょう。



※1. このプリントは、しながわ・目黒こどもスクールのウェブサイトでダウンロードができます。無断複写・引用はご遠慮ください。
 ※2. このプリントを活用したオンライン授業のスケジュールは、しながわ・目黒こどもスクールのウェブサイトでご確認ください。

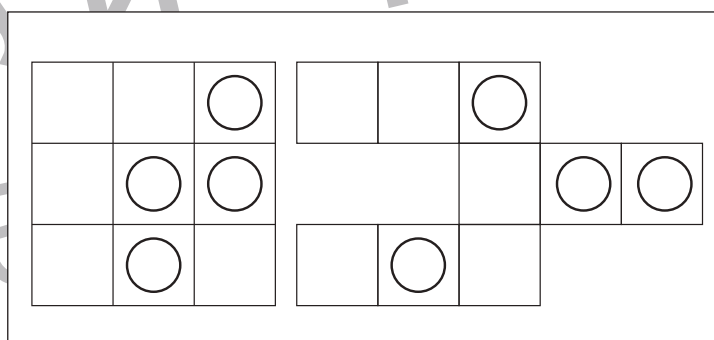
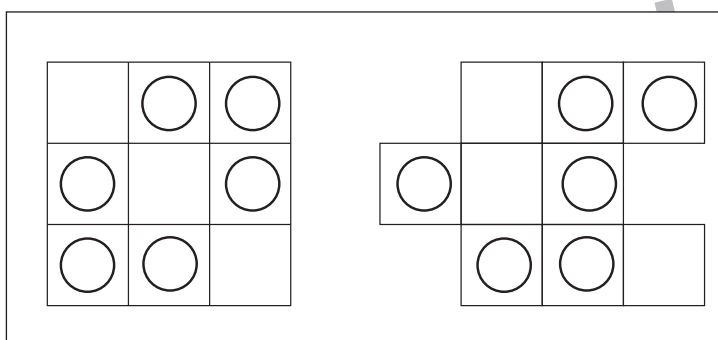
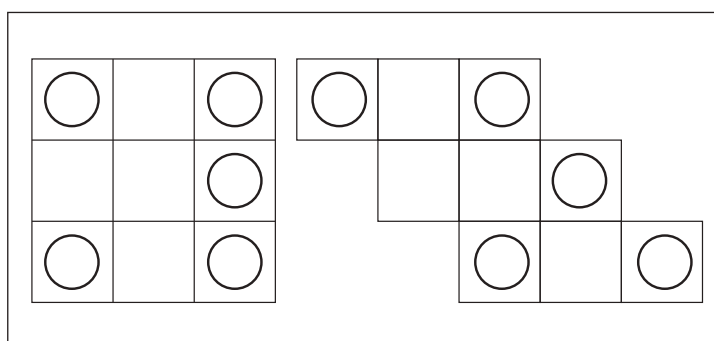
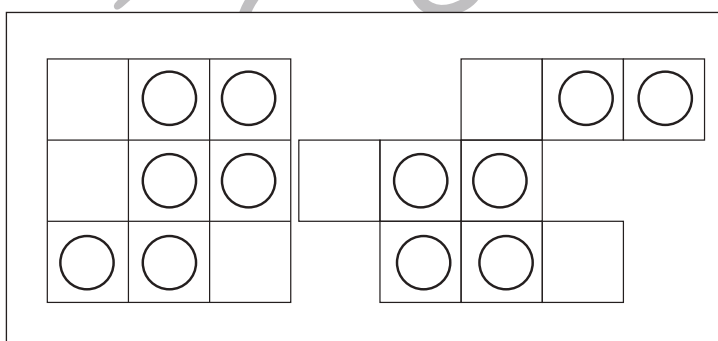
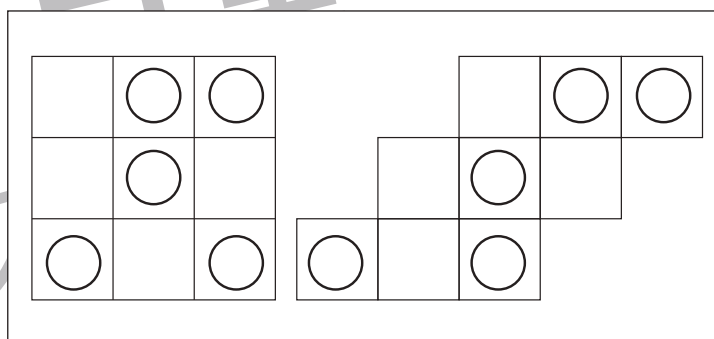
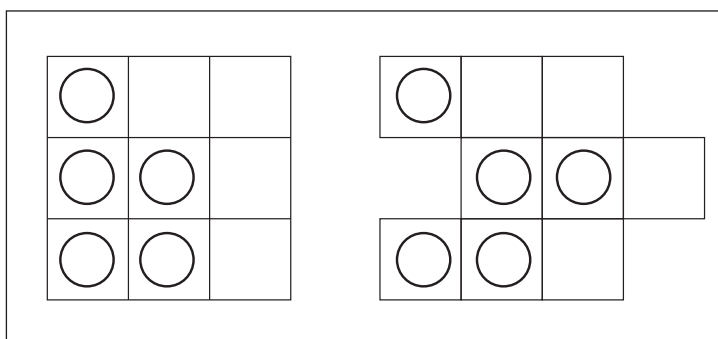
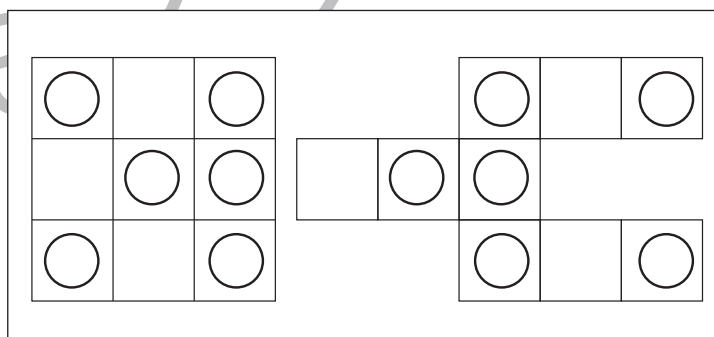
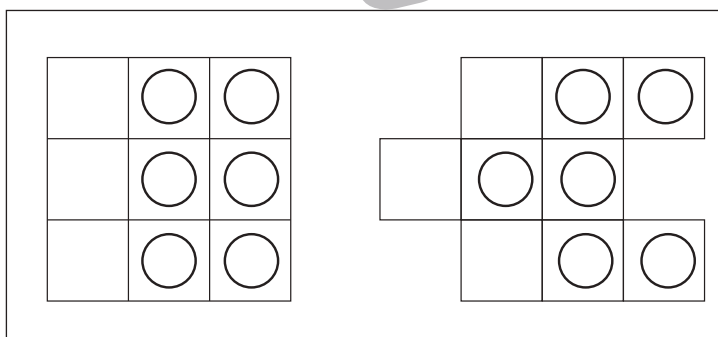
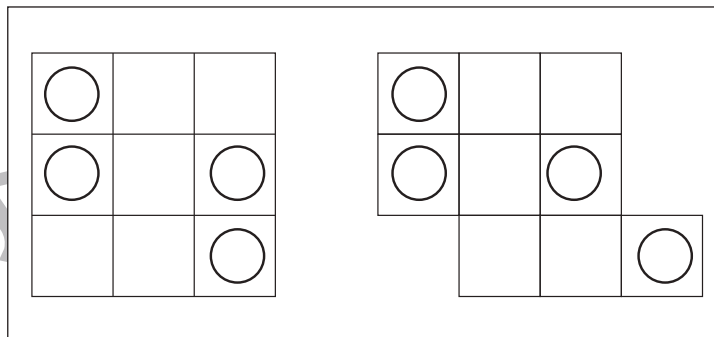
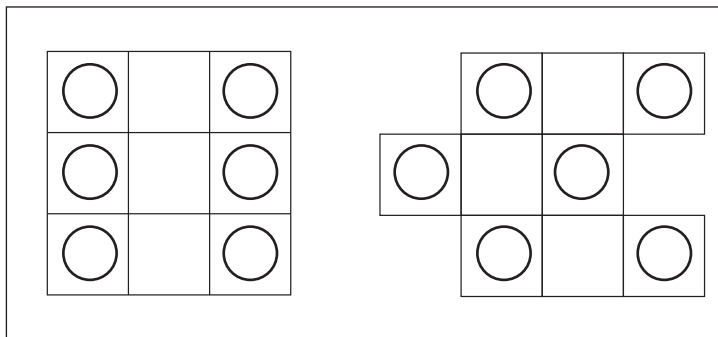


おうちで、やろう。

Study at home. 小学校受験の家庭学習教材

図形：移動 14

左の四角がお手本です。このお手本の○を右の四角の同じ場所にかきます。ただし、右の四角はマスがずれています。どのマスにかけばよいのかを考えましょう。



※1. このプリントは、しながわ・目黒こどもスクールのウェブサイトでダウンロードができます。無断複写・引用はご遠慮ください。
 ※2. このプリントを活用したオンライン授業のスケジュールは、しながわ・目黒こどもスクールのウェブサイトでご確認ください。



おうちで、やろう。

Study at home. 小学校受験の家庭学習教材

図形：移動 15

左のマスの中には○や●が並んでいます。太い四角が真ん中にある矢印の向きに1マスずつ動いたとき、最後に太い四角の中にある丸の見え方を考えて一番右の四角の中にかきます。

○	●	○	○	●	●	→	○	●
---	---	---	---	---	---	---	---	---

○	○	●	●	○	○	→ →	●	○
---	---	---	---	---	---	-----	---	---

○	●	○	●	○	●	←	○	●
---	---	---	---	---	---	---	---	---

○	●	○	●	●	○	← →	●	○
---	---	---	---	---	---	-----	---	---

●	●	○	●	○	○	← ←	●	●
---	---	---	---	---	---	-----	---	---

○	●	○	●	●	○	← ← ←	●	○
---	---	---	---	---	---	-------	---	---

○	●	○	●	●	○	← → →	○	●
---	---	---	---	---	---	-------	---	---

●	○	●	○	●	●	← → ←	●	○
---	---	---	---	---	---	-------	---	---

※1. このプリントは、しながわ・目黒こどもスクールのウェブサイトでダウンロードができます。無断複写・引用はご遠慮ください。
 ※2. このプリントを活用したオンライン授業のスケジュールは、しながわ・目黒こどもスクールのウェブサイトでご確認ください。


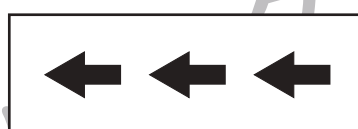


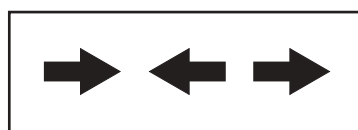

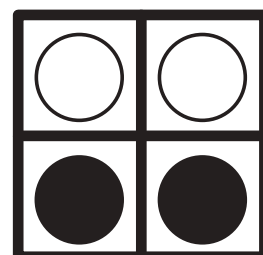
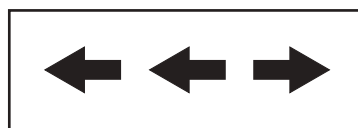





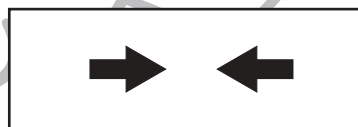


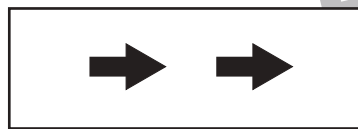



おうちで、やろう。

Study at home. 小学校受験の家庭学習教材

図形：移動 16

左のマスの中には○や●が並んでいます。太い四角が真ん中にある矢印の向きに1マスずつ動いたとき、最後に太い四角の中にある丸の見え方を考えて一番右の四角の中にかきます。



※1. このプリントは、しながわ・目黒こどもスクールのウェブサイトからダウンロードできます。無断複写・引用はご遠慮ください。
 ※2. このプリントを活用したオンライン授業のスケジュールは、しながわ・目黒こどもスクールのウェブサイトでご確認ください。



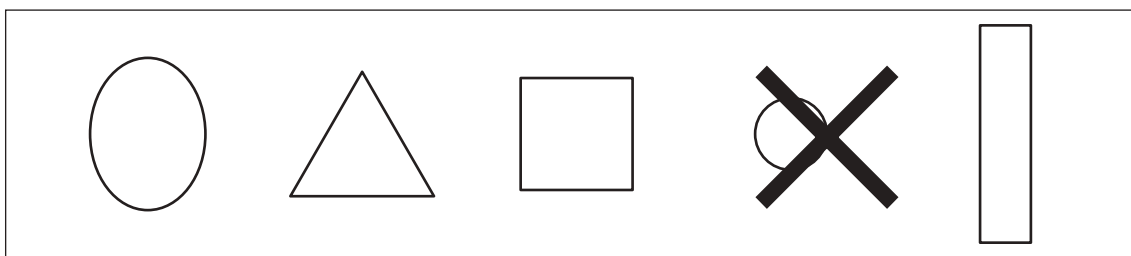

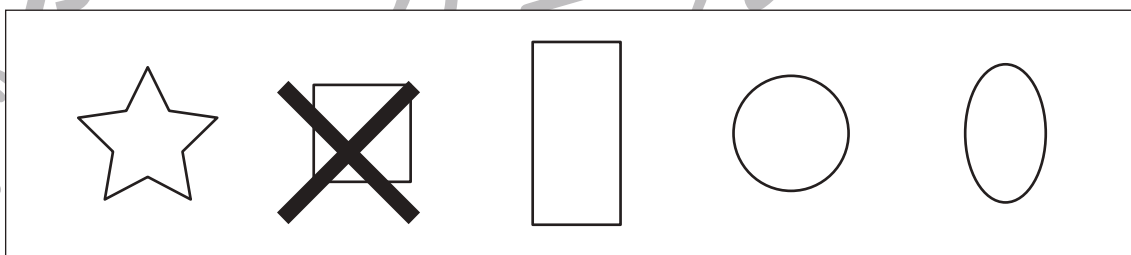


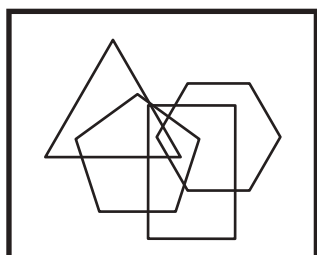
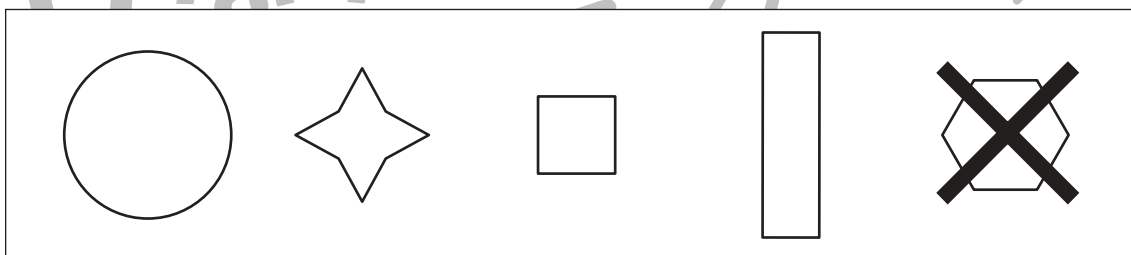
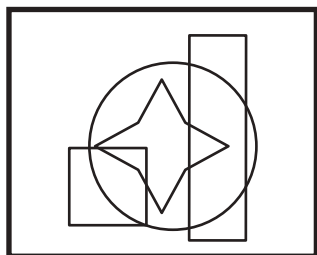
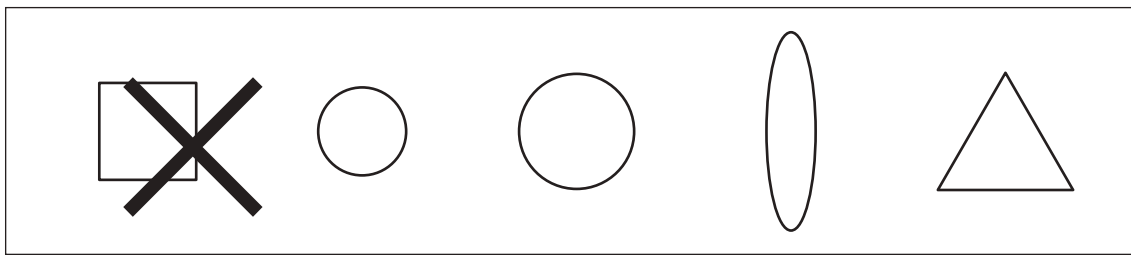



おうちで、やろう。

Study at home. 小学校受験の家庭学習教材

図形：重なり6

左の太い四角の中はいくつかの形が重なったものです。左の四角の中にある形を右の四角の中から見つけて×をつけます。



※1. このプリントは、しながわ・目黒こどもスクールのウェブサイトでダウンロードができます。無断複写・引用はご遠慮ください。
※2. このプリントを活用したオンライン授業のスケジュールは、しながわ・目黒こどもスクールのウェブサイトでご確認ください。






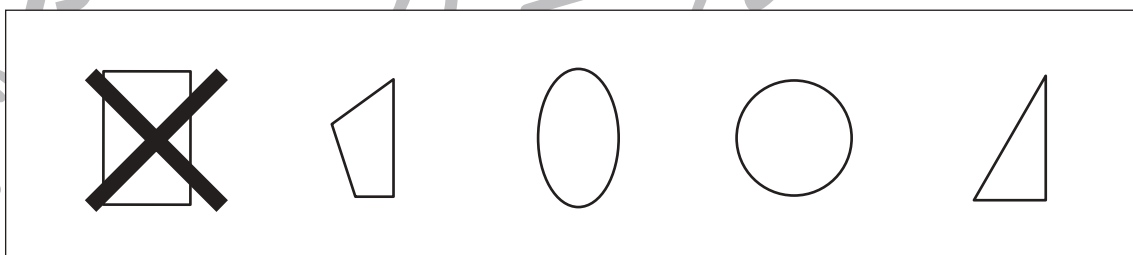



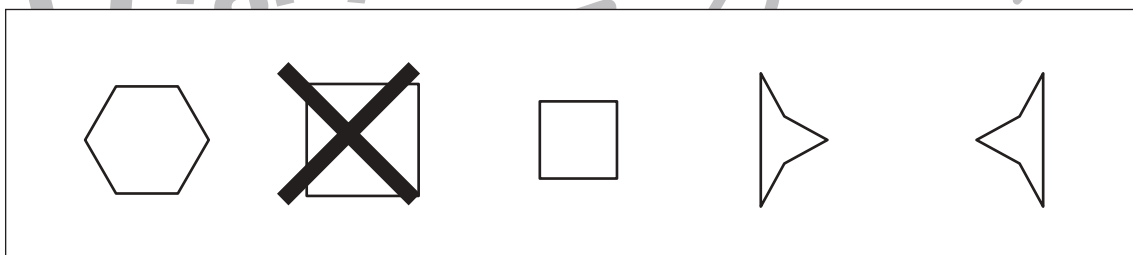
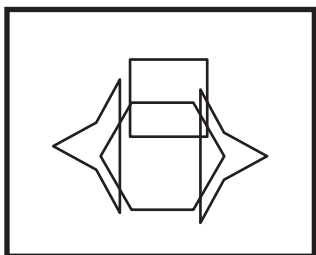
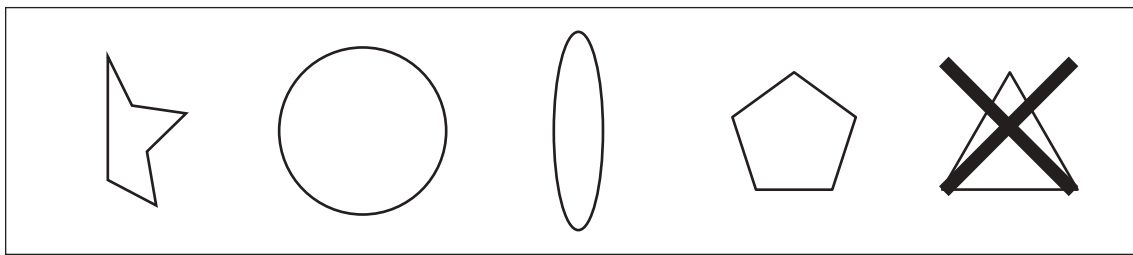



おうちで、やろう。

Study at home. 小学校受験の家庭学習教材

図形：重なり 7

左の太い四角の中はいくつかの形が重なったものです。左の四角の中にある形を右の四角の中から見つけて × をつけます。



※1. このプリントは、しながわ・目黒こどもスクールのウェブサイトでダウンロードができます。無断複写・引用はご遠慮ください。
※2. このプリントを活用したオンライン授業のスケジュールは、しながわ・目黒こどもスクールのウェブサイトでご確認ください。

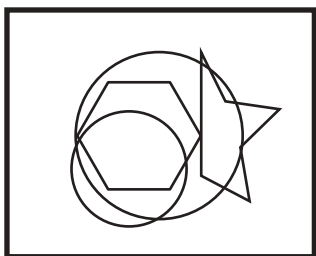
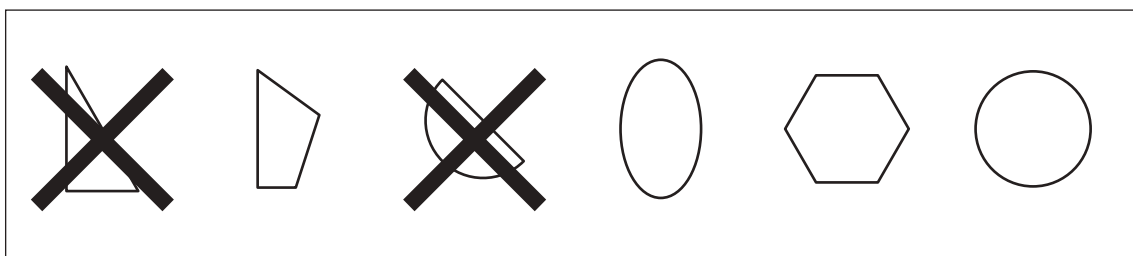
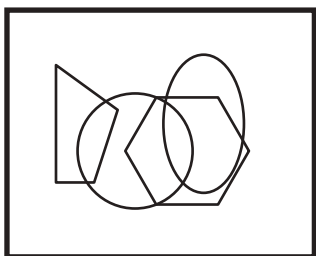
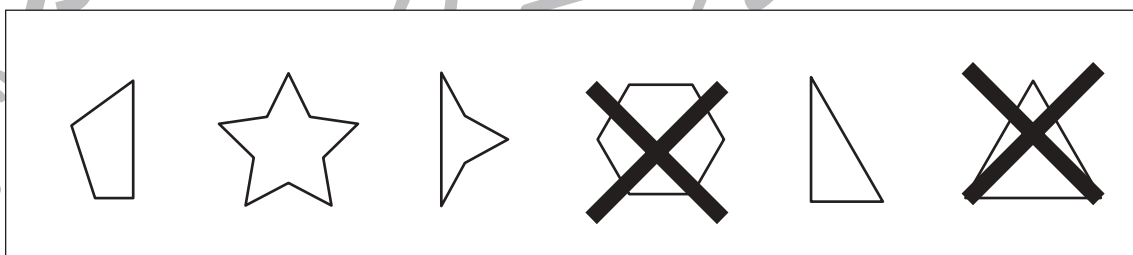
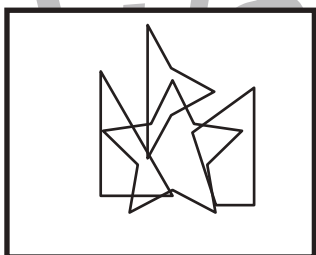



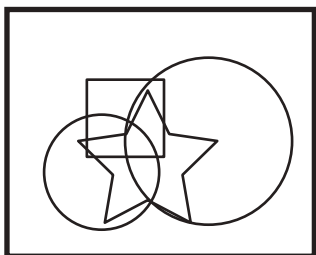
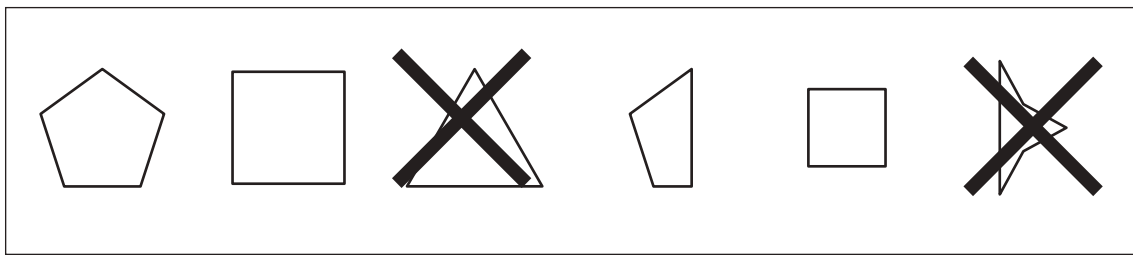
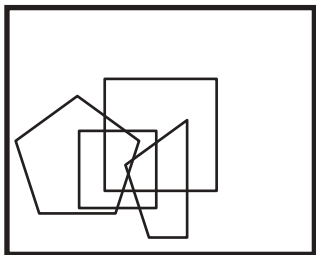


おうちで、やろう。

Study at home. 小学校受験の家庭学習教材

図形：重なり8

左の太い四角の中はいくつかの形が重なったものです。左の四角の中にある形を右の四角の中から2つ見つけて×をつけます。



※1. このプリントは、しながわ・目黒こどもスクールのウェブサイトからダウンロードできます。無断複写・引用はご遠慮ください。
※2. このプリントを活用したオンライン授業のスケジュールは、しながわ・目黒こどもスクールのウェブサイトでご確認ください。



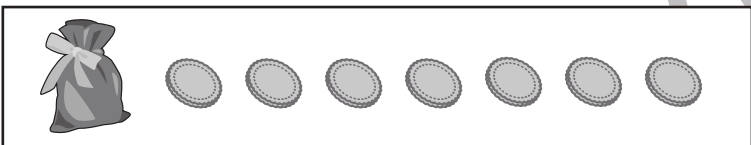

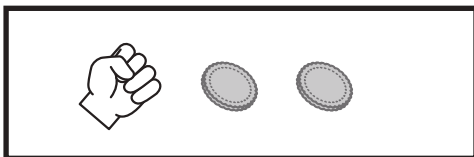
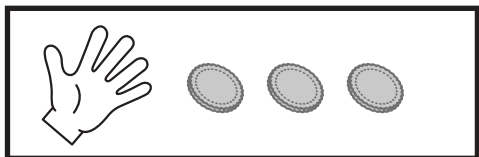


おうちで、やろう。

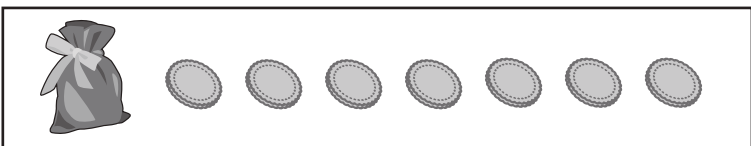
Study at home. 小学校受験の家庭学習教材

推理：じゃんけん 12

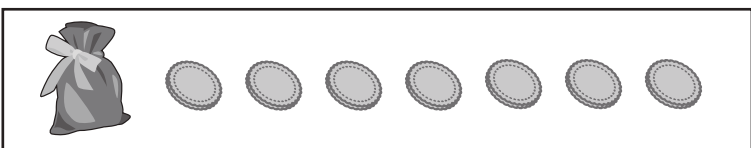
男の子と女の子でじゃんけんゲームをします。じゃんけんをして勝った時だけ袋の中のクッキーがもらえます。「パー」で勝つと3つ、「グー」で勝つと2つ、「チョキ」で勝つと1つもらえます。この約束で2人が3回じゃんけんをしたあと、それぞれがもらったクッキーの数、袋に残ったクッキーの数はいくつですか。その数だけ右の四角の中に○をかきます。



	いっかいめ	にかいめ	さんかいめ



	いっかいめ	にかいめ	さんかいめ



	いっかいめ	にかいめ	さんかいめ



※1. このプリントは、しながわ・目黒こどもスクールのウェブサイトでダウンロードができます。無断複写・引用はご遠慮ください。
※2. このプリントを活用したオンライン授業のスケジュールは、しながわ・目黒こどもスクールのウェブサイトでご確認ください。



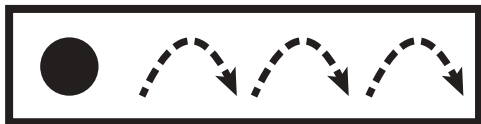


おうちで、やろう。


Study at home. 小学校受験の家庭学習教材

推理：条件推理 1

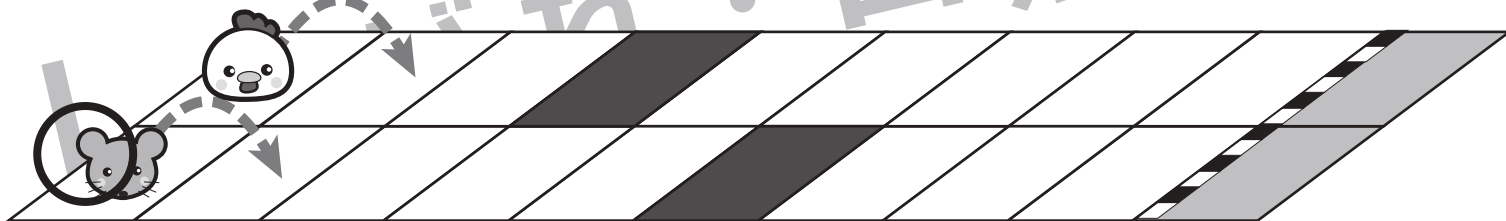
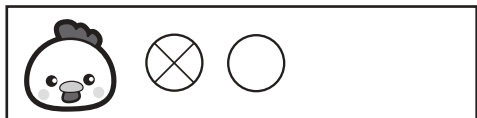
ニワトリとネズミが競争をします。2匹は箱からボールを取り、出たボールによって進めるマスが決まります。その約束が上の太い四角です。それぞれのボール右にある矢印の数だけマスを進めます。ニワトリとネズミがそれぞれ絵の右に並んでいるボールが出た時、最後に着いた場所を塗ります。また、たくさん進んだ方に○をつけます。○はスタートの絵につけましょう。



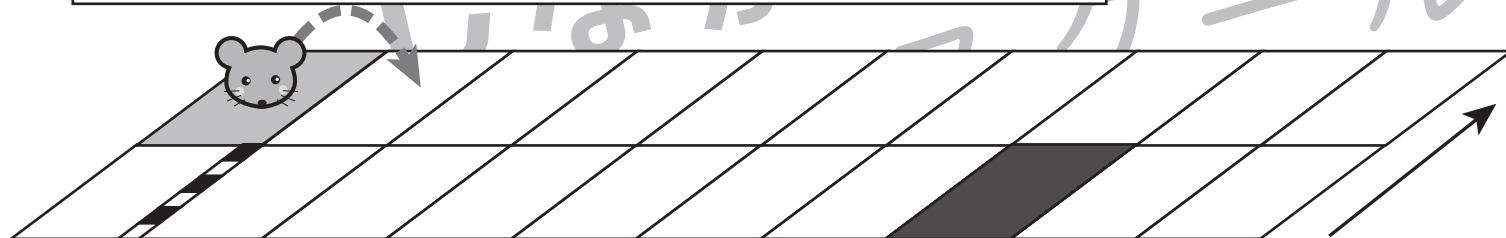
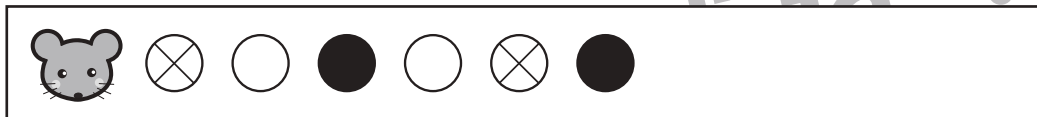
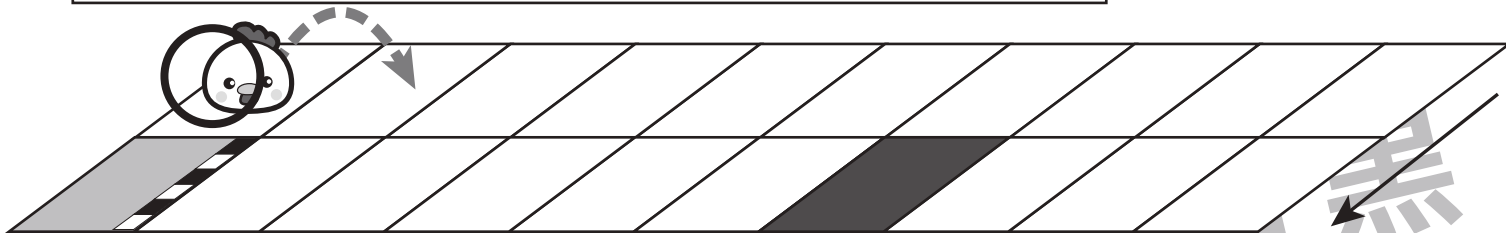
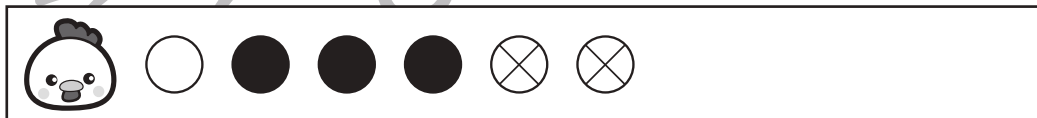
①



②



③



※1. このプリントは、しながわ・目黒こどもスクールのウェブサイトでダウンロードができます。無断複写・引用はご遠慮ください。

※2. このプリントを活用したオンライン授業のスケジュールは、しながわ・目黒こどもスクールのウェブサイトでご確認ください。