

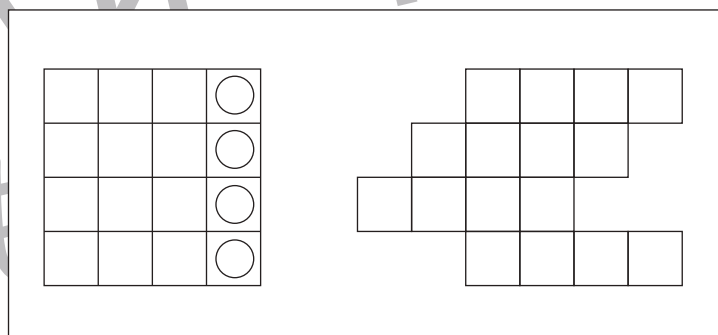
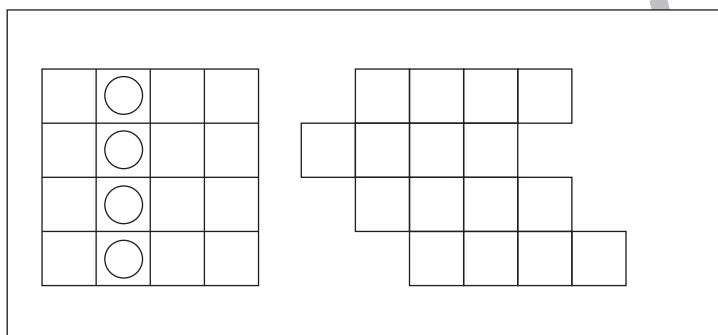
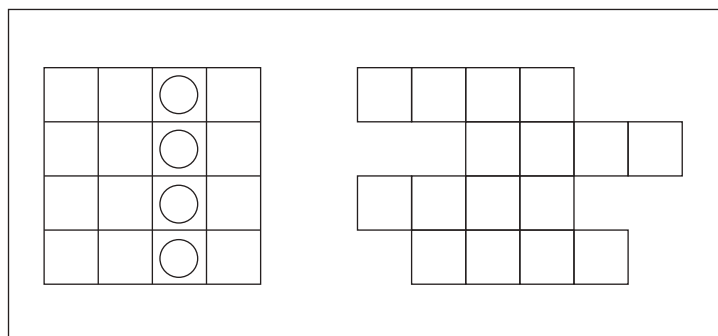
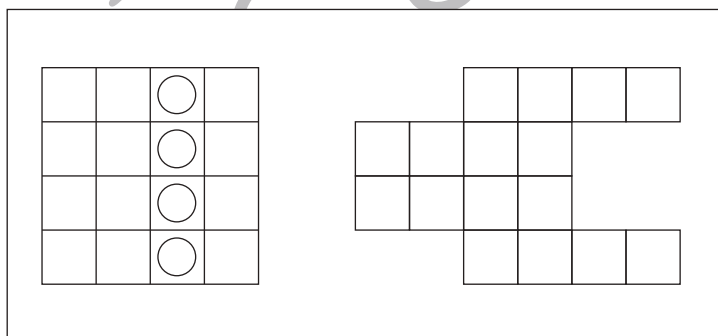
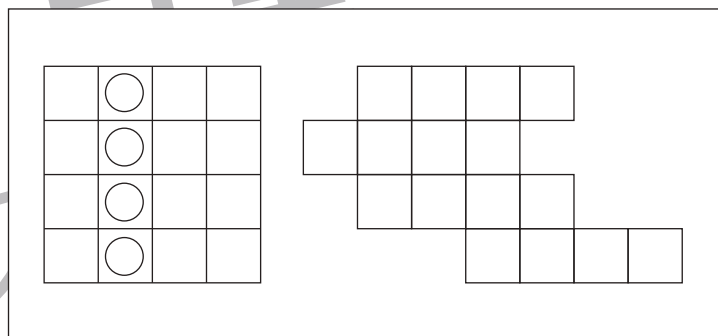
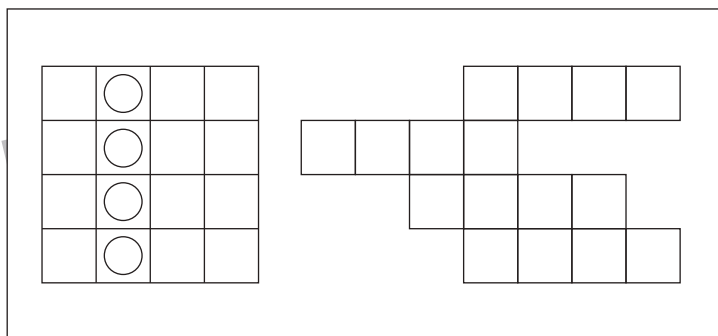
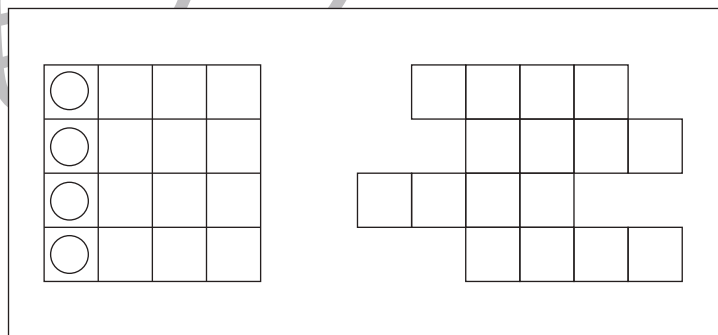
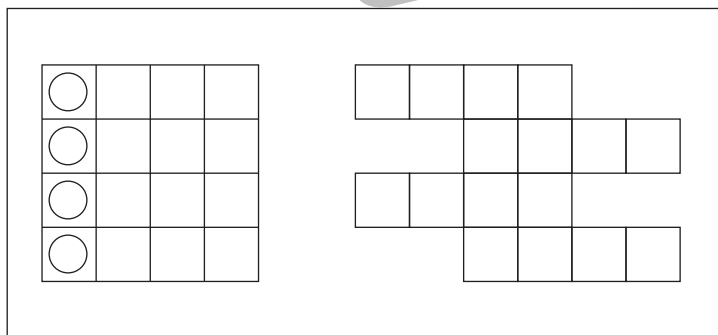
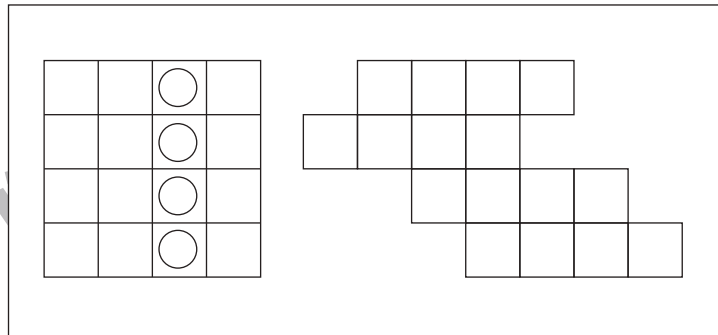
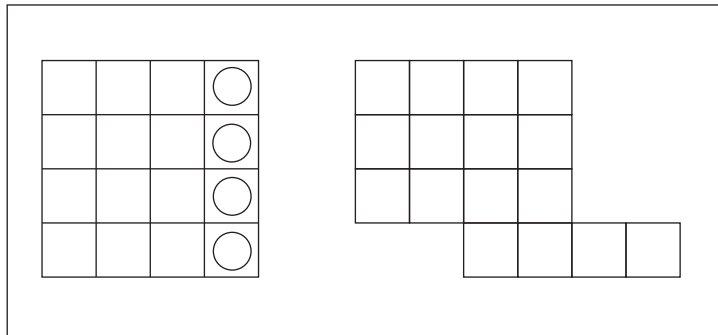


おうちで、やろう。

Study at home. 小学校受験の家庭学習教材

図形：移動 17

左の四角がお手本です。このお手本の○を右の四角の同じ場所にかきます。ただし、右の四角はマスがずれています。どのマスにかけばよいのかを考えましょう。



※1. このプリントは、しながわ・目黒こどもスクールのウェブサイトでダウンロードができます。無断複写・引用はご遠慮ください。
 ※2. このプリントを活用したオンライン授業のスケジュールは、しながわ・目黒こどもスクールのウェブサイトでご確認ください。

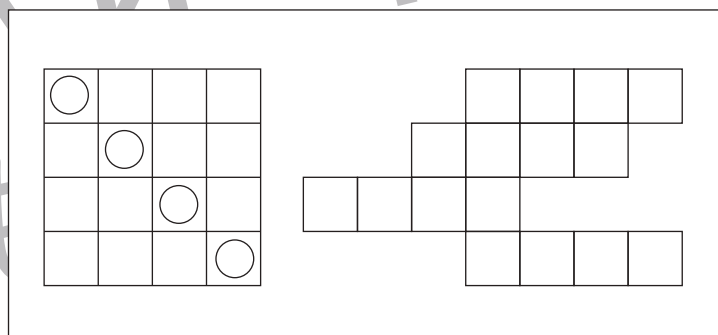
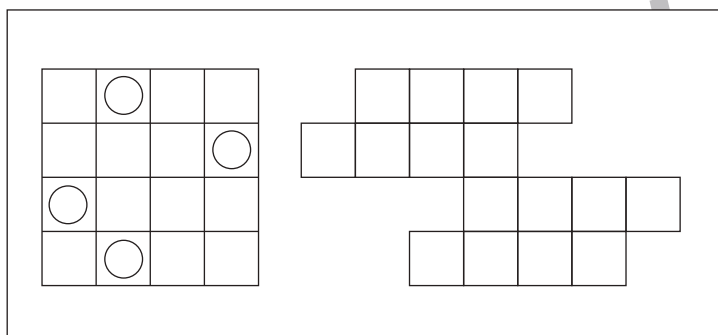
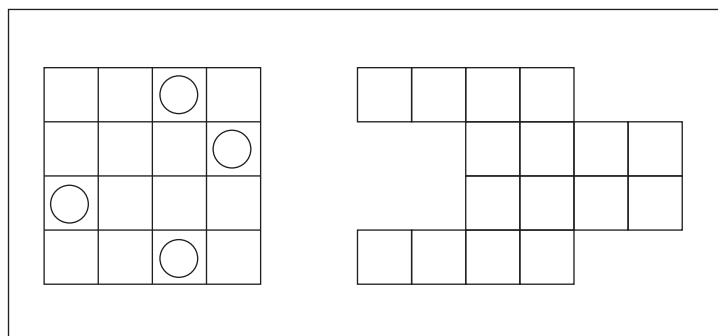
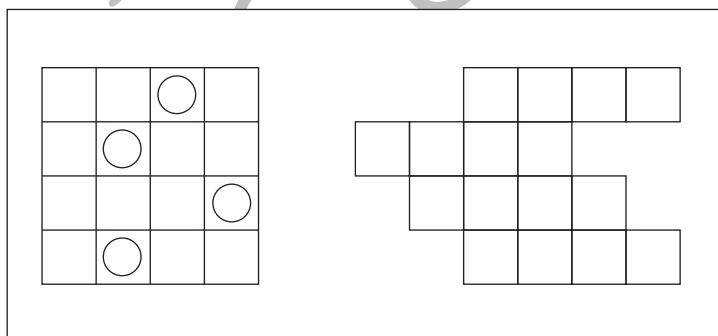
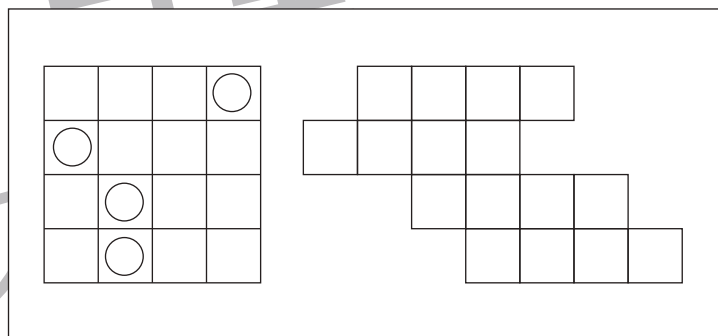
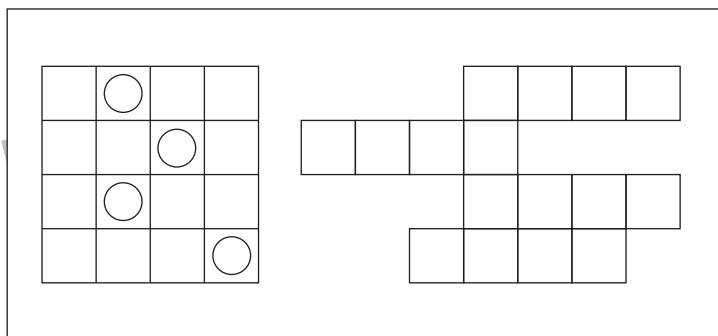
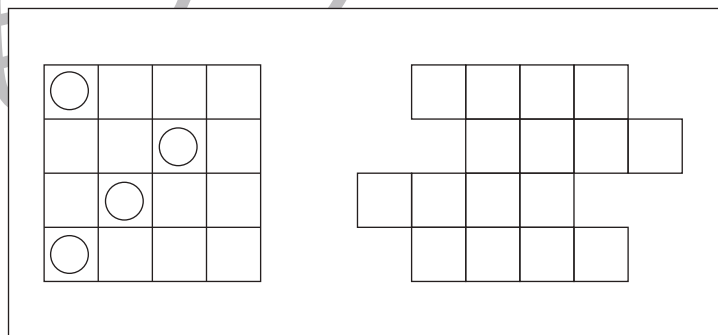
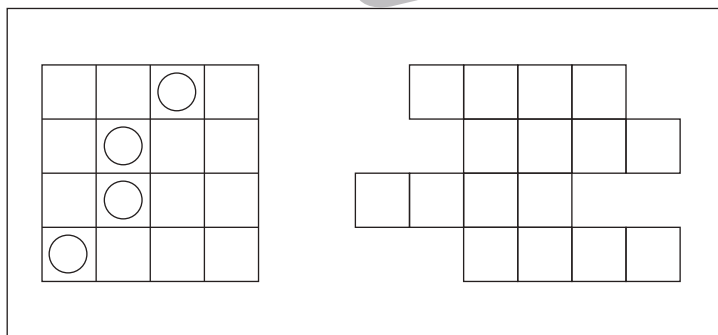
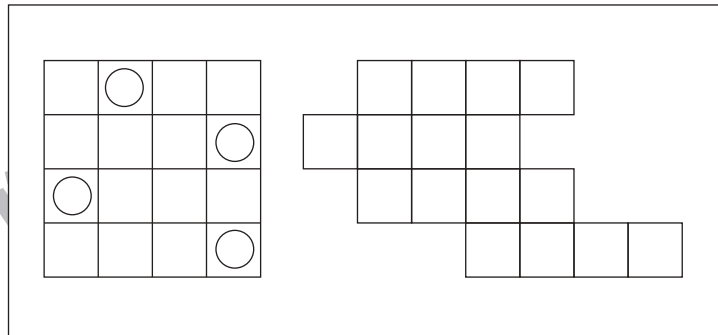
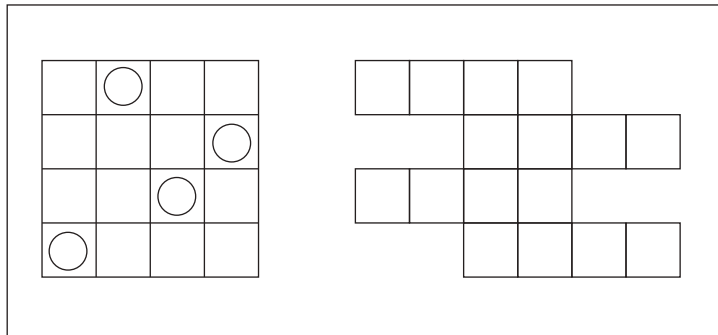


おうちで、やろう。

Study at home. 小学校受験の家庭学習教材

図形：移動 18

左の四角がお手本です。このお手本の○を右の四角の同じ場所にかきます。ただし、右の四角はマスがずれています。どのマスにかけばよいのかを考えましょう。



※1. このプリントは、しながわ・目黒こどもスクールのウェブサイトでダウンロードができます。無断複写・引用はご遠慮ください。

※2. このプリントを活用したオンライン授業のスケジュールは、しながわ・目黒こどもスクールのウェブサイトでご確認ください。

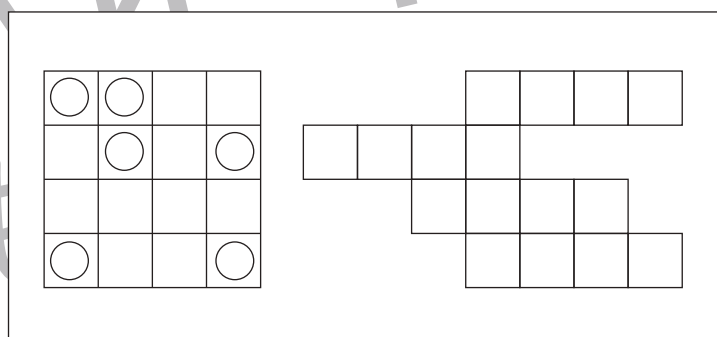
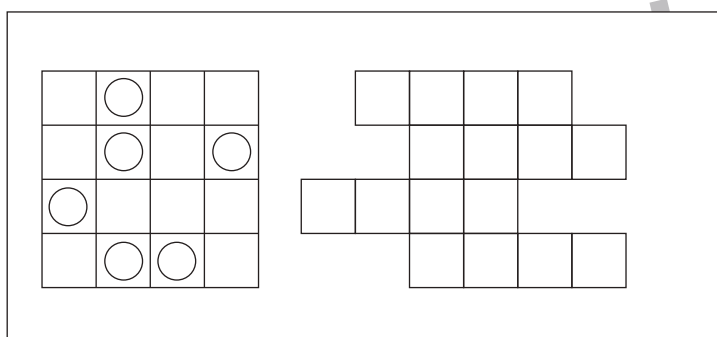
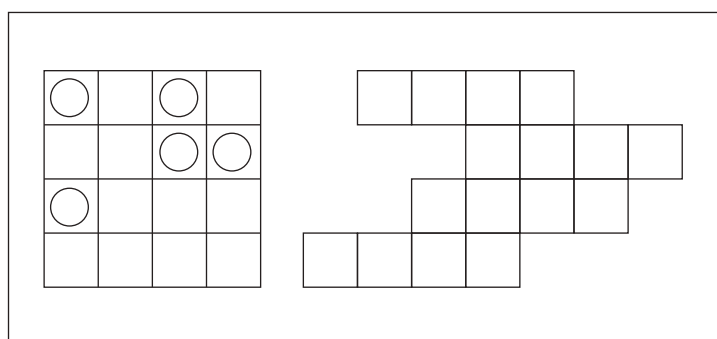
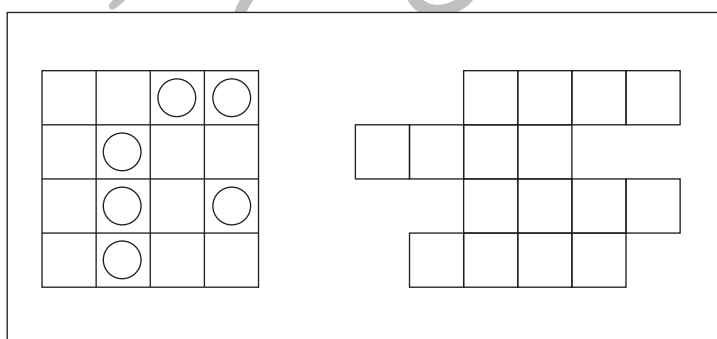
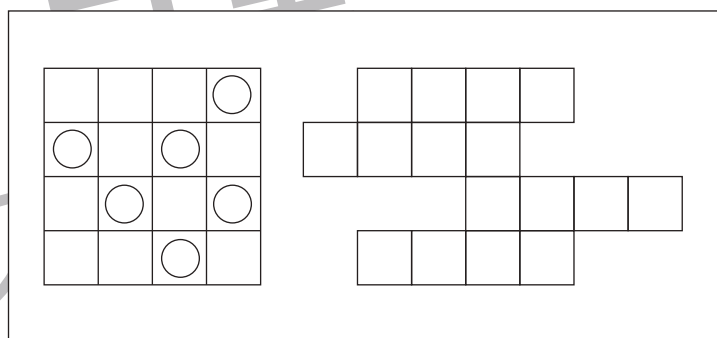
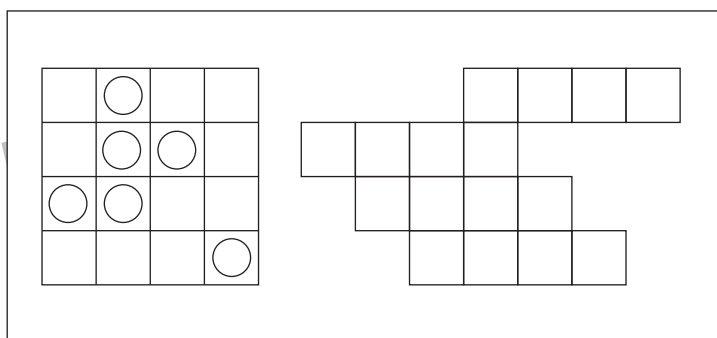
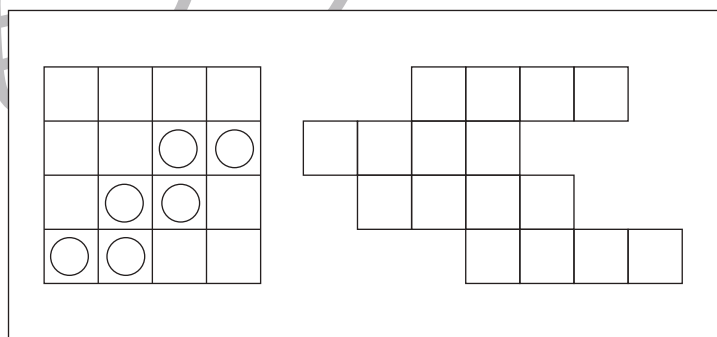
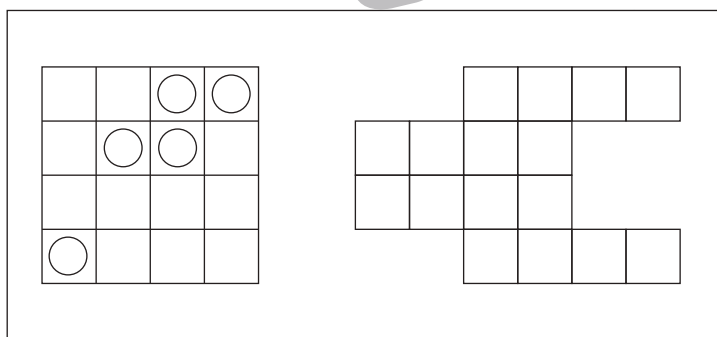
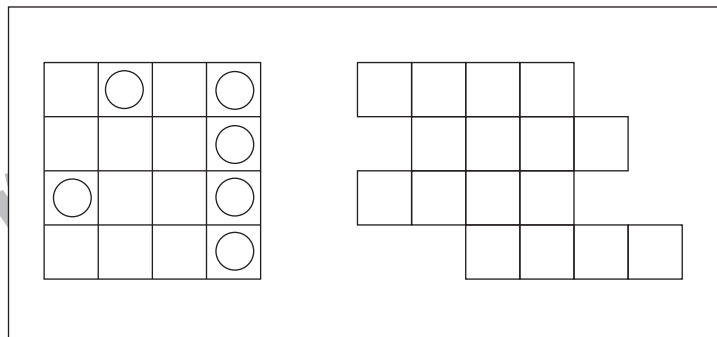
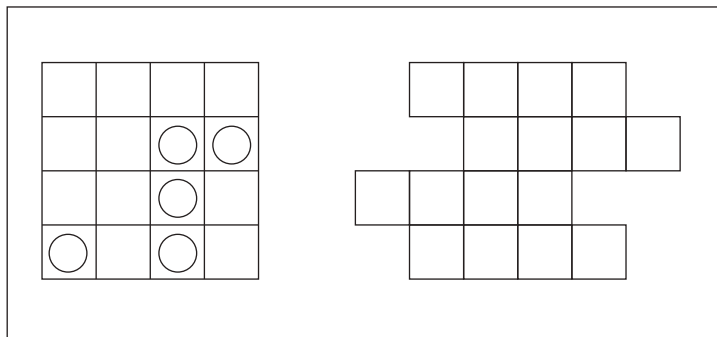


おうちで、やろう。

Study at home. 小学校受験の家庭学習教材

図形：移動 19

左の四角がお手本です。このお手本の○を右の四角の同じ場所にかきます。ただし、右の四角はマスがずれています。どのマスにかけばよいのかを考えましょう。



※1. このプリントは、しながわ・目黒こどもスクールのウェブサイトでダウンロードができます。無断複写・引用はご遠慮ください。
 ※2. このプリントを活用したオンライン授業のスケジュールは、しながわ・目黒こどもスクールのウェブサイトでご確認ください。









おうちで、やろう。

Study at home. 小学校受験の家庭学習教材

図形：等分2

大きな折り紙を四角の中のおともだちで仲良く同じ形で同じ大きさに分けます。どのように分けたらよいのか考えて、線を書きます。この問題は鉛筆で取り組み、間違えてしまったら消しゴムを使い書き直しましょう。



※1. このプリントは、しながわ・目黒こどもスクールのウェブサイトからダウンロードできます。無断複写・引用はご遠慮ください。

※2. このプリントを活用したオンライン授業のスケジュールは、しながわ・目黒こどもスクールのウェブサイトでご確認ください。



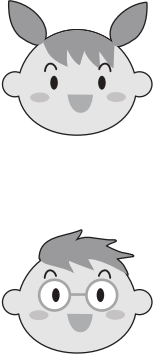
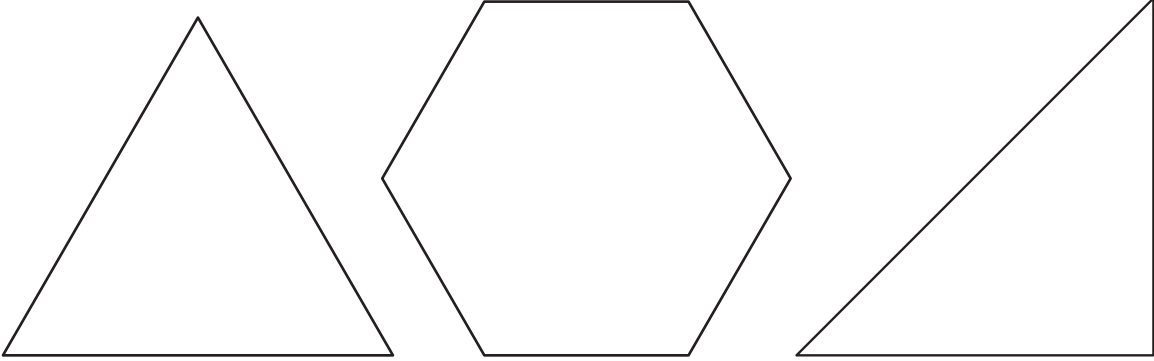



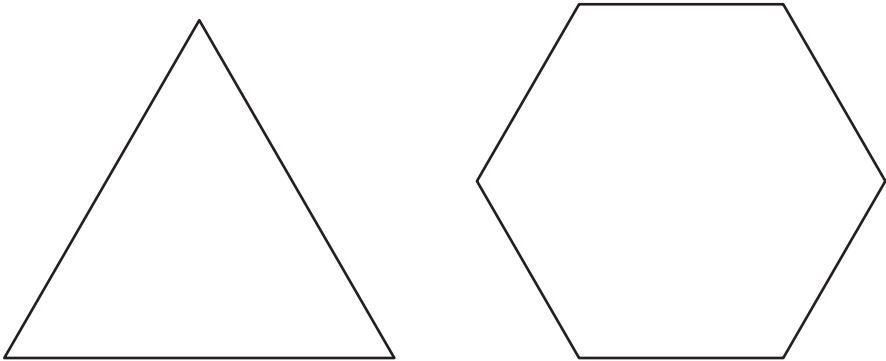
おうちで、やろう。


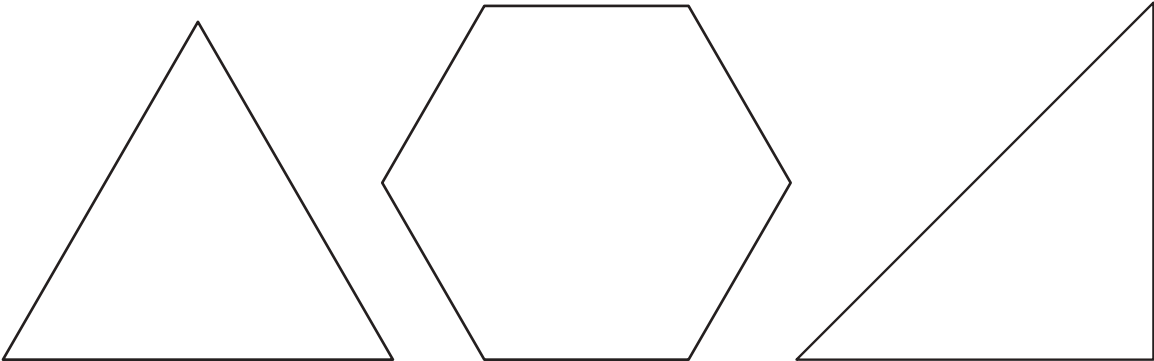
Study at home. 小学校受験の家庭学習教材

図形：等分3

右の四角の中の形を左の四角の中のおともだちで仲良く同じ形で同じ大きさに分けます。どのように分けたらよいのか考えて、線を書きます。この問題は鉛筆で取り組み、間違えてしまったら消しゴムを使い、かきなおしましょう。

	
---	--

	
---	--

	
--	--

※1. このプリントは、しながわ・目黒こどもスクールのウェブサイトでダウンロードができます。無断複写・引用はご遠慮ください。

※2. このプリントを活用したオンライン授業のスケジュールは、しながわ・目黒こどもスクールのウェブサイトでご確認ください。

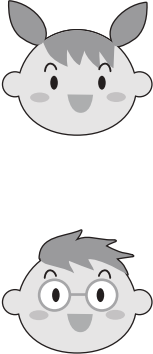

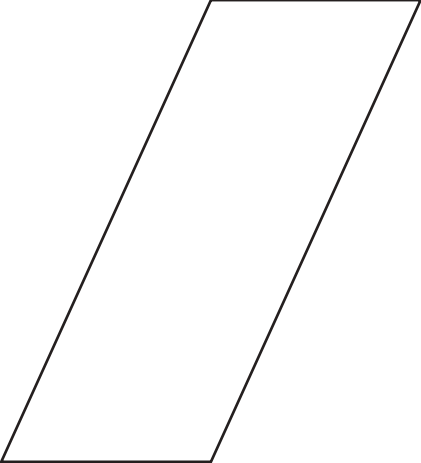
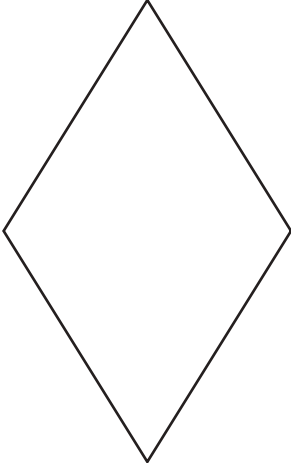




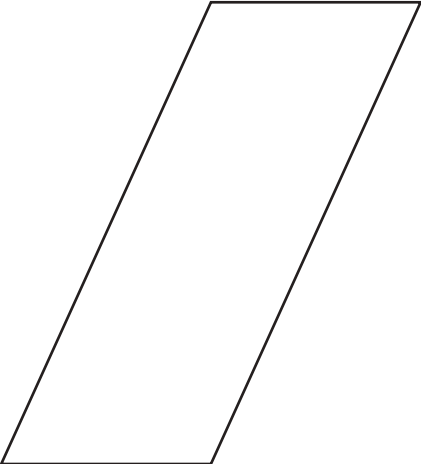
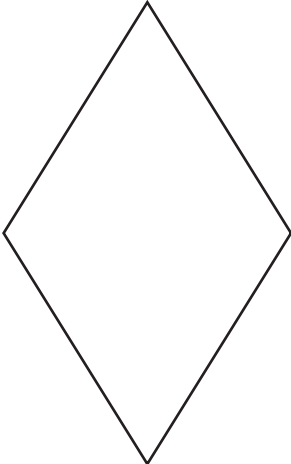
おうちで、やろう。



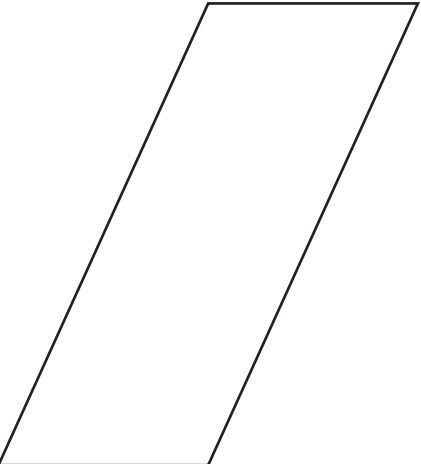
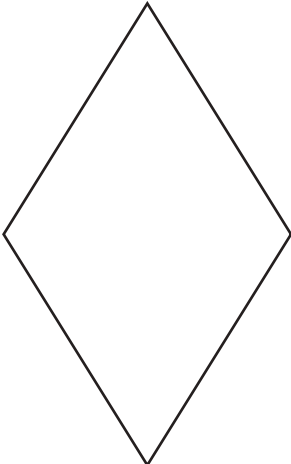
Study at home. 小学校受験の家庭学習教材

図形：等分4

右の四角の中の形を左の四角の中のお友達と仲良く同じ形、同じ大きさに分けます。どのように分けたらよいのか考えて、線を書きます。この問題は鉛筆で取り組み、間違えてしまったら消しゴムを使い、かきなおしましょう。

			
---	---	--	---

			
---	---	--	---

			
--	---	--	---

※1. このプリントは、しながわ・目黒こどもスクールのウェブサイトからダウンロードできます。無断複写・引用はご遠慮ください。

※2. このプリントを活用したオンライン授業のスケジュールは、しながわ・目黒こどもスクールのウェブサイトでご確認ください。



おうちで、やろう。

Study at home. 小学校受験の家庭学習教材

推理：系列完成 8

左の四角の中の図形がある順番通りに並んでいます。

黒く隠れている部分に入る図形の並び方を考えて右の4つから正しい組み合わせを選んで○をつけます。

--	--

--	--

--	--

--	--

※1. このプリントは、しながわ・目黒こどもスクールのウェブサイトでダウンロードができます。無断複写・引用はご遠慮ください。

※2. このプリントを活用したオンライン授業のスケジュールは、しながわ・目黒こどもスクールのウェブサイトでご確認ください。



おうちで、やろう。

Study at home. 小学校受験の家庭学習教材

推理：系列完成9

左の四角の中の図形がある順番通りに並んでいます。

黒く隠れている部分に入る図形の並び方を考えて右の4つから正しい組み合わせを選んで○をつけます。

--	--

--	--

--	--

--	--

※1. このプリントは、しながわ・目黒こどもスクールのウェブサイトでダウンロードができます。無断複写・引用はご遠慮ください。

※2. このプリントを活用したオンライン授業のスケジュールは、しながわ・目黒こどもスクールのウェブサイトでご確認ください。



おうちで、よろう。

Study at home. 小学校受験の家庭学習教材

推理：系列完成 10

左の四角の中の図形がある順番通りに並んでいます。
黒く隠れている部分に入る図形の並び方を考えて右の4つから正しい組み合わせを選んで○をつけます。

--	--

--	--

--	--

--	--

※1. このプリントは、しながわ・目黒こどもスクールのウェブサイトでダウンロードができます。無断複写・引用はご遠慮ください。
※2. このプリントを活用したオンライン授業のスケジュールは、しながわ・目黒こどもスクールのウェブサイトでご確認ください。


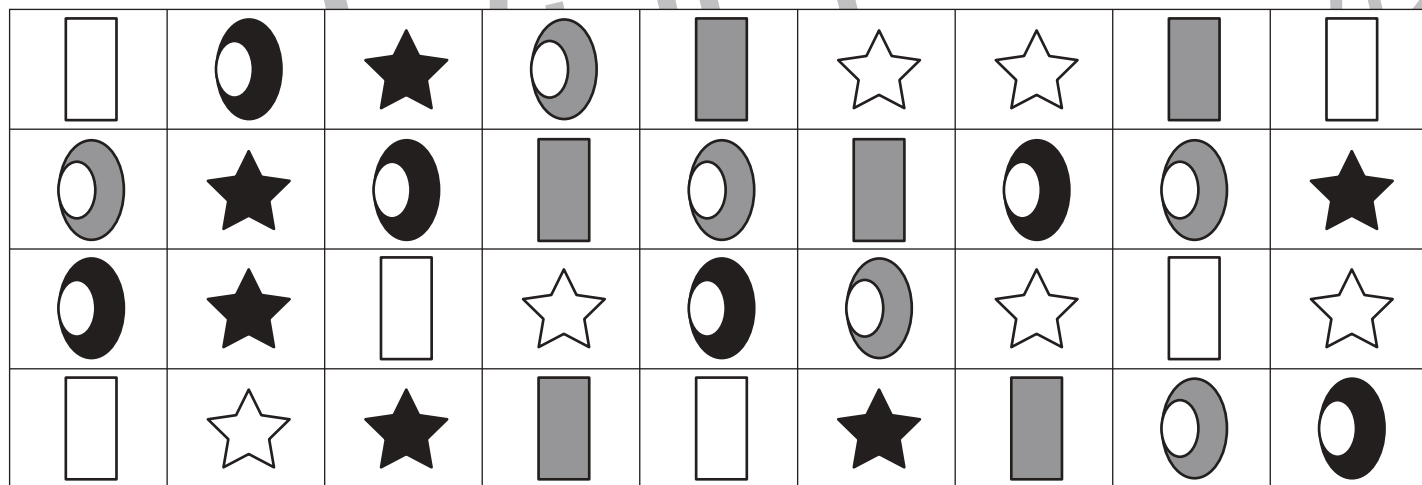
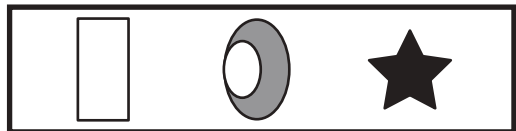


おうちで、やろう。

Study at home. 小学校受験の家庭学習教材

処理能力：抹消4

上の太い四角の中の絵がお手本です。下のマスの中からお手本の絵をみつけて斜め線（/）をつけていきます。お手本を見つけるときは、一番上の段の左からはじめて、右端まで見ます。1段目ができたら2段目の左から右。次に3段目の左から右と順番に印をつけていきます。この問題はできるだけ早く印をつけます。それぞれ40秒以内を目指し取り組みましょう。



※1. このプリントは、しながわ・目黒こどもスクールのウェブサイトでダウンロードができます。無断複写・引用はご遠慮ください。
※2. このプリントを活用したオンライン授業のスケジュールは、しながわ・目黒こどもスクールのウェブサイトでご確認ください。